

CONCURSO PÚBLICO

Edital 001/2016



CÂMARA MUNICIPAL DE CONCEIÇÃO DO MATO DENTRO

CADERNO DE PROVAS

CADERNO

3

CARGO:

- TÉCNICO EM ADMINISTRAÇÃO

PROVAS:

- LÍNGUA PORTUGUESA
- RACIOCÍNIO LÓGICO
- NOÇÕES DE INFORMÁTICA
- CONHECIMENTOS ESPECÍFICOS

Leia, atentamente, as instruções gerais que se encontram no verso desta capa.

INSTRUÇÕES GERAIS:

1. Este caderno de provas contém um total de **40** (quarenta) questões objetivas, sendo 15 de Língua Portuguesa, 5 de Raciocínio Lógico, 10 de Noções de Informática e 10 de Conhecimentos Específicos. Confira-o.
2. As provas terão duração de, no mínimo, 1 (uma) hora e, no máximo, de 4 (quatro) horas, incluído o tempo destinado à transcrição de suas respostas no gabarito oficial.
3. Respondidas as questões, você deverá passar o gabarito para a sua folha de respostas, usando caneta esferográfica azul ou preta.
4. Em nenhuma hipótese haverá substituição da Folha de Respostas por erro do candidato.
5. Este caderno deverá ser devolvido ao fiscal, juntamente, com a folha de respostas, devidamente preenchidos e assinados.
6. O candidato só poderá se ausentar do recinto das provas decorrida **1** (uma) hora do início de aplicação das mesmas, por motivo de segurança e sigilo.
7. Você pode transcrever suas respostas na última folha deste caderno e a mesma poderá ser destacada.
8. As questões e os gabaritos oficiais das Provas Objetivas serão divulgados nos endereços eletrônicos www.conceicaoomatodentro.mg.leg.br e www.fumarc.org.br e publicados nos demais veículos de comunicação previstos no Edital, no 1º (primeiro) dia útil subsequente à realização das provas.
9. A comissão organizadora da FUMARC Concursos lhe deseja uma boa prova.

Prezado(a) candidato(a):

Coloque seu número de inscrição e nome no quadro abaixo:

Nº de Inscrição	Nome
<input type="text"/>	<input type="text"/>

ASSINALE A RESPOSTA CORRETA.

PROVA DE LÍNGUA PORTUGUESA

A casa

Cris Guerra

Noite de terça-feira. A casa iluminada, os jardins floridos de gente. Autoridades, fotógrafos, o prefeito. Fazia tempo que nós cinco não voltávamos juntos àquele lugar. A casa repleta de desconhecidos e vazia dos que lá habitaram. À nossa volta, o público nem sequer desconfiava. Irmãos invisíveis voltando a um lugar-chave de sua linha do tempo. Como administrar a saudade em noite de celebração?

Quando finalmente pudemos entrar, sabíamos de cor onde era a cozinha, a sala de jogos, o mezanino, o quarto dela. De modo que demos um jeito de subir logo até lá, não sem antes notar um detalhe ou outro a nos falar sobre a elegância de nossos avós. Quem sonharia ter seu passado romanceado por arquitetos contadores de histórias?

Os quatro chegaram ao quarto dela minutos antes de mim. Encontrei-os sob o impacto do que ali viram. Do teto, fios transparentes sustentavam retratos antigos: JK, Vovô Joubert, Vovó Juju, Papai, Mamãe, alguns de nós ainda pe-

quenos. A caixinha de música numa redoma de vidro. Cada móvel em seu devido lugar, relatando os movimentos e trajetos dela. Deles. Nossos.

Teremos de voltar muitas vezes para acreditar: nossa infância eternizada num museu da arquitetura modernista dos anos 40 a 60. A nova Casa Kubitschek enriquece a memória do visionário JK. Mas seus móveis restaurados contam muito mais que um modo de morar.

Concluído em 1943 para ser a casa de fim de semana do então prefeito Juscelino, o espaço foi projetado por Niemeyer com jardins de Burle Marx. Serviu a JK por apenas dois anos - logo que pôde, vovô comprou o imóvel. Passaram a ser nossos os domingos ali. Vovó alimentava os peixes e pássaros, dava suco de groselha aos beija-flores, oferecia pão com patê aos gatos. Cobria as mesas com pedaços de feltro, construindo sob os tampos de vidro seus próprios quadros modernistas.

Depois que ele se foi, ela viveu ali por muitos anos, buscando alento nos jardins para as perdas que ainda viria a sofrer. Minha mãe em 1994, meu pai em 2001. “Que absurdo as coisas durarem mais que as pessoas”, ela me disse dias depois da morte dele. E duraram. Mais até do que ela, que nos deixou em 2004. Mas as pessoas, que não são feitas de coisas, cuidaram de fazer do afeto memória.

A Casa abre suas portas de terça a sábado. Aos domingos, a entrada é restrita às nossas lembranças. Vovô lê os jornais na mesa da varanda, Maria prepara um peixe à milanesa, Vicenza me nega o suco de mexerica antes do almoço. Eles jogam bilhar, elas passeiam pelas boas-novas do jardim - a flor que se abriu, a árvore que se encheu de lichias.

Quando for a sua vez de visitar a Casa Kubitschek, respire fundo e aproveite o dia: é um domingo na minha infância.

Disponível em: <http://vejabh.abril.com.br/edicoes/casa-cris-guerra-755432.shtml> Acesso: maio 2013

QUESTÃO 01

O assunto do texto é

- (A) a apresentação dos detalhes da Casa Kubitschek.
- (B) a inauguração da nova Casa Kubitschek.
- (C) a saudade da infância na Casa Kubitschek.
- (D) as lembranças evocadas pela nova Casa Kubitschek.

QUESTÃO 02

A casa, a que se refere a narradora, relembra as memórias de sua infância, pois

- (A) é habitual lembrar do passado quando voltamos ao lugar onde fomos felizes.
- (B) é, ao entrar naquele ambiente, que todos saberão de sua história.
- (C) foi interesse de seus avós que tudo fosse preservado.
- (D) foram mantidas inclusive as fotos de quem ali viveu.

QUESTÃO 03

Todas as constatações abaixo podem ser feitas acerca do texto, **EXCETO**:

- (A) Após a morte do avô, a mãe da narradora viveu na casa até 2004, para poder recordar os momentos que viveu com seus entes queridos.
- (B) Apesar de somente o domingo ser reservado para as lembranças, a narradora sugere que o visitante se sentirá na casa, em qualquer dia, como num domingo em sua infância.
- (C) Apesar de a casa ter sido projetada para que Juscelino Kubitschek passasse os finais de semana, ela só serviu a ele dois anos.
- (D) Ao abrir a casa de Juscelino Kubitschek ao público, a história que se conta da casa é também a da infância da narradora.

QUESTÃO 04

Todos os sentimentos abaixo estão presentes no texto, **EXCETO**:

- (A) nostalgia.
- (B) amor.
- (C) solidariedade.
- (D) saudade.

QUESTÃO 05

As palavras destacadas estão corretamente interpretadas entre parênteses, **EX-CETO** em:

- (A) “A caixinha de música numa **redoma** de vidro”. (cúpula)
- (B) “Aos domingos, a entrada é **restrita** às nossas lembranças”. (limitada)
- (C) “Cada móvel em seu devido lugar, relatando os movimentos e **trajetos** dela”. (percursos)
- (D) “Depois que ele se foi, ela viveu ali por muitos anos, buscando **alento** nos jardins para as perdas [...]”. (felicidade)

QUESTÃO 06

Há linguagem **conotativa** em:

- (A) “A casa iluminada, os jardins floridos de gente.”
- (B) “A nova Casa Kubitschek enriquece a memória do visionário JK.”
- (C) “Os quatro chegaram ao quarto dela minutos antes de mim.”
- (D) “Quem sonharia ter seu passado romanceado por arquitetos contadores de histórias?”

QUESTÃO 07

Em “A casa repleta de desconhecidos e vazia **dos** que lá habitaram. ”, **dos** é:

- (A) artigo definido.
- (B) preposição.
- (C) pronome demonstrativo.
- (D) pronome indefinido.

QUESTÃO 08

A ideia expressa pelos termos destacados está corretamente identificada entre parênteses, **EXCETO** em:

- (A) “[...] respire fundo **e** aproveite o dia: é um domingo na minha infância.” (adição)
- (B) “À nossa volta, o público **nem** sequer desconfiava.” (oposição)
- (C) “**Depois que** ele se foi, ela viveu ali por muitos anos [...].” (tempo)
- (D) “Teremos de voltar muitas vezes **para** acreditar [...].” (finalidade)

QUESTÃO 09

A posição do pronome oblíquo é **facultativa** em:

- (A) “De modo que demos um jeito de subir logo até lá, não sem antes notar um detalhe ou outro a **nos** falar sobre a elegância de nossos avós.”
- (B) “E duraram. Mais até do que ela, que **nos** deixou em 2004.”
- (C) “Eles jogam bilhar, elas passeiam pelas boas-novas do jardim - a flor que **se** abriu, a árvore que se encheu de lichias.”
- (D) “Os quatro chegaram ao quarto dela minutos antes de mim. Encontrei-**os** sob o impacto do que ali viram.”

QUESTÃO 10

Há oração sem sujeito em:

- (A) **Passaram a ser nossos os domingos ali.**
- (B) **Fazia tempo** que nós cinco não voltávamos juntos àquele lugar.
- (C) **Os quatro chegaram ao quarto dela minutos antes de mim.**
- (D) **Quando finalmente pudemos entrar**, sabíamos de cor onde era a cozinha, a sala de jogos, o mezanino, o quarto dela.

QUESTÃO 11

Há um verbo no imperativo em:

- (A) “[...] **respire** fundo e aproveite o dia: é um domingo na minha infância.”
- (B) “Como **administrar** a saudade em noite de celebração?”
- (C) “Que absurdo as coisas **durarem** mais que as pessoas [...].”
- (D) “**Teremos** de voltar muitas vezes para acreditar [...].”

QUESTÃO 12

Há uma oração subordinada adjetiva explicativa em:

- (A) “[...] elas passeiam pelas boas-novas do jardim - a flor **que se abriu**, a árvore que se encheu de lichias.”
- (B) “**Depois que ele se foi**, ela viveu ali por muitos anos [...].”
- (C) “Fazia tempo **que nós cinco não voltávamos juntos àquele lugar**.”
- (D) “Mas as pessoas, **que não são feitas de coisas**, cuidaram de fazer do afeto memória.”

QUESTÃO 13

A concordância verbal só **NÃO** está correta em:

- (A) Fui eu que comprei as guloseimas para a festa.
- (B) Fui eu que comprou as guloseimas para a festa.
- (C) Fui eu quem comprei as guloseimas para a festa.
- (D) Fui eu quem comprou as guloseimas para a festa.

QUESTÃO 14

A crase é **obrigatória** em:

- (A) Fui **a** pé para o estádio.
- (B) Fui **a** Brasília semana passada.
- (C) Vou **a** Bahia na próxima semana.
- (D) Temos muito **a** ensinar-lhe.

QUESTÃO 15

A concordância nominal está **CORRETA** em:

- (A) As promissórias vão anexo.
- (B) É necessário a apresentação da carteira de identidade.
- (C) Foram necessários bastantes tijolos para a reforma da casa.
- (D) São meio dia e meio.

PROVA DE RACIOCÍNIO LÓGICO**QUESTÃO 16**

O denominado **Índice de Massa Corporal** (IMC) é um critério utilizado para classificar o estado de saúde de uma pessoa segundo as medidas do peso e da altura dessa pessoa, conforme mostra a tabela abaixo. O **valor do IMC** é calculado dividindo-se o *peso* (em quilogramas) pela *altura* (em metros) ao quadrado.

Resultado do IMC	Classificação
Abaixo de 17	Muito abaixo do <i>peso</i>
Entre 17 e 18,49	Abaixo do <i>peso</i>
Entre 18,5 e 24,99	<i>Peso normal</i>
Entre 25 e 29,99	Acima do <i>peso</i>
Entre 30 e 34,99	<i>Obesidade I</i>
Entre 35 e 39,99	<i>Obesidade II (severa)</i>
Acima de 40	<i>Obesidade III (mórbida)</i>

De acordo com essa tabela, é **CORRETO** afirmar que uma pessoa que tem 1,80 m de altura e pesa 100 kg é classificada como:

- (A) Acima do peso
- (B) Muito abaixo do peso
- (C) Obesidade I
- (D) Peso Normal

QUESTÃO 17

Analise os argumentos lógicos I, II e III apresentados a seguir,

- I. Todos os números naturais divisíveis por 2 e 3 são divisíveis por 6. O número 12.243.210 é divisível por 6, logo 2 e 3 são divisores de 12.243.210.
- II. Existem índios que são antropófagos. Todos os tubarões são antropófagos, logo existem índios que são tubarões.
- III. Alguns brasileiros são pobres. Alguns pobres são mendigos, logo todos os brasileiros são mendigos.

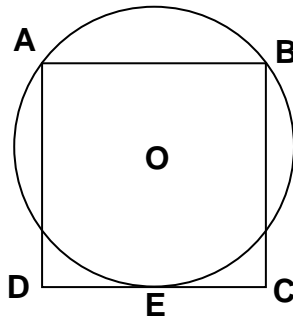
É **CORRETO** afirmar que:

- (A) I é um argumento válido.
- (B) I e II são argumentos válidos.
- (C) I e III são argumentos válidos.
- (D) II e III são argumentos válidos.

QUESTÃO 18

Na figura abaixo, o quadrilátero ABCD é um quadrado de lado medindo 10 cm e o ponto **O** é centro de uma circunferência que possui os pontos **A**, **B** e **E** em comum com o quadrado. Nessas condições, é **CORRETO** afirmar que o comprimento da circunferência e o perímetro do quadrado, **em centímetros**, são, respectivamente, iguais a:

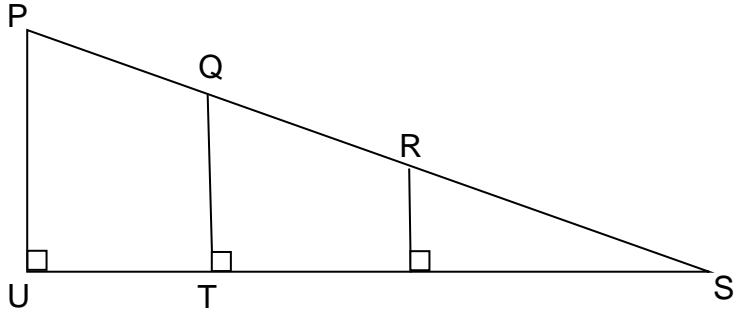
- (A) $12,5\pi$ e 40
- (B) $13,45\pi$ e 40
- (C) 16 e $12,5\pi$
- (D) $14,5\pi$ e 16



QUESTÃO 19

Se na figura abaixo, os segmentos $PQ = QR = RS = 3$ cm e o segmento $QT = 4$ cm, então é **CORRETO** afirmar que a medida, **em centímetros**, do segmento UP é igual a:

- (A) 5
- (B) 6
- (C) 7
- (D) 9

**QUESTÃO 20**

Os ângulos internos de um triângulo retângulo estão em Progressão Aritmética. Se a medida do menor dos ângulos é a metade da medida do maior ângulo desse triângulo, então é **CORRETO** afirmar que a medida do maior ângulo corresponde a:

- (A) 30°
- (B) 40°
- (C) 70°
- (D) 80°

PROVA DE NOÇÕES DE INFORMÁTICA

QUESTÃO 21

Analise as seguintes afirmativas sobre as opções disponíveis no grupo “Células” da guia “Página Inicial” do Microsoft Excel, versão português do Office 2010:

- I – A opção “AutoAjuste da Altura da Linha” está disponível no menu “Formatar”.
- II – A opção “Inserir Células” está disponível no menu “Inserir”.
- III – A opção “Excluir Planilha” está disponível no menu “Formatar”.

Estão **CORRETAS** as afirmativas:

- (A) I, II e III.
- (B) I e II, apenas.
- (C) I e III, apenas.
- (D) II e III, apenas.

QUESTÃO 22

Considere o seguinte intervalo de células preenchidas no Microsoft Excel, versão português do Office 2010:





	A	B
1	1	6
2	2	7
3	3	8
4	4	9
5	5	10

Todos os resultados das fórmulas a seguir estão corretos, **EXCETO**:

- (A) O resultado da fórmula “=SOMA(A1:A5;B1:B5)” é 22.
- (B) O resultado da fórmula “=SOMA(A1:B1;A5:B5)” é 22.
- (C) O resultado da fórmula “=SOMA(A1:B5)” é 55.
- (D) O resultado da fórmula “=SOMA(A1;B5)” é 11.

QUESTÃO 23

Analise as opções a seguir e assinale a opção cuja descrição está **correta** em relação aos tipos de gráficos do Microsoft Excel, versão português do Office 2010:

- (A)  Gráfico de pizza destacada.
- (B)  Gráfico de dispersão com linhas suaves e marcadores.
- (C)  Gráfico de dispersão com linhas suaves.
- (D)  Gráfico de linhas empilhadas.

QUESTÃO 24

Em relação às teclas de atalho do Microsoft Internet Explorer 11, versão português, correlacione as colunas a seguir:




Ícone	Modo de Exibição
I. Ctrl+J	() Tela inteira.
II. F11	() Ferramentas.
III. Alt+C	() Exibir downloads.
IV. Alt+X	() Exibir favoritos, feeds e histórico.

Está **CORRETA** a sequência de respostas, de cima para baixo:

- (A) III, IV, I, II.
 (B) III, I, IV, II.
 (C) II, IV, I, III.
 (D) II, I, IV, III.

QUESTÃO 25

Analise as seguintes afirmativas sobre as opções disponíveis na guia “Página Inicial”, ou nos menus acionados a partir dessa guia, no Microsoft Outlook, versão português do Office 2010:

- I – O ícone  pode ser utilizado para criar um novo compromisso.
- II – O ícone  pode ser utilizado para criar uma nova reunião.
- III – O ícone  pode ser utilizado para criar uma nova tarefa.

Estão **CORRETAS** as afirmativas:

- (A) I, II e III.
(B) I e II, apenas.
(C) I e III, apenas.
(D) II e III, apenas.

QUESTÃO 26

São categorias encontradas no “Painel de Controle” do Microsoft Windows 7, versão português, **EXCETO**:

- (A) Facilidade de Acesso.
(B) Sistema e Segurança.
(C) Hardware e Sons.
(D) Mobilidade.

QUESTÃO 27

Considere a figura abaixo do Windows Explorer do Microsoft Windows 7, versão português:






São opções disponíveis no botão “Organizar” em destaque, **EXCETO**:

- (A) Mapear unidade de rede
- (B) Layout
- (C) Propriedades
- (D) Opções de pasta e pesquisa

QUESTÃO 28

Analise as seguintes afirmativas sobre as opções disponíveis na guia “Layout” do Microsoft Word, versão português do Office 2010, que fica disponível quando o cursor está em uma tabela:





- I –  Permite incluir uma nova linha acima da atual.
- II –  Permite excluir linhas e colunas.
- III –  Permite mesclar uma célula.

Estão **CORRETAS** as afirmativas:

- (A) I e II, apenas.
(B) I e III, apenas.
(C) II e III, apenas.
(D) I, II e III.





QUESTÃO 29

Opção disponível na guia “Layout da Página” que permite adicionar uma borda em torno da página no Microsoft Word, versão português do Office 2010:

- (A) 
- (B) 
- (C) 
- (D) 

QUESTÃO 30

Em relação às opções disponíveis no grupo “Ilustrações” da guia “Inserir” no Microsoft Word, versão português do Office 2010, correlacione as colunas a seguir:

Ícone da opção	Opção
I. 	() Imagem
II. 	() Clip-Art
III. 	() SmartArt
IV. 	() Formas

Está **CORRETA** a sequência de respostas, de cima para baixo:

- (A) II, I, IV, III.
- (B) II, III, IV, I.
- (C) II, IV, III, I.
- (D) III, II, I, IV.

PROVA DE CONHECIMENTOS ESPECÍFICOS**QUESTÃO 31**

A abordagem clássica da administração resultou do primeiro esforço concentrado para desenvolver um conjunto de

- (A) controles de níveis inferiores de funcionários.
- (B) regras de controle de custos.
- (C) regras de funcionamento da burocracia.
- (D) teorias a respeito da administração.

QUESTÃO 32

O processo de estabelecer o uso ordenado de todos os recursos do sistema administrativo é um **conceito** de

- (A) Coordenação.
- (B) Estruturação.
- (C) Organização.
- (D) Produção.

QUESTÃO 33

Para controlar, de maneira bem sucedida, os gerentes precisam _____ não apenas o _____ de controle, mas também o modo como os _____ se relacionam a ele.

Os termos que completam **corretamente** as lacunas no texto são:

- (A) Compreender; método; membros.
- (B) Compreender; processo; membros.
- (C) Saber; método; clientes.
- (D) Saber; processo; clientes.

QUESTÃO 34

A organização formal é um sistema de atividades ou forças, enquanto a organização informal é um agregado de contatos e interações pessoais.

Dentro desta temática, analise as afirmativas:

- I. Enquanto a organização formal é uma organização planejada,
- II. a organização informal constitui o resultado da interação espontânea dos membros dessa organização.

Está **CORRETO** o que se afirma em:

- (A) I, apenas, é verdadeira.
- (B) II, apenas, é verdadeira.
- (C) I e II são falsas.
- (D) I e II são verdadeiras.

QUESTÃO 35

São cenários de atuação do O& M, **EXCETO**:

- (A) institucional.
- (B) políticos.
- (C) processos e método de trabalho.
- (D) processos organizacionais.

QUESTÃO 36

A estratégia relaciona-se com objetivos de longo prazo, enquanto que a tática relaciona-se com metas de _____ prazo.

- (A) Curto.
- (B) Mediano.
- (C) Médio.
- (D) Pequeno.

QUESTÃO 37

O planejamento tático é desenvolvido a níveis organizacionais _____, tendo como objetivo principal utilizar com eficiência os recursos disponíveis na organização.

A expressão que complete **corretamente** a lacuna do texto é:

- (A) hierárquicos.
- (B) mais baixos.
- (C) médios.
- (D) superiores.

QUESTÃO 38

O modo mais simples de departamentalização é o que se baseia no critério _____, que tanto pode ser usado pelas organizações de grande porte como também pelas de pequeno porte.

A expressão que complete **corretamente** a lacuna do texto é:

- (A) ambiental.
- (B) territorial.
- (C) funcional.
- (D) organizacional.

QUESTÃO 39

Os símbolos utilizados em um fluxograma têm por finalidade colocar em evidência a origem, o processamento e o destino da

- (A) informação.
- (B) ordenação.
- (C) predição.
- (D) verificação.

QUESTÃO 40

A principal característica da estrutura com base em função é a _____ das atividades do trabalho desenvolvido neste tipo de organização.

A expressão que complete **corretamente** a lacuna do texto é:

- (A) certeza.
- (B) delicadeza.
- (C) natureza.
- (D) presteza.

CONCURSO PÚBLICO

CÂMARA MUNICIPAL DE CONCEIÇÃO DO MATO DENTRO
EDITAL 001/2016

PARA VOCÊ DESTACAR E CONFERIR O SEU GABARITO.

01	
02	
03	
04	
05	
06	
07	
08	
09	
10	

11	
12	
13	
14	
15	
16	
17	
18	
19	
20	

21	
22	
23	
24	
25	
26	
27	
28	
29	
30	

31	
32	
33	
34	
35	
36	
37	
38	
39	
40	

