

CONCURSO PÚBLICO

Edital 01/2016



CÂMARA MUNICIPAL DE IGARAPÉ

CADERNO DE PROVAS

CADERNO 5	CARGO: OFICIAL LEGISLATIVO
PROVAS:	<ul style="list-style-type: none">• LÍNGUA PORTUGUESA• RACIOCÍNIO LÓGICO• NOÇÕES DE INFORMÁTICA

Leia, atentamente, as instruções gerais que se encontram no verso desta capa.

INSTRUÇÕES GERAIS:

1. Este caderno de provas contém um total de **40** (quarenta) questões objetivas, sendo 15 de Língua Portuguesa, 10 de Raciocínio Lógico e 15 de Noções de Informática. Confira-o.
2. As provas terão duração de, no mínimo, 1 (uma) hora e, no máximo, de 4 (quatro) horas, incluído o tempo destinado à transcrição de suas respostas no gabarito oficial.
3. Respondidas as questões, você deverá passar o gabarito para a sua folha de respostas, usando caneta esferográfica azul ou preta.
4. Em nenhuma hipótese haverá substituição da Folha de Respostas por erro do candidato.
5. Este caderno deverá ser devolvido ao fiscal, juntamente, com a folha de respostas, devidamente preenchidos e assinados.
6. O candidato só poderá se ausentar do recinto das provas decorrida 1 (uma) hora do início de aplicação das mesmas, por motivo de segurança.
7. Você pode transcrever suas respostas na última folha deste caderno e a mesma poderá ser destacada.
8. As questões e os gabaritos oficiais das Provas Objetivas serão divulgados nos endereços eletrônicos www.fumarc.org.br e www.cmigarape.mg.gov.br e publicados conforme previsto no Edital, no 2º (segundo) dia útil subsequente à realização das provas.
9. A comissão organizadora da FUMARC Concursos lhe deseja uma boa prova.

Prezado(a) candidato(a):

Coloque seu número de inscrição e nome no quadro abaixo:

Nº de Inscrição	Nome
<input type="text"/>	<input type="text"/>

ASSINALE A RESPOSTA CORRETA.

PROVA DE LÍNGUA PORTUGUESA

A GENTE É VELHO...

Rubem Alves

A gente é velho quando, para descer uma escada, segura firme no corrimão. E os olhos olham para baixo para medir o tamanho dos degraus e a posição dos pés.

Quando eu era moço, não era assim. Não segurava no corrimão e não media degraus e pés. Descia os dois lances de escada do sobrado do meu avô com a mesma fúria com que um pianista toca o prelúdio 16, de Chopin. Ele, pianista, não pensa. Se pensasse, não conseguiria tocar, porque o pensamento não consegue seguir a velocidade das notas. Toca porque seus dedos sabem sem que a cabeça saiba. O pianista se abandona ao saber do corpo. Assim descia eu as escadas do sobradão do meu avô. Mas no dia em que o pé começou a tropeçar, a cabeça compreendeu que eles, os pés, já não sabiam como sabiam antes. Agora é preciso o corrimão. Depois virão as bengalas, corrimões portáteis que se leva por onde se vai.

A gente é velho quando, no restaurante, é preciso cuidado ao se levantar. Moço, as pernas sabem medir as distâncias que há debaixo da mesa. Mas,

agora, é preciso olhar para medir a distância que há entre o pé da mesa e o bico do sapato. Há sempre o perigo de que o bico do sapato esbarre no pé da mesa e o pé da mesa lhe dê uma rasteira, você se estatelando no chão. Quando se é velho, até uma pequena queda pode se transformar em catástrofe. Há sempre o perigo de uma fratura.

A gente é velho quando é objeto de humilhações bondosas. Como aquela que aconteceu comigo 25 anos atrás. O metrô estava cheio. Jovem, segurei-me num balaústre. Notei então que uma jovem de uns 25 anos me olhava com um olhar amoroso. Olhei para ela. E houve um momento de suspensão romântica. Minha cabeça e meu coração se alegraram. Até o momento em que ela se levantou com um sorriso e me ofereceu o seu lugar. Foi um gesto de bondade. Com o seu gesto ela me dizia: "O senhor me traz memórias ternas do meu avô..."

A gente é velho quando entra no box do chuveiro com passos medrosos e cuidadosos. Há sempre o perigo de um escorregão. Por via das dúvidas, mandei instalar no box da minha casa uma daquelas barras metálicas horizontais que funcionam como corrimão.

A gente é velho quando começa a ter medo dos tapetes. Os tapetes são perigosos de duas maneiras. Há os pequenos tapetes de fundo liso, que escorregam. E há os grandes tapetes que ficam com as pontas levantadas e que fazem ondas. O pé dos velhos movimenta-se no arrasto e tropeça na ponta levantada do tapete ou na armadilha da onda.

A gente é velho quando começa a ter medo dos fotógrafos. Fugir das fotos de perfil porque nelas as barbelas de nelore aparecem. Nelore é um boi branco. Os pastos estão cheios deles, vivos, e as mesas também, sob o disfarce de bifés. E eles têm uma papada balançante, as barbelas, que vai da ponta do queixo (boi tem queixo?) até o peito. Velhice é quando as barbelas de nelore começam a aparecer. Aí vem a humilhação conclusiva. Prontas as fotos, eles nos mostram e dizem: "Como você está bem!"

A gente é velho quando, tendo de subir ao palco para dar uma palestra, tem sempre uma jovem simpática que nos oferece a mão, temendo que a gente se desequilibre e caia. A gente aceita o oferecimento com um sorriso. Nunca se sabe...

A gente é velho quando perde a vergonha e se desnuda fazendo as confissões que acabei de fazer...

QUESTÃO 01

O propósito deste texto é apresentar

- (A) confissões de um senhor que já está velho.
- (B) críticas à velhice.
- (C) dicas de como viver bem na velhice.
- (D) indagações sobre a velhice.

QUESTÃO 02

Em: “A gente é velho quando é objeto de humilhações bondosas”, **humilhação bondosa** é

- (A) andar num metrô lotado.
- (B) assemelhar-se a um avô.
- (C) olhar uma jovem de 25 anos com amor.
- (D) ter o lugar cedido por uma jovem.

QUESTÃO 03

Todas as constatações abaixo podem ser feitas acerca do texto, **EXCETO**:

- (A) Ao afirmar que mandou instalar barras de ferro no box, por via das dúvidas, nota-se a precaução do narrador consigo mesmo.
- (B) Ao afirmar que ser velho é desnudar-se como ele fez neste texto, o narrador demonstra a seriedade com que trata os fatos narrados.
- (C) Ao demonstrar que velho não gosta de fotos de perfil, pois passam por uma humilhação quando dizem que eles estão bem, percebe-se quão realista o narrador é.
- (D) Ao dizer que aceita o oferecimento da jovem para subir ao palco com um sorriso, o narrador demonstra que teme desequilibrar-se e cair.

QUESTÃO 04

Há traços de linguagem oral em

- (A) “A gente é velho quando, no restaurante, é preciso cuidado ao se levantar”.
- (B) “Fugir das fotos de perfil porque nelas as barbelas de nelore aparecem”.
- (C) “Quando se é velho, até uma pequena queda pode se transformar em catástrofe”.
- (D) “Toca porque seus dedos sabem sem que a cabeça saiba”.

QUESTÃO 05

Em alguns trechos, o narrador estabelece um diálogo com o leitor ou a ele se dirige. Isso ocorre em:

- (A) “Com o seu gesto ela me dizia: ‘O senhor me traz memórias ternas do meu avô...’”
- (B) “Moço, as pernas sabem medir as distâncias que há debaixo da mesa”.
- (C) “Prontas as fotos, eles nos mostram e dizem: ‘Como você está bem!’”
- (D) “Quando eu era moço, não era assim”.

QUESTÃO 06

Há linguagem figurada em:

- (A) “A gente é velho quando perde a vergonha e se desnuda fazendo as confissões que acabei de fazer”.
- (B) “Há os pequenos tapetes de fundo liso, que escorregam”.
- (C) “Quando se é velho, até uma pequena queda pode se transformar em catástrofe”.
- (D) “Toca porque seus dedos sabem sem que a cabeça saiba. O pianista se abandona ao saber do corpo”.

QUESTÃO 07

O referente do termo destacado está **corretamente** identificado, entre parênteses, **EXCETO** em:

- (A) “[...] preciso olhar para medir a distância **que** há entre o pé da mesa e o bico do sapato”. (a distância)
- (B) “[...] tem sempre uma jovem simpática **que** nos oferece a mão [...]”. (uma jovem simpática)
- (C) “E há os grandes tapetes **que** ficam com as pontas levantadas [...]”. (tapetes)
- (D) “Mas no dia **em que** o pé começou a tropeçar [...]”. (o dia)

QUESTÃO 08

O articulador sintático pode ser substituído **ADEQUADAMENTE** pela palavra ou expressão indicada entre parênteses em:

- (A) “A gente é velho **quando** perde a vergonha e se desnuda fazendo as confissões que acabei de fazer [...]”. (se)
- (B) “E os olhos olham para baixo **para** medir o tamanho dos degraus e a posição dos pés”. (a fim de)
- (C) “**Mas**, agora, é preciso olhar para medir a distância que há entre o pé da mesa e o bico do sapato”. (Portanto)
- (D) “**Se** pensasse, não conseguiria tocar, porque o pensamento não consegue seguir a velocidade das notas”. (Logo que)

QUESTÃO 09

A posição do pronome destacado é **facultativa** em:

- (A) A convivência familiar contribui para que os idosos **se** sintam amados.
- (B) A velhice pode **nos** levar a refletir sobre quem somos e que fomos.
- (C) Em outras palavras: nós **os** abandonamos em suas casas, sem carinho.
- (D) Para que sejamos íntegros, é preciso que os idosos **se** tornem respeitados.

QUESTÃO 10

O agente da ação verbal está **corretamente** identificado, entre parênteses, **EXCETO** em:

- (A) “Assim **descia** eu as escadas do sobradão do meu avô”. (eu)
- (B) “Ele, pianista, não **pensa**”. (Ele)
- (C) “**Há** os pequenos tapetes de fundo liso, que escorregam”. (os pequenos tapetes de fundo liso)
- (D) “Minha cabeça e meu coração se **alegraram**”. (Minha cabeça e meu coração)

QUESTÃO 11

Os verbos destacados estão flexionados no presente do indicativo, **EXCETO** em:

- (A) “[...] no pé da mesa e o pé da mesa lhe **dê** uma rasteira [...]”.
- (B) “A gente **é** velho quando começa a ter medo dos fotógrafos [...]”.
- (C) “A gente é velho quando **perde** a vergonha [...]”.
- (D) “E eles **têm** uma papada balançante [...]”.

QUESTÃO 12

É permitida **mais de uma** concordância para os verbos destacados em:

- (A) A psicanálise amplia a visão de cada um sobre si mesmo e sobre o mundo .
- (B) As consequências de um desmembramento social são variadas.
- (C) Boa parte das lojas oferece roupas de estilo jovem.
- (D) Hoje as lojas especializam-se em atender o público consumidor também por faixa etária.

QUESTÃO 13

O emprego da crase está correto, **EXCETO** em:

- (A) Àquela hora já devia estar dormindo.
- (B) Foram assistir à peça que lhes indiquei.
- (C) Frente à frente, ela não teve coragem de o desmentir.
- (D) Perdi uma blusa semelhante à sua.

QUESTÃO 14

A expressão para mim foi empregada **corretamente**, **EXCETO** em:

- (A) Pague o almoço **para mim**, estou sem dinheiro.
- (B) **Para mim**, o importante é ficar bem informado.
- (C) Por favor, compre o pão **para mim**.
- (D) Quero um jornal **para mim** ler depois do café

QUESTÃO 15

A vírgula está empregada corretamente, **EXCETO** em:

- (A) As opiniões contrárias às minhas, devem ser ditas somente em particular.
- (B) Depois de meia noite, todos ficam receosos de sair sozinhos naquele bairro.
- (C) Eu, Maria Antônia, gostaria de pedir licença para falar.
- (D) Todas as alunas, com exceção das que estão de uniforme azul, irão participar da dança.

PROVA DE RACIOCÍNIO LÓGICO**QUESTÃO 16**

O lucro mensal de uma empresa é dado pela expressão $L(q) = -q^2 + 30q - 5$ na qual q é a quantidade de unidades vendidas mensalmente e L é o lucro correspondente a essa quantidade. Nessas condições, é **CORRETO** afirmar que

- (A) a quantidade que garante o lucro mensal máximo é igual a 220 unidades.
- (B) a quantidade que garante o lucro mensal máximo é igual a 25 unidades.
- (C) o lucro mensal máximo possível obtido por essa empresa é igual a R\$ 200,00.
- (D) o lucro mensal máximo possível obtido por essa empresa é igual a R\$ 530,00.

QUESTÃO 17

Se a abscissa do vértice da parábola que representa o gráfico da função $f(x) = 2x^2 - (m - 3)x + 5$ é igual a 1 e m é um número real positivo, então é **CORRETO** afirmar que a ordenada do vértice e o valor m são, **respectivamente**, iguais a:

- (A) 3 e 4
- (B) 3 e 7
- (C) 4 e 3
- (D) 7 e 3

QUESTÃO 18

Se a população P de uma determinada cidade é estimada para daqui a t anos pela expressão $P(t) = (20 - 2^{-t}) \cdot 1000$ habitantes, então é **CORRETO** afirmar que, durante o terceiro ano, se estima que a essa população

- (A) aumentará de até 125 habitantes.
- (B) diminuirá de até 125 habitantes.
- (C) diminuirá de até 250 habitantes.
- (D) permanecerá a mesma.

QUESTÃO 19

A tabela abaixo relaciona a temperatura das águas do oceano Atlântico (ao nível da linha do Equador), em graus centígrados, com a profundidade medida em metros. Se a variação da temperatura é praticamente linear entre cada uma das medições feitas para a profundidade, então é **CORRETO** afirmar que a temperatura, **em graus centígrados**, prevista para uma profundidade de 400 metros corresponde a:

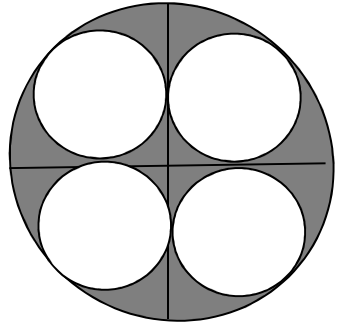
- (A) 10,5
- (B) 12,5
- (C) 14
- (D) 16

Profundidade (m)	Temperatura (°C)
0 (superfície)	27
100	21
500	7
1.000	4
3000	2,8

QUESTÃO 20

Considere a circunferencia de raio R e quatro circunferencias de raio r todas tangentes entre si conforme a figura abaixo. Nessas condições, é **CORRETO** afirmar que, se $R = r(\sqrt{2} + 1)$, para $R = 2$ cm, a área sombreada na figura, em cm^2 , equivale a:

- (A) $4\pi (1 + \sqrt{2})$
- (B) $4\pi (8\sqrt{2} - 11)$
- (C) $6\pi (4 - 2\sqrt{2})$
- (D) $8\pi (1 + 8\sqrt{2})$

**QUESTÃO 21**

Uma indústria produz aparelhos de rádio e aparelhos de televisão. O preço unitário de venda do rádio e da televisão são, respectivamente, iguais a R\$150,00 e R\$5.000,00. O custo de produção de cada rádio é R\$130,00 e o de cada televisão é R\$3.000. Se, no último mês, a produção de rádios e televisores gerou um custo total de R\$1.200.000,00 e um lucro total líquido de R\$600.000,00, então é **CORRETO** afirmar que a quantidade de rádios produzidos no último mês é igual a:

- (A) 270
- (B) 520
- (C) 2.500
- (D) 3.000

QUESTÃO 22

Se as medidas dos lados de um triângulo retângulo estão em Progressão Aritmética e a área desse triângulo é 150 (unidades de área), então, é **CORRETO** afirmar que a medida da hipotenusa desse triângulo, em unidades de comprimento, é igual a:

- (A) 15
- (B) 20
- (C) 25
- (D) 30

QUESTÃO 23

Na sequência numérica infinita (3,2,4,8,16,...) a partir do segundo termo, cada termo subsequente é obtido pela soma de todos os termos anteriores menos uma unidade. Nessas condições, é **CORRETO** afirmar que o sétimo termo dessa sequência é o número

- (A) 45
- (B) 64
- (C) 97
- (D) 108

QUESTÃO 24

Dada a proposição lógica: “*Se hoje é quinta-feira então amanhã é feriado*”, é **CORRETO** afirmar que a negação logicamente construída dessa proposição é:

- (A) Hoje não é quinta-feira e amanhã não é feriado.
- (B) Hoje não é quinta-feira e amanhã é feriado.
- (C) Hoje é quinta-feira e amanhã não é feriado.
- (D) Hoje é feriado e amanhã é quinta-feira.

QUESTÃO 25

Considere os argumentos lógicos I, II e III a seguir:

- I. Se caminho pela manhã, então não faço dieta. Se não corro, jogo vôlei. Faço dieta. Logo, jogo vôlei.
- II. Se gosto de álgebra, entendo o teorema. Eu gosto de álgebra ou vou viajar. Se não entendo o teorema, então vou viajar.
- III. Se o funcionário contratado é experiente, não é incompetente. O funcionário contratado comete muitos erros. Um indivíduo competente não comete muitos erros. Logo, o funcionário contratado não é experiente.

É **CORRETO** afirmar que

- (A) I e II são argumentos válidos.
- (B) I e III são argumentos válidos.
- (C) II e III são argumentos válidos.
- (D) apenas o argumento II é válido.

PROVA DE NOÇÕES DE INFORMÁTICA**QUESTÃO 26**

O atalho de teclado do Internet Explorer 11, versão português, que permite atualizar a página é

- (A) F2.
- (B) F5.
- (C) F9.
- (D) F11.

QUESTÃO 27

Analise as seguintes afirmativas sobre os atalhos de teclado do Internet Explorer 11, versão português, em relação às opções de zoom:





- I – “Ctrl + sinal de adição” permite ampliar o zoom.
- II – “Ctrl + sinal de subtração” permite reduzir o zoom.
- III – “Ctrl + 1” permite aplicar zoom de 100%.

Estão **CORRETAS** as afirmativas:

- (A) I e II, apenas.
- (B) I e III, apenas.
- (C) III, apenas.
- (D) I, II e III.





QUESTÃO 28

Opção disponível na guia “Mensagem” da janela de edição de uma nova mensagem do Microsoft Outlook, versão português do Office 2010, que permite anexar um arquivo à mensagem:

- (A) 
- (B) 
- (C) 
- (D) 

QUESTÃO 29

Em relação às opções disponíveis na guia “Página Inicial” do Microsoft Outlook, versão português do Office 2010, correlacione as colunas a seguir:





Ícone da opção	Opção
I. 	() Mover
II. 	() Responder
III. 	() Encaminhar
IV. 	() Novo Email

A sequência **CORRETA**, de cima para baixo, é:

- (A) I, II, IV, III.
 (B) II, III, I, IV.
 (C) III, II, IV, I.
 (D) III, IV, II, I.





QUESTÃO 30

São opções disponíveis na guia “Layout” do Microsoft Word, versão português do Office 2010, que é exibida quando o cursor está em uma tabela, **EXCETO**:

- (A)  Inserir abaixo.
- (B)  Excluir.
- (C)  Exibir linhas de grade.
- (D)  Desenhar tabela.

QUESTÃO 31

A opção disponível na guia “Página Inicial” do Microsoft Word, versão português do Office 2010, que permite diminuir o tamanho da fonte do texto selecionado, é:

- (A)  .
- (B)  ↓
- (C)  **x**
- (D)  **Aa** ▾

QUESTÃO 32

Analise as seguintes afirmativas sobre as opções disponíveis no grupo “Configurar Página” da guia “Layout da Página” do Microsoft Word, versão português do Office 2010:

- I – “Margens” permite selecionar os tamanhos de margem do documento.
- II – “Orientação” permite dividir o texto em duas ou mais colunas.
- III – “Tamanho” permite escolher um tamanho de papel.

Estão **CORRETAS** as afirmativas:

- (A) I e II, apenas.
- (B) I e III, apenas.
- (C) II e III, apenas.
- (D) I, II e III.

QUESTÃO 33

Atalho de teclado que permite aplicar a opção de alinhamento “Centralizar” ao parágrafo no Microsoft Word, versão português do Office 2010:

- (A) Ctrl+C
- (B) Ctrl+E.
- (C) Ctrl+P+C
- (D) Ctrl+Shift+E

QUESTÃO 34

Dentro da categoria “Sistema e Segurança” do “Painel de Controle” do Microsoft Windows 7, versão português, é possível encontrar as seguintes opções, **EXCETO**:

- (A) Encontrar e corrigir problemas.
- (B) Fazer backup do computador.
- (C) Obter programas.
- (D) Verificar o status do computador.

QUESTÃO 35

São opções do menu de contexto que pode ser acionado pelo botão direito do mouse na barra de tarefas do Microsoft Windows 7, versão português, **EXCETO**:

- (A) Iniciar Gerenciador de Impressão.
- (B) Iniciar Gerenciador de Tarefas.
- (C) Mostrar a área de trabalho.
- (D) Mostrar janelas lado a lado.

QUESTÃO 36

Analise as seguintes afirmativas sobre os atalhos de teclado do Windows Explorer, versão português do Microsoft Windows 7:

- I – “Ctrl+X” permite recortar o conteúdo selecionado para a área de transferência.
- II – “Ctrl+A” permite selecionar todo o conteúdo da pasta que estiver selecionada.
- III – “Ctrl+N” permite mapear uma nova unidade de rede.

Estão **CORRETAS** as afirmativas:

- (A) I e II, apenas.
- (B) I e III, apenas.
- (C) II e III, apenas.
- (D) I, II e III.




QUESTÃO 37

Função do Microsoft Excel, versão português do Office 2010, que remove os espaços de uma sequência de caracteres de texto, com exceção dos espaços simples entre as palavras:

- (A) AJUSTAR
- (B) ARRUMAR
- (C) REMOVER
- (D) RETIRAR

QUESTÃO 38

Considerando as opções disponíveis no grupo “Estilo” da guia “Página Inicial”, analise as seguintes afirmativas:

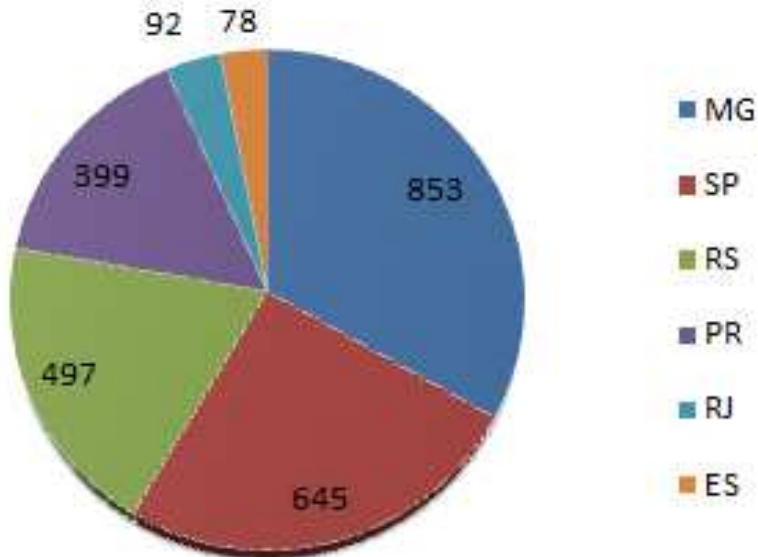
- I – O ícone  representa a opção “Formatação Condicional”.
- II – O ícone  representa a opção “Formatar como Tabela”.
- III – O ícone  representa a opção “Pincel de Formatação”.

Estão **CORRETAS** as afirmativas:

- (A) I, II e III.
- (B) I e III, apenas.
- (C) II e III, apenas.
- (D) I e II, apenas.

QUESTÃO 39

Considere o gráfico a seguir do Microsoft Excel, versão português do Office 2010, que apresenta a quantidade de municípios para alguns estados do Brasil:



Analise as seguintes afirmativas:

- I – A figura exibe um gráfico de pizza.
- II – A quantidade de municípios está na série do gráfico.
- III – “MG”, “SP” e “RS” são exemplos de rótulos de categorias do gráfico.

Estão **CORRETAS** as afirmativas:

- (A) I, apenas.
- (B) I e II, apenas.
- (C) II e III, apenas.
- (D) I, II e III.

QUESTÃO 40

A opção “Tabela Dinâmica” está disponível no grupo “Tabelas” da guia:

- (A) Dados
- (B) Fórmulas
- (C) Inserir
- (D) Página Inicial

CONCURSO PÚBLICO

CÂMARA MUNICIPAL DE IGARAPÉ EDITAL 01/2016

PARA VOCÊ DESTACAR E CONFERIR O SEU GABARITO.

01	
02	
03	
04	
05	
06	
07	
08	
09	
10	

11	
12	
13	
14	
15	
16	
17	
18	
19	
20	

21	
22	
23	
24	
25	
26	
27	
28	
29	
30	

31	
32	
33	
34	
35	
36	
37	
38	
39	
40	

