

CONCURSO PÚBLICO

Edital 001/2016



PREFEITURA MUNICIPAL DE MATOZINHOS

CADERNO DE PROVAS

CADERNO 13	CARGO: <ul style="list-style-type: none">• TÉCNICO EM SEGURANÇA DO TRABALHO
PROVAS:	<ul style="list-style-type: none">• LÍNGUA PORTUGUESA• RACIOCÍNIO LÓGICO• NOÇÕES DE INFORMÁTICA• CONHECIMENTOS ESPECÍFICOS

Leia, atentamente, as instruções gerais que se encontram no verso desta capa.

INSTRUÇÕES GERAIS:

1. Este caderno de provas contém um total de **40** (quarenta) questões objetivas, sendo 10 de Língua Portuguesa, 10 de Raciocínio Lógico, 10 de Noções de Informática e 10 de Conhecimentos Específicos. Confira-o.
2. As provas terão duração de, no mínimo, 1 (uma) hora e, no máximo, de 4 (quatro) horas, incluído o tempo destinado à transcrição de suas respostas no gabarito oficial.
3. Respondidas as questões, você deverá passar o gabarito para a sua folha de respostas, usando caneta esferográfica azul ou preta.
4. Em nenhuma hipótese haverá substituição da Folha de Respostas por erro do candidato.
5. Este caderno deverá ser devolvido ao fiscal, juntamente, com a folha de respostas, devidamente preenchidos e assinados.
6. O candidato só poderá se ausentar do recinto das provas decorrida **1** (uma) hora do início de aplicação das mesmas, por motivo de segurança e sigilo.
7. Você pode transcrever suas respostas na última folha deste caderno e a mesma poderá ser destacada.
8. Os gabaritos oficiais das Provas Objetivas de Múltipla Escolha serão publicados no Quadro Oficial de Avisos no hall da Prefeitura Municipal de Matozinhos/MG e disponibilizados nos endereços eletrônicos www.matozinhos.mg.gov.br e www.fumarc.org.br, até 3 (três) dias úteis após a aplicação das provas.
9. A comissão organizadora da FUMARC Concursos lhe deseja uma boa prova.

Prezado(a) candidato(a):

Coloque seu número de inscrição e nome no quadro abaixo:

Nº de Inscrição	Nome
<input type="text"/>	<input type="text"/>

ASSINALE A RESPOSTA CORRETA.

PROVA DE LÍNGUA PORTUGUESA

Leia, atentamente, o texto a seguir:

UM PAÍS SE FAZ COM SAPATOS E LIVROS

Leo Cunha

Outro dia, numa palestra, eu escutei uma frase genial do Pedro Bandeira, aquele escritor que você deve estar cansado de conhecer. [...]

Pois bem: o Pedro estava num colégio carérrimo e chiquérrimo de São Paulo quando uma madame veio reclamar do preço dos livros. Nosso caro escritor - carérrimo, segundo a madame - olhou pros filhos dela e viu que os dois estavam de tênis importado.

Então o Pedro – que, apesar do nome, não costuma dar bandeira – virou pra ela e soltou a seguinte frase: “Ô, minha senhora, não é o livro que é caro. É a senhora que prefere investir no pé do que na cabeça dos seus filhos”.

O auditório aplaudiu de pé aquela história. Palmas, gritos, gargalhadas. Eu, disfarçadamente, olhei pra baixo pra ver se não estava calçando meu bom e velho Nike branco. Não tenho a menor intenção de fazer propaganda pra ninguém, pelo contrário: não perco uma chance de comentar aquelas acusações que a Nike vive recebendo, de explorar o trabalho infantil na Ásia. Mas não posso

negar que me bateu um sentimento de culpa ao escutar aquela frase. Felizmente eu estava calçando um discretíssimo mocassim preto, então pude aplaudir com mais entusiasmo a tirada do Pedro.

Tirada, aliás, que me fez lembrar um caso divertido da minha infância. Foi no início da década de 80, eu e minha irmã estávamos entrando na adolescência e estudávamos num grande colégio de BH.

Um dia, estávamos em casa quando a mãe de um colega da minha irmã bateu a campainha. Abrimos a janela e vimos a tal senhora debruçada sobre o portão, em lágrimas. Pronto, morreu alguém!, pensamos logo.

Mas não. A coitada começou a explicar, aos soluços: “Eu não estou dando conta dos meus serviçais, eles não param de brigar!”. Juro, foi assim que ela falou: “meus serviçais”. Se eu me lembro bem, a casa dessa senhora era imensa e ocupava quase um quarteirão. Para manter o castelo em ordem, ela precisava de pelo menos uns oito “serviçais”. Era aí que o negócio complicava, pois controlar tanta gente se mostrava uma tarefa árdua, que exigia muito preparo e psicologia.

Ficamos muito consternados com a pobrezinha, ela agradeceu o apoio moral, mas completou que esse não era o motivo da visita. O que era então? E foi aí que veio a bomba. O colégio tinha mandado os meninos lerem um livro assim assim (esqueci o título) e ela queria saber se minha irmã já tinha terminado, pra poder emprestar pro filho dela!

Minha mãe ficou congelada, não sabia se tinha ouvido direito. Então quer dizer que a madame podia contratar oito serviçais pra se engalfinharem e não podia comprar um livro, um mísero livro, coitadinho, que nunca brigou com ninguém?

Minha mãe era livreira, professora, escrevia resenhas para a imprensa e tinha uma biblioteca imensa, inclusive com alguns livros repetidos. Deve ser por isso que, se não me falha a memória, nós não apenas emprestamos, como demos o livro para a mulher.

A frase do Pedro Bandeira completa perfeitamente o caso, e vice-versa. Ninguém está negando que o livro, ou alguns livros, poderiam ser mais baratos, mas de que adianta baixar o preço do produto se nós não dermos valor a ele, se ele não for importante em nossas vidas? Se a gente prefere entrar numa sapataria e investir no pé de nossos filhos. Se a gente entra num McDonald’s da vida e pede pelo número, pede pelo número deixando as letras para depois, ou para nunca.

Disponível em: <http://dicasdeleitores.blogspot.com.br/2012/09/um-pais-se-faz-com-sapatos-e-livros.html> Acesso em 28 mar. 2016 (Adaptado)

QUESTÃO 01

Os quatro parágrafos iniciais do texto narram um fato que tem por objetivo

- (A) completar as ideias apresentadas na narrativa seguinte.
- (B) ilustrar o acontecimento que virá em seguida.
- (C) introduzir as memórias da infância do autor.
- (D) promover o debate acerca da importância de se ler livros.

QUESTÃO 02

Ao dar a seguinte resposta: “Ô, minha senhora, não é o livro que é caro. É a senhora que prefere investir no pé do que na cabeça dos seus filhos”, infere-se que Pedro Bandeira queria dizer que a senhora

- (A) acreditava que investimentos em livros não davam o mesmo retorno que o em sapatos.
- (B) desconhecia completamente o valor dos livros.
- (C) estava desinteressada pela educação de seus filhos.
- (D) estava mais preocupada com a aparência do que com o interior de seus filhos.

QUESTÃO 03

Sobre o caso da infância do autor, todas as constatações podem ser feitas, **EXCETO**:

- (A) Ao afirmar que a senhora tinha um casarão que ocupava meio quarteirão e oito serviçais, percebe-se que a questão não era falta de dinheiro, e sim de valores culturais.
- (B) Ao comentar que o livro nunca havia brigado com ninguém, percebe-se o quão chateado ele havia ficado com a situação.
- (C) Ao constatar que a mãe ficou congelada ao ouvir o pedido de empréstimo do livro, percebe-se a diferença de valores existente entre eles.
- (D) Ao revelar que a mãe era livreira, professora e que eles tinham uma biblioteca imensa, percebe-se a importância da leitura para aquela família.

QUESTÃO 04

Há linguagem figurada em:

- (A) “A coitada começou a explicar, aos soluços:”
- (B) “A frase do Pedro Bandeira completa perfeitamente o caso, e vice-versa.”
- (C) “O auditório aplaudiu de pé aquela história.”
- (D) “O que era então? E foi aí que veio a bomba.”

QUESTÃO 05

O autor estabelece um diálogo com o leitor ou a ele se dirige em:

- (A) “Juro, foi assim que ela falou: ‘meus serviços’.”
- (B) “Não tenho a menor intenção de fazer propaganda pra ninguém, pelo contrário.”
- (C) “Pronto, morreu alguém!, pensamos logo.”
- (D) “Tirada, aliás, que me fez lembrar um caso divertido da minha infância.”

QUESTÃO 06

Em “Ficamos muito **consternados** com a pobrezinha, ela agradeceu o apoio moral, mas completou que esse não era o motivo da visita.”, a palavra **consternados** pode ser **melhor** interpretada como:

- (A) chateados.
- (B) comovidos.
- (C) desmotivados.
- (D) prostrados.

QUESTÃO 07

Todos os termos destacados têm natureza adjetiva, **EXCETO** em:

- (A) “[...] mas de que adianta baixar o preço do produto se nós não dermos valor a ele, se ele não for **importante** em nossas vidas?”
- (B) “A frase do Pedro Bandeira completa **perfeitamente** o caso, e vice-versa.”
- (C) “Era aí que o negócio complicava, pois controlar tanta gente se mostrava uma tarefa **ádua** [...].”
- (D) “Ficamos muito consternados com a pobrezinha, ela agradeceu o apoio **moral** [...].”

QUESTÃO 08

Os sujeitos dos verbos destacados estão corretamente identificados entre parênteses, **EXCETO** em:

- (A) “A frase do Pedro Bandeira **completa** perfeitamente o caso [...].” (A frase)
- (B) “**Ficamos** muito consternados com a pobrezinha [...]” (Nós)
- (C) “Minha mãe **era** livreira, professora [...]” (Minha mãe)
- (D) “Pronto, **morreu** alguém! [...]” (alguém)

QUESTÃO 09

Os referentes dos pronomes destacados estão corretamente identificados entre parênteses, **EXCETO** em:

- (A) “[...] eu escutei uma frase genial do Pedro Bandeira, aquele escritor **que** você deve estar cansado de conhecer.[...]” (aquele escritor)
- (B) “[...] não perco uma chance de comentar aquelas acusações **que** a Nike vive recebendo [...].” (aquelas acusações)
- (C) “[...] e não podia comprar um livro, um mísero livro, coitadinho, **que** nunca brigou com ninguém?” (coitadinho)
- (D) “É a senhora **que** prefere investir no pé do que na cabeça dos seus filhos”. (a senhora)

QUESTÃO 10

A ideia expressa pelos articuladores sintáticos está corretamente identificada entre parênteses, **EXCETO** em:

- (A) “**Mas** não posso negar que me bateu um sentimento de culpa ao escutar aquela frase.” (oposição)
- (B) “Nosso caro escritor - carérrimo, **segundo** a madame - olhou pros filhos dela e viu que os dois estavam de tênis importado.” (conformidade)
- (C) “**Para** manter o castelo em ordem, ela precisava de pelo menos uns oito ‘serviçais’”. (causa)
- (D) “[...] mas de que adianta baixar o preço do produto **se** nós não dermos valor a ele, se ele não for importante em nossas vidas?” (condição)

PROVA DE RACIOCÍNIO LÓGICO**QUESTÃO 11**

A produção mensal de uma indústria cresceu em Progressão Aritmética no primeiro semestre do ano 2013 sendo que, em janeiro, foram produzidas 1.500 unidades. Se no mês de fevereiro a produção registrou o dobro da produção de janeiro, então é **CORRETO** afirmar que a quantidade de unidades produzidas relativa ao mês de junho desse ano e nessa indústria é igual a:

- (A) 7.500
- (B) 9.000
- (C) 12.500
- (D) 18.000

QUESTÃO 12

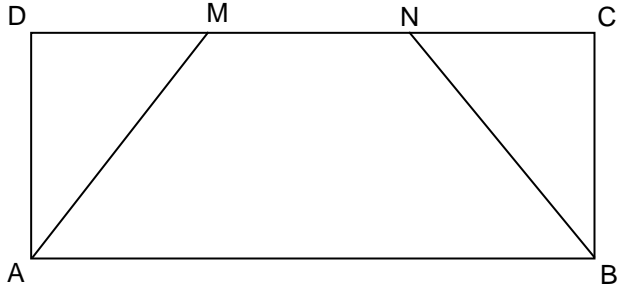
Se as raízes da equação $x^2 - 5x + 6 = 0$ correspondem aos dois primeiros termos de uma Progressão Geométrica crescente, então é **CORRETO** afirmar que o quinto termo dessa progressão é o número:

- (A) $\frac{81}{8}$
- (B) $\frac{8}{81}$
- (C) $\frac{25}{8}$
- (D) $\frac{8}{25}$

QUESTÃO 13

No retângulo abaixo, $DM = MN = NC$. Se $BC = 5$ cm e $AB = 12$ cm, então é **CORRETO** afirmar que a área do polígono de vértices $AMNB$, em cm^2 , é igual a:

- (A) 10
 (B) 40
 (C) 60
 (D) 90

**QUESTÃO 14**

Se os sistemas $\begin{cases} x + y = 20 \\ x - y = 4 \end{cases}$ e $\begin{cases} ax + 2y = 32 \\ 3x - by = 20 \end{cases}$ possuem soluções iguais, então é **CORRETO** afirmar que o valor de $(a + b)$ é igual a:

- (A) $\frac{13}{12}$
 (B) $\frac{12}{13}$
 (C) $\frac{3}{10}$
 (D) $\frac{10}{3}$

QUESTÃO 15

Três pacientes A, B e C usam, em conjunto, 1830 mg por mês de um determinado medicamento que é produzido em cápsulas. O paciente A usa cápsulas de 5 mg, o paciente B usa cápsulas de 10 mg e o paciente C ingere cápsulas de 12 mg. O paciente A toma a metade do número de cápsulas de B e os três tomam juntos 180 cápsulas por mês. Nessas condições, é **CORRETO** afirmar que o número de cápsulas que o paciente C toma mensalmente é igual a:

- (A) 60
- (B) 75
- (C) 90
- (D) 120

QUESTÃO 16

Uma loja vende conjuntos de talheres cujos preços variam conforme a tabela abaixo. De acordo com as informações dessa tabela, é **CORRETO** afirmar que o preço unitário da faca é igual a:

- (A) R\$ 3,00
- (B) R\$ 4,00
- (C) R\$ 4,50
- (D) R\$ 5,50

FACAS	COLHERES	GARFOS	PREÇO(R\$)
1	2	3	23,50
2	5	6	50,00
2	3	4	36,00

QUESTÃO 17

O valor numérico da expressão $(x^{-1} + x^{0,5} + x)^{-1}$ para $x = 4$ é igual a:

- (A) $\frac{4}{7}$
- (B) $\frac{7}{4}$
- (C) $\frac{4}{25}$
- (D) $\frac{25}{4}$

QUESTÃO 18

Os gastos de consumo de uma família são dados pela expressão

$$C(r) = 2000 + 0,8r$$

em que r representa a renda familiar e C representa o consumo mensal em reais.

Nessas condições, é **CORRETO** afirmar que:

- (A) Se a renda aumentar em R\$ 1.000,00, então o consumo aumentará em R\$ 800,00.
- (B) Se a renda diminuir em R\$ 1.000,00, então o consumo diminuirá em R\$ 2.800,00.
- (C) Se a renda diminuir em R\$ 500,00, então o consumo também diminuirá em R\$ 500,00.
- (D) Se a renda dobrar seu valor, então o consumo também será dobrado.

QUESTÃO 19

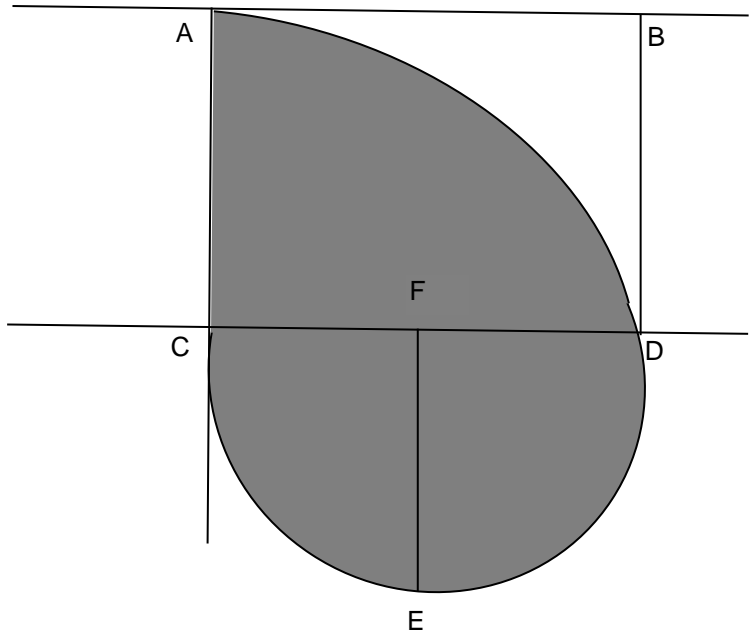
O preço de uma mercadoria à vista é R\$ 680,00. Caso a venda seja parcelada em três prestações mensais iguais, o preço à vista sofre um acréscimo de 5%. Nessas condições, é **CORRETO** afirmar que o valor de cada prestação, **em reais**, nesse parcelamento, é igual a:

- (A) 143
- (B) 193
- (C) 238
- (D) 283

QUESTÃO 20

Na figura abaixo, ABCD, quadrado de lado igual a 4 cm, o segmento EF também mede 4 cm e AC é o raio da circunferência de centro em C. Nessas condições, é **CORRETO** afirmar que a área da região **NÃO** sombreada nessa figura, **em cm²**, é igual a:

- (A) $16 - 4\pi$
- (B) $16 - 12\pi$
- (C) $4 + 4\pi$
- (D) $3 + 16\pi$



PROVA DE NOÇÕES DE INFORMÁTICA

QUESTÃO 21

A possibilidade de alteração do fuso horário pode ser feita no “Painel de Controle” do Microsoft Windows 7, versão português, dentro da categoria:

- (A) Aparência e Personalização.
- (B) Facilidade de Acesso.
- (C) Relógio, Idioma e Região.
- (D) Sistema e Segurança.

QUESTÃO 22

São informações que aparecem no rodapé da janela “Gerenciador de Tarefas do Windows” do Microsoft Windows 7, versão português, independente da guia selecionada, **EXCETO**:

- (A) Memória Física.
- (B) Processos.
- (C) Uso de CPU.
- (D) Usuários conectados.




QUESTÃO 23

Tecla de atalho que aplica o efeito “itálico” na fonte de um texto do Microsoft Word, versão português do Office 2010:

- (A) Alt+I.
- (B) Ctrl+Alt+I
- (C) Ctrl+I.
- (D) Shift+I

QUESTÃO 24

Analise as seguintes afirmativas sobre as opções disponíveis no grupo “Configurar Página” da guia “Layout da Página” do Microsoft Word, versão português do Office 2010:





- I –  Selecionar os tamanhos de margem do documento inteiro ou da seção atual.
- II –  Permite configurar uma tabela.
- III –  Permite alternar entre os layouts Retrato e Paisagem.

Estão **CORRETAS** as afirmativas:

- (A) I e II, apenas.
(B) I e III, apenas.
(C) II e III, apenas.
(D) I, II e III.

QUESTÃO 25

São opções disponíveis no grupo “Ilustrações” da guia “Inserir” do Microsoft Word, versão português do Office 2010, **EXCETO**:

- (A)  Rodapé.
- (B)  Imagem.
- (C)  Clip-Art.
- (D)  Gráfico.




QUESTÃO 26

São parâmetros obrigatórios da função **PGTO** do Microsoft Excel, versão português do Office 2010, **EXCETO**:

- (A) Nper – Número total de pagamentos.
- (B) Taxa – Taxa de juros.
- (C) Vf – Valor futuro.
- (D) Vp – Valor presente.

QUESTÃO 27

Analise as seguintes afirmativas sobre as opções disponíveis no grupo “Células” da guia “Página Inicial” do Microsoft Excel, versão português do Office 2010:





- I –  O menu abaixo do ícone “Inserir” possibilita a inserção de células, linhas, colunas ou planilha.
- II –  O menu abaixo do ícone “Excluir” possibilita a exclusão de células, linhas, colunas ou planilha.
- III –  O menu abaixo do ícone “Formatar” possibilita, além de outras funcionalidades, ajustar a altura de uma linha ou a largura de uma coluna.

Estão **CORRETAS** as afirmativas:

- (A) I e II, apenas.
- (B) I e III, apenas.
- (C) II e III, apenas.
- (D) I, II e III.

QUESTÃO 28

São exemplos de gráfico de “Dispersão” do Microsoft Excel, versão português do Office 2010, **EXCETO**:

- (A) 
- (B) 
- (C) 
- (D) 





QUESTÃO 29

A tecla de atalho “Ctrl+N” no Microsoft Internet Explorer 11, versão português, realiza a seguinte operação:

- (A) Abre uma nova guia na janela atual do Internet Explorer.
- (B) Abre uma nova janela do Internet Explorer.
- (C) Desativa o bloqueador de pop-ups.
- (D) Exclui o histórico de navegação.

QUESTÃO 30

Na janela de edição de mensagens do Microsoft Outlook, versão português do Office 2010, uma mensagem pode ser marcada com “Alta Prioridade” na guia “Marcas” pelo ícone:

- (A) 
- (B) 
- (C) 
- (D) 

PROVA DE CONHECIMENTOS ESPECÍFICOS**QUESTÃO 31**

A Nova Instrução Normativa nº 95 do INSS estabelece que o direito ao benefício de auxílio-doença, inclusive o decorrente de acidente do trabalho, deverá ser analisado com base na DAT(data de afastamento do trabalho) ou na DII(data de início da incapacidade), conforme o caso. Em relação a essa determinação, é **INCORRETO** afirmar que:

- (A) Nas situações em que o benefício for requerido após trinta dias contados da DAT ou da DII, conforme o caso, a Data do Início do Pagamento – DIP será fixada na DER (data de entrada do requerimento).
- (B) Os benefícios de auxílio-doença, concedidos por decisão judicial, inclusive os decorrentes de acidente do trabalho, em manutenção, deverão ser revisitos semestralmente, contado o prazo a partir da data de seu início ou da data de seu restabelecimento, observado o disposto no § 3º do art. 96 da Instrução Normativa.
- (C) Requerimento de auxílio-doença não poderá ser feito pela Internet, para os segurados empregados e desempregados, observando que a análise do direito será feita com base nas informações constantes no CNIS (cadastro nacional de informações sociais) sobre as remunerações e vínculos, a partir de 1º de julho de 1994, podendo o segurado, a qualquer momento, solicitar alteração, inclusão ou exclusão das informações no CNIS, com a apresentação de documentos comprobatórios dos períodos ou das remunerações divergentes, observado o disposto nos arts. 389 a 391 da Instrução Normativa.
- (D) Será considerada como DAT aquela em que for fixado o início da incapacidade para os segurados, empregado doméstico, trabalhador avulso, contribuinte individual, facultativo, segurado especial e o desempregado.

QUESTÃO 32

Nas instalações e serviços em eletricidade, devem ser observadas no projeto, na execução, na operação, na manutenção, na reforma e na ampliação, as normas técnicas oficiais estabelecidas pelos órgãos competentes e, na falta destas, as normas internacionais vigentes. Nessas instalações, considerada a proteção contra o risco de contato,

- (A) as partes das instalações elétricas não cobertas por material isolante, na impossibilidade de se conservarem distâncias que evitem contatos casuais, devem ser isoladas por obstáculos que ofereçam, de forma segura, resistência a esforços mecânicos exagerados.
- (B) as partes de instalações elétricas a serem operadas, ajustadas ou examinadas, devem ser dispostas de modo a permitir um espaço suficiente para trabalho confortável.
- (C) toda instalação ou peça condutora que não faça parte dos circuitos elétricos, mas que, eventualmente, possa ficar sob tensão, deve ser aterrada, desde que esteja em local inacessível a contatos.
- (D) todas as partes das instalações elétricas devem ser projetadas e executadas de modo que seja possível prevenir, por meios seguros, os perigos de choque elétrico e todos os outros tipos de acidentes.

QUESTÃO 33

O exercício de trabalho em condições de insalubridade **NÃO** assegura ao trabalhador a percepção de adicional, incidente sobre o salário mínimo da região, equivalente a:

- (A) 10% (dez por cento), para incidência de insalubridade de grau mínimo.
- (B) 20% (vinte por cento), para incidência de insalubridade de grau médio.
- (C) 40% (quarenta por cento), para incidência de insalubridade de grau máximo.
- (D) 50% (cinquenta por cento), para incidência de mais de um grau de insalubridade.

QUESTÃO 34

Em instalações e áreas de trabalho com máquinas e equipamentos, deve-se observar, **EXCETO**:

- (A) A distância mínima entre máquinas e equipamentos deve ser de 0,60 m (sessenta centímetros) a 0,80 m (oitenta centímetros), a critério da autoridade competente em segurança e medicina do trabalho.
- (B) As áreas de circulação e os espaços em torno de máquinas e equipamentos devem ser dimensionados de forma que o material, os trabalhadores e os transportadores mecanizados possam movimentar-se com segurança.
- (C) Entre partes móveis de máquinas e/ou equipamentos deve haver uma faixa livre variável de 0,60 m (sessenta centímetros) a 1,20 m (um metro e vinte centímetros), a critério da autoridade competente em segurança e medicina do trabalho.
- (D) Os pisos dos locais de trabalho onde se instalam máquinas e equipamentos devem ser vistoriados e limpos, sempre que apresentarem riscos provenientes de graxas, óleos e outras substâncias que os tornem escorregadios.

QUESTÃO 35

Equipamentos de proteção individuais são destinados à proteção do trabalhador, nos ambientes de trabalho. Em relação a esses equipamentos, cabe, respectivamente, ao empregador e ao empregado:

- (A) “Responsabilizar-se pela higienização e manutenção periódica” e “Responsabilizar-se pela guarda e conservação”.
- (B) “Cumprir as determinações sobre o uso adequado” e “Usar, utilizando-o apenas para a finalidade a que se destina”.
- (C) “Comunicar qualquer alteração que o torne impróprio para uso” e “Comunicar ao MTE qualquer irregularidade observada”.
- (D) “Adquirir o adequado ao risco de cada atividade” e “Substituir imediatamente, quando danificado ou extraviado”.

QUESTÃO 36

Considerando a possibilidade de ocorrência de fogo nos locais de trabalho, em relação ao combate dele deve-se observar que, tão cedo o fogo se manifeste, cabe:

- (A) atacá-lo, o mais rapidamente possível, pelos meios adequados.
- (B) avaliar a necessidade de se chamar o Corpo de Bombeiros.
- (C) desligar máquinas e aparelhos elétricos, quando a operação do desligamento envolver riscos adicionais.
- (D) estimar suas proporções e acionar o sistema de alarme.

QUESTÃO 37

A Comissão Interna de Prevenção de Acidentes, composta por representantes do empregador e dos empregados, tem por atribuição:

- (A) Realizar, periodicamente, verificações nos ambientes e nas condições de trabalho, visando a supressão de situações que venham a trazer riscos para a segurança e a saúde dos trabalhadores.
- (B) Promover, mensalmente, em conjunto com o SESMT, onde houver, a SIPAT (Semana Interna de Prevenção de Acidentes do Trabalho).
- (C) Participar, em conjunto com o SESMT, onde houver, ou com o empregador, da análise das causas das doenças e acidentes de trabalho e impor medidas de solução dos problemas identificados.
- (D) Participar, com o SESMT, onde houver, das discussões promovidas pelo empregador, para avaliar os impactos de alterações no ambiente e no processo de trabalho relacionados à segurança e saúde dos trabalhadores.

QUESTÃO 38

Os equipamentos utilizados no processamento eletrônico de dados com terminais de vídeo, nos locais e postos de trabalho, devem observar o seguinte:

- (A) A tela, o teclado e o suporte para documentos devem ser colocados de maneira que as distâncias olho-tela, olho-teclado e olho-documento sejam iguais.
- (B) Condições de mobilidade suficientes para permitir o ajuste da tela do equipamento à iluminação do ambiente, protegendo-a contra reflexos, e proporcionar corretos ângulos de visibilidade ao trabalhador.
- (C) O teclado deve ser independente e ter mobilidade, permitindo ao trabalhador ajustá-lo de acordo com as tarefas a serem executadas.
- (D) Posicionamento em superfícies de trabalho com altura ajustável.

QUESTÃO 39

Considerada a preservação da saúde e da integridade dos trabalhadores, através da antecipação, do reconhecimento, da avaliação e do consequente controle da ocorrência de riscos ambientais existentes ou que venham a existir no ambiente de trabalho, tendo em consideração a proteção do meio ambiente e dos recursos naturais, o Programa de Prevenção de Riscos Ambientais deverá conter em sua estrutura, **EXCETO**:

- (A) Periodicidade e forma de avaliação do desenvolvimento do PPRA.
- (B) Planejamento plurianual com estabelecimento de metas, prioridades e cronograma.
- (C) Forma do registro, manutenção e divulgação dos dados.
- (D) Estratégia e metodologia de ação.

QUESTÃO 40

O Programa de Controle Médico de Saúde Ocupacional - PCMSO, com o objetivo de promoção e preservação da saúde do conjunto dos seus trabalhadores, deve seguir as diretrizes, dentre as quais se encontra **INCOMPLETA**:

- (A) O PCMSO deverá ser planejado e implantado com base nos riscos à saúde dos trabalhadores, especialmente os identificados nas avaliações previstas nas demais NRs.
- (B) O PCMSO deverá considerar as questões incidentes sobre o indivíduo, privilegiando o instrumental clínico-epidemiológico na abordagem da relação entre sua saúde e o trabalho.
- (C) O PCMSO deverá ter caráter de prevenção, rastreamento e diagnóstico precoce dos agravos à saúde relacionados ao trabalho, inclusive de natureza subclínica, além da constatação da existência de casos de doenças profissionais ou danos irreversíveis à saúde dos trabalhadores.
- (D) O PCMSO é parte integrante do conjunto mais amplo de iniciativas da empresa no campo da saúde dos trabalhadores, devendo estar articulado com o disposto nas demais NR.

CONCURSO PÚBLICO

PREFEITURA MUNICIPAL DE MATOZINHOS
EDITAL 001/2016

PARA VOCÊ DESTACAR E CONFERIR O SEU GABARITO.

01	
02	
03	
04	
05	
06	
07	
08	
09	
10	

11	
12	
13	
14	
15	
16	
17	
18	
19	
20	

21	
22	
23	
24	
25	
26	
27	
28	
29	
30	

31	
32	
33	
34	
35	
36	
37	
38	
39	
40	

