

CONHECIMENTOS GERAIS (QUESTÕES DE 01 A 20)

Leia o texto 1 para responder às questões de 01 a 03.

Texto 1



Calvin e Haroldo - Bill Watterson.

Questão 01 (Peso 1)

Contemple as palavras retiradas da tirinha de Calvin apresentada no texto 1: pudesse (quadrinho 1), ensolarado (quadrinho 2), isso (quadrinho 3) e suponha (quadrinho 3).

A alternativa que apresenta, correta e sequencialmente, o número correto de sílabas das palavras grifadas é

- A) 3 sílabas / 5 sílabas / 2 sílabas / 3 sílabas
- B) 2 sílabas / 3 sílabas / 2 sílabas / 3 sílabas
- C) 3 sílabas / 5 sílabas / 3 sílabas / 2 sílabas
- D) 2 sílabas / 4 sílabas / 2 sílabas / 2 sílabas
- E) 3 sílabas / 4 sílabas / 3 sílabas / 2 sílabas

Questão 02 (Peso 2)

No segundo quadrinho, temos a frase: “Um campo bem grande e ensolarado”.

As palavras grifadas, na ordem em que aparecem, pertencem, respectivamente, às classes gramaticais:

- A) artigo / artigo / substantivo
- B) substantivo / adjetivo / adjetivo
- C) adjetivo / substantivo / adjetivo
- D) adjetivo / substantivo / numeral
- E) substantivo / substantivo / substantivo

Questão 03 (Peso 3)

Atente para a fala de Calvin no quadrinho 4: “Na verdade é difícil discutir com alguém que parece tão feliz”.

Essa afirmação de Calvin foi feita por quê?

- A) Porque Haroldo, o tigre, olhava pensativo, Calvin e suas ambições.
- B) Porque Haroldo, o tigre, olhava contrariado, Calvin e suas ambições.
- C) Porque Haroldo, o tigre, gargalhava das frases ambiciosas de Calvin.
- D) Porque Haroldo, o tigre, escutava com atenção a fala ambiciosa de Calvin.
- E) Porque Haroldo, o tigre, dormia tranquilo enquanto Calvin falava sobre ambição.

**Concurso Público Destinado ao Preenchimento de Vagas da Prefeitura de Cruz das Almas
para Provimento de Cargos Efetivos – Edital nº 01/2019
Motorista de Veículos Leves – Código 206**

Leia o texto 2 para responder às questões 04 a 06.

Texto 2

O homem trocado

- O homem acorda da anestesia e olha em volta. Ainda está na sala de recuperação. Há uma enfermeira do seu lado. Ele pergunta se foi tudo bem.
- Tudo perfeito – diz a enfermeira, sorrindo.
- Eu estava com medo desta operação...
- 5 - Por quê? Não havia risco nenhum.
- Comigo, sempre há risco. Minha vida tem sido uma série de enganos...
E conta que os enganos começaram com seu nascimento. Houve uma troca de bebês no berçário e ele foi criado até os dez anos por um casal de orientais, que nunca entenderam o fato de terem um filho claro com olhos redondos. Descoberto o erro, ele fora viver com seus verdadeiros pais.
- 10 Ou com sua verdadeira mãe, pois o pai abandonara a mulher depois que esta não soubera explicar o nascimento de um bebê chinês.
- E o meu nome? Outro engano.
- Seu nome não é Lírio?
- 15 - Era para ser Lauro. Se enganaram no cartório e...
Os enganos se sucediam. Na escola, vivia recebendo castigo pelo que não fazia. Fizera o vestibular com sucesso, mas não conseguira entrar na universidade. O computador se enganara, seu nome não apareceu na lista.
- Há anos que a minha conta do telefone vem com cifras incríveis. No mês
- 20 passado tive que pagar mais de R\$ 3 mil.
- O senhor não faz chamadas interurbanas?
- Eu não tenho telefone!
Conhecera sua mulher por engano. Ela o confundira com outro. Não foram felizes.
- Por quê?
- 25 - Ela me enganava.
Fora preso por engano. Várias vezes. Recebia intimações para pagar dívidas que não fazia. Até tivera uma breve, louca alegria, quando ouvira o médico dizer:
- O senhor está desenganado.
Mas também fora um engano do médico. Não era tão grave assim. Uma simples apendicite.
- 30 - Se você diz que a operação foi bem...
A enfermeira parou de sorrir.
- Apendicite? – perguntou hesitante.
- É. A operação era para tirar o apêndice.
- Não era para trocar de sexo?

VERÍSSIMO, Luís Fernando. Comédias para se ler na escola. Rio de Janeiro: Objetiva, 2001.

Questão 04 (Peso 2)

A crônica conta a história de um homem que acabou de sofrer uma cirurgia. O autor do texto busca apresentar uma narrativa que conta a história do paciente como algo

- A) feroz.
- B) trágico.
- C) maldoso.
- D) divertido.
- E) mentiroso.

Questão 05 (Peso 3)

Atente para a oração que está disponível no texto 2: “Até tivera uma breve, louca alegria, quando ouvira o médico dizer: - O senhor está desenganado” (linhas 27-28).

Por que o paciente ficou alegre ao saber que ia morrer?

- A) Porque a morte é o destino de todos.
- B) Porque era um engano e ele ficaria vivo.
- C) Porque ele era otimista e acreditava na cura.
- D) Porque terminariam seus problemas de enganos.
- E) Porque estava condicionado a ser enganado na vida.

Questão 06 (Peso 1)

O **desfecho** do texto 2 leva a concluir que

- A) o apêndice do paciente foi curado.
- B) o paciente pediu para mudar de sexo.
- C) a enfermeira indica um engano na cirurgia.
- D) a enfermeira pensou que era outro paciente.
- E) o paciente tranquilizou-se com as informações corretas.

**Concurso Público Destinado ao Preenchimento de Vagas da Prefeitura de Cruz das Almas
para Provimento de Cargos Efetivos – Edital nº 01/2019
Motorista de Veículos Leves – Código 206**

Questão 07 (Peso 2)

Analise os substantivos a seguir e numere a segunda coluna de acordo com a primeira.

- | | |
|-----------------|----------------|
| (1) Aumentativo | () barbicha |
| (2) Diminutivo | () colheraça |
| | () corpúsculo |
| | () rochedo |
| | () vidraça |

A alternativa que contém a sequência correta, de cima para baixo, é

- A) 2 1 2 1 1
- B) 2 1 2 1 2
- C) 2 2 1 2 1
- D) 1 2 2 2 2
- E) 1 1 2 2 2

Questão 08 (Peso 3)

Considerando a norma culta para o plural dos substantivos, analise as orações a seguir.

É uma delícia comer _____ nessa confeitaria.

Subi os _____ rapidamente.

Os _____ visitaram meu jardim.

Os _____ se revezaram no inquérito.

A alternativa que preenche, correta e sequencialmente, de cima para baixo, as lacunas dos trechos acima é

- A) pães de lós / degrais / beijas-flor / escrivãos
- B) pães de ló / degraus / beija-flores / escrivães
- C) pães de lós / degrais / beija-flores / escrivães
- D) pães de ló / degrais / beijas-flores / escrivãos
- E) pães de lós / degraus / beijas-flores / escrivãos

Questão 09 (Peso 2)

Observe os substantivos a seguir:

Cônsul Maestro Monge Príncipe
--

A alternativa que contém a flexão do gênero feminino dessas palavras de acordo com a norma culta é

- A) Cônsula / Maestra / Monja / Princeza
- B) Cônsula / Maestrina / Monja / Princeza
- C) Consulesa / Maestrina / Monjina / Princeza
- D) Consuleza / Maestra / Monjina / Princesa
- E) Consulesa / Maestrina / Monja / Princesa

Questão 10 (Peso 1)

Observe o período: A **horda** espreitava o público aguardando o momento da pilhagem.

A palavra grifada representa o coletivo de

- A) artistas.
- B) soldados.
- C) malfeitores.
- D) examinadores.
- E) instrumentistas.

Questão 11 (Peso 1)

O terreno, onde será construída uma escola, possui as seguintes dimensões: 10 m (na frente) e 10 m (no fundo). Na lateral direita, mede 20 m e na esquerda tem 20 m. O terreno tem a forma geométrica denominada

- A) círculo.
- B) trapézio.
- C) triângulo.
- D) quadrado.
- E) retângulo.

**Concurso Público Destinado ao Preenchimento de Vagas da Prefeitura de Cruz das Almas
para Provimento de Cargos Efetivos – Edital nº 01/2019
Motorista de Veículos Leves – Código 206**

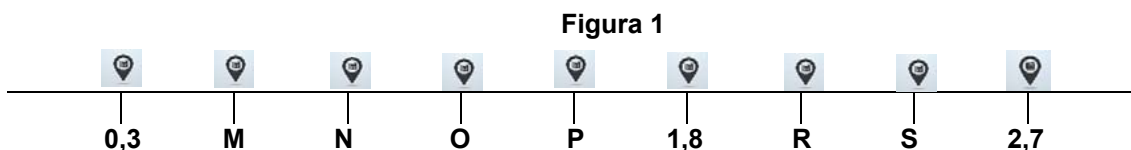
Questão 12 (Peso 1)

A Secretaria de Administração da Prefeitura Municipal de Cruz das Almas comprou 70 fardos de papel higiênico. Cada fardo contém 64 rolos de papel higiênico. Qual o total de rolos de papel higiênico que foi comprado?

- A) 70
- B) 4.200
- C) 4.480
- D) 134
- E) 64

Questão 13 (Peso 1)

Em uma rodovia, há vários telefones públicos que estão a mesma distância um do outro, conforme representado na figura 1.

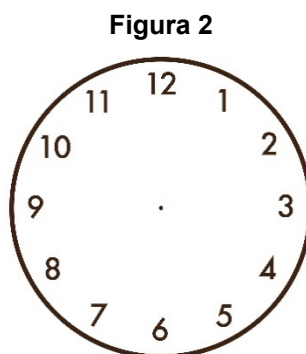


Considerando que a distância entre os telefones públicos é a mesma, a letra **N** representa que número?

- A) 1,0
- B) 0,9
- C) 0,8
- D) 0,6
- E) 0,5

Questão 14 (Peso 2)

Utilize o relógio apresentado na figura 2 para responder à questão.



João Batista tem uma hora e meia de almoço. Na segunda-feira, Ele iniciou o horário de almoço às 12:45. No horário de retorno ao trabalho, após o horário estabelecido para o almoço, o ponteiro dos minutos estava em que número do relógio apresentado na figura 2?

- A) 3
- B) 4
- C) 5
- D) 6
- E) 9

Questão 15 (Peso 2)

Uma Escola resolveu utilizar uma parte da sua área externa para cultivar uma horta. No planejamento da horta, foi decidido que $\frac{1}{3}$ da área seria ocupada por plantas medicinais e $\frac{1}{5}$ por verduras e a área restante por legumes.

Qual a área que foi destinada aos legumes?

- A) $\frac{1}{2}$
- B) $\frac{2}{8}$
- C) $\frac{3}{4}$
- D) $\frac{1}{4}$
- E) $\frac{7}{15}$

**Concurso Público Destinado ao Preenchimento de Vagas da Prefeitura de Cruz das Almas
para Provimento de Cargos Efetivos – Edital nº 01/2019
Motorista de Veículos Leves – Código 206**

Questão 16 (Peso 2)

No início do roteiro de um ônibus escolar da Prefeitura da Cidade Maravilhosa, que atende a estudantes de várias escolas, havia 25 estudantes. Na primeira parada, entraram 12. Na segunda parada, saíram 16. Quantos estudantes ficaram no ônibus depois da segunda parada?

- A) 9
- B) 13
- C) 16
- D) 21
- E) 37

Questão 17 (Peso 2)

Antônia está fazendo uma reforma na sua casa e foi à loja de material de construção para fazer o orçamento, que está apresentado na figura 3.

Figura 3

ORÇAMENTO	
<i>Areia</i> -----	<i>R\$ 500,00</i>
<i>Arenoso</i> -----	<i>R\$ 300,00</i>
<i>Cimento</i> -----	<i>R\$ 450,00</i>
Forma de pagamento: 5 vezes sem juros	

Considerando o orçamento apresentado na figura 3, e que Antônia compre todos os materiais nessa loja em cinco vezes sem juros, o valor de cada parcela será:

- A) R\$ 150,00
- B) R\$ 200,00
- C) R\$ 250,00
- D) R\$ 300,00
- E) R\$ 350,00

Questão 18 (Peso 3)

A Prefeitura Municipal de Monte Verde fez um processo de compra de 120 bombonas de 5 litros de desinfetante. O Fornecedor só tinha embalagem de 2 litros. Quantas embalagens de 2 litros devem ser entregues para manter a mesma quantidade de desinfetante comprada?

- A) 300
- B) 100
- C) 600
- D) 120
- E) 240

Questão 19 (Peso 3)

O valor líquido do salário de Dona Tereza é R\$ 1.200,00. No dia do recebimento do salário, antes do depósito ser feito, o saldo da conta estava negativo em 150 reais. Após o depósito do salário, foi descontado um cheque no valor de R\$ 230,00. Qual o saldo da Conta de Dona Tereza no final do dia?

- A) R\$ 380,00
- B) R\$ 820,00
- C) R\$ 970,00
- D) R\$ 1.050,00
- E) R\$ 1.120,00

Questão 20 (Peso 3)

Na embalagem de um determinado produto concentrado, está escrito que, para preparar um litro de produto diluído, deve-se, para cada parte do produto concentrado, adicionar 4 partes de água. A fração de água que compõem um litro de produto diluído é

- A) 1/4
- B) 1/5
- C) 3/4
- D) 4/5
- E) 4/10

**Concurso Público Destinado ao Preenchimento de Vagas da Prefeitura de Cruz das Almas
para Provimento de Cargos Efetivos – Edital nº 01/2019
Motorista de Veículos Leves – Código 206**

CONHECIMENTOS ESPECÍFICOS (QUESTÕES DE 21 A 30)

Questão 21 (Peso 1)

De acordo com o Código de Trânsito Brasileiro, Lei nº 9.503, de 23 de dezembro de 1997, e suas alterações posteriores, _____, “[...] o condutor deverá sair da via pelo lado esquerdo, aproximar-se o máximo possível de seu eixo ou da linha divisória da pista, quando houver, caso se trate de uma pista com circulação nos dois sentidos, ou do bordo esquerdo, tratando-se de uma pista de um só sentido” (BRASIL, 1998, p. 14).

A alternativa que preenche, corretamente, a lacuna do trecho acima é

- A) depois de realizar uma ultrapassagem
- B) antes de iniciar a manobra de ultrapassagem
- C) ao afastar-se do usuário que tenta lhe ultrapassar
- D) antes de entrar à esquerda, em outra via ou em lotes lindeiros
- E) antes de entrar à direita, em outra via ou lotes lindeiros

Questão 22 (Peso 1)

Sobre o uso de luzes em veículo, de acordo com o Código de Trânsito Brasileiro, Lei nº 9.503, de 23 de setembro de 1997, e suas alterações posteriores, é correto afirmar que

- A) o condutor deve usar luz alta ao cruzar com outro veículo ou ao segui-lo.
- B) o condutor manterá acesos os faróis do veículo, utilizando luz baixa, durante a noite nas vias não iluminadas.
- C) o condutor manterá acesos os faróis do veículo, utilizando luz baixa durante a noite, e, durante o dia, nos túneis providos de iluminação pública.
- D) o condutor manterá acesos os faróis do veículo, utilizando luz baixa, durante a noite e durante o dia nos túneis providos de iluminação pública e nas rodovias.
- E) o condutor manterá acesos os faróis do veículo, utilizando luz baixa durante a noite e durante o dia nos túneis desprovidos de iluminação pública e nas rodovias.

Questão 23 (Peso 1)

De acordo com o anexo I do Código de Trânsito Brasileiro, considera-se estrada

- A) a via rural pavimentada.
- B) a via rural não pavimentada.
- C) a via rural que possui interseções em nível não semaforizadas, destinada apenas ao acesso local.
- D) a via caracterizada por interseções em nível, geralmente controlada por semáforo, com acessibilidade aos lotes lindeiros, possibilitando o trânsito entre cidades.
- E) a via destinada a coletar e distribuir o trânsito que tenha necessidade de entrar ou sair das vias de trânsito rápido ou arteriais, possibilitando o trânsito dentro das regiões da cidade.

Questão 24 (Peso 2)

Dirigindo com seu veículo ao supermercado, um condutor estaciona na vaga destinada a cadeirantes, pois necessita com urgência comprar produtos de higiene para sua tia que é cadeirante e está em casa aguardando seu retorno. O fiscal do estacionamento do supermercado vê a cena e tenta advertir o condutor sobre a necessidade de liberar a vaga para o cliente que efetivamente possa usá-la e o mesmo ignora-o. Assim sendo, uma viatura com dois Agentes da autoridade de trânsito em rondas adentra ao estacionamento do referido estabelecimento e constata a infração. A alternativa que contém a conduta mais adequada dos Agentes de Trânsito é

- A) aguardar o condutor do veículo chegar e recolher sua carteira de habilitação.
- B) perguntar ao fiscal do estacionamento a placa do veículo e realizar a autuação.
- C) responde ao fiscal do estabelecimento que é uma área privada e eles não podem fazer nada.
- D) verificar pelas câmeras de segurança do estabelecimento uma foto do veículo para, posteriormente, autuar.
- E) autuar o veículo que está ocupando a vaga sem que esteja apresentando cartão de portador de necessidades especiais e remover o veículo ao pátio público.

Questão 25 (Peso 2)






Um condutor apressado para ir a uma farmácia na busca de um medicamento em função de atender necessidade urgente de sua família, trafega sobre o passeio e, em seguida, estaciona sobre ele. Nesta situação, é correto afirmar que o condutor

- A) comete infrações de natureza média.
- B) comete infrações apenas de natureza grave.
- C) está sujeito a perder sete pontos no prontuário.
- D) não está sujeito a qualquer medida administrativa.
- E) comete infrações de natureza gravíssima e grave, respectivamente.

**Concurso Público Destinado ao Preenchimento de Vagas da Prefeitura de Cruz das Almas
para Provimento de Cargos Efetivos – Edital nº 01/2019
Motorista de Veículos Leves – Código 206**

Questão 26 (Peso 2)

A alternativa que contém a sinalização que indica peso limitado por eixo é

- A) 
- B) 
- C) 
- D) 
- E) 

Questão 27 (Peso 2)

De acordo com o Código de Trânsito Brasileiro, Lei nº 9.503, de 23 de setembro de 1997, e suas alterações posteriores, sobre a velocidade máxima permitida para as vias, onde não existem sinalização regulamentadora, é correto afirmar que

- A) nas estradas, será de 80 km/h.
B) nas vias locais urbanas, será de 40 Km/h.
C) nas vias arteriais urbanas, será de 60 Km/h.
D) nas pistas simples da zona rural, será de 80 km /k para veículos pesados.
E) nas vias rurais, de pista dupla, será de 110 km/h para veículos leves e 80 km/h para os demais veículos.

Questão 28 (Peso 3)

Sobre os crimes em espécie, é correto afirmar que

- A) no homicídio culposo cometido na direção de veículo automotor, a pena é aumentada de 1/2 à 2/3 se praticado no cruzamento de via.
B) quando o condutor do veículo se afasta do local de acidente fugindo à responsabilidade civil, sujeita-se a pena de seis meses a dois anos ou multa.
C) praticar homicídio culposo na direção veicular resulta em pena de detenção de dois a quatro anos, e suspensão ou proibição de se obter a permissão ou a habilitação para dirigir veículo automotor.
D) no homicídio culposo cometido na direção de veículo automotor, a pena é aumentada para quatro anos, se o condutor, no exercício de sua profissão ou atividade, estiver conduzindo veículo de transporte de passageiro.
E) deixar o condutor de prestar, na ocasião de acidente, socorro à vítima, ou, não podendo fazê-lo diretamente, por justa causa deixar de solicitar auxílio da autoridade pública, fica sujeito a pena de prisão de um a três anos ou multa.

Questão 29 (Peso 3)

De acordo com o Código de Trânsito Brasileiro, Lei nº 9.503, de 23 de setembro de 1997, e suas alterações posteriores, o condutor que, envolvido em acidente com vítima, deixar de prestar ou providenciar socorro à vítima, comete uma infração _____, cuja(s) penalidade(s) é(são) _____ e a(s) medida(s) administrativa(s) é (são) _____.

A alternativa que preenche, correta e sequencialmente, as lacunas do trecho acima é

- A) grave / multa (três vezes) / retenção do veículo até a apresentação de condutor habilitado
B) gravíssima / multa (cinco vezes) e suspensão do direito de dirigir / recolhimento do documento de habilitação
C) gravíssima / multa (dez vezes) e suspensão do direito de dirigir / recolhimento do documento de habilitação
D) grave / multa (cinco vezes) / recolhimento da carteira de habilitação até a apresentação do condutor na delegacia
E) gravíssima / multa (dez vezes) e suspensão do direito de dirigir / retenção do veículo e recolhimento do documento de habilitação

**Concurso Público Destinado ao Preenchimento de Vagas da Prefeitura de Cruz das Almas
para Provimento de Cargos Efetivos – Edital nº 01/2019
Motorista de Veículos Leves – Código 206**

Questão 30 (Peso 3)

De acordo com o Código de Trânsito Brasileiro, Lei nº 9.503, de 23 de setembro de 1997, e suas alterações posteriores, o condutor que estaciona o veículo no passeio ou sobre faixa destinada a pedestre, comete infração de natureza:

- A) grave, cuja medida administrativa é remoção do veículo.
- B) gravíssima, cuja penalidade é multa (três vezes).
- C) média, cuja penalidade é remoção do veículo.
- D) grave, cuja penalidade é remoção do veículo.
- E) leve, cuja penalidade é multa.