

CONHECIMENTOS GERAIS (QUESTÕES DE 01 A 20)

Leia o texto 1 para responder às questões de 01 a 03.

Texto 1



Calvin e Haroldo - Bill Watterson.

Questão 01 (Peso 1)

Contemple as palavras retiradas da tirinha de Calvin apresentada no texto 1: **pudesse** (quadrinho 1), **ensolarado** (quadrinho 2), **isso** (quadrinho 3) e **suponha** (quadrinho 3).

A alternativa que apresenta, correta e sequencialmente, o número correto de sílabas das palavras grifadas é

- A) 3 sílabas / 5 sílabas / 2 sílabas / 3 sílabas
- B) 2 sílabas / 3 sílabas / 2 sílabas / 3 sílabas
- C) 3 sílabas / 5 sílabas / 3 sílabas / 2 sílabas
- D) 2 sílabas / 4 sílabas / 2 sílabas / 2 sílabas
- E) 3 sílabas / 4 sílabas / 3 sílabas / 2 sílabas

Questão 02 (Peso 2)

No segundo quadrinho, temos a frase: “Um **campo** bem **grande** e **ensolarado**”.

As palavras grifadas, na ordem em que aparecem, pertencem, respectivamente, às classes gramaticais:

- A) artigo / artigo / substantivo
- B) substantivo / adjetivo / adjetivo
- C) adjetivo / substantivo / adjetivo
- D) adjetivo / substantivo / numeral
- E) substantivo / substantivo / substantivo

Questão 03 (Peso 3)

Atente para a fala de Calvin no quadrinho 4: “**Na verdade é difícil discutir com alguém que parece tão feliz**”.

Essa afirmação de Calvin foi feita por quê?

- A) Porque Haroldo, o tigre, olhava pensativo, Calvin e suas ambições.
- B) Porque Haroldo, o tigre, olhava contrariado, Calvin e suas ambições.
- C) Porque Haroldo, o tigre, gargalhava das frases ambiciosas de Calvin.
- D) Porque Haroldo, o tigre, escutava com atenção a fala ambiciosa de Calvin.
- E) Porque Haroldo, o tigre, dormia tranquilo enquanto Calvin falava sobre ambição.

**Concurso Público Destinado ao Preenchimento de Vagas da Prefeitura de Cruz das Almas
para Provimento de Cargos Efetivos – Edital nº 01/2019
Operador de Retroescavadeira – Código 209**

Leia o texto 2 para responder às questões 04 a 06.

Texto 2

O homem trocado

- O homem acorda da anestesia e olha em volta. Ainda está na sala de recuperação. Há uma enfermeira do seu lado. Ele pergunta se foi tudo bem.
- Tudo perfeito – diz a enfermeira, sorrindo.
- Eu estava com medo desta operação...
- 5 - Por quê? Não havia risco nenhum.
- Comigo, sempre há risco. Minha vida tem sido uma série de enganos...
E conta que os enganos começaram com seu nascimento. Houve uma troca de bebês no berçário e ele foi criado até os dez anos por um casal de orientais, que nunca entenderam o fato de terem um filho claro com olhos redondos. Descoberto o erro, ele fora viver com seus verdadeiros pais.
- 10 Ou com sua verdadeira mãe, pois o pai abandonara a mulher depois que esta não soubera explicar o nascimento de um bebê chinês.
- E o meu nome? Outro engano.
- Seu nome não é Lírio?
- 15 - Era para ser Lauro. Se enganaram no cartório e...
Os enganos se sucediam. Na escola, vivia recebendo castigo pelo que não fazia. Fizera o vestibular com sucesso, mas não conseguira entrar na universidade. O computador se enganara, seu nome não apareceu na lista.
- Há anos que a minha conta do telefone vem com cifras incríveis. No mês
- 20 passado tive que pagar mais de R\$ 3 mil.
- O senhor não faz chamadas interurbanas?
- Eu não tenho telefone!
Conhecera sua mulher por engano. Ela o confundira com outro. Não foram felizes.
- Por quê?
- 25 - Ela me enganava.
Fora preso por engano. Várias vezes. Recebia intimações para pagar dívidas que não fazia. Até tivera uma breve, louca alegria, quando ouvira o médico dizer:
- O senhor está desenganado.
Mas também fora um engano do médico. Não era tão grave assim. Uma simples apendicite.
- 30 - Se você diz que a operação foi bem...
A enfermeira parou de sorrir.
- Apendicite? – perguntou hesitante.
- É. A operação era para tirar o apêndice.
- Não era para trocar de sexo?

VERÍSSIMO, Luís Fernando. Comédias para se ler na escola. Rio de Janeiro: Objetiva, 2001.

Questão 04 (Peso 2)

A crônica conta a história de um homem que acabou de sofrer uma cirurgia. O autor do texto busca apresentar uma narrativa que conta a história do paciente como algo

- A) feroz.
- B) trágico.
- C) maldoso.
- D) divertido.
- E) mentiroso.

Questão 05 (Peso 3)

Atente para a oração que está disponível no texto 2: “Até tivera uma breve, louca alegria, quando ouvira o médico dizer:- O senhor está desenganado” (linhas 27-28).

Por que o paciente ficou alegre ao saber que ia morrer?

- A) Porque a morte é o destino de todos.
- B) Porque era um engano e ele ficaria vivo.
- C) Porque ele era otimista e acreditava na cura.
- D) Porque terminariam seus problemas de enganos.
- E) Porque estava condicionado a ser enganado na vida.

Questão 06 (Peso 1)

O **desfecho** do texto 2 leva a concluir que

- A) o apêndice do paciente foi curado.
- B) o paciente pediu para mudar de sexo.
- C) a enfermeira indica um engano na cirurgia.
- D) a enfermeira pensou que era outro paciente.
- E) o paciente tranquilizou-se com as informações corretas.

**Concurso Público Destinado ao Preenchimento de Vagas da Prefeitura de Cruz das Almas
para Provimento de Cargos Efetivos – Edital nº 01/2019
Operador de Retroescavadeira – Código 209**

Questão 07 (Peso 2)

Analise os substantivos a seguir e numere a segunda coluna de acordo com a primeira.

- | | |
|-----------------|----------------|
| (1) Aumentativo | () barbicha |
| (2) Diminutivo | () colheraça |
| | () corpúsculo |
| | () rochedo |
| | () vidraça |

A alternativa que contém a sequência correta, de cima para baixo, é

- A) 2 1 2 1 1
- B) 2 1 2 1 2
- C) 2 2 1 2 1
- D) 1 2 2 2 2
- E) 1 1 2 2 2

Questão 08 (Peso 3)

Considerando a norma culta para o plural dos substantivos, analise as orações a seguir.

É uma delícia comer _____ nessa confeitaria.

Subi os _____ rapidamente.

Os _____ visitaram meu jardim.

Os _____ se revezaram no inquérito.

A alternativa que preenche, correta e sequencialmente, de cima para baixo, as lacunas dos trechos acima é

- A) pães de lós / degrais / beijas-flor / escrivãos
- B) pães de ló / degraus / beija-flores / escrivães
- C) pães de lós / degrais / beija-flores / escrivães
- D) pães de ló / degrais / beijas-flores / escrivãos
- E) pães de lós / degraus / beijas-flores / escrivãos

Questão 09 (Peso 2)

Observe os substantivos a seguir:

Cônsul Maestro Monge Príncipe
--

A alternativa que contém a flexão do gênero feminino dessas palavras de acordo com a norma culta é

- A) Cônsula / Maestra / Monja / Princeza
- B) Cônsula / Maestrina / Monja / Princeza
- C) Consulesa / Maestrina / Monjina / Princeza
- D) Consuleza / Maestra / Monjina / Princesa
- E) Consulesa / Maestrina / Monja / Princesa

Questão 10 (Peso 1)

Observe o período: A **horda** espreitava o público aguardando o momento da pilhagem.

A palavra grifada representa o coletivo de

- A) artistas.
- B) soldados.
- C) malfeitores.
- D) examinadores.
- E) instrumentistas.

Questão 11 (Peso 1)

O terreno, onde será construída uma escola, possui as seguintes dimensões: 10 m (na frente) e 10 m (no fundo). Na lateral direita, mede 20 m e na esquerda tem 20 m. O terreno tem a forma geométrica denominada

- A) círculo.
- B) trapézio.
- C) triângulo.
- D) quadrado.
- E) retângulo.

**Concurso Público Destinado ao Preenchimento de Vagas da Prefeitura de Cruz das Almas
para Provimento de Cargos Efetivos – Edital nº 01/2019
Operador de Retroescavadeira – Código 209**

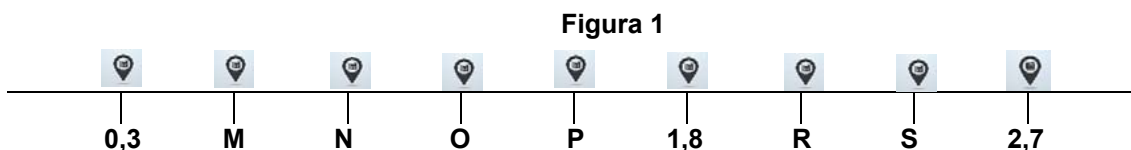
Questão 12 (Peso 1)

A Secretaria de Administração da Prefeitura Municipal de Cruz das Almas comprou 70 fardos de papel higiênico. Cada fardo contém 64 rolos de papel higiênico. Qual o total de rolos de papel higiênico que foi comprado?

- A) 70
- B) 4.200
- C) 4.480
- D) 134
- E) 64

Questão 13 (Peso 1)

Em uma rodovia, há vários telefones públicos que estão a mesma distância um do outro, conforme representado na figura 1.

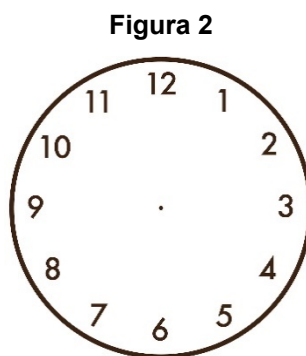


Considerando que a distância entre os telefones públicos é a mesma, a letra **N** representa que número?

- A) 1,0
- B) 0,9
- C) 0,8
- D) 0,6
- E) 0,5

Questão 14 (Peso 2)

Utilize o relógio apresentado na figura 2 para responder à questão.



João Batista tem uma hora e meia de almoço. Na segunda-feira, Ele iniciou o horário de almoço às 12:45. No horário de retorno ao trabalho, após o horário estabelecido para o almoço, o ponteiro dos minutos estava em que número do relógio apresentado na figura 2?

- A) 3
- B) 4
- C) 5
- D) 6
- E) 9

Questão 15 (Peso 2)

Uma Escola resolveu utilizar uma parte da sua área externa para cultivar uma horta. No planejamento da horta, foi decidido que $\frac{1}{3}$ da área seria ocupada por plantas medicinais e $\frac{1}{5}$ por verduras e a área restante por legumes.

Qual a área que foi destinada aos legumes?

- A) $\frac{1}{2}$
- B) $\frac{2}{8}$
- C) $\frac{3}{4}$
- D) $\frac{1}{4}$
- E) $\frac{7}{15}$

**Concurso Público Destinado ao Preenchimento de Vagas da Prefeitura de Cruz das Almas
para Provimento de Cargos Efetivos – Edital nº 01/2019
Operador de Retroescavadeira – Código 209**

Questão 16 (Peso 2)

No início do roteiro de um ônibus escolar da Prefeitura da Cidade Maravilhosa, que atende a estudantes de várias escolas, havia 25 estudantes. Na primeira parada, entraram 12. Na segunda parada, saíram 16. Quantos estudantes ficaram no ônibus depois da segunda parada?

- A) 9
- B) 13
- C) 16
- D) 21
- E) 37

Questão 17 (Peso 2)

Antônia está fazendo uma reforma na sua casa e foi à loja de material de construção para fazer o orçamento, que está apresentado na figura 3.

Figura 3

ORÇAMENTO	
<i>Areia</i> -----	<i>R\$ 500,00</i>
<i>Arenoso</i> -----	<i>R\$ 300,00</i>
<i>Cimento</i> -----	<i>R\$ 450,00</i>
Forma de pagamento: 5 vezes sem juros	

Considerando o orçamento apresentado na figura 3, e que Antônia compre todos os materiais nessa loja em cinco vezes sem juros, o valor de cada parcela será:

- A) R\$ 150,00
- B) R\$ 200,00
- C) R\$ 250,00
- D) R\$ 300,00
- E) R\$ 350,00

Questão 18 (Peso 3)

A Prefeitura Municipal de Monte Verde fez um processo de compra de 120 bombonas de 5 litros de desinfetante. O Fornecedor só tinha embalagem de 2 litros. Quantas embalagens de 2 litros devem ser entregues para manter a mesma quantidade de desinfetante comprada?

- A) 300
- B) 100
- C) 600
- D) 120
- E) 240

Questão 19 (Peso 3)

O valor líquido do salário de Dona Tereza é R\$ 1.200,00. No dia do recebimento do salário, antes do depósito ser feito, o saldo da conta estava negativo em 150 reais. Após o depósito do salário, foi descontado um cheque no valor de R\$ 230,00. Qual o saldo da Conta de Dona Tereza no final do dia?

- A) R\$ 380,00
- B) R\$ 820,00
- C) R\$ 970,00
- D) R\$ 1.050,00
- E) R\$ 1.120,00

Questão 20 (Peso 3)

Na embalagem de um determinado produto concentrado, está escrito que, para preparar um litro de produto diluído, deve-se, para cada parte do produto concentrado, adicionar 4 partes de água. A fração de água que compõem um litro de produto diluído é

- A) 1/4
- B) 1/5
- C) 3/4
- D) 4/5
- E) 4/10

**Concurso Público Destinado ao Preenchimento de Vagas da Prefeitura de Cruz das Almas
para Provimento de Cargos Efetivos – Edital nº 01/2019
Operador de Retroescavadeira – Código 209**

CONHECIMENTOS ESPECÍFICOS (QUESTÕES DE 21 A 30)

Questão 21 (Peso 1)

Com base na Norma Regulamentadora nº 11 (NR 11) – transporte, movimentação, armazenagem e manuseio de materiais, referente à Segurança do Trabalho, é correto afirmar que

- A) o cartão de identificação, com nome e fotografia, terá validade de dois anos.
- B) em todo equipamento será indicado, em lugar visível, a carga máxima de trabalho permitida.
- C) nos equipamentos de transporte motorizados, o sinal de advertência sonora (buzina) é dispensado.
- D) para os equipamentos destinados à movimentação de pessoas, não há exigências de condições especiais de segurança.
- E) os operadores de equipamentos de transporte motorizado deverão ser habilitados e, durante o horário de trabalho, não será necessário portarem um cartão de identificação.

Questão 22 (Peso 1)

Considerando a legislação vigente sobre segurança do trabalho no Brasil, com base na Norma Regulamentadora nº 6 (NR 6), sobre Equipamento de Proteção Individual (EPI), analise as assertivas e identifique com **V** as verdadeiras e com **F** as falsas.

- () Considera-se EPI todo dispositivo ou produto, de uso individual ou coletivo, utilizado pelo trabalhador, destinado à proteção de riscos suscetíveis de ameaçar a segurança e a saúde no trabalho.
- () A recomendação ao empregador do EPI adequado ao risco existente em determinada atividade compete ao Serviço Especializado em Engenharia de Segurança e em Medicina do Trabalho (SESMT).
- () A venda e a utilização do equipamento de proteção individual, de fabricação nacional ou importado, são permitidas com a indicação do Certificado de Aprovação (CA), expedido pelo órgão nacional competente.

A alternativa que contém a sequência correta, de cima para baixo, é

- A) V F F
- B) V F V
- C) F V F
- D) F V V
- E) F F F

Questão 23 (Peso 1)

Antes de começar qualquer escavação, sempre é uma boa ideia planejar o trabalho antecipadamente. Sobre os aspectos que precisam ser considerados antes da escavação real, analise as assertivas e identifique com **V** as verdadeiras e com **F** as falsas

- () Compreender todas as tarefas que espera realizar.
- () Ignorar o que será feito com o entulho (solo escavado).
- () Inspeccionar o canteiro de obra e observar qualquer perigo potencial na área.

A alternativa que contém a sequência correta, de cima para baixo, é

- A) F F V
- B) F V V
- C) V F V
- D) V V F
- E) V F F

Questão 24 (Peso 2)

Considerando as funções dos instrumentos da retroescavadeira, numere a segunda coluna de acordo com a primeira.

- | | |
|----------------|--|
| (1) Voltímetro | () Mostra o estado da bateria. |
| (2) Horímetro | () Mostra as horas e décimos de ora de operação do motor. |
| (3) Tacômetro | () Mostra a velocidade do motor em rotações por minuto (rpm). |

A alternativa que contém a sequência correta, de cima para baixo, é

- A) 2 1 3
- B) 2 3 1
- C) 3 2 1
- D) 1 3 2
- E) 1 2 3

**Concurso Público Destinado ao Preenchimento de Vagas da Prefeitura de Cruz das Almas
para Provimento de Cargos Efetivos – Edital nº 01/2019
Operador de Retroescavadeira – Código 209**

Questão 25 (Peso 2)

A cabine, compartimento do operador da retroescavadeira, traz conforto e grande visibilidade frontal e lateral, facilitando a operação. Neste compartimento, estão dispostos os sistemas de gerenciamento da máquina.

A alternativa que identifica um desses sistemas é

- A) faróis frontais.
- B) cilindro de levantamento.
- C) painel de instrumentos.
- D) engate da tração dianteira.
- E) reservatório de combustível.

Questão 26 (Peso 2)

A retroescavadeira é operada por quatro alavancas de controle diferentes. Sobre a operação das alavancas da retroescavadeira, é correto afirmar que

- A) mover a(s) alavanca(s) do estabilizador para a frente “ELEVA” o(s) estabilizador(es) da retroescavadeira.
- B) mover a(s) alavanca(s) do estabilizador para trás “ABAIXA” o(s) estabilizador(es) da retroescavadeira.
- C) para que a retroescavadeira esteja apropriadamente estabilizada quando em operação, os estabilizadores precisam estar elevados.
- D) duas alavancas são para a operação do estabilizador e as outras duas operam as funções de giro, da lança, do braço da caçamba e da caçamba.
- E) empurrar a alavanca da lança/giro para a frente “elevará” a vareta da lança e a caçamba. Puxar a alavanca para trás “abaixará” a lança, a vareta e a caçamba.

Questão 27 (Peso 2)

Ao escavar em inclinação, sempre que possível, a retroescavadeira deve ficar voltada para o _____.

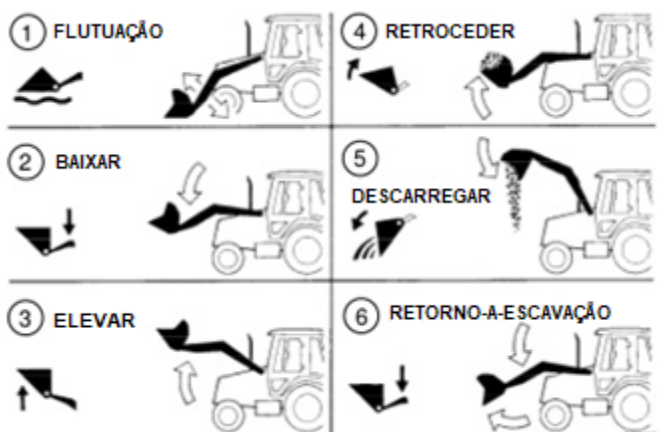
A alternativa que preenche, corretamente, a lacuna do trecho acima é

- A) active
- B) declive
- C) entulho
- D) arco de giro
- E) estabilizador

Questão 28 (Peso 3)

Na figura 4, encontra-se o controle do braço de elevação e da caçamba.

Figura 4



Considerando a figura 4, a alternativa que contém a operação que consiste em, após descarregar a caçamba, mover o controle para ROLLBACK (retração) e FLOAT (flutuação) é

- A) Elevar.
- B) Flutuação.
- C) Retroceder.
- D) Descarregar.
- E) Retorno-a-escavação.

**Concurso Público Destinado ao Preenchimento de Vagas da Prefeitura de Cruz das Almas
para Provimento de Cargos Efetivos – Edital nº 01/2019
Operador de Retroescavadeira – Código 209**

Questão 29 (Peso 3)

Uma das instruções de operação da retroescavadeira está nos cuidados em estacionar.

A alternativa que contém um dos cuidados do operador ao estacionar é

- A) colocar bloqueios na frente e atrás de cada pneu.
- B) abaixar a caçamba da carregadeira ao nível do solo.
- C) pressionar o pedal acelerador completamente até o fundo.
- D) girar a chave de ignição para a posição START e acionar o motor de arranque.
- E) acionar o freio de estacionamento e posicionar a alavanca de controle de direção para FRENTE.

Questão 30 (Peso 3)

Quando o nível do fluido hidráulico estiver baixo, uma pequena quantidade de fluido hidráulico permanecerá na parte inferior do visor do medidor. Esta condição não mostra um nível correto de fluido.

A alternativa que corresponde a quantidade de horas de operação para verificação do nível do fluido é a cada

- A) 50 horas de operação.
- B) 10 horas de operação.
- C) 100 horas de operação.
- D) 500 horas de operação.
- E) 1000 horas de operação.