



Departamento Estadual de Trânsito
DETRAN / RS

CONCURSO PÚBLICO Nº 01/2009

AUXILIAR TÉCNICO - ENFERMAGEM

INSTRUÇÕES

Leia atentamente e cumpra rigorosamente as instruções que seguem, pois elas são parte integrante das provas e normas que regem este Concurso Público.

1. Verifique se este caderno contém 80 questões. Caso contrário, solicite ao fiscal da sala a substituição do mesmo.
2. Cada questão oferece 5 (cinco) alternativas de respostas, representadas pelas letras **A, B, C, D, E**, sendo apenas 1 (uma) a resposta correta.
3. O tempo para a realização das provas é de 5 horas, incluindo o preenchimento da grade de respostas. O candidato só poderá retirar-se do recinto da prova, portando o caderno de provas, após 2 horas e 30 minutos do início da mesma. Os dois últimos candidatos deverão se retirar da sala de prova ao mesmo tempo, assinando a ata da sala.
4. Nenhuma informação sobre as instruções e/ou conteúdo das questões será dada pelo fiscal, pois são parte integrante da mesma.
5. No Caderno de Provas, o candidato poderá rabiscar, riscar, calcular, etc.
6. Os gabaritos preliminares serão divulgados no dia 18/05/2009, até as 15 horas na FUNDATEC, Rua Prof. Cristiano Fischer, nº 2012 e no site www.fundatec.com.br



LÍNGUA PORTUGUESA

Instrução: As questões de números **01** a **10** referem-se ao texto abaixo.

Trânsito vira fonte de energia

01 Já ouviu o ditado "Se você não pode vencê-lo, junte-se a ele"? Uma companhia israelense
02 do setor de energia, chamada **Innowattech**, parece estar levando ... frase ... sério. Cansada de ver a
03 situação do trânsito de veículos só piorar no mundo todo, a empresa resolveu dar uma utilidade sustentável
04 (por incrível que pareça!) ao problema.

05 A técnica é conhecida como piezeletricidade e promete transformar energia mecânica – como
06 aquela que é gerada com o impacto e com a pressão dos pneus dos carros no asfalto – em eletricidade. A
07 empresa garante que ..., ainda, muitas outras fontes de energia parecidas que _____ todos os dias,
08 como, por exemplo, o atrito dos aviões nas pistas de pouso e decolagem, dos metrô sobre os trilhos e, até
09 mesmo, dos pedestres nas calçadas.

10 Mas, para que o ciclo de _____ de energia seja possível, é _____ instalação de
11 geradores embaixo do asfalto. Segundo a Innowattech, um trecho de um quilômetro consegue produzir 100
12 quilowatts de eletricidade – energia suficiente para abastecer cerca de 40 casas. E o melhor é que os
13 horários de rush coincidem com os momentos de pico de energia, o que diminui as chances das pessoas
14 ficarem sem luz.

15 Nos próximos meses, a rodovia próxima a Tel Aviv, em Israel, vai ser testada com a nova técnica e,
16 se tudo der certo, em 2010 o mundo vai poder usufruir da novidade para, quem sabe, encontrar no trânsito
17 um pequeno consolo.

(http://super.abril.com.br/blogs/planeta/152577_post.shtml - 10/3/2009 - adaptação)

QUESTÃO 01 – Assinale a alternativa que completa correta e adequadamente as lacunas pontilhadas das linhas 02 e 07 do texto.

- A) a – a – a
- B) à – à – à
- C) a – a – há
- D) a – a – à
- E) à – à – há

QUESTÃO 02 – Marque a alternativa cujas expressões completam correta e respectivamente as lacunas tracejadas das linhas 07 e 10 do texto.

- A) desperdiçamos – conversão – necessária a
- B) desperdiçamos – conversão – necessário a
- C) desperdiçamos – converção – necessária a
- D) desperdiçamos – converção – necessário a
- E) desperdiçamos – conversão – necessária a

QUESTÃO 03 – Considerando as informações contidas no texto, pode-se afirmar que:

I – A transformação de energia mecânica em eletricidade é fato consumado. Segundo a empresa israelense, basta, apenas, instalar equipamentos em todos os carros e aviões.

II – Segundo a Innowattech, se o problema da falta de energia é de todos, todos devem ajudar na sua resolução. Assim, propôs o reaproveitamento da energia mecânica que não é utilizada pelos carros, aviões e metrô.

III – Para que os planos de transformação da energia mecânica em eletricidade pensados por uma empresa israelense transformem-se em realidade, é necessário, ainda, testes comprobatórios.

Quais estão corretas?

- A) Apenas a I.
- B) Apenas a II.
- C) Apenas a III.
- D) Apenas a I e a II.
- E) Apenas a II e a III.

QUESTÃO 04 – A expressão *embaixo* (l. 11), sem causar incorreção à estrutura, só **não** poderia ser substituída por

- A) abaixo.
- B) sob.
- C) por baixo.
- D) debaixo.
- E) alguém.

QUESTÃO 05 – Considere as seguintes afirmações acerca de palavras do texto.

I – Em *veículos* (l.03), o elemento grifado representa desinência de número.

II – Na palavra *conhecida* (l. 05) a letra grifada representa desinência de gênero.

III – Em *empresa* (l. 07), sublinhado está o dígrafo e em negrito o encontro consonantal.

Quais estão corretas?

- A) Apenas I.
- B) Apenas II.
- C) Apenas I e II.
- D) Apenas I e III.
- E) I, II e III.

QUESTÃO 06 – Sobre a palavra *Mas* (l. 10), é correto dizer que:

- I – Pode ser substituída por *porém*, *contudo*, *entretanto*.
 II – Introduz oração coordenada adversativa.
 III – Introduz idéia de oposição, de contraste.

Quais estão corretas?

- A) Apenas I.
 B) Apenas II.
 C) Apenas I e II.
 D) Apenas I e III.
 E) I, II e III.

QUESTÃO 07 – Ao utilizar a expressão *por incrível que pareça*, colocada entre parênteses na linha 04, o autor confere à informação a que se refere a idéia de

- A) aceitação.
 B) complacência.
 C) incredulidade.
 D) ingenuidade.
 E) insatisfação.

QUESTÃO 08 – “*Se você não pode vencê-lo, junte-se a ele.*” (l. 01). No texto, o uso desse ditado popular:

- I – Vai ao encontro do que a companhia israelense resolveu fazer.
 II – Vai de encontro com a pretensão da companhia israelense.
 III – Resume a idéia da companhia Innowattec no que se refere ao problema do trânsito de veículos.

Quais estão corretas?

- A) Apenas I.
 B) Apenas II.
 C) Apenas I e II.
 D) Apenas I e III.
 E) I, II e III.

QUESTÃO 09 – Caso a palavra *rodovia* (l. 15) fosse passada para o plural, quantas **outras** deveriam sofrer alteração para manter a correção do período em que se encontra?

- A) Uma.
 B) Duas.
 C) Três.
 D) Quatro.
 E) Cinco.

QUESTÃO 10 – A respeito da palavra *sustentável* (l. 03), afirma-se que:

- I – É um adjetivo derivado.
 II – O sufixo formador *-vel* indica ação, modo de ser.
 III – A palavra *susto* pertence à mesma família.

Quais estão **incorretas**?

- A) Apenas I.
 B) Apenas II.
 C) Apenas I e II.
 D) Apenas II e III.
 E) I, II e III.

Instrução: As questões de números 11 a 20 referem-se ao texto abaixo.

Semáforos solares para as ruas brasileiras!

01 O esbanjamento de eletricidade é tão grande e – infelizmente – tão natural na nossa sociedade que,
 02 todos os dias, presenciamos enormes gastos desnecessários de energia e nem sequer nos damos conta.
 03 Quer um exemplo? Semáforos! Afinal, eles passam 24 horas funcionando e não podem ser apagados em
 04 nenhum dia do ano.

05 Óbvio que não estamos sugerindo que os faróis de trânsito sejam extintos das ruas, há
 06 alternativas para diminuir – e até mesmo zerar – o consumo de energia elétrica nos semáforos. O uso de
 07 lâmpadas LEDs no lugar das incandescentes, por exemplo, já está sendo adotado em diversas cidades do
 08 mundo – inclusive brasileiras – e diminui bastante o uso da eletricidade (as lâmpadas incandescentes
 09 consomem 100 watts, enquanto as LEDs, de 15 a 20 watts).

10 A grande novidade, no entanto, está nas cidades de San Isidro, na Argentina, e Porto Príncipe, no
 11 Haiti, _____ as lâmpadas dos sinais de trânsito também foram trocadas por LEDs,, ao invés de serem
 12 abastecidas por energia elétrica, são alimentadas por painéis solares.

13 Além de cortar os gastos energéticos em 90%, **se** comparados aos faróis convencionais, os
 14 semáforos solares são 100% ecológicos e ainda ajudam a diminuir o trânsito das ruas _____ estão
 15 instalados. Monitorados via satélite, eles funcionam a partir do sistema wireless de internet, o que permite que
 16 os técnicos do trânsito alterem, a qualquer momento, o tempo de cada farol, de acordo com o tráfego.

17 A ideia ainda não chegou ao Brasil, a gente não vê a hora disso acontecer. Segundo dados da
 18 **CET**, só em São Paulo existem mais de 20 mil cruzamentos com semáforos. Dá pra imaginar o tamanho da
 19 economia?

(http://super.abril.com.br/blogs/planeta/162951_post.shtml 24-4-2009 - adaptação)

QUESTÃO 11 – De acordo com o texto, pode-se afirmar que:

I – O gasto de energia faz parte do nosso cotidiano de tal modo que nem o percebemos.

II – O uso de LEDs em lugar de lâmpadas nos faróis contribui para a melhora da iluminação pública.

III – A idéia de trocar LEDs por lâmpadas incandescentes ainda não chegou às cidades brasileiras.

Quais estão corretas?

- A) Apenas I.
- B) Apenas II.
- C) Apenas III.
- D) Apenas I e II.
- E) Apenas II e III.

QUESTÃO 12 – Analise as afirmações a seguir, relacionadas ao uso de elementos coesivos do texto.

I – As lacunas pontilhadas das linhas 05 e 11 podem ser preenchidas por *mas*, introduzindo orações adversativas.

II – Sem provocar qualquer incorreção às frases, as lacunas tracejadas das linhas 11 e 14 devem ser preenchidas por *em que*.

III – Na linha 13, a palavra **se** pode ser substituída por *caso* sem que ocorram alterações na estrutura da frase.

Quais estão corretas?

- A) Apenas I.
- B) Apenas II.
- C) Apenas III.
- D) Apenas I e II.
- E) Apenas II e III.

QUESTÃO 13 – Na primeira linha do texto, a estrutura *tão...que* estabelece entre as orações uma relação de

- A) conformidade.
- B) comparação.
- C) combinação.
- D) consequência.
- E) contradição.

QUESTÃO 14 – Analise as seguintes propostas de alterações no texto.

I – Deslocamento de *não* (l. 03) para antes de *ser*.

II – Supressão da palavra *já* (l. 07).

III – Substituição de *ainda* (l. 14) por *mesmo assim*.

Quais provocariam alteração no sentido das frases em que estão inseridas?

- A) Apenas I.
- B) Apenas II.
- C) Apenas I e II.
- D) Apenas II e III.
- E) I, II e III.

QUESTÃO 15 – Considere as propostas de substituição de palavras e expressões do texto.

I – A expressão *todos os dias* (l. 02) por *diariamente*.

II – *do ano* (l. 04) por *anual*.

III – *de trânsito* (l. 05) por *transitório*.

Quais das substituições acima mantêm o sentido que a expressão original tem no texto?

- A) Apenas I.
- B) Apenas II.
- C) Apenas I e II.
- D) Apenas II e III.
- E) I, II e III.

QUESTÃO 16 – Analise a frase a seguir e as propostas de reescritura que a seguem.

Monitorados via satélite, eles funcionam a partir do sistema wireless de internet, o que permite que os técnicos do trânsito alterem, a qualquer momento, o tempo de cada farol, de acordo com o tráfego.

I – Eles, monitorados via satélite, funcionam a partir do sistema wireless de internet, o qual permite que os técnicos do trânsito alterem, a qualquer instante, o tempo de cada sinaleira, de acordo com o tráfego.

II – Monitorados via satélite, eles funcionam conforme previsto pelo sistema wireless de internet, que torna possível que os técnicos do trânsito alterem, a todo momento, o tempo de cada farol, de acordo com o tráfego.

III – Eles funcionam a partir do sistema wireless de internet, que é monitorado via satélite, o qual permite que os técnicos do trânsito alterem, conforme o tráfego, a qualquer momento, o tempo de cada farol.

Quais mantêm o sentido expresso no período original?

- A) Apenas a I.
- B) Apenas a II.
- C) Apenas a I e a II.
- D) Apenas a II e a III.
- E) I, II e III.

QUESTÃO 17 – Em relação ao uso da expressão *a gente* na frase *mas a gente não vê a hora disso acontecer* (l. 17), afirma-se que:

I – É expressão característica da linguagem coloquial.

II – Considerando o padrão culto da língua portuguesa, a expressão *a gente* assumiria a forma *nós*, provocando alteração na forma verbal.

III – No contexto em que ocorre, poderia ser substituída por *os brasileiros*, sendo necessário ajuste na frase para manter a correção.

Quais estão corretas?

- A) Apenas a I.
- B) Apenas a II.
- C) Apenas a I e a II.
- D) Apenas a II e a III.
- E) I, II e III.

QUESTÕES 18 – Sobre a palavra *até* (l. 06) é correto dizer que:

- A) Recebe acento gráfico por ser oxítona terminada em e.
- B) Sem o acento gráfico não representa outro vocábulo da língua portuguesa.
- C) É acentuada por ser monossílabo tônica.
- D) É acentuada por ser paroxítona.
- E) Sendo monossílabo, não deveria ser acentuada.

QUESTÃO 19 - Sobre os travessões utilizados nas linhas 01, 06 e 08, afirma-se que:

- I – São utilizados em função da mesma regra.
- II – Podem ser substituídos por parênteses.
- III – Poderiam ser retirados sem provocar incorreção às frases.

Quais estão corretas?

- A) Apenas I.
- B) Apenas II.
- C) Apenas I e II.
- D) Apenas II e III.
- E) I, II e III.

QUESTÃO 20 – Analise as seguintes propostas de transposição da frase *presenciamos enormes gastos desnecessários de energia* (l. 02) da voz ativa para a passiva.

- I – Enormes gastos desnecessários de energia são presenciados por nós.
- II – Presenciaram-se grandes gastos de energia.
- III – Enormes gastos desnecessários de energia presenciamos.

Quais das propostas acima estão corretas?

- A) Apenas I.
- B) Apenas II.
- C) Apenas I e II.
- D) Apenas II e III.
- E) I, II e III.

INFORMÁTICA

Para a resolução das questões desta prova, considere os seguintes detalhes: (1) o mouse está configurado para uma pessoa que o utiliza com a mão direita (destro) e usa, com maior frequência, o botão esquerdo, que possui as funcionalidades de seleção ou arrastar normal, dentre outras. O botão da direita serve para ativar o menu de contexto ou arrastar especial; (2) os programas utilizados nesta prova foram instalados com todas as suas configurações padrão, entretanto, caso tenham sido realizadas alterações significativas nestas configurações elas serão alertadas no texto da questão ou mostradas visualmente, se necessário; e (3) no enunciado e respostas de algumas questões existem palavras que foram digitadas entre aspas, apenas para destacá-las. Neste caso, para resolver as questões, desconsidere as aspas e atente somente para o texto propriamente dito.

As questões 21 e 22 baseiam-se nas Figuras 1(a) e 1(b), do Windows XP. A Figura 1(a) mostra a janela principal do Windows Explorer. A Figura 1(b), mostra um menu do Windows XP, ativado a partir da Figura 1(a).



Figura 1(a) - Windows Explorer

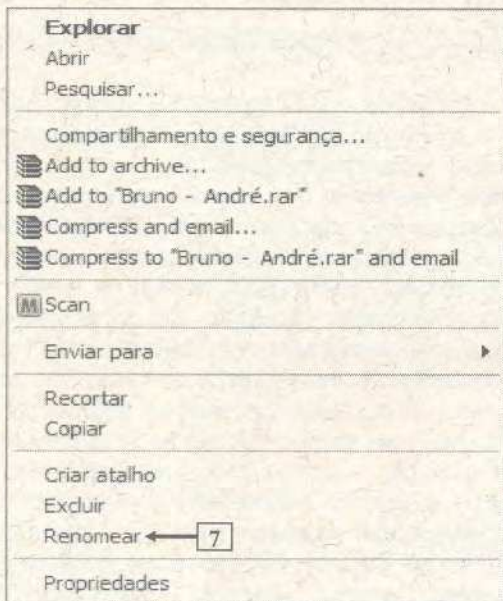


Figura 1(b) - Menu do Windows XP

QUESTÃO 21 – Na janela principal do Windows Explorer, a seta nº 4 aponta para uma pasta cujo nome está selecionado e envolto por um retângulo. Para se conseguir esse mesmo efeito, na pasta apontada pela seta nº 5, basta realizar, sobre ela, sequencialmente, as seguintes atividades:

I - (1) posicionar o cursor do mouse exatamente sobre o local apontado pela seta nº 6; (2) dar um clique, no botão direito do mouse, para que seja mostrado o menu da Figura 1(b); e (3) dar um clique, com o botão esquerdo do mouse, sobre a opção apontada pela seta nº 7 (Figura 1(b)).

II - (1) selecionar a pasta apontada pela seta nº 5; (2) posicionar o cursor do mouse exatamente sobre o local apontado pela seta nº 6; e (3) dar um clique no botão esquerdo do mouse.

III - (1) pressionar uma vez a tecla ESC, do teclado; (2) pressionar uma vez a seta de direção do teclado que aponta para baixo (↓); e (3) pressionar uma vez a tecla ENTER, do teclado.

Quais estão corretas?

- A) Apenas a I.
- B) Apenas a II.
- C) Apenas a I e a II.
- D) Apenas a I e a III.
- E) A I, a II e a III.

QUESTÃO 22 – Na janela principal do Windows Explorer, mostrada na Figura 1(a), caso seja pressionada várias vezes a tecla ESC e a seguir dado dois cliques, com o botão esquerdo do mouse, sobre o ícone apontado pela seta nº 1, pode-se afirmar que:

- A) será selecionada a pasta apontada pela seta nº 2.
- B) continuará selecionada a pasta apontada pela seta nº 4.
- C) será selecionada a pasta "p1".
- D) será selecionada a pasta "alg".
- E) será selecionada a pasta "Geral".

A questão 23 baseia-se na Figura 2, do Word 2002, a partir da qual se pode observar que está sendo elaborado um documento, no qual parte do texto encontra-se selecionado.

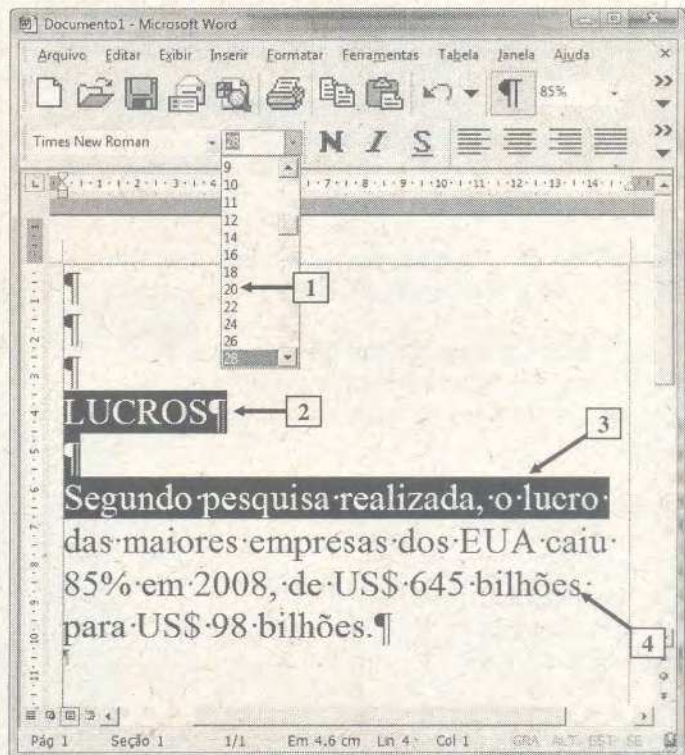


Figura 2 - Janela principal do Word 2002

QUESTÃO 23 – Na janela do Word 2002 (Figura 2), se for dado um clique, com o botão esquerdo do mouse, exatamente sobre o número 20, apontado pela seta nº 1, pode-se afirmar que:

I - a palavra apontada pela seta nº 2 passará a ter fonte de tamanho 20.

II - todo o texto selecionado, apontada pela seta nº 3, passará a ter fonte de tamanho 20.

III - todo o parágrafo, apontada pela seta nº 4, passará a ter fonte de tamanho 20.

Quais estão corretas?

- A) Apenas a I.
- B) Apenas a III.
- C) Apenas a I e a II.
- D) Apenas a I e a III.
- E) A I, a II e a III.

As questões 24 e 25 baseiam-se na Figura 3, do Word 2002, a partir da qual se pode observar que está sendo elaborado um documento. Nessa Figura observam-se os seguintes detalhes: (1) a seta nº 3 aponta para o ponto de inserção de texto, no formato de uma barra vertical ("I"); e (2) a seta nº 5 aponta para uma palavra sob a qual há um sublinhado ondulado na cor vermelha.



Figura 3 - Janela principal do Word 2002

QUESTÃO 24 – Ao ser digitado o texto mostrado na Figura 3, o Word 2002 inseriu, automaticamente, sob a palavra apontada pela seta nº 5, um sublinhado ondulado na cor vermelha. Este sublinhado, indica que esta palavra:

- A) foi escrita de forma incorreta.
- B) está incorretamente flexionada.
- C) é de origem estrangeira, tendo sido encontrada em um dos dicionários do Word 2002.
- D) não foi encontrada em um dos dicionários do Word 2002, podendo ter sido escrita incorretamente.
- E) não foi encontrada em um dos dicionários do Word 2002, podendo haver erro de concordância gramatical.

QUESTÃO 25 – Na janela principal do Word 2002 (Figura 3), se for dado um clique, com o botão esquerdo do mouse sobre o ícone apontado pela seta nº 1, pode-se afirmar que:

- I - será apagada a palavra apontada pela seta nº 4.
- II - será ocultada a marca de formatação apontada pela seta nº 2.
- III - todo o parágrafo apontado pela seta nº 6 continuará a ter o alinhamento justificado.

Quais estão corretas?

- A) Apenas a I.
- B) Apenas a II.
- C) Apenas a III.
- D) Apenas a II e a III.
- E) A I, a II e a III.

A questão 26 baseia-se nas Figuras 4(a) e 4(b), do Word 2002. A Figura 4(a) mostra, intencionalmente, apenas, parte da janela principal do Word 2002, na qual encontra-se sendo elaborado um documento. A Figura 4(b) mostra a caixa de diálogo "Idioma", ativada a partir da Figura 4(a).

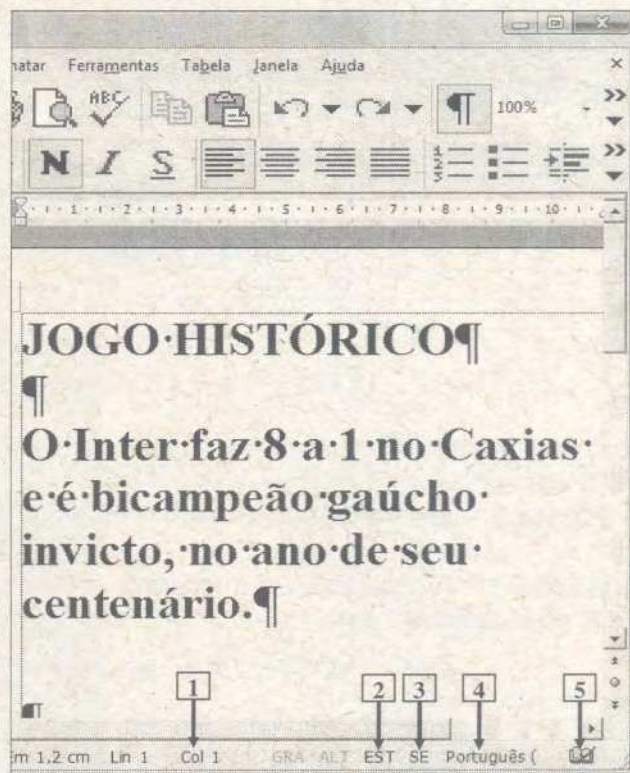


Figura 4(a) - Janela principal do Word 2002

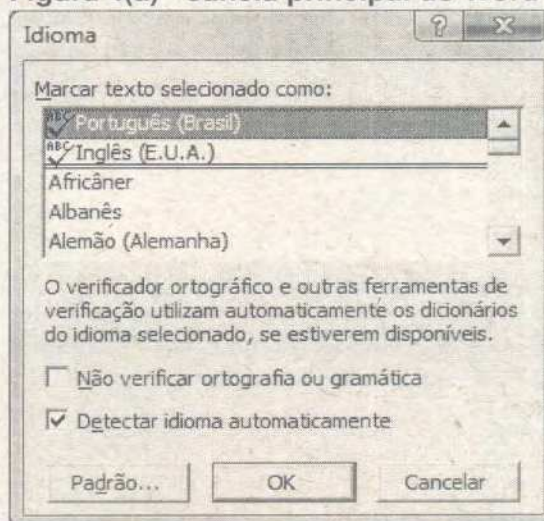


Figura 4(b) - Caixa de diálogo "Idioma"

QUESTÃO 26 – Para ativar a caixa de diálogo "Idioma", mostrada na Figura 4(b), bastou, na janela principal do Word 2002 (Figura 4(a)), dar dois cliques, com o botão esquerdo do mouse, sobre o local apontado pela seta nº

- A) 1.
- B) 2.
- C) 3.
- D) 4.
- E) 5.

As questões 27, 28 e 29 baseiam-se na Figura 5, que mostra a janela principal do Excel 2002, a partir da qual se pode observar que está sendo elaborado um documento.

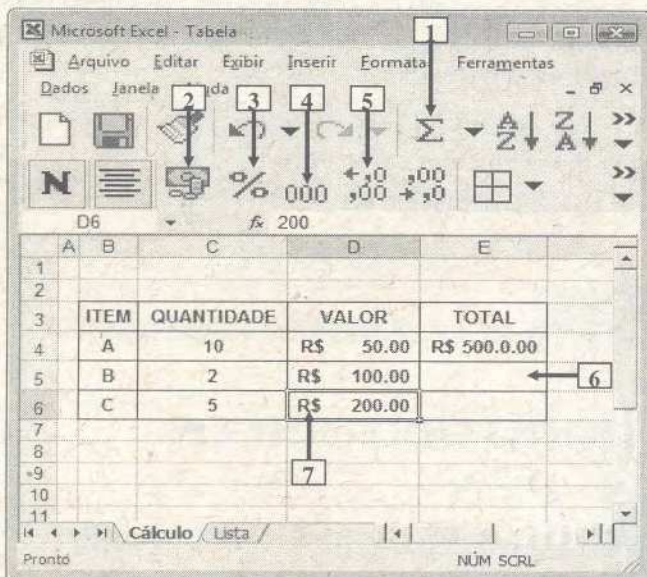


Figura 5 – Janela principal do Excel 2002

QUESTÃO 27 – Após observar a Figura 5, do Excel 2002, pode-se afirmar que:

I - a célula corrente, que se encontra selecionada, é a D6.

II - a planilha corrente, que se encontra selecionada, chama-se "Tabela".

III - a pasta corrente, que se encontra selecionada, chama-se "Cálculo".

Quais estão corretas?

- A) Apenas a I.
- B) Apenas a I e a II.
- C) Apenas a I e a III.
- D) Apenas a II e a III.
- E) A I, a II e a III.

QUESTÃO 28 – Na Figura 5, do Excel 2002, para que seja mostrado, no local apontado pela seta nº 6, a multiplicação dos valores situados na mesma linha, ou seja, 2 vezes R\$ 100,00, basta inserir, neste local, a fórmula

- A) = C * D
- B) C x D
- C) = C5 * D5
- D) (5C * 5E)
- E) = (C5 x E5)

QUESTÃO 29 – Na Figura 5, do Excel 2002, a célula apontada pela seta nº 7 passou a exibir o estilo de moeda (R\$), após ter sido dado um clique, com o botão esquerdo do mouse, sobre o ícone apontado pela seta nº

- A) 1.
- B) 2.
- C) 3.
- D) 4.
- E) 5.

A questão 30 baseia-se na Figura 6, que mostra a janela principal do Internet Explorer 6.

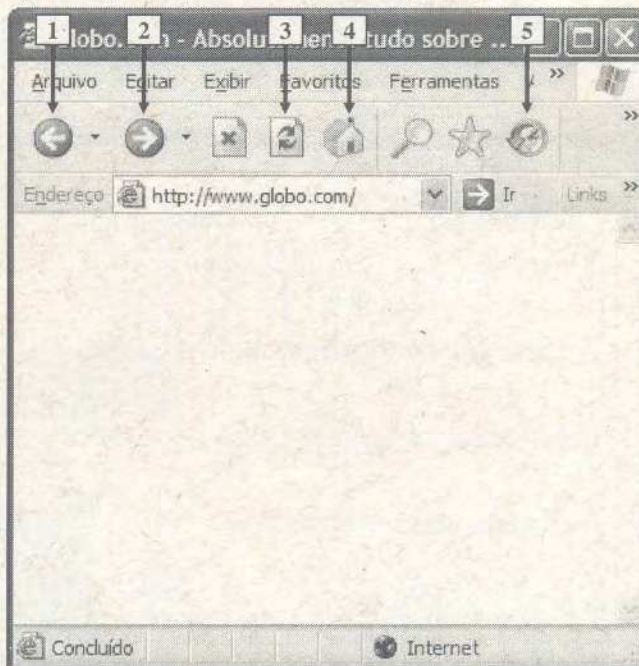


Figura 6 - Internet Explorer 6

QUESTÃO 30 – Por um motivo qualquer, não foi possível acessar o conteúdo de um determinado site, utilizando-se o Internet Explorer 6, conforme se pode observar na Figura 6. Nesse caso, para atualizar esta página eletrônica, basta dar um clique, com o botão esquerdo do mouse, sobre o ícone apontado pela seta nº

- A) 1.
- B) 2.
- C) 3.
- D) 4.
- E) 5.

LEGISLAÇÃO

QUESTÃO 31 – Estágio probatório é o período de _____ em que o servidor, nomeado em caráter efetivo, ficará em observação e durante o qual será verificada a conveniência ou não de sua confirmação no cargo.

Assinale a alternativa que completa corretamente a assertiva acima.

- A) 06 (seis) meses
- B) 01 (um) ano
- C) 02 (dois) anos
- D) 30 (trinta) meses
- E) 03 (três) anos

QUESTÃO 32 – As férias somente poderão ser interrompidas pelos seguintes motivos:

- I – calamidade pública.
- II – comoção interna.
- III – convocação para júri.
- IV – serviço militar.
- V – superior interesse público.

Quais estão corretas?

- A) Apenas I.
- B) Apenas I e II.
- C) Apenas I, II e III.
- D) Apenas I, II, III e IV.
- E) I, II, III, IV e V.

QUESTÃO 33 – Ao servidor que adquirir direito à aposentadoria voluntária com proventos integrais e cuja a permanência no desempenho de suas funções for julgada conveniente e oportuna para o serviço público poderá ser deferida, por ato do Governador, uma gratificação especial de _____

Assinale a alternativa que completa corretamente a assertiva acima.

- A) 35% (trinta e cinco por cento) do vencimento básico
- B) 25% (vinte e cinco por cento) do vencimento básico
- C) 15% (quinze por cento) do vencimento básico
- D) 10% (dez por cento) da remuneração
- E) 25% (vinte e cinco por cento) da remuneração

QUESTÃO 34 – O processo administrativo disciplinar, instaurado pela autoridade competente para aplicar a pena disciplinar, deverá ser iniciado no prazo de 5 (cinco) dias úteis, contados da data em que for

- A) apresentada a denúncia.
- B) publicada a designação dos membros da comissão.
- C) indicados os membros da comissão.
- D) apresentado o resultado da Sindicância.
- E) publicado a decisão da Sindicância.

QUESTÃO 35 – Assinale a alternativa que indica o que ocorrerá aos servidores contratados por prazo determinado, após o vencimento do prazo de vigência do contrato.

- A) deverão encaminhar pedido de prorrogação.
- B) poderão requerer assinatura de novo contrato.
- C) terão seus contratos extintos.
- D) terão seus contratos renovados automaticamente.
- E) terão seus contratos prorrogados pelo mesmo período.

QUESTÃO 36 – Assinale as assertivas abaixo com V, se verdadeiras e com F, se falsas:

- () A ajuda de custo destina-se a compensar as despesas de instalações do servidor que, no interesse do serviço, passe a ter exercício em nova sede, com mudança de domicílio em caráter permanente.
- () O servidor que se afastar temporariamente da sede, em objeto de serviço, fará jus, além das passagens de transporte, também a diárias destinadas à indenização das despesas de alimentação e pousada.
- () Será concedida indenização de transporte ao servidor que realizar despesas com a utilização de meio próprio de locomoção, para execução de serviços externos, por força das atribuições próprias do cargo, conforme previsto em regulamento.
- () Por triênio de efetivo exercício no serviço público, o servidor terá concedido automaticamente um acréscimo de 15% (quinze por cento), denominado avanço, calculado na forma da lei.
- () A função gratificada será percebida somente pelo exercício de chefia, cumulativamente ao vencimento do cargo de provimento efetivo.

A ordem correta de preenchimento dos parênteses, de cima para baixo, é:

- A) V – F – V – F – V
- B) F – V – F – V – F
- C) V – V – F – F – V
- D) V – V – V – F – F
- E) V – V – V – V – V

QUESTÃO 37 – O servidor efetivo que contar com _____ anos de tempo computável à aposentadoria e que houver exercido cargo em comissão, inclusive sob a forma de função gratificada, por _____ anos completos, terá incorporada ao vencimento do cargo, como vantagem pessoal, a importância equivalente a _____ do valor da função gratificada.

Assinale a alternativa que completa corretamente a assertiva acima.

- A) dez (10) - cinco (05) - 10% (dez por cento)
- B) cinco (05) - dez (10) - 20% (vinte por cento)
- C) dezoito (18) - dois (02) - 20% (vinte por cento)
- D) quinze (15) - dois (02) - 15% (quinze por cento)
- E) doze (12) - três (03) - 20% (vinte por cento)

QUESTÃO 38 – O servidor, pai, mãe ou responsável por excepcional, físico ou mental, em tratamento, fica autorizado a se afastar do exercício do cargo, quando necessário, por período de até _____ de sua carga horária normal cotidiana, na forma da lei.

Assinale a alternativa que completa corretamente a assertiva acima.

- A) 20% (vinte por cento)
- B) 25% (vinte e cinco)
- C) 40% (quarenta por cento)
- D) 50% (cinquenta por cento)
- E) 75% (setenta e cinco por cento)

QUESTÃO 39 – O servidor em estágio probatório somente terá direito à aposentadoria quando invalidado por acidente em serviço, agressão não-provocada no exercício de suas atribuições, acometido de moléstia profissional ou, entre outros:

- I – tuberculose ativa.
- II – alienação mental.
- III – cardiopatia grave.
- IV – espondiloartrose anquilosante.
- V – paralisia irreversível e incapacitante

Quais estão corretas?

- A) Apenas I.
- B) Apenas I e II.
- C) Apenas I, II e III.
- D) Apenas I, II, III e IV.
- E) I, II, III, IV e V.

QUESTÃO 40 – Ficam submetidos ao regime jurídico instituído pela Lei n. 10.098/94, na qualidade de servidores públicos os servidores estatutários:

- I – da Administração Direta
- II – das autarquias
- III – das fundações de direito público, inclusive os interinos e extranumerários
- IV – os servidores estabilizados vinculados à Consolidação das Leis do Trabalho
- V – os servidores oriundos de contratos terceirizados.

Quais estão corretas?

- A) Apenas I.
- B) Apenas I e II.
- C) Apenas I, II e III.
- D) Apenas I, II, III e IV.
- E) I, II, III, IV e V.

QUESTÃO 41 – São objetivos básicos do sistema Nacional de trânsito?

- I. Fixar, mediante normas e procedimentos, a padronização de critérios técnicos, financeiros e administrativos para a execução das atividades de trânsito.
- II. Julgar os recursos interpostos pelos infratores.
- III. Estabelecer a sistemática de fluxos permanentes de informações entre os diversos órgãos e entidades, a fim de facilitar o processo decisório e a integração do sistema.

Quais estão corretas?

- A) Apenas I e II.
- B) Apenas I e III.
- C) Apenas II e III.
- D) I, II e III.
- E) Apenas I.

QUESTÃO 42 – Qual o prazo que o proprietário tem, no caso de transferência de propriedade, para adotar as providências necessárias à efetivação da expedição do novo Certificado de Registro de Veículo?

- A) 7 dias.
- B) 15 dias.
- C) 30 dias.
- D) 60 dias.
- E) 180 dias.

QUESTÃO 43 – Qual o tipo de veículo automotor que não precisa ser anualmente licenciado?

- A) Veículo bélico.
- B) Elétrico.
- C) Articulado.
- D) Reboque.
- E) Semireboque.

QUESTÃO 44 – Os veículos destinados especialmente à condução coletiva de escolares somente poderão circular se obedecerem alguns parâmetros estabelecidos em lei.

Qual ou quais das exigências abaixo estão corretas?

- I. Registro como veículo de escolares.
- II. Equipamento registrador instantâneo inalterável de velocidade e tempo.
- III. Cintos de segurança em número igual a lotação.

- A) I.
- B) II.
- C) III.
- D) I, II.
- E) II, III.

QUESTÃO 45 – Qual é a característica da categoria D, que é a habilitação exigida para a condução de escolares?

- A) É a de condutor de veículo motorizado de 2 ou 3 rodas, com ou sem carro lateral.
- B) Condutor de veículo motorizado cujo peso bruto total não exceda a 3500kg.
- C) Condutor de veículo motorizado cujo peso bruto total exceda a 3500kg.
- D) Condutor de veículo motorizado utilizado no transporte de passageiros, cuja lotação exceda a 8 lugares, excluído o do motorista.
- E) Nenhuma das respostas anteriores.

QUESTÃO 46 – Dentre as penalidades passíveis de aplicação pelas autoridades de trânsito, qual não está prevista em lei?

- A) Advertência por escrito.
- B) Multa.
- C) Suspensão do direito de dirigir.
- D) Apreensão do veículo.
- E) Justificar-se perante o Diretor do DETRAN.

QUESTÃO 47 – Em caso de ser aplicada a pena de suspensão do direito de dirigir, por qual período o condutor terá que cumprir a sua pena?

- A) Mínimo de 15 dias e máximo de 30 dias.
- B) Mínimo de um mês e máximo de dois meses.
- C) Mínimo de um mês e máximo de três meses.
- D) Mínimo de um mês e máximo de um ano.
- E) Mínimo de dois meses e máximo de seis meses.

QUESTÃO 48 – Quando o condutor será submetido a curso de reciclagem?

- I. Quando condenado judicialmente por delito de trânsito.
- II. Quando completar 40 anos.
- III. Quando trocar de veículo por outro mais potente.

Quais estão corretas?

- A) Apenas I.
- B) Apenas II.
- C) Apenas III.
- D) Apenas I, II.
- E) Apenas II e III.

QUESTÃO 49 – Quais são os documentos de habilitação?

- A) Certificado de Licenciamento Anual.
- B) Certificado de Registro.
- C) Carteira de Identidade e CIC.
- D) Carteira Nacional de Habilitação e Permissão para Dirigir.
- E) Nenhuma das respostas acima.

QUESTÃO 50 – Qual é a penalidade aplicada ao condutor que se evadir da fiscalização, não submetendo o veículo à pesagem obrigatória?

- A) Apreensão da carteira de habilitação.
- B) Aplicação de multa.
- C) Apreensão do veículo.
- D) Retenção do veículo.
- E) Suspensão do direito de dirigir.

QUESTÃO 51 – A tipificação da infração, o local, a data e a hora do cometimento da infração e os caracteres da placa de identificação do veículo, sua marca e espécie, constituem:

- A) Notificação judicial.
- B) Autuação policial.
- C) Auto de infração.
- D) Acareação.
- E) Nenhuma das respostas acima.

QUESTÃO 52 – Quando o Auto de Infração será arquivado e seu registro julgado insubsistente?

- I. Se considerado inconsistente e irregular.
- II. Se, no prazo máximo de 30 dias, não for expedida a notificação de autuação.
- III. Se, no prazo máximo de seis meses, não for julgado o recurso.

Quais estão corretas?

- A) I.
- B) II.
- C) III.
- D) I, II.
- E) II, III.

QUESTÃO 53 – Que circunstâncias sempre agravam as penalidades dos crimes de trânsito?

- I. Utilizar o veículo sem placas; com placas falsas ou adulteradas.
- II. Sem possuir Permissão para dirigir ou Carteira de Habilitação.
- III. Com dano potencial para duas ou mais pessoas ou com grande risco de grave dano patrimonial a terceiros.

Quais estão corretas?

- A) I, II.
- B) I, III.
- C) II, III.
- D) I, II, III.
- E) Nenhuma das respostas acima.

QUESTÃO 54 – Qual é a pena para o condutor habilitado que pratica homicídio culposo na direção de veículo automotor?

- A) Detenção de 2 a 4 anos e suspensão ou proibição de se obter a Permissão ou a Habilitação para dirigir veículo automotor.
- B) Detenção de seis meses a um ano.
- C) Multa e retenção do veículo.
- D) Detenção de seis meses a dois anos, multa e suspensão do direito de dirigir.
- E) Detenção de um ano e aplicação de multa conforme o art. 209 do CTB.

QUESTÃO 55 – Qual a pena para o condutor do veículo, no momento do acidente que deixar de prestar socorro imediato a vítima?

- A) Obrigação de fazer a reciclagem.
- B) Detenção de seis meses a um ano, ou multa, se o fato não constituir elemento de crime mais grave.
- C) Detenção de seis meses a dois anos.
- D) Detenção de dois meses e multa.
- E) Detenção de um ano, multa e retenção da CNH.

CONHECIMENTOS ESPECÍFICOS

QUESTÃO 56 – Considere as afirmativas abaixo referentes a trabalhos e ocupações e seus respectivos graus de insalubridade:

I – São ocupações de insalubridade grau máximo, o contato permanente com pacientes portadores de doenças infecto-contagiosas, o contato com esgotos e com lixo urbano.

II – São considerados de grau médio, os contatos permanentes com animais em hospitais, serviços de emergência, e postos de vacinação.

III – Atividades em cemitérios, estábulos e em locais com resíduos de animais deteriorados não são considerados de grau médio de insalubridade.

Quais estão corretas?

- A) Apenas a I.
- B) Apenas a I e a II.
- C) Apenas a I e a III.
- D) Apenas a III.
- E) A I, a II e a III.

QUESTÃO 57 – As medidas gerais de controle dos agentes biológicos podem ser relativas ao ambiente, administrativa e ao trabalhador, destacando-se, **EXCETO**

- A) uso de filtro de ar em exaustores para o ambiente externo.
- B) controle de roedores, morcegos, ninhos de aves.
- C) uso de material descartável e esterilizado.
- D) realização de controle médico.
- E) higienização de superfícies fixas e mobiliários do trabalho.

QUESTÃO 58 – Considere as afirmativas abaixo sobre a equipe interdisciplinar que compõe o Serviço Especializado em Segurança e Saúde do Trabalho (SESMT).

I – O Médico do Trabalho é o profissional que concluiu o curso de especialização em Medicina do Trabalho, reconhecido pela Comissão Nacional de Residência Médica, do Ministério da Educação.

II – O SESMT é composto de: engenheiro, técnico, médico, enfermeiro e auxiliar de enfermagem.

III – Os psicólogos e assistentes sociais foram incluídos na equipe do SESMT, através da NR-4, como consultores.

Quais estão corretas?

- A) Apenas a I.
- B) Apenas a I e a II.
- C) Apenas a I e a III.
- D) Apenas a III.
- E) A I, a II e a III.

QUESTÃO 59 – O programa que visa à preservação da saúde e integridade dos trabalhadores, pela antecipação, reconhecimento, avaliação e controle dos riscos ambientais existentes no ambiente de trabalho, levando em consideração a proteção do meio ambiente e dos recursos naturais, é conhecido como

- A) PDCA
- B) PQT
- C) PAPS
- D) PPRA
- E) PPSAT

QUESTÃO 60 – É classificada como doença na qual o trabalho é considerado como causa necessária:

- A) a silicose.
- B) o câncer.
- C) a doença coronariana.
- D) a asma
- E) a doença mental.

QUESTÃO 61 – São competências do auxiliar de enfermagem do trabalho, **EXCETO**

- A) fazer curativos, imobilizações provisórias, instalações e lavagens oculares.
- B) preparar o ambiente de trabalho, mantendo ordem de materiais para o funcionamento da equipe de saúde.
- C) promover programas visando à promoção da saúde e à prevenção de doenças do trabalho.
- D) executar prescrições médicas, ministrando medicamentos por via oral e parenteral e oxigenioterapia.
- E) prestar cuidados de enfermagem aos trabalhadores nas condições de rotina e emergência.

QUESTÃO 62 – Qual dos itens abaixo é necessário para o funcionamento do serviço de saúde do trabalho?

- A) Balança antropométrica.
- B) Microscópio.
- C) Avental de chumbo.
- D) Cuba para banho-maria.
- E) Cama ginecológica

QUESTÃO 63 – Considere as afirmativas abaixo sobre situação de saúde do trabalhador no Brasil.

I – A assistência do trabalhador é desenvolvida nas empresas através do SESMT.

II – A partir de 1993, houve um aumento na incidência de doenças profissionais, registrando-se 14 casos por 10 mil.

III – Estima-se que o custo de acidentes e doenças relacionadas ao trabalho, em reais, seja de 12 bilhões anuais para as empresas e de mais de 20 bilhões para os contribuintes.

Quais estão corretas?

- A) Apenas I.
- B) Apenas I e II.
- C) Apenas I e III.
- D) Apenas II e III.
- E) I, II e III.

QUESTÃO 64 – A temperatura varia de acordo com o local em que for medida. A temperatura retal normal, no adulto, varia de,

- A) 36° C a 37° C
- B) 36° C a 36, 8° C
- C) 36° C a 37, 2° C
- D) 36, 8° C a 37, 4° C
- E) 37° C a 37, 2° C

QUESTÃO 65 – Relacione a segunda coluna, em que está descrita a **situação ocupacional** de acordo com a primeira, em que está descrito o **agente**:

1. Decomposição de matéria orgânica, indústria do rayon.
2. Galvanoplastia, fumigação.
3. Indústria química, lavanderia com limpeza a seco.
4. Mineração, fabricação de pilhas e baterias.
5. Processo cloro-álcali, equipamentos eletrônicos.

- () solventes
- () chumbo
- () mercúrio
- () ácido sulfídrico
- () ácido cianídrico

A ordem correta de preenchimento dos parênteses, de cima para baixo, é:

- A) 1 – 5 – 2 – 3 – 4
- B) 3 – 4 – 5 – 1 – 2
- C) 3 – 5 – 2 – 4 – 1
- D) 4 – 1 – 2 – 3 – 5
- E) 4 – 3 – 2 – 1 – 5

QUESTÃO 66 – Considere as afirmativas abaixo sobre doenças infecciosas e parasitárias relacionadas ao trabalho, de acordo com a Portaria 1339.

I – A zoonose causada pela exposição ocupacional ao *Bacillus anthracis* é denominada de carbúnculo.

II – A *Brucella melitensis* pode causar uma zoonose em trabalhadores de frigoríficos e abatedouros.

III – Esgotos contaminados, bem como contato com roedores podem predispor à leptopirose.

Quais estão corretas?

- A) Apenas a I.
- B) Apenas a I e a II.
- C) Apenas a I e a III.
- D) Apenas a III.
- E) A I, a II e a III.

QUESTÃO 67 – São cuidados que devem ser observados na assistência de enfermagem ao paciente com traumatismo crânio-encefálico, **EXCETO**

- A) controlar a pressão arterial até que o paciente se estabilize.
- B) controlar o pulso até a completa estabilização.
- C) posicionar a cabeceira do leito em posição de Fowler invertido
- D) posicionar a cabeceira do leito em posição de semi-Fowler.
- E) observar nível de consciência do paciente.

QUESTÃO 68 – São medidas de proteção individual, de vigilância em saúde ou de controle médico aplicáveis aos trabalhadores, **EXCETO**

- A) os Equipamentos de Proteção Individual.
- B) a notificação compulsória do agravo à SSMA.
- C) as medidas organizacionais.
- D) os controles médicos.
- E) os monitoramentos e rastreamentos.

QUESTÃO 69 – A enfermidade conhecida com "Mal dos Caixões" acomete profissionais que trabalham

- A) com monóxido de carbono
- B) em cemitérios.
- C) em funerárias.
- D) com ar comprimido.
- E) com cianeto de hidrogênio.

QUESTÃO 70 – Considere as afirmativas abaixo sobre traumatismo neurológico.

- I – A escala de Glasgow avalia resposta do paciente a estímulos e varia de 3, normal, a 15, coma profundo.
 II – O paciente em morte cerebral não exibirá atividade neurológica ao exame clínico, no EEG e no exame de fluxo sanguíneo cerebral.
 III – Entre as manifestações clínicas das lesões cerebrais estão: confusão, cefaléia, convulsões, anormalidade pupilar e ausência de reflexo corneal.

Quais estão corretas?

- A) Apenas I.
 B) Apenas I e II.
 C) Apenas I e III.
 D) Apenas II e III.
 E) I, II e III.

QUESTÃO 71 – No tratamento da intoxicação por tóxicos corrosivos, são instituídas medidas para diminuir a absorção, **EXCETO**,

- A) promover a ingestão de água.
 B) administrar carvão ativado, se a substância puder ser absorvida.
 C) promover a ingestão de água.
 D) realização de lavagem gástrica.
 E) induzir o vômito, em caso de substância alcalina.

QUESTÃO 72 – Considere as afirmativas abaixo sobre processo de enfermagem e ética.

- I – Na etapa do histórico, devem ser avaliados conflitos de procedimentos, ou seja a quem deve ser solicitada a autorização de uma cirurgia, por exemplo, ao paciente, à família ou aos tutores.
 II – Na etapa de planejamento, o profissional não deve fazer diferenciação entre informações factuais e crenças, pois tudo funciona da mesma forma.
 III – Para a implementação do processo de enfermagem, o profissional deve sempre optar pela conduta utilitária, ou seja, o melhor bem, para o maior número.

Quais estão corretas?

- A) Apenas I.
 B) Apenas III.
 C) Apenas I e II.
 D) Apenas I e III.
 E) I, II e III.

QUESTÃO 73 – Considere as afirmativas sobre a LEI Nº 8.213 - DE 24 DE JULHO DE 1991, atualizada em dezembro de 2008.

- I – Os representantes dos trabalhadores em atividade, dos aposentados, dos empregadores e seus respectivos suplentes serão indicados pelas centrais sindicais e confederações nacionais.
 II – São beneficiários do Regime Geral de Previdência Social, na condição de dependentes do segurado: o cônjuge, a companheira, o companheiro e o filho não emancipado, de qualquer condição, menor de 21 (vinte e um) anos ou inválido, os pais; o irmão não emancipado, de qualquer condição, menor de 21 (vinte e um) anos ou inválido.
 III – O Regime Geral de Previdência Social compreende as seguintes prestações quanto ao segurado: aposentadoria por invalidez; aposentadoria por idade; aposentadoria por tempo de contribuição.

Quais estão corretas?

- A) Apenas a I.
 B) Apenas a I e a II.
 C) Apenas a I e a III.
 D) Apenas a II e a III.
 E) A I, a II e a III.

QUESTÃO 74 – O agente antibacteriano tópico usado em queimadura, com alto poder bactericida, podendo provocar leucopenia nos dois primeiros dias de tratamento e que prevê a formação de pseudoescara é

- A) o nitrato de prata.
 B) a sulfadiazina de prata.
 C) o acetato de mafenide.
 D) o PVPI.
 E) a clorexidina.

QUESTÃO 75 – As principais metas no tratamento do _____ são restaurar o volume intravascular, redistribuir o volume de líquidos e _____. No idoso pode ser causado por _____.

As lacunas acima ficam correta e respectivamente preenchidas por:

- A) choque hipovolêmico – corrigir a causa subjacente – desidratação
 B) choque hipovolêmico – preservar a integridade do paciente – gastroenterite viral
 C) choque cardiogênico – corrigir a causa subjacente – desidratação
 D) choque cardiogênico – preservar a integridade do paciente – gastroenterite viral
 E) choque cardiogênico – regulação da pressão arterial – desidratação

QUESTÃO 76 – No ABCD da reanimação cardiopulmonar básica, as letras representam quatro etapas que são a via aérea, a respiração, a _____ e a _____.

As palavras que completam adequadamente a frase acima são, respectivamente,

- A) circulação – distensão
- B) circulação – desfibrilação
- C) compressão – desfibrilação
- D) compressão – distribuição
- E) compressão – imobilização

QUESTÃO 77 – O medicamento administrado para corrigir a acidose metabólica na reanimação cardiorrespiratória é

- A) o oxigênio.
- B) a epinefrina.
- C) o bicarbonato de sódio.
- D) a atropina.
- E) o magnésio.

QUESTÃO 78 – Qual a complicação potencial da imobilidade, comum em pacientes que sofreram lesão raquimedular e que predispõe à embolia pulmonar?

- A) A hipotensão ortostática.
- B) A disreflexia autônoma.
- C) A peritonite bacteriana espontânea.
- D) A trombose venosa profunda.
- E) A paralisia neurogênica do intestino.

QUESTÃO 79 – O objetivo primário do tratamento de uma ferida consiste em restaurar a integridade física e a função do tecido lesionado. A partir de quanto tempo, da ocorrência da ferida, o retardo no início no tratamento da mesma aumenta o risco de infecção?

- A) 15 minutos.
- B) 30 minutos.
- C) Uma hora.
- D) Duas horas.
- E) Três horas.

QUESTÃO 80 – No cuidado de emergência ao paciente queimado, qual é a primeira ação no período inicial pós-queimadura?

- A) Restabelecer a circulação sanguínea.
- B) Restabelecer a via aérea.
- C) Imobilizar a coluna cervical.
- D) Monitorar a pressão arterial.
- E) Fornecer oxigênio.