



GOVERNO DO ESTADO DO RIO GRANDE DO SUL
SECRETARIA DE INFRAESTRUTURA E LOGÍSTICA

COMPANHIA ESTADUAL DE GERAÇÃO E TRANSMISSÃO DE ENERGIA ELÉTRICA

CONCURSO PÚBLICO N° 01/2010

MÉDICO DO TRABALHO

INSTRUÇÕES

Leia atentamente e cumpra rigorosamente as instruções que seguem, pois elas são parte integrante das provas e das normas que regem este Concurso Público.

1. Verifique se este caderno contém 50 questões. Caso contrário, solicite ao fiscal da sala a sua substituição.
2. Cada questão oferece 5 (cinco) alternativas de respostas, representadas pelas letras **A, B, C, D, E**, sendo apenas 1 (uma) a resposta correta.
3. O tempo para a realização das provas é de 4 (quatro) horas, incluindo o preenchimento da grade de respostas. O candidato só poderá retirar-se do recinto da prova, portando o caderno de provas, após 1 hora e 30 minutos do início da aplicação. Os dois últimos candidatos deverão retirar-se da sala de prova ao mesmo tempo, devendo assinar a ata da prova.
4. Nenhuma informação sobre as instruções e/ou sobre o conteúdo das questões será dada pelo fiscal, pois são parte integrante da prova.
5. No Caderno de Provas, o candidato poderá rabiscar, riscar, calcular, etc.
6. Os gabaritos preliminares serão divulgados no dia 29/03/2010, até as 15 horas, no site (www.fundatec.com.br) e nos murais localizados na sede da Fundatec, Rua Prof. Cristiano Fischer, n° 2012.



DIREITOS AUTORAIS RESERVADOS A FUNDATEC.
PROIBIDA A REPRODUÇÃO, AINDA QUE PARCIAL, SEM AUTORIZAÇÃO PRÉVIA.

Instrução: As questões de números 01 a 10 referem-se ao texto abaixo.

O Brasil cresce

01 Não foi invenção da Xuxa: no passado, a denominação “baixinhos” era aplicada aos brasileiros em
02 geral. Baixa estatura caracterizava nossa gente, e incluía variáveis como a cabeça chata dos nordestinos.
03 Esta observação folclórica, contudo, tinha raízes na realidade. No Brasil, a desnutrição era a regra, coisa
04 que, aliás, embasou o hoje pouco mencionado programa Fome Zero. A curto prazo, a desnutrição
05 manifestava-se pelo baixo peso das crianças; a longo prazo, pela baixa altura dos jovens e adultos. Não
06 mais. Demonstra-o um amplo estudo conduzido, aliás, para nosso orgulho, por pesquisadores das
07 universidades federais do Rio Grande do Sul e de Santa Catarina. Como parte do projeto Esporte Brasil
08 foram pesquisados indicadores de estado nutricional e de desenvolvimento corporal em 41.654 alunos de
09 escolas públicas e privadas em todo o Brasil. Compararam-se também esses dados com o de crianças e
10 adolescentes norte-americanos. E aí veio a surpresa: os jovens brasileiros são mais altos que seus colegas
11 dos Estados Unidos.

12 Esses indicadores mostram que a situação nutricional do país melhorou. E melhorou por várias
13 razões. A produção de alimentos aumentou, não só no Brasil como em muitos outros países. Os brasileiros
14 estão comendo mais, ainda que não necessariamente de forma mais racional: a obesidade está se tornando
15 um problema frequente. Ações específicas de combate ___ desnutrição estão dando bons resultados. Graças
16 ___ campanhas de estímulo ao aleitamento materno, ___ crianças estão sendo amamentadas em maior
17 proporção e por tempo mais longo. Medidas de saúde pública, como a prevenção de doenças infecciosas
18 pela vacinação, contribuem para ___ melhora do estado nutricional.

19 Sim, o tipo físico do brasileiro está mudando. O modelo Pequeno Polegar é coisa do passado. O que
20 pode ter várias consequências. Por exemplo: agora temos mais altura para o basquete, esporte do qual
21 muitos brasileiros gostam; de Santa Maria, por exemplo, vieram excelentes jogadores, como o ministro
22 Tarso Genro. Mas a cesta estava muito mais distante dos brasileiros do que dos americanos, que
23 classicamente eram imbatíveis na cancha de basquete. Isto agora vai mudar.

24 Por outro lado, porém, e como os brasileiros cada vez mais viajam de avião (mais um sinal de
25 melhora), o suplício representado pela escassa distância entre as poltronas aumentará. Oportuna, portanto,
26 a providência da Anac estabelecendo padrões de distância entre as poltronas dos aviões. Este será um
27 critério de avaliação da qualidade dos voos oferecidos pelas companhias aéreas. Podemos, pois, esperar
28 viagens de avião mais confortáveis. Podemos sonhar com a conquista de um título mundial de basquete. E,
29 mais importante, podemos nos alegrar com o fato de que, finalmente, estamos crescendo.

(Scliar, Moacyr. Zero Hora, 16-3-2010 – adaptação)

QUESTÃO 01 – Segundo o texto, a situação nutricional do Brasil aumentou, devido a alguns fatores. Em relação a essa afirmação, analise as assertivas que seguem, assinalando V, para as verdadeiras, ou F, para as falsas.

() O fato de as indústrias alimentícias estarem produzindo mais favorece a qualidade da alimentação dos brasileiros.

() A população brasileira, devido ao aumento da disponibilidade de alimentos, está obesa.

() Atualmente, as ações direcionadas ao combate da obesidade e à desnutrição são desenvolvidas concomitantemente.

() O aumento da produção de alimentos e os programas de vacinação para prevenir doenças infecciosas são ações que provocam alteração no estado nutricional do brasileiro.

A ordem correta de preenchimento dos parênteses, de cima para baixo, é:

- A) V – V – V – V
- B) V – F – V – F
- C) V – V – F – F
- D) F – F – F – V
- E) F – F – F – F

QUESTÃO 02 – As lacunas tracejadas das linhas 15, 16 e 18, considerando as regras que determinam o uso da crase, ficam correta e respectivamente preenchidas por:

- A) a – às – às – à.
- B) à – as – às – a.
- C) à – às – as – a.
- D) a – as – às – à.
- E) a – às – as – à.

QUESTÃO 03 – Analise as seguintes propostas de substituição de palavras e de expressões do texto.

- I. A expressão *nossa gente* (l. 02) poderia ser substituída por *o povo brasileiro*.
- II. Em lugar da palavra *folclórica* (l. 03), poder-se-ia usar *ficcional*.
- III. Na linha 25, *suplício* poderia ser substituído por *fascínio*.

Quais das propostas acima mantêm o significado original da frase em que se inserem?

- A) Apenas I.
- B) Apenas II.
- C) Apenas III.
- D) Apenas I e II.
- E) Apenas II e III.

QUESTÃO 04 – Em relação ao pronome *o*, em *Demonstra-o* (l. 06), é correto dizer que:

- I. É um elemento de retomada, referindo-se à informação já dada.
- II. Antecipa uma informação, constituindo-se em uma estratégia para prender o leitor ao texto.
- III. Poderia ser substituído pela forma *a ele*, sem provocar qualquer incorreção gramatical.

Quais estão **incorretas**?

- A) Apenas I.
- B) Apenas II.
- C) Apenas III.
- D) Apenas I e II.
- E) Apenas II e III.

QUESTÃO 05 – Analisando a frase *Compararam-se também esses dados com o de crianças e adolescentes norte-americanos*. (l. 09-10), afirma-se que:

- I. passando para o singular o termo *esses dados*, não seria necessário nenhum ajuste na frase para manter a correção gramatical.
- II. se o termo *esses dados* fosse passado para o singular, *compararam-se* assumiria a forma *comparara-se*.
- III. se substituíssemos *crianças e adolescentes* por *meninas adolescentes*, nenhuma outra alteração seria necessária para manter gramaticalmente correta a frase.

Quais estão **corretas**?

- A) Apenas I.
- B) Apenas II.
- C) Apenas III.
- D) Apenas I e II.
- E) Apenas II e III.

QUESTÃO 06 – O nexos coesivo *pois* (l. 27), no contexto em que aparece, estabelece entre as orações uma relação de

- A) causa.
- B) adição.
- C) explicação.
- D) conclusão.
- E) oposição.

QUESTÃO 07 – Considere as informações contidas nas colunas 1 e 2.

Coluna 1

- () baixinhos (l. 01)
- () cabeça chata (l. 02)
- () jovens brasileiros (l. 10)
- () modelo Pequeno Polegar (l. 19)
- () viagens de avião (l. 28)

Coluna 2

- I – sentido conotativo
- II – sentido denotativo

Associando a coluna 1 à 2 e considerando os termos citados e o sentido que têm no texto, preenchem-se os parênteses, de cima para baixo, com:

- A) I – I – II – I – II
- B) II – II – I – II – I
- C) II – I – II – II – II
- D) I – I – I – II – II
- E) II – I – II – I – I

QUESTÃO 08 – Na linha 24, o autor utiliza a expressão *Por outro lado*, visando apresentar

- I. um novo argumento, cuja função é reiterar o que até então vinha dizendo.
- II. um argumento novo, mostrando uma forma diferente de discutir o assunto do texto
- III. argumentos contrários, demonstrando que o que havia dito não é válido.

Quais estão **corretas**?

- A) Apenas I.
- B) Apenas II.
- C) Apenas III.
- D) Apenas I e II.
- E) Apenas II e III.

QUESTÃO 09 – Analise as seguintes propostas de alteração de palavras e de expressões do texto.

- I. Substituição de *contudo* (l. 03) por *no entanto*.
- II. Supressão de *aliás, para nosso orgulho* (l. 06).
- III. Supressão da palavra *agora* (l. 23).

Quais das propostas provocam alteração no texto?

- A) Apenas I.
- B) Apenas II.
- C) Apenas III.
- D) Apenas I e II.
- E) Apenas II e III.

QUESTÃO 10 – Em relação à frase (...) *podemos nos alegrar com o fato de que, finalmente, estamos crescendo*. (l. 29), é correto afirmar que:

- I. o advérbio *finalmente* acrescenta uma informação relevante ao período.
- II. *de que* introduz uma oração completiva nominal, referindo-se à palavra fato.
- III. a locução *estamos crescendo* introduz no período ideia de processo, de continuidade da ação.

Quais estão **corretas**?

- A) Apenas I.
- B) Apenas II.
- C) Apenas I e II.
- D) Apenas II e III.
- E) I, II e III.

CONHECIMENTOS ESPECÍFICOS

QUESTÃO 11 – Considere as afirmações acerca das intoxicações profissionais.

- I. Os principais órgãos-alvo dos efeitos do berílio sobre a saúde dos trabalhadores são a pele e os pulmões.
- II. Exposições ocupacionais ao manganês podem causar doença neurológica e sinais de disfunção motora extrapiramidal semelhante à doença de Parkinson.
- III. A exposição crônica ao cádmio afeta os rins.

Quais estão **corretas**?

- A) Apenas I.
- B) Apenas II.
- C) Apenas III.
- D) Apenas I e II.
- E) I, II e III.

QUESTÃO 12 – Trabalhadores que manuseiam sucata metálica, que executam reparo em radiadores e operações de fundição de latão, bem como corte de metais pintados com maçarico, podem desenvolver cólicas abdominais severas, neuropatia periférica, diminuição da libido, artrite gotosa aguda, em decorrência dos efeitos da exposição ao

- A) cádmio.
- B) chumbo.
- C) vanádio.
- D) zinco.
- E) níquel.

QUESTÃO 13 – A síndrome do túnel do carpo é uma patologia ocupacional decorrente da compressão do nervo _____ e dos tendões _____ da mão.

As lacunas são preenchidas, correta e respectivamente, por:

- A) radial – extensores
- B) mediano – extensores
- C) radial – flexores
- D) mediano – flexores
- E) ulnar – adutores

QUESTÃO 14 – A constrição dolorosa da bainha comum dos tendões do longo abductor do polegar e do extensor curto do polegar, na altura do processo estilóide do rádio, é uma tenossinovite estenosante conhecida como síndrome:

- A) de De Quervain.
- B) de Filkenstein.
- C) do desfiladeiro torácico.
- D) do impacto.
- E) do dedo em gatilho.

QUESTÃO 15 – São indicadores de exposição ocupacional ao etilbenzeno e ao benzeno, respectivamente, os ácidos

- A) fenil-glioxílico e p-amino-fenol.
- B) hipúrico e metil-hipúrico.
- C) metil-hipúrico e hipúrico.
- D) 2-tio-tiazolidina e benzóico.
- E) mandélico e trans-trans-mucônico.

QUESTÃO 16 – Empresas com mais de 10 (dez) empregados e com até 20 (vinte) empregados, enquadradas nos graus de risco 3 ou 4, segundo o Quadro I, da NR 4, poderão estar desobrigadas de indicar médico coordenador em decorrência de _____, assistida por _____.

Assinale a alternativa que, correta e respectivamente, preenche as lacunas.

- A) ata da CIPA – dirigentes sindicais
- B) negociação coletiva – membros do SESMT
- C) negociação coletiva – profissional do órgão regional competente em segurança e em saúde no trabalho
- D) negociação coletiva – profissional indicado em acordo entre a CIPA e o SESMT
- E) ata da CIPA – membros titulares da comissão interna de prevenção de acidentes, representantes do empregador e dos empregados

QUESTÃO 17 – A etapa de reconhecimento dos riscos do Programa de Prevenção de Riscos Ambientais- PPRA deverá conter os seguintes itens, exceto:

- A) caracterização das atividades e do tipo de exposição.
- B) determinação e localização das possíveis fontes geradoras.
- C) os possíveis danos à saúde relacionados aos riscos identificados, disponíveis na literatura técnica.
- D) a implantação de medidas de controle e a avaliação de sua eficácia.
- E) a obtenção de dados existentes na empresa, indicativos de possível comprometimento da saúde decorrentes do trabalho.

QUESTÃO 18 – Empresa com 1001 ou mais empregados está obrigada a preencher seus cargos com beneficiários reabilitados ou com pessoas portadoras de deficiência, habilitadas, na proporção de

- A) 10%.
- B) 8%.
- C) 5%.
- D) 3%.
- E) 2%.

QUESTÃO 19 – A verificação e o controle periódico do funcionamento do audiômetro, utilizado em programas de acompanhamento da audição de trabalhadores expostos a níveis elevados de pressão sonora, devem incluir

- A) aferição biológica anual e calibração acústica bienal.
- B) aferição acústica anual e calibração acústica quinquenal.
- C) aferição biológica semanal e aferição acústica bienal.
- D) calibração acústica quinquenal e aferição acústica bienal.
- E) aferição biológica, calibração acústica e aferição acústica pelo menos quinquenal.

QUESTÃO 20 – O indicador biológico que indica uma exposição ambiental acima do Limite de Tolerância, mas não possui, isoladamente, significado clínico ou toxicológico próprio, ou seja, não indica doença, nem está associado a um efeito ou a uma disfunção de qualquer sistema biológico, tem interpretação

- A) NC.
- B) SC.
- C) SC+.
- D) EAA.
- E) EE.

QUESTÃO 21 – Considere as afirmações relativas à segurança em instalações e em serviços de eletricidade, conforme a Norma Regulamentadora n° 10, do Ministério do Trabalho e Emprego.

- I. Baixa Tensão designa tensão superior a 50 volts em corrente contínua e igual ou inferior a 1.000 volts, entre fases ou entre fase e terra.
- II. Alta tensão designa tensão superior a 1.000 volts em corrente alternada, entre fases ou entre fase e terra.
- III. Estabelecimentos com carga instalada superior a 75 kW devem possuir e manter o Prontuário de Instalações Elétricas.

Quais estão **corretas**?

- A) Apenas I.
- B) Apenas II.
- C) Apenas III.
- D) Apenas I e II.
- E) Apenas II e III.

QUESTÃO 22 – Trabalhos e operações em contato permanente com pacientes, com animais ou com material infectocontagante em gabinetes de autópsias, e o contato em laboratórios com animais destinados ao preparo de vacinas são considerados insalubres em grau

- A) mínimo.
- B) médio.
- C) máximo.
- D) mínimo ou máximo.
- E) mínimo ou médio.

QUESTÃO 23 – Foram efetuadas medições da concentração de tricloroetileno no ambiente de trabalho, acusando os seguintes resultados, em ppm: 30,39,41,68,88,88,88,112,126,140. Sabendo-se que o Fator de Desvio é 1,5 e que o Limite de Tolerância desse agente químico é 78 ppm, é **incorreto** afirmar que

- A) não ocorreu situação de grave e iminente risco.
- B) nem todas as medições ambientais ultrapassaram o nível de ação.
- C) o valor máximo foi ultrapassado em apenas duas medições ambientais.
- D) a média ponderada no tempo, das concentrações de tricloroetileno medidas, ultrapassou o limite de tolerância.
- E) é devido o adicional de insalubridade previsto na legislação.

QUESTÃO 24 – Em caso de existência de Atmosfera Imediatamente Perigosa à Vida ou à Saúde – Atmosfera IPVS, o espaço confinado somente pode ser adentrado com a utilização de:

- A) máscara de adução de ar ou com respirador purificador de ar.
- B) máscara autônoma de demanda com pressão negativa ou com respirador de linha de ar comprimido com cilindro auxiliar de fuga.
- C) respirador purificador de ar ou com máscara autônoma de demanda com pressão negativa.
- D) máscara autônoma de demanda com pressão positiva ou com respirador de linha de ar comprimido com cilindro auxiliar para escape.
- E) máscara de adução de ar, com linha de ar mandado ou com máscara autônoma de demanda com pressão positiva ou negativa.

QUESTÃO 25 – Nas atividades de processamento eletrônico de dados, os seguintes itens devem ser observados, **exceto**:

- A) pausa de 10 (dez) minutos para cada 50 (cinquenta) minutos trabalhados, deduzida da jornada normal de trabalho.
- B) tempo efetivo de trabalho de entrada de dados não deve exceder o limite máximo de 5 (cinco) horas.
- C) o número máximo de toques reais exigidos pelo empregador não deve ser superior a 8 (oito) mil por hora trabalhada.
- D) o empregador não deve promover qualquer sistema de avaliação dos trabalhadores baseado no número individual de toques sobre o teclado.
- E) quando do retorno ao trabalho, após qualquer tipo de afastamento igual ou superior a 15 (quinze) dias, a exigência de produção, em relação ao número de toques, deverá ser iniciada em níveis inferiores ao máximo estabelecido e ser ampliada progressivamente.

QUESTÃO 26 – No processamento eletrônico de dados com terminais de vídeo, a tela, o teclado e o suporte para documentos devem ser colocados de maneira que as distâncias olho-tela, olho-teclado e olho-documento sejam aproximadamente:

- A) a metade da distância entre a altura máxima da tela e a superfície de trabalho.
- B) o dobro da distância entre a altura máxima da tela e a largura do teclado.
- C) iguais.
- D) paralelas.
- E) ortogonais.

QUESTÃO 27 – O emprego de produtos contendo hidrocarbonetos aromáticos como solventes ou em limpeza de peças e a exposição às vibrações caracterizam adicional de insalubridade em grau:

- A) apenas mínimo.
- B) apenas médio.
- C) apenas máximo.
- D) máximo ou médio.
- E) médio ou mínimo.

QUESTÃO 28 – Em caso excepcional, constatando-se que a doença do empregado não está incluída na relação elaborada pelo Ministério do Trabalho e da Previdência Social, mas resultou das condições especiais em que o trabalho é executado e com ele se relaciona diretamente, cabe a Previdência Social considerá-la:

- A) doença comum.
- B) doença profissional, gerando benefício de auxílio-doença comum, ou não acidentário.
- C) doença do trabalho, gerando benefício de auxílio-acidente, a partir do décimo-sexto dia de incapacidade laborativa.
- D) doença indenizável com auxílio-acidente ao segurado que ficar incapacitado para sua atividade habitual por mais de quinze dias consecutivos.
- E) acidente do trabalho.

QUESTÃO 29 – A aposentadoria especial será devida, uma vez cumprida a carência exigida na legislação previdenciária, ao segurado que tiver trabalhado sujeito a condições especiais que prejudiquem a saúde ou a integridade física, durante 15 (quinze), 20 (vinte) ou 25 (vinte e cinco) anos, dependendo de comprovação pelo segurado, perante o Instituto Nacional do Seguro Social – INSS do tempo de trabalho permanente, _____, durante o período mínimo fixado.

Assinale a alternativa que, corretamente, preenche a lacuna do texto.

- A) habitual ou intermitente
- B) não ocasional, nem habitual
- C) não ocasional, nem intermitente
- D) ocasional ou intermitente
- E) habitual ou ocasional

QUESTÃO 30 – O benefício denominado aposentadoria especial será financiado com os recursos provenientes da contribuição a cargo da empresa, cujas alíquotas de 1%, de 2% ou de 3% serão acrescidas de _____, de _____, ou de _____ pontos percentuais, conforme a atividade exercida pelo segurado a serviço da empresa permita a concessão de aposentadoria especial após quinze, vinte ou vinte e cinco anos de exposição, respectivamente.

Assinale a alternativa que, corretamente, preenche as lacunas.

- A) seis, quatro, dois
- B) doze, nove, seis
- C) seis, cinco, quatro
- D) doze, seis, três
- E) dez, sete, quatro

QUESTÃO 31 - O desenho de um estudo epidemiológico em que todas as medidas, tanto dos fatores de risco quanto dos eventos, são feitas ao mesmo tempo, sem período de seguimento, denomina-se

- A) estudo de coorte.
- B) estudo de casos e de controles.
- C) estudo de caso-controle aninhado.
- D) ensaio clínico.
- E) estudo transversal.

QUESTÃO 32 - O auxílio-acidente será devido ao acidentado do trabalho quando

- A) após a consolidação das lesões resultar sequela definitiva, que implique redução da capacidade para o trabalho, que habitualmente exercia.
- B) após a alta hospitalar houver danos funcionais, ainda que sem redução da capacidade funcional e sem repercussão na capacidade laborativa.
- C) ficar incapacitado para o seu trabalho ou para a sua atividade habitual, por mais de 15 dias consecutivos.
- D) houver incapacidade verificada por meio de exame médico-pericial a cargo da Previdência Social.
- E) houver incapacidade laborativa por período superior a quinze dias, em decorrência de progressão ou de agravamento da lesão.

QUESTÃO 33 - O documento histórico-laboral que comprova a efetiva exposição do trabalhador aos agentes nocivos, segundo modelo estabelecido pela legislação pertinente, que contém os registros ambientais e os dados administrativos, e cuja cópia autêntica deve ser fornecida ao trabalhador, por ocasião da rescisão do contrato de trabalho, denomina-se:

- A) Laudo Técnico de Risco Ocupacional.
- B) Programa de Prevenção de Riscos Ambientais.
- C) Laudo Técnico Pericial.
- D) Perfil Profissiográfico Previdenciário.
- E) Laudo de Insalubridade.

QUESTÃO 34 - No estudo das relações entre saúde mental e trabalho, o modo pelo qual se estrutura uma ideologia defensiva a partir do desenvolvimento da instância coletiva de defesa é uma das mais importantes contribuições teóricas de:

- A) Percival Pott.
- B) Bernardino Ramazzini.
- C) Alice Hamilton.
- D) Christophe Dejours.
- E) Georg Bauer.

QUESTÃO 35 – A psicodinâmica do trabalho, como mais recentemente se denomina a psicopatologia do trabalho, está preocupada com a gênese e com as transformações do sofrimento e da doença mental mais diretamente vinculados

- A) aos acidentes típicos e de trajeto.
- B) à organização do trabalho.
- C) ao processo de produção.
- D) ao assédio sexual no trabalho.
- E) à indenização pelos infortúnios do trabalho.

QUESTÃO 36 – No choque elétrico em baixa tensão, sob condições normais do corpo humano, a corrente elétrica injetada pela tensão do choque não é muito grande, ficando geralmente abaixo de 300mA. Os efeitos causados pela corrente, em torno de 250 mA, em um nível de tensão de 110 Volts, usada pelos consumidores, são geralmente:

- A) desprezíveis.
- B) leves, sem nenhuma chance de fibrilação ventricular ou de parada respiratória.
- C) moderados, ocorrendo principalmente queimaduras térmicas, vaporização do plasma e perda de massa muscular.
- D) catastróficos, causando quase sempre a morte por queimaduras.
- E) importantes, causando principalmente fibrilação ventricular e parada respiratória.

QUESTÃO 37 – A intoxicação crônica pelo chumbo produz uma anemia

- A) macrocítica e hipercrômica.
- B) megalobástica e normocrômica.
- C) microcítica e hipocrômica.
- D) microcítica e hipercrômica.
- E) macrocítica e normocrômica.

QUESTÃO 38 - A principal pneumoconiose no Brasil é representada pela exposição:

- A) ao asbesto.
- B) à sílica.
- C) ao bário.
- D) ao ferro.
- E) ao berílio.

QUESTÃO 39 - A dermatite folicular ou elaiocniose está relacionada à exposição ocupacional ao(s):

- A) manganês.
- B) cimento.
- C) solventes aromáticos.
- D) óleos minerais e às graxas.
- E) calor úmido.

QUESTÃO 40 – A perda auditiva induzida pelo ruído ocupacional é:

- A) irreversível, condutiva e acomete inicialmente frequências graves.
- B) reversível, neurossensorial, acomete inicialmente frequências graves.
- C) irreversível, neurossensorial, acomete inicialmente frequências agudas.
- D) reversível, condutiva, acomete tardiamente as frequências agudas.
- E) Irreversível, neurossensorial, acomete tardiamente as frequências agudas.

INFORMÁTICA

Para a resolução das questões desta prova, considere os seguintes detalhes: (1) o *mouse* está configurado para uma pessoa que o utiliza com a mão direita (destro) e usa, com maior frequência, o botão esquerdo, que possui as funcionalidades de seleção ou de arrastar normal, entre outras. O botão da direita serve para ativar o menu de contexto ou de arrastar especial; (2) os botões do *mouse* estão devidamente configurados com a velocidade de duplo clique; (3) os programas utilizados nesta prova foram instalados com todas as suas configurações padrão, entretanto, caso tenham sido realizadas alterações que impactem a resolução da questão, elas serão alertadas no texto da questão ou mostradas visualmente, se necessário; e (4) no enunciado e nas respostas de algumas questões existem palavras que foram digitadas entre aspas, apenas para destacar tais palavras. Neste caso, para resolver as questões, desconsidere as aspas e atente somente para o texto propriamente dito.

As questões 41 e 42 baseiam-se na Figura 1 que mostra a janela principal do Windows Explorer, do Windows XP. Destaca-se, nessa Figura, os seguintes detalhes: (1) estão sendo mostradas diversas pastas existentes em um disco removível, muitas vezes também chamado simplesmente de *pen drive*; (2) Está visível o menu apontado pela seta nº 2, no qual se inseriu, intencionalmente, a seu lado esquerdo, um retângulo vertical, de modo a ocultar qualquer marcação existente nesse local; e (3) a pasta apontada pela seta nº 4 encontra-se selecionada.

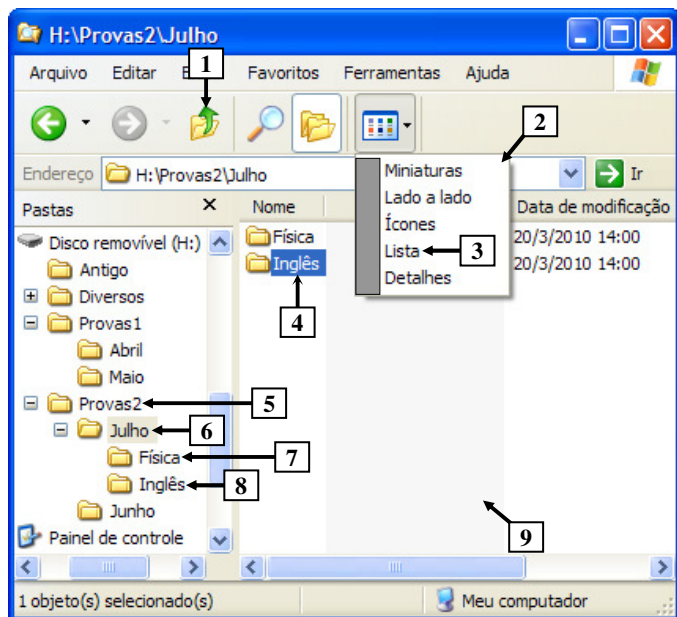


Figura 1 - Windows Explorer

QUESTÃO 41 - Na Figura 1, do Windows Explorer, dando-se um clique, com o botão esquerdo do mouse, sobre o ícone apontado pela seta nº 1, e, a seguir, pressionando-se uma vez a tecla "DELETE", do teclado, pode-se afirmar que será excluída a pasta apontada pela seta nº:


- I. 5.
- II. 6.
- III. 7.
- IV. 8.

Quais estão **corretas**?

- A) Apenas III.
- B) Apenas IV.
- C) Apenas III e IV.
- D) Apenas II, III e IV.
- E) I, II, III e IV.

QUESTÃO 42 - Ao ser dado um clique, com o botão esquerdo do *mouse*, sobre o item de menu apontado pela seta nº 3 (Figura 1), pode-se afirmar que o lado direito da janela principal do Windows Explorer, apontada pela seta nº 9, será mostrado da seguinte forma:

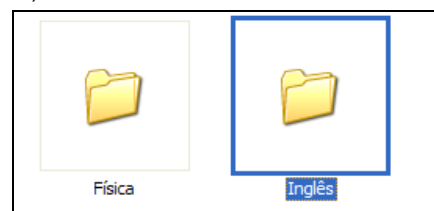
A)



B)



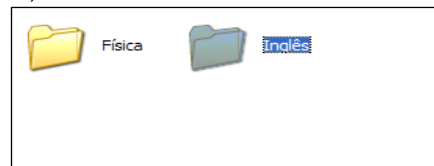
C)



D)



E)



As questões 43 e 44 baseiam-se na Figura 2, que mostra a janela principal do Word 2003, a partir da qual se pode observar que se elaborou um documento, em que a palavra apontada pela seta nº 2 está selecionada.

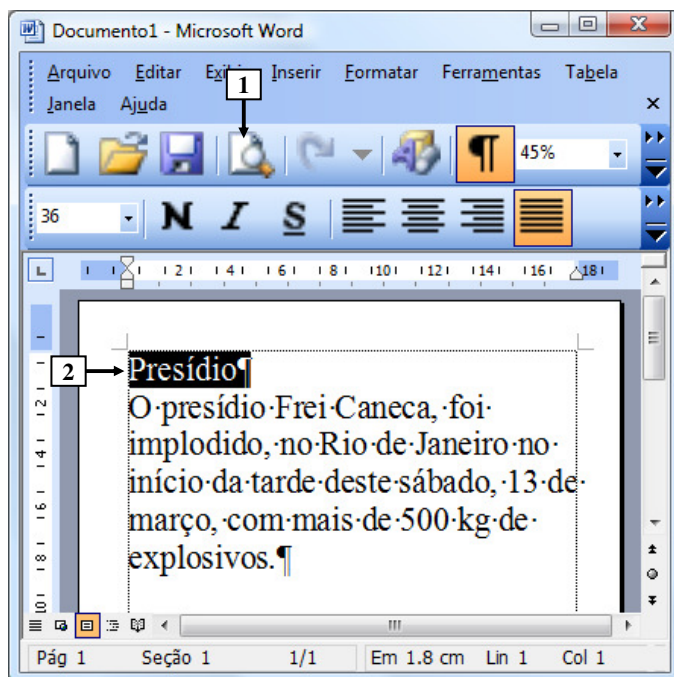


Figura 2 - Janela principal do Word 2003

QUESTÃO 43 - Na janela principal do Word 2003, mostrada na Figura 2, a seta nº 2 aponta para uma palavra que está:

- A) negritada.
- B) em itálico.
- C) sublinhada.
- D) alinhada à esquerda.
- E) justificada.

QUESTÃO 44 - Na Figura 2, do Word 2003, dando-se apenas um clique, com o botão esquerdo do *mouse*, sobre o ícone apontado pela seta nº 1, pode-se afirmar que será:

- A) possível visualizar como será a aparência do documento quando ele for impresso.
- B) impresso o documento dessa Figura.
- C) iniciado o salvamento desse documento.
- D) iniciada a revisão ortográfica desse documento.
- E) desfeito o último comando executado ou desfeita a última entrada digitada.

A questão 45 baseia-se na Figura 3, do Word 2003, a partir da qual se elaborou um documento.

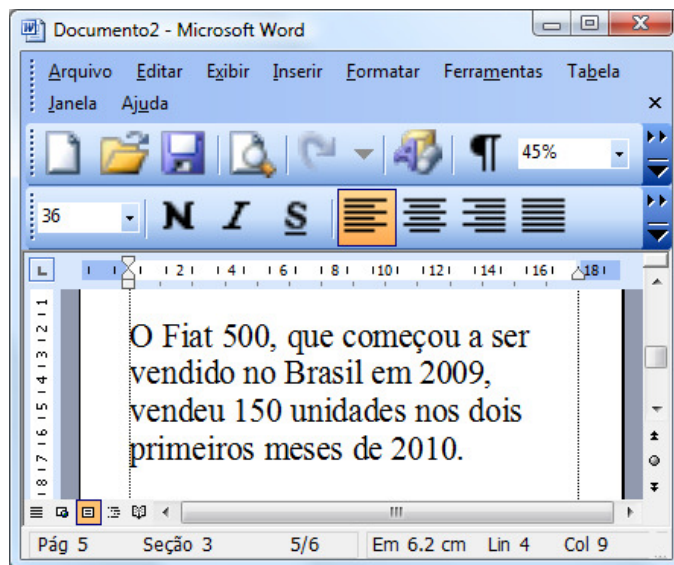


Figura 3 - Janela principal do Word 2003

QUESTÃO 45 - Após observar a Figura 3, do Word 2003, pode-se afirmar que:

- A) esse documento tem 4 páginas.
- B) esse documento tem 9 páginas.
- C) está sendo exibida, na janela principal desse editor de texto, a página de número 3.
- D) está sendo exibida, na janela principal desse editor de texto, a página de número 5.
- E) está sendo exibida, na janela principal desse editor de texto, a página de número 6.

A questão 46 baseia-se na Figura 4, do Word 2003, a partir da qual se elaborou um documento, em que se observa que o parágrafo apontado pela seta nº 4 está selecionado.

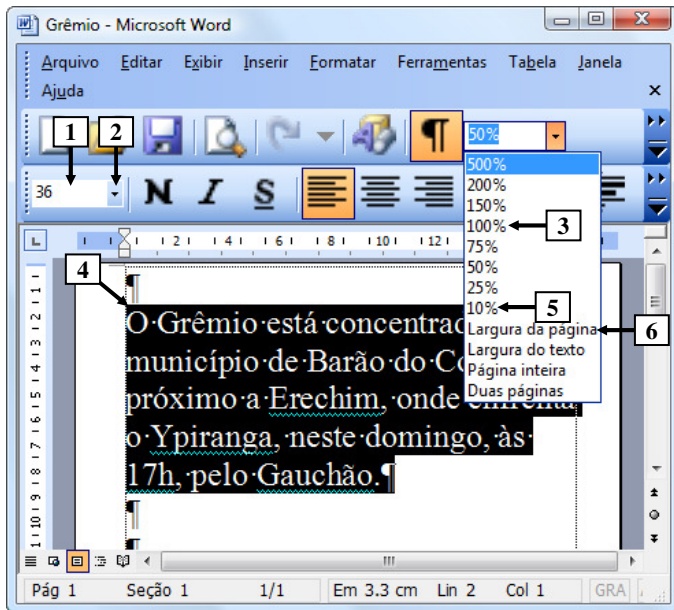


Figura 4 - Janela principal do Word 2003

QUESTÃO 46 - Na Figura 4, do Word 2003, para alterar o tamanho da fonte, do texto apontado pela seta nº 4, basta dar um:

- A) duplo clique, com o botão esquerdo do *mouse*, sobre o local apontado pela seta nº 1.
- B) clique, com o botão esquerdo do *mouse*, sobre o local apontado pela seta nº 2, e selecionar o tamanho de fonte desejado.
- C) clique, com o botão esquerdo do *mouse*, sobre o local apontado pela seta nº 3.
- D) clique, com o botão esquerdo do *mouse*, sobre o local apontado pela seta nº 5.
- E) clique, com o botão esquerdo do *mouse*, sobre o local apontado pela seta nº 6.

A questão 47 baseia-se na Figura 5, que mostra, intencionalmente, apenas, parte da janela principal do Word 2003, a partir da qual se elaborou um documento. Nessa Figura, a seta nº 1 aponta para um ícone que foi ampliado e destacado logo abaixo da janela principal desse editor de texto, de modo a facilitar a visualização e a resolução da questão.

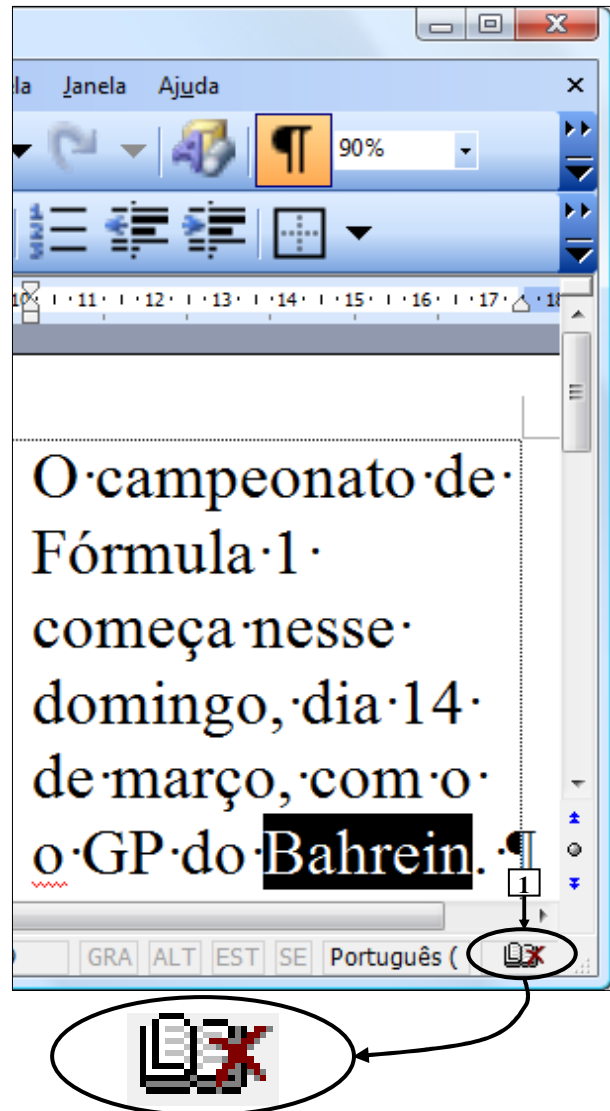


Figura 5 - Janela principal do Word 2003

QUESTÃO 47 - Na Figura 5, do Word 2003, o ícone apontado pela seta nº 1 indica que:

- A) o documento já foi salvo.
- B) o documento ainda não foi salvo.
- C) o documento não pode ser salvo.
- D) há erro de ortografia ou de gramática no documento mostrado nessa Figura.
- E) a palavra que está selecionada não está escrita em português.

As questões 48 e 49 baseiam-se nas Figuras 6(a) e 6(b), do Excel 2003, que mostram o mesmo documento, entretanto com uma pequena diferença entre eles. A Figura 6(a) mostra um documento antes de ser ativado determinado recurso do Excel 2003. A Figura 6(b) mostra o resultado obtido após ter sido ativado determinado recurso, no Excel 2003. Na Figura 6(b), o local apontado pela seta nº 8 foi mascarado, intencionalmente, com um retângulo, de modo a ocultar os ícones existentes nesse local.

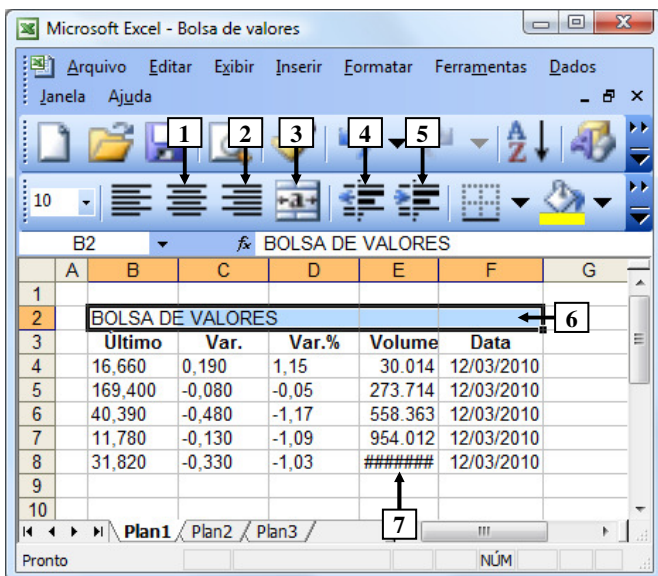


Figura 6(a) – Janela principal do Excel 2003 (antes)

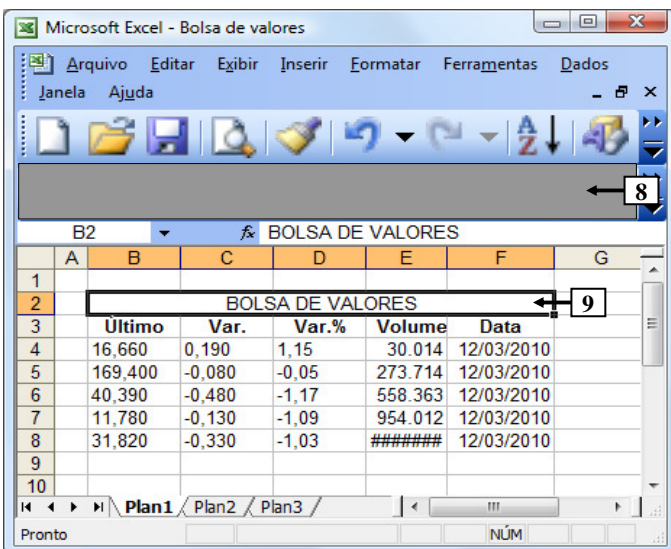


Figura 6(b) – Janela principal do Excel 2003 (após)

QUESTÃO 48 - Para que o texto "BOLSA DE VALORES", apontado pela seta nº 6 (Figura 6(a)), passasse a ser mostrado como apontado pela seta nº 9 (Figura 6(b)), bastou, antes, na Figura 6(a), dar um clique, com o botão esquerdo do *mouse*, sobre o ícone apontado pela seta nº:

- A) 1.
- B) 2.
- C) 3.
- D) 4.
- E) 5.

QUESTÃO 49 - Na Figura 6(a), a seta nº 7 aponta para uma célula na qual se visualizam os caracteres "#####", os quais passaram a ser exibidos, automaticamente, pelo Excel 2003, não tendo sido digitados. Nesse caso, esses caracteres indicam que:

- A) essa célula está bloqueada, não podendo ser digitado nenhum valor numérico nela.
- B) essa célula está bloqueada, não podendo ser digitado nenhum conteúdo nela, seja numérico ou não.
- C) digitou-se, nessa célula, uma palavra quando deveria ser inserido um valor numérico.
- D) digitou-se, nessa célula, um número inválido, quando deveria ser inserido um valor numérico com três casas decimais.
- E) o valor numérico digitado nessa célula não pode ser visualizado devido a não caber na largura da coluna.

A questão 50 baseia-se na Figura 7, que mostra a janela principal do Internet Explorer 8.

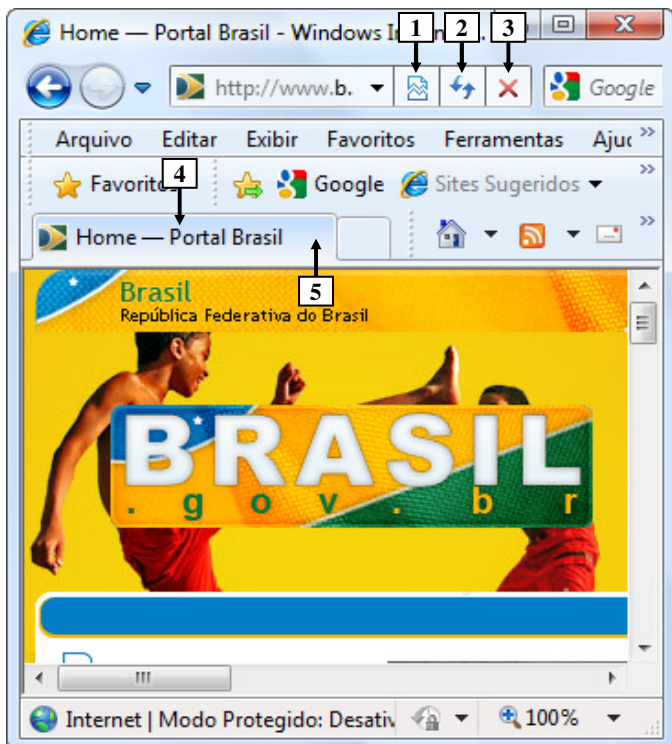


Figura 7 - Internet Explorer 8

QUESTÃO 50 - Após observar a Figura 7, que mostra a janela principal do Internet Explorer 8, pode-se afirmar que:

- A) para fechar apenas a guia apontada pela seta nº 4, basta posicionar o cursor do *mouse* sobre o local apontado pela seta nº 5 e, ao surgir um "X", na cor vermelha, dar um clique, com o botão esquerdo do *mouse*, sobre esse "X".
- B) para fechar apenas a guia apontada pela seta nº 4, basta dar um clique, com o botão esquerdo do *mouse*, sobre o ícone apontado pela seta nº 1.
- C) para fechar apenas a guia apontada pela seta nº 4, basta dar um clique, com o botão esquerdo do *mouse*, sobre o ícone apontado pela seta nº 2.
- D) para fechar apenas a guia apontada pela seta nº 4, basta dar um clique, com o botão esquerdo do *mouse*, sobre o ícone apontado pela seta nº 3.
- E) não é possível fechar apenas a guia apontada pela seta nº 4.