



CREA-PR
Conselho Regional de Engenharia, Arquitetura
e Agronomia do Paraná



SERVIÇO PÚBLICO FEDERAL
Conselho Regional de Engenharia
e Agronomia do Paraná

EDITAL Nº 45/2012

**AGENTE PROFISSIONAL DO SISTEMA (NT) /
AGENTE DE FISCALIZAÇÃO I**

INSTRUÇÕES

Leia atentamente e cumpra rigorosamente as instruções que seguem, pois elas são parte integrante das provas e das normas que regem este Concurso Público.

1. Verifique se o cargo constante na capa deste caderno é aquele para o qual realizou a inscrição.
2. Cada questão oferece 5 (cinco) alternativas de respostas, representadas pelas letras **A, B, C, D e E**, sendo apenas 1 (uma) a resposta correta.
3. O tempo para a realização da prova é de 4 horas, incluindo o preenchimento da grade de respostas e da folha definitiva de redação. O candidato só poderá retirar-se do recinto da prova teórico-objetiva, portando o caderno de prova, após 1 hora e 30 minutos de seu início. Os dois últimos candidatos deverão retirar-se da sala de prova ao mesmo tempo, devendo assinar a Ata de Prova.
4. Nenhuma informação sobre as instruções e/ou sobre o conteúdo das questões será dada pelo fiscal, pois são parte integrante da prova.
5. No caderno de prova, o candidato poderá rabiscar, riscar, calcular, etc.
6. A desidentificação da prova de redação será realizada pelo fiscal de sala após o preenchimento, pelo candidato, da folha definitiva.
7. Os gabaritos preliminares da prova objetiva serão divulgados no dia 03/12/2012, até às 18h00min, no site www.fundatec.org.br.
8. Certifique-se de que este caderno contém 50 (cinquenta) questões e uma prova de redação. Caso contrário, solicite ao fiscal da sala a sua substituição.



Instrução: As questões de números 01 a 10 referem-se ao texto abaixo.

A leitura como festa

01 A leitura nunca deveria ser uma tarefa obrigatória. Pelo contrário. Deveria ser sempre uma tarefa
02 encantatória! Ler para ficar encantado! Esse poderia ser um lema para a vida inteira!

03 Um leitor encantado é cheio de imaginação, pulsante de ideias, feliz com as descobertas que fez,
04 com as vivências que “provou” através da leitura de um determinado texto. Um leitor encantado é vibrante,
05 com vontade de dividir com os outros as maravilhas que conquistou e viveu por meio da leitura. Um leitor
06 encantado consegue responder criativamente aos apelos que o mundo lhe faz e aos apelos que as
07 próximas leituras lhe farão! Um leitor encantado, enfim, é um leitor que sentiu na pele as marcas que a boa
08 leitura proporciona. Um leitor encantado é aberto e ansioso por novas leituras! Um leitor com potencial para
09 encantar outros leitores.

10 Ler é, sim, exercer uma das grandes habilidades do ser humano. É preciso lembrar que nem todo
11 conhecimento é _____, “concreto”, fruto da experiência, da prática. Há uma gama de conhecimentos que
12 a gente adquire pensando, imaginando, criando mentalmente. Essa faculdade precisa ser usada, treinada,
13 exercitada. E nada melhor do que o exercício de ler.

14 Mas acontece que a leitura é um dilema na vida de muita gente! Aproximar-se do texto com medo,
15 suando frio, achando que ler é atravessar uma pedreira, é a pior coisa! Ler, às vezes, pode ser “saltar sobre
16 abismos sem rede de proteção”. Mas esse tipo de leitura também pode ser _____ e estimulante. Saltar
17 abismos pode ser apenas não saber, por exemplo, aonde o texto vai nos levar; é confiar, de algum modo,
18 que aquele texto tem algo a nos dizer, que nos impele a continuar. Saltar abismos pode ser uma
19 experiência inesquecível!

20 De fato, um leitor precisa se sentir provocado pelo texto que vai ler. É essa provocação que o faz
21 _____, o texto se instaurar, conduzir-nos até o final. Por isso, há leituras que quando terminam deixam
22 saudade! Há livros que dão vontade de morar dentro deles, pra sempre! Ou até a gente ter experimentado
23 todas aquelas emoções da maneira mais intensa possível! As emoções livrescas não se repetem (assim
24 como algumas emoções na vida). E mesmo que a gente leia um livro diversas vezes, esse livro nunca vai
25 ser o mesmo. A cada vez estaremos diante de uma obra diferente! Nós estaremos diferentes, o momento
26 será outro.

27 No fim das contas, a gente lê para ser cada vez mais dono da nossa própria história!

(FONTE: Celso Sisto, Zero Hora, 1º.Nov.2012 – Texto Adaptado)

QUESTÃO 01 – Avalie as afirmações abaixo, assinalando A, se estiverem de acordo com o texto, ou D, se em desacordo:

- () Segundo o autor, o exercício da leitura nos transforma em seres aptos a enfrentar as mazelas do mundo.
- () O leitor encantado é aquele que vive experiências através do texto; sempre pronto para novas aventuras através da leitura.
- () O ato de ler é sempre encantatório, visto que todo e qualquer texto contém o conhecimento acerca das dificuldades pelas quais o homem deve passar.

A ordem correta de preenchimento dos parênteses, de cima para baixo, é:

- A) A – A – A.
- B) A – D – A.
- C) D – A – D.
- D) A – D – D.
- E) D – D – D.

QUESTÃO 02 – As lacunas tracejadas das linhas 11, 16 e 21, considerando a grafia das palavras, ficam correta e respectivamente preenchidas por:

- A) empírico – dezafiante – prosseguir
- B) impírico – dezafiante – prosequir
- C) empírico – desafiante – prosseguir
- D) impírico – desafiante – prosequir
- E) empírico – dezafiante – pro-seguir

QUESTÃO 03 – Todas as seguintes propostas de substituição de palavras comprometem o sentido ou a estrutura das situações textuais em que ocorrem, EXCETO:

- A) *ansioso* (l. 08) **por** ávido.
- B) *fruto* (l. 11) **por** prole.
- C) *mentalmente* (l. 12) **por** no crânio.
- D) *de ler* (l. 13) **por** legível.
- E) *impele* (l. 18) **por** repele.

QUESTÃO 04 – Considere as seguintes ocorrências do verbo *haver* e as afirmações que são feitas a seguir:

1. **Há** uma gama de conhecimentos (l.11).
 2. Por isso, **há** leituras que quando terminam deixam saudade! (l. 21 e 22).
 3. **Há** livros que dão vontade de morar dentro deles (l. 22).
- I. Em todas as ocorrências, a substituição pelo verbo **existir** exige flexão no plural.
 - II. Nas três situações, o verbo *haver* é impessoal.
 - III. Em 1, a substituição do verbo *haver* pelo **existir** NÃO implica flexão de número.

Quais estão corretas?

- A) Apenas I.
- B) Apenas II.
- C) Apenas I e II.
- D) Apenas II e III.
- E) I, II e III.

QUESTÃO 05 – Sobre o uso de pronomes no texto, afirma-se que:

- I. Na linha 02, o pronome *Esse* refere-se a informação já mencionada no próprio parágrafo.
- II. Na linha 06, o pronome *lhe* funciona como complemento de *faz*.
- III. Na linha 18, a palavra *que* (1ª ocorrência) funciona como pronome relativo.

Quais estão INCORRETAS?

- A) Apenas I.
- B) Apenas II.
- C) Apenas III.
- D) Apenas I e II.
- E) Apenas II e III.

QUESTÃO 06 – Todas as palavras a seguir, retiradas do texto, são acentuadas em virtude da mesma regra, à EXCEÇÃO de:

- A) obrigatória.
- B) contrário.
- C) vivências.
- D) experiência.
- E) inesquecível.

QUESTÃO 07 – Em qual das seguintes passagens do texto, identifica-se o uso de linguagem conotativa?

- A) *Um leitor encantado é vibrante* (l. 04).
- B) *consegue responder criativamente aos apelos* (l. 06).
- C) *Aproximar-se do texto com medo, suando frio* (l. 14 e 15).
- D) *um leitor precisa se sentir provocado* (l. 20).
- E) *emoções da maneira mais intensa possível* (l. 23).

QUESTÃO 08 – Analise as seguintes passagens do texto e as afirmações que as seguem a respeito do uso de sinais de pontuação:

1. Deveria ser sempre uma tarefa encantatória! Ler para ficar encantado! Esse poderia ser um lema para a vida inteira! (l. 01-02) – Os pontos de exclamação poderiam ser substituídos por pontos finais sem provocar incorreção na estrutura das frases; entretanto, isso provocaria prejuízo ao sentido pretendido pelo autor.
2. a gente adquire pensando, imaginando, criando mentalmente. (l. 12) – As vírgulas utilizadas nesse fragmento separam orações reduzidas.
3. No fim das contas, a gente lê para ser cada vez mais dono da nossa própria história! (l. 27) – A vírgula tem a função de separar um aposto.

Quais estão corretas?

- A) Apenas 1.
- B) Apenas 2.
- C) Apenas 3.
- D) Apenas 1 e 2.
- E) Apenas 2 e 3.

QUESTÃO 09 – Assinale a alternativa cujas informações acerca de palavras do texto estejam corretas.

- A) Em *inteira* (l. 02) há 6 fonemas, devido à ocorrência de um dígrafo.
- B) Na palavra *determinado* (l. 04), ocorre um dígrafo, representado por *rm*.
- C) Em *conhecimentos* (l. 11), o segmento *nh* representa um encontro consonantal.
- D) Nas palavras *texto* (l. 20) e *deixam* (l. 21), a letra **x** representa o mesmo fonema.
- E) A palavra *diferentes* (l. 25) possui o mesmo número de letras e de fonemas.

QUESTÃO 10 – Um dos objetivos do texto é:

- A) Divulgar a necessidade diária de leitura.
- B) Demonstrar que ler não dói.
- C) Discutir a importância da leitura durante o dia.
- D) Mostrar que o ato de ler nos transforma.
- E) Incentivar a supressão do ato de ler.

MATEMÁTICA

QUESTÃO 11 – Uma empresa foi multada por jogar resíduos tóxicos em um rio, cujo valor da multa foi de R\$45.000,00 mais R\$1.500,00 por dia até que a empresa se ajustasse às normas que regulamentam os índices de poluição. Sabendo que a empresa pagou R\$79.500,00 de multa, o número de dias que levou para se ajustar às normas exigidas foi de

- A) 10.
- B) 15.
- C) 23.
- D) 30.
- E) 35.

QUESTÃO 12 – Um empréstimo de R\$ 50.000,00 será pago no prazo de 5 meses, com juros simples de 2,5% a.m. (ao mês). Nesse sentido, o valor da dívida na data do seu vencimento será:

- A) R\$6.250,00.
- B) R\$16.250,00.
- C) R\$42.650,00.
- D) R\$56.250,00.
- E) R\$62.250,00.

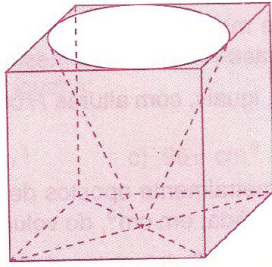
QUESTÃO 13 – Acrescendo 3cm ao lado de um quadrado, a área aumentará em 39cm^2 . Nesse sentido, a medida da diagonal do quadrado inicial é

- A) 5cm
- B) $5\sqrt{2}$ cm
- C) 6cm
- D) $10\sqrt{2}$ cm
- E) 8cm

QUESTÃO 14 – Sabendo que $a = 0,6835$, $b = (0,6835)^2$ e $c = \sqrt{0,6835}$, então:

- A) $a < b < c$
- B) $b < a < c$
- C) $c < b < a$
- D) $a < c < b$
- E) $c < a < b$

Para responder à questão 15, observe a figura a seguir:



QUESTÃO 15 – A figura acima apresenta um porta-lápis que é formado por um cubo, com aresta de 12cm, do qual foi retirado uma parte cônica. Nesse sentido, o volume do porta-lápis é

- A) $1728 \pi \text{ cm}^3$
- B) $1588 \pi \text{ cm}^3$
- C) $(1728 - 432 \pi) \text{ cm}^3$
- D) $1584 \pi \text{ cm}^3$
- E) $(1728 - 144 \pi) \text{ cm}^3$

QUESTÃO 16 – A fim de vistoriar a obra de um estádio de futebol para a copa de 2014, um órgão público organizou uma comissão composta por 4 pessoas, sendo um engenheiro e 3 técnicos. Sabendo-se que em seu quadro de funcionários o órgão dispõe de 3 engenheiros e de 9 técnicos, pode-se afirmar que a referida comissão poderá ser formada de _____ maneiras diferentes.

Assinale a alternativa que completa corretamente a lacuna do trecho acima.

- A) 252
- B) 250
- C) 243
- D) 127
- E) 81

QUESTÃO 17 – Supondo que o valor d (em milhares de reais) gasto com cimento por uma prefeitura, de janeiro a dezembro de 2011, pode ser aproximado pelo modelo $d(t) = -t^2 + 12t + 13$, $1 \leq t \leq 12$, em que t representa o mês, com $t=1$ correspondendo a janeiro, qual o mês em que a prefeitura teve o maior gasto com cimento?

- A) Janeiro.
- B) Maio.
- C) Junho.
- D) Setembro.
- E) Dezembro.


QUESTÃO 18 – O montante de uma aplicação financeira no decorrer dos anos é dado por $M(x) = 300 \cdot (1,05)^x$, onde x representa o mês após a aplicação, e, no momento em que foi ela realizada, x era igual a zero. O montante após 2 meses de aplicação é de

- A) R\$303,00.
- B) R\$330,75.
- C) R\$475,85.
- D) R\$675,00.
- E) R\$725,60.

QUESTÃO 19 – Considerando que $x \neq 0$ e $y \neq 0$, temos que o resultado do produto $x^2 y^3 \cdot x^2 y^6 \cdot x^2 y^9 \cdot x^2 y^{12} \cdot \dots \cdot x^2 y^{135}$ é:

- A) $x^2 y^{305}$
- B) $x^{270} y^{6075}$
- C) $x^{90} y^{270}$
- D) $x^{90} y^{3105}$
- E) $x^2 y^{270}$

Para responder à questão 20, observe a figura a seguir:



QUESTÃO 20 – Suponha que a rampa do Palácio do Planalto, em Brasília, forma com o solo um triângulo retângulo de vértices A, B e C, conforme a figura. Se sua inclinação com relação ao solo é constante de 26° e a distância de sua base no ponto B até o ponto C é de 9m, a distância do ponto A ao ponto C é:

(Considere: $\text{sen}(26^\circ) = 0,438$; $\text{cos}(26^\circ) = 0,899$ e $\text{tan}(26^\circ) = 0,488$)

- A) 3m
- B) 3,942m
- C) 4,392m
- D) 5m
- E) 8,091m

CONHECIMENTOS GERAIS

QUESTÃO 21 – "Neil é para mim um dos maiores heróis americanos", afirmou Barack Obama no momento da morte de Neil Armstrong, norte-americano que se notabilizou por ser o

- A) comandante das tropas aliadas que desembarcaram na Normandia.
- B) primeiro astronauta a pisar na Lua.
- C) pioneiro do jazz no sul dos Estados Unidos.
- D) líder do movimento pacifista que defendia o fim da guerra do Vietnã.
- E) defensor da igualdade racial no sul dos Estados Unidos na década de 1960.

QUESTÃO 22 – Assinale a alternativa que faz a correspondência correta entre o país e o seu atual governante.

- A) Bolívia – Hugo Chávez.
- B) Paraguai – Fernando Lugo.
- C) Uruguai – José Mujica.
- D) Colômbia – Rafael Correa.
- E) Chile – Michelle Bachelet.

QUESTÃO 23 – No Brasil, o aborto provocado é considerado crime passível de prisão, EXCETO:

- I. Em caso de risco de morte da mãe.
- II. Em caso de gravidez por estupro.
- III. Em caso de gestação de um feto anencéfalo.

Quais estão corretas?

- A) Apenas I.
- B) Apenas I e II.
- C) Apenas I e III.
- D) Apenas II e III.
- E) I, II e III.

QUESTÃO 24 – Após crescimento recorde em 2010, a produção industrial brasileira vem diminuindo em 2012, consequência da

- A) falta de matérias-primas nacionais.
- B) política protecionista adotada pelo governo federal.
- C) desvalorização do real que dificulta as importações brasileiras.
- D) crise econômica mundial.
- E) expansão de investimentos estrangeiros no país.

QUESTÃO 25 – As lavouras de organismos geneticamente modificados, também chamados de transgênicos, ampliam sua área de plantio em diversos países. No Brasil, o cultivo e o uso de transgênicos estão regulamentados

- A) na Lei de Biossegurança.
- B) na Lei Federal da Biodiversidade.
- C) na Lei de Diretrizes do Meio Ambiente.
- D) no Novo Código Federal Ambiental.
- E) no Marco Regulatório dos Biomas.

QUESTÃO 26 – Em 2012, o Prêmio Nobel da Paz foi entregue

- A) à Cruz Vermelha Internacional.
- B) ao Ciência sem Fronteiras.
- C) à União Europeia.
- D) à Organização dos Estados Americanos.
- E) à Organização das Nações Unidas.

QUESTÃO 27 – "Sou um menino que vê o amor pelo buraco da fechadura. Nunca fui outra coisa. Nasci menino, hei de morrer menino. E o buraco da fechadura é, realmente, a minha ótica de ficcionista. Sou (e sempre fui) um anjo pornográfico."

O trecho acima é de autoria de um grande dramaturgo brasileiro. Brillante e polêmico, _____ completaria 100 anos em 2012.

Assinale a alternativa que completa de forma correta a lacuna acima.

- A) Nelson Rodrigues
- B) Carlos Drummond de Andrade
- C) Ferreira Goulart
- D) Arthur Azevedo
- E) Martins Pena

QUESTÃO 28 – A principal característica da formação do território brasileiro, desde a colonização, tem sido a ocupação e distribuição desiguais da terra e dos recursos naturais. A região que tem a estrutura fundiária mais bem distribuída do país é a

- A) Sul.
- B) Sudeste.
- C) Centro-oeste.
- D) Nordeste.
- E) Norte.

QUESTÃO 29 – No navegador de arquivos do Windows 7, é possível alterar o modo de exibição dos arquivos de uma pasta através de um dos botões numerados na Figura 1 (números em vermelho à esquerda dos botões).

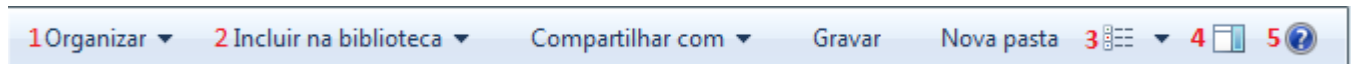


Figura 1

Qual dos botões numerados na figura acima é utilizado para alterar o modo de exibição no navegador de arquivos?

- A) 1
- B) 2
- C) 3
- D) 4
- E) 5

QUESTÃO 30 – No Word 2010, há um recurso que faz com que o conteúdo removido de um documento não seja removido de fato, mas sim marcado como excluído através de uma formatação diferenciada. O mesmo acontece com o conteúdo inserido, indicando que ele foi acrescentado ao documento. Com esse recurso, o conteúdo original do documento é preservado e as modificações serão ou não aplicadas por quem possui a senha para modificar o documento. Partindo do menu Proteger Documento (Figura 2), qual das alternativas abaixo representa a sequência correta de opções para habilitar esse recurso?

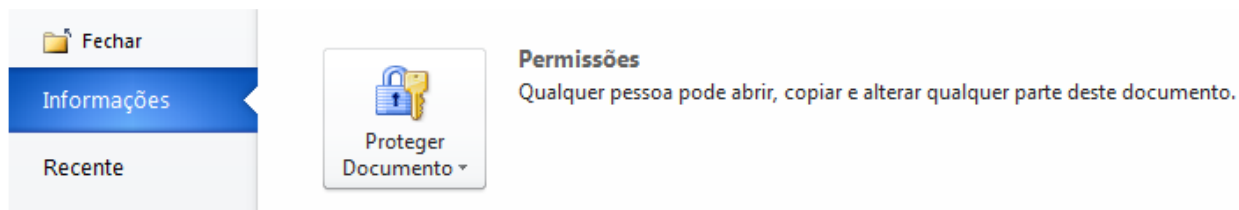


Figura 2

- A) Selecionar “Restringir Edição”, marcar “Permitir apenas este tipo de edição no documento”, selecionar “Sem alteração (somente leitura)” e clicar em “Sim, Aplicar Proteção”.
- B) Restringir Edição, marcar “Permitir apenas este tipo de edição no documento” e selecionar “Alterações controladas” e clicar em “Sim, Aplicar Proteção”.
- C) Criptografar com Senha.
- D) Restringir Edição, marcar “Permitir apenas este tipo de edição no documento” e selecionar “Comentários”.
- E) Restringir Edição e marcar “Limitar a formatação a uma seleção de estilos”.

QUESTÃO 31 – O Word 2010 possui um modo de exibição chamado Microsoft Office Backstage através do qual é possível executar ações relacionadas ao gerenciamento de documentos, como criar novo documento, salvar, salvar como, imprimir, acessar ajuda, etc. Na interface do Word 2010, como o Microsoft Office Backstage é acessado?

- A) Clicando na guia “Arquivo” presente na Faixa de Opções.
- B) Clicando no ícone do Word no canto esquerdo superior da interface.
- C) Clicando na guia “Exibição” presente na Faixa de Opções.
- D) Pressionando uma vez a tecla Logotipo do Windows.
- E) Pressionando a tecla F1.

QUESTÃO 32 – Em uma planilha do Excel 2010, uma função pode ser inserida sem que o usuário precise utilizar o *mouse*. Para tanto, é preciso que o conteúdo inserido na célula que receberá a função inicie com um símbolo matemático. Assinale a alternativa que apresenta o símbolo correto.

- A) =
- B) >
- C) +
- D) –
- E) @

QUESTÃO 33 – No Word 2010, é possível criar um novo documento baseado em modelos predefinidos ou em arquivos existentes dos quais o Word carrega as definições de formatação e algum conteúdo; dessa forma, o usuário precisa apenas preocupar-se com o conteúdo a ser inserido no documento. Supondo que um funcionário precise escrever uma carta em nome da empresa na qual trabalha, contendo a logomarca da empresa, formatação predefinida e informações sobre a empresa como, por exemplo, endereço, qual procedimento listado abaixo deve ser seguido para realizar essa tarefa utilizando a funcionalidade mencionada no início da questão?

- A) Na guia “Arquivo”, clicar em “Novo”, nos modelos do Office.com clicar em “Cartas” e selecionar um dos modelos de carta fornecidos pela Microsoft da categoria mais adequada.
- B) Na guia “Arquivo”, clicar em “Novo”, clicar em “Novo a partir de existente” e selecionar uma carta da empresa salva no computador.
- C) Na guia “Arquivo”, clicar em “Novo”, pesquisar por “cartas” na barra de pesquisa dos modelos do Office.com e utilizar o modelo que julgar mais apropriado.
- D) Na guia “Correspondências”, clicar em “Iniciar Mala Direta” e selecionar “Cartas”.
- E) Utilizar os recursos das guias “Página Inicial”, “Inserir” e “Layout da Página” para formatar o documento de acordo com as normas de correspondência da empresa.

QUESTÃO 34 – No Excel 2010, é possível redimensionar a largura de um conjunto de colunas de uma planilha simultaneamente, de forma que, ao final da operação, todas tenham a mesma largura. Qual das seguintes alternativas descreve como realizar esse procedimento corretamente?

- A) Selecionar as colunas a serem alteradas e redimensionar uma das colunas selecionadas.
- B) Selecionar as colunas a serem alteradas e modificar o tamanho da fonte.
- C) Selecionar as colunas a serem alteradas e clicar em “Aumentar Recuo”.
- D) Selecionar as colunas a serem alteradas e aumentar ou diminuir o nível de Zoom.
- E) Selecionar as colunas a serem alteradas e, na guia “Exibição”, clicar em “Organizar Tudo”.

QUESTÃO 35 – Através dos Favoritos, recurso presente em grande parte dos navegadores, é possível salvar o endereço de páginas web no próprio navegador, possibilitando um acesso mais rápido a essas páginas. No navegador Mozilla Firefox (versão 16), os itens salvos nos Favoritos podem ser acessados rapidamente através da barra de endereços (em destaque na figura 3), pois, enquanto o usuário digita alguma informação, o navegador realiza buscas nos Favoritos.

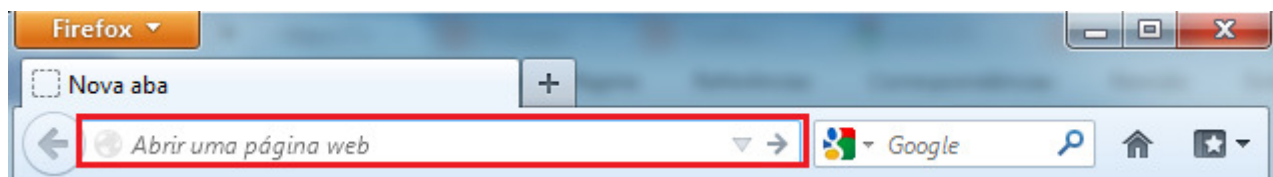


Figura 3

Analise os itens a seguir, os quais podem ser utilizados na barra de endereços para acessar páginas salvas nos Favoritos.

- I. Página.
- II. Marcador de favorito.
- III. Título de favorito.
- IV. Pasta de favoritos.

Quais estão corretos?

- A) Apenas I.
- B) Apenas I e II.
- C) Apenas II e III.
- D) Apenas I, II e III.
- E) Apenas I, III e IV.

LEGISLAÇÃO

QUESTÃO 36 – Dispõe a Lei nº 5.194/1966 que as remunerações iniciais dos engenheiros, arquitetos e engenheiros agrônomos, qualquer que seja a fonte pagadora, não poderão ser inferiores a

- A) R\$624,05.
- B) R\$1.244,00.
- C) R\$2.820,00.
- D) 4 (quatro) vezes o salário mínimo da respectiva região.
- E) 6 (seis) vezes o salário mínimo da respectiva região.

QUESTÃO 37 – De acordo com o constante na Lei nº 6.496/1977, a ART (Anotação de Responsabilidade Técnica) define, para os efeitos legais:

- I. O Regimento da Mútua.
- II. O controle de qualidade da obra.
- III. A contribuição dos associados, cobrada anual ou parceladamente e recolhida.
- IV. Os responsáveis técnicos pelo empreendimento de engenharia, arquitetura e agronomia.

Quais estão corretas?

- A) Apenas I.
- B) Apenas II.
- C) Apenas IV.
- D) Apenas II e IV.
- E) I, II, III e IV.

QUESTÃO 38 – A Mútua será administrada por uma Diretoria Executiva, composta de _____ membros. Os mandatos da Diretoria Executiva terão duração de _____ anos, sendo gratuito o exercício das funções correspondentes.

Considerando o disposto na Lei nº 6.496/1977, as lacunas do trecho acima ficam, correta e respectivamente, preenchidas por:

- A) 04 (quatro) – 02 (dois)
- B) 04 (quatro) – 03 (três)
- C) 05 (cinco) – 03 (três)
- D) 06 (seis) – 04 (quatro)
- E) 12 (doze) – 04 (quatro)

QUESTÃO 39 – Os atos de improbidade administrativa são configurados como crimes de responsabilidade, portanto, estão estabelecidas na Constituição Federal, dentre outras, as seguintes punições para os infratores, EXCETO

- A) suspensão dos direitos políticos.
- B) expatriação voluntária.
- C) a perda da função pública.
- D) a indisponibilidade dos bens.
- E) ressarcimento ao erário.

QUESTÃO 40 – Em relação aos processos administrativos, terão prioridade na tramitação, em qualquer órgão ou instância, os procedimentos administrativos em que figure como parte ou interessado:

- I. Pessoa com idade igual ou superior a 60 (sessenta) anos.
- II. Pessoa portadora de deficiência, física ou mental.
- III. Menor incapaz.
- IV. Pessoa portadora de tuberculose ativa, esclerose múltipla, neoplasia maligna, hanseníase, paralisia irreversível e incapacitante, cardiopatia grave, doença de Parkinson, espondiloartrose anquilosante, nefropatia grave, hepatopatia grave, estados avançados da doença de Paget (osteíte deformante), contaminação por radiação, síndrome de imunodeficiência adquirida.

Quais estão corretas?

- A) Apenas I e II.
- B) Apenas I e III.
- C) Apenas II e IV.
- D) Apenas I, II e IV.
- E) I, II, III e IV.

QUESTÃO 41 – De acordo com a Lei nº 9.784/1999, são deveres do administrado perante a Administração, sem prejuízo de outros previstos em ato normativo, EXCETO

- A) expor os fatos conforme a verdade.
- B) fazer-se assistir, facultativamente, por advogado, salvo quando obrigatória a representação, por força de lei.
- C) proceder com lealdade, urbanidade e boa-fé.
- D) não agir de modo temerário.
- E) prestar as informações que lhe forem solicitadas e colaborar para o esclarecimento dos fatos.

QUESTÃO 42 – Embasado no que dispõe a Lei nº 5.194/1966, analise as afirmativas abaixo, assinalando V, para verdadeiro, ou F, para falso.

As profissões de engenheiro, arquiteto e engenheiro-agrônomo são caracterizadas pelas realizações de interesse social e humano que importem na realização dos seguintes empreendimentos:

- () Meios de locomoção e comunicações.
- () Instalações e meios de acesso a costas, cursos e massas de água e extensões terrestres.
- () Aproveitamento e utilização de recursos naturais.
- () Edificações, serviços e equipamentos urbanos, rurais e regionais, nos seus aspectos técnicos e artísticos.
- () Desenvolvimento industrial e agropecuário.

A sequência correta de preenchimento dos parênteses, de cima para baixo, é:

- A) V – V – V – F – F.
- B) F – F – F – F – F.
- C) V – F – V – V – V.
- D) V – V – V – V – V.
- E) F – F – F – V – V.

QUESTÃO 43 – Segundo a Lei nº 9.784/1999, em relação à competência, não pode ser objeto de delegação:

- I. A edição de atos de caráter normativo.
- II. A decisão de recursos administrativos.
- III. As matérias de competência exclusiva do órgão ou autoridade.

Quais estão corretas?

- A) Apenas I.
- B) Apenas II.
- C) Apenas III.
- D) Apenas I e III.
- E) I, II e III.

CONHECIMENTOS ESPECÍFICOS

QUESTÃO 44 – Considerando os termos do Código de Ética Profissional da Engenharia, da Arquitetura, da Agronomia, da Geologia, da Geografia e da Meteorologia, analise as seguintes afirmações:

- I. Os seus preceitos têm alcance sobre os profissionais a ele vinculado de forma geral, quaisquer que sejam os níveis de formação, modalidades ou especializações.
- II. As modalidades e especializações profissionais vinculadas a esse Código não poderão estabelecer preceitos próprios, referentes a condutas atinentes às suas peculiaridades e especialidades.
- III. Os profissionais sujeitos a esse Código devem harmonizar os interesses pessoais aos coletivos.

Quais estão corretas?

- A) Apenas I.
- B) Apenas II.
- C) Apenas I e II.
- D) Apenas I e III.
- E) I, II e III.

QUESTÃO 45 – Considerando o regramento fixado pelo Código de Ética Profissional da Engenharia, da Arquitetura, da Agronomia, da Geologia, da Geografia e da Meteorologia no que se refere aos deveres nas relações com os clientes, empregados e colaboradores, indique a alternativa INCORRETA.

- A) Dispensar tratamento justo a terceiros, observando o princípio da equidade.
- B) Resguardar o sigilo profissional, quando do interesse do seu cliente ou empregador, mesmo que exista obrigação legal de divulgação deste.
- C) Fornecer informação certa, precisa e objetiva em publicidade.
- D) Alertar sobre os riscos e responsabilidades relativos às prescrições técnicas e às consequências presumíveis de sua inobservância.
- E) Adequar sua forma de expressão técnica às necessidades do cliente e às normas vigentes aplicáveis.

QUESTÃO 46 – A ação punitiva do Conselho Federal de Engenharia, Arquitetura e Agronomia, no exercício do poder de polícia, em processos administrativos que objetivem apurar infração à legislação em vigor, prescreve em

- A) um ano.
- B) dois anos.
- C) três anos.
- D) cinco anos.
- E) dez anos.

QUESTÃO 47 – Em relação aos termos do Código de Ética Profissional da Engenharia, da Arquitetura, da Agronomia, da Geologia, da Geografia e da Meteorologia, indique a alternativa correta sobre as condutas por este vedadas.

- A) Valorar os interesses coletivos, salvo os ambientais.
- B) Descumprir, mesmo que involuntariamente e com justo motivo, os deveres do ofício.
- C) Apresentar proposta de honorários com valor vis.
- D) Fazer propaganda pessoal.
- E) Divulgar os conhecimentos científicos, artísticos e tecnológicos inerentes à profissão.

QUESTÃO 48 – Nos termos da Resolução nº 1.008, do Conselho Federal de Engenharia, Arquitetura e Agronomia, a instauração de processo perante esse Conselho poderá ser instrumentalizada por denúncia

- A) apresentada por pessoa física ou pessoa jurídica de direito público ou privado.
- B) formulada exclusivamente por pessoa física.
- C) formulada exclusivamente por entidade de classe ou instituição de ensino.
- D) formulada exclusivamente por instituição de ensino pública.
- E) exclusivamente resultante de atos dos órgãos de fiscalização do Conselho.

QUESTÃO 49 – Sobre os procedimentos para instauração, instrução e julgamento dos processos de infrações e aplicações de penalidades que tramitam no Conselho Federal de Engenharia, Arquitetura e Agronomia, é correto afirmar que da decisão proferida pelo Plenário dessa entidade

- A) não cabe pedido de reconsideração.
- B) cabe um único pedido de reconsideração.
- C) cabe pedido de reconsideração, que terá efeito suspensivo.
- D) cabe pedido de reconsideração no prazo de cinco dias contados da data do recebimento da notificação.
- E) cabe recurso no prazo de trinta dias.

QUESTÃO 50 – Nos termos da Resolução nº 1.025, de 30 de outubro de 2009, do Conselho Federal de Engenharia, Arquitetura e Agronomia, no que se refere à Anotação de Responsabilidade Técnica (ART) de Obra ou Serviço, o Art. 28 diz que: “A ART relativa à execução de obra ou prestação de serviço deve ser registrada antes do início da respectiva atividade técnica, de acordo com as informações constantes do contrato firmado entre as partes.” O referido artigo apresenta os seguintes parágrafos, representados a seguir, pelas assertivas I e II:

- I. No caso de obras públicas, a ART pode ser registrada em até um mês após a liberação da ordem de serviço ou após a assinatura do contrato ou de documento equivalente, desde que não esteja caracterizado o início da atividade.
- II. É vedado o registro da ART relativa à execução de obra ou à prestação de serviço concluído, cuja atividade técnica tenha sido iniciada após a data de entrada em vigor desta resolução.

Considerando o art. 28 da referida Resolução, pode-se afirmar que:

- A) A assertiva I está incorreta, pois a ART pode ser registrada em até dez dias após a liberação da ordem de serviço.
- B) Tanto a Assertiva I quanto a II estão corretas.
- C) A assertiva II está incorreta, pois é permitido o registro da ART relativa à execução de obra ou à prestação de serviço concluído.
- D) As duas assertivas estão incorretas, pois ambas contêm dados incorretos.
- E) Apenas a assertiva I está correta, já que, em II, o registro na ART pode ser feito a qualquer momento.

Instruções Gerais:

Elabore um texto dissertativo com extensão mínima de **25** linhas e máxima de **30**, expondo suas ideias sobre o tema proposto. A dissertação deverá apresentar ideias organizadas, de acordo com a norma culta da língua escrita, fundamentada em argumentos consistentes, podendo, inclusive valer-se de pequenas narrações ou descrições. Lembre-se de criar um título.

Aspectos Gerais:

1. Confira se seus dados de identificação estão corretos na sua folha definitiva de redação. Qualquer divergência, chame o fiscal da sala.
2. Faça o rascunho de seu texto, revise-o e, a seguir, passe-o a limpo na folha definitiva que está devidamente identificada.
3. Não serão corrigidos textos a lápis.
4. Não é permitido o uso de corretivo líquido. Caso cometa algum equívoco, risque-o e reescreva a passagem.
5. Textos que não abordarem o tema proposto e que não tiverem o número mínimo de linhas delimitado NÃO serão considerados.
6. A letra deverá ser legível e de tamanho regular.

TEMA: A IMPORTÂNCIA DA LEITURA NO MUNDO DO TRABALHO

Segundo Aurélio (2010), ler é:

1. Percorrer com a vista (o que está escrito) proferindo ou não as palavras, mas conhecendo-as.
2. Pronunciar em voz alta; recitar (o que está escrito).
3. Ver e estudar (coisa escrita).
4. Perceber (sinais, signos, mensagem) com a vista ou com o tato, compreendendo-lhes o significado.
5. Observar (algo, ou certos sinais, características, etc.), percebendo, intuindo ou deduzindo a significação; decifrar ou interpretar o sentido de.
6. Adivinhar, predizer dessa maneira.
7. Interpretar o aspecto de (radiografia), o resultado de (teste), etc.
8. Reconhecer, perceber; sentir.
9. Explicar ou prelecionar como professor.
10. Realizar leitura (11) de; captar, em determinado suporte físico (uma sequência de signos aí marcados ou registrados, ou uma série de modificações de um sinal [22]), recuperando ou permitindo recuperar a informação nele armazenada.
11. Restr. Inform. Copiar (informação presente em algum meio de armazenamento) para a memória principal do computador, onde a informação fica disponível para ser processada.
12. Ver as letras do alfabeto e juntá-las em palavras, repetindo-as mentalmente ou em voz alta.

Qualquer das acepções acima para descrever o ato de ler pode nos parecer lugar comum, afinal, em algum momento de nossas vidas, executamos essa atividade. Entretanto, modernamente, vimos que ler está agregando uma característica do mundo moderno: a pressa, a rapidez. Pressa que se apossa de nosso tempo e, em consequência disso, tendemos a abreviar nossa leitura. No mundo do trabalho, é necessário compreender os textos com os quais nos deparamos de forma objetiva, sem deixar qualquer detalhe de lado, visto que podemos comprometer o objeto maior de nossa atividade. Mesmo assim, devemos conciliar tempo, leitura e compreensão.

Nesse sentido, solicitamos a elaboração de um texto dissertativo, discorrendo acerca das seguintes questões: Qual a importância de dominarmos as estratégias de leitura para podermos nos destacar no mundo do trabalho? Em que medida a rapidez do mundo moderno interfere na nossa capacidade de leitura?

Ao posicionar-se sobre o assunto, procure apresentar justificativas plausíveis. Além disso, ao desenvolver sua dissertação, apresente ideias organizadas, de acordo com a norma culta da língua escrita, fundamentada em argumentos consistentes, podendo, inclusive, valer-se de pequenas narrações ou descrições. Evite cópia dos textos da prova.

Utilize este espaço para fazer seu rascunho

Título:	
1	
2	
3	
4	
5	
6	
7	
8	
9	
10	
11	
12	
13	
14	
15	
16	
17	
18	
19	
20	
21	
22	
23	
24	
25	
26	
27	
28	
29	
30	