



**PREFEITURA MUNICIPAL DE CAMPO BOM
ESTADO DO RIO GRANDE DO SUL
CONCURSO PÚBLICO Nº 01/2019**

MOTORISTA

Instruções

Leia atentamente e cumpra rigorosamente as instruções que seguem, pois elas são parte integrante das provas e das normas que regem esse Concurso Público.

1. Atente-se aos avisos contidos no quadro da sala.
2. Seus pertences deverão ser armazenados dentro do saco plástico fornecido pelo fiscal. Somente devem permanecer em posse do candidato caneta esferográfica de material transparente, com tinta azul ou preta de ponta grossa, documento de identidade, lanche e água, se houver. A utilização de qualquer material não permitido em edital é expressamente proibida, acarretando a imediata exclusão do candidato.
3. Certifique-se de que este caderno:
 - contém 40 (quarenta) questões;
 - refere-se ao cargo para o qual realizou a inscrição;
4. Cada questão oferece 5 (cinco) alternativas de respostas, representadas pelas letras A, B, C, D e E, sendo apenas 1 (uma) a resposta correta.
5. No caderno de prova, pode-se rabiscar, riscar e calcular.
6. Será respeitado o tempo para realização da prova conforme previsto em edital, incluindo o preenchimento da grade de respostas.
7. A responsabilidade referente à interpretação dos conteúdos das questões é exclusiva do candidato.
8. Os dois últimos candidatos deverão retirar-se da sala de prova ao mesmo tempo, devendo assinar a Ata de Prova.
9. Os gabaritos preliminares da prova objetiva serão divulgados na data descrita no Cronograma de Execução.



Boa prova!



Instrução: As questões de números 01 a 10 referem-se ao texto abaixo. Os destaques ao longo do texto estão citados nas questões.

Recuse o canudo

Andressa Missio

01 Apesar de ser tão pequeno e aparentemente inofensivo ▲ o pedacinho de plástico que
02 usamos para tomar um refrigerante ou uma água de coco tem levantado uma grande discussão
03 nas redes sociais. Ambientalistas e empresas ecologicamente responsáveis defendem que o uso
04 de canudos é desastroso para o meio ambiente. O descarte irregular polui rios e oceanos e
05 contribui para a triste previsão que o Fórum Econômico Mundial faz: se seguirmos nesse ritmo,
06 em pouco mais de 30 anos o mar terá mais plástico do que peixes.

07 Entre as campanhas nas redes sociais, está a que diz "Recuse o canudo: 1 minuto para
08 produzir, 30 minutos de uso, 20 anos para decompor." Os posts têm sido cada vez mais curtidos,
09 compartilhados e o grito pelo fim do canudo nas redes sociais é grande e já chegou aos
10 governos.

11 No exterior, alguns estados americanos, União Europeia e Reino Unido estudam leis para
12 impedir o uso. Já no Brasil, cidades como Rio de Janeiro e Porto Alegre já proibiram, por lei, o
13 consumo e também aprovaram multa aos comerciantes que forem flagrados com canudos nos
14 estabelecimentos.

15 Enquanto a alternativa para outros produtos de plástico é a reciclagem, o canudo é
16 muito pequeno e acaba dispensado por catadores e usinas. Por isso, além de incentivar o uso do
17 copo sem canudo, restaurantes e lojas também apelam para canudos biodegradáveis,
18 comestíveis ou não descartáveis, como os de bambu, vidro ou aço inox.

Fonte: <http://www.folhavoria.com.br/geral/blogs/premio-ecologia/2018/06/recuse-o-canudo-campanha-para-abolir-uso-ganha-as-redes-e-alcanca-governos-e-empresas/> – adaptado

QUESTÃO 01 – Assinale a alternativa que apresenta uma informação correta sobre o texto.

- A) Ambientalistas não consideram o uso do canudo plástico uma ameaça aos rios e oceanos, tendo em vista que é um objeto tão pequeno.
- B) Todas as cidades do Brasil já possuem leis que proíbem o uso e comércio de canudos plásticos.
- C) O canudo plástico é um produto totalmente único, portanto é impossível criar alternativas para substituí-los.
- D) Quando canudos são dispensados de maneira errada, as águas são poluídas e isso ameaça a vida dos peixes.
- E) Embora existam muitas campanhas pelo mundo contra o uso dos canudos plásticos, ainda não foi possível chamar a atenção dos governos.

QUESTÃO 02 – Analise as afirmações a seguir sobre o texto e assinale V, se verdadeiras, ou F, se falsas.

- () Campanhas contra o uso dos canudos plásticos são divulgadas fortemente em redes sociais.
- () Lojas e restaurantes estão utilizando outros tipos de canudos para substituir os canudos plásticos.
- () Os canudos, apesar de não parecerem perigosos, causam muitos transtornos ao meio ambiente.

A ordem correta de preenchimento dos parênteses, de cima para baixo, é:

- A) V – F – V.
- B) V – F – F.
- C) F – V – V.
- D) F – F – F.
- E) V – V – V.

QUESTÃO 03 – Assinale a alternativa que apresenta o correto sinal de pontuação para substituir a figura na linha 01.

- A) Ponto final.
- B) Dois pontos.
- C) Vírgula.
- D) Ponto de interrogação.
- E) Ponto de exclamação.

QUESTÃO 04 – No início do texto, no trecho “Apesar de ser tão pequeno e aparentemente inofensivo” (linha 01), que expressão poderia substituir, sem alterar o sentido do texto, “**Apesar de ser**”?

- A) Embora seja.
- B) Depois de.
- C) Se for.
- D) Caso seja.
- E) Para ser.

QUESTÃO 05 – Qual alternativa apresenta palavra de sentido antônimo à “inofensivo” (linha 01)?

- A) Inocente.
- B) Simples.
- C) Agressivo.
- D) Comum.
- E) Confiável.

QUESTÃO 06 – Assinale a alternativa que apresenta a correta separação silábica da palavra “ambientalistas”.

- A) am-bien-ta-lis-tas.
- B) am-bi-en-ta-lis-tas.
- C) ambi-en-ta-lis-tas.
- D) ambien-ta-lis-tas.
- E) am-bien-talis-tas.

QUESTÃO 07 – Assinale a alternativa que apresenta o número correto de fonemas para a palavra.

- A) Grito: 4 fonemas.
- B) Discussão: 9 fonemas.
- C) Inox: 4 fonemas.
- D) Canudo: 6 fonemas.
- E) Campanhas: 9 fonemas.

QUESTÃO 08 – Assinale a alternativa que apresenta um adjetivo, um substantivo e um artigo, nesta ordem.

- A) Polui – Consumo – Os.
- B) Comestíveis – Irregular – E.
- C) Discussão – Mar – Ou.
- D) Grande – Oceanos – De.
- E) Pequeno – Peixes – O.

QUESTÃO 09 – Assinale a alternativa que apresenta a sílaba tônica da palavra “inofensivo”.

- A) I-
- B) -no-
- C) -fen-
- D) -si-
- E) -vo.

QUESTÃO 10 – Assinale a alternativa que apresenta uma palavra com encontro consonantal.

- A) Empresas.
- B) Rios.
- C) Água.
- D) Canudo.
- E) Lojas.

LEGISLAÇÃO

QUESTÃO 11 – Segundo o Art. 19 do Estatuto dos Servidores Públicos Municipais de Campo Bom, o servidor deve entrar no exercício do seu cargo, emprego ou função, no prazo máximo de _____ dias contados da data da respectiva posse, sob pena de ser tornado sem efeito o ato de nomeação.

Assinale a alternativa que preenche corretamente a lacuna do trecho acima.

- A) 5 (cinco)
- B) 7 (sete)
- C) 8 (oito)
- D) 9 (nove)
- E) 10 (dez)

QUESTÃO 12 – Segundo o Art. 27 do Estatuto dos Servidores Públicos Municipais de Campo Bom, o deslocamento do servidor efetivo para as diversas áreas de Administração, que poderá ocorrer a qualquer tempo, a pedido ou por interesse administrativo, denomina-se:

- A) Destituição.
- B) Remoção.
- C) Promoção.
- D) Substituição.
- E) Demissão.

QUESTÃO 13 – Floriano é servidor da Prefeitura Municipal de Campo Bom e, após o expediente do dia 07/03/2019 (quinta-feira), recebeu a notícia do falecimento de seu pai. Com base no Estatuto dos Servidores Públicos Municipais, Floriano poderia ter-se ausentado do serviço, por _____, sem prejuízo de sua remuneração, mediante comprovação, e retornado na _____. Destaca-se, que entre os dias 08/03/2019 (sexta-feira) e 15/03/2019 (sexta-feira) não houve feriado em Campo Bom.

Assinale a alternativa que preenche, correta e respectivamente, as lacunas do trecho acima.

- A) 5 (cinco) dias úteis – sexta-feira, dia 15/03/2019
- B) 4 (quatro) dias úteis – quinta-feira, dia 14/03/2019
- C) 3 (três) dias úteis – quarta-feira, dia 13/03/2019
- D) 4 (quatro) dias consecutivos – terça-feira, dia 12/03/2019
- E) 3 (três) dias consecutivos – segunda-feira, dia 11/03/2019

QUESTÃO 14 – Segundo o Art. 33 da Lei Orgânica do Município de Campo Bom, entre outras, é da competência exclusiva da Câmara de Vereadores, EXCETO:

- A) Autorizar o Prefeito e o Vice-Prefeito a se afastarem do Município por mais de 15 (quinze) dias.
- B) Dar posse ao Prefeito e Vice-Prefeito; cassar os seus mandatos, bem como o dos Vereadores, nos casos previstos na referida Lei Orgânica.
- C) Oficializar e sinalizar, obedecidas as normas urbanísticas, as vias e logradouros públicos.
- D) Fixar, mediante Lei, o subsídio dos Secretários Municipais.
- E) Criar Comissão Parlamentar de Inquérito sobre fato determinado.

QUESTÃO 15 – De acordo com as disposições da Lei Orgânica do Município de Campo Bom, a permissão que poderá incidir sobre qualquer bem público será feita mediante Licitação, a título precário e por:

- A) Ordem de Serviço.
- B) Portaria.
- C) Resolução.
- D) Decreto.
- E) Memorando.

CONHECIMENTOS GERAIS

QUESTÃO 16 – Dia 24 de março é o Dia Mundial de uma das enfermidades mais antigas do mundo. Esta data foi escolhida pela OMS por corresponder à descoberta do bacilo causador da doença por Robert Koch, em 1882. Desde 2010, quando a Secretaria Municipal de Saúde de Campo Bom deu início ao projeto denominado “Trilha do Cof! Cof!”, uma ação itinerante que orienta e conscientiza a população sobre a doença e os campo-bonenses começaram a conhecer melhor e procurar tratamento. Qual o nome dessa doença contagiosa causada por uma bactéria conhecida como Bacilo de Koch, que atinge principalmente os pulmões?

- A) Asma.
- B) Bronquiolite.
- C) Enfisema pulmonar.
- D) Pneumonia.
- E) Tuberculose.

QUESTÃO 17 – “Balão de homenagem a vítimas de tragédia em escola vai parar em Suzano – Balão com o nome do jovem Samuel viajou por mais 17 km até ser encontrado por morador de Suzano, que o levou até o pai do menino. No domingo de 24/03/2019, os jogadores do Corinthians fizeram uma homenagem às oito vítimas da tragédia de Suzano: 22 balões, com os nomes dos mortos ganharam o céu da Zona Leste de São Paulo.” (Fonte:g1.globo.com). Qual o nome da escola em que aconteceu o massacre, onde dois adolescentes mataram oito pessoas e cometeram suicídio em seguida, em Suzano/SP?



- A) Escola Estadual Monteiro Lobato.
- B) Escola Estadual Raul Brasil.
- C) Escola Estadual Rui Barbosa.
- D) Escola Municipal Rui Barbosa.
- E) Escola Municipal Terra do Brasil.

QUESTÃO 18 – Segundo Dr. Dráuzio Varella, o _____ acomete pessoas de todas as classes sociais e etnias. Seu grau de comprometimento pode ser leve ou mais grave, em que o paciente se mostra incapaz de manter contato interpessoal. Trata-se de um transtorno global do desenvolvimento marcado por três características fundamentais:

- Inabilidade para interagir socialmente;
- Dificuldade no domínio da linguagem para comunicar-se ou lidar com jogos simbólicos;
- Padrão de comportamento restritivo e repetitivo.

No dia 2 de abril, foi celebrado o dia mundial de sua conscientização; em Campo Bom, a Associação de Pais e Amigos dos Excepcionais (APAE) trabalha há 40 anos oferecendo atendimento gratuito para a população. Atualmente são atendidas 20 pessoas com esse transtorno, de três a 41 anos. Destas, oito estão frequentando grupos da Escola e 12 o atendimento clínico (psicologia, fisioterapia e ou fonoaudiologia). (Fonte: A Gazeta, 01/04/2019).

De acordo com o texto, assinale a alternativa que preenche corretamente a lacuna do trecho acima.

- A) Alzheimer
- B) Autismo
- C) Down
- D) Parkinson
- E) Stress

QUESTÃO 19 – Leia a seguinte notícia: "Mickey na frente do Laçador? Talvez a gente consiga", diz diretor de editora que publicará quadrinhos da Disney. Após 68 anos de história no Brasil, os personagens mais amados da Disney estão de casa nova: as histórias de Mickey, Pateta, Pato Donald e Tio Patinhas, além das Aventuras Disney, passam a ser publicadas pela editora Culturama, de Caxias do Sul, no interior do Estado do RS. (Fonte: gauchazh.clicrbs.com.br, de 08/03/2019). Referente ao tema dessa notícia, o Laçador é um monumento da cidade de Porto Alegre, que representa o gaúcho pilchado. A estátua foi tombada como patrimônio histórico em 2001. Para usar um gaúcho autêntico como modelo para a sua obra, Antônio Caringi contou com o folclorista apreciador dos costumes da cultura campeira sul-rio-grandense, que morreu em agosto de 2018, chamado:

- A) Elton Saldanha.
- B) Luiz Marrenco.
- C) Paixão Côrtes.
- D) Nico Fagundes.
- E) Teixeira.

QUESTÃO 20 – Assinale a alternativa que corresponde à origem do nome do município de Campo Bom/RS.

- A) A diversidade de Flores de Campo que havia na região tornou Campo Bom nacionalmente conhecida pelo cultivo de hortênsias.
- B) José Antônio Campos Novos, um dos primeiros habitantes da região, dizia para os visitantes que passavam por ali "O campo é grande. O campo é bom".
- C) O bandeirante Antônio Pires de Campos, adentrando à região com seu gado, atingiu um extenso chapadão, o qual denominou "Reino do Campo Bom".
- D) Os Campos Elíseos, também conhecido como Campos Bons representavam o lugar de destino dos bem-aventurados, era o paraíso, segundo a mitologia grega.
- E) Os tropeiros que conduziam o gado da Serra Geral para São Leopoldo e Porto Alegre, passando pela localidade, ali descansavam sob a sombra de árvores enquanto o gado pastava nos campos verdejantes, que acabaram denominando a área como um campo bom.

Lista de símbolos:

- ⇒ Condicional
- ⇔ Bicondicional
- ∧ Conector "e"
- ∨ Conector "ou"
- ⊄ Conector "ou" exclusivo
- ¬ Negação da proposição

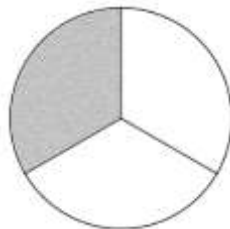
QUESTÃO 21 – O resultado do produto **13 x 31** é:

- A) 400.
- B) 401.
- C) 402.
- D) 403.
- E) 404.

QUESTÃO 22 – A decomposição em fatores primos do número 210 é:

- A) $2 \times 3 \times 5 \times 7$.
- B) $4 \times 5 \times 6 \times 7$.
- C) $5 \times 7 \times 9 \times 10$.
- D) $6 \times 5 \times 4 \times 3$.
- E) $2 \times 3 \times 4 \times 12$.

QUESTÃO 23 – Observe a figura a seguir, a qual está dividida em partes iguais:



A parte pintada em cinza é representada pelo número fracionário:

- A) $\frac{1}{2}$
- B) $\frac{1}{3}$
- C) $\frac{1}{4}$
- D) $\frac{1}{5}$
- E) $\frac{1}{6}$

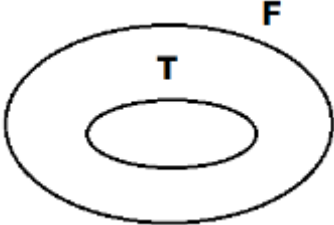
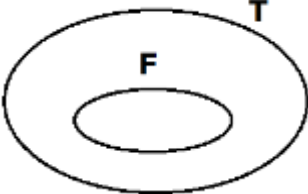
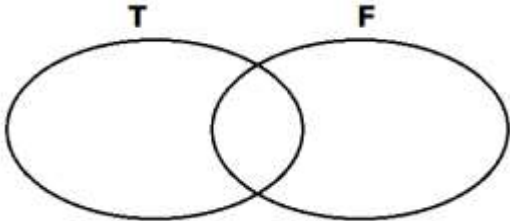
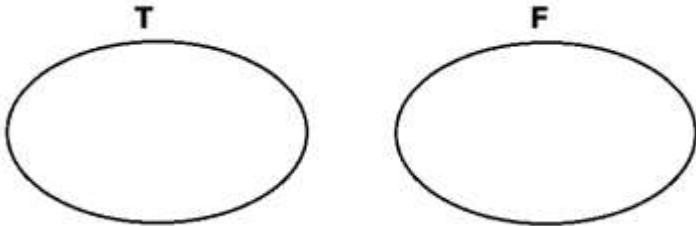
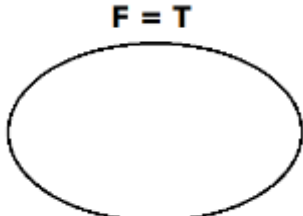
QUESTÃO 24 – A multiplicação $0,2 \times 0,3$ tem como resultado:

- A) 6.
- B) 60.
- C) 600.
- D) 0,6.
- E) 0,06.

QUESTÃO 25 – No cálculo de 5% de R\$500,00 se obtém:

- A) R\$ 75,00.
- B) R\$ 50,00.
- C) R\$ 25,00.
- D) R\$ 12,00.
- E) R\$ 5,00.

QUESTÃO 26 – Sejam $F =$ “conjunto de frutos” e $T =$ “conjunto de tomates”, o diagrama lógico que expressa uma relação entre F e T é:

- A) 
- B) 
- C) 
- D) 
- E) 

QUESTÃO 27 – A alternativa que mostra um exemplo de **proposição simples**, ou seja, uma sentença que tem valor lógico verdadeiro ou falso é:

- A) "Ahhhhh!"
- B) "Uuuuuu!"
- C) "João é alto."
- D) "Qual o seu nome?"
- E) "Qual o seu signo?"

QUESTÃO 28 – Analise as seguintes proposições:

- I. Maria é mais alta do que Joana.
- II. Joana é mais alta do que Pedro.
- III. Pedro é mais alto do que Antônio.

A partir dessas proposições, conclui-se que a pessoa mais baixa é:

- A) Marcelo.
- B) Joana.
- C) Maria.
- D) Pedro.
- E) Antônio.

QUESTÃO 29 – Se P e Q são proposições falsas, então o valor lógico de $P \vee Q$ é:

- A) Incerto.
- B) Tautológico.
- C) Verdadeiro.
- D) Falso.
- E) Duvidoso.

QUESTÃO 30 – A alternativa que faz uso do conector lógico "e" é:

- A) $P \vee Q$.
- B) $P \wedge Q$.
- C) $P \Rightarrow Q$.
- D) $P \Leftrightarrow Q$.
- E) P .

CONHECIMENTOS ESPECÍFICOS

QUESTÃO 31 – Quanto mais cedo chegar um socorro profissional, melhor para as vítimas de um acidente de trânsito. Hoje, em grande parte do Brasil, nós podemos contar com serviços de atendimento às emergências. Com base na Cartilha de Telefones de Utilidade Pública da Anatel – Agência Nacional de Telecomunicações (2018), assinale o número de serviço público de emergência INCORRETO:

- A) 190 – Polícia Militar.
- B) 191 – Polícia Civil.
- C) 192 – Serviço de Atendimento Móvel de Urgência – SAMU.
- D) 193 – Corpo de Bombeiros.
- E) 198 – Polícia Rodoviária Estadual.

QUESTÃO 32 – Segundo o Manual Brasileiro de Sinalização de Trânsito – Volume I – Sinalização Vertical de Regulamentação, a imagem abaixo representa qual sinal de regulamentação?



- A) Estreitamento de pista à direita.
- B) Alargamento de pista à esquerda.
- C) Proibido mudar de faixa ou pista.
- D) Proibido o trânsito de veículos automotores na pista da esquerda.
- E) Proibido mudar de faixa ou pista de trânsito da esquerda para direita.

QUESTÃO 33 – Assinale a alternativa que apresenta a placa de sinalização cuja função é advertir o condutor do veículo da existência, adiante, de três ou mais curvas horizontais sucessivas, sendo a primeira à esquerda, e cujo nome é pista sinuosa à esquerda. (Fonte: Manual Brasileiro de Sinalização de Trânsito – Volume II – Sinalização Vertical de Advertência).



QUESTÃO 34 – Segundo as definições do Anexo I do Código de Trânsito Brasileiro – CTB, o dispositivo destinado a manter o veículo imóvel na ausência do condutor ou, no caso de um reboque, se este se encontra desengatado, denomina-se freio de:

- A) Estacionamento.
- B) Segurança ou motor.
- C) Serviço.
- D) Emergência.
- E) Conversão.

QUESTÃO 35 – A forma padrão do sinal de regulamentação é a circular e as cores são: vermelha, preta e branca. Segundo o Manual Brasileiro de Sinalização de Trânsito – Volume I – Sinalização Vertical de Regulamentação, são exceções, quanto à forma, os seguintes sinais de regulamentação:

- A) Parada obrigatória – Sentido de circulação na rotatória.
- B) Dê a preferência – Altura máxima permitida.
- C) Sentido de circulação na rotatória – Conserve-se à direita.
- D) Parada obrigatória – Dê a preferência.
- E) Conserve-se à direita – Proibido trânsito de pedestres.

QUESTÃO 36 – O Código de Trânsito Brasileiro – CTB estabelece que a velocidade máxima permitida para a via será indicada por meio de sinalização, obedecidas suas características técnicas e as condições de trânsito. Segundo o CTB, onde não existir sinalização regulamentadora, em vias classificadas como urbanas, a velocidade máxima será de _____ quilômetros por hora, nas vias coletoras.

Assinale a alternativa que preenche corretamente a lacuna do trecho acima.

- A) vinte
- B) trinta
- C) quarenta
- D) cinquenta
- E) sessenta

QUESTÃO 37 – O Código de Trânsito Brasileiro – CTB classifica os veículos, quanto à espécie, em sete categorias, sendo que uma delas é a de veículos de passageiros. Sendo assim, assinale a alternativa que identifica o veículo que NÃO integra a lista de veículos de passageiros.

- A) Micro-ônibus.
- B) Ônibus.
- C) Automóvel.
- D) Ciclomotor.
- E) Caminhonete.

QUESTÃO 38 – O Art. 261 do Código de Trânsito Brasileiro – CTB estabelece que a penalidade de suspensão do direito de dirigir será imposta, entre outras, sempre que o infrator atingir a contagem de 20 (vinte) pontos, no período de 12 (doze) meses, conforme a pontuação prevista no Art. 259 do referido código. Segundo as disposições do CTB, as infrações cometidas que são classificadas como médias, graves e gravíssimas serão computadas ao infrator, respectivamente, com os seguintes números de pontos:

- A) Três – quatro – cinco.
- B) Quatro – cinco – seis.
- C) Quatro – cinco – sete.
- D) Cinco – seis – sete.
- E) Cinco – sete – oito.

QUESTÃO 39 – Segundo o CTB, o motorista infrator que estacionar o veículo nas esquinas e a menos de cinco metros do bordo do alinhamento da via transversal está sujeito a qual medida administrativa?

- A) Recolhimento da Carteira Nacional de Habilitação.
 - B) Recolhimento do Certificado de Registro.
 - C) Recolhimento do Certificado de Licenciamento Anual.
 - D) Remoção do veículo.
 - E) Realização de exame de legislação.
-

QUESTÃO 40 – Segundo Código de Trânsito Brasileiro – CTB, o infrator que utilizar-se de veículo para demonstrar ou exibir manobra perigosa, mediante arrancada brusca, derrapagem ou frenagem com deslizamento ou arrastamento de pneus, terá a infração classificada como gravíssima, com as medidas administrativas estabelecidas no referido código, e terá, também, como penalidades a suspensão do direito de dirigir e a apreensão do veículo, além da multa agravada em dez vezes, que corresponderá ao valor de:

- A) R\$ 2.934,70.
- B) R\$ 2.651,40.
- C) R\$ 2.455,30.
- D) R\$ 1.952,30.
- E) R\$ 1.761,60.