



DOMINGO DE TARDE

PREFEITURA MUNICIPAL DE IVOTI/RS CONCURSO PÚBLICO Nº 01/2021

TÉCNICO EM SEGURANÇA DO TRABALHO

INSTRUÇÕES

Leia atentamente e cumpra rigorosamente as instruções que seguem, pois elas são parte integrante das provas e das normas que regem esse certame.

1. Atente-se aos avisos contidos no quadro da sala.
2. Seus pertences deverão estar armazenados dentro do saco plástico fornecido pelo fiscal, permanecendo em sua posse somente caneta esferográfica de ponta grossa, de material transparente, com tinta preta, documento de identidade, lanche e água, se houver. A utilização de qualquer material não permitido em edital é expressamente proibida, acarretando a sua imediata exclusão do certame.
3. Certifique-se de que este caderno:
 - contém 50 (cinquenta) questões;
 - refere-se ao cargo para o qual realizou a inscrição.
4. Cada questão oferece 5 (cinco) alternativas de respostas, representadas pelas letras A, B, C, D e E, sendo apenas 1 (uma) a resposta correta.
5. Será respeitado o tempo para realização da prova conforme previsto em edital, incluindo o preenchimento da grade de respostas.
6. Os três últimos candidatos deverão retirar-se da sala de prova ao mesmo tempo, devendo assinar a Ata de Prova.
7. A responsabilidade referente à interpretação dos conteúdos das questões é exclusiva do candidato.
8. No caderno de prova, você poderá rabiscar, riscar e calcular.
9. Os gabaritos preliminares da prova objetiva serão divulgados na data descrita no Cronograma de Execução desse certame.



V1_01/12/2021 14:27:31



Instrução: As questões de números 01 a 15 referem-se ao texto abaixo. Os destaques ao longo do texto estão citados nas questões.

As lições das árvores que perdem as folhas no outono

01 Os dias estão mais curtos, as noites, mais longas. Levanto-me cedo, para preparar o café.
02 Ainda faz escuro lá fora. Uma neblina toma conta do terraço, o frio atravessa a vidraça perto de
03 onde está posta a pequena mesa redonda da cozinha. A partir de agora, vai ser necessário
04 envergar um agasalho enquanto empunho a xícara e leio os jornais. O outono chegou na Europa.

05 Oficialmente, a mudança de estação ocorre apenas amanhã, quarta-feira, dia 22 de
06 setembro. Mas já é possível sentir a mutação térmica, bem como testemunhar a tonalidade
07 alaranjada dos primeiros raios de luz a inundar o horizonte, rompendo o nevoeiro da manhã. As
08 flores do canteiro acordam cobertas de orvalho. As árvores da rua tingem-se de vermelhos,
09 amarelos e marrons.

10 É uma de minhas épocas preferidas do ano. Ao longo do dia, o céu estará límpido, a
11 paisagem ensolarada. Mas o vento frio exigirá o uso do casaco, que esteve guardado e esquecido,
12 por tantos meses, no fundo do armário do quarto. De hoje em diante, ele terá de ficar sempre
13 ____ mão, junto ao cachecol, no cabideiro próximo ____ porta da entrada de casa.

14 Cearense que sou, gosto, sobretudo, desta combinação de sol e frio, de dias tão dourados
15 quanto amenos. Os finais de tarde, sobretudo, reservam pequenos prazeres durante o passeio
16 vespertino pela vizinhança. A dramaticidade típica do pôr-do-sol ganha contornos ainda mais
17 epressivos, suavemente melancólicos.

18 O outono é, para nós, humanos, uma bela lição natural a respeito dos instantes de
19 transição. Quando as árvores vão perdendo assim todas as folhas, aos poucos ficando desnudas
20 após nos oferecerem seus melhores frutos, estão a nos enviar silencioso recado.

21 É preciso despir-se do que já não nos serve mais, desapegar de velhas fórmulas, rancores,
22 tabus, preconceitos. Preparar-se para os dias vindouros.

23 Cada estação traz consigo as lições de um novo ciclo da vida. Outono é o momento de
24 colher e se desfrutar aquilo que se semeou na primavera. Hora de deleite e, ao mesmo tempo,
25 de introspecção. "Tempus autumnus" — tempo do ocaso, em latim.

26 Aparentemente mortas, com galhos nus, as árvores estão reagindo ____ escaez gradativa
27 de sol, luz e calor, elementos indispensáveis à fotossíntese e ao metabolismo vegetal. Manter as
28 folhas, nessas circunstâncias, seria imprevidência, desperdício de energia. Os nutrientes
29 acumulados nos últimos meses as alimentarão ao longo do outono e, mais adiante, até o final
30 do gélido inverno europeu.

31 É essa a mensagem que este raio alaranjado de sol me transmite ao adentrar agora pela
32 janela do escritório. O ocaso é apenas a lenta preparação para a manhã seguinte. Sim, o outono
33 é a véspera do friorento inverno. Mas, também, a antevéspera da primavera.

34 Pode parecer chavão, lugar-comum, mensagem de autoajuda barata. Mas aquela árvore
35 ali em frente, com suas folhas mudando de verde para marrom, não cansa em apreçoar o que
36 tanto insistimos em não ouvir.

(Disponível em: <https://diariodonordeste.verdesmares.com.br/opiniao/colunistas/lira-neto/> – texto adaptado especialmente para esta prova).

QUESTÃO 01 – Considerando o exposto pelo texto, analise as assertivas a seguir:

- I. A partir das datas e informações dadas pelo texto, pode-se inferir que o autor não está no Brasil.
- II. Nas linhas 05-09, o autor vale-se dos sentidos da visão e do olfato para compor sua descrição.
- III. Uma das lições a ser aprendida das árvores, segundo Lira Neto, é o abrir-se ao novo.

Quais estão corretas?

- A) Apenas I.
- B) Apenas II.
- C) Apenas III.
- D) Apenas I e II.
- E) Apenas I e III.

QUESTÃO 02 – Analise a estrutura e a composição do texto de Lira Neto e assinale a alternativa INCORRETA a respeito dele:

- A) O autor pontua seus sentimentos e sensações em relação a uma estação do ano.
- B) O texto apresenta uma situação cotidiana para estabelecer uma reflexão.
- C) Trata-se de um texto que mostra um ponto de vista do autor.
- D) O texto foi escrito em terceira pessoa.
- E) Pode-se identificar trechos nos quais o autor apresenta uma ideia ou argumento.

QUESTÃO 03 – A partir da leitura do texto e da charge abaixo, analise as assertivas a seguir e assinale V, se verdadeiro, ou F, se falso.



Fonte: <https://homeworkhelpers-br.com/portugues>.

- () A charge aborda um dos aspectos abordados pelo texto, a queda das folhas das árvores durante o outono.
- () O texto aborda o outono de forma idílica, ao passo que a charge o aborda de forma cômica.
- () A charge não tem relação alguma com o texto, tendo em vista que não aborda o mesmo assunto.

A ordem correta de preenchimento dos parênteses, de cima para baixo, é:

- A) V – V – V.
- B) V – V – F.
- C) V – F – F.
- D) F – F – V.
- E) F – V – V.

QUESTÃO 04 – Considerando o emprego do sinal indicativo de crase, assinale a alternativa que completa, correta e respectivamente, as duas lacunas das linhas 13 e a da linha 26.

- A) a – à – a
- B) a – a – à
- C) à – à – à
- D) à – à – a
- E) à – a – a

QUESTÃO 05 – Considerando a correta ortografia das palavras em Língua Portuguesa, assinale a alternativa que completa, correta e respectivamente, os espaços pontilhados das linhas 04, 17 e 26.

- A) x – x – ss
- B) x – s – ss
- C) ch – x – c
- D) ch – s – c
- E) ch – x – ss

QUESTÃO 06 – Considerando o emprego das vírgulas, analise as assertivas a seguir:

- I. Na linha 06, a vírgula marca a separação de um adjunto adverbial deslocado.
- II. A dupla vírgula, na linha 18, marca a separação de um vocativo.
- III. Na linha 35, o uso das vírgulas marca a separação de uma expressão explicativa, alusiva à palavra “árvore” (l. 34).

Quais estão corretas?

- A) Apenas I.
- B) Apenas II.
- C) Apenas I e II.
- D) Apenas I e III.
- E) Apenas II e III.

QUESTÃO 07 – Assinale a alternativa que indica palavra que poderia substituir o vocábulo “envergar” (l.04) sem alteração do sentido original do texto:

- A) Vergar.
- B) Torcer.
- C) Desnudar.
- D) Desdobrar.
- E) Trajar.

QUESTÃO 08 – Assinale a alternativa que mostra o emprego da figura de linguagem “personificação”, atribuição de características humanas ao que é inanimado:

- A) “primeiros raios de luz a inundar o horizonte” (l. 07).
- B) “As flores do canteiro acordam cobertas de orvalho.” (l. 07-08).
- C) “Cearense que sou, gosto, sobretudo, desta combinação de sol e frio” (l. 14).
- D) “O ocaso é apenas a lenta preparação para a manhã seguinte.” (l. 32).
- E) “Sim, o outono é a véspera do friorento inverno.” (l. 32-33).

QUESTÃO 09 – Assinale a alternativa que NÃO apresenta uma possibilidade de reescrita do trecho a seguir por desviar-se do sentido original proposto no texto: “Hora de deleite e, ao mesmo tempo, de introspecção.” (l. 24-25).

- A) Hora de contentamento e, ao mesmo tempo, de reflexão.
- B) Hora de prazer e, ao mesmo tempo, de reflexão.
- C) Hora de satisfação e, ao mesmo tempo, de recolhimento.
- D) Hora de tédio e, ao mesmo tempo, de recolhimento.
- E) Hora de gozo, e, ao mesmo tempo, de reflexão.

QUESTÃO 10 – Considerando o emprego dos conectivos, assinale a alternativa que indica o valor semântico da palavra “ao” em “ao adentrar” (l. 31).

- A) Causa.
- B) Consequência.
- C) Tempo.
- D) Adição.
- E) Condição.

QUESTÃO 11 – Assinale a alternativa que indica uma ação terminada no passado.

- A) "Os dias estão mais curtos, as noites, mais longas." (l. 01).
- B) "Mas o vento frio exigirá o uso do casaco" (l. 11).
- C) "Cearense que sou, gosto, sobretudo, desta combinação de sol e frio" (l.14).
- D) "do que já não nos serve mais" (l. 21).
- E) "aquilo que se semeou na primavera" (l. 24).

QUESTÃO 12 – Assinale a alternativa que indica quantas outras alterações devem ser obrigatoriamente realizadas para que se mantenha a correção gramatical do período a seguir caso a palavra "árvores" seja substituída por sua forma singular: "Quando as árvores vão perdendo assim todas as folhas, aos poucos ficando desnudas após nos oferecerem seus melhores frutos, estão a nos enviar silencioso recado." (l. 19-20).

- A) 3.
- B) 4.
- C) 5.
- D) 6.
- E) 7.

QUESTÃO 13 – Considerando o emprego de elementos coesivos, analise as assertivas a seguir:

- I. Na linha 01, o pronome "me", em "Levanto-me cedo", refere-se ao autor do texto que se coloca em primeira pessoa.
- II. Na linha 11, a oração relativa "que esteve guardado e esquecido" refere-se à palavra "vento" (l. 11).
- III. Na linha 24, a expressão "ao mesmo tempo" introduz a noção de "em tempos diferentes".

Quais estão corretas?

- A) Apenas I.
- B) Apenas II.
- C) Apenas III.
- D) Apenas I e II.
- E) Apenas II e III.

QUESTÃO 14 – Assinale a alternativa que indica o número correto de artigos presente no trecho a seguir: "Mas já é possível sentir a mutação térmica, bem como testemunhar a tonalidade alaranjada dos primeiros raios de luz a inundar o horizonte, rompendo o nevoeiro da manhã."

- A) 3.
- B) 4.
- C) 5.
- D) 6.
- E) 7.

QUESTÃO 15 – Assinale a alternativa que indica o número do termo que exerce a função sintática de núcleo do sujeito. Atenção: o número correspondente ao termo está inserido imediatamente após o termo sublinhado. "Cada estação (1) traz consigo (2) as lições (3) de um novo ciclo (4) da vida (5).

- A) 1.
- B) 2.
- C) 3.
- D) 4.
- E) 5.

QUESTÃO 16 – A Lei nº 11.340/2006 cria mecanismos para coibir a violência doméstica e familiar contra a mulher. A inquirição de mulher em situação de violência doméstica e familiar ou de testemunha de violência doméstica, quando se tratar de crime contra a mulher, obedecerá às seguintes diretrizes:

- I. Garantia de que, em nenhuma hipótese, a mulher em situação de violência doméstica e familiar, familiares e testemunhas terão contato direto com investigados ou suspeitos e pessoas a eles relacionadas.
- II. Revitimização da depoente, permitindo sucessivas inquirições sobre o mesmo fato nos âmbitos criminal, cível e administrativo, bem como questionamentos sobre a vida privada.
- III. Salvaguarda da integridade física, psíquica e emocional da depoente, considerada a sua condição peculiar de pessoa em situação de violência doméstica e familiar.

Quais estão corretas?

- A) Apenas I.
- B) Apenas II.
- C) Apenas III.
- D) Apenas I e II.
- E) Apenas I e III.

QUESTÃO 17 – De acordo com a Constituição Federal, à(s) _____, vinculada(s) ao órgão administrador do sistema penal da unidade federativa a que pertence(m), cabe a segurança dos estabelecimentos penais.

Assinale a alternativa que preenche corretamente a lacuna do trecho acima.

- A) polícias penais
- B) polícia federal
- C) polícias civis
- D) polícias militares
- E) polícia rodoviária

QUESTÃO 18 – De acordo com a Constituição do Estado do Rio Grande do Sul, o Estado prestará assistência social, visando, entre outros, aos seguintes objetivos:

- I. Amparo aos carentes e desassistidos.
- II. Habilitação e reabilitação das pessoas portadoras de deficiência e promoção de sua integração na vida social e comunitária.
- III. Proteção à família, à maternidade, à infância, à adolescência e à velhice.
- IV. Promoção da integração no mercado de trabalho.

Quais estão corretas?

- A) Apenas I, II e III.
- B) Apenas I, II e IV.
- C) Apenas I, III e IV.
- D) Apenas II, III e IV.
- E) I, II, III e IV.

QUESTÃO 19 – De acordo com a Lei nº 8.429/1992, assinale a alternativa que constitui ato de improbidade administrativa que causa prejuízo ao erário.

- A) Conceder benefício administrativo ou fiscal com a observância das formalidades legais ou regulamentares aplicáveis à espécie.
- B) Permitir ou facilitar a aquisição, permuta ou locação de bem ou serviço por preço inferior ao de mercado.
- C) Facilitar ou concorrer, por qualquer forma, para a incorporação, ao patrimônio particular de pessoa física ou jurídica, de bens, rendas, verbas ou valores públicos transferidos pela administração pública a entidades privadas, mediante celebração de parcerias, sem a observância das formalidades legais ou regulamentares aplicáveis à espécie.
- D) Realizar operação financeira com observância das normas legais e regulamentares ou aceitar garantia insuficiente ou inidônea.
- E) Ordenar ou permitir a realização de despesas autorizadas em lei ou regulamento.

QUESTÃO 20 – A Lei Federal nº 12.288/2010 institui o Estatuto da Igualdade Racial, destinado a garantir à população negra a efetivação da igualdade de oportunidades, a defesa dos direitos étnicos individuais, coletivos e difusos e o combate à discriminação e às demais formas de intolerância étnica. A participação da população negra, em condição de igualdade de oportunidade, na vida econômica, social, política e cultural do País será promovida, prioritariamente, por meio de algumas ações, sobre elas, analise as assertivas a seguir e assinale V, se verdadeiras, ou F, se falsas.

- () Promoção de ajustes normativos para aperfeiçoar o combate à discriminação étnica e às desigualdades étnicas em todas as suas manifestações individuais, institucionais e estruturais.
- () Vedação de medidas, programas e políticas de ação afirmativa.
- () Exclusão nas políticas públicas de desenvolvimento econômico e social.

A ordem correta de preenchimento dos parênteses, de cima para baixo, é:


- A) V – V – F.
- B) F – F – V.
- C) F – V – F.
- D) V – F – F.
- E) V – F – V.

QUESTÃO 21 – Sobre o Gmail, analise as assertivas abaixo:

- I. É possível criar marcadores e adicionar vários marcadores a um e-mail.
- II. Existe uma funcionalidade chamada Modo Confidencial, na qual os destinatários não poderão encaminhar, copiar, imprimir nem fazer o download do e-mail.
- III. Você pode gerenciar os e-mails recebidos usando os filtros do Gmail para arquivar, excluir ou até mesmo marcar com estrela.

Quais estão corretas?

- A) Apenas I.
- B) Apenas II.
- C) Apenas III.
- D) Apenas II e III.
- E) I, II e III.

QUESTÃO 22 – No Gmail, ao acessar um e-mail recebido, o ícone fica  visível para que você possa:

- A) Adicionar as tarefas.
- B) Marcar como lido.
- C) Marcar como importante.
- D) Denunciar como spam.
- E) Adicionar à caixa, para ver mais tarde.

QUESTÃO 23 – Analise a Figura 1 abaixo que mostra parte de um documento no Word 2016.

O MUNICÍPIO


Ivoti acolhe com suas flores.

Ivoti, uma terra de tradição.

As culturas alemã e japonesa se mesclam em torno de uma identidade própria. A Cidade das Flores, **Título** que Ivoti assumiu devido ao seu antigo nome, Bom Jardim, tem sido fortalecido a cada dia. A cidade cresce em torno dos seus 63 quilômetros quadrados de área desde 1964, ano de sua emancipação.

Localizada a 55 quilômetros de **Porto Alegre**, tem como principais atividades a indústria de calçado, couro, alimentos, rações e sucos, bem como a **hortifruti**, flores e laticínios.

Fica em Ivoti o maior núcleo de casas **enxaimel** do Brasil e a maior colônia japonesa do Estado, ambos atrativos do roteiro turístico **Teufelsloch**. Com suas belezas naturais e ainda suas riquezas culturais trazidas por nossos imigrantes, a magia dessa cidade faz jus ao charme da Rota Romântica.



Elisa Flach
Excluído: Na encosta da serra,

Elisa Flach
Excluído: +'

Elisa Flach
Excluído: título

Elisa Flach
Excluído: a

Elisa Flach
Excluído: Capital

Elisa Flach
Excluído: hortifruti

Figura 1

Após analisar a Figura 1, é possível afirmar que está sendo utilizado o recurso de:

- A) Comparação.
- B) Comentário.
- C) Localizar e Substituir.
- D) Controlar Alteração.
- E) Restringir Edição.

QUESTÃO 24 – Suponhamos que o título 'O Município' estivesse selecionado e, logo após, você utilizasse os comandos de teclado Ctrl+Shift+> o que aconteceria? (Obs.: o sinal de + não faz parte do comando, significa que as teclas devem ser pressionadas simultaneamente).

- A) Ele colocaria um hiperlink.
- B) Aumentaria o tamanho da fonte.
- C) Seria trocada a ordem das palavras: Município O.
- D) Trocaria as palavras O Município por Ctrl+Shift+>.
- E) Nada, pois não existem esses comandos de teclado.

QUESTÃO 25 – Analise a Figura 2 abaixo que mostra uma janela do Google Chrome:

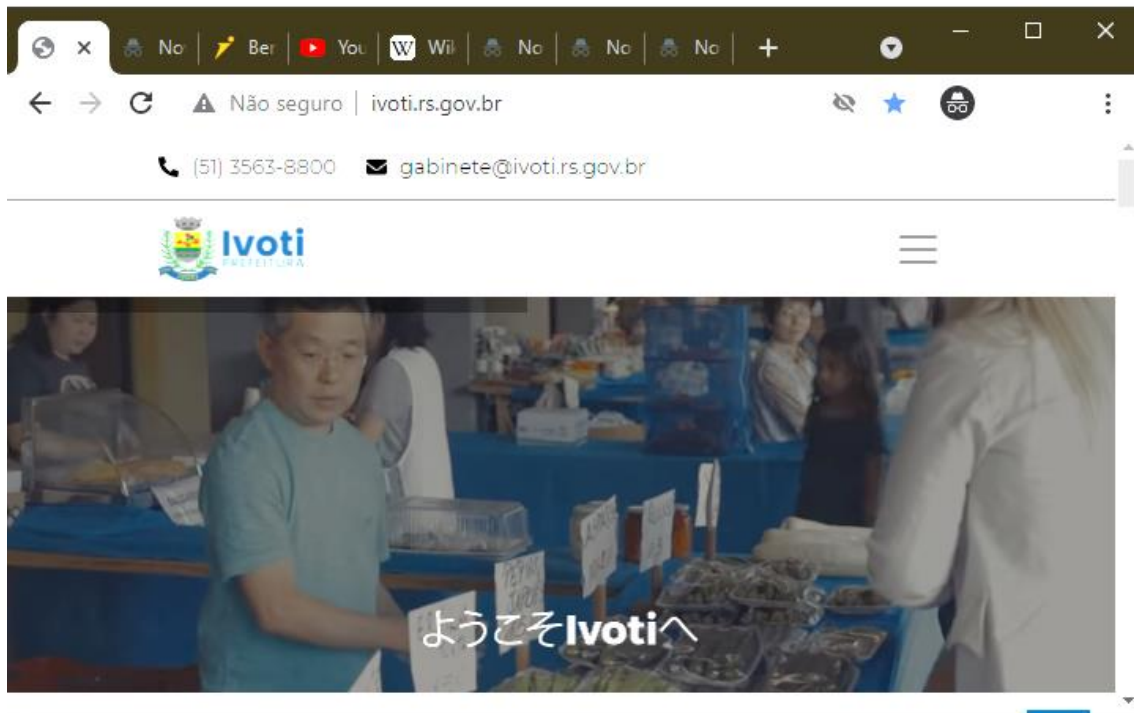


Figura 2

Com base na Figura 2, podemos afirmar que:

- I. Está sendo utilizada a opção de modo noturno.
- II. Não é possível abrir novas guias, pois já existem várias abertas.
- III. O site ivoti.rs.gov.br está na lista de favoritos.






Quais estão corretas?

- A) Apenas I.
- B) Apenas II.
- C) Apenas III.
- D) Apenas II e III.
- E) I, II e III.

QUESTÃO 26 – Dunga precisa ajustar as margens do seu documento, em qual das abas ele encontraria a parte de configuração de página e a opção margens?

- A) Inserir.
- B) Design.
- C) Layout.
- D) Exibir.
- E) Correspondência.

QUESTÃO 27 – Qual dos botões abaixo refere-se à funcionalidade de Marcadores no Word 2016?

- A) 
- B) 
- C) 
- D) 
- E) 

Para responder às questões 28 a 30, considere a Figura 3 abaixo que mostra parte do Excel.

The screenshot shows the Microsoft Excel interface with the following data table:

TABELA DE PRODUTOS			
ID DO PRODUTO	PRODUTO	VALOR	QTD
1	Produto A	R\$ 5,55	15
2	Produto B	R\$ 6,20	10
3	Produto C	R\$ 8,00	5
4	Produto D	R\$ 9,50	9
5	Produto E	R\$ 2,30	20

The active cell is D12, and the status bar shows 'PRONTO' and '100%' zoom.

Figura 3

QUESTÃO 28 – Com base na Figura 3, analise as assertivas abaixo:

- I. A célula selecionada é a D12.
- II. Existem três planilhas no arquivo.
- III. O arquivo já foi salvo.

Quais estão corretas?

- A) Apenas I.
- B) Apenas II.
- C) Apenas III.
- D) Apenas II e III.
- E) I, II e III.

QUESTÃO 29 – Com base na linha 2, podemos afirmar que foi utilizado o recurso de:

- A) Filtro.
- B) Mesclar.
- C) Localizar.
- D) Preencher.
- E) Formatação Condicional.

QUESTÃO 30 – Se fosse necessário criar um gráfico com base nos dados, você encontraria essa opção na aba:

- A) Exibir.
- B) Inserir.
- C) Desenhar.
- D) Fórmulas.
- E) Layout de Páginas.

QUESTÃO 31 – Uma circunferência que tem 42 cm e apresenta um arco de 120° terá qual comprimento em x?

- A) 87,92 cm.
- B) 131,88 cm.
- C) 175,84 cm.
- D) 581,22 cm.
- E) 791,28 cm.

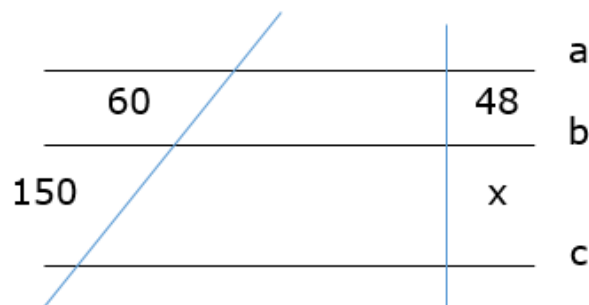
QUESTÃO 32 – A equação $x^2 + 4x - 12$ tem quantos números inteiros existentes entre suas raízes?

- A) 4.
- B) 5.
- C) 6.
- D) 7.
- E) 8.

QUESTÃO 33 – João decidiu investir R\$ 600,00, a juros simples de 2% a.m. Por quanto tempo ele precisa deixar o investimento para que tenha o triplo do valor do capital investido?

- A) 25.
- B) 50.
- C) 75.
- D) 100.
- E) 125.

QUESTÃO 34 – Na figura a seguir, temos que $a \parallel b \parallel c$ e as medidas são dadas em unidades de comprimento. Com os dados informados, qual o valor de x?



- A) 40.
- B) 60.
- C) 80.
- D) 100.
- E) 120.

QUESTÃO 35 – Joana realizou três provas de matemática. As notas obtidas foram, respectivamente, o dobro e o triplo da nota da primeira prova. A sua média aritmética das notas foi 62,5 pontos. A nota da primeira prova foi:

- A) 29,35.
- B) 31,25.
- C) 39,75.
- D) 41,65.
- E) 62,50.

CONHECIMENTOS ESPECÍFICOS

QUESTÃO 36 – O profissional de Segurança do Trabalho deve ter conhecimentos e informações para implementação apropriada das Normas Regulamentadoras (NR).



A Figura acima ilustra situação de trabalho na qual devem ser implementadas exigências previstas na NR:

- A) 02.
- B) 12.
- C) 14.
- D) 21.
- E) 27.

QUESTÃO 37 – “Promover a Campanha Nacional de Prevenção de Acidentes do Trabalho – CANPAT”, segundo a Norma Regulamentadora 1 – Disposições Gerais, é de responsabilidade da:

- A) Comissão Interna de Prevenção de Acidentes – CIPA.
- B) Empresa.
- C) Entidade empresarial representante da categoria do estabelecimento.
- D) Secretaria Estadual de Trabalho.
- E) Secretaria de Trabalho – STRAB, por meio da Subsecretaria de Inspeção do Trabalho – SIT.

QUESTÃO 38 – Sobre a Norma Regulamentadora 3 – Embargo e Interdição, assinale a alternativa correta.

- A) O embargo implica a interdição do estabelecimento.
- B) A interdição implica a paralisação total da obra.
- C) Considera-se grave e iminente risco toda condição ou situação de trabalho que possa causar somente acidente de trabalho fatal com o trabalhador.
- D) O Auditor Fiscal do Trabalho deve adotar o embargo ou a interdição na menor unidade onde for constatada situação de grave e iminente risco.
- E) Durante a paralisação do serviço, em decorrência da interdição ou do embargo, os trabalhadores receberão os salários, mas ficarão na condição trabalhista de férias.

QUESTÃO 39 – A Comissão Interna de Prevenção de Acidentes (CIPA), da Norma Regulamentadora 5, tem inúmeras atribuições. Das citadas, qual NÃO é atribuição da CIPA?

- A) Elaborar plano de trabalho que possibilite a ação preventiva na solução de problemas de segurança e saúde no trabalho.
- B) Realizar, a cada reunião, avaliação do cumprimento das metas fixadas em seu plano de trabalho e discutir as situações de risco que foram identificadas.
- C) Desenvolver, implementar e validar o PCMSO e PPRA e de outros programas relacionados à segurança e saúde no trabalho.
- D) Divulgar aos trabalhadores informações relativas à segurança e saúde no trabalho.
- E) Requisitar à empresa as cópias das CAT emitidas.

QUESTÃO 40 – Toda caldeira, de acordo com a Norma Regulamentadora 13, deve ter afixada em seu corpo, em local de fácil acesso e bem visível, placa de identificação indelével. Além da placa de identificação, deve constar, em local visível:

- A) A categoria da caldeira.
- B) O nome do fabricante da caldeira.
- C) O nome do profissional habilitado responsável pela inspeção de segurança da caldeira.
- D) O prazo de validade da inspeção de segurança da caldeira.
- E) A localização da caldeira na instalação.

QUESTÃO 41 – O Quadro nº 1 – Tabela de Limites de Tolerância, do Anexo 11, da Norma Regulamentadora 15 – Atividades e Operações Insalubres, menciona inúmeros Asfixiantes Simples. Dos citados, qual NÃO está inserido no referido Quadro?

- A) Benzeno.
- B) Etileno.
- C) Hélio.
- D) Hidrogênio.
- E) Metano.

QUESTÃO 42 – Segundo a Norma Regulamentadora 18 – Condições e Meio Ambiente de Trabalho na Indústria da Construção, somente empresas regularmente inscritas em que órgão podem fabricar andaimes completos ou quaisquer componentes estruturais?

- A) Secretaria de Obras do estado.
- B) Secretaria de Obras do município.
- C) Conselho Regional de Engenharia, Arquitetura e Agronomia.
- D) Superintendência Regional do Trabalho do estado.
- E) Secretaria de Inspeção do Trabalho.

QUESTÃO 43 – Sobre a Norma Regulamentadora 24 – Condições Sanitárias e de Conforto nos Locais de Trabalho, assinale a alternativa correta.

- A) Deve ser atendida a proporção mínima de uma instalação sanitária para cada grupo de 50 (cinquenta) trabalhadores ou fração, separadas por sexo.
- B) Não é permitida a divisão dos trabalhadores do turno, em grupos para a tomada de refeições.
- C) É permitido o preparo de qualquer tipo de alimento dentro dos quartos.
- D) Os trabalhadores alojados no mesmo quarto devem pertencer, obrigatoriamente, ao mesmo turno de trabalho.
- E) As empresas que oferecerem serviços de guarda volume para a guarda de roupas e acessórios pessoais dos trabalhadores estão dispensadas de fornecer armários.

QUESTÃO 44 – A Norma Regulamentadora 33 – Segurança e Saúde no Trabalho em Espaços Confinados obriga que todos os trabalhadores autorizados, Vigias e Supervisores de Entrada devem receber capacitação periódica a cada quantos meses?

- A) Seis.
- B) Doze.
- C) Dezoito.
- D) Vinte e quatro.
- E) Quarenta.

QUESTÃO 45 – O Manual da Norma Regulamentadora 35 – Trabalho em Altura refere que o SPCQ (Sistema de Proteção Coletiva contra Quedas) protege todos os trabalhadores. Das assertivas abaixo, pode(m) ser enquadrada(s) como SPCQ, de acordo com o Manual:

- I. Guarda-corpo.
- II. Redes de segurança.
- III. Fechamento de aberturas no piso.

Quais estão corretas?

- A) Apenas I.
- B) Apenas II.
- C) Apenas III.
- D) Apenas II e III.
- E) I, II e III.

QUESTÃO 46 – Conforme a Lista de Doenças Relacionadas ao Trabalho (LDRT), do Ministério da Saúde (2020), qual substância pode causar perda de audição ototóxica?

- A) Sílica.
- B) Quartzo.
- C) Oxigênio.
- D) Tolueno.
- E) Amônia.

QUESTÃO 47 – “É a cor usada para indicar os perigos provenientes das radiações eletromagnéticas penetrantes e partículas nucleares”. O texto da ABNT NBR 7195 – Cores para Segurança se refere a cor:

- A) Azul.
- B) Amarela.
- C) Púrpura.
- D) Preta.
- E) Verde.

QUESTÃO 48 – Incêndios com óleo e gordura, equipamentos elétricos, líquidos inflamáveis são enquadrados, respectivamente, como de Classe:

- A) A, B e C.
- B) A, C e K.
- C) B, A e D.
- D) K, C e B.
- E) K, B e C.

QUESTÃO 49 – A ABNT NBR 14280:2001 – Cadastro de Acidente do Trabalho, que fixa critérios para o registro, comunicação, estatística, investigação e análise de acidentes do trabalho, define que a Taxa de Frequência de Acidentes é o número de acidentes por _____ de horas-homem de exposição ao risco, em determinado período.

Assinale a alternativa que preenche corretamente a lacuna do trecho acima.

- A) dezena
 - B) centena
 - C) milhar
 - D) milhão
 - E) bilhão
-

QUESTÃO 50 – O Programa de Proteção Respiratória é fundamental para proteção dos trabalhadores expostos a agentes químicos. A cor do cartucho do respirador para vapores orgânicos é:

- A) Azul.
- B) Branca.
- C) Preta.
- D) Rosa.
- E) Vermelha.