



DOMINGO DE MANHÃ

**AGÊNCIA ESTADUAL DE REGULAÇÃO DOS SERVIÇOS PÚBLICOS
DELEGADOS DO RIO GRANDE DO SUL – AGERGS
CONCURSO PÚBLICO Nº 01/2022**

TÉCNICO SUPERIOR ECONOMISTA

INSTRUÇÕES

Leia atentamente e cumpra rigorosamente as instruções que seguem, pois elas são parte integrante das provas e das normas que regem esse certame.

1. Atente-se aos avisos contidos no quadro da sala.
2. Seus pertences deverão estar armazenados dentro de embalagem específica fornecida pelo fiscal, permanecendo em sua posse somente caneta esferográfica de ponta grossa, de material transparente, com tinta preta, documento de identificação, lanche e água, se houver. A utilização de qualquer material não permitido em edital é expressamente proibida, acarretando a sua imediata eliminação do certame.
3. Certifique-se de que este caderno:
 - contém 70 (setenta) questões;
 - refere-se ao cargo para o qual realizou a inscrição.
4. Cada questão oferece 5 (cinco) alternativas de respostas, representadas pelas letras A, B, C, D e E, sendo apenas 1 (uma) a resposta correta.
5. Será respeitado o tempo para realização da prova conforme previsto em edital, incluindo o preenchimento da grade de respostas.
6. Os três últimos candidatos deverão retirar-se da sala de prova ao mesmo tempo, devendo assinar a Ata de Prova.
7. A responsabilidade referente à interpretação dos conteúdos das questões é exclusiva do candidato.
8. No caderno de prova, você poderá rabiscar, riscar e calcular.
9. Os gabaritos preliminares da prova objetiva serão divulgados na data descrita no Cronograma de Execução desse certame.



V1_27/06/2022 13:06:06



Instrução: As questões de números 01 a 20 referem-se ao texto abaixo.

Dialogar ou cancelar, eis a questão

Por Nilson Souza

01 Já não sei mais se a frase é de Confúcio ou de Bernard Shaw, mas acredito que qualquer
02 um deles – gênios que foram – poderia ser o pai da criança. Se você tem uma maçã e eu tenho
03 outra, e nós trocamos as maçãs, cada um fica com uma. Mas se você tem uma ideia e eu tenho
04 outra, e nós as trocamos, então cada um terá duas ideias.

05 Adoro essa mensagem e me esforço para colocá-la em prática com amigos e amigas que
06 eventualmente encontro fora da clau__ura tecnológica. Quando o celular está presente, fica mais
07 difícil, pois o brinquedinho, como bem sabem os usuários, aproxima quem está longe e afasta
08 quem está próximo. Além disso, o ambiente das redes sociais está se transformando numa arena
09 repleta de gladiadores e leões furiosos espera de vítimas incautas.

10 Claro, sempre é possível dar um drible no Grande Irmão e tentar uma conversa à moda
11 antiga, totalmente analógica, com a__ionamento de cordas vocais e tímpanos. Costumo fazer
12 isso nas minhas caminhadas matinais, na companhia de um velho parceiro de exercício e ofício.
13 Trocamos ideias como as crianças que fomos trocavam gibis na porta do cinema – a maioria,
14 histórias já lidas e conhecidas, mas sempre divertidas. Não é raro, porém, que voltemos aos
15 nossos afazeres diários com alguma nova reflexão.

16 Nem sempre concordamos um com o outro. Mas é exatamente quando temos visões
17 conflitantes sobre algum tema que tiramos maior proveito do debate. Tudo porque nossa
18 amizade, longa e sólida, nos torna impermeáveis cultura do cancelamento – hoje uma das
19 maiores ameaças à liberdade de expressão. Sim, pois o verbo cancelar já não se resume
20 tornar algo sem efeito ou a excluir das nossas relações aqueles que pensam de forma diferente
21 da nossa. No tribunal sumário do mundo digital, qualquer divergência de opinião tende a derivar
22 para banimentos, boicotes, intimidações e, não raro, linchamentos públicos.

23 Nesse contexto, o ódio flore__e, a autocensura cresce e o debate público empobrece. Mas
24 sempre pode haver espaço para o diálogo, para o debate construtivo e para a convivência de
25 contrários. Precisamos conversar sobre isso, antes que o fungo da intolerância contamine
26 irremediavelmente as nossas maçãs.

(Disponível em: Zero Hora, Porto Alegre, ano 58, n. 20.292, 29 mar. 2022. p. 3 – texto adaptado especialmente para esta prova).

QUESTÃO 01 – Assinale a alternativa cuja informação encontra respaldo no texto.

- A) É necessário dialogar sobre o uso incorreto do celular.
- B) Ao invés de aproximar as pessoas, o celular as afasta.
- C) Não há mais a possibilidade de um diálogo saudável entre os opostos.
- D) A intolerância não tem solução, pois ela já está enraizada na sociedade.
- E) A liberdade de expressão é ameaçada pela cultura do cancelamento.

QUESTÃO 02 – De acordo com a leitura do texto, é correto afirmar que a cultura do cancelamento:

- A) Utiliza um novo sentido para o verbo “cancelar”.
- B) Favorece a liberdade de expormos a nossa opinião na internet.
- C) Aproxima quem está perto e afasta quem está longe.
- D) Ocorre fora do mundo digital, quando há divergências entre as pessoas.
- E) Resume-se apenas como a exclusão de um indivíduo de nosso convívio social.

QUESTÃO 03 – Considerando o emprego do acento indicativo de crase, assinale a alternativa que preenche, correta e respectivamente, as lacunas pontilhadas das linhas 09, 18 e 19.

- A) a – à – a
- B) à – a – à
- C) a – a – à
- D) à – à – a
- E) à – à – à

QUESTÃO 04 – Assinale a alternativa que preenche, correta e respectivamente, as lacunas tracejadas das palavras nas linhas 06, 11 e 23.

- A) s – c – c
- B) ç – sc – ss
- C) s – c – sc
- D) z – ss – c
- E) z – c – sc

QUESTÃO 05 – Os vocábulos “incautas” (l. 09) e “afazeres” (l. 15) podem ser substituídos, respectivamente, sem alteração de sentido ou de outras palavras nos trechos nos quais se encontram, por:

- A) descuidadas – encargos.
- B) enganadas – obrigações.
- C) desprevenidas – tarefas.
- D) enganadas – encargos.
- E) descuidadas – obrigações.

QUESTÃO 06 – Os vocábulos “pois” (l. 07) e “mas” (l. 14) podem ser substituídos, respectivamente, sem alteração de sentido ou de outras palavras nas frases, por:

- A) afinal – logo.
- B) porque – entretanto.
- C) uma vez que – portanto.
- D) já que – assim.
- E) contudo – porque.

QUESTÃO 07 – Observe o trecho a seguir retirado do texto: “Quando o celular está presente, fica mais difícil, pois o brinquedinho, como bem sabem os usuários, aproxima quem está longe e afasta quem está próximo”.

Se as palavras “celular” e “brinquedinho” fossem flexionadas no plural, quantas outras palavras precisariam ser modificadas para garantir a correta concordância verbo-nominal?

- A) 3.
- B) 4.
- C) 5.
- D) 6.
- E) 7.

QUESTÃO 08 – Os vocábulos “la” (l. 05) e “brinquedinho” (l. 07) referem-se, respectivamente, às palavras:

- A) mensagem – ambiente.
- B) prática – celular.
- C) ideia – ambiente.
- D) prática – difícil.
- E) mensagem – celular.

QUESTÃO 09 – Tendo em vista a oração “o ódio flore__e” (l. 23), a qual teve a lacuna tracejada mantida, assinale a alternativa em que apenas advérbios foram acrescentados à frase.

- A) Hoje, o terrível ódio flore__e.
- B) O teu ódio flore__e continuamente.
- C) Aqui o enorme ódio flore__e.
- D) O atual ódio flore__e.
- E) Hodiernamente, o ódio não flore__e.

QUESTÃO 10 – Analise as assertivas abaixo e assinale V, se verdadeiras, ou F, se falsas, relacionadas ao trecho “Mas sempre pode haver espaço para o diálogo, para o debate construtivo e para a convivência de contrários”.

- () O vocábulo “sempre” é um advérbio.
- () O termo “para” é uma preposição formada pelo processo de combinação.
- () O trecho possui uma locução verbal.
- () “Construtivo” é um substantivo simples.

A ordem correta de preenchimento dos parênteses, de cima para baixo, é:

- A) F – F – F – F.
- B) V – F – V – F.
- C) F – V – V – V.
- D) V – F – F – V.
- E) F – V – F – V.

QUESTÃO 11 – Assinale a alternativa que apresenta um pronome indefinido.

- A) “Se você tem uma maçã e eu tenho outra (...)” (l. 02–03).
- B) “(...) sempre é possível dar um drible no Grande Irmão (...)” (l. 10).
- C) “Mas sempre pode haver espaço para o diálogo (...)” (l. 23–24).
- D) “Costumo fazer isso nas minhas caminhadas matinais (...)” (l. 11–12).
- E) “Já não sei mais se a frase é de Confúcio ou de Bernard Shaw (...)” (l. 01).

QUESTÃO 12 – Em relação às classes gramaticais, assinale a alternativa correta.

- A) Em “(...) E nós as trocamos (...)” (l. 04), o termo em destaque é um artigo definido.
- B) Em “(...) E me esforço para colocá-la em prática (...)” (l. 05), o vocábulo em destaque é um substantivo.
- C) Em “costumo fazer isso nas minhas caminhadas matinais (...)” (l. 11–12), a palavra em destaque é um adjetivo.
- D) Em “não é raro, porém, que voltemos aos nossos afazeres diários (...)” (l. 14–15), o termo em destaque é um pronome pessoal oblíquo.
- E) Em “(...) E o debate público empobrece” (l. 23), o vocábulo em destaque é um substantivo.

QUESTÃO 13 – Em relação à oração “Adoro essa mensagem”, retirada do texto, analise as assertivas abaixo e assinale V, se verdadeiras, ou F, se falsas.

- () O tipo de sujeito da oração é indeterminado.
- () O verbo “adoro” é um verbo transitivo indireto.
- () O tipo de predicado é verbal.
- () A expressão “essa mensagem” é complemento verbal.

A ordem correta de preenchimento dos parênteses, de cima para baixo, é:

- A) F – V – F – V.
- B) V – V – F – V.
- C) F – F – V – V.
- D) F – V – F – F.
- E) V – F – V – F.

QUESTÃO 14 – Assinale a alternativa que apresenta um sujeito oculto.

- A) “Se você tem uma maçã e eu tenho outra, (...)” (l. 02–03).
- B) “Costumo fazer isso nas minhas caminhadas matinais, (...)” (l. 11–12).
- C) “qualquer divergência de opinião tende a derivar para banimentos, (...)” (l. 21–22).
- D) “Nesse contexto, o ódio flore___e, (...)” (l. 23).
- E) “(...) o ambiente das redes sociais está se transformando numa arena repleta de gladiadores e leões furiosos (...)” (l. 08–09).

QUESTÃO 15 – Assinale a alternativa que apresenta um verbo intransitivo.

- A) "(...) e nós trocamos as maçãs (...)" (l. 03).
- B) "Costumo fazer isso nas minhas caminhadas matinais (...)" (l. 11-12).
- C) "Trocamos ideias (...)" (l. 13).
- D) "(...) a autocensura cresce (...)" (l. 23).
- E) "(...) antes que o fungo da intolerância contamine irremediavelmente as nossas maçãs" (l. 25-26).

QUESTÃO 16 – O fragmento "Se você tem uma maçã e eu tenho outra, e nós trocamos as maçãs, cada um fica com uma" apresenta:

- A) Uma oração.
- B) Duas orações.
- C) Três orações.
- D) Quatro orações.
- E) Cinco orações.

QUESTÃO 17 – Assinale a alternativa em que o advérbio destacado NÃO está se referindo a um verbo:

- A) "Já não sei mais se a frase é de Confúcio ou de Bernard Shaw (...)" (l. 01).
- B) "(...) e tentar uma conversa à moda antiga, totalmente analógica (...)" (l. 10-11).
- C) "(...) antes que o fungo da intolerância contamine irremediavelmente as nossas maçãs" (l. 25-26).
- D) "Mas é exatamente quando temos visões conflitantes sobre algum tema (...)" (l. 16-17).
- E) "(...) e me esforço para colocá-la em prática com amigos e amigas que eventualmente encontro (...)" (l. 05-06).

QUESTÃO 18 – Analise o seguinte fragmento: "No tribunal sumário do mundo digital, qualquer divergência de opinião tende a derivar para banimentos, boicotes, intimidações e, não raro, linchamentos públicos".

Assinale a alternativa que indica o número correto de preposições presentes no trecho, incluindo as que possam aparecer combinadas ou contraídas com outras palavras.

- A) 2.
- B) 3.
- C) 4.
- D) 5.
- E) 6.

QUESTÃO 19 – Assinale a alternativa que apresenta uma palavra com a mesma regra de sílaba tônica que o termo em destaque no trecho "(...) como as crianças que fomos trocavam gibis na porta do cinema (...)".

- A) Geleia.
- B) Árvore.
- C) Jiboia.
- D) Voo.
- E) Avental.

QUESTÃO 20 – Assinale a alternativa que apresenta uma palavra com grafia correta conforme o Acordo Ortográfico vigente, assim como ocorre no vocábulo destacado no seguinte trecho: "(...) a autocensura cresce (...)".

- A) Autohipnose.
- B) Autoobservação.
- C) Autopeças.
- D) Autoretrato.
- E) Autoserviço.

CONHECIMENTOS ESPECÍFICOS

QUESTÃO 21 – Analise a citação a seguir de José Afonso da Silva: “Quer realizar-se como princípio da democracia de poder aberto, estabelecendo o liame entre a liberdade e a multiplicidade dos meios de vida, não apenas como uma nova maneira de afirmar a liberdade de opinião ou de crença, mas como um sistema que enraíza essa liberdade na estrutura social” (Fonte: Revista Eleitoral TRE – RN, volume 25, 2011). O texto faz menção a qual dos princípios fundamentais da Constituição da República Federativa do Brasil?

- A) Soberania.
- B) Cidadania.
- C) Dignidade da pessoa humana.
- D) Valores sociais do trabalho e da livre iniciativa.
- E) Pluralismo político.

QUESTÃO 22 – De acordo com a Constituição Federal do Brasil, de 05 de outubro de 1988, o Artigo 37 apresenta o seguinte trecho: “A administração pública direta e indireta de qualquer _____ obedecerá aos princípios de legalidade, impessoalidade, moralidade, publicidade e eficiência”.

Assinale a alternativa que preenche corretamente a lacuna do trecho acima.

- A) município
- B) setor privatizado
- C) dos poderes da união, dos estados, do distrito federal e dos municípios
- D) estado
- E) poder, seja judiciário, legislativo ou executivo

QUESTÃO 23 – De acordo com a Lei de Licitações e Contratos (Lei nº 14.133/2021), Título II, Das Licitações, Capítulo I, do processo licitatório, assinale a alternativa INCORRETA.

- A) Um dos objetivos do processo licitatório é assegurar a seleção da proposta apta a gerar o resultado de contratação mais vantajoso para a Administração Pública, inclusive no que se refere ao ciclo de vida do objeto.
- B) De acordo com Art. 12, um dos itens a observar-se é o desatendimento de exigências meramente formais que não comprometam a aferição da qualificação do licitante ou a compreensão do conteúdo de sua proposta importará no seu afastamento da licitação ou na invalidação do processo.
- C) Um dos objetivos do processo licitatório é assegurar tratamento isonômico entre os licitantes, bem como a justa competição.
- D) Um dos objetivos do processo licitatório é evitar contratações com sobrepreço ou com preços manifestadamente inexequíveis e superfaturamento na execução dos contratos.
- E) No processo licitatório, conforme o Art. 12, os valores, os preços e os custos utilizados terão como expressão monetária a moeda corrente nacional, ressalvado o disposto no art. 52 desta Lei.

QUESTÃO 24 – Uma das questões mais debatidas quando se trata dos estudos econômicos é a escassez. Sobre o assunto, analise as assertivas abaixo:

- I. A escassez é o mesmo que pobreza. Não se tem acesso aos bens por falta de recursos.
- II. Não se pode confundir escassez com pobreza. Pobreza significa ter poucos bens. Escassez significa mais desejos do que bens para satisfazê-los, ainda que haja muitos bens.
- III. O fenômeno da escassez está presente somente nas sociedades pobres.

Quais estão corretas?

- A) Apenas II.
- B) Apenas I e II.
- C) Apenas I e III.
- D) Apenas II e III.
- E) I, II e III.

QUESTÃO 25 – Analise as assertivas abaixo e assinale V, se verdadeiras, ou F, se falsas, considerando a Lei nº 14.133/2021, que trata das licitações e contratos administrativos.

- () Não se subordinam ao regime desta lei contratos que tenham por objeto operação de crédito, interno ou externo, e gestão de dívida pública, incluídas as contratações de agente financeiro e a concessão de garantia relacionadas a esses contratos e contratações sujeitas a normas previstas em legislação própria.
- () Dentre as contratações sujeitas a normas previstas em legislação própria, está na Lei Complementar nº 123/2006 (Art. 4º), que estabelece normas gerais relativas ao tratamento diferenciado e favorecido a ser dispensado às microempresas e empresas de pequeno porte no âmbito dos Poderes da União, dos Estados, do Distrito Federal e dos Municípios.
- () Uma das disposições a que se refere o caput deste artigo (Art. 4º), que estabelece dispensa em licitações e contratos administrativos às microempresas e empresas de pequeno porte, não são aplicadas no caso de licitação para aquisição de bens ou contratação de serviços em geral ao item cujo valor estimado for superior à receita bruta máxima admitida para fins de enquadramento como empresa de pequeno porte.

A ordem correta de preenchimento dos parênteses, de cima para baixo, é:

- A) V – V – F.
- B) V – V – V.
- C) V – F – V.
- D) F – V – F.
- E) F – F – V.

QUESTÃO 26 – As autoridades ligadas à gestão econômica possuem muitos desafios, uma vez que a economia para se manter equilibrada requer o atendimento das diversas demandas dos agentes econômicos. Considerando o fluxo circular da renda de forma simplificada, os indivíduos são _____ da força de trabalho, da terra, dos recursos naturais, das máquinas, equipamentos e edificações, entre outros. As empresas compram o uso desses fatores de _____ dos indivíduos, que vão ao mercado de _____ comprar bens e serviços que necessitam e pagam por eles.

Assinale a alternativa que preenche, correta e respectivamente, as lacunas do trecho acima.

- A) agentes – mercado – proprietários
- B) usuários – produção – agentes
- C) proprietários – mercado – empregadores
- D) proprietários – produção – produtos
- E) contribuintes – produção – agentes

QUESTÃO 27 – Analise as seguintes asserções e a relação proposta entre elas:

- I. A curva de oferta mostra a relação entre os preços de um produto e as quantidades que os produtores estão dispostos a ofertar por unidade de tempo. Na oferta, os preços se correlacionam positivamente com as quantidades. A expansão da produção de cada firma segue ao longo de sua curva de custo marginal, a qual, devido à lei dos rendimentos decrescentes, aumenta com a produção.

PORQUE

- II. O aumento de preço estimula outras firmas a entrarem no mercado, aumentando a produção.

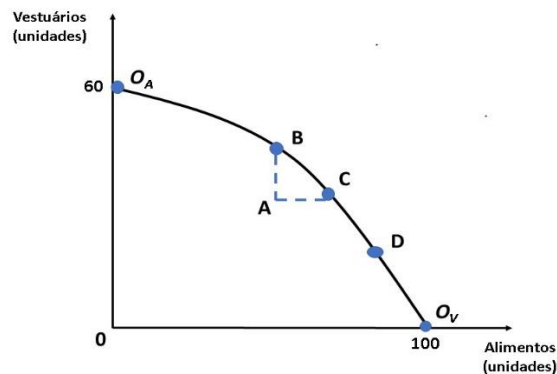
A respeito dessas asserções, assinale a alternativa correta.

- A) As asserções I e II são proposições verdadeiras, e a II é uma justificativa da I.
- B) As asserções I e II são proposições verdadeiras, mas a II não é uma justificativa da I.
- C) A asserção I é uma proposição verdadeira, e a II é uma proposição falsa.
- D) A asserção I é uma proposição falsa, e a II é uma proposição verdadeira.
- E) As asserções I e II são proposições falsas.

QUESTÃO 28 – A relação entre a quantidade de um bem que os consumidores estão dispostos a adquirir e o preço do bem se refere a:

- A) Mercado potencial.
- B) Propensão Marginal dos estoques.
- C) Curva de oferta de produtos.
- D) Rendimentos crescentes.
- E) Curva de demanda.

QUESTÃO 29 – A figura abaixo mostra as diversas combinações de alimento e vestuário que podem ser produzidas com uma quantidade fixa de insumos trabalho e capital, mantendo-se a tecnologia constante. A partir da interpretação da figura, analise a sentença abaixo:



Pode-se afirmar que a figura demonstra a fronteira de possibilidades de produção obtida da curva de contrato da produção. Cada ponto, tanto da curva de contrato como da fronteira de possibilidades de produção, apresenta quantidades eficientemente produzidas de alimento e de vestuário (**1ª parte**). O ponto O_A representa um extremo no qual apenas se produz alimento e O_V representa outro extremo no qual apenas se produz vestuário. Os pontos B, C e D correspondem aos pontos nos quais a produção de alimentos são realizadas de forma eficiente (**2ª parte**). O ponto A, que representa uma alocação ineficiente, situa-se dentro da fronteira de possibilidades de produção. Mesmo o ponto A estando fora da curva, todos os pontos contidos no triângulo ABC envolvem a completa utilização de capital e trabalho no processo produtivo. No entanto, percebe-se uma distorção no mercado de trabalho, decorrente talvez de um grupo de interesses voltado à maximização da renda, que fez com que a economia como um todo seja produtivamente ineficiente (**3ª parte**).

Quais partes estão corretas?

- A) Apenas a 1ª parte.
- B) Apenas a 3ª parte.
- C) Apenas a 1ª e a 3ª partes.
- D) Apenas a 2ª e a 3ª partes.
- E) Todas as partes.

QUESTÃO 30 – Sob ponto de vista empresarial e organizacional, o *break-even point* (ou Ponto de Equilíbrio) ocorre quando:

- A) Os dirigentes, juntamente com os acionistas, conseguem definir os pontos estratégicos essenciais para o sucesso da empresa.
- B) A meta das receitas totais é alcançada.
- C) Os Custos Fixos (CF) se igualam aos Custos Variáveis (CV).
- D) O Preço de Venda (PV) alcança a rentabilidade marginal.
- E) Todos os custos fixos e variáveis se igualam à receita, ou seja, o lucro é igual zero.

QUESTÃO 31 – Em relação à função de produção, assinale V, se verdadeiras, ou F, se falsas.

- () As empresas, mais especificamente as indústrias, utilizam vários insumos combinados, que podem ser mão de obra, matérias-primas e capital para a produção de um bem.
- () O objetivo da função de produção é indicar o produto mínimo (volume de produção), que uma empresa produz para cada combinação específica de insumos.
- () As funções de produção descrevem o que é tecnicamente viável quando a empresa opera eficientemente.

A ordem correta de preenchimento dos parênteses, de cima para baixo, é:

- A) V – F – V.
- B) V – V – V.
- C) F – F – F.
- D) F – V – F.
- E) F – F – V.

QUESTÃO 32 – Um dos desafios impostos pelo mercado é identificar como o consumidor toma suas decisões de compras. Em relação ao comportamento do consumidor, analise as assertivas abaixo, assinalando V, se verdadeiras, ou F, se falsas.

- () Para melhor compreensão das escolhas do consumidor, deve-se conhecer a teoria do comportamento do consumidor, a qual explica como os consumidores alocam a renda para a aquisição de bens e serviços diversos.
- () Existem três etapas importantes para compreender o comportamento do consumidor: a primeira delas diz respeito ao marketing aplicado no mercado e como ele desperta os desejos no consumidor; a segunda etapa vem na esteira do marketing, e compreende a marca e o valor do bem; a terceira e decisiva etapa é a questão orçamentária.
- () A teoria do comportamento do consumidor inicia-se com três premissas básicas a respeito das restrições orçamentárias das pessoas por determinada cesta de mercado em relação a outra. São elas: Integralidade (plenitude), Transitividade e Mais é melhor do que menos.
- () Uma forma de medir a quantidade de determinada mercadoria que um consumidor estaria disposto a abrir mão para obter maior número de outra, é pela medida denominada Taxa Marginal de Substituição (TMS).

A ordem correta de preenchimento dos parênteses, de cima para baixo, é:

- A) V – F – F – V.
- B) V – V – F – F.
- C) V – F – V – F.
- D) F – V – F – V.
- E) F – F – V – V.

QUESTÃO 33 – Relacione a estrutura de mercado, constante na Coluna 1 com as respectivas características descritas na Coluna 2.

Coluna 1

1. Concorrência perfeita.
2. Monopólio.
3. Concorrência Monopolista.
4. Oligopólio.

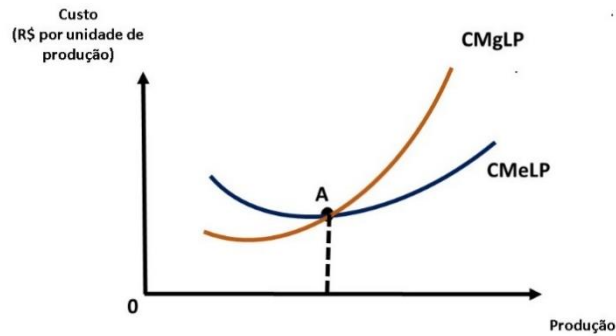
Coluna 2

- () Este mercado é caracterizado por um pequeno número de empresas que dominam o mercado, controlam a oferta de um produto. Este produto pode ser homogêneo ou diferenciado.
- () Nesta estrutura, uma única empresa vende um produto que não possui substitutos próximos.
- () Este mercado se caracteriza por existirem muitas empresas vendendo produtos diferenciados, mas esses são substitutos próximos entre si.
- () Mercado caracterizado por um grande número de compradores e de vendedores. Este número é tão representativo que, agindo individualmente, os agentes não conseguem afetar o preço. Nesse mercado, os produtos são homogêneos.

A ordem correta de preenchimento dos parênteses, de cima para baixo, é:

- A) 4 – 2 – 1 – 3.
- B) 4 – 2 – 3 – 1.
- C) 4 – 3 – 2 – 1.
- D) 2 – 4 – 3 – 1.
- E) 2 – 4 – 1 – 3.

QUESTÃO 34 – A partir da figura que apresenta a curva de custo marginal no longo prazo (CMgLP) e curva de custo médio no longo prazo (CMeLP), analise as assertivas abaixo e assinale a alternativa correta.



- I. A curva de custo marginal no longo prazo (CMgLP) pode ser determinada a partir da curva de custo médio no longo prazo.
 - II. O CMgLP está abaixo da curva de custo médio no longo prazo quando o CMeLP está diminuindo e acima da curva de custo médio no longo prazo quando o CMeLP está aumentando.
 - III. As duas curvas se cruzam no ponto A, onde a curva de custo médio no longo prazo atinge seu ponto máximo. No caso especial em que o CMeLP é constante, temos o CMeLP menor que o CMgLP.
 - IV. A curva CMgLP fornece a variação no custo total no longo prazo quando o produto diminui em 1 unidade, conforme a Lei dos Rendimentos Decrescentes.
- A) Todas estão corretas.
 B) Todas estão incorretas.
 C) Apenas I está correta.
 D) Apenas I e II estão corretas.
 E) Apenas III e IV estão corretas.

QUESTÃO 35 – O quadro a seguir apresenta um exemplo hipotético sobre as variações de preços por litro de combustível e o respectivo consumo, em litros, de uma determinada família no Brasil.

Período Mês	PREÇO DO LITRO GASOLINA (em R\$)	QUANTIDADE DE LITROS/MÊS CONSUMIDOS PELA FAMÍLIA
1	6,00	200
2	8,00	100

Sobre a Elasticidade-Preço da Demanda, analise as seguintes asserções e a relação proposta entre elas:

- I. A Elasticidade-Preço da Demanda (E_d) da família é elástica, ou seja, $E_d > 1$, significando que uma mudança (em termos percentuais) no preço provoca uma mudança (em termos percentuais) na quantidade demandada maior que a mudança de preço.

PORQUE

- II. Se o cálculo entre as variações de preço e as variações dos litros consumidos, medidos pela Elasticidade-Preço da Demanda, fosse menor que 1 ($E_d < 1$) a demanda seria considerada inelástica. Na presente situação, a variação no preço foi de 33,33% e a variação na quantidade de litros/mês foi de -50%, gerando uma Elasticidade-Preço da Demanda de 1,5.

A respeito dessas asserções, assinale a alternativa correta.

- A) As asserções I e II são proposições verdadeiras, e a II é uma justificativa da I.
 B) As asserções I e II são proposições verdadeiras, mas a II não é uma justificativa da I.
 C) A asserção I é uma proposição verdadeira, e a II é uma proposição falsa.
 D) A asserção I é uma proposição falsa, e a II é uma proposição verdadeira.
 E) As asserções I e II são proposições falsas.

QUESTÃO 36 – Quanto ao tema Elasticidade, analise as afirmações abaixo:

1. Quando uma demanda tiver uma elasticidade unitária ($E_d = 1$) significa que uma mudança (em termos percentuais) no preço provoca uma mudança (em termos percentuais) na quantidade demandada igual à mudança percentual havida no preço.
2. Quando a demanda é elástica, uma redução no preço acarreta uma elevação na receita total dos produtores. Ao contrário, se o preço aumentar, a receita total dos produtores diminui.
3. Quando a demanda é inelástica, os consumidores respondem fortemente à queda de preços (mostram-se mais sensíveis à diminuição de preço). Portanto, em uma demanda inelástica, a diminuição no preço faz com que a receita total dos produtores diminua.
4. Quando a elasticidade-renda da demanda ($E_r > 0$) for positiva, o bem será normal, quando a elasticidade-renda da demanda for negativa ($E_r < 0$), tem-se o caso dos bens inferiores. Quando a elasticidade-preço cruzada da demanda entre dois bens for maior que zero ($E_{xy} > 0$), os bens são substitutos. Ao contrário, quando a elasticidade-preço cruzada da demanda entre dois bens for menor que zero ($E_{xy} < 0$), diz-se que os bens são complementares.
5. A elasticidade da oferta pode ser elástica e inelástica. Se a variação percentual na quantidade ofertada for maior e na mesma direção que a variação percentual no preço, o coeficiente de elasticidade-preço da oferta será elástico. Ao contrário, se a variação percentual na quantidade ofertada for menor e na mesma direção que a variação percentual no preço, o coeficiente de elasticidade-preço da oferta será inelástico.

O resultado da somatória dos números correspondentes às afirmações corretas é:

- A) 08.
- B) 10.
- C) 12.
- D) 13.
- E) 15.

QUESTÃO 37 – Sobre as estruturas de mercado, o equilíbrio preço-quantidade em uma estrutura de mercado _____, em curto prazo, é alcançado quando as quantidades demandadas e oferecidas são iguais. Na estrutura de mercado _____, a empresa é formadora de preço. Na estrutura de mercado _____, as seguintes hipóteses devem ser consideradas: existência de muitos compradores e vendedores, cada empresa produz e vende um produto diferenciado, embora substituto próximo e a existência de livre entrada e saída de empresas.

Assinale a alternativa que preenche, correta e respectivamente, as lacunas do trecho acima.

- A) monopólio – concorrência monopolista – oligopólio
- B) concorrência monopolista – monopólio – concorrência perfeita
- C) concorrência perfeita – oligopólio – concorrência monopolista
- D) concorrência monopolista – oligopólio – monopólio
- E) concorrência perfeita – monopólio – concorrência monopolista

QUESTÃO 38 – Uma das formas para avaliar o desempenho de um país é medir o seu _____, que corresponde à soma daquilo que foi _____ durante determinado período. Existem duas formas para se medir o _____, uma por meio do dispêndio ou demanda, a outra por meio da _____ gerada no processo produtivo.

Assinale a alternativa que preenche, correta e respectivamente, as lacunas do trecho acima.

- A) produto – produzido – produto – renda
- B) custo – gasto – custo – manutenção
- C) crescimento – produzido – desempenho – arrecadação
- D) produto – gasto – crescimento – demanda agregada
- E) produto – produzido – crescimento – demanda agregada

QUESTÃO 39 – Quanto à demanda agregada e o efeito multiplicador, considere as assertivas abaixo, assinalando V, se verdadeiras, ou F, se falsas.

- () Considerando a economia em equilíbrio, onde a renda é igual a demanda agregada, o aumento de R\$ 1,00 no gasto autônomo eleva o nível de equilíbrio da renda em R\$ 1,00.
- () O efeito multiplicador na economia em geral não aumenta a renda, pois parte do gasto autônomo irá compor os investimentos agregados.
- () A demanda agregada é conhecida como a quantidade de bens demandado na economia e é representada pela equação $DA = C + I + G + NX$ (onde C é o consumo, I é o investimento, G é o gasto do governo e NX é o saldo entre importação e exportação). A demanda por consumo aumenta com o nível de renda e a propensão marginal a consumir é o aumento do consumo causado por aumento unitário da renda.
- () Em uma economia em equilíbrio, o aumento de R\$ 1,00 no gasto autônomo vai proporcionar uma maior variação no produto. Isso se dá pelo chamado efeito multiplicador, que é o valor pelo qual o produto de equilíbrio varia quando a demanda agregada autônoma aumenta em 1 unidade.

A ordem correta de preenchimento dos parênteses, de cima para baixo, é:

- A) V – F – F – V.
- B) V – V – F – F.
- C) V – F – V – F.
- D) F – V – F – V.
- E) F – F – V – V.

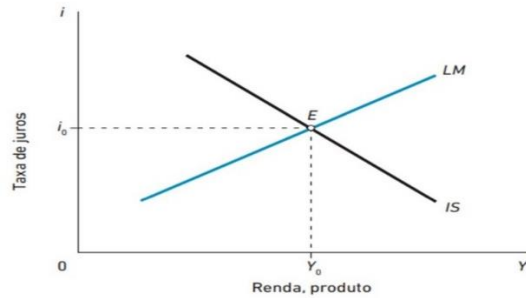
QUESTÃO 40 – Considere que a condição de equilíbrio da economia é dada pela equação $OA = DA$, onde OA é a Oferta Agregada e a DA é a Demanda Agregada. Suponha uma economia que o nível de investimento planejado seja de R\$ 50,00 e que a função consumo seja $C = R\$ 200,00 + 0,90 Y$. Suponha ainda que o nível de investimento planejado passe para R\$ 60,00. Sobre o consumo e renda de equilíbrio dessa economia, considere as assertivas abaixo, assinalando V, se verdadeiras, ou F, se falsas.

- () Com investimento planejado de R\$ 50,00, a renda de equilíbrio é de 2.500,00 e o consumo de equilíbrio da economia é de R\$ 2.450,00.
- () Com investimento planejado de R\$ 60,00, a renda de equilíbrio é de 2.600,00 e o consumo de equilíbrio da economia é de R\$ 2.540,00.
- () Com investimento planejado de R\$ 50,00, a renda de equilíbrio é de 3.500,00 e o consumo de equilíbrio da economia é de R\$ 3.450,00.

A ordem correta de preenchimento dos parênteses, de cima para baixo, é:

- A) V – F – F.
- B) V – V – F.
- C) V – F – V.
- D) F – V – F.
- E) F – F – V.

QUESTÃO 41 – Sobre o equilíbrio IS-LM, gráfico abaixo, a curva IS representa o equilíbrio no mercado de bens, a curva LM representa o equilíbrio no mercado monetário.



A aplicação de uma política monetária expansionista desloca a curva LM para _____, aumentando a renda e _____ as taxas de juros. Uma política monetária contractionista desloca a curva LM para a _____, diminuindo a renda e aumentando as taxas de juros.

Assinale a alternativa que preenche, correta e respectivamente, as lacunas do trecho acima.

- A) esquerda – aumentando – direita
- B) direita – aumentando – direita
- C) direita – aumentando – esquerda
- D) esquerda – reduzindo – esquerda
- E) direita – reduzindo – esquerda

QUESTÃO 42 – O Sistema Financeiro Nacional (SFN) é formado por um conjunto de entidades e instituições. O CMN – Conselho Monetário Nacional, que é um órgão _____. Corretoras e distribuidora são órgãos _____, que atuam nos mercados financeiro e de capitais e no mercado cambial.

Assinale a alternativa que preenche, correta e respectivamente, as lacunas do trecho acima.

- A) normativo – supervisores
- B) supervisor – normativos
- C) supervisor – supervisores
- D) normativo – operadores
- E) normativo – normativos

QUESTÃO 43 – Um empresário, ao solicitar um capital de giro para seu banco, apresentou os indicadores relacionados a seguir sobre sua empresa, uma prestadora de serviços.

Indicadores	ANO 1	ANO 2
Margem Líquida	26,6%	1,6%
Giro do Contas a Receber	8,2 vezes	3,7 vezes
Prazo Médio de Recebimento	44 dias	96 dias
Liquidez Corrente	0,80	0,85

Analise as assertivas abaixo, assinalando V, se verdadeiras, ou F, se falsas:

- () Como o indicador Margem Líquida é uma relação entre o Lucro Líquido e as Vendas (ou faturamento), significa que uma das possibilidades é que as vendas no ano 2 não se mantiveram nos mesmos níveis do ano 1.
- () Apesar de alguns indicadores não estarem tão positivos, a empresa demonstrou melhora em sua performance.
- () O contas a receber teve uma piora em sua performance, chegando a cair 55% entre o ano 1 e o ano 2.
- () Os indicadores de solvência de curto e longo prazo apresentaram gradativa melhora demonstrada pela boa relação entre passivo circulante e ativo circulante.

A ordem correta de preenchimento dos parênteses, de cima para baixo, é:

- A) V – F – F – V.
- B) V – V – F – F.
- C) V – F – V – F.
- D) F – V – F – V.
- E) F – F – V – V.

QUESTÃO 44 – Sobre a oferta e demanda de moeda, analise as assertivas abaixo, assinalando V, se verdadeiras, ou F, se falsas.

- () Existem três fatores que determinam a demanda por moeda: demanda por motivo transacional, demanda por motivo precaucional, demanda por moeda para especulação.
- () O equilíbrio no mercado monetário no modelo Keynesiano se dá quando a oferta de moeda é maior que a demanda de moeda, permitindo a expansão da base monetária quando as transações aumentam. Esse equilíbrio é representado pela equação $O_M > D_M$, onde O_M significa Oferta de Moeda e D_M significa Demanda de Moeda.
- () Na visão Keynesiana, o aumento na oferta monetária gera uma queda na taxa de juros e, conseqüentemente, uma redução nas despesas de investimento e nas despesas de consumo, gerando um aumento na renda e no emprego.
- () A política monetária é definida como um conjunto de medidas que o governo adota para controlar a oferta de moeda e os níveis de taxa de juros, garantindo a liquidez da economia. Os principais instrumentos de regulação são: controle direto do volume de dinheiro em circulação, operações no mercado aberto, fixação da taxa de reserva, fixação da taxa de redesconto e controles seletivos de crédito.

A ordem correta de preenchimento dos parênteses, de cima para baixo, é:

- A) V – F – F – V.
- B) V – V – F – F.
- C) V – F – V – F.
- D) F – V – F – V.
- E) F – F – V – V.

QUESTÃO 45 – Referente aos indicadores e suas áreas (grupos de indicadores), relacione a Coluna 1 à Coluna 2.

Coluna 1

1. Indicadores em logística.
2. Indicadores em gestão de projetos.
3. Indicadores econômico-financeiros.
4. Indicadores em recursos humanos.
5. Indicadores em internacionalização.

Coluna 2

- () Valor Agregado (VA); Valor Planejado (VP); Orçamento no Término (ONT); Variação de Prazo (VPR).
- () Liquidez Seca; Endividamento em Longo Prazo; Período de Cobertura de Estoque; Ciclo Financeiro.
- () Absenteísmo; Rotatividade (*turnover*); Idade média de funcionários; Taxa de desligamento.
- () Proporção de Ativos no exterior; Proporção de Receitas do exterior; Proporção de Royalties no exterior.
- () *Perfect Order Measurement* (% de Pedidos perfeitos); % Entregas no prazo; % Entregas sem danos; *On-Time Delivery* (OTD) (Pedidos no Prazo).

A ordem correta de preenchimento dos parênteses, de cima para baixo, é:

- A) 1 – 2 – 3 – 4 – 5.
- B) 2 – 3 – 4 – 5 – 1.
- C) 3 – 4 – 5 – 1 – 2.
- D) 4 – 5 – 1 – 2 – 3.
- E) 5 – 1 – 2 – 3 – 4.

QUESTÃO 46 – Um cidadão estava passando por algumas situações e precisava de assessoria para tomada de decisão:

- Situação 1: estava negociando a compra de um produto e o vendedor lhe ofereceu 10% de desconto. Insatisfeito com o desconto, ele solicitou um aumento nessa taxa, o vendedor lhe concedeu mais 5% de desconto. Qual será o desconto total concedido?
- Situação 2: este cidadão ficou muito feliz quando recebeu um aumento salarial de 15% em um ano de trabalho, mas foi alertado por um amigo que a inflação de 5% no ano tinha corroído esse aumento. Ele resolveu calcular o aumento real que ganhou. Qual será esse aumento real?
- Situação 3: com pouco dinheiro em seu orçamento familiar, o cidadão resolveu vender seu carro, que para ele valia R\$ 20.000,00, pois já estava tudo pago e o carro estava em excelente estado de conservação. Ao perceber que o mercado estava aquecido e poderia pagar mais pelo seu carro, ele decidiu vendê-lo com um ganho de 20% sobre o preço de venda. Qual o valor a ser vendido?

Assinale a alternativa que corresponda ao valor correto das situações 1, 2 e 3, respectivamente.

- A) 15,5% – 9,52% – R\$ 25.000,00.
- B) 15,0% – 10,0% – R\$ 24.000,00.
- C) 16,5% – 9,0% – R\$ 24.500,00.
- D) 14,5% – 8,5% – R\$ 25.500,00.
- E) 17,0% – 10,5% – R\$ 23.500,00.

QUESTÃO 47 – Qual o montante e o total de juros simples, obtidos pela aplicação do capital de R\$ 5.000,00 no prazo de 5 anos à taxa de 2% ao mês?

- A) Juros: R\$ 550,00 – Montante: R\$ 5.000,00.
- B) Juros: R\$ 500,00 – Montante: R\$ 4.500,00.
- C) Juros: R\$ 450,00 – Montante: R\$ 4.500,00.
- D) Juros: R\$ 250,00 – Montante: R\$ 3.500,00.
- E) Juros: R\$ 500,00 – Montante: R\$ 5.500,00.

QUESTÃO 48 – Sobre taxas, desconto, prestação e montante, analise as perguntas abaixo:

- Tenho uma taxa de 2% ao mês. Qual a taxa capitalizada em cinco meses?
- Um título foi pago 3 meses antes do vencimento com desconto de 10% ao mês. O valor nominal do título é de R\$ 2.000,00. Qual o valor do desconto simples?
- Uma pessoa que faz aplicações mensais pretende, ao final de 4 meses, resgatar o montante de R\$ 2.060,80 à taxa de 2% ao mês. Qual deverá ser o valor da prestação mensal nessas condições sendo a renda postecipada?
- Qual o montante obtido pela aplicação do capital de R\$ 2.000,00 a juros compostos, no prazo de 5 meses, e remunerado à taxa de 3,0% ao mês?

Assinale a alternativa que contém, correta e respectivamente, as respostas para as perguntas acima.

- A) 10,41% – R\$ 600,00 – R\$ 500,00 – R\$ 2.318,55.
- B) 12,41% – R\$ 660,00 – R\$ 550,00 – R\$ 2.500,00.
- C) 10,00% – R\$ 400,00 – R\$ 750,00 – R\$ 2.410,00.
- D) 10,41% – R\$ 600,00 – R\$ 700,00 – R\$ 2.218,55.
- E) 12,41% – R\$ 600,00 – R\$ 550,00 – R\$ 2.400,00.

QUESTÃO 49 – Um empresário possui a opção do Projeto A para investir. Para ter certeza de que vale a pena o investimento, ele fez a análise, na tabela abaixo, pelas metodologias do VPL (Valor Presente Líquido), da Tir (Taxa Interna de Retorno) e do Payback, considerando a Taxa Mínima de Atratividade de 9% ao ano.

Ano	Projeto A
0	- 90.000,00
1	15.000,00
2	20.000,00
3	40.000,00
4	41.000,00
5	42.000,00

Analise as seguintes asserções em relação ao projeto:

I. Considerando uma Taxa Mínima de Atratividade de 9%, o Projeto A é viável.

PORQUE

II. O Projeto A apresenta VPL de R\$ 27.824,96, Tir igual a 8,6% e Payback de 3 anos e 11 meses.

A respeito dessas asserções, assinale a alternativa correta.

- A) As asserções I e II são proposições verdadeiras, e a II é uma justificativa da I.
- B) As asserções I e II são proposições verdadeiras, mas a II não é uma justificativa da I.
- C) A asserção I é uma proposição verdadeira, e a II é uma proposição falsa.
- D) A asserção I é uma proposição falsa, e a II é uma proposição verdadeira.
- E) As asserções I e II são proposições falsas.

QUESTÃO 50 – Analise o trecho a seguir: "...é inerente a qualquer atividade de negócio, pode ser de qualquer natureza e ter dimensões e efeitos que podem ser negativos ou positivos. Sempre estará presente, podendo haver baixo ou alto nível de perigo, dependendo das medidas preventivas e de segurança existentes" (Adaptado de ASSI, 2021). A que o autor se refere:

- A) Planejamento estratégico.
- B) Informatização dos sistemas.
- C) Riscos.
- D) Falta de acompanhamento na gestão.
- E) BSC – *Balanced Scorecard*.

QUESTÃO 51 – Os controles internos nas organizações estão em evidência e são cada vez mais valorizados. Controlar os diversos processos dentro das organizações tem uma série de benefícios. Quanto à legislação específica para implementação de controles internos, basta identificar a atividade que a empresa exerce. Em relação ao tema, analise as assertivas abaixo, assinalando V, se verdadeiras, ou F, se falsas.

- () Se for uma empresa de capital aberto, com ações na Bolsa de Valores, deve seguir as regras da Susep (Superintendência de Seguros Privados).
- () Se possuir ações negociadas nos Estados Unidos da América, deverá seguir a Lei Sarbanes-Oxley (SOX).
- () Se for uma operadora de plano de assistência à saúde, deverá seguir as regras da Comissão de Valores Mobiliários (CVM).
- () Se for uma entidade fechada de previdência complementar, deverá seguir as regras da Superintendência Nacional de Previdência Complementar (PREVIC).

A ordem correta de preenchimento dos parênteses, de cima para baixo, é:

- A) V – F – F – V.
- B) V – V – F – F.
- C) V – F – V – F.
- D) F – V – F – V.
- E) F – F – V – V.

QUESTÃO 52 – Segundo Assi, “Existem vários motivos para utilizar a metodologia do COSO-ERM Framework, tendo em vista a necessidade de obtenção de resultados para identificação dos riscos corporativos” (ASSI, 2021). Nesse sentido, analise as assertivas abaixo sobre algumas sugestões do COSO-ERM:

- I. Controlar os riscos com participação do conselho – o conselho de administração deve fornecer uma supervisão da estratégia e desempenhar responsabilidades de governança para apoiar a gestão na realização da estratégia e nos objetivos de negócios.
- II. Estabelecer as estruturas operacionais – a organização necessita estabelecer estruturas operacionais na busca de objetivos estratégicos e de negócios, que facilitem reconhecer os processos e controles existentes.
- III. Analisar o contexto empresarial – a organização tem como meta considerar os efeitos potenciais de riscos no contexto empresarial no perfil de risco, por meio de eventos internos e externos (análise do sistema Pestel).
- IV. Estratégias alternativas – a organização não deve investir tempo avaliando estratégias alternativas. A empresa deve revisar as estratégias corporativas, mas nunca ir por caminhos alternativos. As estratégias alternativas causam perdas de recursos e não contribuem para a sinergia empresarial.

Quais estão corretas?

- A) Apenas I.
- B) Apenas III.
- C) Apenas II e IV.
- D) Apenas I, II e III.
- E) I, II, III e IV.

QUESTÃO 53 – Leia o texto a seguir: “...é dado pelo valor de mercado de todos os bens e serviços finais produzidos na economia em um dado período de tempo (geralmente um ano). É a medida básica da atividade econômica. Ele inclui itens como roupas, serviços médicos, etc.” (NOGAMI, 2018). Assinale a alternativa que corresponde ao conceito do referido texto.

- A) PNL – Produto Nacional Líquido.
- B) PPC – Produto Para Contagem.
- C) PNB – Produto Nacional Bruto.
- D) PBA – Produto Brasileiro Agregado.
- E) PBE – Produto Básico da Economia.

QUESTÃO 54 – A partir das estatísticas do Balanço de Pagamentos do Brasil, disponibilizada pelo Banco Central, através de nota para imprensa em 29/04/2022, analise a tabela a seguir:

Tabela 1 – Balanço de pagamentos					
Discriminação	2021*			2022*	
	Fev	Jan-fev	Ano	Fev	Jan-fev
I. Transações correntes	-3 970	-12 308	-27 925	-2 414	-10 479
Balança comercial (bens)	- 357	-2 976	36 363	3 508	2 079
Exportações ^{1/}	16 500	31 598	284 012	23 694	43 616
Importações ^{2/}	16 856	34 574	247 648	20 187	41 537
Serviços	-1 416	-2 406	-17 112	-1 777	-3 274
Renda primária	-2 487	-7 500	-50 471	-4 410	-9 818
Renda secundária	289	573	3 294	265	534
II. Conta capital	21	44	225	33	53
III. Conta financeira^{3/}	-4 233	-12 720	-33 706	-2 900	-11 585
Investimento direto no exterior	1 890	4 259	19 157	2 489	4 431
Participação no capital	1 903	4 062	19 338	2 650	4 624
Operações intercompanhia	- 12	197	- 182	- 161	- 193
Investimento direto no país	8 837	12 314	46 441	11 843	16 552
Participação no capital	3 954	7 133	46 470	12 236	16 639
Operações intercompanhia	4 883	5 182	- 29	- 394	- 87
Investimento em carteira – ativos	1 785	2 683	15 164	350	324
Ações e cotas em fundos	1 617	2 927	14 489	444	471
Títulos de dívida	169	- 244	675	- 94	- 146
Investimento em carteira – passivos	3 825	8 706	20 858	2 164	7 011
Ações e cotas em fundos	822	5 471	5 069	4 849	8 813
Títulos de dívida	3 003	3 234	15 789	-2 685	-1 802
Derivativos – ativos e passivos	- 343	- 348	- 960	- 100	- 608
Outros investimentos – ativos ^{4/}	- 760	-1 827	24 527	9 647	9 508
Outros investimentos – passivos ^{4/}	-3 074	- 314	38 261	2 391	2 761
Ativos de reserva	2 781	3 219	13 967	1 112	1 084
Erros e omissões	- 284	- 456	-6 006	- 519	-1 160
Memo:					
Transações correntes / PIB (%)		- 5,0	- 1,7		- 3,8
Investimento direto no país / PIB (%)		5,0	2,9		5,9

1/ Exclui mercadorias deixando o território nacional sem mudança de proprietário. Inclui mercadorias entregues no território nacional (exportação ficta), encomendas postais, e outros ajustes.
 2/ Exclui mercadorias ingressando no território nacional sem mudança de proprietário. Inclui mercadorias entregues fora do território nacional (importação ficta), importação de energia elétrica sem cobertura cambial, encomendas postais e outros ajustes.
 3/ Para contas de ativo e de passivo, += aumento de estoque e -= redução de estoque. Conta financeira = fluxos de investimentos ativos - fluxos de investimentos passivos.
 4/ Inclui depósitos, empréstimos, créditos comerciais e outros.
 * Dados preliminares.

Fonte: <https://www.bcb.gov.br/estatisticas/estatisticassetorexterno>.

De acordo com o Banco Central do Brasil, a conta _____ registrou superávit de US\$ 3,5 bilhões em fevereiro de 2022. O grande problema do balanço de pagamento se dá na conta _____ que, ao longo dos anos, vem acumulando saldo negativo, comprometendo os bons resultados da conta balança comercial. A conta _____, em 2022, representa um percentual negativo em relação ao PIB.

Assinale a alternativa que preenche, correta e respectivamente, as lacunas do trecho acima.

- A) balança comercial de bens – financeira – transações correntes
- B) balança comercial – financeira – balança comercial
- C) transações correntes – renda primária – transações correntes
- D) financeira – transações correntes – balança comercial
- E) balança comercial de bens – renda primária – transações correntes

QUESTÃO 55 – A respeito da Contabilidade Nacional analise a sentença abaixo:

A Contabilidade Nacional é composta por cinco grandes contas: a Conta de Produção, a Conta de Apropriação, a Conta de Capital, a Conta Corrente do Governo e a Conta do Resto do Mundo. A Conta de Produção equivale à identidade entre produto nacional e despesa nacional (**1ª parte**). Ao medir a produção de um país, deve-se cuidar para não incorrer no problema da dupla contagem. Isto se deve ao fato de que, ao medir o valor final dos bens, não se deve medir os chamados bens intermediários, ou seja, os insumos utilizados na produção desse bem (**2ª parte**). Outro cuidado que se deve ter é quanto ao cálculo do PNB Nominal e PNB Real. O PNB Nominal é o que foi calculado a valor de mercado de bens e serviços finais, ou seja, o PNB é avaliado em termos monetários, considerando preço de cada bem, no período em que esse foi produzido. O PNB Real é equivalente ao PNB Nominal menos os impostos. Dessa forma, obtém-se o real valor da produção de bens e serviços de um país, e dos seus respectivos impostos (**3ª parte**).

Quais partes estão corretas?

- A) Apenas a 1ª parte.
- B) Apenas a 3ª parte.
- C) Apenas a 1ª e a 2ª partes.
- D) Apenas a 2ª e a 3ª partes.
- E) Todas as partes.

QUESTÃO 56 – Relacione a Coluna 1 à Coluna 2, associando a hierarquia de valores na atuação do governo (modelo OCDE, 2005) e sua significância da governança no longo prazo e no curto prazo com suas respectivas características.

Coluna 1

- 1. Governo Responsivo.
- 2. Governo Responsável.
- 3. Governo Legítimo.

Coluna 2

- () Trata cidadãos imparcialmente, respeita os indivíduos e a comunidade. Senso de segurança mantido. Constrói e mantém a confiança nas instituições públicas. Interesse coletivo protegido de ganhos privados. Tomada de decisões transparente. Trata cidadãos imparcialmente, respeita os indivíduos e a comunidade. Senso de segurança mantido.
- () Executa fielmente as políticas do dia a dia. Satisfaz as necessidades dos grupos de clientes. Comunica-se e toma conselhos. Políticas atuais satisfazem as necessidades dos cidadãos envolvidos.
- () Serve aos interesses de todos os cidadãos, prestando atenção no impacto das políticas de longo prazo. Não sobrecarregará futuras gerações. Adaptativo – toma decisões firmes envolvendo recursos e a organização quando necessário. Interesse coletivo protegido de ganhos privados. Cuida dos interesses coletivos.

A ordem correta de preenchimento dos parênteses, de cima para baixo, é:

- A) 3 – 1 – 2.
- B) 1 – 2 – 3.
- C) 2 – 3 – 1.
- D) 2 – 1 – 3.
- E) 3 – 2 – 1.

QUESTÃO 57 – A figura a seguir sintetiza os principais resultados para o PIB referentes aos cinco últimos trimestres no Brasil.

TABELA I.3 - Taxa Trimestral *						
Trimestre / mesmo trimestre do ano anterior (%)		2021.I	2021.II	2021.III	2021.IV	2022.I
PIB a preços de mercado		1,3	12,3	4,0	1,6	1,7
Ótica da produção	Valor adicionado bruto da agropecuária	6,5	0,1	-9,0	-0,8	-8,0
	Valor adicionado bruto da indústria	3,3	16,6	1,3	-1,3	-1,5
	Valor adicionado bruto dos serviços	-0,7	11,0	5,8	3,3	3,7
Ótica da demanda	Despesa de consumo das famílias	-1,7	10,5	4,2	2,1	2,2
	Despesa de consumo do governo	-3,9	5,8	3,5	2,8	3,3
	Formação bruta de capital fixo	17,8	33,1	18,8	3,4	-7,2
	Exportação de bens e serviços	1,0	14,2	4,0	3,3	8,1
	Importação de bens e serviços (-)	7,5	20,3	20,6	3,7	-11,0

Fonte: IBGE, Diretoria de Pesquisas, Coordenação de Contas Nacionais

*Maior detalhamento no Anexo (Tabela 2)

Fonte: https://biblioteca.ibge.gov.br/visualizacao/periodicos/2121/cnt_2022_1tri.pdf

Considerando os dados apresentados na tabela, analise as afirmações abaixo:

- Quando comparado a igual período do ano anterior, o PIB teve crescimento de 1,7% no primeiro trimestre de 2022.
- Dentre as atividades que contribuem para a geração do Valor Adicionado, a Agropecuária registrou queda de 8,0% em relação a igual período do ano anterior.
- Pela ótica da produção, o setor de serviços apresentou boas contribuições, tendo crescido 3,7%, o que demonstra uma recuperação do setor pós-pandemia.
- Pela ótica da demanda, cabe destaque dois resultados, um deles é a formação bruta do capital fixo, que recuou 7,2%, e o outro é a importação de bens e serviços, que recuou 11,0%.
- No setor externo, as Exportações de Bens e Serviços apresentaram alta de 8,1%, enquanto as Importações de Bens e Serviços recuaram 11,0% no primeiro trimestre de 2022.

O resultado da somatória dos números correspondentes às afirmações corretas é:

- 06.
- 10.
- 11.
- 13.
- 15.

QUESTÃO 58 – Sobre desperdícios de recursos e de produtos, analise as assertivas abaixo e assinale a alternativa correta.

- Das horas-homem que são utilizadas pela produção em uma indústria, todas serão efetivamente trabalhadas. Não há desperdícios desse recurso causado normalmente pela ociosidade da mão de obra com funcionários.
- A indústria pode ter dois tipos principais de desperdícios retrabalhos e refugo. Ambos os casos não prejudicam a empresa uma vez que os custos destes desperdícios são repassados para o preço e pagos pelos consumidores finais.
- O objetivo do gestor de RH é que todas as horas-homem pagas disponibilizadas possam ser utilizadas na produção e o objetivo do gestor da Produção é que todas as horas-homem disponíveis sejam efetivamente trabalhadas pelos funcionários.
- O produto acabado, ao ser manuseado por diversos setores dentro da empresa, sofre perdas. Essas podem ser medidas por indicadores de eficácia.

- Todas estão corretas.
- Todas estão incorretas.
- Apenas I está correta.
- Apenas I e II estão corretas.
- Apenas III e IV estão corretas.

QUESTÃO 59 – Segundo Nogami (2018), existem indicadores tradicionais e novos indicadores. Nesse sentido, analise as afirmações abaixo:

1. O desenvolvimento econômico não deve ser analisado apenas com base nos indicadores de crescimento do produto global ou o crescimento do produto per capita, e sim por outros indicadores que reflitam mudanças na qualidade de vida da população de uma economia.
2. Existem três grandes grupos de indicadores que seguem as definições estabelecidas pelo Banco Mundial: Indicadores Vitais, Indicadores Econômicos e Indicadores Sociais.
3. Indicadores Econômicos são considerados indicadores tradicionais e estão divididos em estruturais e de disponibilidade de bens e serviços. Os indicadores estruturais são: renda per capita, bens básicos de consumo, bens produtivos e insumos, serviços básicos e, serviços sociais. Já os indicadores de bens e serviços são: força de trabalho, recursos naturais, capital, estrutura da produção e, estrutura da distribuição da renda.
4. Indicadores sociais são considerados tradicionais e estão agrupados em: a) Estrutura social, b) Mobilidade social, c) Representação no sistema político, d) Participação social e, e) Sistema de concentração da produtividade.
5. São considerados novos indicadores o Índice de Desenvolvimento Humano (IDH) e Índice de Corrupção Percebida (ICP).

O resultado da somatória dos números correspondentes às afirmações corretas é:

- A) 06.
- B) 10.
- C) 11.
- D) 12.
- E) 15.

QUESTÃO 60 – Francischini, em seu livro "Indicadores de Desempenho", apresenta alguns conceitos e classifica os indicadores por funções. Sobre esse tema, relacione a Coluna 1 à Coluna 2.

Coluna 1

1. Eficácia.
2. Utilização.
3. Produtividade.

Coluna 2

- () Mede o volume de produto fabricado em relação ao uso de recursos utilizados para a fabricação.
- () Mede o volume de produção realizada em relação à produção planejada, sem considerar o volume de uso de recursos.
- () Mede o volume utilizado de recursos de produção em relação ao volume teórico, sem considerar se o produto fabricado atinge o objetivo planejado.

A ordem correta de preenchimento dos parênteses, de cima para baixo, é:

- A) 1 – 2 – 3.
- B) 2 – 3 – 1.
- C) 3 – 1 – 2.
- D) 2 – 1 – 3.
- E) 3 – 2 – 1.

QUESTÃO 61 – Sobre conceitos de índices, analise as seguintes assertivas, assinalando V, se verdadeiras, ou F, se falsas.

- () Quando uma empresa fabrica diferentes produtos, fica difícil medir a eficácia na produção, considerando as diferentes características entre os produtos. A empresa busca entender as variabilidades nos processos produtivos para aumentar sua produtividade.
- () Os serviços em uma empresa apresentam uma heterogeneidade maior do que a manufatura. Assim como em manufatura existem diversos tipos de produtos manufaturados, em serviços existem diversos tipos de serviços prestados difíceis de mensurá-los.
- () A meritocracia é um sistema que prevê recompensas e algum tipo de punição a indivíduos e grupos, derivados de uma avaliação de desempenho.

A ordem correta de preenchimento dos parênteses, de cima para baixo, é:

- A) V – V – F.
- B) V – F – F.
- C) F – V – V.
- D) F – F – F.
- E) V – V – V.

QUESTÃO 62 – O conceito de SMD – Sistemas de Medição de Desempenho, é definido como “um conjunto de indicadores de desempenho” (FRANCISCHINI, 2017). Relacione a Coluna 1 à Coluna 2.

Coluna 1

1. Quanto à abrangência.
2. Quanto à dependência.
3. Quanto à controlabilidade.

Coluna 2

- () Indicadores de resultados e indicadores de meios.
- () Indicadores controláveis e indicadores não controláveis.
- () Indicadores Globais ou Totais e indicadores Parciais.

A ordem correta de preenchimento dos parênteses, de cima para baixo, é:

- A) 1 – 2 – 3.
- B) 2 – 3 – 1.
- C) 3 – 1 – 2.
- D) 1 – 3 – 2.
- E) 2 – 1 – 3.

QUESTÃO 63 – A complexidade dos negócios tem exigido das empresas muita organização e planejamento. Cada vez mais os gestores necessitam de sistemas. O conceito _____ passou a ser importantíssimo. A integração dos sistemas passou a ser fundamental para a integração, consolidação e aglutinação de todas as informações necessárias para gestão do sistema empresarial. Boa parte dos sistemas integrados de gestão tem sido denominado de _____, um sistema de planejamento de recursos empresariais. A integração entre sistemas e subsistemas de informação, em níveis estratégicos e operacionais faz com que os Sistemas Integrados de Gestão Empresarial permitam o que se denomina _____, focalizando os processos de negócios.

Assinale a alternativa que preenche, correta e respectivamente, as lacunas do trecho acima.

- A) BSC – MRV – integração estratégica
- B) MRV – BSC – SIGE
- C) SIGE – MRV – integração funcional
- D) SIGE – ERP – integração interfuncional
- E) BSC – ERP – integração interfuncional

QUESTÃO 64 – O Modelo Conceitual de Estruturação do Sistema de Informação Contábil no Sige deve ter um enfoque gerencial e visa buscar a otimização da utilização das informações. Relacione a Coluna 1 à Coluna 2 identificando os três primeiros passos para implantação do Sige.

Coluna 1

1. Passo 1.
2. Passo 2.
3. Passo 3.

Coluna 2

- () Este passo caracteriza-se por detectar todas as informações necessárias e desejáveis que o Sistema de Informação Contábil deverá modelar e disponibilizar.
- () É constituída de segmentos, cada um dos quais poderá receber de outros módulos do sistema empresa uma ou mais modalidades de informações por meio dos registros contábeis.
- () Nesta etapa, emergem os seguintes aspectos: visão dos negócios – o conhecimento profundo dos negócios necessário para a definição dos elementos a serem incorporados no Sistema de Informação Contábil; também é importante o profundo conhecimento da visão da organização.

A ordem correta de preenchimento dos parênteses, de cima para baixo, é:

- A) 2 – 3 – 1.
- B) 2 – 1 – 3.
- C) 3 – 1 – 2.
- D) 1 – 3 – 2.
- E) 1 – 2 – 3.

QUESTÃO 65 – Quanto aos regimes cambiais, analise as assertivas abaixo, assinalando V, se verdadeiras, ou F, se falsas.

- () No regime de câmbio fixo, a taxa de câmbio é denominada *dirty floating* (flutuação suja). Nesse regime, a taxa é fixada pela flutuação determinada pelo mercado. O Banco Central intervém sempre que necessário para fixar a taxa de câmbio.
- () No regime de taxas flutuantes, o valor é determinado livremente no mercado a partir da oferta e procura por divisas. Nessa situação, não há intervenção do Banco Central.
- () No regime de bandas, a taxa de câmbio flutua dentro de um intervalo com limites máximos e mínimos, por isso é chamado de bandas. Quando a taxa se aproxima do limite máximo, o Banco Central entra no mercado vendendo divisas, provocando diminuição da taxa de câmbio. Caso a taxa de câmbio se aproxime do limite mínimo, o Banco Central entra no mercado comprando divisas, elevando a taxa de câmbio.
- () De modo geral, quanto mais alta a taxa de câmbio, maior deverá ser a quantidade que as firmas desejarão exportar e quanto menor for a taxa de câmbio, menos as firmas desejarão exportar.

A ordem correta de preenchimento dos parênteses, de cima para baixo, é:

- A) V – F – F – V.
- B) V – V – F – F.
- C) V – F – V – F.
- D) F – V – V – V.
- E) F – F – V – V.

QUESTÃO 66 – Orçamento público é o instrumento utilizado pelo Governo Federal para planejar a utilização do dinheiro arrecadado com os tributos (impostos, taxas, contribuições de melhoria, entre outros). Sobre esse tema, considere as assertivas abaixo, assinalando V, se verdadeiras, ou F, se falsas.

- () O orçamento público estima tanto as receitas que o Governo espera arrecadar quanto fixa as despesas a serem efetuadas com o dinheiro.
- () Uma vez que o orçamento detalha as despesas, pode-se acompanhar as prioridades do governo para cada ano, o que contribui para fiscalizar o uso do dinheiro público através do Portal da Transparência do Governo Federal.
- () O processo de elaboração do orçamento é relativamente fácil, uma vez que todas as informações estão no sistema integrado. Envolve as prioridades do Brasil, um país com mais de 200 milhões de habitantes.
- () A aprovação da Lei do Plano Plurianual (PPA), da Lei de Diretrizes Orçamentárias (LDO) e da Lei Orçamentária Anual (LOA) é proposta pelo Poder Legislativo a partir de objetivos específicos, e depende da aprovação da Câmara de Deputados.

A ordem correta de preenchimento dos parênteses, de cima para baixo, é:

- A) V – F – F – V.
- B) V – V – F – F.
- C) V – F – V – F.
- D) F – V – F – V.
- E) F – F – V – V.

QUESTÃO 67 – A Lei nº 10.086/1994, publicada no DOE nº 17/1994 dispõe sobre o regime de concessão e permissão de prestação de serviços públicos e dá outras providências. Nesse sentido, analise as assertivas abaixo sobre alguns capítulos, artigos e parágrafos:

- I. Capítulo I – Das Disposições Preliminares. Art. 1º – A concessão de serviços públicos precedida ou não da execução de obras públicas, e a permissão de serviços públicos reger-se-ão por esta Lei.
- II. Art. 3º – Para os fins desta Lei, considera-se: II – concessão de serviço público: a delegação contratual de sua prestação, feita pelo poder concedente, mediante licitação, na modalidade de concorrência, a pessoa jurídica ou consórcio de empresas que demonstre capacidade para seu desempenho, por sua conta e risco e por prazo determinado.
- III. Art. 5º – É obrigatório facultar a todo cidadão residente no Rio Grande do Sul, maior de idade, fazer parte do Cadastro de Usuários Voluntários interessados em participar dos assuntos de serviços públicos de que trata esta Lei. Estes voluntários receberão periodicamente informações dos andamentos dos trabalhos pertinentes a esta Lei.

Quais delas contêm exemplos de artigos que NÃO estão inseridos na referida Lei?

- A) Apenas I.
- B) Apenas II.
- C) Apenas III.
- D) Apenas I e II.
- E) Apenas II e III.

QUESTÃO 68 – Quanto aos tipos de inflação, suas características e mecanismos de combates, analise as assertivas abaixo e assinale a alternativa correta.

- I. A inflação de custos é causada por fatores não monetários e está associada a uma inflação tipicamente de oferta. Para se conter esse tipo de inflação, sugere-se como principais medidas: aumento da carga tributária, elevação das taxas de juros, controle de crédito, arrocho salarial.
- II. Para combater a inflação de demanda, a própria demanda agregada por bens e serviços deverá ser ampliada no curto prazo, uma vez que, no longo prazo, ela estará mais suscetível ao aumento da taxa de juros.
- III. Se há uma expectativa de aumento dos preços por parte dos agentes econômicos, ou seja, se os agentes passam a adaptar suas expectativas a determinada taxa de inflação, a inflação esperada passa a ser denominada "Taxa de Inflação pela Inércia", ou inflação inercial.

- A) Todas estão corretas.
- B) Todas estão incorretas.
- C) Apenas I está correta.
- D) Apenas III está correta.
- E) Apenas I e II estão corretas.

QUESTÃO 69 – Sobre a Análise de Impacto Regulatório, analise a sentença abaixo:

A Análise de Impacto Regulatório (AIR) é uma ferramenta importante para a melhoria da qualidade regulatória no Brasil, fundamental para destravar o desenvolvimento brasileiro. A AIR examina e avalia os prováveis benefícios, custos e efeitos das regulações novas ou alteradas. **(1ª parte)**. Todos os órgãos e entidades da administração pública federal direta, autárquica e fundacional terão que realizar Análise de Impacto Regulatório quando da proposição de atos normativos de interesse geral de agentes econômicos ou de usuários dos serviços prestados. **(2ª parte)**. A metodologia escolhida para a comparação das alternativas deve ser fundamentada, bem como as razões para a sua escolha de acordo com as metodologias possíveis, apresentadas no art. 7º do Decreto nº 10.411/2020. **(3ª parte)**.

Quais partes estão corretas?

- A) Apenas a 1ª parte.
- B) Apenas a 3ª parte.
- C) Apenas a 1ª e a 2ª partes.
- D) Apenas a 2ª e a 3ª partes.
- E) Todas as partes.

QUESTÃO 70 – Sobre déficit público, financiamento e orçamento, analise as afirmações abaixo:

1. O déficit nominal ou total (necessidades de financiamento líquido do setor público não-financeiro – NFSP) indica o fluxo líquido de novos financiamentos obtidos ao longo de um ano pelos setor público não-financeiro nas suas várias esferas.
2. Uma situação de déficit leva o governo a algumas medidas tradicionais de política fiscal, tais como aumento de impostos ou corte de gastos. No entanto, o governo terá que financiá-lo com medidas que podem ser: emissão de moeda e venda de títulos da dívida pública.
3. A emissão de moeda para fins de financiamento do déficit público, a chamada monetização da dívida, é uma das poucas medidas que não gera inflação na economia.
4. A Lei de Diretrizes Orçamentárias – LDO, apresenta a programação dos gastos governamentais, bem como a previsão das receitas para custear esses gastos. Trata-se de um único documento, constituído por três partes: o Orçamento Fiscal, o Orçamento da Seguridade Social e o Orçamento de Investimento das Empresas Estatais.
5. O Sistema de Planejamento e de Orçamento Federal tem por finalidade, entre outras, formular o planejamento estratégico nacional, formular planos nacionais, setoriais e regionais de desenvolvimento econômico e social.

O resultado da somatória dos números correspondentes às afirmações corretas é:

- A) 06.
- B) 08.
- C) 11.
- D) 12.
- E) 15.