



# CONCURSO PÚBLICO PARA PROVIMENTO DE CARGOS DA CÂMARA MUNICIPAL DE ITAMBÉ DO MATO DENTRO

Edital Nº 01 / 2019

## AUXILIAR DE SERVIÇOS GERAIS

Código: 101

### LEIA COM ATENÇÃO AS SEGUINTE INSTRUÇÕES

1. Este caderno contém as questões da **Prova Objetiva**.
2. Use a **Folha de Respostas** (versão do candidato) reproduzida ao final deste caderno apenas para marcar o Gabarito.
3. Ao receber a **Folha de Respostas da Prova Objetiva**:
  - Confira seu nome, número de inscrição e cargo.
  - Assine, **A TINTA**, no espaço próprio indicado.
4. **ATENÇÃO**: transcreva no espaço apropriado da sua **FOLHA DE RESPOSTAS**, com sua caligrafia usual, mantendo as letras maiúsculas e minúsculas, desconsiderando aspas e autoria, a seguinte frase:

**“As palavras da verdade são simples.”** Eurípedes

### ATENÇÃO:

**FOLHA DE RESPOSTAS SEM ASSINATURA NÃO TEM VALIDADE.**

5. Ao transferir as respostas para a **Folha de Respostas**:
  - 01 

|                                     |                          |                          |                          |
|-------------------------------------|--------------------------|--------------------------|--------------------------|
| A                                   | B                        | C                        | D                        |
| <input checked="" type="checkbox"/> | <input type="checkbox"/> | <input type="checkbox"/> | <input type="checkbox"/> |

 • use apenas caneta esferográfica azul ou preta.
  - 02 

|                          |                                     |                          |                          |
|--------------------------|-------------------------------------|--------------------------|--------------------------|
| A                        | B                                   | C                        | D                        |
| <input type="checkbox"/> | <input checked="" type="checkbox"/> | <input type="checkbox"/> | <input type="checkbox"/> |

 • preencha, sem forçar o papel, toda a área reservada à letra correspondente à resposta solicitada em cada questão.
  - 03 

|                          |                          |                                     |                          |
|--------------------------|--------------------------|-------------------------------------|--------------------------|
| A                        | B                        | C                                   | D                        |
| <input type="checkbox"/> | <input type="checkbox"/> | <input checked="" type="checkbox"/> | <input type="checkbox"/> |

 • assinale somente **uma** alternativa em cada questão.
  - 04 

|                          |                          |                          |                                     |
|--------------------------|--------------------------|--------------------------|-------------------------------------|
| A                        | B                        | C                        | D                                   |
| <input type="checkbox"/> | <input type="checkbox"/> | <input type="checkbox"/> | <input checked="" type="checkbox"/> |

 Sua resposta **NÃO** será computada se houver marcação de mais de uma alternativa, questões não assinaladas ou rasuras.

### NÃO DEIXE NENHUMA QUESTÃO SEM RESPOSTA.

A **Folha de Respostas** não deve ser dobrada, amassada ou rasurada.

**ATENÇÃO:** Período de Sigilo – Não será permitido ao candidato se ausentar em definitivo da sala de provas antes de decorrida 1 (uma) hora do início das provas. O candidato não poderá fazer anotação de questões ou informações relativas às suas respostas no Comprovante Definitivo de Inscrição (CDI) ou em quaisquer outros meios, que não os permitidos nesse Edital e especificados na capa da prova. O tempo de duração das provas abrange a distribuição das provas, a assinatura da Folha de Respostas e a transcrição das respostas do Caderno de Questões da Prova Objetiva para a Folha de Respostas. O candidato não poderá utilizar, em hipótese alguma, lápis, lapiseira, corretivos, borracha ou lápis-borracha ou outro material distinto do constante no item 9.3.11 do Edital. A inviolabilidade dos malotes das provas será comprovada no momento do rompimento de seus lacres, mediante termo formal, na presença de, no mínimo, dois candidatos convidados aleatoriamente nos locais de realização das provas. Será proibido, durante a realização das provas, fazer uso ou portar, mesmo que desligados: telefone celular, relógios, *paggers*, *beep*, agenda eletrônica, calculadora, *walkman*, *notebook*, *palmtop*, gravador, transmissor / receptor de mensagens de qualquer tipo ou qualquer outro equipamento eletrônico, podendo a organização deste Concurso Público vetar o ingresso do candidato com outros aparelhos além dos anteriormente citados. Durante o período de realização das provas, não será permitida qualquer espécie de consulta ou comunicação entre os candidatos ou entre estes e pessoas estranhas, oralmente ou por escrito, assim como não será permitido o uso de livros, códigos, manuais, impressos, anotações ou quaisquer outros meios. Durante o período de realização das provas, não será permitido o uso de óculos escuros, boné, chapéu, gorro, lenço ou similares. Não haverá substituição da Folha de Respostas da Prova Objetiva por erro do candidato. Não será permitido ao candidato levar o Caderno de Prova. Ao término do prazo estabelecido para a prova, os três últimos candidatos deverão permanecer na sala até que o último candidato termine sua prova, devendo todos assinar a Ata de Sala, atestando a idoneidade da fiscalização das provas, retirando-se da sala de prova de uma só vez.

O Caderno de Questões e o Gabarito da Prova Objetiva serão divulgados no endereço eletrônico [www.gestaodeconcursos.com.br](http://www.gestaodeconcursos.com.br) no dia 8 de julho de 2019.

**DURAÇÃO MÁXIMA DA PROVA: 3 (TRÊS) HORAS**

# ATENÇÃO

Sr.(a) Candidato(a),

Antes de começar a fazer a prova, confira se este caderno contém, ao todo, **30 (trinta)** questões de múltipla escolha, cada uma constituída de 4 (quatro) alternativas de respostas, assim distribuídas: 10 (dez) questões de **Língua Portuguesa**, 10 (dez) questões de **Matemática** e 10 (dez) questões de **Atualidades**, todas perfeitamente legíveis.

Havendo algum problema, informe **imediatamente** ao aplicador de provas para que ele tome as providências necessárias.

Caso não observe essa recomendação, não lhe caberão quaisquer reclamações ou recursos posteriores.

## LÍNGUA PORTUGUESA

**INSTRUÇÃO:** Leia o texto a seguir para responder às questões de 1 a 4.

### Julgamento apressado

Uma garota segurava em suas mãos duas maçãs. Sua mãe entrou e lhe pediu com uma voz doce e um belo sorriso:

— Querida, você poderia dar uma de suas maçãs para a mamãe?

A menina levanta os olhos para sua mãe durante alguns segundos, e morde subitamente uma das maçãs e logo em seguida a outra.

A mãe sente seu rosto se esfriar e perde o sorriso. Ela tenta não mostrar sua decepção quando sua filha lhe dá uma de suas maçãs mordidas. A pequena olha sua mãe com um sorriso de anjo e diz:

— A mais doce é essa!

Disponível em: <encurtador.com.br/dhGL2>.  
Acesso em: 12 jun. 2019.

### QUESTÃO 1

Releia este trecho.

“e morde **subitamente** uma das maçãs e logo em seguida a outra.”

A expressão destacada não estabelece no trecho sentido de algo feito

- A) instantaneamente.
- B) repentinamente.
- C) cuidadosamente.
- D) abruptamente.

### QUESTÃO 2

Considerando que a tipologia textual está relacionada com a forma como um texto se apresenta e sua finalidade, pode-se afirmar que esse texto é um(a)

- A) crônica, uma vez que trata de um tema cotidiano.
- B) parábola, uma vez que transmite uma lição de sabedoria.
- C) relato, uma vez que narra uma história.
- D) lenda, uma vez que sua narrativa é transmitida pela tradição oral através dos tempos.

### QUESTÃO 3

Releia este trecho.

“— Querida, você poderia dar uma de suas maçãs para a mamãe?”

Tendo em vista a terminação verbal –ria, pode-se inferir que no trecho não há

- A) polidez.
- B) concomitância.
- C) incerteza.
- D) dúvida.

### QUESTÃO 4

Analise esta imagem.



Disponível em: <encurtador.com.br/rzBC7>.  
Acesso em: 13 jun. 2019.

Comparando o texto “Julgamento apressado” com a imagem anterior, é incorreto afirmar que em ambos tem-se

- A) quebra de expectativa.
- B) diálogo.
- C) linguagem informal.
- D) transmissão de mensagem.

### QUESTÃO 5

Analise esta imagem.



Disponível em: <encurtador.com.br/mnuBY>.  
Acesso em: 14 jun. 2019.

A partir da análise dessa imagem, é possível inferir que

- A) é pressuposto que todos os casais se separam.
- B) o carro anunciado é considerado um bem.
- C) quem comprar o carro também fica com a casa.
- D) numa separação os homens devem ficar com o carro.

**INSTRUÇÃO:** Leia o poema de Patativa do Assaré a seguir para responder às questões de **6 a 8**.

### Flores murchas

Depois do nosso desejado enlace  
Ela dizia, cheia de carinho,  
Toda ternura a segredar baixinho:  
— Deixa, querido, que eu te beije a face!

Ah! se esta vida nunca mais passasse!  
Só vejo rosas, sem um só espinho;  
Que bela aurora surge em nosso ninho!  
Que lindo sonho no meu peito nasceu!

E hoje, a coitada, sem falar de amor,  
Em vez daquele natural vigor,  
Sofre do tempo o mais cruel carimbo.

E assim vivendo, de mazelas cheia,  
Em vez de beijo, sempre me aperreia  
Pedindo fumo para o seu cachimbo.

Disponível em: <<http://omundocomoelee.blogspot.com/2011/01/flores-murchas.html>>.  
Acesso em: 13 jun. 2019.

### QUESTÃO 6

Assinale a alternativa que apresenta o trecho do poema em que se pode perceber que o eu lírico tem uma relação próxima com alguém.

- A) “Ela dizia, cheia de carinho,  
Toda ternura a segredar baixinho:  
— Deixa, querido, que eu te beije a face!”
- B) “Ah! se esta vida nunca mais passasse!  
Só vejo rosas, sem um só espinho;”
- C) “E hoje, a coitada, sem falar de amor,  
Em vez daquele natural vigor,”
- D) “E assim vivendo, de mazelas cheia, [...] Pedindo fumo para o seu cachimbo.”

### QUESTÃO 7

Análise as afirmativas a seguir.

- I. A partir da análise desse poema, pode-se inferir que o eu lírico tem marcas deixadas pela decepção amorosa.
- II. Em “Ah! se esta vida nunca mais passasse!”, o eu lírico tem saudade de momentos bons.
- III. O título do poema pode ser entendido como uma metáfora do fim de um amor.
- IV. O uso de verbo no pretérito, na primeira estrofe, constrói a ideia de que o eu lírico está se lembrando de algo.

Estão corretas as afirmativas

- A) I e III, apenas.
- B) II e IV, apenas.
- C) I e IV, apenas.
- D) I, II, III e IV.

### QUESTÃO 8


Algumas palavras são usadas, segundo a norma-padrão, para qualificar outras.

Assinale a alternativa em que a palavra destacada não qualifica outra do mesmo trecho.

- A) “Depois do nosso **desejado** enlace”
- B) “Em vez daquele **natural** vigor,”
- C) “Sofre do tempo o mais **cruel** carimbo.”
- D) “E assim vivendo, de **mazelas** cheia,”

### QUESTÃO 9

Análise a imagem a seguir.



Disponível em: <<https://br.pinterest.com/pin/132785888999508667/>>.  
Acesso em: 16 jun. 2019.

A partir da análise desse texto, é incorreto afirmar:

- A) A presença de elementos de natureza diversa numa mesma imagem é indício de que eles podem coexistir sem prejuízo a nenhum deles.
- B) Há uma denúncia ao fato de que lixo tem sido jogado nos mares.
- C) O arame em forma de coroa deve ser entendido como algo nocivo, assim como a coroa de espinhos de Cristo.
- D) O fato de um mesmo objeto ter formas distintas dentro e fora da água representa os diferentes impactos que ele oferece.

### QUESTÃO 10

Analise esta charge.



Disponível em: <encurtador.com.br/cjvIP>. Acesso em: 14 jun. 2019.

Tendo em vista o uso das pontuações nessa charge e seu efeito de humor, pode-se afirmar:

- A) As aspas no 4º quadrinho foram utilizadas para indicar a fala de alguém.
- B) No 5º quadrinho, para manter o sentido da fala masculina, reticências poderiam ser utilizadas.
- C) A vírgula no 1º quadrinho foi utilizada para substituir uma palavra.
- D) A exclamação no 3º quadrinho foi utilizada para indicar desespero.

## MATEMÁTICA

### QUESTÃO 11

Uma equipe de auxiliares de serviços gerais de uma empresa é responsável pela limpeza diária de cinco andares do prédio em que trabalha.

Se, em cada um desses andares, há sete salas, quantas salas essa equipe limpa diariamente?

- A) 5 salas.
- B) 7 salas.
- C) 25 salas.
- D) 35 salas.

### QUESTÃO 12

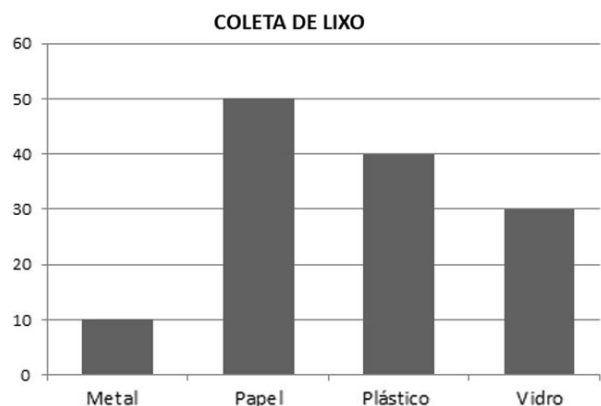
Para fazer 5 garrafas de café, Maria gasta 20 colheres de pó.

Se ela fizer 15 garrafas, ela gastará

- A) 20 colheres de pó.
- B) 60 colheres de pó.
- C) 75 colheres de pó.
- D) 100 colheres de pó.

### QUESTÃO 13

A coleta seletiva de lixo consiste em separá-lo em grupos distintos, segundo a sua classificação. O gráfico a seguir apresenta a quantidade de lixo coletado, em kg, em uma escola de Ensino Fundamental, em Belo Horizonte–MG, no período de uma semana.



Segundo as informações do gráfico, é correto afirmar:

- A) A quantidade de plástico coletado nessa semana foi a metade que a de vidro.
- B) A quantidade de plástico coletado nessa semana foi o dobro que a de papel.
- C) A quantidade de papel coletado nessa semana foi o triplo que a de plástico.
- D) A quantidade de metal coletado nessa semana foi a terça parte que a de vidro.

### QUESTÃO 14

A tabela a seguir apresenta o preço de artigos de higiene pessoal comprados pela Câmara Municipal de uma cidade.

| Produto         | Preço por unidade |
|-----------------|-------------------|
| Papel higiênico | R\$ 0,80          |
| Papel Toalha    | R\$ 2,20          |
| Sabão líquido   | R\$ 4,30          |
| Sabonete        | R\$ 0,70          |

Se foram compradas 100 unidades de papel higiênico, 50 unidades de papel toalha, 20 unidades de sabão líquido e 150 sabonetes, qual foi o valor dessa compra?

- A) R\$ 381,00.
- B) R\$ 301,00.
- C) R\$ 295,00.
- D) R\$ 271,00.

### QUESTÃO 15

Carlos é estoquista em uma papelaria. Em um dia, ele estocou 20 caixas de canetas, 15 caixas de lápis e 10 caixas de borracha. Considere que:

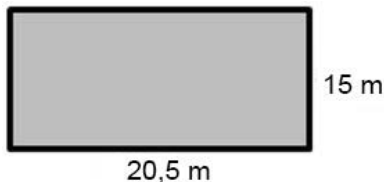
- em cada caixa de caneta, havia 30 canetas;
- em cada caixa de lápis, havia 20 lápis;
- em cada caixa de borracha, havia 10 borrachas;

Quantos objetos Carlos estocou ao todo nesse dia?

- A) 300 objetos.
- B) 700 objetos.
- C) 900 objetos.
- D) 1 000 objetos.

### QUESTÃO 16

A figura a seguir apresenta as dimensões do terreno que Alberto irá comprar.



Na região onde está localizado esse terreno, o valor do m<sup>2</sup> para a compra é de R\$ 2 500,00.

Sendo assim, quanto Alberto pagará por esse terreno?

- A) R\$ 177 500,00.
- B) R\$ 562 500,00.
- C) R\$ 768 750,00.
- D) R\$ 1 050 625,00.

### QUESTÃO 17

Marcelo é supervisor de uma rede de supermercados, recebendo mensalmente R\$ 2 500,00. Ele será promovido à gerente, e seu salário aumentará 30% em relação ao que recebe.

Após essa promoção, qual será o salário de Marcelo?

- A) R\$ 2 500,00.
- B) R\$ 2 575,00.
- C) R\$ 3 250,00.
- D) R\$ 4 250,00.

### QUESTÃO 18

Maristela trabalha em uma cantina escolar e recebe, mensalmente, R\$ 1 020,00. Desse valor, ela gasta a terça parte pagando o aluguel de sua casa.

Qual é o valor do aluguel da casa de Maristela?

- A) R\$ 510,00.
- B) R\$ 340,00.
- C) R\$ 255,00.
- D) R\$ 204,00.

### QUESTÃO 19

Uma faxineira de um escritório inicia o seu expediente às 10 horas e 30 minutos, e faz um intervalo de almoço de 1 hora.

Se sua jornada diária de trabalho é de 8 horas, ela deverá sair do serviço às

- A) 17 horas e 30 minutos.
- B) 18 horas e 30 minutos.
- C) 19 horas e 30 minutos.
- D) 20 horas e 30 minutos.

### QUESTÃO 20

Para a festa de fim de ano de uma empresa, serão convidados 250 funcionários. No espaço destinado a essa festa, serão colocadas mesas que acomodam até 5 funcionários.

Quantas mesas serão necessárias para acomodar todos os funcionários?

- A) 40 mesas.
- B) 45 mesas.
- C) 50 mesas.
- D) 55 mesas.

## ATUALIDADES

### QUESTÃO 21

O município de Itambé do Mato Dentro está localizado no Parque da Serra do Cipó.

São municípios que fazem parte da região delimitada pelo Parque, exceto:

- A) Sabará.
- B) Santana do Riacho.
- C) Morro do Pilar.
- D) Jaboticatubas.

### QUESTÃO 22

Constitui-se patrimônio imaterial reconhecido pelo Conselho Municipal de Patrimônio Cultural do Município de Itambé do Mato Dentro, exceto:

- A) Tradição da Culinária da Banana.
- B) Festa de Santana.
- C) Produção artesanal de muçarela.
- D) Festa do Rosário.

### QUESTÃO 23

Defensivos agrícolas são produtos químicos largamente utilizados no setor de produção agrícola, garantindo a produtividade das lavouras, uma vez que seu uso preserva as espécies cultivadas. No entanto, o uso excessivo ou incorreto desses produtos químicos pode trazer graves prejuízos ao meio ambiente.

É(são) exemplo(s) de prejuízo(s) causado(s) ao meio ambiente

- A) eliminação das pragas e doenças que afetam as lavouras.
- B) deterioração da qualidade visual dos produtos cultivados.
- C) contaminação do solo e dos recursos hídricos.
- D) intoxicações que podem causar alergias respiratórias.

### QUESTÃO 24

É(são) atribuição(ões) da Secretaria Municipal de Fazenda do município de Itambé do Mato Dentro:

- A) Elaborar e propor ao prefeito as políticas fiscal e financeira do município.
- B) Garantir à população uma assistência pautada na valorização do cidadão.
- C) Promover a integração do indivíduo ao mercado de trabalho e ao meio social.
- D) Controlar as atividades de transporte à disposição dos órgãos da prefeitura.

### QUESTÃO 25

Os primeiros habitantes da atual cidade de Itambé do Mato Dentro foram os índios tupis, cujos sinais de existência estão em vários sítios arqueológicos da região.

O nome da cidade surgiu da união dos termos indígenas *I'TÁ* e *AIM'BÉ*, que significam

- A) pedra quebrada.
- B) pedra dura.
- C) pedra afiada.
- D) pedra amarela.

### QUESTÃO 26

Com a descoberta do ouro e dos diamantes em Minas Gerais no século XVIII, a criação de caminhos terrestres se tornou importante para se chegar às áreas de mineração. Atualmente esses caminhos constituem uma relevante rota turística do país, a Estrada Real.

O município de Itambé do Mato Dentro faz parte do circuito denominado

- A) Caminho dos Diamantes.
- B) Caminho Novo.
- C) Caminho Velho.
- D) Caminho da Bahia.

### QUESTÃO 27

Situada entre as pedras da Serra do Espinhaço, a cidade de Itambé do Mato Dentro se destaca pelos atrativos naturais e culturais.

Dentre os atrativos culturais localizados no município, destaca-se o(a)

- A) Cachoeira do Chuvisco.
- B) Cachoeira Véu da Noiva.
- C) Cabeça de Boi.
- D) Igreja Matriz Nossa Senhora das Oliveiras.

### QUESTÃO 28

Itambé do Mato Dentro, antes da emancipação político-administrativa, se chamava

- A) Florália.
- B) Senhora do Carmo.
- C) Brumal.
- D) Itacururu.

### QUESTÃO 29

Tendo início no Período Colonial quando os viajantes paravam ao longo dos caminhos para descansar, agradecer e pedir a proteção dos seus santos de devoção, uma importante manifestação cultural se mantém até os dias atuais no município de Itambé do Mato Dentro.

Essa manifestação é conhecida por

- A) Cavalgada.
- B) Carnaval.
- C) São João.
- D) Congada.

### QUESTÃO 30

Os profissionais do ramo de serviços gerais estão constantemente em contato com diversos produtos químicos e partículas de pó, além de estarem expostos a riscos. Entre os equipamentos de proteção individual existem luvas de diferentes materiais para cada tipo de produto de limpeza a ser utilizado.

As luvas de látex são utilizadas, para

- A) manipulação de agente biológicos e em situação de umidade.
- B) proteção das mãos e punhos contra agentes químicos.
- C) proteção das mãos e manipulação de óleo, graxa e solvente.
- D) proteção das mãos contra altas temperaturas.



# FOLHA DE RESPOSTAS (VERSÃO DO CANDIDATO)

|    |                          |                          |                          |                          |    |                          |                          |                          |                          |
|----|--------------------------|--------------------------|--------------------------|--------------------------|----|--------------------------|--------------------------|--------------------------|--------------------------|
| 1  | A                        | B                        | C                        | D                        | 16 | A                        | B                        | C                        | D                        |
|    | <input type="checkbox"/> | <input type="checkbox"/> | <input type="checkbox"/> | <input type="checkbox"/> |    | <input type="checkbox"/> | <input type="checkbox"/> | <input type="checkbox"/> | <input type="checkbox"/> |
| 2  | A                        | B                        | C                        | D                        | 17 | A                        | B                        | C                        | D                        |
|    | <input type="checkbox"/> | <input type="checkbox"/> | <input type="checkbox"/> | <input type="checkbox"/> |    | <input type="checkbox"/> | <input type="checkbox"/> | <input type="checkbox"/> | <input type="checkbox"/> |
| 3  | A                        | B                        | C                        | D                        | 18 | A                        | B                        | C                        | D                        |
|    | <input type="checkbox"/> | <input type="checkbox"/> | <input type="checkbox"/> | <input type="checkbox"/> |    | <input type="checkbox"/> | <input type="checkbox"/> | <input type="checkbox"/> | <input type="checkbox"/> |
| 4  | A                        | B                        | C                        | D                        | 19 | A                        | B                        | C                        | D                        |
|    | <input type="checkbox"/> | <input type="checkbox"/> | <input type="checkbox"/> | <input type="checkbox"/> |    | <input type="checkbox"/> | <input type="checkbox"/> | <input type="checkbox"/> | <input type="checkbox"/> |
| 5  | A                        | B                        | C                        | D                        | 20 | A                        | B                        | C                        | D                        |
|    | <input type="checkbox"/> | <input type="checkbox"/> | <input type="checkbox"/> | <input type="checkbox"/> |    | <input type="checkbox"/> | <input type="checkbox"/> | <input type="checkbox"/> | <input type="checkbox"/> |
| 6  | A                        | B                        | C                        | D                        | 21 | A                        | B                        | C                        | D                        |
|    | <input type="checkbox"/> | <input type="checkbox"/> | <input type="checkbox"/> | <input type="checkbox"/> |    | <input type="checkbox"/> | <input type="checkbox"/> | <input type="checkbox"/> | <input type="checkbox"/> |
| 7  | A                        | B                        | C                        | D                        | 22 | A                        | B                        | C                        | D                        |
|    | <input type="checkbox"/> | <input type="checkbox"/> | <input type="checkbox"/> | <input type="checkbox"/> |    | <input type="checkbox"/> | <input type="checkbox"/> | <input type="checkbox"/> | <input type="checkbox"/> |
| 8  | A                        | B                        | C                        | D                        | 23 | A                        | B                        | C                        | D                        |
|    | <input type="checkbox"/> | <input type="checkbox"/> | <input type="checkbox"/> | <input type="checkbox"/> |    | <input type="checkbox"/> | <input type="checkbox"/> | <input type="checkbox"/> | <input type="checkbox"/> |
| 9  | A                        | B                        | C                        | D                        | 24 | A                        | B                        | C                        | D                        |
|    | <input type="checkbox"/> | <input type="checkbox"/> | <input type="checkbox"/> | <input type="checkbox"/> |    | <input type="checkbox"/> | <input type="checkbox"/> | <input type="checkbox"/> | <input type="checkbox"/> |
| 10 | A                        | B                        | C                        | D                        | 25 | A                        | B                        | C                        | D                        |
|    | <input type="checkbox"/> | <input type="checkbox"/> | <input type="checkbox"/> | <input type="checkbox"/> |    | <input type="checkbox"/> | <input type="checkbox"/> | <input type="checkbox"/> | <input type="checkbox"/> |
| 11 | A                        | B                        | C                        | D                        | 26 | A                        | B                        | C                        | D                        |
|    | <input type="checkbox"/> | <input type="checkbox"/> | <input type="checkbox"/> | <input type="checkbox"/> |    | <input type="checkbox"/> | <input type="checkbox"/> | <input type="checkbox"/> | <input type="checkbox"/> |
| 12 | A                        | B                        | C                        | D                        | 27 | A                        | B                        | C                        | D                        |
|    | <input type="checkbox"/> | <input type="checkbox"/> | <input type="checkbox"/> | <input type="checkbox"/> |    | <input type="checkbox"/> | <input type="checkbox"/> | <input type="checkbox"/> | <input type="checkbox"/> |
| 13 | A                        | B                        | C                        | D                        | 28 | A                        | B                        | C                        | D                        |
|    | <input type="checkbox"/> | <input type="checkbox"/> | <input type="checkbox"/> | <input type="checkbox"/> |    | <input type="checkbox"/> | <input type="checkbox"/> | <input type="checkbox"/> | <input type="checkbox"/> |
| 14 | A                        | B                        | C                        | D                        | 29 | A                        | B                        | C                        | D                        |
|    | <input type="checkbox"/> | <input type="checkbox"/> | <input type="checkbox"/> | <input type="checkbox"/> |    | <input type="checkbox"/> | <input type="checkbox"/> | <input type="checkbox"/> | <input type="checkbox"/> |
| 15 | A                        | B                        | C                        | D                        | 30 | A                        | B                        | C                        | D                        |
|    | <input type="checkbox"/> | <input type="checkbox"/> | <input type="checkbox"/> | <input type="checkbox"/> |    | <input type="checkbox"/> | <input type="checkbox"/> | <input type="checkbox"/> | <input type="checkbox"/> |

AO TRANSFERIR ESSAS MARCAÇÕES PARA A FOLHA DE RESPOSTAS,  
OBSERVE AS INSTRUÇÕES ESPECÍFICAS DADAS NA CAPA DA PROVA.

**USE CANETA ESFEROGRÁFICA AZUL OU PRETA.**

**ATENÇÃO:  
AGUARDE AUTORIZAÇÃO  
PARA VIRAR O CADERNO DE PROVA.**