

# CONCURSO PÚBLICO PARA PROVIMENTO DE VAGAS DO QUADRO PERMANENTE DE PESSOAL DO INSTITUTO DE PREVIDÊNCIA DOS SERVIDORES PÚBLICOS DO MUNICÍPIO DE UBERLÂNDIA

## CONTADOR

Código: 302

### LEIA COM ATENÇÃO AS SEGUINTE INSTRUÇÕES

1. Este caderno contém as questões da **Prova Objetiva**.
2. Use a Folha de Respostas (versão do Candidato) reproduzida ao final deste caderno apenas para marcar o Gabarito.
3. Ao receber a **Folha de Respostas da Prova Objetiva**:
  - Confira seu nome, número de inscrição e cargo.
  - Assine, **A TINTA**, no espaço próprio indicado.

4. **ATENÇÃO**: transcreva no espaço apropriado da sua **FOLHA DE RESPOSTAS**, com sua caligrafia usual, mantendo as letras maiúsculas e minúsculas, desconsiderando aspas e autoria, a seguinte frase:

**“Ser feliz sem motivo é a mais autêntica forma de felicidade.”** Carlos Drummond de Andrade

### ATENÇÃO:

**FOLHA DE RESPOSTAS SEM ASSINATURA NÃO TEM VALIDADE.**

5. Ao transferir as respostas para a **Folha de Respostas**:

01     • use apenas caneta esferográfica azul ou preta.

02     • preencha, sem forçar o papel, toda a área reservada à letra correspondente à resposta solicitada em cada questão.

03     • assinale somente **uma** alternativa em cada questão.

04     Sua resposta **NÃO** será computada se houver marcação de mais de uma alternativa, questões não assinaladas ou rasuras.

### NÃO DEIXE NENHUMA QUESTÃO SEM RESPOSTA.

A **Folha de Respostas** não deve ser dobrada, amassada ou rasurada.

**ATENÇÃO**: Período de Sigilo – Não será permitido ao candidato se ausentar em definitivo da sala de provas antes de decorridas 2 horas do início das provas. O candidato não poderá fazer anotação de questões ou informações relativas às suas respostas no Comprovante Definitivo de Inscrição (CDI) ou em quaisquer outros meios, que não os permitidos neste Edital e especificados na capa da prova. O tempo de duração das provas abrange, assinatura da Folha de Respostas e a transcrição das respostas do Caderno de Questões da Prova Objetiva (Folha de Respostas e rascunho do gabarito). Os candidatos não poderão utilizar, em hipótese alguma, lápis, lapiseira, corretivos, apontador ou lápis-borracha ou outro material distinto do constante no Edital. Será proibido, durante a realização das provas, fazer uso ou portar, mesmo que desligados, telefone celular, relógios, *paggers*, bipe, agenda eletrônica, calculadora, *walkman*, *notebook*, *palmtop*, gravador, transmissor / receptor de mensagens de qualquer tipo ou qualquer outro equipamento eletrônico, podendo a organização deste Concurso Público vetar o ingresso do candidato com outros aparelhos além dos anteriormente citados. Durante o período de realização das provas, não será permitida qualquer espécie de consulta ou comunicação entre os candidatos ou entre estes e pessoas estranhas, oralmente ou por escrito, assim como não será permitido o uso de livros, códigos, manuais, impressos, anotações ou quaisquer outros meios, óculos escuros, boné, chapéu, gorro, lenço ou similares. O candidato não poderá levar o seu Caderno de Questões da Prova Objetiva. Ao término do prazo estabelecido para as provas, os três últimos candidatos deverão permanecer na sala até que o último candidato termine sua prova. As instruções constantes no Caderno de Questões e na Folha de Resposta da Prova Objetiva, complementam este Edital e deverão ser rigorosamente observadas e seguidas pelo candidato.

O Caderno de Questões e o Gabarito da Prova Objetiva serão divulgados no endereço eletrônico [www.gestaodeconcursos.com.br](http://www.gestaodeconcursos.com.br) no segundo dia útil subsequente à data de realização da prova.

**DURAÇÃO MÁXIMA DA PROVA: 4 (QUATRO) HORAS**

# ATENÇÃO

Sr.(a) Candidato(a),

Antes de começar a fazer a prova, confira se este caderno contém, ao todo, **40 (quarenta)** questões de múltipla escolha, cada uma constituída de 4 (quatro) alternativas de respostas, assim distribuídas: 10 (dez) questões de **Língua Portuguesa**, 10 (dez) questões de **Matemática**, 5 (cinco) questões de **Atualidades** e 15 (quinze) questões de **Conhecimentos Específicos**, todas perfeitamente legíveis.

Havendo algum problema, informe **imediatamente** ao aplicador de provas para que ele tome as providências necessárias.

Caso não observe essa recomendação, não lhe caberá qualquer reclamação ou recursos posteriores.

**INSTRUÇÃO:** Leia o texto a seguir, para responder às questões de 1 a 9.

### 1917': O virtuosismo filmando a angústia e o medo

*Sam Mendes, para transmitir esta história de medo, de lama e sujeira, inventou uma impressionante linguagem com sua câmera*

Os quatro cavaleiros do Apocalipse são assustadores, nenhum é preferível a outro, é complicado optar entre eles pelo ruim ou o pior, mas há um ancestral cujo sinistro protagonismo não descansa nunca, que se distribui ciclicamente por todos os lugares do universo. É a guerra. Algo que o cinema descreveu muitas vezes com ares enaltecedores, no qual os bons sempre vencem, tentando fazer os espectadores saírem encantados da sala. É uma frivolidade imperdoável. Algo que despreza o melhor cinema realizado sobre esse inferno que nunca perde a atualidade.

O desembarque na Normandia foi crucial para a derrota daquele monstro com bigodinho, mas Spielberg se encarregou nos primeiros vinte e impactantes minutos do *Resgate do soldado Ryan* de transmitir as sensações físicas e mentais dos que estavam indo para a batalha. Vomitam, bebem, desmaiam, perdem o controle de seu organismo, estão fora de si, essas coisinhas que o pânico provoca. Você também sai entre alucinado e exaurido de *Apocalypse Now*, *Nascido para matar* e nos últimos instantes do prodigioso *Dunkirk*, sente na própria pele o medo e o mal-estar daqueles soldados encurralados e metralhados pelo exército alemão. Em todos eles, o cinema usou a linguagem mais poderosa para descrever esse horror eternamente repetido.

Da guerra nas trincheiras durante a Primeira Guerra Mundial, é inesquecível a imagem de Kirk Douglas usando um apito para ordenar o ataque ou a retirada. Acontecia em *Glória feita de sangue*. Sam Mendes, esse diretor tão inteligente que se move com desenvoltura e brilhantismo em gêneros variados (levam sua reconhecida assinatura *Beleza americana*, *Estrada para perdição*, *Foi apenas um sonho*, *007 – Operação Skyfall*), retorna em *1917* à era trágica e às trincheiras angustiantes que Kubrick retratou.

Mas se Kubrick se valeu daquela guerra para descrever a ignomínia dos chefes militares do exército francês executando vários de seus soldados inocentes acusados de covardia e traição, Sam Mendes narra o heroico calvário de dois soldados muito jovens do exército inglês com uma missão que pode ser suicida, a de abandonar as trincheiras e sair a céu aberto para avisar seus companheiros que os alemães fingiram uma retirada, armaram uma armadilha para massacrá-los. É uma missão com poucas chances de sobrevivência para esses dois homens responsáveis e assustados, mas com um motivo inapelável para um deles, já que seu irmão está entre os alvos do engodo.

Sam Mendes, para transmitir essa história de medo, de incerteza, de monstros que espream na luz ou na sombra os dois aventureiros involuntários, de lama e sujeira, de languidez e sobrevivência, inventou uma impressionante linguagem com sua câmera. Você tem a sensação de que as duas horas de filmagem se desenrolam em um só plano. Não percebe os cortes. E esse exercício estilístico nunca é gratuito. Não busca o exibicionismo. É a forma de fazer de você um cúmplice de todos os sentimentos que dominam os protagonistas em paisagens que às vezes parecem surreais, com o tom dos pesadelos.

Há aparições breves e contundentes de pesos pesados do cinema inglês, atores que sempre estão bem, como Benedict Cumberbatch, Colin Firth, Mark Strong, mas são dois intérpretes muito jovens, e que eu não conhecia, chamados Georges MacKay e Dean-Charles Chapman, que carregam o peso absoluto neste filme angustiante e surpreendente. E eles são tão comoventes como plausíveis.

Disponível em: <<https://brasil.elpais.com/cultura/2020-01-22/o-virtuosismo-filmando-a-angustia-e-o-medo.html>>.  
Acesso em: 27 jan. 2020.

### QUESTÃO 1

O autor da resenha

- A) critica o cinema que destaca o lado vitorioso da guerra e valoriza a técnica utilizada por Sam Mendes.
- B) compara o filme resenhado com outros filmes sobre o tema, mas não utiliza outras obras do diretor na avaliação.
- C) destaca as atuações dos atores consagrados, mas não as dos atores protagonistas estreantes.
- D) valoriza o que a linguagem do cinema pode promover e chama a atenção para recursos como a trilha sonora.

### QUESTÃO 2

A diferença apontada pelo texto entre os diretores Kubrick e Mendes em seus filmes é que

- A) Kubrick retratou a Primeira Guerra logo após o seu fim; e Mendes a retomou muito tempo depois.
- B) Mendes narrou o lado heroico dos soldados; e Kubrick, por sua vez, narrou a covardia dos soldados.
- C) Mendes destacou-se mais que Kubrick, por ter habilidade de produzir gêneros do cinema variados.
- D) Kubrick narrou a Primeira Guerra do ponto de vista dos oficiais; e Mendes narrou do ponto de vista dos soldados.

### QUESTÃO 3

Assinale a alternativa que apresenta a sequência correta, por parágrafos, das estratégias argumentativas utilizadas no texto.

- A) Exemplifica com citações de filmes; direciona seus argumentos para a Primeira Guerra Mundial no cinema; define o lado sombrio da guerra como mais interessante para o cinema; apresenta e avalia a técnica usada pelo diretor; compara o filme resenhado com outra obra do gênero, além de apresentar um breve resumo; analisa as atuações do filme.
- B) Define o lado sombrio da guerra como mais interessante para o cinema; exemplifica com citações de filmes; direciona seus argumentos para a Primeira Guerra Mundial no cinema; compara o filme resenhado com outra obra do gênero, além de apresentar um breve resumo; apresenta e avalia a técnica usada pelo diretor; analisa as atuações do filme.
- C) Define o lado sombrio da guerra como mais interessante para o cinema; exemplifica com citações de filmes; compara o filme resenhado com outra obra do gênero, além de apresentar um breve resumo; direciona seus argumentos para a Primeira Guerra Mundial no cinema; apresenta e avalia a técnica usada pelo diretor; analisa as atuações do filme.
- D) Apresenta e avalia a técnica usada pelo diretor; define o lado sombrio da guerra como mais interessante para o cinema; direciona seus argumentos para a Primeira Guerra Mundial no cinema; exemplifica com citações de filmes; compara o filme resenhado com outra obra do gênero, além de apresentar um breve resumo; analisa as atuações do filme.

### QUESTÃO 4

Releia o trecho a seguir, observando os pronomes em destaque.

“[...] Sam Mendes narra o heroico calvário de dois soldados muito jovens do exército inglês com uma missão **que** pode ser suicida, a de abandonar as trincheiras e sair a céu aberto para avisar **seus** companheiros que os alemães fingiram uma retirada, armaram uma armadilha para massacrá-**los**. É uma missão com poucas chances de sobrevivência para **esses** dois homens responsáveis e assustados, mas com um motivo inapelável para um deles, já que seu irmão está entre os alvos do engodo.”

Assinale a alternativa que apresenta relação incorreta entre o pronome e termo a que ele se refere.

- A) **que** = uma missão
- B) **seus** = dois soldados muito jovens do exército inglês
- C) **os** = seus companheiros
- D) **esses** = dois

### QUESTÃO 5

Assinale a alternativa em que foi utilizada apenas linguagem denotativa.

- A) “1917”: O virtuosismo filmando a angústia e o medo”
- B) “O desembarque na Normandia foi crucial para a derrota daquele monstro com bigodinho [...]”
- C) “Você tem a sensação de que as duas horas de filmagem se desenrolam em um só plano. Não percebe os cortes.”
- D) “Sam Mendes, para transmitir essa história de medo, de incerteza, de monstros que espreitam na luz ou na sombra os dois aventureiros involuntários.”

### QUESTÃO 6

Assinale a alternativa cuja palavra entre parênteses não mantém o sentido original da palavra em destaque nas orações.

- A) “É uma **frivolidade** imperdoável.” (futilidade)
- B) “[...] nos últimos instantes do **prodigioso Dunkirk**, sente na própria pele o medo e o mal-estar [...]” (acelerado)
- C) “Mas se Kubrick se valeu daquela guerra para descrever a **ignomínia** dos chefes militares do exército [...]” (desonra)
- D) “E eles são tão comoventes como **plausíveis**.” (aprovados)

### QUESTÃO 7

Assinale a alternativa que apresenta verbo conjugado que substitui aquele em destaque no período a seguir, de acordo com a norma-padrão da língua portuguesa.

“**Há** aparições breves e contundentes de pesos pesados do cinema inglês [...]”

- A) Existem
- B) Haverão
- C) Tem
- D) Têm

### QUESTÃO 8

Assinale a alternativa que apresenta a palavra que mantém a relação entre as orações estabelecida pelo termo em destaque no trecho a seguir.

“[...] mas com um motivo inapelável para um deles, **já que** seu irmão está entre os alvos do engodo.”

- A) por que
- B) porque
- C) por quê
- D) porquê

## QUESTÃO 9

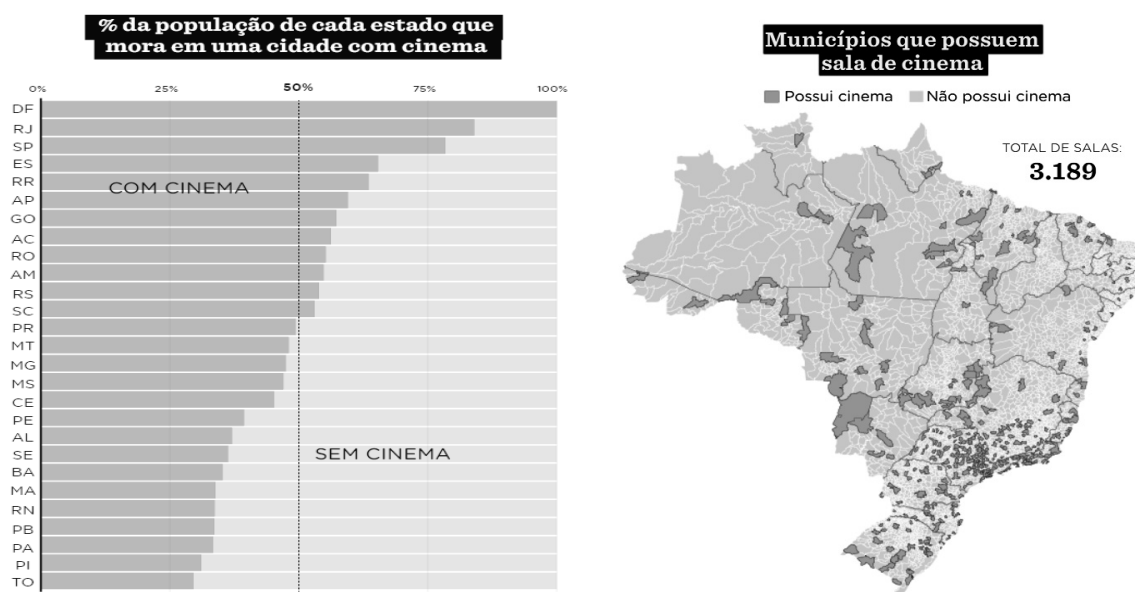
Assinale a alternativa que apresenta a reescrita do período a seguir que manteve pontuação correta, sem alterar o sentido original do trecho.

“Os quatro cavaleiros do Apocalipse são assustadores, nenhum é preferível a outro, é complicado optar entre eles pelo ruim ou o pior, mas há um ancestral cujo sinistro protagonismo não descansa nunca, que se distribui ciclicamente por todos os lugares do universo.”

- A) Os quatro cavaleiros do Apocalipse são assustadores: nenhum é preferível a outro; complicado optar entre eles pelo ruim ou o pior. Mas há um ancestral cujo sinistro protagonismo não descansa nunca que se distribui ciclicamente por todos os lugares do universo.
- B) Os quatro cavaleiros do Apocalipse, são assustadores, nenhum é preferível a outro, é complicado optar entre eles; pelo ruim ou o pior, mas há um ancestral, cujo sinistro protagonismo não descansa nunca, que se distribui ciclicamente; por todos os lugares do universo.
- C) Os quatro cavaleiros do Apocalipse são assustadores: nenhum é preferível a outro. É complicado optar entre eles pelo ruim ou o pior. Mas há um ancestral cujo sinistro protagonismo não descansa nunca, que se distribui ciclicamente por todos os lugares do universo.
- D) Os quatro cavaleiros do Apocalipse são assustadores. Nenhum é preferível a outro. É complicado optar entre eles pelo ruim, ou o pior, mas há um ancestral cujo sinistro, protagonismo não descansa nunca que se distribui ciclicamente por todos os lugares do universo.

## QUESTÃO 10

Analise os gráficos a seguir.



Disponível em: <<https://www.nexojornal.com.br/grafico/2019/05/31/A-distribui%C3%A7%C3%A3o-geogr%C3%A1fica-das-salas-de-cinemas-no-Brasil>>. Acesso em: 28 jan. 2020.

Assinale a alternativa que apresenta a leitura incorreta dos gráficos.

- A) Apesar de a maioria dos municípios que possuem cinema estar nas regiões Sul e Sudeste, em estados como Amapá e Roraima, mais da metade da população tem cinema em sua cidade.
- B) Na região Nordeste, que possui baixa concentração de municípios com cinema, menos da metade da população vive em municípios com cinema.
- C) Os estados em que mais da metade da população possui cinema em sua cidade estão localizados nas regiões Sul e Sudeste do país.
- D) Todos os municípios do Distrito Federal possuem cinema.

**QUESTÃO 11**

Juliana fez um treino, intervalando caminhada e corrida da seguinte forma: 3 minutos de caminhada, com velocidade de 6 km/h, seguidos de 2 minutos de corrida, a 10 km/h, e prosseguiu nessa sequência por 30 minutos.

Ao término desse período, qual foi a velocidade média do treino de Juliana, em km/h?

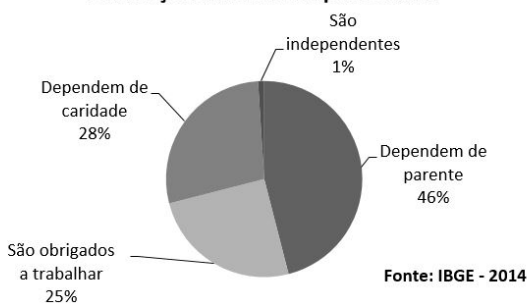
- A) 7,0.
- B) 7,6.
- C) 8,0.
- D) 8,6.

**QUESTÃO 12**

Observe o gráfico a seguir, a respeito da Previdência Social no Brasil no ano de 2014.

**PREVIDÊNCIA SOCIAL NO BRASIL**

A situação dos nossos aposentados



Considerando que o gráfico foi elaborado com base em um número total de 29 milhões de aposentados, quantos deles eram independentes em 2014?

- A) 2 900.
- B) 29 000.
- C) 290 000.
- D) 2 900 000.

**QUESTÃO 13**

Um aposentado do INSS, que estava aposentado antes de 2018, e ganhava um salário **S**, maior que um salário-mínimo, recebeu dois reajustes em seu benefício. Assim sendo, no ano de 2019, seu salário teve um reajuste de 3,43% e, em 2020, uma correção de 4,48%, acompanhando a inflação do Brasil.

Disponível em: <<https://economia.uol.com.br/noticias/redacao/2020/01/14/inss-reajuste-proporcional-aposentados-em-2019.htm?cmpid=copiaecola>>. Acesso em: 30 jan. 2020.

Assinale a alternativa que apresenta a expressão algébrica equivalente ao benefício desse aposentado, no ano de 2020, após os reajustes informados.

- A) **S**. (1,0343).(1,0448).
- B) **S**. (1,343).(1,448).
- C) **S**. (0,0343).(0,0448).
- D) **S**. (3,43).(4,48).

**QUESTÃO 14**

Leia o trecho de uma notícia publicada em agosto de 2014.

“Cresce o número de aposentados e pensionistas inadimplentes: Em um ano, a inadimplência entre pessoas com mais de 65 anos saltou de 7,31% para 11,91%. Em muitos casos, a família estimula empréstimo.”

Disponível em: <<http://g1.globo.com/bom-dia-brasil/noticia/2014/08/cresce-o-numero-de-aposentados-e-pensionistas-inadimplentes.html>>. Acesso em: 31 jan. 2020.

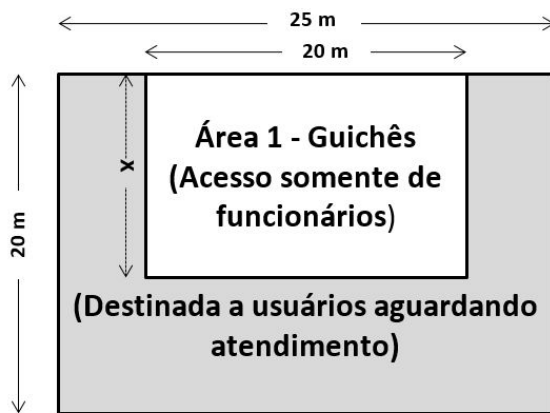
Considere que a evolução do percentual de aposentados e pensionistas inadimplentes, desde então, cresceu anualmente segundo uma progressão aritmética iniciada em agosto de 2013.

Qual foi o percentual de inadimplentes desse grupo, em agosto de 2019?

- A) 23,00%.
- B) 30,31%.
- C) 34,91%.
- D) 46,00%.

**QUESTÃO 15**

Um posto de atendimento aos cidadãos de um município passará por uma reforma. O objetivo é que os usuários possam aguardar pelo atendimento sentados. A figura (que não é proporcional) mostra, resumidamente, a distribuição do espaço no *hall* de atendimento desse posto.



A área 1 (branca) poderá ser ajustada em função da medida do comprimento X, ainda não definido pelo responsável pela reforma. Na área 2 (sombreada), deseja-se que fiquem confortavelmente sentados, pelo menos, 400 usuários simultaneamente.

Estima-se que cada usuário sentado ocupará, em média, 0,9 m<sup>2</sup> da área de espera, já levando-se em conta os desperdícios de espaços, as áreas de circulação e outras restrições.

Para que as 400 pessoas possam ser acomodadas nessas condições, qual o maior valor possível, em metros, para o comprimento X, após a reforma do espaço?

- A) 7.
- B) 8.
- C) 12.
- D) 13.

### QUESTÃO 16

Um turista viaja por vários países e coleciona latas de refrigerantes locais. Certo dia, contemplando sua coleção, ele observou que três latas, colocadas lado a lado, tinham sua capacidade indicada em diferentes unidades de medida. A lata do país A continha 355 mL; a lata do país B possuía 600 cm<sup>3</sup>; e a lata do país C possuía 33 cL de refrigerante.

Se ele porventura tentasse despejar o conteúdo dessas três latas em um recipiente com capacidade de 1 litro, a quantidade de líquido

- A) excederia a capacidade do recipiente em mais de 50%.
- B) excederia a capacidade do recipiente em menos de 50%.
- C) ocuparia mais de 90% do recipiente, sem transbordar.
- D) ocuparia menos de 90% do recipiente, sem transbordar.

### QUESTÃO 17

Devido a denúncias de fraudes envolvendo aposentadorias em uma cidade, o instituto previdenciário decidiu convocar, por amostragem, aposentados por invalidez permanente, divididos em três grupos. No grupo A, estão os 560 aposentados por doenças contraídas ao longo da vida. No grupo B, estão os 450 aposentados devido a acidentes sofridos fora do local de trabalho. No grupo C, estão os 120 aposentados por acidentes sofridos no trabalho. O sorteio para convocação será composto de duas etapas: na primeira, um dos três grupos será escolhido ao acaso; na segunda, dentre os integrantes do grupo selecionado, um aposentado será escolhido, também ao acaso.

Antônia, Bernardo e Celso estão nos grupos A, B e C, respectivamente. Haverá um sorteio com as regras citadas anteriormente.

Qual dos três possui maior chance de ser convocado?

- A) Antônia.
- B) Bernardo.
- C) Celso.
- D) Os três possuem as mesmas chances.

### QUESTÃO 18

Cássio tem como meta de planejamento financeiro poupar 30% de toda sua remuneração, mensalmente, incluindo qualquer extra recebido, para investir na aquisição de um imóvel. No ano de 2019, ele poupou R\$ 18 000,00.

Qual foi a remuneração média mensal de Cássio, no ano de 2019, em reais?

- A) 5 000.
- B) 5 400.
- C) 54 000.
- D) 60 000.

### QUESTÃO 19

Uma agência do INSS fez um estudo para entender o comportamento de seus usuários. Após analisar o horário de chegada de cada cidadão no período de um mês, concluiu-se que a quantidade média de usuários presentes na agência ao longo do dia é dada pela função  $n(t) = -10t^2 + 60t + 160$ , em que  $n$  é número de usuários dentro da agência a cada tempo  $t$ , que é dado em horas após a abertura do expediente, que vai das 8 horas da manhã até as 15 horas.

Qual é o momento em que há mais usuários na agência e quantos são estes?

- A) às 8h, 160 usuários.
- B) às 11h, 250 usuários.
- C) às 13h, 570 usuários.
- D) às 15h, 1280 usuários.

### QUESTÃO 20

Uma professora, funcionária pública de uma pequena cidade, faz os cálculos para planejar sua aposentadoria. Hoje ela possui 45 anos e já trabalhou, contribuindo para o fundo previdenciário dos servidores do município, pelo tempo total de 15 anos ininterruptos. Pelas regras desse fundo, a aposentadoria só pode ser concedida a essa servidora se a soma entre sua idade e tempo de contribuição for igual ou superior a 92 anos.

Continuando no cargo e contribuindo pelos próximos anos, essa funcionária fará jus ao recebimento de seu benefício previdenciário com que idade?

- A) 47 anos.
- B) 61 anos.
- C) 71 anos.
- D) 77 anos.

**QUESTÃO 21**

Foi lançado no fim do ano passado (2019) [...] o aplicativo “Udi sem Dengue” [...]. A ferramenta é um novo aliado da população no combate ao mosquito *Aedes Aegypti*, pois permite uma interação direta com a equipe do Programa de Controle da Dengue, do Centro de Controle de Zoonoses (CCZ).

“Neste conceito de colaboração, a comunidade torna-se uma agente de saúde. Após o cadastro por meio do CPF, cada morador poderá fazer solicitações, tanto em área residencial quanto pública. A ajuda da população sempre foi fundamental para nós, seja abrindo a porta da sua casa para nossa equipe nas visitas domiciliares ou entrando em contato com a gente por telefone. Com o aplicativo, essa comunicação será mais rápida e eficaz. Temos uma equipe própria que filtrará as demandas e direcionará para o setor responsável de acordo com cada situação”.

Disponível em: <<https://www.uberlandia.mg.gov.br/2020/01/27/aplicativo-udi-sem-dengue-contribui-para-o-combate-ao-aedes/>>. Acesso em: 27 jan. 2020 (Adaptação).

A utilização de aplicativos, como o “Udi sem dengue” de Uberlândia, permite

- A) que os membros da comunidade que foram cadastrados se tornem agentes de saúde pública e recebam a formação adequada para atuar nos casos por eles identificados em suas respectivas regiões.
- B) que os agentes de saúde pública de Uberlândia possam manter, à distância, sob controle e equilibrados, com a ajuda da população, os focos de dengue, bem como a sua disseminação na cidade.
- C) substituir o sistema de contato por telefone, que é mais oneroso e lento, por sistemas informatizados mais rápidos, baratos e de maior acessibilidade para toda a comunidade de Uberlândia.
- D) tornar mais ágil o trabalho de combate à dengue, seja pelas informações que a população pode transmitir aos agentes de saúde da prefeitura, seja pelas informações que pode receber desses mesmos órgãos.

**QUESTÃO 22**

Na noite desta terça-feira (4 de fevereiro de 2020), a Prefeitura de Uberlândia deu início à modernização dos 332 semáforos instalados em Uberlândia. [...]

Os trabalhos tiveram início às 20 horas e seguiram até as 3 horas da madrugada. A tarefa consiste em trocar a caixa completa (ou somente a placa circular que abriga as lâmpadas dos sinais) e instalação de botoeiras acessíveis aos deficientes visuais. No total serão 1 200 botoeiras a serem instaladas nesse macroprojeto. [...]

Disponível em: <<https://www.uberlandia.mg.gov.br/2020/02/05/prefeitura-inicia-instalacao-de-lampadas-de-led-nos-semaforos-2/>>. Acesso em: 6 fev. 2020.

O uso de botoeiras junto aos semáforos de vias públicas tem por objetivo

- A) facilitar a movimentação do público, já que pessoas com deficiência visual terão locais próprios de deslocamento.
- B) garantir maior fluidez no trânsito, já que o pedestre aciona o semáforo apenas quando for necessário.
- C) permitir às pessoas com deficiência visual o deslocamento em vias públicas sem nenhum tipo de barreira.
- D) poupar energia, pois lâmpadas de LED acionadas por botoeiras podem ter sua vida útil ampliada.

**QUESTÃO 23**

O Juizado de Violência Doméstica contra a Mulher de Arapiraca (AL), a 125 km de Maceió, usou a Lei Maria da Penha a favor de uma mulher transexual ofendida e agredida por outras duas mulheres. A decisão de ontem foi dada pelo juiz Alexandre Machado, que determinou medidas protetivas contra a vítima.

[...]

“As requeridas teriam a agredido e proferido xingamentos contra ela, em razão de sua identidade de gênero. As agressões e xingamentos são graves, pois não seriam decorrentes do que a requerente fez ou faz – característica definidora da moderna natureza humana – mas por quem ela é, pelo exercício do direito de liberdade de escolher e mudar.

Disponível em: <<https://www.uol.com.br/universa/noticias/redacao/2020/01/23/juiz-aplica-maria-da-penha-a-favor-de-trans-defesa-de-todos-os-direitos.htm?cmpid=copiaecola>>. Acesso em: 24 jan. 2020

A aplicação da Lei Maria da Penha em favor de mulher transexual contra outras duas mulheres se deveu, no caso apontado, ao fato de que a

- A) agressão foi desigual, sendo duas mulheres contras uma.
- B) Lei Maria da Penha é destinada à proteção de pessoas LGBTQ+.
- C) mulher sofreu agressões por meio de xingamentos.
- D) vítima foi agredida por sua condição de mulher transexual.



## QUESTÃO 24

A população **negra** tem 2,7 mais chances de ser vítima de assassinato do que os brancos. É o que revela o informativo **Desigualdades Sociais por Cor ou Raça no Brasil**, divulgado nesta quarta-feira (13), no Rio de Janeiro, pelo Instituto Brasileiro de Geografia e Estatística (IBGE).

[...]

“Na série de 2012 a 2017, que foi o período que a gente analisou neste estudo, houve aumento da taxa de homicídios por 100 mil habitantes da população preta e parda, passando de 37,2 para 43,4. Enquanto para a população branca esse indicador se manteve constante no tempo, em torno de 16” [...].

Disponível em: <<https://exame.abril.com.br/brasil/ibge-populacao-negra-e-principal-vitima-de-homicidio-no-brasil/>>.  
Acesso em: 27 jan. 2020.

Os dados são de uma pesquisa do IBGE, publicada em novembro de 2019. O trecho apresentado evidencia que

- A) a população preta e parda do Brasil foi, no conjunto, a mais fortemente impactada pelas taxas de homicídios registradas no país entre 2012 e 2017.
- B) as taxas de homicídios em geral tiveram crescimento regular no período, revelando que a população preta e parda continua sendo a maior vítima.
- C) o menor impacto das taxas de homicídio sobre a população branca é resultado da maior capacidade dessa população de garantir a sua própria proteção.
- D) os dados revelam de que maneira a violência policial do Rio de Janeiro atinge de forma diferente a população preta e parda quando comparada à branca.

## QUESTÃO 25

Embora o país tenha atingido no ano passado um recorde de pessoas trabalhando, uma média de 93,39 milhões de brasileiros, o mercado de trabalho registrou também um ápice de 38,363 milhões de trabalhadores atuando na informalidade [...]. O número representa 41,1% da população ocupada e é o maior desde 2016, quando a informalidade foi 39% (35 056 milhões de pessoas). Nem todos esses informais contribuem de forma autônoma para a Previdência, o que eleva as contas do INSS.

O TEMPO, 1º fev. 2020. p. 7.

De acordo com a matéria, um dos efeitos mais sensíveis do aumento da informalidade do trabalho é a

- A) diminuição da receita do sistema de Previdência, já que nem todos os trabalhadores informais contribuem, aumentando sensivelmente o seu déficit.
- B) elevação dos gastos da Previdência, uma vez que o aumento do número de trabalhadores informais os torna dependentes do seguro desemprego.
- C) extinção, em curto prazo, dos trabalhos formais, já que, no início de 2020, a informalidade do mercado atinge em torno de 93% dos trabalhadores.
- D) quebra do sistema previdenciário, pois os trabalhadores informais não podem contribuir com o sistema a fim de garantir a sua aposentadoria.

**CONTADOR****QUESTÃO 26**

O Anexo de Metas Fiscais conterà, entre outros conteúdos, a avaliação da situação financeira e atuarial: do Regime Geral de Previdência Social, do Regime Próprio de Previdência dos Servidores e do Fundo de Amparo ao Trabalhador.

Sobre o demonstrativo da avaliação da situação financeira e atuarial do Regime Próprio de Previdência dos Servidores, assinale a alternativa incorreta.

- A) O objetivo desse demonstrativo é dar transparência à situação financeira e atuarial do Regime Próprio de Previdência dos Servidores para uma melhor avaliação do seu impacto nas metas fiscais fixadas, além de orientar a elaboração da Lei Orçamentária Anual.
- B) Esse demonstrativo conterà tanto as receitas, quanto as despesas previdenciárias do Regime Próprio de Previdência dos Servidores, correspondentes às informações publicadas no Anexo 4 do Relatório Resumido de Execução Orçamentária.
- C) Esse demonstrativo deverá conter a análise descritiva dos parâmetros utilizados na avaliação atuarial e de valores que possuam maior relevância para o entendimento da situação financeira e atuarial do Regime Próprio de Previdência dos Servidores.
- D) Esse demonstrativo conterà a projeção atuarial do Regime Próprio de Previdência dos Servidores, correspondente às informações publicadas no Anexo 10 do Demonstrativo de Riscos Fiscais e Providências.

**QUESTÃO 27**

Sobre os aspectos contábeis, orçamentários e patrimoniais do Regime Próprio de Previdência Social (RPPS), assinale a alternativa incorreta.

- A) Do ponto de vista orçamentário, ressalta-se que o empenho relacionado à folha de pagamento é realizado pelo valor bruto da remuneração do servidor.
- B) A contribuição previdenciária patronal, de ônus do próprio ente, constitui uma receita intraorçamentária para o ente e uma despesa intraorçamentária para o RPPS.
- C) Caso as receitas previstas ultrapassem as despesas fixadas para o RPPS, gerando um superávit orçamentário, este constituirá a Reserva Orçamentária do RPPS.
- D) Contribuição do servidor é a contribuição previdenciária devida pelo servidor e beneficiários (aposentados e pensionistas) ao RPPS.

**QUESTÃO 28**

De acordo com o Manual de Demonstrativos Fiscais (MDF), Regime Próprio de Previdência Social (RPPS) é o regime de previdência, estabelecido por lei, no âmbito da União, dos estados, do Distrito Federal e dos municípios para assegurar aos servidores titulares de cargos efetivos os benefícios de aposentadoria e pensão por morte previstos no Art. 40 da Constituição da República Federativa do Brasil de 1988.

Nesse sentido, analise as afirmativas a seguir sobre a contabilidade do RPPS, assinalando com V as verdadeiras e com F as falsas.

- ( ) A institucionalização do RPPS implica em estabelecer contabilidade própria para permitir conhecer, a qualquer momento, a situação econômica, financeira e orçamentária do patrimônio, que é propriedade dos beneficiários da previdência.
- ( ) As mudanças conceituais decorrentes da organização da contabilidade do RPPS, que visam à transparência do patrimônio real dos beneficiários, implicam em alterações das exigências estabelecidas na Lei Complementar nº 101/2000 e nas demais leis pertinentes.
- ( ) Independentemente do formato administrativo que assuma no âmbito do ente, seja autarquia, fundação ou fundo previdenciário, o RPPS deverá ser organizado com base em normas de contabilidade e atuária que preservem seu equilíbrio financeiro e atuarial.
- ( ) O equilíbrio financeiro e atuarial da previdência deve ser observado, por meio de contribuição dos segurados, ativos e inativos, da contribuição patronal do ente da Federação e de outros aportes.

Assinale a sequência correta.

- A) V F V V
- B) F V F F
- C) F V V F
- D) V F F V

**QUESTÃO 29**

O Banco Central do Brasil, por meio do Conselho Monetário Nacional, disciplina as diretrizes de aplicação dos recursos dos Regimes Próprios de Previdência Social (RPPS).

Com relação à aplicação dos recursos, assinale a alternativa incorreta.

- A) Os fundos de investimentos, objeto de aplicação por parte dos RPPS, devem ser registrados na Comissão de Valores Imobiliários.
- B) Com relação aos investimentos no exterior, os fundos classificados como multimercado são considerados investimentos estruturados.
- C) No segmento de renda fixa, os RPPS podem aplicar até 100% dos recursos em títulos de emissão do Tesouro Nacional, registrados no Sistema Especial de Liquidação e Custódia.
- D) Os RPPS podem aplicar até 15% dos recursos no segmento de investimentos no exterior.

### QUESTÃO 30

No município de Uberlândia, a Lei nº 8.049, de 24 de junho de 2002, dispõe sobre o Instituto de Previdência dos Servidores Públicos do município, disciplina o regime de previdência social, institui o seu plano de custeio e dá outras providências.

Com relação ao que rege a referida lei, assinale a alternativa incorreta.

- A) O Regime de Previdência Social dos Servidores Públicos do município de Uberlândia tem por finalidade assegurar, mediante contribuição, aos seus beneficiários, os meios de subsistência nos eventos de doença, invalidez, falecimento, inatividade e idade avançada, reclusão e proteção à família.
- B) O servidor ocupante, exclusivamente, de cargo em comissão declarado em lei de livre nomeação e exoneração, os contratados por prazo determinado para atender à necessidade temporária de excepcional interesse público de outro cargo temporário, ou de emprego público, devem ser incluídos no regime de previdência de que trata esta Lei.
- C) Consideram-se dependentes do segurado, para gozar dos benefícios estabelecidos nesta Lei: I – o cônjuge, a companheira ou companheiro; II – o filho não emancipado, de qualquer condição, menor de idade ou inválido; III – os pais; IV – o irmão não emancipado, de qualquer condição, menor de idade ou inválido.
- D) É garantido ao segurado, para efeito de aposentadoria, a contagem recíproca de tempo de contribuição na Administração Pública e na atividade privada, rural e urbana, hipótese em que os regimes de previdência social se compensarão financeiramente, segundo critérios estabelecidos em lei.

### QUESTÃO 31

Sobre as Demonstrações Contábeis Aplicadas ao Setor Público, assinale com V as afirmativas verdadeiras e com F as falsas.

- ( ) O balanço patrimonial é composto por evidências qualitativas e quantitativas da situação patrimonial da entidade pública.
- ( ) O balanço orçamentário demonstrará as receitas detalhadas por fonte / destinação de recurso, discriminando as ordinárias e as vinculadas.
- ( ) A demonstração das variações patrimoniais conterà o valor referente à Reserva do Regime Próprio de Previdência Social.
- ( ) O balanço financeiro é composto por um único quadro que evidencia a movimentação financeira das entidades do setor público.

Assinale a sequência correta.

- A) V F V F
- B) F V F F
- C) F V V V
- D) V F F V

### QUESTÃO 32

Em Uberlândia, o Decreto nº 9762, de 30 de dezembro de 2004, aprova e homologa o regimento interno do conselho fiscal do Instituto de Previdência dos Servidores Públicos do Município de Uberlândia – IPREMU.

Sobre essa legislação, analise as afirmativas a seguir.

- I. O Conselho Fiscal é órgão de fiscalização da gestão do Instituto de Previdência dos Servidores Públicos do Município de Uberlândia – IPREMU, e é composto conforme as disposições do artigo 71 da Lei nº 8.049 de 2002 e alterações posteriores, com mandato de quatro anos.
- II. Aos conselheiros incumbe apresentar, ao Conselho, os assuntos relacionados ao IPREMU, no âmbito de sua atuação; apresentar proposição, requerimento, moção e questão de ordem; e apresentar retificação ou impugnação de ata.
- III. É obrigatória a presença de todos os membros do Conselho Fiscal às reuniões, sendo que os trabalhos se desenvolvem na seguinte ordem: I – leitura; II – comunicações do presidente; III – palavra dos conselheiros; IV – ordem do dia constante dos assuntos da pauta.

Está(ão) correta(s) a(s) afirmativa(s)

- A) I, apenas.
- B) I e II, apenas.
- C) II, apenas.
- D) I, II e III.

### QUESTÃO 33

Conforme a Lei nº 8.666/93, analise as afirmativas a seguir sobre a licitação de obras e serviços no setor público.

- I. Será computado como valor da obra ou serviço, para fins de julgamento das propostas de preços, a atualização monetária das obrigações de pagamento, desde a data final de cada período de aferição até a do respectivo pagamento.
- II. As obras e os serviços poderão ser licitados, mesmo que não haja previsão de recursos orçamentários que assegurem o pagamento das obrigações decorrentes de obras ou serviços a serem executadas no exercício financeiro em curso, de acordo com o respectivo cronograma.
- III. As obras e serviços destinados aos mesmos fins terão projetos padronizados por tipos, categorias ou classes, exceto quando o projeto-padrão não atender às condições peculiares do local ou às exigências específicas do empreendimento.

Está(ão) correta(s) a(s) afirmativa(s)

- A) III, apenas.
- B) I e II, apenas.
- C) II, apenas.
- D) I, II e III.

### QUESTÃO 34

De acordo o Artigo 3º da Lei nº 4.320/64, a Lei do Orçamento compreenderá todas as receitas, inclusive as de operações de crédito autorizadas em lei.

Com relação às receitas orçamentárias, relacione a COLUNA II com a COLUNA I, associando a classificação por categoria econômica ao seu respectivo tipo de receita.

#### COLUNA I

1. Receita corrente
2. Receita de capital

#### COLUNA II

- ( ) Receita de serviços
- ( ) Amortização de empréstimos
- ( ) Operações de crédito
- ( ) Contribuições

Assinale a sequência correta.

- A) 1 2 2 1
- B) 1 2 1 2
- C) 2 1 1 2
- D) 2 1 2 1

### QUESTÃO 35

O Artigo 165 da Constituição da República Federativa do Brasil de 1988 estabelece que leis de iniciativa do Poder Executivo estabelecerão o plano plurianual, as diretrizes orçamentárias e os orçamentos anuais.

Nesse sentido, assinale a alternativa correta.

- A) O plano plurianual disporá sobre normas relativas ao controle de custos e à avaliação dos resultados dos programas financiados com recursos dos orçamentos, bem como compreenderá e orientará a elaboração da Lei Orçamentária Anual.
- B) Integrará o projeto de Lei Orçamentária Anual o Anexo de Metas Fiscais, em que serão estabelecidas as metas anuais, em valores correntes e constantes, relativas a receitas, despesas, resultados nominal e primário e montante da dívida pública, para o exercício a que se referirem e para os dois seguintes.
- C) O projeto de Lei Orçamentária Anual conterà reserva de contingência, cuja forma de utilização e montante, definidos com base na receita corrente líquida, será estabelecido na Lei de Diretrizes Orçamentárias, destinada ao atendimento de passivos contingentes e outros riscos e eventos fiscais imprevistos.
- D) Os planos e programas nacionais, regionais e setoriais, previstos na Constituição da República Federativa do Brasil de 1988, serão elaborados em consonância com o plano plurianual e apreciados pelo Congresso Nacional. O Poder Legislativo publicará, até 30 dias após o encerramento de cada bimestre, relatório resumido da execução orçamentária.

### QUESTÃO 36

Perante a consolidação das contas nacionais, trazida pela Lei Complementar nº 101, de 2000, a Secretaria do Tesouro Nacional (STN) editou um Plano de Contas Aplicado ao Setor Público (PCASP), visando facilitar o registro dos atos e fatos contábeis dos entes públicos.

Nesse sentido, analise as afirmativas a seguir sobre o PCASP.

- I. Adicionalmente, a STN disponibiliza o PCASP estendido, de adoção obrigatória, para os entes que precisem de uma referência para o desenvolvimento de suas rotinas e sistemas.
- II. Os Regimes Próprios de Previdência Social (RPPS) deverão adotar algumas contas específicas do PCASP estendido.
- III. Os planos de contas dos entes da Federação deverão ter pelo menos sete níveis. Eventuais níveis não detalhados deverão ser codificados com o dígito zero.

Estão corretas as afirmativas

- A) I e III, apenas.
- B) I e II, apenas.
- C) II e III, apenas.
- D) I, II e III.

### QUESTÃO 37

Como consta nos Artigos 71, II, e 75, *caput*, da Constituição da República Federativa do Brasil de 1988, a competência para julgamento das contas Regimes Próprios de Previdência Social (RPPS) no âmbito estadual e municipal é de competência dos tribunais de contas que os jurisdicione.

Com relação à prestação de contas dos RPPS ao Tribunal de Contas do Estado de Minas Gerais, analise as afirmativas a seguir.

- I. As contas anuais devem ser acompanhadas do relatório produzido pelo órgão de controle interno, bem como do parecer do Conselho Fiscal ou similar.
- II. As contas anuais devem ser acompanhadas pelo parecer atuarial, que deve considerar todos os fatores relevantes para os resultados da avaliação atuarial.
- III. As contas serão encaminhadas ao Tribunal de Contas, no prazo de até 120 dias após o encerramento do exercício.

Estão corretas as afirmativas

- A) I e III, apenas.
- B) I, II e III.
- C) I e II, apenas.
- D) II e III, apenas.

### QUESTÃO 38

Os Regimes Próprios de Previdência Social (RPPS) diferenciam-se de outros órgãos regidos pela Contabilidade Pública por, entre outros aspectos, trazer para o balanço as provisões atuariais.

Com relação à Norma Brasileira de Contabilidade Aplicada ao Setor Público NBC TSP 03 – Provisões, Passivos Contingentes e Ativos Contingentes, assinale a alternativa incorreta.

- A) No reconhecimento das provisões, quando não está claro se existe ou não obrigação presente, deve-se presumir que evento passado dá origem à obrigação se, levando-se em consideração todas as evidências disponíveis, for mais provável que a obrigação exista na data das demonstrações contábeis.
- B) Um passivo contingente deve ser reconhecido quando: (a) a entidade tem obrigação presente (formalizada ou não) decorrente de evento passado; (b) for provável que seja necessária a saída de recursos que incorporam benefícios econômicos ou potencial de serviços para que a obrigação seja liquidada; e (c) uma estimativa confiável possa ser realizada acerca do valor da obrigação.
- C) Provisões são reconhecidas como passivo (presumindo-se que possa ser feita uma estimativa confiável), porque são obrigações presentes e é provável que a saída de recursos que incorporam benefícios econômicos ou potencial de serviços seja necessária para liquidar a obrigação.
- D) Na mensuração, o valor reconhecido como provisão deve corresponder à melhor estimativa de desembolso necessário para liquidar a obrigação presente na data das demonstrações contábeis. A melhor estimativa corresponde ao valor que a entidade racionalmente pagaria para, na data do balanço, liquidar a obrigação ou para transferi-la para um terceiro.

### QUESTÃO 39

Como consta no Manual de Contabilidade Aplicada ao Setor Público (MCASP, 2018), a despesa orçamentária é toda transação que depende de autorização legislativa, na forma de consignação de dotação orçamentária, para ser efetivada.

Com relação às despesas orçamentárias, assinale a alternativa correta.

- A) Classificam-se como despesas correntes aquelas que contribuem, diretamente, para a formação ou aquisição de um bem de capital.
- B) Encargos sociais e contribuições recolhidas pelo ente público às entidades de previdência são despesas correntes.
- C) Pagamento de juros, comissões e outros encargos de operações de crédito internas e externas contratadas, bem como da dívida pública mobiliária são despesas de capital.
- D) As despesas de capital são aquelas que não contribuem, diretamente, para a formação ou aquisição de um bem de capital.

### QUESTÃO 40

Com relação à aplicação da Emenda Constitucional nº 103, de 2019, aos Regimes Próprios de Previdência Social (RPPS) dos estados, Distrito Federal e municípios, assinale com V as afirmativas verdadeiras e com F as falsas.

- ( ) Os estados, o Distrito Federal e os municípios poderão fazer incidir a contribuição ordinária dos aposentados e pensionistas sobre o valor dos proventos e pensões que superem o salário-mínimo, se houver déficit atuarial.
- ( ) O RPPS dos servidores titulares de cargos efetivos terá caráter contributivo e solidário, mediante contribuição do respectivo ente federativo, de servidores ativos, de aposentados e de pensionistas, observados critérios que preservem o equilíbrio financeiro e atuarial.
- ( ) Aplica-se ao agente público ocupante, exclusivamente, de cargo em comissão declarado em lei de livre nomeação e exoneração, de outro cargo temporário, inclusive mandato eletivo, ou de emprego público, o Regime Próprio de Previdência Social.
- ( ) O equilíbrio financeiro e atuarial do RPPS deverá ser comprovado por meio de garantia de equivalência, a valor presente, entre o fluxo das receitas estimadas e das despesas projetadas, apuradas atuarialmente, que, juntamente com os bens, direitos e ativos vinculados, comparados às obrigações assumidas, evidenciem a solvência e a liquidez do plano de benefícios.

Assinale a sequência correta.

- A) V F V V
- B) F V F V
- C) V V F F
- D) F F V F



# FOLHA DE RESPOSTAS (VERSÃO DO CANDIDATO)

1	A	B	C	D	21	A	B	C	D
	<input type="checkbox"/>	<input type="checkbox"/>	<input type="checkbox"/>	<input type="checkbox"/>		<input type="checkbox"/>	<input type="checkbox"/>	<input type="checkbox"/>	<input type="checkbox"/>
2	A	B	C	D	22	A	B	C	D
	<input type="checkbox"/>	<input type="checkbox"/>	<input type="checkbox"/>	<input type="checkbox"/>		<input type="checkbox"/>	<input type="checkbox"/>	<input type="checkbox"/>	<input type="checkbox"/>
3	A	B	C	D	23	A	B	C	D
	<input type="checkbox"/>	<input type="checkbox"/>	<input type="checkbox"/>	<input type="checkbox"/>		<input type="checkbox"/>	<input type="checkbox"/>	<input type="checkbox"/>	<input type="checkbox"/>
4	A	B	C	D	24	A	B	C	D
	<input type="checkbox"/>	<input type="checkbox"/>	<input type="checkbox"/>	<input type="checkbox"/>		<input type="checkbox"/>	<input type="checkbox"/>	<input type="checkbox"/>	<input type="checkbox"/>
5	A	B	C	D	25	A	B	C	D
	<input type="checkbox"/>	<input type="checkbox"/>	<input type="checkbox"/>	<input type="checkbox"/>		<input type="checkbox"/>	<input type="checkbox"/>	<input type="checkbox"/>	<input type="checkbox"/>
6	A	B	C	D	26	A	B	C	D
	<input type="checkbox"/>	<input type="checkbox"/>	<input type="checkbox"/>	<input type="checkbox"/>		<input type="checkbox"/>	<input type="checkbox"/>	<input type="checkbox"/>	<input type="checkbox"/>
7	A	B	C	D	27	A	B	C	D
	<input type="checkbox"/>	<input type="checkbox"/>	<input type="checkbox"/>	<input type="checkbox"/>		<input type="checkbox"/>	<input type="checkbox"/>	<input type="checkbox"/>	<input type="checkbox"/>
8	A	B	C	D	28	A	B	C	D
	<input type="checkbox"/>	<input type="checkbox"/>	<input type="checkbox"/>	<input type="checkbox"/>		<input type="checkbox"/>	<input type="checkbox"/>	<input type="checkbox"/>	<input type="checkbox"/>
9	A	B	C	D	29	A	B	C	D
	<input type="checkbox"/>	<input type="checkbox"/>	<input type="checkbox"/>	<input type="checkbox"/>		<input type="checkbox"/>	<input type="checkbox"/>	<input type="checkbox"/>	<input type="checkbox"/>
10	A	B	C	D	30	A	B	C	D
	<input type="checkbox"/>	<input type="checkbox"/>	<input type="checkbox"/>	<input type="checkbox"/>		<input type="checkbox"/>	<input type="checkbox"/>	<input type="checkbox"/>	<input type="checkbox"/>
11	A	B	C	D	31	A	B	C	D
	<input type="checkbox"/>	<input type="checkbox"/>	<input type="checkbox"/>	<input type="checkbox"/>		<input type="checkbox"/>	<input type="checkbox"/>	<input type="checkbox"/>	<input type="checkbox"/>
12	A	B	C	D	32	A	B	C	D
	<input type="checkbox"/>	<input type="checkbox"/>	<input type="checkbox"/>	<input type="checkbox"/>		<input type="checkbox"/>	<input type="checkbox"/>	<input type="checkbox"/>	<input type="checkbox"/>
13	A	B	C	D	33	A	B	C	D
	<input type="checkbox"/>	<input type="checkbox"/>	<input type="checkbox"/>	<input type="checkbox"/>		<input type="checkbox"/>	<input type="checkbox"/>	<input type="checkbox"/>	<input type="checkbox"/>
14	A	B	C	D	34	A	B	C	D
	<input type="checkbox"/>	<input type="checkbox"/>	<input type="checkbox"/>	<input type="checkbox"/>		<input type="checkbox"/>	<input type="checkbox"/>	<input type="checkbox"/>	<input type="checkbox"/>
15	A	B	C	D	35	A	B	C	D
	<input type="checkbox"/>	<input type="checkbox"/>	<input type="checkbox"/>	<input type="checkbox"/>		<input type="checkbox"/>	<input type="checkbox"/>	<input type="checkbox"/>	<input type="checkbox"/>
16	A	B	C	D	36	A	B	C	D
	<input type="checkbox"/>	<input type="checkbox"/>	<input type="checkbox"/>	<input type="checkbox"/>		<input type="checkbox"/>	<input type="checkbox"/>	<input type="checkbox"/>	<input type="checkbox"/>
17	A	B	C	D	37	A	B	C	D
	<input type="checkbox"/>	<input type="checkbox"/>	<input type="checkbox"/>	<input type="checkbox"/>		<input type="checkbox"/>	<input type="checkbox"/>	<input type="checkbox"/>	<input type="checkbox"/>
18	A	B	C	D	38	A	B	C	D
	<input type="checkbox"/>	<input type="checkbox"/>	<input type="checkbox"/>	<input type="checkbox"/>		<input type="checkbox"/>	<input type="checkbox"/>	<input type="checkbox"/>	<input type="checkbox"/>
19	A	B	C	D	39	A	B	C	D
	<input type="checkbox"/>	<input type="checkbox"/>	<input type="checkbox"/>	<input type="checkbox"/>		<input type="checkbox"/>	<input type="checkbox"/>	<input type="checkbox"/>	<input type="checkbox"/>
20	A	B	C	D	40	A	B	C	D
	<input type="checkbox"/>	<input type="checkbox"/>	<input type="checkbox"/>	<input type="checkbox"/>		<input type="checkbox"/>	<input type="checkbox"/>	<input type="checkbox"/>	<input type="checkbox"/>

AO TRANSFERIR ESSAS MARCAÇÕES PARA A FOLHA DE RESPOSTAS,  
OBSERVE AS INSTRUÇÕES ESPECÍFICAS DADAS NA CAPA DA PROVA.

**USE CANETA ESFEROGRÁFICA AZUL OU PRETA.**

**ATENÇÃO:  
AGUARDE AUTORIZAÇÃO  
PARA VIRAR O CADERNO DE PROVA.**