



**Prefeitura
de Timbó**

**PREFEITURA MUNICIPAL DE TIMBÓ
CONCURSO PÚBLICO – EDITAL N. 002/2018
ADMINISTRAÇÃO DIRETA**

Cargo: **PROFESSOR DE INFORMÁTICA EDUCACIONAL**

INSTRUÇÕES

- Nesta prova, você encontrará:
10 (dez) questões de Língua Portuguesa,
05 (cinco) questões de Conhecimentos Gerais e
25 (vinte e cinco) questões de Conhecimentos Específicos.
- Você está recebendo um **Caderno** com um total de 40 (quarenta) questões do tipo múltipla escolha, uma **Folha Intermediária de Respostas** e um **Cartão-Resposta**.
- Leia atentamente todas as questões e assinale a alternativa que julgar correta ou mais adequada. Lembre-se de que, para cada questão, existe apenas uma alternativa **correta**.
- Utilize a **Folha Intermediária de Respostas** para registrar as alternativas escolhidas. Essa folha ficará em seu poder para conferência com o gabarito a ser publicado.
- Depois de preencher a **Folha Intermediária de Respostas**, transcreva as alternativas escolhidas para o **Cartão-Resposta**, preenchendo, **forte e completamente, a bolha** com caneta esferográfica azul-escura ou preta. Não faça outro tipo de marca na bolha nem utilize outro tipo de caneta.
- No **Caderno de Questões**, você poderá fazer as anotações de que necessitar.
- O **Cartão-Resposta** e o **Caderno de Questões** serão devolvidos ao fiscal.
- Assine no local indicado no **Cartão-Resposta**.
- Você não poderá sair da sala de prova antes de transcorrida 1 (uma) hora.
- Os três últimos candidatos permanecerão na sala até o término das provas.
- Duração da Prova: 3h.

**INSTRUÇÕES PARA PREENCHIMENTO
DO CARTÃO-RESPOSTA**

MARQUE ASSIM: 

NUNCA MARQUE ASSIM: 

AGUARDE A ORDEM PARA ABRIR ESTE CADERNO DE QUESTÕES

Nome Legível do Candidato

Assinatura do Candidato

Timbó, 24 de fevereiro de 2019.

QUESTÕES DE LÍNGUA PORTUGUESA

Leia o texto e resolva as questões de 1 a 7.

O primeiro projeto apresentado na Assembleia Legislativa de Santa Catarina em 2019 promete **repercutir**. De autoria do deputado Valdir Cobalchini, a proposta quer proibir o uso de radares móveis, estáticos e fixos nas rodovias estaduais.

— Tem condão puramente arrecadatário, **já que** não se presta a promover a educação preventiva dos motoristas, conforme preconiza o Código de Trânsito Brasileiro — disse o deputado sobre o uso dos equipamentos. [...]

Disponível em <https://www.nsctotal.com.br>. Acesso em 11/02/2019. [adaptado]

- 1- Assinale a única alternativa que contenha um sinônimo do verbo “repercutir”, utilizado no texto:
 - (A) falhar
 - (B) endurecer
 - (C) intrigar
 - (D) prejudicar
 - (E) impressionar

- 2- No período “**já que** não se presta a promover a educação preventiva dos motoristas”, o “já que” introduz a ideia de:
 - (A) oposição
 - (B) explicação
 - (C) adição
 - (D) exclusão
 - (E) alternância

- 3- A expressão “já que”, destacada no texto, pode ser substituída, corretamente e sem alteração de sentido, por:
 - (A) quando
 - (B) na medida em que
 - (C) logo
 - (D) portanto
 - (E) embora

- 4- Assinale a alternativa correta:
 - (A) móveis – todas as paroxítonas são acentuadas.
 - (B) Estáticos – as paroxítonas terminadas em O são acentuadas.
 - (C) Trânsito – todas as proparoxítonas são acentuadas.
 - (D) Arrecadatário – todas as oxítonas são acentuadas.
 - (E) Código – as oxítonas terminadas em O são acentuadas.

- 5- Assinale a alternativa correta quanto à classificação da classe gramatical das palavras do texto:
 - (A) primeiro – preposição
 - (B) Tem – advérbio
 - (C) puramente – adjetivo
 - (D) se – numeral
 - (E) condão – substantivo

- 6- No trecho “...a proposta quer proibir o uso de radares móveis, estáticos e fixos nas rodovias estaduais.”, a vírgula está correta, pois é utilizada para:
 - (A) omitir um termo.
 - (B) separar um aposto.
 - (C) separar um vocativo.
 - (D) enumerar palavras de mesma função sintática.
 - (E) intercalar uma explicação.

- 7- Assinale a única alternativa correta quanto ao tempo e modo verbal dos verbos retirados da notícia:
 - (A) promete – presente do indicativo.
 - (B) quer – presente do subjuntivo.
 - (C) Tem – imperativo afirmativo.
 - (D) preconiza – pretérito imperfeito do indicativo.
 - (E) disse – pretérito perfeito do indicativo.

Leia o texto e resolva as questões de 8 a 10.

O Deputado Estadual Laércio Schuster estará nesta quinta-feira, dia 14, na Secretaria de Estado da Defesa Civil. Será recebido pelo Secretário em Exercício, Coronel Losso, e toda a Diretoria. O objetivo é conhecer a atual estrutura da Defesa Civil e debater a situação das barragens da Celesc em Santa Catarina.

Para se ter uma ideia da importância desse tema, somente nas regiões do Médio e Alto Vale do Itajaí existem cinco barragens: Palmeira, Alto Cedro, Ibirama, Taió e José Boiteux. [...]

Segundo o deputado, o objetivo é assegurar que todas as barragens do Estado estejam em plena segurança, em especial neste momento de consternação e preocupação por parte dos brasileiros, em geral, e dos catarinenses, em particular, devido a tragédia de Brumadinho, em Minas Gerais. [...]

Disponível em <https://www.timbonet.com.br/laercio-vai-se-reunir-com-diretoria-da-defesa-civil-sobre-barragens>. Acesso em 13/02/2019. [adaptado]

8- Propositadamente, foi retirado o acento indicativo de crase em um dos trechos do texto. Assinale, pois, a alternativa que contenha o trecho em que deve ser colocado crase:

- (A) ... toda a Diretoria.
- (B) ...devido a tragédia de Brumadinho...
- (C) ... conhecer a atual estrutura...
- (D) ... todas as barragens do Estado...
- (E) ... debater a situação das barragens da Celesc em Santa Catarina.

9- Sobre o texto, é correto afirmar que:

- I- Em Santa Catarina, existem somente cinco barragens: Palmeira, Alto Cedro, Ibirama, Taió e José Boiteux.
- II- O Deputado Estadual Laércio Schuster é o Secretário em Exercício da Secretaria de Estado da Defesa Civil de Santa Catarina.
- III- O objetivo do Deputado Estadual é conhecer a atual estrutura da Defesa Civil e debater a situação das barragens da Celesc em Santa Catarina.

Assinale a alternativa correta:

- (A) Apenas as afirmativas I e II estão corretas.
- (B) Apenas as afirmativas II e III estão corretas.
- (C) Apenas a afirmativa III está correta.
- (D) As afirmativas I, II e III estão corretas.
- (E) Apenas as afirmativas I e III estão corretas.

10- A exemplo da palavra ideia, utilizada no texto acima, assinale a alternativa que contenha outra palavra que também perdeu o acento com o Novo Acordo Ortográfico:

- (A) Heroi
- (B) Heroico
- (C) Herois
- (D) Aneis
- (E) Papeis

QUESTÕES DE CONHECIMENTOS GERAIS

11- Muitas capitais brasileiras merecem destaque, seja por sua participação na economia do País, seja por sua concentração populacional ou pelo seu contexto histórico. Isso posto, considere as características abaixo:

- 1- A cidade possui um importante acervo histórico e arquitetônico, além de suas belezas naturais que atraem vários turistas.
- 2- Foi a primeira capital do Brasil e possui belas construções do período colonial.
- 3- É uma cidade histórica com importantes marcos arquitetônicos do período áureo da borracha.
- 4- A cidade viveu um breve período holandês, mas com grandes contribuições à arquitetura, ao urbanismo e ao paisagismo, principalmente no período da administração do Conde Maurício de Nassau.
- 5- É uma das cidades mais quentes do País e está situada exatamente no centro da América do Sul.

Assinale a alternativa que apresenta, na ordem, as capitais brasileiras que correspondem às características acima:

- (A) Fortaleza, Recife, Belém, Cuiabá e Manaus.
- (B) Maceió, Rio de Janeiro, Rio Branco, Fortaleza e Goiânia.
- (C) Recife, Rio de Janeiro, Cuiabá, Goiânia e Brasília.
- (D) Salvador, Recife, Manaus, Maceió e Palmas.
- (E) Rio de Janeiro, Salvador, Manaus, Recife e Cuiabá.

12- Sobre a história de Timbó, analise as afirmativas abaixo e identifique a(s) correta(s):

- I- Timbó foi fundada pelo imigrante alemão Frederico Donner, em 12 de outubro de 1869.
- II- O ano de 1934 marcou a criação e a instalação do município de Timbó.
- III- Além da influência da cultura germânica, o município de Timbó recebeu forte influência dos imigrantes austríacos.
- IV- Os primeiros imigrantes italianos chegaram a Timbó no início do século XIX, mas não se adaptaram e se instalaram no sul catarinense.

Assinale a alternativa correta:

- (A) Apenas a afirmativa II está correta.
- (B) Apenas as afirmativas I, II e III estão corretas.
- (C) Apenas as afirmativas I e II estão corretas.
- (D) Apenas as afirmativas I e IV estão corretas.
- (E) As afirmativas I, II, III e IV estão corretas.

13- A contornação do município de Timbó se dá por serras formadas em partes pelos contrafortes da Serra do Mar. Sobre a Serra do Mar, assinale a alternativa correta:

- (A) A Serra do Mar é um maciço rochoso que se estende desde Pernambuco até o sul de Santa Catarina.
- (B) Em Santa Catarina, a Serra do Mar recebe o nome Serra dos Órgãos.
- (C) Criado em 2008, pelo governo de Santa Catarina, o Parque Estadual Serra do Mar representa a maior porção contínua preservada de Mata Atlântica no Brasil.
- (D) As maiores altitudes da Serra do Mar ficam no Estado de Santa Catarina.
- (E) A Serra do Mar é conhecida como a "Cordilheira Brasileira" devido a sua formação montanhosa prolongada, cerca de 1000 km de extensão e altitudes que variam de 1200 a 2200 metros acima do nível do mar.

14- Sobre a história do Brasil, numere a segunda coluna de acordo com a primeira, associando período e fato histórico:

Primeira coluna: Períodos

- 1- Período Colonial
- 2- Período Imperial
- 3- Período Republicano

Segunda Coluna: Fatos históricos

- () Abertura dos Portos
- () Batalha do Guararapes
- () Construção de Brasília
- () Assinatura da Lei Áurea
- () Regência Trina e Una
- () Ciclo da exploração do ouro

Assinale a alternativa que indica a associação correta das colunas:

- (A) 1 – 1 – 3 – 2 – 2 – 1.
- (B) 1 – 2 – 3 – 3 – 1 – 2.
- (C) 3 – 3 – 3 – 1 – 1 – 2.
- (D) 2 – 1 – 1 – 2 – 3 – 3.
- (E) 2 – 2 – 3 – 3 – 1 – 1.

15- Os vestígios materiais do passado como objetos pessoais, fósseis, obras artísticas, entre outras coisas, muitas vezes são os únicos elementos ou documentos que sobram de quem viveu há séculos ou milênios. O Brasil perdeu parte significativa de sua história. Na noite de 2 de setembro de 2018, um *incêndio* de grandes proporções atingiu:

- (A) O Museu da Língua Portuguesa, na Praça da Luz, no centro de São Paulo. O acidente aconteceu justamente no ano em que a instituição comemorava 200 anos de existência.
- (B) A Cinemateca Brasileira, localizada na Zona Sul de São Paulo. Foram destruídos cerca de 731 de seus 44 mil títulos, entre cinejornais com cenas do noticiário político e curtas-metragens.
- (C) O Museu de Ciências Naturais da PUC, de Minas Gerais. Atualmente ele tinha o maior acervo da história natural da América Latina, com 20 milhões de itens.
- (D) O Museu Nacional, localizado no Rio de Janeiro. Trata-se da instituição científica mais antiga do País e uma das mais importantes do mundo.
- (E) O Memorial da América Latina, na Zona Oeste de São Paulo. Foi fundado por Dom João VI, em 1818, e seu primeiro acervo surgiu a partir de doações da Família Imperial e de colecionares particulares.

QUESTÕES DE CONHECIMENTOS ESPECÍFICOS

16- Pela Lei Complementar nº 01, de 22/10/1993, diárias e transporte constituem indenizações ao servidor. Sobre as diárias, analise as situações abaixo e identifique a(s) correta(s):

- I- O servidor que se deslocar em caráter eventual ou transitório do Município, em objeto de serviço, fará jus a passagens e diárias, para cobrir as despesas de pousada, alimentação e locomoção urbana.
- II- Caso o servidor receber diárias e não se afastar da sede, por qualquer motivo, fica obrigado a restituí-las integralmente, no prazo de 5 (cinco) dias.
- III- Se o servidor retornar à sede em prazo menor que o previsto, estará dispensado de restituir as diárias recebidas em excesso.

Assinale a alternativa correta:

- (A) Apenas as afirmativas I e III estão corretas.
- (B) Apenas a afirmativa II está correta.
- (C) Apenas as afirmativas I e II estão corretas.
- (D) Apenas as afirmativas II e III estão corretas.
- (E) As afirmativas I, II e III estão corretas.

17- Sobre a jornada de trabalho nas repartições e órgãos públicos do Município de Timbó, analise as afirmativas abaixo e identifique a(s) correta(s):

- I- A jornada de trabalho para todos os servidores públicos de Timbó é de oito horas diárias e quarenta horas semanais.
- II- A jornada de trabalho para o serviço administrativo e/ou burocrático é de 35 (trinta e cinco) horas semanais.
- III- A jornada de trabalho para o magistério é de 20 horas aula semanais por turno.
- IV- A jornada de trabalho para o serviço operacional é de 44 horas semanais.

Assinale a alternativa correta:

- (A) Apenas as afirmativas I, II e III estão corretas.
- (B) Apenas a afirmativa I está correta.
- (C) Apenas as afirmativas II, III e IV estão corretas.
- (D) Apenas as afirmativas III e IV estão corretas.
- (E) Apenas as afirmativas II e III estão corretas.

18- À luz da Lei Complementar nº 137, de 02/07/1998, assinale a alternativa correta:

- (A) A promoção por antiguidade corresponde ao um adicional de 6% (seis por cento), calculados sobre o vencimento do cargo efetivo ocupado pelo servidor, por força do tempo de serviço no cargo.
- (B) Enquanto o servidor estiver respondendo a processo administrativo, interromper-se-á o decurso do interstício para promoção por desempenho e por antiguidade e, no caso de absolvição, contar-se-á em seu favor os requisitos para tais promoções, se outros impeditivos não ocorrerem.
- (C) A avaliação de desempenho será realizada semestralmente pelo titular da Secretaria de Administração, por meio da ficha de avaliação específica para esse fim.
- (D) A nomeação para cargo de provimento efetivo depende de prévia habilitação em concurso público de provas ou de provas e títulos, obedecida a ordem de classificação, independentemente do prazo de sua validade do concurso.
- (E) Os editais de abertura de concurso público deverão reservar às pessoas portadoras de deficiência até 5% (cinco por cento) das vagas nele oferecidas, ou das que vierem a surgir no prazo de validade do concurso.

19- Leia as características abaixo:

- I- Entendida como uma prática de avaliação contínua que objetiva desenvolver as aprendizagens.
- II- Proporciona o levantamento de informações úteis à regulação do processo ensino – aprendizagem, contribuindo para a efetivação da atividade de ensino.
- III- Trata-se de um processo cíclico e contínuo de análise e ação, que possibilita ao professor ter um apontamento das necessidades e dificuldades dos alunos.

As características elencadas se referem à:

- (A) Avaliação diagnóstica.
- (B) Avaliação formativa.
- (C) Avaliação comparativa.
- (D) Avaliação classificatória.
- (E) Avaliação somativa.

20- Considerando os grupos ocupacionais do quadro geral de provimento efetivo do poder executivo, previstos pela Lei Complementar nº 137, de 02/07/1998, preencha a segunda coluna de acordo com a primeira:

Primeira coluna: Grupos ocupacionais

- 1- Profissional
- 2- Semiprofissional
- 3- Administrativo
- 4- Serviços gerais

Segunda coluna: Descrições dos grupos ocupacionais

- () reúne os cargos cujas tarefas requerem o conhecimento prático do trabalho, limitados a uma rotina e predominância do esforço físico.
- () compreende os cargos que exigem conhecimentos de nível médio ou curso específico, cujas tarefas se caracterizam por certa complexidade e pouco esforço físico.
- () abrange os cargos cujas tarefas requerem elevado grau de atividade mental, exigidoras de conhecimentos teóricos e práticos de nível acadêmico.
- () congrega os cargos ligados à preparação, transferência, sistematização e preservação de papéis e outras atividades relacionadas ao âmbito administrativo e organizacional.

Assinale a alternativa que indica a associação correta:

- (A) 1 – 2 – 3 – 4.
- (B) 3 – 2 – 1 – 4.
- (C) 4 – 2 – 1 – 3.
- (D) 3 – 4 – 2 – 1.
- (E) 2 – 3 – 4 – 1.

21- Assinale a alternativa que identifica corretamente o conjunto de cargos reunidos em segmentos distintos, de acordo com a área de atuação e habilitação profissional:

- (A) Categoria Funcional.
- (B) Cargo.
- (C) Enquadramento.
- (D) Promoção funcional.
- (E) Remuneração.

22- O Estatuto da Criança e do Adolescente reza que é direito dos pais ou responsáveis ter ciência do processo pedagógico, bem como participar da definição das propostas educacionais. A criança e o adolescente têm direito à educação, visando ao pleno desenvolvimento de sua pessoa, preparo para o exercício da cidadania e qualificação para o trabalho, devendo-se-lhes garantir:

- I- Direito de ser respeitado por seus educadores.
- II- Igualdade de condições para o acesso e permanência na escola.
- III- Acesso à escola pública e gratuita próxima de sua residência.
- IV- Direito de contestar critérios avaliativos, porém, sem recorrer às instâncias escolares superiores.

Assinale a alternativa correta:

- (A) Apenas as garantias II e IV estão corretas.
- (B) Apenas a garantia II está correta.
- (C) Apenas as garantias I e III estão corretas.
- (D) Apenas a garantia III está correta.
- (E) Apenas as garantias I, II e III estão corretas.

23- Analise as diretrizes abaixo e, diante de cada uma, escreva V (verdadeira), se for diretriz do Plano Municipal de Educação (2015-2024), e F (falsa), se não for:

- () Promoção dos princípios do respeito aos direitos humanos, à diversidade e à sustentabilidade socioambiental.
- () Particularização do atendimento escolar.
- () Superação das desigualdades educacionais, com ênfase na promoção da cidadania e na erradicação de todas as formas de discriminação.
- () Valorização dos profissionais da educação.

Assinale a alternativa que contém a sequência correta:

- (A) V – F – V – V.
- (B) F – V – V – V.
- (C) F – V – F – V.
- (D) V – V – F – F.
- (E) F – F – F – V.

24- Sobre a ética profissional no serviço público, analise as afirmativas abaixo e identifique as corretas:

- I- A ética, ainda que não possa ser equiparada à lei, está relacionada com o sentimento de justiça social.
- II- No campo educacional, todos os profissionais devem agir responsabilmente, sendo éticos em suas atividades, agindo com profissionalismo e sem agredir os princípios básicos da lei, como a integridade e a honestidade.
- III- Os princípios éticos e morais, de democracia e justiça são coerentes com a recusa de atitudes preconceituosas, desonestas, injustas e infiéis.
- IV- A ausência de ética tem sido constante, principalmente, no núcleo da família, da escola e da comunidade, necessitando atentar um olhar mais humano, pois a ética é uma forma racional de procurar viver de forma humana com outros humanos e em harmonia.

Assinale a alternativa correta:

- (A) Apenas as afirmativas II e IV estão corretas.
- (B) Apenas as afirmativas I e III estão corretas.
- (C) Apenas as afirmativas II e III estão corretas.
- (D) As afirmativas I, II, III e IV estão corretas.
- (E) Apenas as afirmativas I e IV estão corretas.

25- Leia as duas afirmativas abaixo:

Afirmativa I- Passamos mais tempo em nosso ambiente de trabalho do que em nosso lar, e ainda assim não nos damos conta de como é importante estar em um ambiente saudável e o quanto isso depende de cada um.

Afirmativa II- Servidores desvalorizados tendem a perder o foco, desmotivam-se facilmente, diminuem sua produtividade, o que acaba prejudicando, e muito, o bom andamento do serviço público.

Assinale a alternativa correta:

- (A) As afirmativas I e II são verdadeiras, e nos permitem refletir sobre qual o nosso papel e a nossa importância na qualidade do ambiente em que trabalhamos.
- (B) As afirmativas I e II são falsas, e nos mostram que atitude positiva e maturidade nem sempre caminham juntas.
- (C) A afirmativa I é verdadeira, e a afirmativa II é falsa, reforçando que somos todos diferentes em cada uma de nossas relações.
- (D) A afirmativa I é falsa, e a afirmativa II é verdadeira, sendo que ambas destacam nossa dificuldade em minimizar diferenças com os colegas de trabalho.
- (E) As duas afirmativas são verdadeiras, mas não guardam relação entre si.

26- Assinale o tipo de página utilizada no software EdiLIM, versão 5.1, para criação da página ilustrada na imagem abaixo:

O diagrama mostra uma página de jogo com 4 linhas de perguntas. Cada linha começa com um círculo contendo um número (1, 2, 3 ou 4) e é seguida por uma série de caixas vazias para a resposta. À direita, há uma caixa amarela com uma lista de opções:

| | | | | | | | | | |
|---|--|--|--|--|--|--|--|--|--|
| 1 | | | | | | | | | |
| 2 | | | | | | | | | |
| 3 | | | | | | | | | |
| 4 | | | | | | | | | |

- 1. Fundador da cidade
- 2. Principal rio
- 3. Prefeito
- 4. Ano de fundação

- (A) Palavra cruzada.
- (B) Perguntas.
- (C) Palavra secreta.
- (D) Pirâmide.
- (E) Completar.

27- Quais são os recursos do software Hot Potatoes, na versão 6.3, que permitem a “Criação de exercícios de preenchimento de lacunas” e a “Criação de unidades didáticas compostas por exercícios relacionados entre si”, respectivamente:

- (A) JCross e JCloze.
- (B) JCloze e JQuiz.
- (C) The Masher e JMatch.
- (D) The Masher e JCross.
- (E) JCloze e The Masher.

28- Classifique os componentes e periféricos, na lista abaixo, que podem ser conectados em um computador, como (1) Entrada, (2) Entrada e Saída e (3) Saída.

- () Fone de ouvido com microfone.
- () Teclado com touchpad.
- () Impressora multifuncional com scanner.
- () Scanner.
- () Monitor.

Assinale a alternativa que contém a sequência correta para as proposições acima:

- (A) 3 – 1 – 2 – 2 – 1.
- (B) 2 – 2 – 3 – 3 – 1.
- (C) 3 – 1 – 3 – 1 – 2.
- (D) 3 – 2 – 3 – 3 – 2.
- (E) 2 – 1 – 2 – 2 – 3.

29- Relacione as colunas abaixo, com suas respectivas funcionalidades:

Software/Aplicativo

- 1- Mozilla Firefox e Internet Explorer.
- 2- Google Drive e DropBox.
- 3- Microsoft Excel e Microsoft Word.
- 4- Adobe Reader e Foxit Reader.
- 5- VLC e Media Player Classic.

Classificação

- () Leitores de arquivos PDF.
- () Visualizadores de vídeo.
- () Navegadores para internet.
- () Editor de planilhas e editor de texto.
- () Armazenamento de arquivos em nuvem.

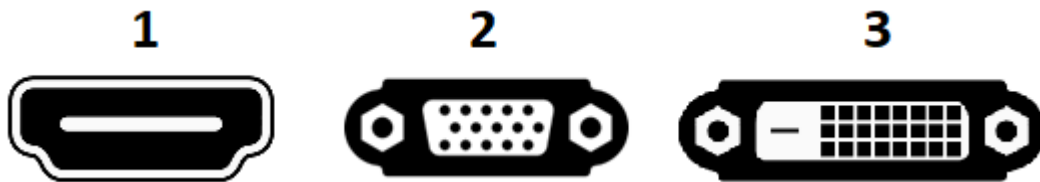
A alternativa que contém a ordem de numeração correta:

- (A) 3 – 4 – 2 – 5 – 1.
- (B) 4 – 5 – 2 – 3 – 1.
- (C) 4 – 5 – 1 – 3 – 2.
- (D) 1 – 5 – 2 – 4 – 3.
- (E) 3 – 4 – 1 – 5 – 2.

30- Assinale a alternativa que não apresenta tipos de páginas disponíveis, para criação no software EdiLIM, versão 5.1:

- (A) Memória, simetria e jogo da memória.
- (B) Classificar, completar e digitar.
- (C) Caça-palavras, raio x e painel.
- (D) Relógio, ligações e frases.
- (E) Palavra secreta, esquema e escolher.

31- Existem diversos tipos de conexões utilizadas para transferir a imagem de um computador para um projetor multimídia. Marque a alternativa que contém os tipos de conectores listados abaixo, na ordem que estão numerados:



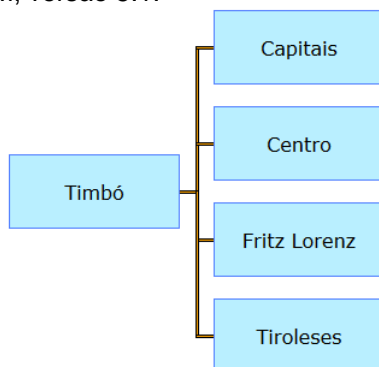
- (A) HDMI, VGA e DVI.
- (B) HDMI, DVI e VGA.
- (C) DVI, VGA e HDMI.
- (D) DVI, HDMI e VGA.
- (E) VGA, DVI e HDMI.

32- São exemplos de softwares, utilizados para prover acessibilidade para portadores de necessidades especiais, em computadores:

- (A) Dosvox, Window-Eyes e Mosaic.
- (B) Jaws, Window-Eyes e Mosaic.
- (C) Jaws, Dosvox e Reteena.
- (D) Dosvox, Window-Eyes e Reteena.
- (E) Jaws, Dosvox e Virtual Vision.

33- Marque a opção que contém o tipo de página que foi utilizada, para construir a atividade ilustrada na imagem abaixo, no software EdiLIM, versão 5.1:

- (A) Esquema.
- (B) Ligações.
- (C) Menu.
- (D) Índice.
- (E) Template.



34- Marque a opção que contém softwares utilizados para controlar o acesso de determinados conteúdos na internet, em um computador onde estiver sendo utilizado um navegador web, previamente configurado:

- (A) Microsoft ISA Server e bloqueador de pop-up.
- (B) Proxy e DNS.
- (C) Microsoft ISA Server e proxy.
- (D) Proxy e bloqueador de pop-up.
- (E) Firewall e DNS.

35- Para o tipo de exercício abaixo, criado no software Hot Potatoes, na versão 6.3, ilustrado na imagem abaixo, marque com V, as proposições verdadeiras, e com F, as falsas:

Animais da floresta

Exercício de combinação

| | | | | | |
|------------------------------|--------------|--|---------|------|--|
| Combine os itens das colunas | | | | | |
| Verificar respostas | | | | | |
| Canarinho | | | | Azul | |
| Arara Azul | | | | | |
| Camaleão | Várias cores | | | | |
| Papagaio | Verde | | Amarelo | | |
| Elefante | | | Cinza | | |

- () É possível estabelecer um limite de tempo para execução da atividade, em minutos e segundos.
- () Para criação desse exercício, foi utilizado o pacote de autoria "JMix".
- () Para criação desse exercício, foi utilizado o pacote de autoria "JMatch".
- () A frase "Animais da floresta" foi definida como título do exercício.
- () As combinações de "Camaleão" com "Várias Cores" e "Papagaio" com "Verde" não foram fixadas na criação do exercício.

Assinale a alternativa que contém a sequência correta para as proposições acima:

- (A) F – V – F – F – V.
- (B) V – F – V – V – F.
- (C) F – V – F – V – V.
- (D) F – F – V – V – V.
- (E) V – V – F – V – F.

36- O conceito que se tornou uma das apostas da educação no século 21, que consiste em usar elementos dos jogos com o objetivo de estimular pessoas para atingir determinados objetivos, usando em muitos casos conceitos de medalhas e níveis, é conhecido como:

- (A) Construtivista.
- (B) Freinet.
- (C) Montessoriana.
- (D) Gamificação.
- (E) Waldorf.

37- Sobre a atividade de “Caça-palavras” ilustrada na imagem abaixo, criada no software EdiLIM, versão 5.1, marque com V, as proposições verdadeiras, e com F, as falsas:

| | | | | | | | | | | | | | | | | |
|------------------|---|---|---|---|---|---|---|---|---|---|---|---|---|---|---|---|
| Nome da Cidade | u | l | f | i | a | o | e | g | b | x | b | w | v | e | d | m |
| Bairro da cidade | n | w | b | t | q | x | a | l | l | a | l | g | x | x | m | e |
| Cargo | s | n | o | i | q | r | o | e | w | j | t | o | o | g | p | c |
| Especialidade | v | b | r | m | y | n | c | h | q | c | r | d | b | y | d | b |
| | a | r | q | b | i | n | f | o | r | m | á | t | i | c | a | i |
| | x | i | p | ó | f | x | n | i | e | v | t | q | y | r | r | e |
| | r | p | d | x | u | e | w | v | g | c | w | q | p | g | m | l |
| | z | o | r | n | d | l | g | y | w | g | e | l | p | g | m | v |
| | o | e | b | o | i | w | h | u | p | s | s | e | j | u | w | v |
| | e | c | o | x | f | c | a | a | s | g | b | i | r | u | p | m |
| | v | i | t | e | z | e | e | m | h | n | g | n | l | s | z | h |
| | d | o | r | p | v | q | s | n | w | s | e | t | d | j | w | h |
| | c | e | z | w | q | u | l | s | t | s | o | z | z | p | l | t |
| | b | m | s | c | m | u | h | j | o | r | p | t | z | t | w | w |
| | s | i | c | a | j | x | c | f | y | r | o | t | o | h | e | v |
| | w | h | f | s | g | v | y | a | g | t | s | g | t | y | i | t |

- () Não é possível definir quais serão as letras que irão aparecer aleatoriamente no quadro das atividades.
- () É possível informar até 12 palavras que serão exibidas no quadro.
- () As palavras serão exibidas no quadro somente na horizontal e vertical.
- () Serão exibidas palavras no sentido diagonal.
- () As dicas exibidas no lado esquerdo do quadro servem para auxiliar na localização das palavras.

Assinale a alternativa que contém a sequência correta para as proposições acima:

- (A) F – F – F – V – F.
- (B) V – F – F – V – V.
- (C) V – V – V – V – F.
- (D) V – F – V – F – V.
- (E) F – V – F – F – F.

38- Sobre a página ilustrada na imagem abaixo, criada no software EdiLIM, versão 5.1, marque com V, as proposições verdadeiras, e com F, as falsas:


- () Para criação dessa atividade, foi utilizado o tipo de página “Quadros”.
- () Para criação dessa atividade, foi utilizado o tipo de página “Esquema”.
- () O objetivo dessa atividade é repetir, no quadro da direita, a sequência de desenhos existente no quadro da esquerda.
- () Essa atividade não permite o uso de sequências de quadros coloridos.
- () É possível definir desenhos de quadros fixos ou escolher a opção de geração de desenhos de quadros aleatórios.

Assinale a alternativa que contém a sequência correta para as proposições acima:

- (A) F – F – F – V – F.
- (B) V – V – V – V – F.
- (C) F – V – F – V – V.
- (D) V – F – V – F – V.
- (E) F – V – F – F – F.

39- Marque a opção que contém o tipo de pacote de autoria que foi utilizado para construir a atividade ilustrada na imagem abaixo, no software Hot Potatoes, na versão 6.3:

- (A) JCross
- (B) JMatch
- (C) JMix
- (D) JCloze
- (E) JRoad



[Verificar respostas](#)

40- Sobre os pacotes de autoria, disponíveis no software HotPotatoes, versão 6.3, relacione as colunas abaixo:

| <u>Pacote</u> | <u>Função</u> |
|---------------|--|
| 1- JCloze | () Criação de exercícios de preenchimento de lacunas. |
| 2- JCross | () Criação de questionário de escola múltipla ou de resposta curta. |
| 3- JMatch | () Criação de exercícios de palavras cruzadas. |
| 4- JMix | () Criação de exercícios de ordenação de frases. |
| 5- JQuiz | () Criação de exercícios de associação de paras. |

Assinale a alternativa que contém a ordem de numeração correta:

- (A) 3 – 4 – 2 – 5 – 1.
- (B) 4 – 5 – 2 – 3 – 1.
- (C) 1 – 5 – 2 – 4 – 3.
- (D) 4 – 5 – 1 – 3 – 2.
- (E) 3 – 4 – 1 – 5 – 2.

Rascunho



**Prefeitura
de Timbó**

**PREFEITURA MUNICIPAL DE TIMBÓ
CONCURSO PÚBLICO – EDITAL N. 002/2018
ADMINISTRAÇÃO DIRETA**

FOLHA INTERMEDIÁRIA DE RESPOSTAS

| Questões | RESPOSTAS | | | | |
|----------|-----------|---|---|---|---|
| 01 | A | B | C | D | E |
| 02 | A | B | C | D | E |
| 03 | A | B | C | D | E |
| 04 | A | B | C | D | E |
| 05 | A | B | C | D | E |
| 06 | A | B | C | D | E |
| 07 | A | B | C | D | E |
| 08 | A | B | C | D | E |
| 09 | A | B | C | D | E |
| 10 | A | B | C | D | E |
| 11 | A | B | C | D | E |
| 12 | A | B | C | D | E |
| 13 | A | B | C | D | E |
| 14 | A | B | C | D | E |
| 15 | A | B | C | D | E |
| 16 | A | B | C | D | E |
| 17 | A | B | C | D | E |
| 18 | A | B | C | D | E |
| 19 | A | B | C | D | E |
| 20 | A | B | C | D | E |

| Questões | RESPOSTAS | | | | |
|----------|-----------|---|---|---|---|
| 21 | A | B | C | D | E |
| 22 | A | B | C | D | E |
| 23 | A | B | C | D | E |
| 24 | A | B | C | D | E |
| 25 | A | B | C | D | E |
| 26 | A | B | C | D | E |
| 27 | A | B | C | D | E |
| 28 | A | B | C | D | E |
| 29 | A | B | C | D | E |
| 30 | A | B | C | D | E |
| 31 | A | B | C | D | E |
| 32 | A | B | C | D | E |
| 33 | A | B | C | D | E |
| 34 | A | B | C | D | E |
| 35 | A | B | C | D | E |
| 36 | A | B | C | D | E |
| 37 | A | B | C | D | E |
| 38 | A | B | C | D | E |
| 39 | A | B | C | D | E |
| 40 | A | B | C | D | E |

INFORMAÇÕES

O inteiro teor da prova e o gabarito da prova objetiva serão divulgados até às 18h do dia 25 de fevereiro de 2019, no endereço eletrônico www.furb.br/concursoexterno, link Prefeitura Municipal de Timbó – Concurso Público - Edital N. 001/2018.

Timbó, 24 de fevereiro de 2019.