

PREFEITURA MUNICIPAL DE VILA VALÉRIO(ES)

PROCESSO SELETIVO SIMPLIFICADO 001/2019

EDITAL nº 001/2019

TÉCNICO DE ENFERMAGEM

ORGANIZADORA:



"A persistência é o caminho do êxito".

Charles Chaplin.

CADERNO DE PROVAS

Caro(a) Candidato(a): **Antes de iniciar a prova leia atentamente as instruções a seguir:**

1. Este caderno contém 20 (vinte) questões objetivas com 04 (quatro) opções (A, B, C, D). A prova terá duração máxima de 02 (duas) horas. A prova terá seu horário de início em sala, a contar após a distribuição dos cadernos de prova e autorização do aplicador(a).
2. Confira em seu caderno de provas a sequência de questões. Você tem até 10 (dez) minutos do início das provas para solicitar a troca do caderno de provas que apresentar algum problema de impressão ou qualquer outro que inviabilize a realização da mesma, pois não serão aceitas reclamações posteriores nesse sentido.
3. A interpretação das questões, bem como das instruções, faz parte da prova. Portanto, ao aplicador(a) de sala e fiscais não há autorização para fornecer esclarecimentos sobre o conteúdo das provas, sendo esta atribuição de única e exclusiva responsabilidade do(a) candidato(a).
4. Você receberá do aplicador o cartão de respostas 30 (trinta) minutos após o início da prova, o cartão de respostas deverá obrigatoriamente ser assinado pelo(a) candidato(a) no local em que há a indicação: “**ASSINATURA**”, utilizando sempre caneta esferográfica de tinta preta ou azul.
5. Caso realmente precise, utilize como rascunho os espaços em branco nas folhas do caderno de prova. Sugerimos que você assinale, inicialmente, no próprio caderno de provas, todas as respostas que julgar correta. Depois, passe-as para o cartão de respostas.
6. Questões com mais de uma alternativa assinalada, rasurada ou em branco serão **ANULADAS**. Portanto, ao preencher o cartão de respostas faça-o cuidadosamente. Evite erros, pois em hipótese alguma haverá substituição do cartão de respostas por erro do(a) candidato(a).
7. Ao terminar a prova ou findo o horário limite para sua realização, o candidato deverá **OBRIGATORIAMENTE** entregar seu cartão de respostas “**ASSINADO**”, ao aplicador(a) de sala. O(a) candidato(a) que não devolver seu cartão de respostas será automaticamente **eliminado(a)** e não terá classificação alguma no processo seletivo.
8. **Atenção!** Preencha o cartão-resposta na mesma sequência numérica das questões do caderno de provas.
9. Somente será permitido levar o caderno de questões (prova), depois de decorrido o período de **90 (noventa) minutos do início das provas.**
10. Não serão permitidas consultas a quaisquer materiais, uso de telefone celular ou outros aparelhos eletrônicos, assim como os demais procedimentos constantes no subitem 9.5 e no subitem 9.7 do Edital 001/2019.
11. Após o término da prova, o(a) candidato(a) deverá deixar imediatamente o recinto da mesma, sendo **terminantemente proibido** fazer contato com os(as) candidatos(as) que ainda não terminaram a prova sob pena de ser excluído do processo seletivo.
12. O desrespeito às normas que regem o presente processo seletivo, bem como, a desobediência às exigências registradas no edital, além de sanções legais cabíveis implica na desclassificação do candidato.
13. Aguarde a ordem do aplicador para iniciar a prova.
14. Os três últimos candidatos ao terminarem as provas deverão retirar-se da sala simultaneamente, após testemunharem o fechamento (lacre) do envelope de provas, assinando a Ata Relatório.
15. O candidato, após a divulgação dos gabaritos oficiais preliminares da Prova Objetiva, que será feita às **20 horas** do dia **24/02/2019**, no site www.qualimp.com.br, poderá peticionar **RECURSO** à banca examinadora, quando julgar que ocorreu erro na formulação das questões e divulgação do gabarito preliminar, nos dias **25/02/2019 e 26/02/2019.**

NÃO ESQUEÇA!

Ao sair, entregue o cartão de respostas devidamente assinado.

BOA PROVA!!!

ATENÇÃO!!!

- O CARTÃO DE RESPOSTAS ABAIXO É PARA SER UTILIZADO SOMENTE COMO RASCUNHO.
- AO RECEBER O CARTÃO DE RESPOSTAS DEFINITIVO CONFIRA OS DADOS DE IDENTIFICAÇÃO (NOME, CARGO, NÚMERO DE INSCRIÇÃO) E EM SEGUIDA ASSINE NO LOCAL INDICADO.

CARTÃO RESPOSTA




PREFEITURA MUNICIPAL DE VILA VALÉRIO - ES
Processo Seletivo Simplificado 001/2019

Nome:
Cargo:
Sala:

Nº de inscrição:

Local:
Data: 24/02/2019 Turno:

* Marcar apenas uma opção para cada questão, evitando ultrapassar o círculo;
* O círculo correspondente à questão escolhida deve ser totalmente preenchido;
* Marcar apenas a quantidade de questões existentes na sua prova;
* Utilize somente caneta azul ou preta, não rasurar ou sujar o cartão;
É responsabilidade do candidato a conferência dos dados de seu cartão  (A) (B) (C) (D)

TIPO DE PROVA
PADRÃO

01	(A)	(B)	(C)	(D)	21	(A)	(B)	(C)	(D)
02	(A)	(B)	(C)	(D)	22	(A)	(B)	(C)	(D)
03	(A)	(B)	(C)	(D)	23	(A)	(B)	(C)	(D)
04	(A)	(B)	(C)	(D)	24	(A)	(B)	(C)	(D)
05	(A)	(B)	(C)	(D)	25	(A)	(B)	(C)	(D)
06	(A)	(B)	(C)	(D)	26	(A)	(B)	(C)	(D)
07	(A)	(B)	(C)	(D)	27	(A)	(B)	(C)	(D)
08	(A)	(B)	(C)	(D)	28	(A)	(B)	(C)	(D)
09	(A)	(B)	(C)	(D)	29	(A)	(B)	(C)	(D)
10	(A)	(B)	(C)	(D)	30	(A)	(B)	(C)	(D)
11	(A)	(B)	(C)	(D)	31	(A)	(B)	(C)	(D)
12	(A)	(B)	(C)	(D)	32	(A)	(B)	(C)	(D)
13	(A)	(B)	(C)	(D)	33	(A)	(B)	(C)	(D)
14	(A)	(B)	(C)	(D)	34	(A)	(B)	(C)	(D)
15	(A)	(B)	(C)	(D)	35	(A)	(B)	(C)	(D)
16	(A)	(B)	(C)	(D)	36	(A)	(B)	(C)	(D)
17	(A)	(B)	(C)	(D)	37	(A)	(B)	(C)	(D)
18	(A)	(B)	(C)	(D)	38	(A)	(B)	(C)	(D)
19	(A)	(B)	(C)	(D)	39	(A)	(B)	(C)	(D)
20	(A)	(B)	(C)	(D)	40	(A)	(B)	(C)	(D)

Nº DE INSCRIÇÃO

Assinatura do Candidato

OBS.: O candidato deverá OBRIGATORIAMENTE, entregar seu cartão de respostas preenchido e ASSINADO, sob pena de ter seu cartão de respostas ANULADO. (item 9.11 do edital 001/2019)

QUESTÕES DE LINGUA PORTUGUESA

Leia o texto para responder as questões de 1 a 3:

Direito e avesso

Conheci uma moça que escondia como um crime certa feia cicatriz de queimadura que tinha no corpo. De pequena a mãe lhe ensinara a ocultar aquela marca de fogo e nem sei que impulso de desabafo levou-a a me falar nela; e creio que logo se arrependeu, pois me obrigou a jurar que jamais repetiria a alguém o seu segredo. Se agora o conto é porque a moça é morta e a sua cicatriz já estará em nada, levada com o resto pelas águas de março, que levam tudo.

Lembrou-me isso ao escutar outra moça, também vaidosa e bonita, que discorria perante várias pessoas a respeito de uma deformação congênita que ela, moça, tem no coração. Falava daquilo com mal disfarçado orgulho, como se ter coração defeituoso fosse uma distinção aristocrática que se ganha de nascença e não está ao alcance de qualquer um.

E aí saí pensando em como as pessoas são estranhas. Qualquer deformação, por mais mínima, sendo em parte visível do nosso corpo, a gente a combate, a disfarça, oculta como um vício feio. Este senhor, por exemplo, que nos explica, abundantemente, ser vítima de divertículos (excrecências em forma de apêndice que apareceram no duodeno), teria o mesmo gosto em gabar-se da anomalia se em lugar dos divertículos tivesse lobinhos no nariz? Nunca vi ninguém expor com orgulho a sua mão de seis dedos, a sua orelha malformada; mas a má-formação interna é marca de originalidade, que se descreve aos outros com evidente orgulho.

Doença interna só se esconde por medo da morte – isto é, por medo de que, a notícia se espalhando, chegue a morte mais depressa. Não sendo por isso, quem tem um sopro no coração se gaba dele como de falar japonês.

Parece que o principal entendimento é o estético. Pois se todos gostam de se distinguir da multidão, nem que seja por uma anomalia, fazem ao mesmo tempo questão de que essa anomalia não seja visivelmente deformante. Ter o coração do lado direito é uma glória, mas um braço menor que o outro é uma tragédia. Alguém com os dois olhos límpidos pode gostar de *épater* uma roda de conversa, explicando que não enxerga coisíssima nenhuma por um daqueles límpidos olhos, e permitirá mesmo que os circunstantes curiosos lhe examinem o olho cego e constatem de perto que realmente não se nota diferença nenhuma com o olho são. Mas tivesse aquela pessoa o olho que não enxerga coalhado pela gota-serena, jamais se referiria ao defeito em público; e, caso o fizesse, por excentricidade de temperamento sarcástico ou masoquista, os circunstantes bem-educados se sentiriam na obrigação de desviar e mudar de assunto.

Mulheres discutem com prazer seus casos ginecológicos; uma diz abertamente que já não tem um ovário, outra, que o médico lhe diagnosticou um útero infantil. Mas, se ela tivesse um pé infantil, ou seios senis, será que os declararia com a mesma complacência?

Antigamente havia as doenças secretas, que só se nomeavam em segredo ou sob pseudônimo. De um tísico, por exemplo, se dizia que estava “fraco do peito”; e talvez tal reserva nascesse do medo do contágio, que todo mundo tinha. Mas dos malucos também se dizia que “estavam nervosos” e do câncer ainda hoje se faz mistério – e nem câncer e nem doidice pegam.

Não somos todos mesmo muito estranhos? Gostamos de ser diferentes – contanto que a diferença não se veja. O bastante para chamar atenção, mas não tanto que pareça feio.

Rachel e Queiroz

Vocabulário: *Épater*: palavra francesa que significa “impressionar”, “causar espanto”.

EM BRANCO

01. Assinale a afirmação INCORRETA:

- (A) O texto mostra a forma como as pessoas se comportam em relação ao que as diferencia das demais.
- (B) O título, direito e avesso, quer mostrar que “direito” é a pessoa por fora e “avesso” é a pessoa por dentro.
- (C) A autora sugere, no início do texto, que nem tudo tem o mesmo destino na vida, a essência é mais importante.
- (D) Segundo o texto, o motivo que leva as pessoas a esconder uma doença interna é o medo da morte, pois, outras pessoas sabendo, o doente já seria olhado como um morto.

02. Em todas as alternativas o significado das palavras destacadas está adequado ao texto, EXCETO em:

- (A) “...a respeito de uma deformação **congênita**...” (= INATA)
- (B) “...quem tem um sopro no coração se **gaba** dele...” (= VANGLORIA)
- (C) “...vaidosa e bonita, que **discorria** perante várias pessoas...” (= DISCURSAVA)
- (D) “Alguém com os dois olhos **límpidos** pode gostar...” (= ESPESSOS)

03. Em uma das frases abaixo o “que” não tem a função de pronome relativo. Assinale-a.

- (A) “...ao escutar outra moça, também vaidosa e bonita, **que** discorria perante várias pessoas...”
- (B) “...e creio **que** logo se arrependeu, pois me obrigou a jurar...”
- (C) “Antigamente havia as doenças secretas, **que** só se nomeavam em segredo...”
- (D) “Conheci uma moça **que** escondia como um crime certa feia cicatriz...”

04. Assinale a alternativa que preenche, correta e respectivamente, as lacunas do fragmento do texto de Murilo Mendes:

“Hoje ___ tarde um *gentleman* de polainas, gravata-borboleta, ___ lapela uma grande rosa vermelha, convidou-nos ___ visitar o jardim do seu bairro, fechado ___ chave, do qual alguns dos moradores são “assinantes”.”

- (A) a, a, à, a.
- (B) à, a, a, à.
- (C) à, à, a, a.
- (D) à, à, à, à.

05. Marque a alternativa que preenche corretamente o período abaixo:

Já _____ anos, _____ nesta cidade poucos estrangeiros. Atualmente _____ muitos imigrantes.

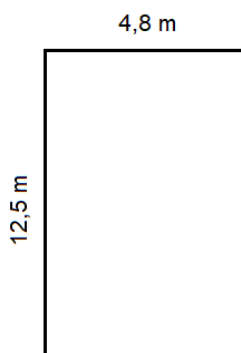
- (A) Faz – haviam – existe.
- (B) Faz – havia – existem.
- (C) Fazem – havia – existem.
- (D) Fazem – haviam – existem.

QUESTÕES DE MATEMÁTICA

06. No curso de estatística estão matriculados 84 alunos. Sabe-se que $\frac{1}{4}$ dos alunos foram reprovados por falta e 03 alunos por nota baixa. Dentre os aprovados 35% obtiveram nota máxima. Sendo assim, quantos alunos foram aprovados sem obterem a nota máxima?

- (A) 21. (B) 24. (C) 36. (D) 39.

07. Uma sala de aula está sendo construída conforme imagem a seguir. 75% da área total serão destinadas para disposição de mesas e cadeiras para os alunos. Sabendo que o conjunto composto por mesa e cadeira ocupa $2,5 \text{ m}^2$, qual será a capacidade máxima de conjuntos que poderá ser colocada na sala?



- (A) 15. (B) 18. (C) 19. (D) 20.

08. Assinale a alternativa que corresponda ao resultado: $(4^3\sqrt{5})^2$

- (A) $4^3\sqrt{25}$
 (B) $16\sqrt{5}$
 (C) $4^6\sqrt{5}$
 (D) $16^3\sqrt{25}$

09. Se preparando para as olimpíadas de 2020, um maratonista elaborou um programa de treinamento da seguinte forma: no 1° dia ele correrá 10 km, no 2° dia 12 km, no 3° dia 14 km e assim sucessivamente. Levando em consideração as informações apresentadas, a distância total percorrida pelo maratonista nos 15 primeiros dias de treinamento foi de?

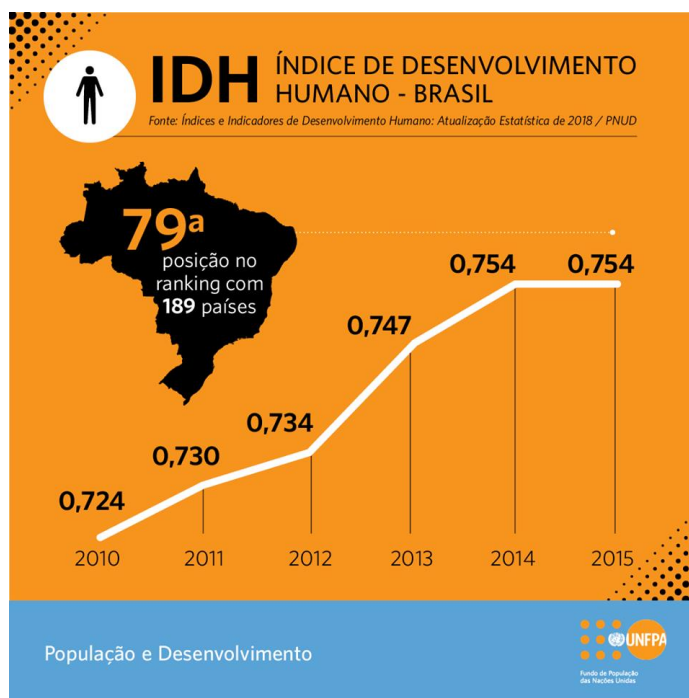
- (A) 480 km. (B) 720 km. (C) 360 Km. (D) 38 km.

10. Na praça de uma cidade há um relógio que mostra a contagem regressiva para a chegada do ano novo. Observando o relógio, foi constatado que faltavam 1.900.800 segundos. Baseado na informação do relógio, quantos dias faltam para a chegada do ano novo?

- (A) 22 dias. (B) 20 dias. (C) 24 dias. (D) 02 dias.

QUESTÕES DE CONHECIMENTOS GERAIS

11. Leia e observe atentamente a imagem a seguir:



Fonte: <https://www.facebook.com/unfpabrazil>

Considerando o cenário população e desenvolvimento, no período de 2010 a 2015, no Brasil, em especial acerca do IDH - índice de desenvolvimento humano é inadequado afirmar que:

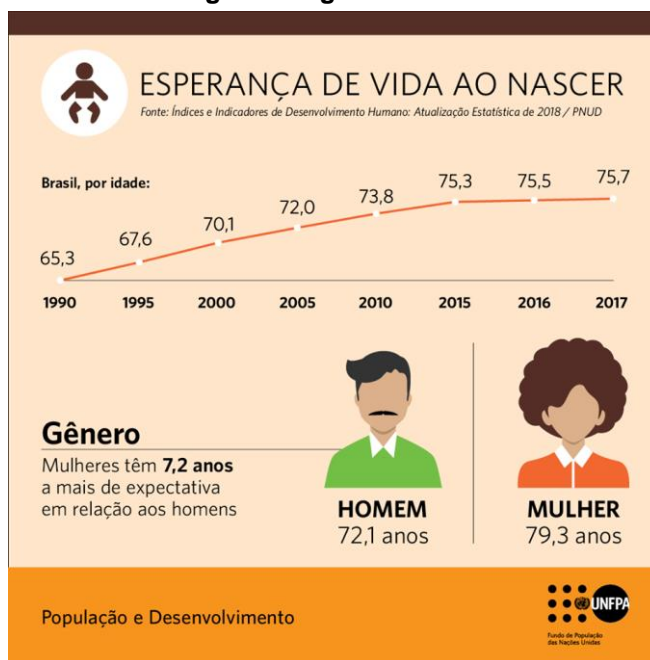
- (A) O Índice de Desenvolvimento Humano utiliza indicadores de renda, saúde e educação para mostrar o nível de desenvolvimento dos países.
- (B) O Índice de Desenvolvimento Humano varia de 0 a 1 e, quanto mais próximo do 0, mais desenvolvido é o país.
- (C) Considerando as últimas análises, observou-se que no período de 2010 a 2015, no Brasil, houve um aumento do IDH, apontado para o ano de 2015 de 0,754.
- (D) O Brasil ocupa atualmente a posição de número 79 no ranking com 189 países e tem o IDH de 0,754 (mesmo índice que havia sido registrado em 2014).

12. Sobre o município de Vila Valério (ES) é correto afirmar que:

- (A) Vila Valério recebeu esse nome em homenagem ao advogado polonês Dr. Józef Brandt que muito se empenhou em combater a malária e a leishmaniose.
- (B) A colonização de Vila Valério, teve início em 1939 pelo engenheiro polonês Vincent Willem Van Gogh, que chefiava a companhia italiana para a demarcação das terras da atual Vila Valério.
- (C) A vegetação predominante são as áreas cultivadas com o café conillon, coco anão, pequenas roças de cereais, áreas de pastagens e reservas pequenas de Mata Atlântica.
- (D) Fundação do município foi em 15 de março de 1986 e o atual prefeito é Robson Partelli e o gentílico é vila valerense.

EM BRANCO

13. Leia e observe atentamente a imagem a seguir:



Fonte: <https://www.facebook.com/unfpabrazil>

Considerando o cenário população e desenvolvimento, no período de 1990 a 2018, no Brasil, em especial acerca de a esperança de vida ao nascer é adequado afirmar que:

- (A) A esperança de vida de brasileiros e brasileiras seguiu crescendo nos últimos anos e passou de 65,3 anos em 1990 para 72,1 anos em 2017.
- (B) No recorte por gênero, os homens vivem mais do que as mulheres, com uma esperança de vida ao nascer de 79,3 anos contra 72,1 anos das mulheres.
- (C) A esperança de vida de brasileiros e brasileiras seguiu diminuindo nos últimos anos e passou de 72,1 anos em 1990 para 65,3 anos em 2017.
- (D) No recorte por gênero, as mulheres vivem mais do que os homens, com uma esperança de vida ao nascer de 79,3 anos contra 72,1 anos dos homens.

14. Sobre os pontos turísticos do Espírito Santo assinale “V” para as verdadeiras e “F” para as falsas, em seguida assinale a sequência correta:

- O Parque Nacional do Caparaó é um dos destinos mais procurados pelos adeptos do montanhismo no Brasil, localizado na divisa do Espírito Santo com o Rio de Janeiro, abriga o terceiro ponto mais alto do País, o Pico da Neblina, com 2.892 metros de altitude.
- O Convento da Penha é uma das arquiteturas mais importantes do Espírito Santo, que foi iniciada em 1558 com a construção de uma ermida em homenagem a Nossa Senhora da Penha, com uma imagem que foi encomendada de Lisboa. Ela está localizada no alto de um penhasco, e a pequena ermida aos poucos se transformou em uma construção grande, que hoje é o Convento.
- O Parque Estadual da Pedra Azul, com suas trilhas até a formação rochosa coberta de líquens que mudam de cor de acordo com a incidência do sol é uma bela atração capixaba. Uma das caminhadas termina nos poços para banho formados no pico da pedra pela ação do tempo e das chuvas.

- (A) F, V, V.
- (B) F, F, V.
- (C) V, V, V.
- (D) V, F, F.

15. Quanto às limitações geográficas - fronteiras políticas e administrativas, é adequado afirmar que o município de Vila Valério (ES) se limita:

- (A) Ao Norte, com Rio Bananal.
- (B) Ao Nordeste, com São Domingos do Norte.
- (C) Ao Leste com Sooretama.
- (D) Ao Sul, com São Mateus.

QUESTÕES DE CONHECIMENTOS ESPECÍFICOS

16. A bandagem é uma técnica designada para prevenir e tratar lesões _____ proporcionando alívio da dor e melhora no desempenho funcional.

Completa corretamente a lacuna do texto a alternativa:

- (A) Vasculares.
- (B) Musculoesqueléticas.
- (C) Respiratórias.
- (D) Neurológicas.

17. As cirurgias eletivas, primariamente fechadas, sem a presença de drenos, não traumáticas, realizadas em tecidos estéreis ou passíveis de descontaminação, na ausência de processos infecciosos e/ou inflamatórios locais são classificadas como:

- (A) Infectadas.
- (B) Contaminadas.
- (C) Potencialmente contaminadas.
- (D) Limpas.

18. São pontos de atenção a serem observados com relação à Lavagem das Mãos, EXCETO:

- (A) Na ausência de pia com água e sabão, utilize solução à base de iodo.
- (B) Encoraje os pacientes e suas famílias a solicitar que os profissionais higienizem as mãos.
- (C) Estimule os familiares e visitantes a higienizar suas mãos, antes e após o contato com o paciente.
- (D) O uso de luvas não substitui a necessidade de higienização das mãos.

19. Durante a vida, vários tecidos normalmente apresentam períodos de crescimento rápido ou proliferativo que deve ser diferenciado da atividade de crescimento maligno. O aumento do número de células de um tecido, mais frequentemente associada a períodos de crescimento corporal rápido é denominado:

- (A) Metaplasia.
- (B) Displasia.
- (C) Hiperplasia.
- (D) Anaplasia.

EM BRANCO

20. Sobre os locais de escolha para venopunção para coleta de sangue para exames laboratoriais, analise as afirmativas e assinale a que traz informações corretas:

- I. A escolha do local de punção representa uma parte vital do diagnóstico. Existem diversos locais que podem ser escolhidos para a venopunção. O local de preferência para as venopunções é a fossa antecubital, na área posterior do braço em frente e abaixo do cotovelo, onde está localizado um grande número de veias, relativamente próximas à superfície da pele.
- II. As veias da localização antecubital variam de pessoa para pessoa, entretanto, há dois tipos comuns de regimes de distribuição venosa: um com formato de H e outro se assemelhando a um M. O padrão H foi assim denominado devido às veias que o compõem (cefálica, cubital mediana e basílica) distribuírem-se como se fosse um H, ele representa cerca de 70% dos casos. No padrão M, a distribuição das veias mais proeminentes (cefálica, cefálica mediana, basílica mediana e basílica) assemelha-se à letra M.
- (A) Apenas a afirmativa I está correta.
(B) Apenas a afirmativa II está correta.
(C) As afirmativas I e II estão corretas.
(D) As afirmativas I e II estão incorretas.

EM BRANCO

EM BRANCO