

# PREFEITURA MUNICIPAL DE AREAL/RJ

CONCURSO PÚBLICO 002/2019

EDITAL nº 001/2019

## GUARDA AMBIENTAL

ORGANIZADORA:



*"A persistência é o caminho do êxito".*

*Charles Chaplin.*

EM BRANCO

# CADERNO DE PROVAS

Caro(a) Candidato(a): **Antes de iniciar a prova leia atentamente as instruções a seguir:**

1. Este caderno contém 40 (quarenta) questões objetivas com 04 (quatro) opções (A, B, C, D). A prova terá duração máxima de 03(três) horas. A prova terá seu horário de início em sala, a contar após a distribuição dos cadernos de prova e autorização do aplicador(a).
2. Confira em seu caderno de provas a sequência de questões. Você tem até 10 (dez) minutos do início das provas para solicitar a troca do caderno de provas que apresentar algum problema de impressão ou qualquer outro que inviabilize a realização da mesma, pois não serão aceitas reclamações posteriores nesse sentido.
3. A interpretação das questões, bem como das instruções, faz parte da prova. Portanto, ao aplicador(a) de sala e fiscais não há autorização para fornecer esclarecimentos sobre o conteúdo das provas, sendo esta atribuição de única e exclusiva responsabilidade do(a) candidato(a).
4. Você receberá do aplicador o cartão de respostas 30 (trinta) minutos após o início da prova, o cartão de respostas deverá obrigatoriamente ser assinado pelo(a) candidato(a) no local em que há a indicação: “**ASSINATURA**”, utilizando sempre caneta esferográfica de tinta preta ou azul.
5. Caso realmente precise, utilize como rascunho os espaços em branco nas folhas do caderno de prova. Sugerimos que você assinale, inicialmente, no próprio caderno de provas, todas as respostas que julgar correta. Depois, passe-as para o cartão de respostas.
6. Questões com mais de uma alternativa assinalada, rasurada ou em branco serão **ANULADAS**. Portanto, ao preencher o cartão de respostas faça-o cuidadosamente. Evite erros, pois em hipótese alguma haverá substituição do cartão de respostas por erro do(a) candidato(a).
7. Ao terminar a prova ou findo o horário limite para sua realização, o candidato deverá **OBRIGATORIAMENTE** entregar seu cartão de respostas “**ASSINADO**”, ao aplicador(a) de sala. O(a) candidato(a) que não devolver seu cartão de respostas será automaticamente **eliminado(a)** e não terá classificação alguma no concurso público.
8. **Atenção!** Preencha o cartão-resposta na mesma sequência numérica das questões do caderno de provas.
9. Somente será permitido levar o caderno de questões (prova), depois de decorrido o período de **120 (cento e vinte) minutos do início das provas.**
10. Não serão permitidas consultas a quaisquer materiais, uso de telefone celular ou outros aparelhos eletrônicos, assim como os demais procedimentos constantes no subitem 9.6 e no subitem 9.8 do Edital 001/2019.
11. Após o término da prova, o(a) candidato(a) deverá deixar imediatamente o recinto da mesma, sendo **terminantemente proibido** fazer contato com os(as) candidatos(as) que ainda não terminaram a prova sob pena de ser excluído do Concurso Público.
12. O desrespeito às normas que regem o presente concurso, bem como, a desobediência às exigências registradas no edital, além de sanções legais cabíveis implica na desclassificação do candidato.
13. Aguarde a ordem do aplicador para iniciar a prova.
14. Os dois últimos candidatos ao terminarem as provas deverão retirar-se da sala simultaneamente, após testemunharem o fechamento (lacre) do envelope de provas, assinando a Ata Relatório.
15. O candidato, após a divulgação dos gabaritos oficiais preliminares da Prova Objetiva, que será feita às **20 horas** do dia **09/02/2020**, no site [www.gualimp.com.br](http://www.gualimp.com.br), poderá peticionar **RECURSO** à banca examinadora, quando julgar que ocorreu erro na formulação das questões e divulgação do gabarito preliminar, nos dias **10/02/2020 e 11/02/2020.**

**NÃO ESQUEÇA!**  
**Ao sair, entregue o cartão de respostas devidamente assinado.**  
**BOA PROVA!!!**

# ATENÇÃO!!!

- O CARTÃO DE RESPOSTAS ABAIXO É PARA SER UTILIZADO SOMENTE COMO RASCUNHO.
- AO RECEBER O CARTÃO DE RESPOSTAS DEFINITIVO CONFIRA OS DADOS DE IDENTIFICAÇÃO (NOME, CARGO, NÚMERO DE INSCRIÇÃO) E EM SEGUIDA ASSINE NO LOCAL INDICADO.

## CARTÃO RESPOSTA



<b>PREFEITURA MUNICIPAL DE AREAL - RJ</b>					A M P L I A B O				
<b>CONCURSO PUBLICO 002/2019</b>									
Nome:		Local:							
Cargo:		Data:							
Sala:	Nº de inscrição:		Turno:						
<p>* Marcar apenas uma opção para cada questão, evitando-se ultrapassar o círculo;                  * O círculo correspondente à questão escolhida deve ser totalmente preenchido, evitando-se ultrapassar o círculo;                  * Marcar apenas a quantidade de questões existentes na sua prova;                  * Utilize somente caneta esferográfica azul ou preta, não rasurar ou sujar o cartão;                  É NECESSIDADE DO CANDIDATO A CONFERÊNCIA DOS DADOS DE SEU CARTÃO DE RESPOSTA</p>					<b>TIPO DE PROVA</b> PROVA PADRÃO				
01	(A)	(B)	(C)	(D)	21	(A)	(B)	(C)	(D)
02	(A)	(B)	(C)	(D)	22	(A)	(B)	(C)	(D)
03	(A)	(B)	(C)	(D)	23	(A)	(B)	(C)	(D)
04	(A)	(B)	(C)	(D)	24	(A)	(B)	(C)	(D)
05	(A)	(B)	(C)	(D)	25	(A)	(B)	(C)	(D)
06	(A)	(B)	(C)	(D)	26	(A)	(B)	(C)	(D)
07	(A)	(B)	(C)	(D)	27	(A)	(B)	(C)	(D)
08	(A)	(B)	(C)	(D)	28	(A)	(B)	(C)	(D)
09	(A)	(B)	(C)	(D)	29	(A)	(B)	(C)	(D)
10	(A)	(B)	(C)	(D)	30	(A)	(B)	(C)	(D)
11	(A)	(B)	(C)	(D)	31	(A)	(B)	(C)	(D)
12	(A)	(B)	(C)	(D)	32	(A)	(B)	(C)	(D)
13	(A)	(B)	(C)	(D)	33	(A)	(B)	(C)	(D)
14	(A)	(B)	(C)	(D)	34	(A)	(B)	(C)	(D)
15	(A)	(B)	(C)	(D)	35	(A)	(B)	(C)	(D)
16	(A)	(B)	(C)	(D)	36	(A)	(B)	(C)	(D)
17	(A)	(B)	(C)	(D)	37	(A)	(B)	(C)	(D)
18	(A)	(B)	(C)	(D)	38	(A)	(B)	(C)	(D)
19	(A)	(B)	(C)	(D)	39	(A)	(B)	(C)	(D)
20	(A)	(B)	(C)	(D)	40	(A)	(B)	(C)	(D)
_____ Assinatura do Candidato					Nº DE INSCRIÇÃO				

**OBS.: O candidato deverá OBRIGATORIAMENTE, entregar seu cartão de repostas definitivo preenchido e ASSINADO, sob pena de ter seu cartão de respostas ANULADO. (item 9.14 do edital 001/2019)**

## QUESTÕES DE LINGUA PORTUGUESA

Leia com atenção o texto a seguir para responder as questões 01 e 02.

### Viver em sociedade

Dalmo de Abreu Dallari

A sociedade humana é um conjunto de pessoas ligadas pela necessidade de se ajudarem umas às outras, \_\_\_\_\_ que possam garantir a continuidade da vida e satisfazer seus interesses e desejos.

Sem vida em sociedade, as pessoas não conseguiriam sobreviver, pois o ser humano, durante muito tempo, necessita de outros para conseguir alimentação e abrigo. E no mundo moderno, com a grande maioria das pessoas morando na cidade, com hábitos que tornam necessários muitos bens produzidos pela indústria, não \_\_\_\_\_ quem não necessite dos outros muitas vezes por dia.

Mas as necessidades dos seres humanos não são apenas de ordem material, como os alimentos, a roupa, a moradia, os meios de transporte e os cuidados de saúde. Elas são também de ordem espiritual e psicológica. Toda pessoa humana necessita de afeto, precisa amar e sentir-se amada, quer sempre que alguém lhe dê atenção e que todos a respeitem. Além disso, todo ser humano tem suas crenças, tem sua fé em alguma coisa, que é a base de suas esperanças.

Os seres humanos não vivem juntos, não vivem em sociedade, apenas \_\_\_\_\_ escolhem esse modo de vida, mas \_\_\_\_\_ a vida em sociedade é uma necessidade da natureza humana. Assim, por exemplo, se dependesse apenas da vontade, seria possível uma pessoa muito rica isolar-se em algum lugar, onde tivesse armazenado grande quantidade de alimentos. Mas essa pessoa estaria, em pouco tempo, sentindo falta de companhia, sofrendo a tristeza da solidão, precisando de alguém com quem falar e trocar ideias, necessitada de dar e receber afeto. E muito provavelmente ficaria louca se continuasse sozinha por muito tempo.

Mas, justamente \_\_\_\_\_ vivendo em sociedade é que a pessoa humana pode satisfazer suas necessidades, é preciso que a sociedade seja organizada de tal modo que sirva, realmente, para esse fim. E não basta que a vida social permita apenas a satisfação de algumas necessidades da pessoa humana ou de todas as necessidades de apenas algumas pessoas. A sociedade organizada com justiça é aquela em que se procura fazer com que todas as pessoas possam satisfazer todas as suas necessidades, é aquela em que todos, desde o momento em que nascem, têm as mesmas oportunidades, aquela em que os benefícios e encargos são repartidos igualmente entre todos.

Para que essa repartição se faça com justiça, é preciso que todos procurem conhecer seus direitos e exijam que eles sejam respeitados, como também devem conhecer e cumprir seus deveres e suas responsabilidades sociais.

### 01. Analise as seguintes afirmações:

- I - A acentuação gráfica das palavras saúde e indústria seguem a mesma regra.
- II - A palavra destacada em “...sofrendo a tristeza da solidão...” classifica-se como substantivo.
- III - De acordo com a posição da sílaba tônica, as palavras transportes, crença e justiça classificam-se como paroxítonas.
- IV - No trecho “...aquela em que se procura fazer” o pronome oblíquo átono encontra-se proclítico ao verbo.
- V - Quanto ao gênero, o substantivo “pessoa” classifica-se como comum de dois gêneros.

Estão CORRETAS, apenas:

- (A) I e IV.
- (B) I e V.
- (C) II, III e IV.
- (D) II, III e V.

## 02. Assinale a afirmação INCORRETA.

- (A) A tese defendida pelo autor é que não haveria sobrevivência sem vida em sociedade.
- (B) As lacunas serão correta e respectivamente preenchidas por: **a fim de, há, porque, porque e porque.**
- (C) O autor mostra que os seres humanos vivem em sociedade porque necessitam apenas de apoio espiritual.
- (D) Segundo o texto, não seria possível a sobrevivência se não existisse sociedade, pois os seres humanos dependem dos outros para sobreviver.

## 03. A concordância verbal está INCORRETA na frase da alternativa:

- (A) A queda nas vendas e as dívidas complicaram as finanças da empresa.
- (B) Algum de nós contará a verdade a ele?
- (C) Mais de dez automóveis foram levados pela enchente.
- (D) Vossa Excelência sempre sereis lembrado por sua dignidade política.

## 04. A oração destacada em: “Cumprimentei-o ao lhe entregar o prêmio” classifica-se como:

- (A) Coordenada sindética explicativa.
- (B) Subordinada adverbial causal reduzida de participio.
- (C) Subordinada adverbial temporal reduzida de infinitivo.
- (D) Subordinada substantivo objetiva indireta.

## 05. A pontuação está CORRETA na frase da alternativa:

- (A) A subida até o alto da montanha, deixou o alpinista cansado mas, feliz por poder contemplar a belíssima vista.
- (B) Apesar, do Sol de verão faz sempre muito frio, no alto das montanhas.
- (C) Brasília, capital da República foi fundada em 1960.
- (D) Mercúrio é o planeta mais próximo do Sol, e uma das suas faces é permanentemente voltada para o Astro-Rei.

## 06. Assinale a alternativa em que a análise do termo destacado está INCORRETA em:

- (A) Libertai-me, **Senhor**, de todos os males! (= Vocativo)
- (B) O galpão da empresa de fogos de artifício foi destruído **pelo fogo**. (= Objeto indireto)
- (C) O jogador de tênis tem certeza **da vitória**. (= Complemento nominal)
- (D) Serena e calma corre **a vida**. (= Sujeito)

## 07. Tendo em vista as regras de ocorrência da crase, assinale a alternativa que preenche correta e respectivamente as lacunas das seguintes frases:

- I - No zoológico, os animais ficam \_\_\_ distância de dez metros dos visitantes.
- II - Chove \_\_\_ partir de sexta-feira em toda a cidade.
- III - A reunião aconteceu \_\_\_ portas fechadas.
- IV - Dirigi-me rapidamente \_\_\_\_\_ farmácia antes do horário de fechar.
- V - Por causa do tumulto, tive que sair \_\_\_ pressas do estádio.

- (A) a, à, a, à, àquela, as.
- (B) à, a, a, à, àquela, às.
- (C) à, a, à, a, aquela, às.
- (D) a, à, à, a, aquela, as.

**08.** Dos termos destacados nas frases abaixo, o único que está **INADEQUADO** ao contexto ocorre em:

- (A) Políticos corruptos desviaram **vultuosa** quantia de dinheiro público.
- (B) O juiz **infligiu** pena de um ano de prisão aos pichadores do prédio histórico.
- (C) Houve **cessão** gratuita de imagens de uma emissora para outra.
- (D) O juiz expediu o **mandado** de intimação para o empresário do ramo de transportes.

**09.** Há **ERRO** de regência nominal em:

- (A) O programa é passível em mudanças.
- (B) Provou-nos seu bom gosto em relação à música.
- (C) Toda a equipe está constituída por notáveis cientistas.
- (D) Todos nós somos favoráveis a que você participe da festa.

**10.** Identifique a alternativa em que a voz verbal foi classificada de forma **INCORRETA**.

- (A) Diagnosticaram-se os sintomas da doença em pouco tempo. (passiva sintética)
- (B) Logo após o chamado, o SAMU chegou para socorrer a pessoa acidentada. (ativa)
- (C) O desenho do barco foi feito por um desenhista famoso. (passiva analítica)
- (D) Os genes de alguns animais foram congelados por cientistas. (ativa)

## QUESTÕES DE MATEMÁTICA

**11.** Roberto foi a uma doceria e viu a seguinte tabela com os preços de alguns docinhos:

PRODUTO	PREÇO
Brigadeiro	R\$ 1,20
Beijinho	R\$ 1,30
Cajuzinho	R\$ 1,20
Docinho de leite	R\$ 1,00
Ninho com Nutella	R\$ 1,80
Coco com morango	R\$ 1,50

Paulo comprou 8 produtos dessa loja. Dentre esses produtos, ele comprou dois docinhos de Ninho com Nutella e um Beijinho. Ele pagou sua compra com uma nota de R\$ 20,00. Qual é o maior troco possível recebido por Paulo?

- (A) R\$ 16,90.
- (B) R\$ 15,60.
- (C) R\$ 15,10.
- (D) R\$ 13,80.

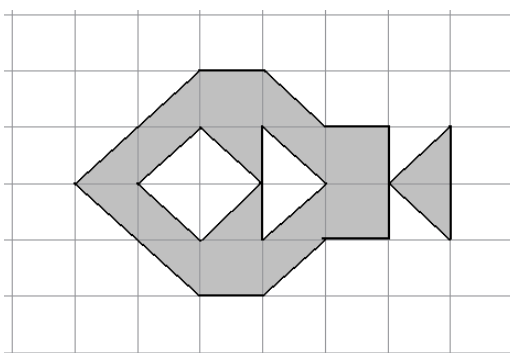
**12.** Para conhecer melhor os gostos dos seus clientes, uma sorveteria realizou uma enquete para saber quais os sabores de picolés preferidos por eles. O resultado dessa enquete foi: 124 gostam de morango, 107 gostam de uva, 139 gostam de coco, 34 gostam de morango e coco, 42 gostam de morango e uva, 37 gostam de uva e coco, 12 pessoas gostam dos três sabores e 15 pessoas responderam que não gostam de nenhum desses sabores. Qual o número de pessoas que respondeu essa enquete?

- (A) 510.
- (B) 284.
- (C) 495.
- (D) 618.

**13.** Em uma escola, há 15 mulheres a mais do que homens, e o produto entre o número de mulheres e o número de homens é 1.350. Podemos afirmar que o número de homens dessa escola:

- (A) É um número entre 33 e 38.
- (B) É um quadrado perfeito.
- (C) É um número entre 25 e 32.
- (D) É um número primo.

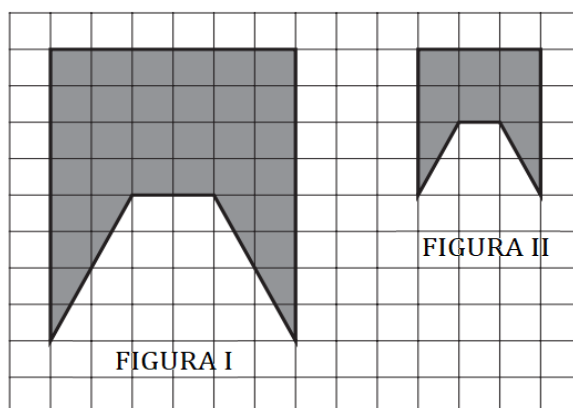
**14.** A malha quadriculada abaixo possui quadradinhos com lados medindo 3 cm.



Qual o perímetro da figura pintada de cinza?

- (A) 11 cm
- (B) 33 cm
- (C) 99 cm
- (D)  $6(5 + 7\sqrt{2})$  cm

**15.** Observe as figuras I e II desenhadas sobre a malha quadriculada abaixo.



Analisando a imagem acima, podemos afirmar que:

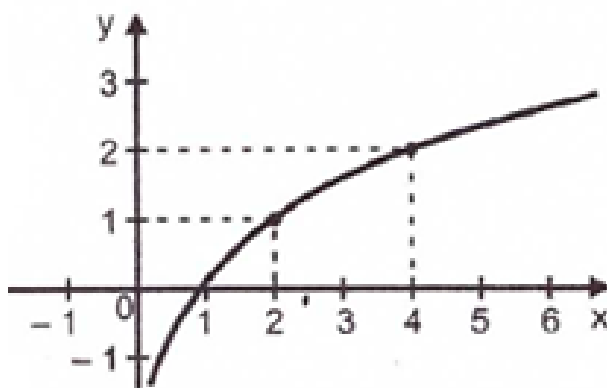
- (A) A área da Figura I é o quádruplo da área da Figura II.
- (B) A área da Figura I é o dobro da área da Figura II.
- (C) A área da Figura I é  $\frac{8}{6}$  Da área da Figura II.
- (D) A área da Figura I é o triplo da área da Figura II.

**16.** O governo de um determinado estado determinou que seja instalado posto policial a cada 75 km de uma BR. Essa BR já conta com um posto policial no KM 28 e outro no KM 928. Quantos novos postos policiais deverão ser construídos para atender a nova exigência do governo?

- (A) 18.
- (B) 19.
- (C) 20.
- (D) 21.



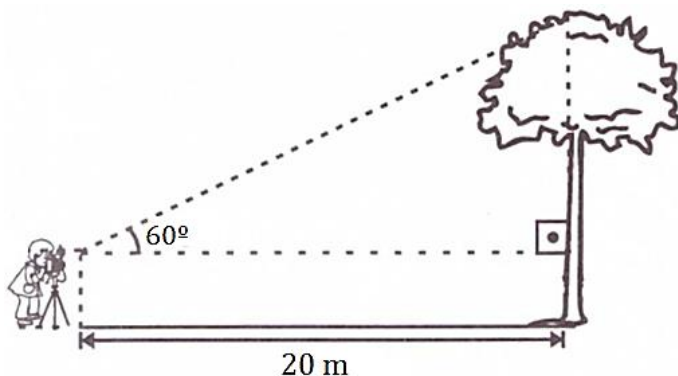
**17.** Considere a função  $f: \mathbb{R} \rightarrow \mathbb{R}$  cujo o gráfico está esboçado abaixo.



Qual é a lei de formação da função  $f$ ?

- (A)  $y = \log_2(x + 1)$
- (B)  $y = \log_2 x$
- (C)  $y = \log x$
- (D)  $y = \log x + 1$

**18.** Um fotógrafo decidiu fotografar uma árvore de 35,7 metros de altura. Ele se posicionou à 20 metros de distância, conforme figura abaixo.



Considere:  $\text{sen}60^\circ \cong 0,86$ ;  $\text{cos}60^\circ = 0,5$ ;  $\text{tg}60^\circ \cong 1,7$ .

Qual a altura do fotógrafo?

- (A) 1,8 m.
- (B) 1,85 m.
- (C) 1,75 m.
- (D) 1,7 m.

**19.** Uma empresa vende bombons no formato de cubos com 4 cm de lado. Essa empresa resolveu mudar os formatos dos seus bombons, passando a serem em formato esférico, mas contendo a mesma quantidade de chocolate de antes. Qual é a medida do diâmetro desse novo bombom?

Considere:  $\pi \cong 3$ .

- (A)  $2\sqrt{2}$  cm.
- (B)  $8\sqrt{2}$  cm.
- (C)  $4\sqrt{2}$  cm.
- (D)  $6\sqrt{2}$  cm.



**24.** É uma área em geral de pequena extensão, com pouca ou nenhuma ocupação humana, com características naturais extraordinárias ou que abriga exemplares raros da biota regional, e tem como objetivo manter os ecossistemas naturais de importância regional ou local e regular o uso admissível dessas áreas, de modo a compatibilizá-lo com os objetivos de conservação da natureza. Estamos nos referindo a:

- (A) Área de proteção ambiental.
- (B) Área de relevante interesse ecológico.
- (C) Reserva de fauna.
- (D) Reserva extrativista.

**25.** Em consonância com a Lei nº 12.651 de 2012, que dispõe sobre a proteção da vegetação nativa, é instituída a Cota de Reserva Ambiental (CRA), título nominativo representativo de área com vegetação nativa, existente ou em processo de recuperação. Nesse sentido, é CORRETO afirmar que será obrigatório o registro do CRA pelo Órgão emitente, no prazo de:

- (A) 30 (trinta) dias.
- (B) 15 (quinze) dias.
- (C) 10 (dez) dias.
- (D) 05 (cinco) dias.

**26.** Em que pese a delimitação das áreas de preservação permanente, regulado pelo Código Florestal, é CORRETO afirmar que se considera Área de Preservação Permanente, em zonas rurais ou urbanas as faixas marginais de qualquer curso d'água natural perene e intermitente, excluídos os efêmeros, desde a borda da calha do leito regular, em largura mínima de:

- (A) 50 (cinquenta) metros, para os cursos d'água de menos de 15 (quinze) metros de largura.
- (B) 30 (trinta) metros, para os cursos d'água de menos de 10 (dez) metros de largura.
- (C) 25 (vinte e cinco) metros, para os cursos d'água de menos de 10 (dez) metros de largura.
- (D) 20 (vinte) metros, para os cursos d'água de menos de 8 (oito) metros de largura.

**27.** O Sistema Nacional de Unidades de Conservação da Natureza, instituído pela Lei 9.985 de 2000, estabelece que a Estação Ecológica tem como objetivo a preservação da natureza e da realização de pesquisas científicas. Nesse sentido é INCORRETO afirmar que:

- (A) É proibida a visitação pública, ainda que seja com objetivo educacional.
- (B) A Estação Ecológica é de posse e domínio públicos, sendo que as áreas particulares incluídas em seus limites serão desapropriadas, de acordo com o que dispõe a lei.
- (C) A pesquisa científica depende de autorização prévia do órgão responsável pela administração da unidade e está sujeita às condições e restrições por este estabelecidas, bem como àquelas previstas em regulamento.
- (D) Na Estação Ecológica só podem ser permitidas alterações dos ecossistemas no caso de medidas que visem a restauração de ecossistemas modificados.

**28.** Assinale a alternativa INCORRETA:

- (A) Entende-se por educação ambiental na educação escolar a desenvolvida no âmbito dos currículos das instituições de ensino públicas e privadas.
- (B) A educação ambiental será desenvolvida como uma prática educativa integrada, contínua e permanente em todos os níveis e modalidades do ensino formal.
- (C) A educação ambiental deve ser implantada como disciplina específica no currículo de ensino.
- (D) O Poder Público, em níveis federal, estadual e municipal, incentivará o ecoturismo.

## 29. São princípios básicos da Educação Ambiental:

- I. O enfoque humanista, holístico, democrático e participativo.
- II. A concepção do meio ambiente em sua totalidade, considerando a interdependência entre o meio natural, o socioeconômico e o cultural, sob o enfoque da sustentabilidade.
- III. O pluralismo de ideias e concepções pedagógicas, na perspectiva da inter, multi e transdisciplinaridade.
- IV. A abordagem articulada das questões ambientais locais, regionais, nacionais e globais.
- V. O reconhecimento e o respeito à pluralidade e à diversidade individual e cultural.

Estão CORRETAS as afirmações:

- (A) I e V, apenas.                      (B) II, III e IV, apenas.                      (C) III, IV e V, apenas.                      (D) I, II, III, IV e V.

## 30. Para fins de aplicação da Política Nacional do Meio Ambiente, entende-se como poluição, a degradação da qualidade ambiental, EXCETO a resultante de atividades que direta ou indiretamente.

- (A) Altere de forma adversa as características do meio ambiente.
- (B) Prejudiquem a saúde, a segurança e o bem-estar da população.
- (C) Criem condições adversas às atividades sociais e econômicas.
- (D) Afetem desfavoravelmente a biota.

## 31. Assinale a alternativa que preencha corretamente a lacuna.

O \_\_\_\_\_ é a maneira como o funcionário se dirige ao cliente e interage com ele, orientando-o, conquistando sua simpatia, está relacionada a presteza, cortesia e flexibilidade.

- (A) Tratamento.                      (B) Atendimento.                      (C) Presteza.                      (D) Credibilidade.

## 32. São objetivos do Sistema Nacional de Unidades de Conservação (SNUC):

- I. Contribuir para a manutenção da diversidade biológica e dos recursos genéticos no território nacional e nas águas jurisdicionais.
- II. Proteger as espécies ameaçadas de extinção no âmbito regional e nacional.
- III. Contribuir para a preservação e a restauração da diversidade de ecossistemas naturais.

Estão CORRETAS as afirmações:

- (A) I, II e III.                      (B) I e II, apenas.                      (C) II e III, apenas.                      (D) I e III, apenas.

## 33. É causada pela ação direta e prolongada dos raios de sol sobre o indivíduo. É uma emergência médica caracterizada pela perda súbita de consciência e falência dos mecanismos reguladores da temperatura do organismo. Este tipo de incidente afeta geralmente as pessoas que trabalham com exposição excessiva a ambientes muito quentes ou que sofrem exposição demorada e direta aos raios solares. Para evitar casos de insolação é recomendado:

- (A) Somente o uso de protetor solar de alto fator.
- (B) Bonés ou chapéus impedem que a pessoa sofra de insolação.
- (C) Que a pessoa permaneça em atividade física constante, sem descanso.
- (D) Que a exposição ao sol tenha seu tempo controlado e que o indivíduo se hidrate constantemente.

**34.** Assinale a alternativa que não configura crime contra a fauna:

- (A) Impedir a procriação da fauna, sem licença, autorização ou em desacordo com a obtida.
- (B) Modificar, danificar ou destruir ninho, abrigo ou criadouro natural.
- (C) Destruir ou danificar floresta considerada de preservação permanente, mesmo que em formação.
- (D) Vender, expor à venda, exportar ou adquirir, guardar, ter em cativeiro ou depósito, utilizar ou transportar ovos, larvas ou espécimes da fauna silvestre, nativa ou em rota migratória, bem como produtos e objetos dela oriundos, provenientes de criadouros não autorizados ou sem a devida permissão, licença ou autorização da autoridade competente.

**35.** A unidade de conservação integrantes do Sistema Nacional de Unidades de Conservação (SNUC), se dividem em dois grupos com características específicas, Unidade de Proteção Integral e Unidade de Uso Sustentável. O GRUPO DAS Unidade de Proteção Integral é composto pelas seguintes categorias de unidade de conservação, EXCETO.

- (A) Estação ecológica.
- (B) Reserva biológica.
- (C) Compatibilização a conservação da natureza.
- (D) Monumento natural.

**36.** A Constituição Federal de 1988 estabelece que todos têm direito ao meio ambiente ecologicamente equilibrado, bem de uso comum do povo e essencial à sadia qualidade de vida, impondo-se ao Poder Público e à coletividade o dever de defendê-lo e preservá-lo para as presentes e futuras gerações. A luz da Constituição Federal, é INCORRETO afirmar que:

- (A) Aquele que explorar recursos minerais fica obrigado a recuperar o meio ambiente degradado, de acordo com solução técnica exigida pelo órgão público competente, na forma da lei.
- (B) As condutas e atividades consideradas lesivas ao meio ambiente sujeitarão os infratores, pessoas físicas ou jurídicas, a sanções penais e administrativas, independentemente da obrigação de reparar os danos causados.
- (C) As usinas que operem com reator nuclear deverão ter sua localização definida em lei federal, sem o que não poderão ser instaladas.
- (D) São disponíveis as terras devolutas ou arrecadadas pelos Estados, por ações discriminatórias.

**37.** De acordo com a Lei N°11.428 de 2006, que dispõe sobre a utilização e proteção da vegetação nativa do Bioma Mata Atlântica, a proteção e a utilização do Bioma Mata Atlântica far-se-ão dentro de condições que assegurem, EXCETO:

- (A) A manutenção e a recuperação da biodiversidade, vegetação, fauna e regime hídrico do Bioma Mata Atlântica para as presentes e futuras gerações.
- (B) O estímulo à pesquisa, à contenção do desenvolvimento de tecnologias e à formação de uma consciência pública sobre a necessidade de exploração dos ecossistemas.
- (C) O fomento de atividades públicas e privadas compatíveis com a manutenção do equilíbrio ecológico.
- (D) A ocupação rural e urbana, de forma a harmonizar o crescimento econômico com a manutenção do equilíbrio ecológico.

**38.** Considerando a Política Nacional do Meio Ambiente, conforme previsto na Lei 6.938 de 1981, a servidão ambiental poderá ser onerosa ou gratuita, temporária ou perpétua. Neste sentido, é CORRETO afirmar que o prazo mínimo da servidão ambiental temporária é de:

- (A) 10 (dez) anos.
- (B) 20 (vinte) anos.
- (C) 15 (quinze) anos.
- (D) 5 (cinco) anos.

**39.** Assinale a alternativa que contém somente instrumentos da Política Nacional do Meio Ambiente em conformidade com a Lei 6.938 de 1981:

- (A) O zoneamento ambiental e a avaliação de impactos ambientais.
- (B) O estabelecimento de padrões de qualidade ambiental e o zoneamento urbano.
- (C) O sistema nacional de informações sobre o meio ambiente e o cadastro municipal de atividades de defesa ambiental.
- (D) A garantia da prestação de informações relativas ao meio ambiente, obrigando-se o poder público a produzi-las, quando inexistentes e o zoneamento urbano.

**40.** De acordo com a Lei Orgânica Municipal de 1995, tributos Municipais são impostos, taxas e contribuição de melhoria decorrente de obras públicas, instituídos por Lei Municipal, atendidos os princípios estabelecidos na Constituição de República e do Estado e nas normas gerais de direito tributário. Neste sentido, é INCORRETO afirmar que Compete ao Município instituir impostos sobre:

- (A) Vendas a varejo de combustível líquido, gasoso, exceto óleo diesel.
- (B) Propriedade territorial rural.
- (C) Serviços de qualquer natureza, definidos em lei complementar.
- (D) Propriedades predial e territorial urbana.

EM BRANCO

EM BRANCO