

PREFEITURA MUNICIPAL DE AREAL/RJ

CONCURSO PÚBLICO 002/2019

EDITAL nº 001/2019

TÉCNICO EM SAÚDE BUCAL

ORGANIZADORA:



“A persistência é o caminho do êxito”.

Charles Chaplin.

EM BRANCO

CADERNO DE PROVAS

Caro(a) Candidato(a): **Antes de iniciar a prova leia atentamente as instruções a seguir:**

1. Este caderno contém 40 (quarenta) questões objetivas com 04 (quatro) opções (A, B, C, D). A prova terá duração máxima de 03(três) horas. A prova terá seu horário de início em sala, a contar após a distribuição dos cadernos de prova e autorização do aplicador(a).
2. Confira em seu caderno de provas a sequência de questões. Você tem até 10 (dez) minutos do início das provas para solicitar a troca do caderno de provas que apresentar algum problema de impressão ou qualquer outro que inviabilize a realização da mesma, pois não serão aceitas reclamações posteriores nesse sentido.
3. A interpretação das questões, bem como das instruções, faz parte da prova. Portanto, ao aplicador(a) de sala e fiscais não há autorização para fornecer esclarecimentos sobre o conteúdo das provas, sendo esta atribuição de única e exclusiva responsabilidade do(a) candidato(a).
4. Você receberá do aplicador o cartão de respostas 30 (trinta) minutos após o início da prova, o cartão de respostas deverá obrigatoriamente ser assinado pelo(a) candidato(a) no local em que há a indicação: “**ASSINATURA**”, utilizando sempre caneta esferográfica de tinta preta ou azul.
5. Caso realmente precise, utilize como rascunho os espaços em branco nas folhas do caderno de prova. Sugerimos que você assinale, inicialmente, no próprio caderno de provas, todas as respostas que julgar correta. Depois, passe-as para o cartão de respostas.
6. Questões com mais de uma alternativa assinalada, rasurada ou em branco serão **ANULADAS**. Portanto, ao preencher o cartão de respostas faça-o cuidadosamente. Evite erros, pois em hipótese alguma haverá substituição do cartão de respostas por erro do(a) candidato(a).
7. Ao terminar a prova ou findo o horário limite para sua realização, o candidato deverá **OBRIGATORIAMENTE** entregar seu cartão de respostas “**ASSINADO**”, ao aplicador(a) de sala. O(a) candidato(a) que não devolver seu cartão de respostas será automaticamente **eliminado(a)** e não terá classificação alguma no concurso público.
8. **Atenção!** Preencha o cartão-resposta na mesma sequência numérica das questões do caderno de provas.
9. Somente será permitido levar o caderno de questões (prova), depois de decorrido o período de **120 (cento e vinte) minutos do início das provas.**
10. Não serão permitidas consultas a quaisquer materiais, uso de telefone celular ou outros aparelhos eletrônicos, assim como os demais procedimentos constantes no subitem 9.6 e no subitem 9.8 do Edital 001/2019.
11. Após o término da prova, o(a) candidato(a) deverá deixar imediatamente o recinto da mesma, sendo **terminantemente proibido** fazer contato com os(as) candidatos(as) que ainda não terminaram a prova sob pena de ser excluído do Concurso Público.
12. O desrespeito às normas que regem o presente concurso, bem como, a desobediência às exigências registradas no edital, além de sanções legais cabíveis implica na desclassificação do candidato.
13. Aguarde a ordem do aplicador para iniciar a prova.
14. Os dois últimos candidatos ao terminarem as provas deverão retirar-se da sala simultaneamente, após testemunharem o fechamento (lacre) do envelope de provas, assinando a Ata Relatório.
15. O candidato, após a divulgação dos gabaritos oficiais preliminares da Prova Objetiva, que será feita às **20 horas** do dia **09/02/2020**, no site www.gualimp.com.br, poderá peticionar **RECURSO** à banca examinadora, quando julgar que ocorreu erro na formulação das questões e divulgação do gabarito preliminar, nos dias **10/02/2020 e 11/02/2020.**

NÃO ESQUEÇA!
Ao sair, entregue o cartão de respostas devidamente assinado.
BOA PROVA!!!

ATENÇÃO!!!

- O CARTÃO DE RESPOSTAS ABAIXO É PARA SER UTILIZADO SOMENTE COMO RASCUNHO.
- AO RECEBER O CARTÃO DE RESPOSTAS DEFINITIVO CONFIRA OS DADOS DE IDENTIFICAÇÃO (NOME, CARGO, NÚMERO DE INSCRIÇÃO) E EM SEGUIDA ASSINE NO LOCAL INDICADO.

CARTÃO RESPOSTA



PREFEITURA MUNICIPAL DE AREAL - RJ					A M P L I A B O				
CONCURSO PUBLICO 002/2019									
Nome:		Local:							
Cargo:		Data:							
Sala:	Nº de inscrição:		Turno:						
<p>* Marcar apenas uma opção para cada questão, evitando-se ultrapassar o círculo; * O círculo correspondente à questão escolhida deve ser totalmente preenchido, evitando-se ultrapassar o círculo; * Marcar apenas a quantidade de questões existentes na sua prova; * Utilize somente caneta esferográfica azul ou preta, não rasurar ou sujar o cartão; É NECESSIDADE DO CANDIDATO A CONFERÊNCIA DOS DADOS DE SEU CARTÃO DE RESPOSTA</p>					TIPO DE PROVA PROVA PADRÃO				
01	(A)	(B)	(C)	(D)	21	(A)	(B)	(C)	(D)
02	(A)	(B)	(C)	(D)	22	(A)	(B)	(C)	(D)
03	(A)	(B)	(C)	(D)	23	(A)	(B)	(C)	(D)
04	(A)	(B)	(C)	(D)	24	(A)	(B)	(C)	(D)
05	(A)	(B)	(C)	(D)	25	(A)	(B)	(C)	(D)
06	(A)	(B)	(C)	(D)	26	(A)	(B)	(C)	(D)
07	(A)	(B)	(C)	(D)	27	(A)	(B)	(C)	(D)
08	(A)	(B)	(C)	(D)	28	(A)	(B)	(C)	(D)
09	(A)	(B)	(C)	(D)	29	(A)	(B)	(C)	(D)
10	(A)	(B)	(C)	(D)	30	(A)	(B)	(C)	(D)
11	(A)	(B)	(C)	(D)	31	(A)	(B)	(C)	(D)
12	(A)	(B)	(C)	(D)	32	(A)	(B)	(C)	(D)
13	(A)	(B)	(C)	(D)	33	(A)	(B)	(C)	(D)
14	(A)	(B)	(C)	(D)	34	(A)	(B)	(C)	(D)
15	(A)	(B)	(C)	(D)	35	(A)	(B)	(C)	(D)
16	(A)	(B)	(C)	(D)	36	(A)	(B)	(C)	(D)
17	(A)	(B)	(C)	(D)	37	(A)	(B)	(C)	(D)
18	(A)	(B)	(C)	(D)	38	(A)	(B)	(C)	(D)
19	(A)	(B)	(C)	(D)	39	(A)	(B)	(C)	(D)
20	(A)	(B)	(C)	(D)	40	(A)	(B)	(C)	(D)
_____ Assinatura do Candidato					Nº DE INSCRIÇÃO				

OBS.: O candidato deverá OBRIGATORIAMENTE, entregar seu cartão de repostas definitivo preenchido e ASSINADO, sob pena de ter seu cartão de respostas ANULADO. (item 9.14 do edital 001/2019)

QUESTÕES DE LINGUA PORTUGUESA

Leia com atenção o texto a seguir para responder as questões 01 e 02.

Viver em sociedade

Dalmo de Abreu Dallari

A sociedade humana é um conjunto de pessoas ligadas pela necessidade de se ajudarem umas às outras, _____ que possam garantir a continuidade da vida e satisfazer seus interesses e desejos.

Sem vida em sociedade, as pessoas não conseguiriam sobreviver, pois o ser humano, durante muito tempo, necessita de outros para conseguir alimentação e abrigo. E no mundo moderno, com a grande maioria das pessoas morando na cidade, com hábitos que tornam necessários muitos bens produzidos pela indústria, não _____ quem não necessite dos outros muitas vezes por dia.

Mas as necessidades dos seres humanos não são apenas de ordem material, como os alimentos, a roupa, a moradia, os meios de transporte e os cuidados de saúde. Elas são também de ordem espiritual e psicológica. Toda pessoa humana necessita de afeto, precisa amar e sentir-se amada, quer sempre que alguém lhe dê atenção e que todos a respeitem. Além disso, todo ser humano tem suas crenças, tem sua fé em alguma coisa, que é a base de suas esperanças.

Os seres humanos não vivem juntos, não vivem em sociedade, apenas _____ escolhem esse modo de vida, mas _____ a vida em sociedade é uma necessidade da natureza humana. Assim, por exemplo, se dependesse apenas da vontade, seria possível uma pessoa muito rica isolar-se em algum lugar, onde tivesse armazenado grande quantidade de alimentos. Mas essa pessoa estaria, em pouco tempo, sentindo falta de companhia, sofrendo a tristeza da solidão, precisando de alguém com quem falar e trocar ideias, necessitada de dar e receber afeto. E muito provavelmente ficaria louca se continuasse sozinha por muito tempo.

Mas, justamente _____ vivendo em sociedade é que a pessoa humana pode satisfazer suas necessidades, é preciso que a sociedade seja organizada de tal modo que sirva, realmente, para esse fim. E não basta que a vida social permita apenas a satisfação de algumas necessidades da pessoa humana ou de todas as necessidades de apenas algumas pessoas. A sociedade organizada com justiça é aquela em que se procura fazer com que todas as pessoas possam satisfazer todas as suas necessidades, é aquela em que todos, desde o momento em que nascem, têm as mesmas oportunidades, aquela em que os benefícios e encargos são repartidos igualmente entre todos.

Para que essa repartição se faça com justiça, é preciso que todos procurem conhecer seus direitos e exijam que eles sejam respeitados, como também devem conhecer e cumprir seus deveres e suas responsabilidades sociais.

01. Analise as seguintes afirmações:

- I - A acentuação gráfica das palavras saúde e indústria seguem a mesma regra.
- II - A palavra destacada em "...sofrendo a tristeza da solidão..." classifica-se como substantivo.
- III - De acordo com a posição da sílaba tônica, as palavras transportes, crença e justiça classificam-se como paroxítonas.
- IV - No trecho "...aquela em que se procura fazer" o pronome oblíquo átono encontra-se proclítico ao verbo.
- V - Quanto ao gênero, o substantivo "pessoa" classifica-se como comum de dois gêneros.

Estão CORRETAS, apenas:

- (A) I e IV.
- (B) I e V.
- (C) II, III e IV.
- (D) II, III e V.

02. Assinale a afirmação INCORRETA.

- (A) A tese defendida pelo autor é que não haveria sobrevivência sem vida em sociedade.
- (B) As lacunas serão correta e respectivamente preenchidas por: **a fim de, há, porque, porque e porque.**
- (C) O autor mostra que os seres humanos vivem em sociedade porque necessitam apenas de apoio espiritual.
- (D) Segundo o texto, não seria possível a sobrevivência se não existisse sociedade, pois os seres humanos dependem dos outros para sobreviver.

03. A concordância verbal está INCORRETA na frase da alternativa:

- (A) A queda nas vendas e as dívidas complicaram as finanças da empresa.
- (B) Algum de nós contará a verdade a ele?
- (C) Mais de dez automóveis foram levados pela enchente.
- (D) Vossa Excelência sempre sereis lembrado por sua dignidade política.

04. A oração destacada em: “Cumprimentei-o ao lhe entregar o prêmio” classifica-se como:

- (A) Coordenada sindética explicativa.
- (B) Subordinada adverbial causal reduzida de particípio.
- (C) Subordinada adverbial temporal reduzida de infinitivo.
- (D) Subordinada substantivo objetiva indireta.

05. A pontuação está CORRETA na frase da alternativa:

- (A) A subida até o alto da montanha, deixou o alpinista cansado mas, feliz por poder contemplar a belíssima vista.
- (B) Apesar, do Sol de verão faz sempre muito frio, no alto das montanhas.
- (C) Brasília, capital da República foi fundada em 1960.
- (D) Mercúrio é o planeta mais próximo do Sol, e uma das suas faces é permanentemente voltada para o Astro-Rei.

06. Assinale a alternativa em que a análise do termo destacado está INCORRETA em:

- (A) Libertai-me, **Senhor**, de todos os males! (= Vocativo)
- (B) O galpão da empresa de fogos de artifício foi destruído **pelo fogo**. (= Objeto indireto)
- (C) O jogador de tênis tem certeza **da vitória**. (= Complemento nominal)
- (D) Serena e calma corre **a vida**. (= Sujeito)

07. Dos termos destacados nas frases abaixo, o único que está INADEQUADO ao contexto ocorre em:

- (A) Políticos corruptos desviaram **vultuosa** quantia de dinheiro público.
- (B) O juiz **infligiu** pena de um ano de prisão aos pichadores do prédio histórico.
- (C) Houve **cessão** gratuita de imagens de uma emissora para outra.
- (D) O juiz expediu o **mandado** de intimação para o empresário do ramo de transportes.

08. Há ERRO de regência nominal em:

- (A) O programa é passível em mudanças.
- (B) Provou-nos seu bom gosto em relação à música.
- (C) Toda a equipe está constituída por notáveis cientistas.
- (D) Todos nós somos favoráveis a que você participe da festa.

09. Leia as orações:

- 1) Fomos à cidade.
- 2) Aqui, venta bastante.
- 3) Roubaram minha carteira.

Os sujeitos das orações acima são, respectivamente:

- (A) 1. indeterminado / 2. inexistente / 3. simples.
- (B) 1. simples / 2. implícito / 3. Indeterminado.
- (C) 1. implícito / 2. inexistente / 3. Indeterminado.
- (D) 1. inexistente / 2. implícito / 3. Indeterminado.

10. Identifique a alternativa em que a voz verbal foi classificada de forma INCORRETA.

- (A) Diagnosticaram-se os sintomas da doença em pouco tempo. (passiva sintética)
- (B) Logo após o chamado, o SAMU chegou para socorrer a pessoa acidentada. (ativa)
- (C) O desenho do barco foi feito por um desenhista famoso. (passiva analítica)
- (D) Os genes de alguns animais foram congelados por cientistas. (ativa)

QUESTÕES DE MATEMÁTICA

11. Roberto foi a uma doceria e viu a seguinte tabela com os preços de alguns docinhos:

PRODUTO	PREÇO
Brigadeiro	R\$ 1,20
Beijinho	R\$ 1,30
Cajuzinho	R\$ 1,20
Docinho de leite	R\$ 1,00
Ninho com Nutella	R\$ 1,80
Coco com morango	R\$ 1,50

Paulo comprou 8 produtos dessa loja. Dentre esses produtos, ele comprou dois docinhos de Ninho com Nutella e um Beijinho. Ele pagou sua compra com uma nota de R\$ 20,00. Qual é o maior troco possível recebido por Paulo?

- (A) R\$ 16,90. (B) R\$ 15,60. (C) R\$ 15,10. (D) R\$ 13,80.

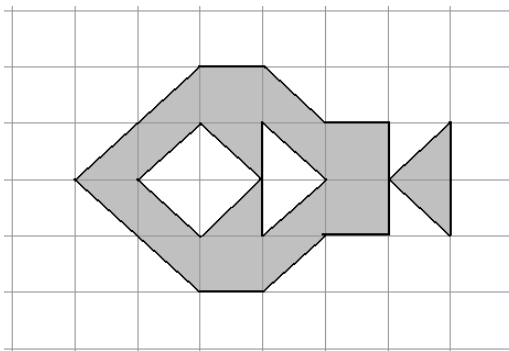
12. Para conhecer melhor os gostos dos seus clientes, uma sorveteria realizou uma enquete para saber quais os sabores de picolés preferidos por eles. O resultado dessa enquete foi: 124 gostam de morango, 107 gostam de uva, 139 gostam de coco, 34 gostam de morango e coco, 42 gostam de morango e uva, 37 gostam de uva e coco, 12 pessoas gostam dos três sabores e 15 pessoas responderam que não gostam de nenhum desses sabores. Qual o número de pessoas que respondeu essa enquete?

- (A) 510. (B) 284. (C) 495. (D) 618.

13. Em uma escola, há 15 mulheres a mais do que homens, e o produto entre o número de mulheres e o número de homens é 1.350. Podemos afirmar que o número de homens dessa escola:

- (A) É um número entre 33 e 38.
- (B) É um quadrado perfeito.
- (C) É um número entre 25 e 32.
- (D) É um número primo.

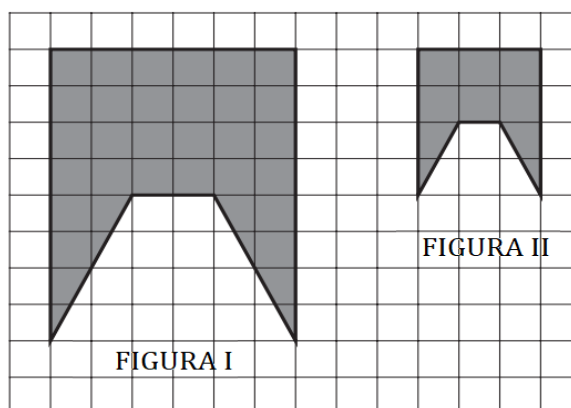
14. A malha quadriculada abaixo possui quadradinhos com lados medindo 3 cm.



Qual o perímetro da figura pintada de cinza?

- (A) 11 cm (B) 33 cm (C) 99 cm (D) $6(5 + 7\sqrt{2})$ cm

15. Observe as figuras I e II desenhadas sobre a malha quadriculada abaixo.



Analisando a imagem acima, podemos afirmar que:

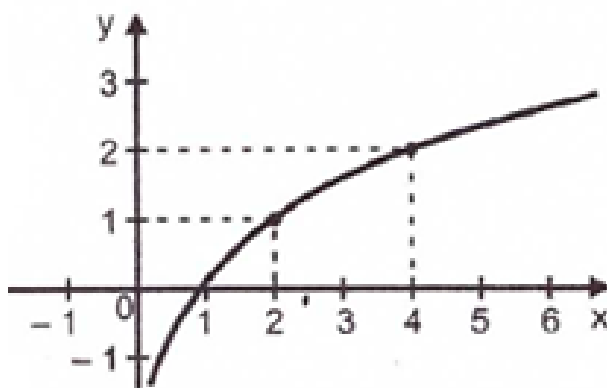
- (A) A área da Figura I é o quádruplo da área da Figura II.
 (B) A área da Figura I é o dobro da área da Figura II.
 (C) A área da Figura I é $\frac{8}{6}$ Da área da Figura II.
 (D) A área da Figura I é o triplo da área da Figura II.

16. O governo de um determinado estado determinou que seja instalado posto policial a cada 75 km de uma BR. Essa BR já conta com um posto policial no KM 28 e outro no KM 928. Quantos novos postos policiais deverão ser construídos para atender a nova exigência do governo?

- (A) 18. (B) 19. (C) 20. (D) 21.

EM BRANCO

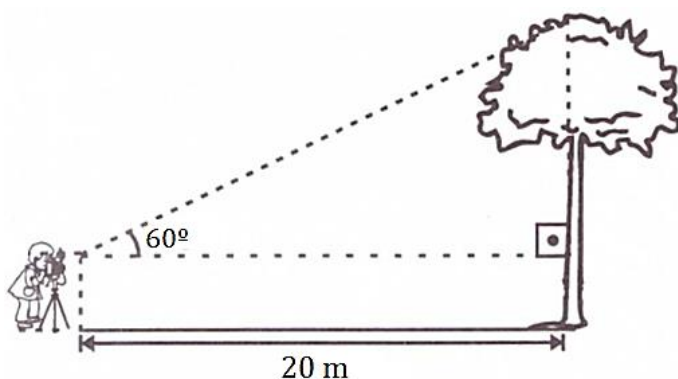
17. Considere a função $f: \mathbb{R} \rightarrow \mathbb{R}$ cujo o gráfico está esboçado abaixo.



Qual é a lei de formação da função f ?

- (A) $y = \log_2(x + 1)$
- (B) $y = \log_2 x$
- (C) $y = \log x$
- (D) $y = \log x + 1$

18. Um fotógrafo decidiu fotografar uma árvore de 35,7 metros de altura. Ele se posicionou à 20 metros de distância, conforme figura abaixo.



Considere: $\text{sen}60^\circ \cong 0,86$; $\text{cos}60^\circ = 0,5$; $\text{tg}60^\circ \cong 1,7$.

Qual a altura do fotógrafo?

- (A) 1,8 m.
- (B) 1,85 m.
- (C) 1,75 m.
- (D) 1,7 m.

19. Uma empresa vende bombons no formato de cubos com 4 cm de lado. Essa empresa resolveu mudar os formatos dos seus bombons, passando a serem em formato esférico, mas contendo a mesma quantidade de chocolate de antes. Qual é a medida do diâmetro desse novo bombom?

Considere: $\pi \cong 3$.

- (A) $2\sqrt{2}$ cm.
- (B) $8\sqrt{2}$ cm.
- (C) $4\sqrt{2}$ cm.
- (D) $6\sqrt{2}$ cm.

20. Em um condomínio, vivem 40 crianças, com as idades mostradas na tabela abaixo.

Nº DE CRIANÇAS	IDADES
12	7 anos
11	8 anos
8	10 anos
5	11 anos
4	12 anos

Quantas crianças de 10 anos devem se mudar para esse condomínio para que a mediana das idades dessas crianças seja de 9 anos?

- (A) 6. (B) 8. (C) 3. (D) 7.

QUESTÕES DE CONHECIMENTOS ESPECÍFICOS

21. Os músculos da mímica são extremamente relevantes quando assunto abordado é expressão facial. Cada um deles exerce um papel específico que contribui com os movimentos faciais.

Diante disso, assinale a alternativa que não corresponda a um músculo da mímica.

- (A) Próceros.
 (B) Bucinador.
 (C) Corrugador do supercílio.
 (D) Milo-hióideo.

22. O esternocleidomastóideo é um músculo longo e bilateral do pescoço, que funciona para flexionar o pescoço tanto lateralmente como anteriormente, bem como para girar a cabeça contralateralmente ao lado da contração. O músculo está intimamente relacionado a certas estruturas neurovasculares que atravessam o pescoço, seja no caminho para a cabeça ou para a periferia do corpo.

Em relação a sua inserção proximal e distal, é correto afirmar, respectivamente:

- (A) Manúbrio do esterno; processo mastoide.
 (B) Processo coracóide; processo mastoide.
 (C) Processo mastoide; manúbrio do esterno.
 (D) Processo mastoide; processo coracóide.

23. A arquitetura do esqueleto craniofacial está relacionada às forças funcionais que o incide. Existem três pilares na zona de resistência da maxila, são eles:

- (A) Pilar canino, pilar zigomático e pilar pterigóideo.
 (B) Pilar canino, pilar zigomático e pilar nasal.
 (C) Pilar zigomático, pilar etmoidal e pilar pterigóideo.
 (D) Pilar zigomático, pilar condilar e pilar etmoidal.

24. Qual das estruturas citada a seguir não faz parte do vestibulo da boca?

- (A) Frênulo lateral.
 (B) Fônica da boca
 (C) Frênulo incisal.
 (D) Frênulo do lábio inferior.

25. Como pode ser chamado o palato mole?

- (A) Véu palatino.
- (B) Úvula palatina.
- (C) Arco palatino.
- (D) Arco palatoglosso.

Diante do caso clínica mencionado, responda às questões 26 e 27.

Paciente P.L.W., 27 anos, chegou à clínica odontológica queixando-se de dor no elemento 27. Após uma tomada radiográfica, pode-se observar que havia uma lesão de cárie acometendo além da oclusal, as faces proximais do dente.

26. De qual dente o caso se refere?

- (A) Segundo molar superior direito.
- (B) Segundo molar inferior direito.
- (C) Segundo pré-molar inferior direito.
- (D) Segundo molar superior esquerdo.

27. Qual a classificação de BLACK para a lesão citada?

- (A) Classe I.
- (B) Classe II.
- (C) Classe III.
- (D) Classe IV.

As lesões fundamentais são alterações morfológicas que ocorrem na mucosa bucal e assumem características próprias, individualizadas e padronizadas. Cada lesão de mucosa, morfologicamente falando, leva uma definição.

A partir disso, responda às questões 28, 29 e 30.

28. Qual é a lesão fundamental da afta, lesão mais comum entre a população?

- (A) Erosão.
- (B) Bolha.
- (C) Pápula.
- (D) Úlcera.

29. Sabendo que a Rânula é uma lesão que retém muco, qual sua lesão fundamental?

- (A) Mucocina.
- (B) Bolha.
- (C) Pústula.
- (D) Nódulo.

30. “Constituem lesões bem características, fundamentalmente elevadas em relação ao tecido normal, sua altura é pequena em relação à extensão, consistentes à palpação e a sua superfície pode ser rugosa, verrucosa, ondulada, lisa ou apresentar diversas combinações desses aspectos. Exs: leucoplasia, certas formas de líquen plano e carcinomas epidermóides.”

O texto define qual lesão fundamental?

- (A) Placa.
- (B) Tumor.
- (C) Crosta.
- (D) Petéquia.

31. Qual notação o dente decíduo substituído pelo dente 44?

- (A) 65.
- (B) 74.
- (C) 84.
- (D) 85.

32. O músculo que tem como ação auxiliar na elevação do lábio superior e acentuar o sulco nasolabial, é o:

- (A) Zigomático menor.
- (B) Levantador do ângulo da boca.
- (C) Orbicular do olho.
- (D) Látero-nasal.

33. “As _____ apresentam cor, tamanho e forma bastante variados, podendo sua origem ser devida à presença de melanina ou outras causas. São modificações da coloração normal da mucosa bucal sem que ocorra elevação ou depressão tecidual.”

Assinale a alternativa que preencha o espaço correspondente ao texto.

- (A) Hematas.
- (B) Equimoses.
- (C) Máculas.
- (D) Vesículas.

34. De acordo com a lei nº11.889, de 24 de dezembro de 2008, competem ao Técnico em Saúde Bucal, sempre sob a supervisão do cirurgião-dentista, as seguintes atividades, além das estabelecidas para os auxiliares em saúde bucal, EXCETO:

- (A) Participar das ações educativas atuando na promoção da saúde e na prevenção das doenças bucais.
- (B) Ensinar técnicas de higiene bucal e realizar a prevenção das doenças bucais por meio da aplicação tópica do flúor, conforme orientação do cirurgião-dentista.
- (C) Inserir e distribuir no preparo cavitário materiais odontológicos na restauração dentária direta, vedado o uso de materiais e instrumentos não indicados pelo cirurgião-dentista.
- (D) Realizar fotografias e tomadas radiográficas de uso geral, em quaisquer consultórios ou clínicas em geral.

35. As papilas _____ estão em menor quantidade e distribuem-se isolada e irregularmente entre as papilas filiformes.

Assinale a alternativa que preenche a lacuna do texto corretamente:

- (A) Fungiformes.
- (B) Circunvaladas.
- (C) Folhadas.
- (D) Franjadas.

36. Sobre as competências do técnico em higiene dental:

- I. Coordenar e realizar a manutenção e a conservação dos equipamentos odontológicos.
- II. Realizar diagnóstico com a finalidade de obter o perfil epidemiológico para o planejamento e a programação em saúde bucal.
- III. Realizar os procedimentos clínicos da Atenção Básica em saúde bucal, incluindo atendimento das urgências e pequenas cirurgias ambulatoriais.

É CORRETO o que se afirma em:

- (A) I, II e III.
- (B) I e II apenas.
- (C) I apenas.
- (D) III apenas.

37. É característica exclusiva do primeiro molar superior em determinados casos:

- (A) Sulco central vestibularizado.
- (B) Cíngulo invertido.
- (C) Tubérculo de Carabelli.
- (D) Tubérculo lingual.

38. O correto entendimento do conceito da Atenção Primária ou Atenção Básica pode ser possível a partir do conhecimento de seus princípios ordenadores: o primeiro contato, a longitudinalidade, a integralidade ou abrangência, e a coordenação. (STARFIELD, 2002).

O primeiro contato está relacionado:

- (A) Acessibilidade e o uso de serviços para cada novo problema para os quais se procura atenção à saúde.
- (B) Aporte regular de cuidados pela equipe de saúde. Consistem, ao longo do tempo, num ambiente de relação mútua e humanizada entre a equipe de saúde, indivíduos e família.
- (C) Ações programadas para aquele serviço e qual a sua adequação às necessidades da população. Sua resposta a essas demandas enquanto capacidade resolutive.
- (D) Capacidade do serviço em garantir a continuidade da atenção, o seguimento do usuário no sistema ou a garantia da referência a outros níveis de atenção quando necessário.

39. De acordo com Art. 5º da Lei nº 11.889 competem ao Técnico em Saúde Bucal, sempre sob a supervisão do cirurgião-dentista, as seguintes atividades, além das estabelecidas para os auxiliares em saúde bucal:

- I. Participar na realização de levantamentos e estudos epidemiológicos, exceto na categoria de examinador.
- II. Aplicar medidas de biossegurança no armazenamento, manuseio e descarte de produtos e resíduos odontológicos.
- III. Realizar isolamento do campo operatório.

É CORRETO o que se afirma em:

- (A) I, II e III.
- (B) I e III apenas.
- (C) II e III apenas.
- (D) II apenas.

40. É vedado ao Técnico em Saúde Bucal:

- I. Inserir e distribuir no preparo cavitário materiais odontológicos na restauração dentária direta, vedado o uso de materiais e instrumentos não indicados pelo cirurgião-dentista.
- II. Exercer a atividade de forma autônoma.
- III. Prestar assistência direta ou indireta ao paciente, sem a indispensável supervisão do cirurgião-dentista.

É CORRETO o que se afirma em:

- (A) I, II e III.
- (B) II e III apenas.
- (C) I e II apenas.
- (D) II apenas.

EM BRANCO