



GOVERNO DO DISTRITO FEDERAL
SECRETARIA DE ESTADO DE SAÚDE DO DISTRITO FEDERAL
EDITAL Nº 07, DE 02 DE MARÇO DE 2018
CONCURSO PÚBLICO PARA PROVIMENTO DE VAGAS E FORMAÇÃO
DE CADASTRO RESERVA PARA ESPECIALIDADES DA CARREIRA
ASSISTÊNCIA PÚBLICA A SAÚDE

104

ECONOMISTA

Data e horário da prova:
Domingo, 10/6/2018, às 14 h.

Tipo "A"

INSTRUÇÕES

- Você receberá do fiscal:
 - um caderno de questões da prova objetiva contendo 50 (cinquenta) questões de múltipla escolha, com 5 (cinco) alternativas de resposta cada uma e apenas 1 (uma) alternativa correta, e
 - uma folha de respostas personalizada da prova objetiva.
- Quando autorizado pelo fiscal do IADES, no momento da identificação, escreva no espaço apropriado da folha de respostas da prova objetiva, com a sua caligrafia usual, a seguinte frase:

Desenganos vão, desaparecem.

- Verifique se estão corretas a numeração das questões, a paginação do caderno de questões e a codificação da folha de respostas da prova objetiva.
- Você dispõe de 4 (quatro) horas para fazer a prova objetiva e deve controlar o tempo, pois não haverá prorrogação desse prazo. Esse tempo inclui a marcação da folha de respostas da prova objetiva.
- Somente 1 (uma) hora após o início da prova, você poderá entregar sua folha de respostas da prova objetiva e o caderno de provas e retirar-se da sala.
- Somente será permitido levar o caderno de questões da prova objetiva 3 (três) horas após o início da prova.
- Após o término da prova, entregue ao fiscal do IADES a folha de respostas da prova objetiva devidamente assinada.
- Deixe sobre a carteira apenas o documento de identidade e a caneta esferográfica de tinta preta, fabricada com material transparente.
- Não é permitida a utilização de qualquer aparelho eletrônico ou de comunicação.
- Não é permitida a consulta a livros, dicionários, apontamentos e (ou) apostilas.
- Você somente poderá sair e retornar à sala de aplicação de provas na companhia de um fiscal do IADES.
- Não será permitida a utilização de lápis em qualquer etapa da prova.

INSTRUÇÕES PARA A PROVA OBJETIVA

- Verifique se os seus dados estão corretos na folha de respostas da prova objetiva. Caso haja algum dado incorreto, comunique ao fiscal.
- Leia atentamente cada questão e assinale, na folha de respostas da prova objetiva, uma única alternativa.
- A folha de respostas da prova objetiva não pode ser dobrada, amassada, rasurada ou manchada e nem pode conter qualquer registro fora dos locais destinados às respostas.
- O candidato deverá transcrever, com caneta esferográfica de tinta preta, as respostas da prova objetiva para a folha de respostas.
- A maneira correta de assinalar a alternativa na folha de respostas da prova objetiva é cobrir, fortemente, com caneta esferográfica de tinta preta, o espaço a ela correspondente.
- Marque as respostas assim: ●

PROVA OBJETIVA

CONHECIMENTOS BÁSICOS

Questões de 1 a 25

LÍNGUA PORTUGUESA

Questões de 1 a 8

Texto 1 para responder às questões de 1 a 4.

1 Duas pulgas estavam reclamando da vida quando uma disse para a outra: “sabe qual é o nosso problema? Nós não sabemos voar. Só sabemos saltar. Aí, quando o
4 cachorro percebe nossa presença, nossa chance de sobrevivência é zero. É por isso que existem mais moscas do que pulgas nesse mundo – moscas voam.”

7 E aí as duas pulgas fizeram um curso de mosca e aprenderam a voar. Mas não ficaram satisfeitas. E uma disse para a outra: “sabe qual é o nosso grande problema?
10 Nós ficamos grudadas no corpo do cachorro. Daí nosso tempo de reação é mais lento que a coçada dele. Temos que fazer como as abelhas, que sugam o néctar e levantam vo
13 rapidamente”. E as duas pulgas fizeram um curso de abelha. Mas não ficaram satisfeitas. E uma disse para a outra: “sabe qual é o nosso grande problema? Nosso estômago é muito
16 pequeno. Escapar do cachorro a gente até escapa, mas não estamos nos alimentando adequadamente. Temos que ser como os pernilongos, que têm aquele barrigão enorme”. E
19 aí as duas pulgas fizeram um curso de pernilongo. Mas não ficaram satisfeitas porque, com aquele barrigão, eram facilmente percebidas pelo cachorro e eram espantadas
22 antes mesmo de conseguirem pousar.

Então, totalmente frustradas porque nada na vida delas dava certo, as duas pulgas encontraram uma saltitante
25 pulguinha. Como viram que a pulguinha estava forte e saudável, as duas pulgas perguntaram: “escuta, o que é que você mudou que nós ainda não mudamos?”. E a pulguinha
28 respondeu: “nada, ué”. “Como assim nada?”, perguntaram as pulgonas. “Como é que você escapa da coçada do cachorro?”. E a pulguinha respondeu: “Ah, é simples. Eu
31 sento na nuca do cachorro. É o único lugar que a pata dele
32 não alcança”.

GEHRINGER, Max. *O melhor de Max Gehringer na CBN: 120 conselhos sobre carreira, currículo, comportamento e liderança*. Vol. 1. São Paulo: Globo, 2006, p. 109 (fragmento), com adaptações.

QUESTÃO 1

Com base na leitura compreensiva do texto, infere-se que a (o)

- (A) eficiência de uma decisão está diretamente relacionada à capacidade de reflexão e análise para se fazerem os ajustes pertinentes.
- (B) compartilhamento da demanda com o máximo de pessoas possível é fundamental para a tomada de decisão.
- (C) resolução de problemas compreende uma metodologia que prevê a frustração como fase necessária à mudança.
- (D) ato de se comparar com o outro é imprescindível no processo de tomada de decisão.
- (E) aceitação pacífica de determinada situação é a melhor conduta a ser seguida diante de uma adversidade.

QUESTÃO 2

Com relação à classe de palavras do texto, assinale a alternativa que indica, respectivamente, um pronome, uma preposição, uma conjunção e um advérbio.

- (A) “qual” (linha 2); “antes” (linha 22); “não” (linha 3); “adequadamente” (linha 17).
- (B) “mais” (linha 11); “para” (linha 2); “nesse” (linha 6); “aquele” (linha 18).
- (C) “outra” (linha 2); “dele” (linha 31); “como” (linha 12); “único” (linha 31).
- (D) “por isso” (linha 5); “Daí” (linha 10); “nos” (linha 17); “rapidamente” (linha 13).
- (E) “nada” (linha 23); “até” (linha 16); “quando” (linha 3); “ainda” (linha 27).

QUESTÃO 3

No que se refere à sintaxe de orações do texto, assinale a alternativa correta.

- (A) Na linha 3, o termo “Aí” está isolado por vírgula por ser um vocativo.
- (B) Na linha 8, a oração “aprenderam a voar” tem sujeito indeterminado.
- (C) Na linha 13, os vocábulos sublinhados em “E as duas pulgas fizeram um curso” são os adjuntos adnominais dessa oração.
- (D) Na linha 13, o vocábulo “rapidamente” classifica-se em adjunto adverbial de intensidade.
- (E) Na linha 31, o termo “na nuca do cachorro” complementa diretamente a forma verbal “sento”.

QUESTÃO 4

Considerando a estrutura, a forma e o conteúdo, assinale a alternativa que corresponde a uma característica do texto apresentado.

- (A) Relato detalhado dos personagens, de modo que o leitor possa criar uma imagem mental do que foi exposto.
- (B) Explanação de uma sequência de ações dos personagens, relativas a um acontecimento em um determinado espaço e durante certo tempo.
- (C) Explicação dos fatos no intuito de induzir o leitor à efetivação de uma ação.
- (D) Apresentação das informações com abordagem objetiva, enumerando todas as particularidades dos personagens.
- (E) Argumentação a respeito do tema em defesa de um ponto de vista.

Área livre

Texto 2 para responder às questões 5 e 6.

(12/5/2018) Às vésperas do início da temporada de inverno no Brasil, o Ministério da Saúde reforçou a importância da vacinação contra a *influenza*, também conhecida como gripe. A infecção do sistema respiratório tem como principal complicação a pneumonia, quadro de saúde responsável por um grande número de internações hospitalares em todo o País.

De acordo com a pasta, há três tipos de vírus *influenza*: A, B e C. O último causa apenas infecções respiratórias brandas e não representa grande impacto à saúde pública. Já os vírus A e B são responsáveis por epidemias sazonais, sendo o tipo A responsável por pandemias como a H1N1, registrada em 2009.

O resfriado, por sua vez, também é uma doença respiratória e, frequentemente, é confundido com a gripe. O quadro é causado, entretanto, por vírus diferentes. Os mais comuns, segundo o ministério, são os rinovírus, o vírus *parainfluenza* e o vírus sincicial respiratório (VSR), que geralmente acometem crianças.

Disponível em: <https://www.correiobraziliense.com.br/app/noticia/ciencia-e-saude/2018/05/12/interna_ciencia_saude,680241/qual-a-diferenca-entre-gripe-e-resfriado.shtml>. Acesso em: 15 maio 2018 (fragmento), com adaptações.

QUESTÃO 5

Acerca da equivalência e transformação de estruturas do texto, assinale a alternativa correta.

- (A) Em “há três tipos de vírus” (linha 8), a substituição da forma verbal sublinhada por **existe** mantém a correção gramatical da oração.
- (B) Na linha 16, substitui-se corretamente “entretanto” pela conjunção **portanto**, preservando assim a coerência dessa informação, pois ambas são conclusivas.
- (C) Na oração “O último causa apenas infecções respiratórias brandas e não representa grande impacto” (linhas 9 e 10), é correto flexionar a forma verbal “representa” no plural, pois ela também pode concordar com “infecções respiratórias brandas”.
- (D) Em “A infecção do sistema respiratório tem como principal complicação a pneumonia” (linhas 4 e 5), caso o termo sublinhado seja flexionado no plural, deve-se inserir acento circunflexo na forma verbal a ele relacionada nessa oração.
- (E) Na linha 13, a substituição do vocábulo “pandemias” por **epidemias** ou por **endemias** não altera o sentido da informação, visto que são palavras sinônimas.

QUESTÃO 6

Com base nas regras vigentes relativas à acentuação gráfica e ao emprego do sinal indicativo de crase, assinale a alternativa correta.

- (A) Na oração “reforçou a importância” (linhas 2 e 3), deve-se inserir o acento indicativo de crase, pois o verbo reforçar é regido pela preposição a.
- (B) As palavras “saúde” (linha 6) e “País” (linha 7) são acentuadas segundo a mesma regra.
- (C) Na expressão “Às vésperas” (linha 1), o emprego do sinal indicativo de crase é facultativo.

- (D) Os vocábulos “Já” (linha 11), “três” (linha 8) e “em” (linha 7) são monossílabos tônicos.
- (E) A palavra “não” (linha 10) é acentuada por ser paroxítona terminada em -o.

Texto 3 para responder às questões 7 e 8.



Disponível em: <<http://www.blog.saude.gov.br/index.php/entenda-ossus/53341-saiba-quais-sao-as-categorias-de-risco-clinico-com-indicacao-da-vacina-da-gripe>>. Acesso em: 7 maio 2018.

QUESTÃO 7

Considerando a oração “Vacine-se contra a gripe”, assinale a alternativa que classifica corretamente o termo sublinhado.

- (A) Pronome apassivador
- (B) Conjunção subordinativa condicional
- (C) Partícula expletiva
- (D) Índice de indeterminação do sujeito
- (E) Parte integrante do verbo

QUESTÃO 8

Todas as formas verbais utilizadas nessa campanha de vacinação estão conjugadas no

- (A) imperativo afirmativo.
- (B) presente do subjuntivo.
- (C) pretérito mais-que-perfeito do indicativo.
- (D) pretérito imperfeito do subjuntivo.
- (E) futuro do pretérito do indicativo.

Área livre

QUESTÃO 9

Considere as proposições a seguir.

P: Estudar matemática;
Q: Aprender matemática;
R: Gostar de matemática.

A sentença $Q \rightarrow (P \vee R)$ significa, a respeito da matemática, que

- (A) aprender é necessário para gostar ou estudar.
- (B) gostar e estudar são suficientes para aprender.
- (C) aprender e gostar são necessários para estudar.
- (D) aprender é suficiente para gostar e estudar.
- (E) gostar ou estudar são necessários para aprender.

QUESTÃO 10

Para coletar sangue de 30 pessoas, 12 técnicos trabalham durante 3 horas. Para coletar sangue de 40 pessoas em 2 horas, quantos técnicos são necessários?

- (A) 15
- (B) 24
- (C) 6
- (D) 20
- (E) 12

QUESTÃO 11

A senha de um sistema possui 4 algarismos distintos. Sabe-se que ela começa com 4 ou 5, e que o número 9 aparece em alguma posição. Quantas possibilidades existem para se formar essa senha?

- (A) 432
- (B) 112
- (C) 252
- (D) 336
- (E) 168

QUESTÃO 12

Em uma triagem, passaram 65 pacientes: 40 deles estavam com dores; 50, com febre; e 50, com pressão alta. Se cada paciente apresentou pelo menos dois desses sintomas, quantos apresentaram os três sintomas?

- (A) 25
- (B) 15
- (C) 10
- (D) 5
- (E) 20

Área livre

QUESTÃO 13

No que se refere ao tema cargos públicos e funções de confiança, disposto na Lei Complementar nº 840/2011, assinale a alternativa correta.

- (A) As funções de confiança, privativas de servidor efetivo, destinam-se somente às atribuições de direção.
- (B) Os cargos em comissão são de livre nomeação e exoneração pela autoridade competente.
- (C) O cargo em comissão de chefia é aquele cujo desempenho envolva atribuições da administração superior.
- (D) Atos de nomeação podem ser editados com efeito retroativo.
- (E) No ato de inscrição do concurso público, devem ser comprovados os requisitos para investidura em cargo público.

QUESTÃO 14

Acerca da prescrição da ação disciplinar, prevista na Lei Complementar nº 840/2011, assinale a alternativa correta.

- (A) A data em que o fato se tornou conhecido pela chefia da repartição onde ele ocorreu, pela chefia mediata ou imediata do servidor, ou pela autoridade competente para instaurar sindicância ou processo disciplinar é o que define quando o prazo de prescrição começa a correr.
- (B) O prazo de prescrição das infrações puníveis com advertência é de dois anos.
- (C) Os prazos de prescrição previstos na lei penal nunca são aplicados às infrações disciplinares capituladas também como crime.
- (D) As infrações puníveis com demissão são imprescritíveis.
- (E) A instauração de processo disciplinar não interrompe a prescrição.

QUESTÃO 15

Segundo a Lei Orgânica do Distrito Federal, é competência privativa do Distrito Federal

- (A) fomentar a produção agropecuária e organizar o abastecimento alimentar.
- (B) preservar a fauna, a flora e o cerrado.
- (C) zelar pela guarda da Constituição Federal.
- (D) combater as causas da pobreza, a subnutrição e os fatores de marginalização.
- (E) dispor quanto à utilização de vias e logradouros públicos.

Área livre

QUESTÃO 16

De acordo com a Lei Orgânica do Distrito Federal, a atribuição de expedir instruções para a execução das leis, dos decretos e dos regulamentos é competência do(s)

- (A) vice-governador do Distrito Federal.
- (B) Conselho de Governo.
- (C) secretários de Estado do Distrito Federal.
- (D) presidente da Câmara Legislativa.
- (E) presidente do Tribunal de Justiça do Distrito Federal e Territórios.

QUESTÃO 17

Com base na Lei Orgânica do Distrito Federal e acerca dos servidores públicos, assinale a alternativa correta.

- (A) A servidora gestante ou lactante tem proteção especial, inclusive mediante a adequação ou mudança temporária das respectivas funções, quando for recomendável à respectiva saúde ou à do nascituro.
- (B) Os servidores públicos têm direito à duração do trabalho normal não superior a sete horas diárias.
- (C) A associação sindical é defesa ao servidor público.
- (D) O servidor em substituição não tem direito à gratificação do titular.
- (E) As entidades representativas dos servidores públicos do Distrito Federal podem realizar a defesa dos direitos da categoria em questões administrativas; o mesmo não vale para as questões judiciais.

SISTEMA ÚNICO DE SAÚDE (SUS) Questões de 18 a 22

QUESTÃO 18

Com o desdobramento da ideia de universalidade, é o princípio que assegura que a disponibilidade dos serviços de saúde considere as diferenças entre os diversos grupos de indivíduos.

O texto apresentado se refere à (ao)

- (A) rede regionalizada e hierarquizada.
- (B) participação da comunidade.
- (C) acesso universal e igualitário.
- (D) equidade da atenção.
- (E) descentralização, com direção única em cada esfera de governo.

QUESTÃO 19

Com relação ao Decreto nº 7.508/2011, que regulamenta a Lei nº 8.080/1990, assinale a alternativa correta.

- (A) Rede de Atenção à Saúde é a descrição geográfica da distribuição de recursos humanos e de ações e serviços de saúde ofertados pelo Sistema Único de Saúde e pela iniciativa privada.
- (B) As Regiões de Saúde serão instituídas pelo Estado, em articulação com os municípios, respeitadas as diretrizes gerais pactuadas.
- (C) A criação de outras Portas de Entrada às ações e aos serviços de saúde, não previstas no decreto, é vedada.

- (D) O acesso universal e igualitário às ações e aos serviços de saúde será ordenado pela atenção terciária e deve ser fundado na avaliação da gravidade do risco.
- (E) A integralidade da assistência à saúde se inicia na Rede de Atenção à Saúde e finaliza-se no nível de saúde que o paciente escolher.

QUESTÃO 20

O objetivo da Política Nacional de Gestão Estratégica e Participativa no SUS (ParticipaSUS) é orientar as ações de governo na promoção, na qualificação e no aperfeiçoamento da gestão estratégica e democrática das políticas públicas, no âmbito do Sistema Único de Saúde (SUS). Acerca dessa política, assinale a alternativa correta.

- (A) A respectiva proposta consiste na fragilização da mobilização e do controle social mediante a criação de canais de comunicação entre o cidadão e o governo.
- (B) O componente “gestão participativa” é um processo sistemático e contínuo de acompanhamento dos indicadores de saúde e da execução das políticas de saúde.
- (C) A gestão participativa é uma estratégia transversal, presente nos processos cotidianos da gestão do SUS, que possibilita a formulação e a deliberação pelo conjunto de atores no processo de controle social.
- (D) As ouvidorias são canais democráticos de comunicação, destinados a receber simplesmente reclamações dos cidadãos, com o objetivo de fortalecer o SUS.
- (E) A auditoria é o conjunto de técnicas que visa a fiscalizar a participação do cidadão por meio da criação de espaços de investigação.

QUESTÃO 21

Considerando que, segundo o artigo 199 da Constituição Federal (1988), a assistência à saúde é livre à iniciativa privada, assinale a alternativa correta.

- (A) A remoção de órgãos, tecidos e substâncias humanas para fins de transplante, pesquisa e tratamento deve ser autorizada mediante comercialização.
- (B) As entidades com fins lucrativos têm preferência.
- (C) A destinação de recursos públicos para auxílios às instituições privadas é permitida.
- (D) A participação direta de qualquer empresa estrangeira na assistência à saúde no País é autorizada.
- (E) As instituições privadas poderão participar de forma complementar do Sistema Único de Saúde, segundo diretrizes deste, mediante contrato de direito público ou convênio.

Área livre

QUESTÃO 22

O Brasil foi o primeiro país a criar a própria Comissão Nacional sobre Determinantes Sociais da Saúde (CNDSS), integrando-se ao movimento global em torno dos determinantes sociais da saúde (DSS), desencadeado pela Organização Mundial da Saúde (OMS). Quanto aos DSS, assinale a alternativa correta.

- (A) Segundo essa concepção, enfrentar as causas das causas das determinações econômicas e sociais mais gerais dos processos saúde-enfermidade envolve ações apenas no sistema de atenção à saúde.
- (B) O relatório final ressaltou a necessidade da busca por estratégias centradas na prevenção da saúde.
- (C) No relatório final, foi proposta a criação de espaços institucionais para o enfrentamento dos DSS.
- (D) Programas de apoio a projetos de pesquisa são dispensáveis, uma vez que as evidências científicas a respeito dos DSS são suficientes para direcionar rumos novos ao modelo.
- (E) A participação social deve ser revista, pois o tema exige um nível instrução não acessível a toda a população.

ATUALIDADES Questões de 23 a 25

QUESTÃO 23



(Figura ampliada na página 13)

Levando-se em consideração o mapa da Região Integrada de Desenvolvimento do Distrito Federal e do Entorno (RIDE/DF), assinale a alternativa correta.

- (A) Unai, Buritis e Cabeceira Grande são municípios pertencentes ao estado de Minas Gerais, mas que compõem a região metropolitana ou RIDE do Distrito Federal.
- (B) Planaltina (DF) e Planaltina de Goiás são os mesmos municípios; no entanto, a parte goiana é denominada Brasilinha.
- (C) Mimoso (GO), Água Fria (GO) e Padre Bernardo (GO) são municípios que não são fronteiriços com o Distrito Federal.
- (D) Formosa (GO) e Unai (MG) são municípios que têm na agropecuária as principais atividades econômicas; no entanto, disputam o comércio do Distrito Federal em igualdade de condições, haja vista que são fronteiriços e que dispõem das mesmas estruturas rodoviárias.

- (E) A RIDE é uma formação econômica que só existe no Distrito Federal e em Goiás, sendo mais um instrumento político a ser agregado ao Brasil.

QUESTÃO 24

Uma das mais importantes características de Brasília é o fato de que a capital brasileira não é apenas uma cidade com uma proposta urbanística moderna, mas possui também um papel geoeconômico e ideológico facilmente identificado no(a)

- (A) respectivo papel econômico centralizado nas atividades industriais.
- (B) autossuficiência agrícola estabelecida na região metropolitana, exportando o excedente para outras Unidades da Federação.
- (C) priorização das atividades manufatureiras, atraídas pela abundância de matérias-primas.
- (D) ênfase dada ao setor de atividades econômicas primárias, especialmente a mineração.
- (E) respectiva vocação política e na predominância das atividades do setor terciário.

QUESTÃO 25

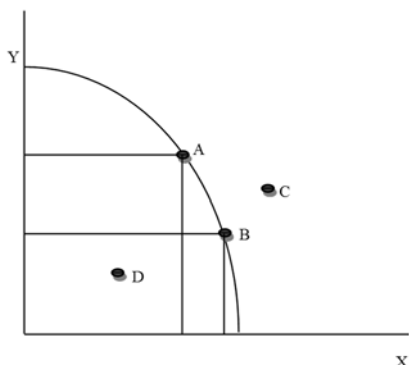
A região central de Brasília registrou, no dia 2 de abril de 2018, significativos tremores de terra, sentidos em vários prédios da região. Esse fenômeno natural causou certo pânico e a imediata desocupação, por parte de trabalhadores e residentes de Brasília, dos principais prédios localizados na capital federal.

A esse respeito, assinale a alternativa que indica a causa do fenômeno sentido em Brasília.

- (A) Atividade vulcânica na região circunvizinha de Brasília.
- (B) Tempestade de meteoritos.
- (C) Movimentação da massa de ar continental equatorial.
- (D) Movimentação de placas tectônicas.
- (E) Terremoto cujo epicentro foi localizado no continente africano.

Área livre

QUESTÃO 26



Considere a curva de transformação na figura apresentada. O deslocamento da curva permite atingir, a longo prazo, níveis mais elevados de produção e consumo.

Com base no exposto, é correto afirmar que o deslocamento da curva para a direita é causado por

- (A) progresso tecnológico.
- (B) redução na demanda agregada.
- (C) queda da inflação.
- (D) redução da carga tributária.
- (E) elevação da oferta agregada.

QUESTÃO 27

De acordo com a Emenda Complementar nº 29/2000, que trata do financiamento das ações e dos serviços públicos de saúde, assinale a alternativa que indica a base de cálculo para a definição dos recursos mínimos a serem aplicados em saúde nos estados e no Distrito Federal.

- (A) Receita de Impostos
(+) Receitas de Transferências da União
- (B) Receitas arrecadadas com o ICMS, o IPVA e o ITCDM
(+) Quota-Parte do Fundo de Participação dos Estados (FPE)
(-) Quota-Parte do Fundo de Participação dos Municípios (FPM)
- (C) Receitas de Transferências da União
(-) 25% do ICMS
(-) 50 do IPVA
(-) 25% do IPI – Exportação
- (D) Receita de Impostos Próprios
(+) Receitas de Transferências da União
(-) Transferências Financeiras Constitucionais e Legais aos Municípios
- (E) Receita de impostos
(+) Quota-Parte do Fundo de Participação dos Estados (FPE)
(+) Quota-Parte do IPI – Exportação
(+) Transferências da Lei Complementar nº 87/1996 (Lei Kandir)

QUESTÃO 28

O modelo de financiamento da saúde adotado no Brasil com a Constituição Federal de 1988 é o

- (A) contributivo ou bismarckiano, financiado por contribuições compulsórias patronais e de trabalhadores.
- (B) previdencialista não universal, financiado por contribuições sociais de empresas e dos trabalhadores.
- (C) assistencialista não universal, financiado por contribuições das empresas e dos trabalhadores, sem a participação de recursos fiscais.
- (D) assistencialista, voltado somente para a atenção à saúde das camadas de baixa renda.
- (E) anglo-saxão ou beveridgiano, financiado por impostos gerais.

QUESTÃO 29

Acerca da análise custo-benefício aplicada à saúde, assinale a alternativa correta.

- (A) Não atribui valor monetário aos impactos das intervenções em saúde.
- (B) Destina-se à escolha da melhor estratégia para atingir um determinado objetivo.
- (C) Consiste em atribuir valores monetários aos custos e benefícios associados a uma intervenção em saúde e apurar o valor atual do benefício líquido.
- (D) São medidos os impactos das intervenções em saúde em unidades físicas, como, por exemplo, número de doenças evitadas, internações prevenidas, casos detectados, número de vidas salvas etc.
- (E) Apresenta, como principal vantagem em relação a outros métodos, a objetividade na atribuição de valor monetário ao benefício clínico, como, por exemplo, o valor de uma vida e quanto a sociedade está disposta a pagar para salvar uma vida.

Área livre

QUESTÃO 30

As informações a seguir, referentes ao ano de 20X1, foram extraídas do sistema de contas nacionais de uma economia hipotética.

Valor monetário de venda de serviços e produtos finais produzidos: \$ 150.000,00
Importação de matérias-primas: \$ 30.000,00
Depreciação: \$ 20.000,00
Impostos indiretos: \$ 40.000,00
Subsídios: \$ 30.000,00

Com base apenas nessas informações, o valor do produto interno bruto a custo de fatores (PIBcf), em 20X1, totalizou

- (A) \$ 90.000,00.
- (B) \$ 110.000,00.
- (C) \$ 100.000,00.
- (D) \$ 120.000,00.
- (E) \$ 140.000,00.

QUESTÃO 31

O balanço de pagamentos (BP) é um registro contábil das transações econômicas de um país com o resto do mundo. A respeito da estrutura e da composição do BP, assinale a alternativa correta.

- (A) Os pagamentos e recebimentos sem contrapartida de um país para o outro, como as remessas de dinheiro e as doações, integram o grupo transferências unilaterais do balanço de transações correntes.
- (B) O excesso de gastos dos residentes no exterior com viagens e turismo aumenta o *deficit* da balança comercial.
- (C) Sempre que as importações superam as exportações, há *deficit* em transações correntes.
- (D) O balanço de capitais registra os investimentos dos residentes no exterior, chamados de investimentos diretos, e dos não residentes no país, chamados de investimentos em carteira.
- (E) Os investimentos em títulos e ações de empresas nacionais que não residentes fazem no país classificam-se como investimento direto.

Informações para responder às questões 32 e 33.

Considere a função consumo keynesiana do tipo $C = A + bY_d$ para uma economia hipotética, em que:

o consumo agregado é C;
o consumo autônomo $A = 60$;
a propensão marginal a consumir $b = 0,8$; e
a renda nacional disponível $Y_D = \$ 1.000,00$.

QUESTÃO 32

Com base nessas informações, assinale a alternativa correta com relação a essa economia.

- (A) A propensão marginal a poupar é 6%.
- (B) O consumo é \$ 1.060,00.

- (C) Um aumento de \$ 100,00 na renda eleva o consumo para \$ 140,00 ($\$ 80,00 + \$ 60,00$).
- (D) O consumo corresponde a 60% da renda Y_d .
- (E) A poupança agregada é \$ 140,00.

QUESTÃO 33

Sabendo que, para essa economia, os impostos correspondem a 20% da renda nacional Y, se Y elevar-se para \$ 1.500,00, a propensão média a consumir, medida pela razão entre o consumo C e a renda disponível Y_d , será

- (A) 50%.
- (B) 80%.
- (C) 85%.
- (D) 0,2.
- (E) 0,8.

QUESTÃO 34

O cálculo do resultado primário do setor público permite mensurar o esforço fiscal executado pelo governo.

Considere as seguintes informações:

Gastos públicos não financeiros – R\$ 53 bilhões;
Arrecadação – R\$ 61 bilhões;
Taxa de juros nominal – 10%;
Estoque da dívida pública – R\$ 100 bilhões.

Com base no exposto, assinale a alternativa correta.

- (A) A necessidade de financiamento do setor público no conceito operacional (NFSPco) foi R\$ 10 bilhões.
- (B) Houve *superavit* primário de R\$ 2 bilhões.
- (C) O *deficit* nominal foi maior que a NFSPcn.
- (D) Houve *superavit* operacional de R\$ 8 bilhões.
- (E) A necessidade de financiamento do setor público no conceito nominal (NFSPcn) foi R\$ 2 bilhões.

Área livre

QUESTÃO 35

A teoria econômica identifica três funções ou papéis para o setor público na economia. No que se refere à função alocativa, assinale a alternativa correta.

- (A) Visa a promover ajustes na distribuição de renda.
- (B) Faz uso de políticas fiscais anticíclicas a fim de evitar as flutuações no produto, no emprego e na renda.
- (C) Utiliza como principal instrumento de transferência de renda a Previdência e Assistência Social.
- (D) Na presença de falhas de mercados como bens públicos, externalidades e monopólios naturais, justifica-se a ação do governo complementando a ação do mercado.
- (E) Seguro-desemprego e impostos progressivos são exemplos de estabilizadores automáticos que atuam quando ocorrem os ciclos da economia.

QUESTÃO 36

De acordo com o Manual Técnico do Orçamento (MTO-2018), a classificação por natureza da despesa é feita por um código numérico que informa a categoria econômica da despesa, o grupo a que ela pertence, a modalidade de aplicação e o elemento. Acerca desse tema, assinale a alternativa correta.

- (A) A despesa pública é classificada em dois grupos de natureza de despesa, identificados pelos algarismos 3 (despesas correntes) e 4 (despesas de capital).
- (B) A classificação por categoria econômica segrega as despesas que contribuem, diretamente, para o aumento do patrimônio do governo das despesas que não contribuem, diretamente, para o aumento do patrimônio do governo.
- (C) O primeiro algarismo do código numérico identifica a categoria econômica que pode ser combinada com qualquer um dos seis códigos utilizados para identificar os grupos de natureza de despesa.
- (D) As transferências à União, a estados e a municípios, identificadas, respectivamente, pelos códigos 20, 30 e 40, são exemplos de elemento de despesa.
- (E) As despesas orçamentárias com a amortização da dívida pública classificam-se como despesas correntes.

QUESTÃO 37

Quanto aos processos de elaboração, execução e controle do orçamento público no Brasil, assinale a alternativa correta.

- (A) O Sistema de Planejamento e de Orçamento Federal é integrado pelo Órgão Central e por órgãos setoriais e específicos, incluindo-se, entre as finalidades desse sistema, a formulação do plano plurianual, das diretrizes orçamentárias e dos orçamentos anuais.
- (B) A competência para legislar quanto ao orçamento público é exclusiva da União.
- (C) Embora o artigo 34 da Lei nº 4.320/1967 estabeleça que o exercício financeiro coincidirá com o ano civil, a Lei Orçamentária Anual (LOA) poderá prever receitas e despesas para um período superior a um ano.
- (D) Na previsão das receitas públicas, é facultado ao Poder Executivo deduzir as parcelas que serão transferidas para outros entes, para as quais haja previsão constitucional.

- (E) Em obediência ao princípio da unidade, a LOA deverá consolidar os orçamentos de todos os entes da Federação.

QUESTÃO 38

Em relação aos meios de pagamento no conceito M1, assinale a alternativa correta.

- (A) Correspondem à soma do papel moeda emitido pelo Banco Central com o total de depósitos à vista nos bancos comerciais.
- (B) Englobam toda a moeda emitida pelo Banco Central, incluindo a parcela que está nos caixas dos bancos comerciais.
- (C) São ativos de alta liquidez possuídos pelo público e pelo setor bancário.
- (D) São ativos com liquidez absoluta, que podem ser usados sem restrições para pagamentos a terceiros.
- (E) Correspondem à soma do papel moeda em circulação com as reservas bancárias.

QUESTÃO 39

Em determinada economia, os meios de pagamento, no ano 20X1, estão distribuídos da seguinte maneira:

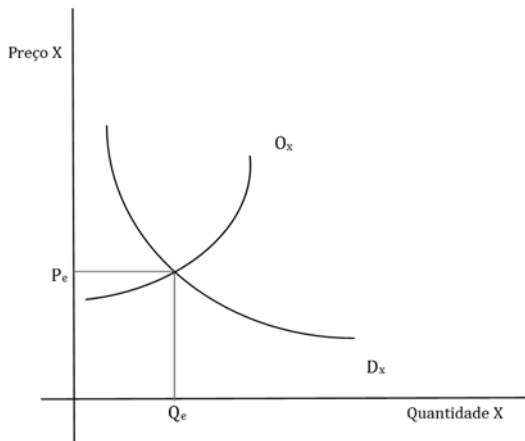
sob a forma de moeda manual (coeficiente c) = 20%;
sob a forma de moeda escritural (coeficiente d) = 80%;
relação reservas bancárias/depósitos à vista (coeficiente r) = 25%.

Considerando que os meios de pagamento (M1) totalizaram R\$ 700 bilhões e a base monetária (BM) totalizou R\$ 280 bilhões, o multiplicador monetário dessa economia é

- (A) 2,10.
- (B) 2,35.
- (C) 2,50.
- (D) 2,60.
- (E) 3,00.

Área livre

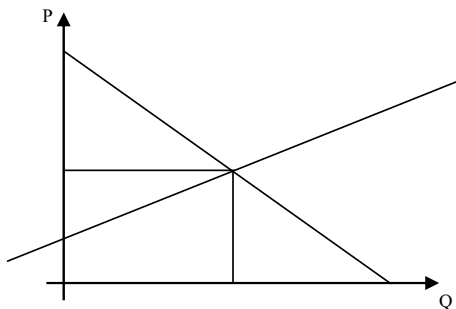
QUESTÃO 40



Acerca do efeito do aumento da renda dos consumidores sobre a demanda de um bem normal, como apresentado no gráfico, assinale a alternativa correta.

- (A) A curva de demanda de X se deslocará para a esquerda.
- (B) A intercessão das curvas de oferta e demanda do bem X se dará a um preço e quantidade de equilíbrio maiores.
- (C) A curva de oferta de X se deslocará para a direita.
- (D) A quantidade demandada do bem X subirá e o preço cairá.
- (E) A quantidade demandada do bem Y aumentará e a do bem X diminuirá.

QUESTÃO 41



As curvas de oferta e procura para o bem X são, respectivamente, $Q_O = 40P - 100$ e $Q_D = 200 - 20P$, conforme a figura apresentada.

No preço e quantidade de equilíbrio ($Q_O = Q_D$), o excedente do consumidor é

- (A) 250 unidades.
- (B) R\$ 5,00.
- (C) 100 unidades.
- (D) R\$ 10,00.
- (E) R\$ 250,00.

QUESTÃO 42

A respeito da elasticidade-preço da demanda (EPD) de um bem, assinale a alternativa correta.

- (A) Para bens com demanda inelástica, uma variação percentual do preço implica em uma variação mais que proporcional na quantidade demandada.
- (B) Se a demanda do bem X é inelástica, uma variação percentual no preço provoca uma variação percentual da quantidade demandada na mesma proporção e sentido.
- (C) Se, em decorrência do aumento do preço do bem, há o aumento da receita total dos produtores, trata-se de um bem com demanda elástica.
- (D) Se $EPD = 1$, o efeito da variação do preço sobre a receita total dos produtores é anulado pela variação em sentido contrário na quantidade demandada.
- (E) Se, em decorrência de um aumento de 20% no preço do bem, a quantidade demandada do bem variar 10%, então $EPD > 1$.

QUESTÃO 43

Considere uma função de produção de curto prazo do tipo $Y = f(K, L)$, em que Y é o produto total, K é o fator capital e L é o fator trabalho. Com relação ao comportamento das curvas produto total (PT), produto marginal (PMg) e produto médio (PMe), assinale a alternativa correta.

- (A) $Y = f(K, L)$ é crescente para qualquer valor de K, com L fixo.
- (B) Quando $PMg = 0$, PT atinge o valor máximo.
- (C) A curva PMg situa-se acima da curva PMe para qualquer valor de K.
- (D) Quando $PMg = PMe$, Y atinge o valor máximo.
- (E) Quando $PMg = 0$, PMe torna-se negativo.

QUESTÃO 44

No que se refere a um mercado em monopólio, assinale a alternativa correta.

- (A) Considerando que a curva de demanda do monopolista é elástica, a receita marginal é menor que o preço.
- (B) A curva de demanda do monopolista confunde-se com a curva de demanda do mercado e é infinitamente elástica.
- (C) A condição de monopolista permite aumentar a oferta do produto sem necessidade de redução do preço.
- (D) A condição de maximização de lucros em monopólio ocorre quando a receita marginal é igual a zero.
- (E) Quando o custo marginal se iguala à receita marginal, o lucro do monopolista é zero.

QUESTÃO 45

Ano	% de reajuste de preços	Ano-base 2012 = 100
2010	5,00%	
2011	6,50%	
2012	6,00%	100
2013	5,00%	
2014	5,00%	?
2015	7,00%	
2016	7,50%	

*Valores ilustrativos

O quadro apresentado mostra os percentuais de reajustes de preços autorizados pelo governo para os medicamentos no período de 2010 a 2016.

Considerando-se como ano-base 2012 = 100, o índice do ano 2014 foi

- (A) 105.
- (B) 110.
- (C) 110,25.
- (D) 116.
- (E) 116,45.

QUESTÃO 46

ANO	Fluxo de caixa	Fluxo de caixa descontado Taxa de desconto 10%
0	-30.000,00	-30.000,00
1	11.000,00	?
2	11.954,80	9.880,00
3	9.979,84	7.498,00
4	7.991,06	5.458,00

Considere um projeto com investimento inicial de \$ 30.000,00 e fluxo de caixa estimado conforme o quadro apresentado.

Sabendo que a taxa interna de retorno (TIR) do investimento é 14,5%, o valor presente líquido (VPL) do investimento é R\$

- (A) R\$ 2.836,00.
- (B) R\$ 4.150,60.
- (C) R\$ 10.000,00.
- (D) R\$ 32.836,00.
- (E) R\$ 0,00 (zero).

QUESTÃO 47

Um projeto com investimento inicial de R\$ 500.000,00 e fluxo de caixa previsto para cinco períodos tem taxa interna de retorno (TIR) de 15%. Para avaliação da viabilidade do projeto, foi calculado o valor presente líquido (VPL) utilizando-se de uma taxa de desconto (TD) de 10%. Com base nessas informações, assinale a alternativa correta.

- (A) O VPL é negativo.
- (B) O VPL é positivo para qualquer $TD < TIR$.
- (C) O VPL é igual a R\$ 450.000,00.
- (D) Quanto maior a TD utilizada, maior será o VPL calculado.
- (E) Se $TD = 3\%$ ao ano, então o VPL é igual a R\$ 0,00 (zero).

QUESTÃO 48

Um capital C_0 foi aplicado, por um ano, à taxa de juros i , tal que $C_1 = C_0(1+i)^1$. O mesmo capital foi aplicado por 12 meses à taxa de juros mensal i_m , tal que $C_m = C_0(1+i_m)^m$, em que C_1 e C_m são o montante do capital no final do período da aplicação. Acerca do exposto, a condição para que as taxas i e i_m sejam equivalentes é

- (A) $i > i_m$.
- (B) $i = i_m$.
- (C) $C_1 < C_m$.
- (D) $C_1 > C_m$.
- (E) $C_1 = C_m$.

QUESTÃO 49

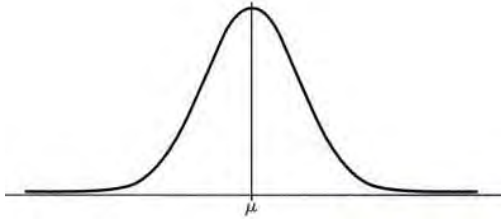
Suponha que um posto de saúde tem, em estoque, 600 doses de vacina contra gripe. Dessas doses, 30% são importadas e o restante, nacional. Quando aplicada em um paciente, a vacina importada tem 20% de probabilidade de causar reação alérgica, enquanto a vacina nacional tem 30% de probabilidade.

Considerando que, após tomar a vacina, um paciente apresente reação alérgica, a probabilidade de que ele tenha tomado a vacina nacional é de

- (A) $\frac{126}{420}$.
- (B) $\frac{420}{600}$.
- (C) $\frac{7}{9}$.
- (D) 27%.
- (E) 21%.

Área livre

QUESTÃO 50



A variável normal padronizada Z é dada por $Z = \frac{(X-\mu)}{\sigma}$, em que X é uma variável que tem distribuição normal de média μ e variância σ^2 , conforme a figura apresentada. Considerando uma variável X que tem distribuição normal de média $\mu = 15,6$ e variância $\sigma^2 = 0,25$, assinale a alternativa que indica a probabilidade $p(15 < X < 16,2)$.

Dado: Tabela – Áreas de uma distribuição normal padrão

Z	0,00	Z	0,00	Z	0,00
0,1	0,0398	1,1	0,3643	2,1	0,4821
0,2	0,0793	1,2	0,3849	2,2	0,4861
0,3	0,1179	1,3	0,4032	2,3	0,4893
0,4	0,1554	1,4	0,4192	2,4	0,4918
0,5	0,1915	1,5	0,4332	2,5	0,4938
0,6	0,2258	1,6	0,4452	2,6	0,4953
0,7	0,2580	1,7	0,4554	2,7	0,4965
0,8	0,2881	1,8	0,4641	2,8	0,4974
0,9	0,3159	1,9	0,4713	2,9	0,4981
1,0	0,3413	2,0	0,4772	3,0	0,4987

- (A) 0,1151
- (B) 0,2302
- (C) 0,3849
- (D) 0,7698
- (E) 0,8849

Área livre

RIDE - REGIÃO INTEGRADA DE DESENVOLVIMENTO DO DISTRITO FEDERAL E ENTORNO

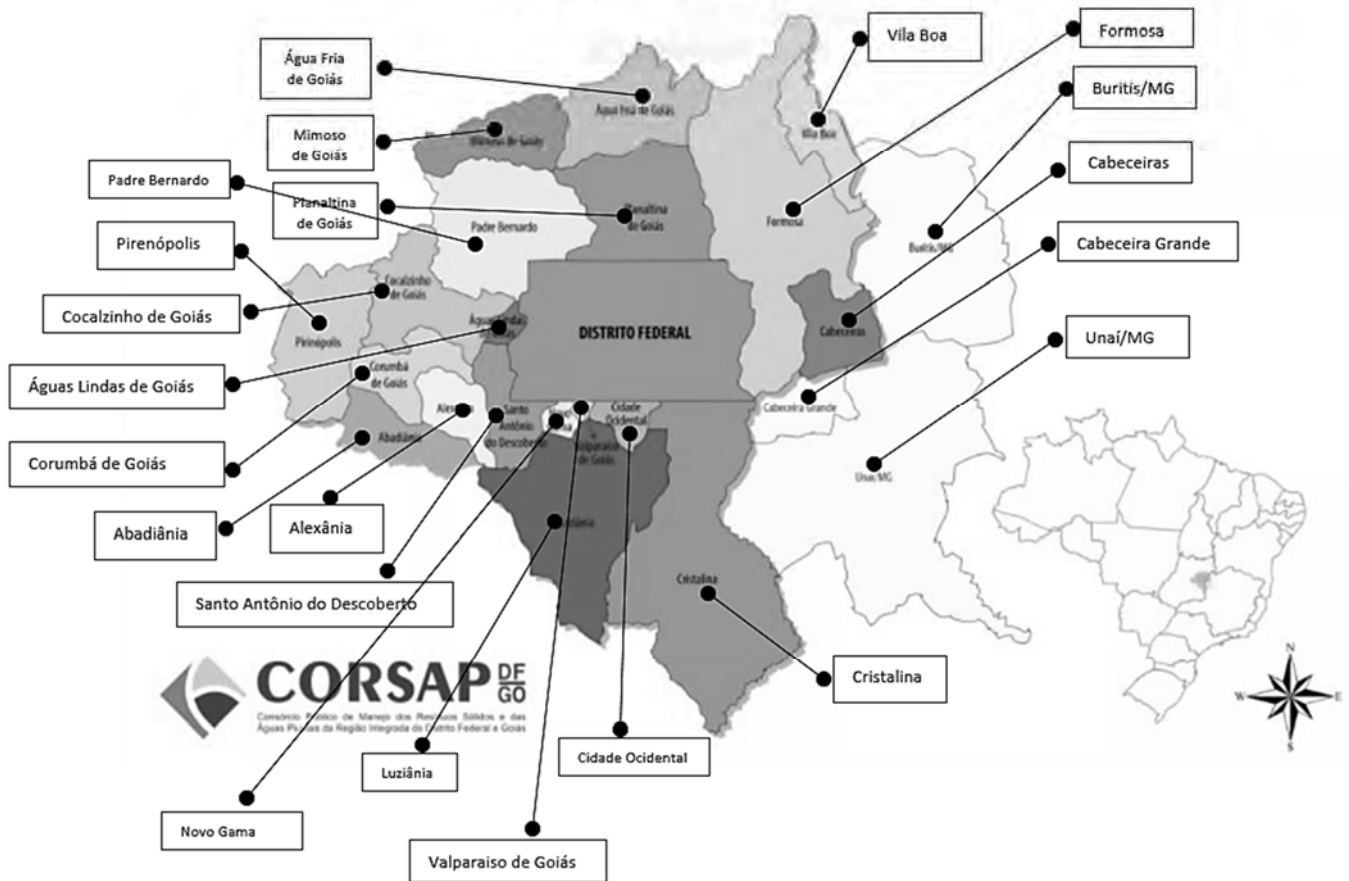


Figura ampliada da questão 23.