


PREFEITURA DE SANTA LUZIA D'OESTE

MOTORISTA VEÍCULOS LEVES

Código da Prova

F09 X
TARDE

 Verifique se o Código da Prova é o mesmo do seu cartão de respostas.

 Duração da prova: 3 horas e 30 minutos

TRANSCREVA, EM ESPAÇO DETERMINADO NO SEU CARTÃO DE RESPOSTAS,
A FRASE ABAIXO PARA O EXAME GRAFOTÉCNICO:

“Os problemas são oportunidades para se mostrar o que sabe.”
(Duke Ellington)



ATENÇÃO

Este caderno contém 50 (cinquenta) questões de múltipla escolha, cada uma com 05 (cinco) alternativas de resposta – A, B, C, D e E.

Verifique se este material está em ordem. Caso contrário, notifique imediatamente o fiscal.
O tempo de duração da prova inclui o preenchimento do Cartão de Respostas.

LEIA AS INSTRUÇÕES ABAIXO:

Siga, atentamente, a forma correta de preenchimento do Cartão de Respostas, conforme estabelecido no próprio. O Cartão de Respostas é personalizado, impossibilitando sua substituição.

Por motivo de segurança:

- O candidato só poderá se retirar definitivamente da sala após 1 (uma) hora do início efetivo da prova.
- Somente faltando 1 (uma) hora para o término da prova, o candidato poderá retirar-se levando o seu Caderno de Questões.
- O candidato que optar por se retirar sem levar o seu Caderno de Questões não poderá copiar suas respostas por qualquer meio.
- Ao terminar a prova, o candidato deverá se retirar imediatamente do local, não sendo possível nem mesmo a utilização dos banheiros e/ou bebedouros.

Candidato, ao terminar a prova, é de sua responsabilidade entregar ao fiscal o Cartão de Respostas assinado. Não se esqueça dos seus pertences.

Os três últimos candidatos deverão permanecer na sala até que o último candidato entregue o Cartão de Respostas.

O fiscal de sala não está autorizado a alterar quaisquer dessas instruções. Em caso de dúvida, solicite a presença do coordenador local.

BOA PROVA!

LÍNGUA PORTUGUESA

TEXTO I

Vocações

Todos diziam que a Leninha, quando crescesse, ia ser médica. Passava horas brincando de médico com as bonecas. Só que, ao contrário de outras crianças, quando largou as bonecas não perdeu a mania. A primeira vez que tocou no rosto do namorado foi para ver se estava com febre. Só na segunda é que foi carinho. Ia porque ia ser médica. Só tinha uma coisa: não podia ver sangue.

– Mas Leninha, como é que...

– Deixa que eu me arranjo.

Não que ela tivesse nojo de sangue. Desmaiava. Não podia ver carne mal passada. Ou Ketchup. Um arranhãozinho era o bastante para derrubá-la. Se o arranhão fosse em outra pessoa ela corria para socorrê-la - era o instinto médico -, mas botava o curativo com o rosto virado.

– Acertei? Acertei?

– Acertou o Joelho. Só que é na outra perna!

Mas fez vestibular para medicina, passou e preparou-se para começar o curso.

– E as aulas de anatomia, Leninha? Os cadáveres?

– Deixa que eu me arranjo.

Fez um trato com a Olga, colega desde o secundário. Quando abrissem um cadáver, fecharia os olhos. A Olga descreveria tudo para ela.

– Agora estão tirando o fígado. Tem uma cor meio...

– Por favor, sem detalhes.

Consegui fazer todo o curso de medicina sem ver uma gota de sangue. Houve momentos em que precisou explicar os olhos fechados.

– É concentração, professor.

Mas se formou. Hoje é médica, de sucesso. Não na cirurgia, claro. Se bem que chegou a pensar a convidar a Olga para fazerem uma dupla cirúrgica, ela operando com o rosto virado e a Olga dando as coordenadas.

– Mais pra esquerda... Aí. Agora corta!

Está feliz. Inclusive se casou, pois encontrou uma alma gêmea. Foi num aeroporto. No bar onde foi tomar um cafezinho enquanto esperava a chamada para o embarque puxou conversa com um homem que parecia muito nervoso.

– Algum problema? – perguntou, pronta para medicá-lo.

– Não – tentou sorrir o homem – É o avião...

– Você tem medo de voar?

– Pavor. Sempre tive.

– Então porque voa?

– Na minha profissão, é preciso.

– Qual é a sua profissão?

– Piloto.

Casaram-se uma semana depois.

(VERÍSSIMO, Luís Fernando. A mãe de Freud. Círculo de Livro, 1985.)

Questão 1

Compreende-se do Texto I que:

- (A) Leninha tinha vocação para cirurgia.
- (B) Leninha encontrou sua alma gêmea.
- (C) Olga não podia ver sangue.
- (D) Olga casou-se com um piloto.
- (E) Olga desmaiava ao ver sangue.

Questão 2

De acordo com o texto I, a solução de Leninha para as aulas de anatomia era:

- (A) os olhos fechados.
- (B) sua colega, Olga.
- (C) sua concentração.
- (D) sua vocação.
- (E) não ver sangue.

Questão 3

“– Você tem medo de voar?

– Pavor. Sempre tive.”

Os travessões indicam:

- (A) a mudança de interlocutor nos diálogos.
- (B) realce de termos intercalados.
- (C) comentários do narrador.
- (D) frases interrogativas diretas.
- (E) Falam irônicas.

Questão 4

“A primeira vez que tocou no rosto do namorado foi para ver se estava com febre.” O termo destacado é um numeral:

- (A) cardinal.
- (B) fracionário.
- (C) ordinal.
- (D) multiplicativo.
- (E) coletivo.

Questão 5

Assinale a alternativa que está na Voz Passiva.

- (A) A médica fez a cirurgia.
- (B) Ele guardou os documentos.
- (C) A cirurgia foi realizada por mim.
- (D) Ele anotou todas as perguntas.
- (E) Ela se cortou com o bisturi.

Questão 6

Assinale a alternativa em que todas as palavras estão corretas quanto à acentuação.

- (A) vezes, heróico.
- (B) círculo, portatil.
- (C) baú, alguém.
- (D) inglês, pólicia.
- (E) estátua, heroico.

Questão 7

A regência verbal segue as prescrições da norma culta em:

- (A) esta é a música que mais admiro.
- (B) boa era a história que se lembrou quando estava aqui.
- (C) esqueceu do retrato.
- (D) não abdicarei meus direitos.
- (E) o grupo chega a Londres à noite.

Questão 8

Assinale a alternativa que segue as prescrições da norma culta.

- (A) Para eu realizar o estudo é fundamental.
- (B) Preciso falar contigo.
- (C) Há alguma coisa para mim fazer?
- (D) Não há nada entre você e eu.
- (E) Não há nada entre você e mim.

Questão 9

Alternativa em que se justifica o uso do hífen como em "Micro-ondas" é:

- (A) auto-escola.
- (B) aicro-esfera.
- (C) auto-ajuda.
- (D) anti-inflamatório.
- (E) contra-indicação.

Questão 10**TEXTO II**

"**Imensas** noites de inverno,
Com **frias** montanhas **mudas**,
E o mar **negro**, mais **eterno**,
Mais **terrível**, mais **profundo**."
(Cecília Meireles)

As palavras destacadas são classificadas morfologicamente como:

- (A) advérbios.
- (B) pronomes indefinidos.
- (C) pronomes relativos.
- (D) substantivos.
- (E) adjetivos.

MATEMÁTICA

Questão 11

Pedro foi desafiado por seu professor a calcular a expressão numérica: $\frac{2}{5} + \frac{6}{10} + 1,5 + 2,5$. O resultado correto encontrado por ele foi:

(A) 5

(B) $\frac{12}{10}$

(C) $\frac{12}{50}$

(D) $\frac{24}{10}$

(E) 4,4

Questão 12

Uma padaria consegue produzir até 200 pães em 45 minutos. Sabendo-se que ela fica aberta durante 6 horas, qual a alternativa que apresenta a maior quantidade de pães que pode ser produzida por esta padaria?

(A) 1200

(B) 1000

(C) 1400

(D) 1600

(E) 1500

Questão 13

De um total de 36 alunos de uma turma, 16 são meninos. Qual é a razão entre a quantidade de meninos e meninas desta turma?

(A) $\frac{4}{5}$

(B) $\frac{4}{9}$

(C) $\frac{4}{10}$

(D) $\frac{5}{4}$

(E) $\frac{4}{3}$

Questão 14

Dividindo a quantia de R\$ 3760,00 em 4 partes diretamente proporcionais aos números 2, 5, 6 e 7, temos como menor valor após a divisão:

(A) R\$ 300,00

(B) R\$ 370,00

(C) R\$ 376,00

(D) R\$ 940,00

(E) R\$ 1128,00

Questão 15

André ganhou um aumento salarial de 40% e passou a receber R\$ 4200,00. Qual era o valor do salário de André antes do aumento?

(A) R\$ 4000,00

(B) R\$ 2520,00

(C) R\$ 2800,00

(D) R\$ 3000,00

(E) R\$ 2900,00

Questão 16

Uma empresa realizou uma pesquisa para saber os meios de transporte utilizados por seus funcionários. Responderam a essa pesquisa, 500 funcionários, dos quais 22% disseram não usar nenhum meio de transporte, 30% utilizam carros particulares e os demais usam os ônibus. Quantos funcionários desta empresa utilizam o ônibus como meio de transporte?

(A) 240

(B) 160

(C) 150

(D) 200

(E) 300

Questão 17

A soma de 4 números consecutivos é 206. Qual o maior destes números?

(A) 50

(B) 51

(C) 52

(D) 54

(E) 53

Questão 18

A subtração de 1349 a um número multiplicado por 9 tem resultado 154. Que número é esse?

- (A) 1386
- (B) 163
- (C) 1195
- (D) 167
- (E) 164

Questão 19

Sabendo que x é igual ao m.d.c. (máximo divisor comum) de 12 e 18 e y é igual ao m.d.c. de 17 e 34, o valor da expressão $\frac{x \cdot y}{3}$ é:

- (A) 17
- (B) 34
- (C) 102
- (D) 51
- (E) 30

Questão 20

Guilherme está acompanhando 2 séries. Uma das séries lança um novo episódio a cada 7 dias e a outra a cada 5 dias. Em um determinado dia, as duas lançaram novos episódios. Após quantos dias isto acontecerá novamente?

- (A) 12
- (B) 10
- (C) 35
- (D) 15
- (E) 30

ATUALIDADES**Questão 21**

“Os ônibus do transporte coletivo de Porto Velho continuaram parados na manhã desta terça-feira (14) por conta da greve de motoristas e cobradores. O movimento grevista começou no último sábado (11/01/2020)”

G1, 14/01/2020.

Disponível em: < <https://glo.bo/2XjeVZX>>Adaptado

O que motivou a greve mencionada no trecho acima?

- (A) Atrasos nos salários e benefícios dos trabalhadores
- (B) Insegurança causada pelo aumento de assaltos aos ônibus
- (C) Reivindicações por reajuste salarial
- (D) Superlotação dos ônibus em horários de pico
- (E) Reivindicação de participação nos lucros

Questão 22

“A Organização Mundial da Saúde (OMS) definiu nesta terça-feira (11/02/2020) o nome da doença respiratória provocada pela infecção do novo coronavírus”

G1, 11/02/2020.

Disponível em: < <https://glo.bo/3gnXYpY>> Adaptado

Qual é o nome oficial da doença causada pelo novo Coronavírus (Sars-Cov-2)?

- (A) Sars-19
- (B) Covid-19
- (C) Corona-19
- (D) Gripe-19
- (E) Influenza-19

Questão 23

“A santa, conhecida popularmente como Anjo Bom da Bahia, foi uma das religiosas mais populares do Brasil graças ao trabalho social prestado aos mais pobres e necessitados, principalmente na Bahia (...)”.

Gazetaweb.globo, 13/10/2019.

Disponível em: < <https://glo.bo/34RASCP>>Adaptado

Qual religiosa brasileira tornou-se Santa após sua canonização no dia 13 de outubro de 2019?

- (A) Madre Teresa de Calcutá
- (B) Nhá Chica
- (C) Irmã Paulina do Coração Agonizante de Jesus
- (D) Irmã Dulce
- (E) Beata Bárbara Maix

Questão 24

Segundo o Ministro da Economia do Brasil “agora o país deixou o eixo de negócios com países de ideologia obsoleta, como Venezuela e Cuba, e partiu para os grandes mercados, como Estados Unidos e União Europeia”.

economia.uol, 04/07/2019.

Disponível em: < <https://bit.ly/2XkemPw>>Adaptado

Qual ministro disse a frase destacada acima da publicação do Portal Uol, em julho de 2019?

- (A) Delfim Netto
- (B) Onyx Lorenzoni
- (C) Paulo Guedes
- (D) Marcos Pontes
- (E) Sérgio Moro

Questão 25

“A Câmara dos Deputados aprovou nesta quinta-feira (26/03/2020) um projeto que prevê o pagamento a trabalhadores informais por três meses em razão da pandemia do coronavírus. A mulher que for mãe e chefe de família poderá receber o valor dobrado”.

(G1, 26/03/2020. Disponível em: < <https://glo.bo/34Jr9Oz>>Adaptado)

O valor de cada parcela do auxílio emergência, aprovado pela Câmara dos Deputados, foi de:

- (A) R\$ 1.045,00
- (B) R\$ 200,00
- (C) R\$ 400,00
- (D) R\$ 1.000,00
- (E) R\$ 600,00

Questão 26

“Na segunda-feira (19/09/2019), os portovelhenses agradeceram pela chuva que caiu durante a tarde e à noite.(...) O estado está desde o início de agosto encoberto por fumaça. Essa poluição ameaça à saúde da população”.

G1, 20/08/2019.

Disponível em: < <https://glo.bo/3bfHPjq>>Adaptado

O que causou as cinzas e fumaças no estado de Rondônia?

- (A) Tempestades
- (B) Secas
- (C) Ventanias
- (D) Queimadas
- (E) Enchentes

Questão 27

“Na última semana de janeiro de 2020, chegou ao fim uma discussão política que durou quase quatro anos. A saída do Reino Unido da União Europeia, foi uma das pautas mais importantes para o cenário sociopolítico mundial”

R7, 08/02/2020.

Disponível em: < <https://bit.ly/36ppBdn>>Adaptado

Como ficou conhecida a saída do Reino Unido da União Europeia?

- (A) *Perestroika*
- (B) *Glasnost*
- (C) *Britland*
- (D) *The Troubles*
- (E) *Brexit*

Questão 28

“Em sua conta oficial no Twitter, Luiz Henrique Mandetta anunciou na tarde desta quinta-feira (16/04/2020) sua demissão pelo presidente Jair Bolsonaro”.

Rondoniagora, 16/04/2020.

Disponível em: < <https://bit.ly/2RMZG9I>>Adaptado

De qual cargo Luiz Henrique Mandetta foi demitido?

- (A) Ministro dos Esportes
- (B) Ministro da Economia
- (C) Ministro da Saúde
- (D) Ministro do Desenvolvimento Social
- (E) Ministro da Atenção Básica em Saúde

Questão 29

“Subiu para 20 o número de fugitivos que foram recapturados após a fuga em massa da unidade prisional Agenor Martins de Carvalho (...) na região central do estado. A captura mais recente aconteceu na tarde desta segunda-feira (10/02/2020), na Zona Rural do município”

G1, 10/02/2020.

Disponível em: < <https://glo.bo/3d7Y4A5>>Adaptado

Em qual município do estado de Rondônia está localizado o presídio Agenor Martins de Carvalho onde ocorreram as folgas?

- (A) Urupá
- (B) Ji-Paraná
- (C) Rolim de Moura
- (D) Ouro Preto do Oeste
- (E) Santa Luzia D'Oeste

Questão 30

“A música brasileira está de luto. Morreu, neste sábado (06/07/2019), no Rio de Janeiro, aos 88 anos, o cantor e compositor (...) criador da bossa nova e um dos maiores nomes da MPB”

G1, 06/07/2019.

Disponível em: < <https://glo.bo/2AQXSqp>>Adaptado

O trecho acima está se referendo a morte de qual famosos violonista, cantor e compositor?

- (A) Zé Geraldo
- (B) Geraldo Azevedo
- (C) Moraes Moreira
- (D) Gilberto Gil
- (E) João Gilberto

CONHECIMENTOS ESPECÍFICOS**Questão 31**

Em tempos de pandemia do Coronavírus (COVID-19) precisamos cuidar muito bem de nossa higiene. Assinale a alternativa que melhor representa um bom hábito de higiene e saúde.

- (A) Lavar as mãos mantendo as unhas limpas, tomar banho diariamente e higienizar a boca adequadamente
- (B) Lavar as mãos mantendo as unhas limpas, tomar banho diariamente e não higienizar a boca adequadamente
- (C) Lavar as mãos mantendo as unhas limpas, não tomar banho diariamente e higienizar a boca adequadamente
- (D) Não lavar as mãos mantendo as unhas limpas, não tomar banho diariamente e não higienizar a boca adequadamente
- (E) Não lavar as mãos mantendo as unhas limpas, não tomar banho diariamente e higienizar a boca adequadamente

Questão 32

Os motoristas, mesmo os mais experientes, não podem esquecer de detalhes importantes. Para circular nas vias públicas, além do modo adequado de condução, deve-se manter o veículo em perfeito estado de conservação e funcionamento. Assinale a alternativa que corresponde a um dos itens obrigatórios de segurança que o veículo deve está equipado para poder circular.

- (A) Cinto de segurança, espelho e lanternas de freio na cor azul
- (B) Espelho, lanternas de ré na cor vermelha e para-choque
- (C) Pneus calibrados, câmbio automático e porta-luvas
- (D) Bancos de couro, lanternas de ré na cor branca e calotas
- (E) Cinto de segurança, estepe e lanternas de freio na cor vermelha

Questão 33

Gabriela trabalha em uma fábrica operando uma máquina que emite muitos ruídos durante todo o seu funcionamento. Para trabalhar com segurança, qual seria o melhor equipamento de proteção individual para reduzir os danos aos ouvidos de Gabriela?

- (A) Máscaras e filtro
- (B) Óculos e viseiras
- (C) Protetores auriculares
- (D) Luvas e mangotes
- (E) Cintos de segurança

Questão 34

Mateus se feriu ao cortar um alimento com a faca. Qual procedimento deve ser adotado para estancar o sangue?

- (A) Colocar pó de café no corte
- (B) Colocar açúcar no corte
- (C) Lavar com água sanitária
- (D) Lavar com água e sabão
- (E) Raspar com a faca

Questão 35

A Lei nº 9.503/1997, que cria o Código de Trânsito Brasileiro, fala em seu artigo 89 sobre a sinalização. Qual a ordem que prevalece na sinalização?

- (A) As ordens do agente de trânsito, seguida das indicações dos sinais e por último as indicações dos semáforos
- (B) As ordens das indicações dos sinais, seguida dos ordens do agente de trânsito e por último as indicações dos semáforos
- (C) As ordens do agente de trânsito, seguida das indicações do semáforo, e por último as indicações dos sinais
- (D) As ordens das indicações dos sinais, seguida das indicações do semáforo e por último as ordens do agente de trânsito
- (E) As indicações do semáforo, seguida das ordens do agente de trânsito e por último as indicações dos sinais






Questão 36

Sabemos que a segurança no trânsito é uma questão de convivência social e aprender como realizar primeiros socorros é uma questão de conscientização. Em caso de acidente, como acionar rapidamente o serviço de saúde local e como agir enquanto a ambulância não chega?

- (A) Manter a calma, sinalizar o local evitando outro acidente e ligar para a ambulância
- (B) Manter a calma e mexer no acidentado para saber sobre suas condições vitais
- (C) Manter a calma, dar água ou alimento à vítima e tumultuar o local do acidente
- (D) Manter a calma, sinalizar o local evitando outro acidente e dar água ou alimento à vítima
- (E) Manter a calma, ligar para a ambulância e dar água ou alimento à vítima

Questão 37

José, motorista da Secretaria Municipal de Saúde, para ir de um bairro ao outro, transitou por vias que se cruzam, mas não localizou sinalização adequada. Como prevê o Código de Trânsito Brasileiro, José deu a preferência de passagem àqueles que já estavam circulando pela rotatória. Qual a imagem que melhor representa a via citada?

- (A)  (R-2)
- (B)  (R-33)
- (C)  (R-25b)
- (D)  (R-34)
- (E)  (R-1)

Questão 38

O órgão máximo executivo de trânsito da União é o Departamento Nacional de Trânsito - DENATRAN. É ele quem cumpre e faz cumprir as leis de trânsito. É função do DENATRAN:

- (A) organizar e manter o Registro Mundial de Veículos Automotores – REMUVAM.
- (B) organizar e manter o Registro Internacional de Infrações de Trânsito – REIINF.
- (C) organizar e manter o Registro Nacional de Carteiras de Habilitação – RENACH.
- (D) promover a divulgação de trabalhos técnicos sobre trabalho e moradia.
- (E) elaborar e distribuir conteúdos programáticos para a educação militar.

Questão 39

Em caso de acidente envolvendo queimaduras, o primeiro cuidado deve ser interromper o agente causador da queimadura, ou seja, cortar esse contato da pele com a causa. Para casos de queimaduras leves, é indicado lavar o local:

- (A) com gasolina e procurar um policial
- (B) com gasolina e procurar um médico
- (C) com água corrente e procurar um médico
- (D) com água sanitária e procurar um médico
- (E) com água corrente e procurar um policial

Questão 40

Maria avistou o condutor do automóvel à sua frente colocando o braço para fora da janela e mexendo-o para cima e para baixo. Este gesto indica que o condutor:

- (A) virará à direita.
- (B) virará à esquerda.
- (C) subirá a ladeira.
- (D) descerá a ladeira.
- (E) vai diminuir a marcha e parar.

Questão 41

Marcos estacionou seu veículo em uma via sem observar a placa de sinalização que indica que é proibido parar e estacionar. Quando retornou ao local de estacionamento percebeu que o veículo tinha sido rebocado. Ele imediatamente tomou a seguinte providência:

- (A) restituiu o veículo pagando taxas e despesas com remoção e estada, além de outros encargos previstos na legislação.
- (B) restituiu o veículo sem pagar taxas e despesas com remoção e estada, além de outros encargos previstos na legislação.
- (C) pagou despesas de remoção e estada do período integral em que o veículo permaneceu no depósito 08 (oito) meses após ele ter sido rebocado.
- (D) pagou despesas de remoção e estada do período integral em que o veículo permaneceu no depósito 10 (dez) meses após ele ter sido rebocado.
- (E) não caberá remoção nos casos em que a irregularidade puder ser sanada no local da infração.

Questão 42

Relacionamento Interpessoal significa uma relação entre duas ou mais pessoas. Este tipo de relacionamento é marcado pelo contexto onde as pessoas estão inseridas, podendo ser familiar, escolar, de trabalho ou comunitário. Como fazer com que o Relacionamento Interpessoal no ambiente de trabalho seja o melhor possível?

- (A) Escolhendo colegas e chefes para desacatá-los na frente do restante da equipe
- (B) Com a cordialidade oferecida por iniciativa própria, sem esperar nada em troca
- (C) Com pessoas sem treinamento para o trabalho, sem passar confiabilidade
- (D) Relacionando-se mal com os colegas e desenvolvendo as tarefas sozinhos
- (E) Fazendo com que o clima de cooperação não se torne viável entre a equipe

Questão 43

Existem nas vias públicas diversos tipos de condutores conhecidos como: o domingueiro, o recém-habilitado, o dono da via, o super experiente, o alcoolizado e pedestres identificados como apressadinhos, orgulhosos, brincalhões, agressivos, indiferentes, distraídos, zombadores. Todos precisam conviver pacificamente, respeitando direitos e deveres alheios para que haja harmonia, pois estão constantemente em processo de interação social. Assinale a alternativa que corresponde à falta de comunicação entre as pessoas no trânsito e que pode gerar infração e multa.

- (A) Dirigir sem ameaçar pedestres que estejam atravessando a via pública.
- (B) Dar passagem a veículos precedidos de batedores, de socorro e salvamento, etc.
- (C) Deixar de reduzir a velocidade do veículo quando se aproximar de passeatas.
- (D) Dar preferência de passagem a pedestre que se encontre na faixa a ele destinada.
- (E) Conduzir o veículo com ambas as placas de identificação.

Questão 44

Camila, ao sair com seu veículo, notou que em seu painel a luz de temperatura da água, proveniente do termômetro, estava acesa. Qual a finalidade dessa luz acesa no painel?

- (A) Alertar sobre a temperatura da água no carburador.
- (B) Trata-se meramente de um enfeite do painel.
- (C) Alerta que é preciso calibrar os pneus.
- (D) Avisar ao motorista que o combustível está acabando.
- (E) Sinalizar ao condutor que ele está em alta velocidade.

Questão 45

Antônio sofreu uma penalidade de multa no trânsito ao avançar o sinal vermelho do semáforo quando prestava socorro a uma vítima. Ele, então, recorreu contra a multa justificando o motivo da prática da infração. O órgão competente para analisar e julgar, em primeira instância, o recurso contra a multa é o(a):

- (A) Conselho de Trânsito do Distrito Federal - CONTRANDIFE.
- (B) Conselho Estadual de Trânsito - CETRAN.
- (C) Conselho Nacional de Trânsito - CONTRAN.
- (D) Junta Administrativa de Recursos de Infrações - JARI.
- (E) Polícia Rodoviária Federal - PRF.

Questão 46


O transporte escolar é uma atividade inserida no âmbito das políticas de acesso e permanência na escola. Embora a Lei de Diretrizes e Bases da Educação (LDB) e o Estatuto da Criança e do Adolescente (ECA) preconizem a matrícula em estabelecimentos de ensino próximos da residência dos alunos da educação básica, a realidade é que, tanto no campo quanto nas cidades, muitas crianças dependem do transporte para ir à escola.

Para que o João conduza um veículo escolar de forma segura, e obedecendo a legislação vigente, é preciso observar qual exigência?

- (A) Ser registrado como veículo de transporte de carga
- (B) Ter idade superior a vinte e um anos e ser habilitado na categoria B
- (C) Possuir cintos de segurança somente para o motorista e o carona
- (D) Passar por inspeção anual para verificar equipamentos obrigatórios e de segurança
- (E) Possuir faixa horizontal amarela em toda a lateral e traseira da carroçaria, escrito ESCOLAR, em preto

Questão 47

Joana ao sair com o seu veículo passou por um cruzamento de uma via com a seguinte sinalização pintada sobre o asfalto:



Ela não soube explicar ao seu filho o significado dessa marcação xadrez e o menino brincou dizendo parecer um tabuleiro de jogo de dama. Afinal o que são essas marcações?

- (A) Linhas de estímulo à redução de velocidade - LRV
- (B) Marcações de área de conflito – MAC
- (C) Linha de retenção – LRE
- (D) Marcações de área de cruzamento com faixa exclusiva – MAE
- (E) Marcações de confluência e bifurcação – MCB

Questão 48

Em uma rodovia avistou-se a imagem que definia irregularidades na superfície de rolamento. Qual é a placa de sinalização que descreve esta situação?



(A) (A-17)



(B) (A-18)



(C) (A-19)



(D) (A-20a)



(E) (A-20b)

Questão 49

O artigo 7º do Código de Trânsito Brasileiro - CTB (Lei nº 9.503/1997) traz a composição do Sistema Nacional de Trânsito. Assinale a alternativa que corresponde a um dos órgãos que compõem o Sistema Nacional de Trânsito?

- (A) Conselho Nacional de Saúde – CNS
- (B) Conselho Nacional de Educação – CNE
- (C) Conselho Nacional de Trânsito – CONTRAN
- (D) Conselho Estadual de Saúde – CES
- (E) Conselho Estadual de Educação – CEE

Questão 50

O condutor de veículo e o pedestre deveriam iniciar a jornada com um exame preventivo de consciência e força de vontade, capaz de superar os obstáculos porventura encontrados na via. Nosso comportamento no trânsito é regido por um conjunto de leis contidas no(a):

- (A) Lei Orgânica da Saúde.
- (B) Lei de Diretrizes e Bases.
- (C) Lei Maria da Penha.
- (D) Código de Processo Civil.
- (E) Código de Trânsito Brasileiro.