



ESTADO DO ACRE
PREFEITURA MUNICIPAL DE CRUZEIRO DO SUL
SECRETARIA DE GESTÃO E ADMINISTRAÇÃO

CONCURSO PÚBLICO – EDITAL Nº 01/2019

**CARPINTEIRO, ELETRICISTA, MECÂNICO, OPERADOR DE MÁQUINAS,
OPERADOR DE TRATOR AGRÍCOLA, PEDREIRO E PINTOR**

NOME DO CANDIDATO

ASSINATURA DO CANDIDATO

RG DO CANDIDATO

LEIA COM ATENÇÃO AS INSTRUÇÕES ABAIXO

INSTRUÇÕES GERAIS

- I. Nesta prova, você encontrará **07 (sete) páginas** numeradas sequencialmente, contendo **40 (quarenta) questões** objetivas correspondentes às seguintes disciplinas: **Língua Portuguesa 15 (quinze) questões, Raciocínio Lógico 15 (quinze) questões e História e Geografia do Acre 10 (dez) questões.**
- II. Verifique se seu nome e número de inscrição estão corretos no cartão de respostas. Se houver erro, notifique o fiscal.
- III. Verifique se o caderno de provas se refere ao cargo para o qual você se inscreveu. Caso o cargo esteja divergente, solicite ao fiscal de sala para que tome as providências cabíveis, pois não serão aceitas reclamações posteriores nesse sentido.
- IV. Assine e preencha o cartão de respostas nos locais indicados, com caneta azul ou preta.
- V. Verifique se a impressão, a paginação e a numeração das questões estão corretas. Caso observe qualquer erro, notifique o fiscal.
- VI. Marque o cartão de respostas cobrindo fortemente o espaço correspondente à letra a ser assinalada, conforme o exemplo no próprio cartão de respostas.
- VII. O sistema de leitura e processamento das folhas de resposta não registrará a resposta em que houver falta de nitidez na marcação e/ou marcação de mais de uma alternativa.
- VIII. O cartão de respostas não pode ser dobrado, amassado, rasurado ou manchado. Exceto sua assinatura, nada deve ser escrito ou registrado fora dos locais destinados às respostas.
- IX. Ao terminar a prova, entregue ao fiscal o cartão de respostas e este caderno. As observações ou marcações registradas no caderno não serão levadas em consideração.
- X. **Você dispõe de 03 (três) horas para fazer esta prova. Reserve os 20 (vinte) minutos finais para marcar o cartão de respostas.**
- XI. O candidato só poderá retirar-se do setor de prova **02 (duas) horas após seu início.**
- XII. É terminantemente proibido o uso de telefone celular, e demais aparelhos eletrônicos.

Boa Prova!



GABARITO DO CANDIDATO - RASCUNHO



NOME:

ASSINATURA DO CANDIDATO:

INSCRIÇÃO:

1	2	3	4	5	6	7	8	9	10	11	12	13	14	15	16	17	18	19	20
21	22	23	24	25	26	27	28	29	30	31	32	33	34	35	36	37	38	39	40

RASCUNHO

Leia o texto abaixo para responder as questões de 1 a 5.

Proibidos, lixões ainda são utilizados para descarte de resíduos no Brasil

Uma das soluções é a transferência dos trabalhadores para cooperativas de reciclagem, experiência pela qual passou a cearense Lúcia.

A cearense Lúcia Fernandes do Nascimento é uma entre milhões de brasileiros que não tiveram infância. A vida era dura em Reriutaba, interior do Estado, onde ela nasceu e de onde saiu aos 10 anos, com os pais e 13 irmãos, para ir morar em Brasília. O trabalho duro a ajudou a forjar sua identidade. Mas sua essência natural, de cearense típica, já estava presente na fala direta, expansiva e na personalidade forte. Começou a trabalhar uma semana após ter chegado ao Planalto Central. Aos 10 anos, em uma casa de família. Ironicamente, tinha de cuidar dos filhos dos patrões. Justamente ela, uma criança.[...]

“Comecei a trabalhar no lixão sem saber muito dos perigos. De repente fui me dando conta. A lembrança mais forte foi no dia que perdi minha amiga Glaice. Trabalhávamos juntas, conversávamos, dividíamos sonhos e frustrações. Ela morreu no chão da Estrutural, depois que uma carreta tombou em cima dela”, conta. [...] O objetivo de Lúcia de se transferir do lixão ficou facilitado em 2010, com a implantação da Política Nacional de Resíduos Sólidos. Houve então enquadramento jurídico que permitiu que cooperativas relacionadas à coleta de lixo fossem contratadas formalmente como prestadoras de serviço. A transferência para galpões veio depois de muita luta e reivindicação. Mas ela destaca ainda que o processo de convencimento dos catadores, de que eles não perderiam seu ganha-pão, também foi muito difícil. [...]

“No lixão não tinha INSS, não tinha segurança, não tinha refeição digno, não tinha um banheiro, não tinha local de trabalho digno. Hoje temos tudo isso. Nunca deixei de lutar.”

Com o fim do lixão em 2018, os resíduos passaram a ser depositados, e tratados, no Aterro Sanitário de Brasília. O Distrito Federal tem cerca de 1,3 mil catadores de materiais recicláveis, com o governo cedendo cinco espaços, dois deles só para a recuperação de resíduos.[...]

Eugenio Goussinsky, do R7.

- 1) **Segundo o texto, assinale alternativa correta.**
- Há um relato sobre a vida de Lúcia que trabalhou por muitos anos em um lixão no Ceará.
 - O contato de Lúcia com o trabalho no lixão aconteceu no Distrito Federal.
 - A maioria dos trabalhadores do lixão não quis ir trabalhar nas cooperativas.
 - Há cerca de 1,3 mil catadores de materiais recicláveis que trabalham no lixão do Distrito Federal.

- 2) **O texto é classificado como _____ visto que _____ um fato com o intuito de informar o leitor.**

Assinale a alternativa que preencha correta e respectivamente as lacunas.

- prescritivo / argumenta
- preditivo / relata
- expositivo / apresenta
- injuntivo / prescreve

- 3) **No texto, há vários trechos em que aparece a fala direta de Lúcia Fernandes. Assinale a alternativa em que aparece uma expressão não dita por Lúcia.**

- Ela morreu no chão da Estrutural, depois que uma carreta tombou em cima dela.
- No lixão não tinha INSS, não tinha segurança, não tinha refeição digno.
- Mas sua essência natural, de cearense típica, já estava presente na fala direta.
- Comecei a trabalhar no lixão sem saber muito dos perigos.

- 4) **Observe: dois “deles” só “para” a recuperação “de” resíduos. Assinale a alternativa correta quanto à classificação gramatical das palavras destacadas.**

- pronome, preposição, preposição.
- substantivo, verbo, preposição.
- adjetivo, interjeição, conjunção.
- pronome, conjunção, conjunção.

- 5) **Analise as afirmativas abaixo e dê valores Verdadeiro (V) ou Falso (F).**

- () Começou a trabalhar uma semana após ter chegado ao “**Planalto Central**” A expressão em destaque se refere a uma região de Reriutaba, onde nasceu Lúcia.
- () “**O Distrito Federal**” tem cerca de 1,3 mil catadores de materiais recicláveis. A expressão em destaque é classificada sintaticamente como sujeito simples.
- () A essência natural, de cearense típica, estava presente no jeito trabalhador e calado de Lúcia, que se mostrava sempre serena e tranquila.

Assinale a alternativa que apresenta a sequência correta de cima para baixo.

- V, V, V
- F, F, F
- V, F, V
- F, V, F

- 6) **A ortografia estabelece padrões de escrita das palavras de uma língua. Sendo assim, assinale a alternativa em que todas as palavras foram escritas corretamente.**

- É um privilégio receber pessoas amigas e conversar em quanto se ouve uma boa música.
- Tudo mudou derrepente... ele havia trago o que transformaria sua vida para sempre.
- Em baixo da mesa, estão os tênis da adolescente que não os achava há horas.
- Se você pusesse a mão na consciência, não teria trazido este problema para casa.

- 7) Considere as regras de **Concordância Nominal e Verbal** e assinale a alternativa **incorreta**.
- Quando os portões foram abertos, percebemos que havia muitas pessoas naquele lugar.
 - Já fazem dois anos que estou na lista de espera para aquela vaga de emprego.
 - Meus óculos caíram e quebraram a alça; precisei levá-los à ótica para consertá-los.
 - Houve três discursos espetaculares; a multidão estava estarecida.
- 8) Observe: “Todos os dias, D. Maria vai _____ mercearia e compra o necessário para _____ família. _____ muito tempo _____ acompanho nesta rotina diária.” Assinale a alternativa que preencha correta e respectivamente as lacunas acima.
- à / a / Há / a
 - a / a / A / a
 - à / à / Há / à
 - a / à / A / à
- 9) Quanto à regra de acentuação utilizada nas palavras: **espécie**, **vitória** e **perpétuo**, assinale a alternativa correta.
- Oxítonas terminadas em ditongo crescente ou decrescente devem ser acentuadas.
 - Proparoxítonas terminadas em ditongo crescente ou decrescente devem ser acentuadas.
 - Paroxítonas terminadas em ditongo crescente ou decrescente devem ser acentuadas.
 - Oxítonas terminadas em hiato crescente ou decrescente devem ser acentuadas.
- 10) Considere as regras de ortografia e assinale a alternativa correta.
- Eu valo sim; tenho muito valor e minha opinião deve ser respeitada.
 - Isto não tem nada haver com o assunto; não abrirei nenhuma excessão.
 - A intenção era não abrir exceção nenhuma; esta era a opinião dos responsáveis.
 - Chegou com o buquê em baixo do casaco para fazer a surpresa; ele tinha boas intensões.
- 11) Analise as afirmativas abaixo e assinale a alternativa correta.
- As palavras “**chegavam**” e “**saíam**” são verbos e estão no pretérito imperfeito.
 - As palavras “**chegavam**” e “**saíam**” são verbos e estão no pretérito perfeito.
 - As palavras “**chegavam**” e “**saíam**” são verbos e estão no pretérito-mais-que-perfeito.
 - As palavras “**soubesse**” e “**pudesse**” são verbos no modo subjuntivo.
- Apenas a afirmativa II está correta.
 - Apenas as afirmativas I e IV estão corretas.
 - Apenas a afirmativa IV está correta.
 - Apenas as afirmativas III e IV estão corretas.

Leia a tirinha abaixo para responder as questões de 12 a 14.



(Fonte: Adão Iturrusgarai)

- 12) De acordo com o texto, assinale a alternativa correta.
- O clímax do enredo acontece no 1º quadro na fala da personagem da direita que demonstra estar feliz com a notícia.
 - O clímax do enredo acontece no 2º quadro em que a fala da personagem apresenta algo que não permite ao leitor saber como será o desfecho.
 - O clímax do enredo acontece no 1º quadro na fala da personagem da esquerda que conta a novidade.
 - O clímax do enredo acontece no 3º quadro no balão de fala da personagem da esquerda que está dormindo em uma posição inusitada.
- 13) Quanto aos enunciados, assinale a alternativa **incorreta**.
- O enunciado a seguir está na 1ª pessoa do singular: “A vovó dormiu na frente da TV!”.
 - O enunciado a seguir está na 1ª pessoa do plural: “Podemos mudar de canal!”
 - O enunciado a seguir está no pretérito perfeito: “Você não entendeu!”
 - O enunciado a seguir está na 2ª pessoa do singular: “Você não entendeu!”
- 14) Observe a fala da personagem da direita, no primeiro quadrinho. Quanto ao sentimento expresso pelo uso do ponto de exclamação, assinale a alternativa correta.
- apatia
 - empatia
 - entusiasmo
 - sarcasmo
- 15) Assinale a alternativa em que a palavra foi grafada corretamente.
- infortunio
 - rúbrica
 - intuíto
 - gratuito

RACIOCÍNIO LÓGICO

- 16) Leia o texto abaixo retirado de um artigo da revista Super Interessante.

Terra chata

Quase 50 anos depois do lançamento da Apollo 11, e 500 após a circunavegação de Fernão de Magalhães, cada vez mais gente acredita que a Terra não é um globo. Em vez disso, ela seria uma pizza gigante – um disco coberto por uma redoma invisível e cercado por um paredão de gelo. Também estaria parada, deitada eternamente em berço esplêndido no centro do Universo. (...) Para os terraplanistas, o Sol e a Lua são bolas do tamanho de cidades, o planeta é cercado por uma muralha de gelo e a gravidade... Bom, a gravidade não existe.

(Fonte: Super Abril)

Assinale a alternativa que contém uma correta inferência lógica a partir da leitura do texto acima:

- Se a terra é plana, então a gravidade não existe
- Se a terra não é plana, então a gravidade não existe
- Se o número de terraplanistas aumentou, então a Terra seria uma pizza gigante
- Se a gravidade existe, então a Terra está parada no universo

- 17) Considere o argumento:

Aqui só temos rosas e violetas

As rosas são vermelhas

As violetas são azuis.

Esta flor é vermelha, então é uma rosa.

Quanto ao tipo de raciocínio envolvido nesse argumento, assinale a alternativa correta.

- Indução
- Falácia
- Tautologia
- Dedução

- 18) Observe a sequência lógica abaixo construída com números inteiros que estão relacionados por uma regra implícita.

9, X, 20, 24, 27, 29, 30

Assinale a alternativa correta que contém o número que substitui X.

- 7
- 9
- 15
- 16

- 19) Os trechos abaixo foram retirados de um artigo publicado pelo Jornal Eletrônico Nexo sobre notícias falsas publicadas na internet. Leia-os e responda ao que se pede.

Trecho I

Quando recebemos, por meio das redes sociais, o link de uma matéria que confirma nossa visão de mundo, temos mais chances de ignorar possíveis evidências de que ela seja falsa.

Trecho II

“Na dúvida, achei melhor compartilhar.” Você já deve ter lido a frase por aí. No entanto, embora a abordagem seja muitas vezes bem intencionada, ela pode ter efeitos trágicos (...). Caso não consiga obter confirmação de uma informação que consumiu na internet, recomendamos que considere não compartilhá-la.

Fonte Nexo: Como identificar a veracidade de uma informação e não espalhar boatos)

De acordo com os trechos extraídos do artigo do jornal, assinale a alternativa correta.

- Se eu acredito que uma informação é verdadeira porque ela confirma a minha visão de mundo, então eu tenho que compartilhá-la
- Se eu recebo uma informação que eu acredito ser verdadeira, então há evidências de que ela não é falsa
- Se eu não puder confirmar uma informação, então eu não devo compartilhá-la
- Ou uma informação é verdadeira, ou ela é falsa, então eu devo compartilhá-la

- 20) De acordo com a lógica das proposições, assinale a alternativa corretas que contém a negação da frase abaixo.

As fake news não influenciam na política e elas são irrelevantes.

- As fake news influenciam na política e elas não são irrelevantes
- Se as fake news influenciam na política então elas não são irrelevantes
- As fake news influenciam na política e elas são irrelevantes
- As fakes news influenciam na política ou elas não são irrelevantes

- 21) Na festa de aniversário de Roberto e Andréia estão presentes 200 pessoas, todas as pessoas conhecem ele ou ela. 120 são amigas de Roberto, 100 são amigas de Andréia. Assinale a alternativa que identifica corretamente a probabilidade de, escolhida ao acaso, uma pessoa da festa ser amiga tanto de Roberto quanto de Andréia.

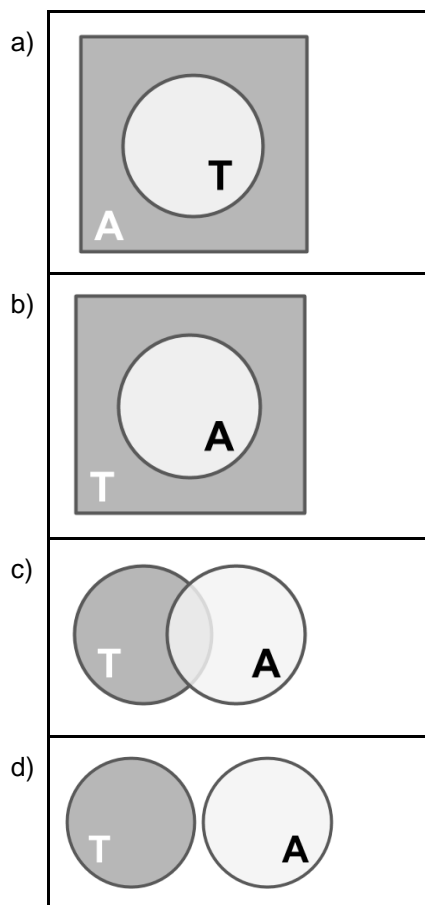
- 10%
- 20%
- 30%
- 40%

22) Um anagrama é qualquer recombinação das letras de uma palavra, mudando a ordem. Considere a palavra VALVULA. Assinale a alternativa correta que adequadamente apresenta o número de anagramas dessa palavra (incluindo a palavra original).

- a) 5040
- b) 630
- c) 230
- d) 120

23) Uma antinomia é uma proposição oposta à uma tautologia e sempre expressa uma contradição. Por sua vez, uma tautologia é uma proposição que pode apenas resultar em valores lógicos verdadeiros, como em: “o time ganhará, ou o time não ganhará”.

Considere um conjunto T que contém proposições que são tautologias representada como diagrama de Venn. Assinale a alternativa que corretamente identifica (em cinza claro) o conjunto correspondente às afirmações que são antinomias, A, e (em cinza escuro) a região onde estariam as proposições resultantes da negação das antinomias.



24) Um anagrama é uma recombinação das letras de uma palavra. Considere a palavra ABA, ela pode ser recombinada de 3 formas possíveis, conforme tabela abaixo.

A	B	A
B	A	A
A	A	B

Assinale a alternativa que indica corretamente o número de vezes mais que a palavra ABBA tem de recombinações (anagramas) possíveis em relação à palavra ABA.

- a) 2 vezes mais
- b) 3 vezes mais
- c) 4 vezes mais
- d) 5 vezes mais

25) Um time de futebol jogará 3 jogos. Ele pode empatar (1 ponto), ganhar (3 pontos) ou perder (0 pontos). Assim, por exemplo, “VVE” corresponde a um cenário possível em que há duas vitórias e um empate, que é diferente de “VEV” embora ambos resultem no mesmo número de pontos conquistados.

Assinale a alternativa correta que identifica quantos possíveis cenários, e, dentre eles, quantos correspondem à obtenção de 7 pontos.

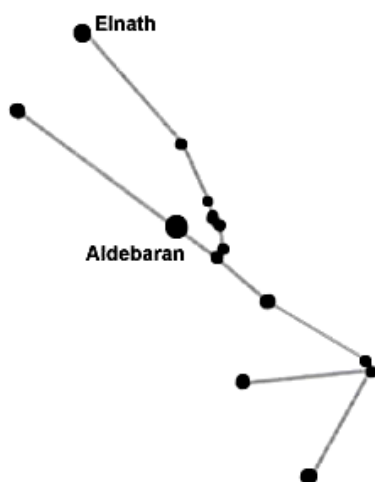
- a) 9 possibilidades, sendo que 3 correspondem à 7 pontos
- b) 18 possibilidades, sendo que 6 correspondem à 7 pontos
- c) 27 possibilidades, sendo que 9 correspondem à 7 pontos
- d) 27 possibilidades, sendo que 3 correspondem à 7 pontos

26) Uma pesquisa em redes sociais feita com 100 pessoas revelou que 35 já haviam comprado o produto da empresa A, enquanto 20 já haviam comprado o produto da empresa A e do concorrente - a empresa B, ao passo que 30 não haviam comprado nem o produto de A nem de B.

Assinale a alternativa que corretamente identifica quantas pessoas já haviam comprado apenas o produto da empresa B, e a probabilidade de uma dessas pessoas (que compraram apenas o produto da empresa B) ser sorteada escolhendo-se aleatoriamente uma pessoa do conjunto entrevistado.

- a) 15,35%
- b) 35,50%
- c) 35,35%
- d) 55,55%

27) Existem 12 signos, que foram identificados pela similaridade de formas, resultantes da união de estrelas no céu por segmentos de reta a partir de sua observação na terra, com figuras conhecidas da cultura grega.



(Figura: constelação de touro.
Fonte: Solar System)

Entretanto, as estrelas se mostram como pontos luminosos no céu e a identificação de sua posição relativa à terra não era acessível à cultura grega, e, portanto, as estrelas agregadas para formar o desenho normalmente não estão fisicamente próximas umas das outras. Por exemplo, na constelação de Touro a estrela Aldebaran está a 65 anos luz da Terra, enquanto que Einath está a 130 anos luz da Terra.

Assinale a alternativa que corretamente identifica uma conclusão que se pode obter a partir dessas considerações.

- As constelações que definem os signos são formadas por um grupo de estrelas próximas entre si no universo
- Pela ação da força da gravidade, as constelações influenciam o comportamento das pessoas
- Se observadas de outros lugares do universo, as estrelas revelariam formas diferentes sugerindo constelações diferentes
- As constelações não tiveram qualquer influência na cultura humana porque a gravidade é muito fraca

28) A preservação do movimento pela Natureza consiste de uma lei enunciada por Galileo Galilei na primeira metade do século XVII, identificada sob o nome de Lei da Inércia e que consiste de uma das leis da Física na teoria sobre o movimento de Isaac Newton, desenvolvida na segunda metade do século XVII.

Analise o fato experimental abaixo.

Fato experimental: Um objeto que se desloca (sem rolar) contra uma superfície está submetido à fricção (atrito) que resulta no surgimento de uma força oposta ao deslocamento do corpo ao longo do tempo. Essa força retira gradualmente movimento do corpo até pará-lo completamente em relação à superfície. Quanto mais lisas as superfícies do corpo e a superfície sobre a qual ele se desloca, verifica-se que um mesmo impulso resulta em um maior deslocamento total do corpo em relação à superfície até ele parar.

Considere o argumento abaixo construído por uma pessoa a partir deste fato experimental.

Argumento: se forças de atrito cada vez menores permitem deslocamentos cada vez maiores do corpo sobre a superfície, se fosse possível eliminar o atrito completamente, então o corpo nunca pararia, seguindo com velocidade constante.

Se, em experimentos, se conseguir produzir atritos progressivamente menores, sem nunca conseguir eliminar por completo, assinale a alternativa que corretamente identifica o tipo de raciocínio que caracteriza o Argumento apresentado (Lei da Inércia).

- Dedução
- Indução
- Reiteração
- Paradoxo

29) Uma pessoa cita a frase abaixo, atribuindo-a a um pensador.

"Não é a esperança que faz viver, é o desejo. O ser humano é um ser de desejos. Pode-se definir o desejo como uma necessidade tornada consciente. O desejo supõe um trabalho de imaginação sobre a necessidade."

Identifique a alternativa que corretamente expressa uma construção compatível com a frase, organizada em termos de proposições compostas abaixo com os conectivos lógicos usuais.

- a) A esperança é desnecessária e o desejo é o que torna a necessidade consciente na imaginação, e dessa forma apenas do desejo faz viver
 - b) Se o ser humano precisa do trabalho da imaginação sobre a necessidade para viver, e o desejo expressa esse processo, então o ser humano precisa do desejo para viver
 - c) Se o desejo faz viver, então o desejo é o trabalho de imaginação sobre a necessidade que supõe esse trabalho tornado consciente
 - d) O desejo é o trabalho da imaginação sobre a necessidade ou o desejo pode ser definido como uma necessidade tornada consciente
- 30) Para codificar palavras Roberto assume um algoritmo que consiste em substituir as letras por números. A identidade entre cada letra e o número correspondente é estabelecida pela posição da letra no alfabeto, com o cuidado de usar dois algarismos para cada letra. Assim, A = 01, B = 02, ..., P = 16, ... etc.

Por exemplo, ABA = 010201. Para facilitar a codificação ele inventa a tabela abaixo.

	1	2	3	4	5	6	7	8	9	10
	A	B	C	D	E	F	G	H	I	J
10+	K	L	M	N	O	P	Q	R	S	T
20+	U	V	W	X	Y	Z				

Assinale a alternativa que apresenta a palavra correspondente ao 031504090715.

- a) BOCADO
- b) COBALT
- c) CABANA
- d) CODIGO

HISTORIA E GEOGRAFIA DO ACRE

- 31) "No início da república brasileira, o Tratado que ainda estava em vigor procedia do Império e estipulava que a região do atual estado do Acre pertencia à _____, e assim era reconhecida pela chancelaria brasileira da época" (BRASIL, 1939, apud VERGARA, 2010). Assinale a alternativa que preencha corretamente a lacuna.
- a) Venezuela
 - b) Argentina
 - c) Bolívia
 - d) Espanha
- 32) Há uma ferrovia implementada pelo governo brasileiro após a assinatura do Tratado de Petrópolis (1903), cuja execução foi prevista no Decreto nº 5.161 de 10 de março de 1904. A respeito da ferrovia, assinale a alternativa correta.
- a) Ferrovia Norte-Sul
 - b) Ferrovia Norte Brasil
 - c) Estrada de Ferro Madeira-Mamoré
 - d) Ferrovia Transcontinental
- 33) Em relação aos dados populacionais dos municípios do Acre, assinale a alternativa correta.
- a) Rio Branco é o município mais povoado do estado
 - b) Epitaciolândia é o município menos povoado do estado
 - c) Cruzeiro do Sul é o município mais populoso do estado
 - d) Rodrigues Alves é o município menos populoso do estado
- 34) Quanto à uma atividade importante da economia atual do Acre, assinale a alternativa incorreta.
- a) Extrativismo vegetal
 - b) Extração do pré-sal
 - c) Agricultura
 - d) Pesca
- 35) "No Acre, existe atualmente uma população aproximada de 19 mil indígenas vivendo em cerca de 209 aldeias, distribuídas em 35 terras indígenas reconhecidas, com uma superfície agregada estimada em 2.529.367 hectares, o que equivale a 14,5% da extensão total do estado" (PCI ACRE, 2019). Assinale a alternativa que apresenta corretamente uma terra indígena localizada no estado do Acre.
- a) Parque do Xingu
 - b) Yanomami
 - c) Alto Rio Negro
 - d) Alto Rio Purus
- 36) Em relação aos municípios que compõem o estado do Acre, assinale a alternativa correta.
- a) O estado do Acre é composto por vinte e dois municípios
 - b) O Acre tem o menor número de municípios entre os estados brasileiros
 - c) Feijó é o menor município do estado do Acre em área
 - d) Rio Branco é o maior município do estado do Acre em área

37) No que concerne à rede de drenagem e aos recursos hídricos do estado do Acre, analise as afirmativas abaixo e dê valores Verdadeiro (V) ou Falso (F).

- () Há o aproveitamento dos recursos hídricos do Acre como vias fluviais.
- () Os cursos d'água do estado pertencem à bacia hidrográfica amazônica.
- () As cidades gêmeas Brasileia e Cobija são separadas pelo rio Juruá.


Assinale a alternativa que apresenta a sequência correta de cima para baixo.

- a) F, V, V
- b) V, V, F
- c) V, F, F
- d) F, F, V

38) A Unidade Federativa do Acre teve 18 governadores. Quanto aos governadores do estado do Acre, assinale a alternativa incorreta.

- a) Binho Marques
- b) Gladson Cameli
- c) Tião Viana
- d) Ciro Gomes

39) A ilustração abaixo, feita pelo desenhista Percy Lau, retrata uma figura importante na cultura e economia acreana.



Fonte: ANGOTTI-SALGUEIRO, 2005.

Assinale a alternativa corretamente relacionada com o personagem retratado na ilustração.

- a) Seringueiro
- b) Caçador
- c) Minerador
- d) Pescador

40) “Com cânticos, danças e muita celebração, o povo Yawanawá celebrou a abertura do _____ neste último final de semana, na Aldeia que fica às margens do rio Gregório, em Tarauacá, no interior do Acre. O tema deste ano é o renascimento cultural e espiritual. O festival é um dos mais tradicionais do estado e ocorre desde 2013” (G1, 2019). Em relação à tradicional celebração do povo Yawanawá, assinale a alternativa que preencha corretamente a lacuna.

- a) Inti Raymi
- b) Círio de Nazaré
- c) Dia do Índio
- d) Festival Mariri

