



ESTADO DO ACRE
PREFEITURA MUNICIPAL DE CRUZEIRO DO SUL
SECRETARIA DE GESTÃO E ADMINISTRAÇÃO

CONCURSO PÚBLICO – EDITAL Nº 01/2019

**AUXILIAR ADMINISTRATIVO, AUXILIAR CULTURAL, AUXILIAR ESPORTIVO,
MOTORISTA-AB, MOTORISTA-D E VISTORIADOR**

NOME DO CANDIDATO

ASSINATURA DO CANDIDATO

RG DO CANDIDATO

LEIA COM ATENÇÃO AS INSTRUÇÕES ABAIXO

INSTRUÇÕES GERAIS

- I. Nesta prova, você encontrará **08 (oito) páginas** numeradas sequencialmente, contendo **40 (quarenta) questões** objetivas correspondentes às seguintes disciplinas: **Língua Portuguesa 15 (quinze) questões, Raciocínio Lógico 15 (quinze) questões e História e Geografia do Acre 10 (dez) questões.**
- II. Verifique se seu nome e número de inscrição estão corretos no cartão de respostas. Se houver erro, notifique o fiscal.
- III. Verifique se o caderno de provas se refere ao cargo para o qual você se inscreveu. Caso o cargo esteja divergente, solicite ao fiscal de sala para que tome as providências cabíveis, pois não serão aceitas reclamações posteriores nesse sentido.
- IV. Assine e preencha o cartão de respostas nos locais indicados, com caneta azul ou preta.
- V. Verifique se a impressão, a paginação e a numeração das questões estão corretas. Caso observe qualquer erro, notifique o fiscal.
- VI. Marque o cartão de respostas cobrindo fortemente o espaço correspondente à letra a ser assinalada, conforme o exemplo no próprio cartão de respostas.
- VII. O sistema de leitura e processamento das folhas de resposta não registrará a resposta em que houver falta de nitidez na marcação e/ou marcação de mais de uma alternativa.
- VIII. O cartão de respostas não pode ser dobrado, amassado, rasurado ou manchado. Exceto sua assinatura, nada deve ser escrito ou registrado fora dos locais destinados às respostas.
- IX. Ao terminar a prova, entregue ao fiscal o cartão de respostas e este caderno. As observações ou marcações registradas no caderno não serão levadas em consideração.
- X. **Você dispõe de 03 (três) horas para fazer esta prova. Reserve os 20 (vinte) minutos finais para marcar o cartão de respostas.**
- XI. O candidato só poderá retirar-se do setor de prova **02 (duas) horas após seu início.**
- XII. É terminantemente proibido o uso de telefone celular, e demais aparelhos eletrônicos.

Boa Prova!



GABARITO DO CANDIDATO - RASCUNHO



NOME:

ASSINATURA DO CANDIDATO:

INSCRIÇÃO:

1	2	3	4	5	6	7	8	9	10	11	12	13	14	15	16	17	18	19	20	
21	22	23	24	25	26	27	28	29	30	31	32	33	34	35	36	37	38	39	40	

RASCUNHO

LÍNGUA PORTUGUESA

Leia o texto abaixo para responder às questões de 1 a 9.

MEMES, É PRA ISSO QUE EU PAGO INTERNET!

Por Jaider Morais

É indiscutível que a internet revolucionou nossas vidas com os serviços, redes sociais e informações em tempo real e sem barreiras geográficas. O tempo, em que ficamos conectados, aumenta a cada dia e sempre nos deparamos com coisas engraçadas, que de repente todo mundo está compartilhando e muitas vezes nem sabemos de onde veio ou qual a referência. Estamos falando dos memes, uma indústria acelerada que não brinca em serviço.

Pra quem gosta desse tipo de conteúdo (quase todo mundo), é motivo de orgulho morar no país que é considerado um grande e bem sucedido polo industrial desses maravilhosos conteúdos. Quem nunca leu por aí que o Brasil é uma fábrica de memes ou o país deles, ou ainda que brasileiro faz piada com tudo? Pois é, gente. Vamos ver um pouco de como isso surgiu e lembrar alguns clássicos.

Em poucas palavras, memes podem ser fotos/desenhos, em muitas vezes com frases em letras garrafais; gifs ou vídeos curtos; sons ou músicas e textos que quase sempre usam de uma boa dose de humor e se espalham rapidamente pela internet. A palavra meme vem de um termo grego e significa “imitação”. Foi usado pela primeira vez, em 1976, pelo escritor britânico Richard Dawkins em seu bestseller “O Gene Egoísta”. O conceito é bem amplo, mas em resumo ele descreveu meme como uma informação que se multiplica de cérebro em cérebro ou em locais onde a informação é armazenada (como livros). [...]

A gente adora fazer piada de tudo, né? Seja do entrevistador que cometeu uma gafe ao vivo; da celebridade que fez uma cara estranha; do jogador de futebol que caiu; do gatinho engraçado, dentre muitas outras. Em minha opinião, o surgimento dos memes para o brasileiro é a ilustração daquela frase: “**essa arma**” é poderosa e não pode cair em mãos erradas”.

Não que eu seja velho, mas eu me lembro dos memes que fizeram sucesso em vídeos e animações postadas nos primórdios das redes sociais ou que eram compartilhados por e-mail ou no infravermelho do celular. “Bebê dançarino”, “Vaca louca” e “A baratinha” são exemplos dos primeiros memes que eclodiram no meio tecnológico.

(Fonte: Design com Café)

1) De acordo com o texto, assinale a alternativa correta.

- O tema central do texto é um tipo de conteúdo que circula e se espalha de forma veloz pela internet por ser elaborado com o intuito de apresentar algo cômico ou um comportamento inesperado.
- As redes sociais e informações em tempo real ajudam os internautas e a população em geral a obter contato com o que acontece seriamente no mundo todo, de forma rápida e eficiente.
- É motivo de orgulho morar no país que é considerado um grande polo industrial desses maravilhosos conteúdos, visto que os brasileiros são circunspectos e adoram fazer piada com tudo.
- O termo “meme” foi usado, de forma postrema, em 1976, pelo escritor britânico Richard Dawkins em seu bestseller “O Gene Egoísta”.

2) Todo texto é elaborado com finalidades específicas e possui marcas que identificam quem o escreve. Assinale a alternativa que corretamente apresenta a pessoa do discurso utilizada, em sua maior extensão.

- 3ª pessoa do singular.
- 2ª pessoa do singular.
- 1ª pessoa do singular.
- 3ª pessoa do plural.

3) Analise as afirmativas abaixo e assinale a alternativa correta.

- “Pois é, **gente**.” O termo em destaque é classificado sintaticamente como vocativo.
- “Estamos falando dos memes, **uma indústria acelerada que não brinca em serviço**.” A expressão em destaque tem a função de complemento nominal.
- “[...] o Brasil é **uma fábrica de memes**”. A expressão em destaque tem a função de predicativo do sujeito.

- Apenas as afirmativas I e II estão corretas.
- Apenas as afirmativas I e III estão corretas.
- As afirmativas I, II e III estão corretas.
- Apenas as afirmativas II e III estão corretas.

4) O texto apresenta uma série de informações a respeito de um assunto bem divulgado na mídia. Nesse sentido, assinale a alternativa **incorreta**, ou seja, aquela que apresenta algo que não condiz com o artigo.

- As fotos ou desenhos; gifs ou vídeos curtos; sons ou músicas e textos que quase sempre usam de uma boa dose de humor podem ser classificados como memes.
- O escritor acredita que todo brasileiro adora fazer piada com tudo e cita vários exemplos de situações, que por ser inusitadas, acabam rendendo uma boa dose de risos.
- “Vaca louca” e o “bebê dançarino” são nomes dos primeiros memes que eram compartilhados no infravermelho do celular ou via e-mail.
- A expressão, em destaque no texto, “**essa arma**” faz alusão às pessoas erradas que compartilham os memes que viralizam na internet.

5) Observe: “É indiscutível que **a internet revolucionou nossas vidas**”. Assinale a alternativa que apresenta a correta classificação sintática da expressão em destaque.

- oração subordinada substantiva objetiva direta.
- oração subordinada substantiva subjetiva.
- oração subordinada adjetiva explicativa.
- oração subordinada adjetiva apositiva.

RACIOCÍNIO LÓGICO

- 16) Uma sequência lógica numérica muito conhecida e admirada esteticamente é a do matemático Fibonacci, proposta no século XIII. É uma sequência de números inteiros, começando por dois números 1, cuja lógica consiste em se construir cada termo a partir da soma dos dois anteriores: 1, 1, 2, 3...

(Fonte: Wikipedia)

Essa sequência pode ser também logicamente representada em um diagrama como se vê abaixo.

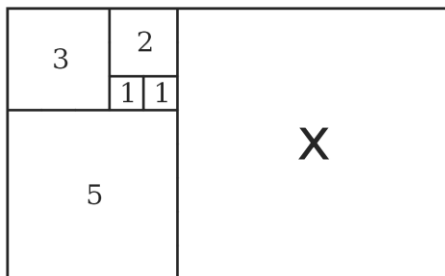


Figura: Representação gráfica da sequência de Fibonacci.
(Fonte: Wikipedia)

Assinale a alternativa que corretamente identifica o número que na imagem corresponde à letra X.

- a) 7 b) 8 c) 11 d) 13
- 17) “O termo falácia deriva do verbo latino fallere, que significa enganar. Designa-se por falácia um raciocínio errado com aparência de verdadeiro. Na lógica e na retórica, uma falácia é um argumento logicamente incoerente, sem fundamento, inválido ou falho na tentativa de provar eficazmente o que alega.” Wikipedia, Falácia. É possível se agrupar as falácias em termos de muitos subconjuntos, dentre eles os listados abaixo, com uma rápida definição em cada caso.

Falso Dilema: limita-se a escolha, escondendo demais possibilidades.

Ignorância: considerar verdadeiro porque não há provas para afirmar se verdadeiro ou falso.

Ad Hominem: desconsidera verdade para atacar quem fala a verdade.

Apelo à autoridade: fulano disse, então é verdade por ele ter dito.

Considere as proposições abaixo.

- I. João nunca fez terapia, então não pode falar sobre terapia.
- II. Se o terapeuta vota nesse partido, então ele é um mau terapeuta.
- III. A terapia sempre funciona pois ninguém mostrou que não funciona.

Assinale a alternativa correta que classifica adequadamente em termos das categorias, cada afirmativa.

	I	II	III
a)	Falso Dilema	Ignorância	Ad Hominem
b)	Ad Hominem	Ad Hominem	Ignorância
c)	Falso Dilema	Apelo à autoridade	Falso Dilema
d)	Apelo à autoridade	Ad Hominem	Apelo à autoridade

- 18) Considere a proposição abaixo.

“Se ele corre, então chega no horário e entrega o relatório”

Assinale a alternativa que apresenta a correta negação lógica desta proposição composta de três proposições simples: P, Q e R: se P então (Q e R).

- a) Se ele não corre, então não chega no horário e não entrega o relatório – Se não-P então (não-Q e não-R)
- b) Se ele não corre, então chega no horário e não entrega o relatório – Se não-P então (Q e não-R)
- c) Ele corre ou não chega no horário e entrega o relatório – P ou (não-Q e R)
- d) Ele corre e não chega no horário ou não entrega o relatório – P e (não-Q ou não-R)

- 19) Considere a proposição abaixo.

“Se a pessoa participou de crimes, então a pessoa não deve ser conduzida ao poder no Estado”

De acordo com a lógica das proposições assinale a alternativa que indica corretamente uma equivalência da proposição acima.

- a) Se a pessoa não participou de crimes, então a pessoa deve ser conduzida ao poder no Estado
- b) Se a pessoa deve ser conduzida ao poder no Estado, então ela não participou de crimes
- c) A pessoa não participou de crimes e deve ser conduzida ao poder no Estado
- d) A pessoa não participou de crimes ou deve ser conduzida ao poder no Estado

- 20) Tautologia é o nome dado à uma proposição que resulta apenas em valores verdadeiros consideradas todas as possíveis valorações lógicas. A proposição obtida pela negação de uma tautologia é, portanto, sempre falsa, e constitui o que se chama de Antinomia e corresponde à um paradoxo. Considere a proposição composta: “o time ganha ou o time não ganha” e assinale a alternativa que corretamente identifica a Antinomia correspondente à ela.

- a) O time não ganha ou o time ganha
- b) O time nem ganha nem perde, muito pelo contrário
- c) O time não ganha e o time ganha
- d) Se o time ganha, então ele perde

21) A figura abaixo foi obtida a partir da série histórica da Estação Meteorológica do IAG-USP com os dados de temperatura e pluviosidade (volume de chuvas) obtidos para São Paulo entre 1933 e 2011.

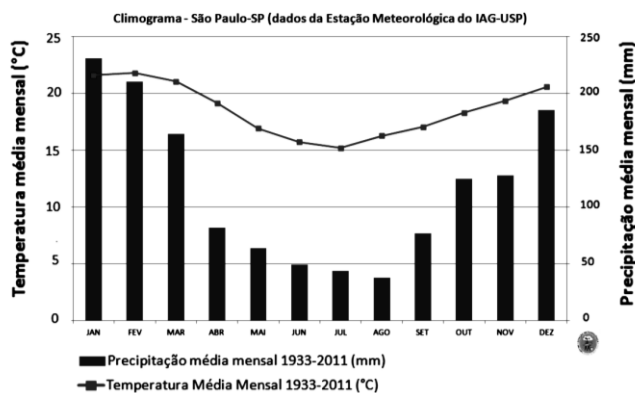


Figura: climograma, que indica a temperatura média (linha) - eixo vertical esquerdo, e a precipitação média (barras) - eixo vertical direito em São Paulo-SP ao longo dos meses do ano.

(Fonte: Estação Meteorológica do IAG-USP)

A amplitude térmica ao longo dos dias (diferença entre a máxima e a mínima temperaturas em um dia) nesta cidade pode ser muito grande, acima de 10 graus Celsius, o que não impede de haver um comportamento médio mensal relativamente estável e representativo de um padrão. Nesse contexto, analise as afirmativas abaixo.

- I. Podemos dizer que os meses mais secos são os meses de junho a agosto, que também é o período mais frio.
- II. É possível descrever o clima da cidade de São Paulo como sendo caracterizado por duas estações características: uma seca e outra úmida.
- III. Na cidade de São Paulo a amplitude (faixa de temperaturas) anual (média) de temperatura é menor do que a amplitude diária de temperatura.

Quanto às conclusões lógicas verdadeiras inferidas a partir das informações acima, assinale a alternativa correta.

- a) As afirmativas I, II e III estão corretas
- b) Apenas as afirmativas I e II estão corretas
- c) Apenas as afirmativas I e III estão corretas
- d) Apenas as afirmativas II e III estão corretas

22) Institutos de pesquisa produzem pesquisas com nível de confiança de 95%, que corresponde à chance dos resultados, consideradas as margens de erro, corresponderem à realidade. Considere que dois institutos produzem pesquisas independentes com nível de confiança de 95% e assinale a alternativa que corretamente apresenta a chance de ambos estarem errados.

- a) 95%
- b) 25%
- c) 2,5%
- d) 0,25%

23) No Brasil há duas formas populares de jogo de truco, relacionadas ao tamanho do baralho utilizado, Tipo 1 e Tipo 2 abaixo

Tipo 1 - A, 2, 3, 4, Q, J, K

Tipo 2 - A, 2, 3, 4, 5, 6, 7, Q, J, K

Para cada carta listada, há 4 modelos (naipes): ouros, espadas, copas e paus. Por exemplo: A-ouros, A-espadas, A-copas e A-paus.

No jogo, cada jogador recebe 3 cartas após o baralho ser aleatoriamente misturado (embaralhado). Quanto a um jogo de truco entre duas pessoas, assinale a alternativa que indica corretamente o número total de jogos diferentes (carteados) que podem ser recebidos pelos jogadores. Considere que a ordem de recebimento das cartas não importa e que primeiro são dadas as cartas dos jogadores. Lembrando: $3! = 3 \cdot 2 \cdot 1$;

- a) "Tipo 1": $7!/(6!)$; "Tipo 2": $10!/(6!.4!)$
- b) "Tipo 1": $28 \cdot 27 \cdot 26 \cdot 25 \cdot 24 \cdot 23 / (6!)$; "Tipo 2": $40 \cdot 39 \cdot 38 \cdot 37 \cdot 36 \cdot 35 / (6!)$
- c) "Tipo 1": $28!/(6!)$; "Tipo 2": $40!/(6!)$
- d) "Tipo 1": $28 \cdot 26 \cdot 23 \cdot 6$; "Tipo 2": $40 \cdot 39 \cdot 38 \cdot 37 \cdot 35 \cdot 6$

24) Leia atentamente o texto abaixo retirado de uma matéria de 2017 da mídia.

"A prevalência do transtorno [de depressão] na população mundial é de 4,4%. Já no Brasil, 5,8% da população sofre com esse problema, (...). Segundo os dados da OMS, o Brasil é o país com maior prevalência de depressão da América Latina e o segundo com maior prevalência nas Américas, ficando atrás somente dos Estados Unidos, que têm 5,9% de depressivos (...).

Ainda segundo a OMS, o número de pessoas com transtornos de ansiedade era de 264 milhões em 2015, com um aumento de 14,9% em relação a 2005. A prevalência na população [mundial] é de 3,6%. É importante observar que muitas pessoas têm tanto depressão quanto transtornos de ansiedade. O Brasil é recordista mundial em prevalência de transtornos de ansiedade: 9,3% da população sofre com o problema. Ao todo, são 18,6 milhões de pessoas."

(Fonte: G1)

De acordo com os dados reportados no texto, considere a população brasileira aproximadamente 200 milhões e assinale o número aproximado de pessoas que têm ansiedade e depressão no Brasil (consideradas como doenças independentes).

- a) 1 milhão
- b) 10 milhões
- c) 50 milhões
- d) 100 milhões

25) “Meme é um termo criado em 1976 por Richard Dawkins no seu *best-seller*” “O Gene Egoísta” e é para a memória o análogo do gene na genética, a sua unidade mínima (...). Os memes podem ser ideias ou partes de ideias, línguas, sons, desenhos, capacidades, valores estéticos e morais, ou qualquer outra coisa que possa ser aprendida facilmente e transmitida como unidade autônoma” (Meme – Wikipedia).

Memes, muito comuns nas redes sociais, são utilizados para transmitir desde chistes e piadas, a denúncias políticas ou mesmo notícias falsas. Considere este meme abaixo, retirado de uma rede social.

Todas as pessoas do mundo são da mesma idade este ano!
 É incrível: este ano todas as pessoas no mundo estão na mesma faixa etária, todas iguais a 2019. Este ano é especial. Acontece apenas uma vez a cada 1.000 anos. Este ano sua idade + seu ano de nascimento, é = 2019. Por exemplo, você tem 55 anos e nasceu em 1964, o que soma 2019. Muito estranho, nem os mestres chineses e estrangeiros podem explicar. Por favor, some sua idade com o ano de nascimento e veja se a resposta é 2019. É uma espera de mil anos! Vá para o círculo de amigos, e deixe todo mundo calcular.

Assinale a alternativa que contém uma análise correta do significado deste meme.

- a) Trata-se de *fake news*, pois não é verdadeira para a idade de todas as pessoas
- b) Trata-se de *curiosidade* verdadeira, pois é um fato raro da cultura humana
- c) Trata-se de *piada*, além dos absurdos, isso ocorre para todas as pessoas todos os anos
- d) Trata-se de *teoria de conspiração*, pois não é possível a explicação

26) Um pequeno comerciante decide avaliar como é o desempenho da carteira de dívidas (*contas penduradas*) de fregueses de seu estabelecimento. Sendo assim, analise o histórico de pagamentos das contas penduradas no ano anterior, conforme tabela abaixo.

Cliente	Valor (R\$)	Pago?	Tempo até pagamento (meses)
Alberto B	530	Sim	4
Bernardo R	320	Não	-
Caio C	110	Sim	2
Demétrico M	52	Sim	1
Emerson S	120	Não	-
Fabio H	120	Sim	3
Gustavo M	155	Sim	3

Tabela: Contas penduradas ao longo do ano anterior.

Sobre as induções lógicas realizadas acerca dos dados disponíveis, analise as afirmativas abaixo e dê valores e Verdadeiro (V) ou Falso (F).

- () Dívidas de valores entre R\$100 e R\$200 reais, quando pagas, demoram em média 1,75 meses para serem quitadas.
- () Dívidas acima de R\$ 200 têm o dobro de chances de não serem pagas que as dívidas entre R\$ 100 e R\$ 200.
- () Dívidas menores que R\$ 100 provavelmente serão pagas em menor tempo.

Assinale a alternativa que apresenta a sequência correta de cima para baixo.

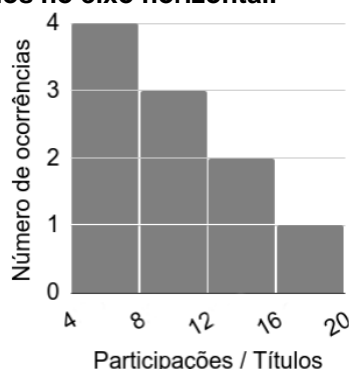
- a) V, V, V
- b) V, V, F
- c) F, V, V
- d) F, F, V

27) Na tabela são registrados os clubes brasileiros de futebol com maior participação no campeonato continental mais importante da América Latina, a Copa Libertadores de América, e o número de títulos conquistados por cada um.

Clube	Participações	Títulos	Participações/Título
Grêmio	19	3	6.3
Palmeiras	19	1	19.0
São Paulo	19	3	6.3
Cruzeiro	17	2	8.5
Flamengo	15	1	15.0
Corinthians	14	1	14.0
Santos	14	3	4.7
Internacional	12	2	6.0
Atlético Mineiro	10	1	10.0
Vasco da Gama	9	1	9.0

(Fonte: Wikipedia; Manual do Homem Moderno)

Abaixo temos a representação da coluna "Participação/Títulos" em um gráfico (histograma) onde se conta o número de vezes em que, neste conjunto, foi obtido um resultado entre os valores consecutivos marcados no eixo horizontal.



De acordo com os dados históricos, assinale a alternativa correta que apresenta uma indução verdadeira aferida, a partir desses dados, para esse conjunto de times.

- É mais provável um time demorar mais de 16 campeonatos em média até um título, 25%
- A probabilidade de um time deste conjunto ganhar um título após um número de participações entre 12 e 16 é de 10%
- A probabilidade de um time deste conjunto ganhar um título após um número de participações entre 8 e 12 é 45%
- É mais provável um time ganhar um título após disputar entre 4 e 8 campeonatos, 40% de chances

28) De acordo com a publicação Ethnologue, em que se realiza acompanhamento de estatísticas da evolução das línguas vivas faladas no mundo, o número total de falantes de língua portuguesa atualmente está em 235 milhões de falantes, ocupando a nona posição no *ranking* mundial. O inglês, a língua mais falada, tem 1,1 bilhões, e o espanhol com 535 milhões.

O acesso à informação qualificada na rede mundial de computadores depende diretamente da quantidade de fontes disponíveis de conteúdo de qualidade, e isso deve ser de alguma maneira dependente do número total de falantes, entre outros elementos, como qualidade da formação intelectual média dos falantes, bem como do acesso à rede.

Supondo a hipótese que a quantidade de conteúdos de qualidade na rede dependesse "apenas" do número total de falantes, assinale a alternativa correta que representaria uma conclusão adequada com a hipótese.

- haveria cerca de 5 vezes mais conteúdo de qualidade em inglês do que em português
- haveria cerca de 2 vezes mais conteúdo de qualidade em português do que em espanhol
- haveria cerca de 3 vezes mais conteúdo de qualidade em inglês do que em espanhol
- haveria cerca de 3 vezes mais conteúdo de qualidade em espanhol e inglês do que em português

29) Roberta e Jorge estão conversando, e fizeram, cada um, uma hipótese (H1 e H2) sintetizadas nas proposições abaixo sobre o que disse Pedro sobre dois assuntos (A e B):

Disse Roberta: H1 = "Pedro está falando a verdade sobre A e mentindo sobre B"

Disse Jorge: H2 = "Pedro está mentindo sobre A e mentindo sobre B"

Considere que a realidade seja binária, ou seja: "mentir" é a negação de "falar a verdade", e que, portanto, não existem meias verdades ou omissões como possíveis outras respostas para o que Pedro falou sobre A e B.

Assinale a alternativa correta que apresenta uma análise lógica da relação entre as hipóteses.

- H1 é verdade ou H2 é verdade - é uma possível verdade
- H1 e H2 são verdade - é uma possível verdade
- Se H1 é verdade, então H2 não é verdade - é uma possível verdade
- Se H2 não é verdade, então H1 é verdade - pode ser verdade

30) Considere os conjuntos numéricos:

$A = \{1, 3, 5, 6, 7, 11\}$, $B = \{2, 3, 4, 5, 6, 9, 11\}$, e $C = \{5, 7, 8, 9, 11\}$

Assinale a alternativa que corretamente identifica a interseção entre o conjunto AUB e o conjunto AUC, ou seja: $(A \cup B) \cap (A \cup C)$, e uma representação equivalente a esse conjunto resultante em termos destes símbolos.

- $\{1, 3, 5, 6, 7, 11\}$ que é igual a A
- $\{1, 3, 5, 6, 7, 9, 11\}$ que é igual a $A \cup (B \cap C)$
- $\{5, 9, 11\}$ que é igual a $A \cap B \cap C$
- $\{1, 2, 3, 4, 5, 6, 7, 8, 9, 11\}$ que é igual a $A \cup B \cup C$

HISTÓRIA E GEOGRAFIA DO ACRE

31) A ocupação do território habitado por indígenas e que hoje forma o Estado do Acre teve início com o primeiro ciclo econômico da borracha, por volta da segunda metade da década de 1800 (Governo do Estado do Acre, 2010). Assinale a alternativa que aponta uma consequência correta do Primeiro Ciclo da Borracha para o estado do Acre.

- Instalação da Ferrovia de Integração Oeste-Leste
- Construção da Rodovia Transamazônica
- Aumento do número de migrantes vindos do Nordeste
- Anexação do Acre ao território da Colômbia

32) Ao custo de muitos conflitos e mortes, a sociedade acreana conseguiu redirecionar o modelo econômico implantado pelos militares na década de 60. O assassinato de líderes representativos como _____ e _____, entre outros, evidenciou a força da reação da sociedade local aos agentes externos e produziu o recuo daqueles investidores que apenas buscavam exploração de curto prazo dos recursos naturais e da força de trabalho (Governo do Estado do Acre, 2010).

Assinale a alternativa que preencha correta e respectivamente as lacunas.

- Wilson Pinheiro / Chico Mendes
- Wilson Pinheiro / Assis Brasil
- Luís Galvez / Chico Mendes
- Luís Galvez / Assis Brasil

33) As tensões sociais de meados de 1970 fizeram com que trabalhadores rurais do Acre se organizassem na defesa de seus interesses. Parte da história do movimento ecológico é proveniente da luta dos seringueiros no Acre, uma vez que o afastamento do extrativista de seu território, provocado pelo desmatamento, deu origem aos empates. Os empates eram ações coletivas que visavam impedir a ação de peões encarregados da derrubada. Um grupo de cem a duzentas pessoas (homens, mulheres e crianças) dirige-se pacificamente aos acampamentos e convence os peões a abandonar as motosserras. Em seringais de Xapuri, a partir de 1986 ganharam apoio nacional [...] (Governo do Estado do Acre, 2010). Quanto à conquista da luta dos seringueiros após o período citado, assinale a alternativa correta.

- A proibição da extração do látex em todo o estado
- A criação de Reservas Extrativistas no estado
- O impeachment da governadora do Acre, Iolanda Fleming
- A Revolução Acreana e a proclamação da República do Acre

34) Símbolo oficial do estado do Acre, a bandeira atual foi instituída em 1995, adotando o mesmo desenho da Bandeira do Estado Independente, decretada em 1889. Seu desenho foi idealizado por José Plácido de Castro (Estados e Capitais do Brasil). Assinale a alternativa que traz corretamente a ilustração da bandeira do estado do Acre.



35) No que se refere à localização e à divisão territorial do estado do Acre, assinale a alternativa incorreta.

- O estado do Acre faz fronteira com dois outros países, sendo eles a Bolívia e o Peru
- O Acre é composto por 22 municípios e está localizado na região Norte do Brasil
- O Acre é dividido em duas regiões geográficas intermediárias, sendo elas Rio Branco e Cruzeiro do Sul
- O Acre é dividido em três regiões geográficas imediatas, sendo elas Santa Rosa do Purus, Assis Brasil e Jordão

36) Na fronteira entre o estado do Acre (Brasil) e o Departamento de Pando (Bolívia), a dinâmica econômica todos os anos se intensifica, com o início, em dezembro, da safra oriunda de uma árvore emblemática da Amazônia: a castanheira, ou *Bertholletia excelsa*. A comercialização do fruto dessa árvore, antes identificado como castanha-do-pará, depois como castanha-do-brasil, representa mais da metade da renda anual dos produtores florestais que habitam ambas as localidades (REMADE, 2018). Sobre a forma de ser classificada a atividade citada no enunciado, assinale a alternativa correta.

- a) Pecuária
- b) Silvicultura
- c) Extrativismo
- d) Horticultura

37) Marcado por uma história de luta e resistência das populações tradicionais – índios, extrativistas, ribeirinhos e agricultores familiares – em defesa e proteção do meio ambiente, o Acre, que possui 47,9% de seu território composto por áreas protegidas, está em processo de criação definitiva de mais uma Unidade de Conservação: Floresta Estadual do Afluente (Notícias do Acre, 2018). Assinale a alternativa correta que destaca um bioma comumente protegido por Unidades de Conservação no estado do Acre.

- a) Amazônico
- b) Pantaneiro
- c) Acreano
- d) Savânico

38) No que se refere às características dos relevos do estado do Acre, analise as afirmativas abaixo e dê valores Verdadeiro (V) ou Falso (F).

- () No Acre, assim como em outros locais da Amazônia, a variação altimétrica é muito expressiva, com amplitudes que podem chegar a 900 metros.
- () As unidades de relevo, associadas com o estado, são a planície do rio Amazonas e os planaltos residuais norte-amazônicos.
- () A Serra da Bocaina abriga os terrenos mais elevados do estado e, neste local, está localizado o Parque Nacional da Serra da Bocaina.

Assinale a alternativa que apresenta a sequência correta de cima para baixo.

- a) V, V, V
- b) F, F, F
- c) F, V, F
- d) V, F, V

39) A destruição das florestas tropicais é uma das principais ameaças para a conservação da biodiversidade em escala global (Governo do Estado do Acre, 2010). Entre as atividades antrópicas abaixo, analise as afirmativas abaixo que têm contribuído com a degradação intensa de áreas com vegetação natural no estado do Acre.

- I. Grilagem de terras e desmatamento das matas para expandir propriedades agropecuárias.
- II. Queimadas não controladas ateadas por pecuaristas para limpeza de terreno.
- III. Uso sustentável dos recursos naturais por comunidades tradicionais.
- IV. Exploração de madeiras por corte seletivo e instalação de garimpos ilegais.

Assinale a alternativa correta.

- a) As afirmativas I, II, III e IV estão corretas
- b) Apenas as afirmativas II, III e IV estão corretas
- c) Apenas as afirmativas I e III estão corretas
- d) Apenas as afirmativas I, II e IV estão corretas

40) Nas eleições realizadas em outubro de 2018, _____ foi eleito governador do estado do Acre. O político, filiado ao _____, estará no governo do estado entre 2019 e 2022.

Assinale a alternativa que preencha correta e respectivamente as lacunas.

- a) Marcus Alexandre / Partido dos Trabalhadores (PT)
- b) Gladson Cameli / Partido Progressista (PP)
- c) Ilderlei Cordeiro / Movimento Democrático Brasileiro (MDB)
- d) Coronel Ulysses / Partido Social Liberal (PSL)