

NOME DO CANDIDATO

ASSINATURA DO CANDIDATO

RG DO CANDIDATO

LEIA COM ATENÇÃO AS INSTRUÇÕES ABAIXO**INSTRUÇÕES GERAIS**

- I. Nesta prova, você encontrará **11 (onze) páginas** numeradas sequencialmente, contendo **60 (sessenta) questões objetivas** correspondentes às seguintes disciplinas: **Língua Portuguesa 10 (dez) questões, Raciocínio Lógico 5 (cinco) questões, Noções de Informática 5 (cinco) questões, Legislação Aplicada ao SUS 5 (cinco) questões, Legislação Aplicada à EBSERH 5 (cinco) questões e Conhecimentos Específicos 30 (trinta) questões.**
- II. Verifique se seu nome e número de inscrição estão corretos na Folha de Respostas. Se houver erro, notifique o fiscal.
- III. Verifique se o Caderno de Questões se refere ao cargo para o qual você se inscreveu. Caso o cargo esteja divergente, solicite ao fiscal de sala para que tome as providências cabíveis, pois não serão aceitas reclamações posteriores nesse sentido.
- IV. Verifique se a impressão, a paginação e a numeração das questões estão corretas. Caso observe qualquer erro, notifique o fiscal.
- V. Assine e preencha a Folha de Respostas nos locais indicados, com caneta azul ou preta.
- VI. Marque a Folha de Respostas cobrindo fortemente o espaço correspondente à letra a ser assinalada, conforme o exemplo na própria Folha de Respostas.
- VII. O sistema de leitura e processamento das Folhas de Respostas não registrará a resposta em que houver falta de nitidez na marcação e/ou marcação de mais de uma alternativa.
- VIII. A Folha de Respostas não pode ser dobrada, amassada, rasurada ou manchada. Exceto sua assinatura, nada deve ser escrito ou registrado fora dos locais destinados às respostas.
- IX. Ao terminar a prova, entregue ao fiscal a Folha de Respostas e este Caderno. As observações ou marcações registradas neste Caderno não serão levadas em consideração.
- X. **Você dispõe de 04 (quatro) horas para fazer esta prova. Reserve os 20 (vinte) minutos finais para marcar a Folha de Respostas.**
- XI. O candidato só poderá retirar-se do setor de prova **02 (duas) horas após seu início.**
- XII. É terminantemente proibido o uso de telefone celular e demais aparelhos eletrônicos.

Boa Prova!

NOME:

ASSINATURA DO CANDIDATO:

INSCRIÇÃO:

1	2	3	4	5	6	7	8	9	10	11	12	13	14	15	16	17	18	19	20	
21	22	23	24	25	26	27	28	29	30	31	32	33	34	35	36	37	38	39	40	
41	42	43	44	45	46	47	48	49	50	51	52	53	54	55	56	57	58	59	60	

RASCUNHO

LÍNGUA PORTUGUESA

Leia com atenção os dois textos a seguir para responder às questões de 1 a 6.

[Texto 1]

Trecho do artigo Trabalho e Existência produzido pelo Sesc São Paulo.

As atividades humanas designadas como trabalho, para além de seu caráter utilitário, também são responsáveis por construir identidades. Uma vez que organizam o tempo, determinam as relações entre os indivíduos e configuram sua autorrepresentação, torna-se compreensível que nos entendamos em função das atividades laborais que exercemos.

Catálogo impresso Publicação Sesc SP - **Nós, criação, trabalho e cidadania**. Novembro de 2019.

[Texto 2]



Fonte: https://miro.medium.com/max/1428/1*KnVD0-e3SVhEsvqgJ6L-mg.jpeg

1) Sobre a interpretação dos textos, analise as afirmativas abaixo.

- I. Os dois textos pactuam do mesmo ponto de vista sobre o trabalho.
- II. Os dois textos lidos em sequência geram uma relação de descontinuidade na compreensão de trabalho.
- III. Os dois textos lidos em sequência geram uma relação de contiguidade na compreensão de trabalho.

Assinale a alternativa correta.

- a) Apenas a afirmativa I está correta.
- b) Apenas as afirmativas I e II estão corretas.
- c) Apenas a afirmativa II está correta.
- d) Apenas as afirmativas II e III estão corretas.
- e) Apenas a afirmativa III está correta.

2) Sobre a interpretação dos textos, assinale a alternativa correta.

- a) O [texto 1] é uma sequência tipológica injuntiva enquanto a tirinha [texto 2] representa uma sequência tipológica narrativa.
- b) Por ambos os textos terem como função “vender” uma ideia sobre trabalho, eles podem ser considerados sequências tipológicas propagandísticas.
- c) O [texto 1] apresenta uma sequência explicativa sobre uma ideia de trabalho, enquanto a tirinha [texto 2] apresenta uma menção denotativa sobre trabalho por meio da dúvida do personagem.
- d) A tirinha [texto 2] faz uso da fala de personagens que mesmo representando o público infantil promove uma reflexão profunda sobre o trabalho na vida adulta.
- e) O [texto 1] por ser ficcional promove um olhar romantizado e errôneo da concepção de trabalho.

3) Quanto à principal distinção de ponto de vista dos dois textos, assinale a alternativa correta.

- a) Enquanto o primeiro texto apresenta uma sequência de descrições sobre o trabalho e a constituição identitária dos sujeitos, a dúvida do personagem da tirinha denuncia uma percepção de trabalho que rouba a vida de quem o realiza.
- b) Eles se distinguem por serem aleatórios na apresentação propositiva confundindo o leitor sobre o foco pretendido por eles enquanto tema.
- c) A tese que sustenta o [texto 1] fundamenta-se no senso comum sobre o trabalho, enquanto a tese da tirinha está assentada em pesquisas e estatísticas brasileiras.
- d) O sentido de contradição entre os textos pode ser pensado pelo primeiro quadrinho ser uma afirmação e o segundo quadrinho uma interrogação.
- e) Os textos se diferem enquanto estrutura por mais que os argumentos e o ponto de vista de ambos coincidam.

4) Assinale a alternativa que indica o sentido correto do emprego do termo “para” no trecho: “Trabalhar para ganhar a vida”.

- a) Conclusivo.
- b) Finalidade.
- c) Explicativo.
- d) Concessivo.
- e) Alternativo.

5) Assinale a alternativa correta que contenha a expressão mais condizente com a interpretação sobre trabalho proposta pelo [texto 1].

- a) O único lugar em que o sucesso vem antes do trabalho é no dicionário.
- b) Deus ajuda quem cedo madruga.
- c) Tempo é dinheiro.
- d) Cabeça vazia, oficina do diabo.
- e) O trabalho enobrece o homem.

6) Analise as afirmativas abaixo em relação ao [texto 1] e dê valores Verdadeiro (V) ou Falso (F).

- () No trecho “As atividades **humanas** designadas como trabalho, para além de seu caráter **utilitário**”, os termos destacados são classificados como adjetivos.
- () A palavra “também” é um advérbio de exclusão.
- () No trecho “Uma vez que organizam **o tempo**”, o termo destacado funciona sintaticamente como Objeto Direto.
- () O trecho “que nos entendamos em função das atividades laborais.” É classificado sintaticamente como Oração Subordinada Completiva Nominal.
- () O trecho “que exercemos” é classificado sintaticamente como Oração Subordinada Adjetiva Restritiva.

Assinale a alternativa que apresenta a sequência correta de cima para baixo.

- a) F, F, V, V, V.
- b) V, V, F, F, F.
- c) F, F, V, F, F.
- d) V, F, V, F, V.
- e) V, F, F, V, V.

Leia com atenção a reportagem abaixo para responder às questões de 7 a 10.

Adaptado

A terceira edição da pesquisa Nossa Escola em (Re)Construção ouviu estudantes dos ensinos fundamental e médio e mostrou que 64% deles “consideram importante” ter psicólogo na escola para atendê-los.

Os jovens querem profissionais de psicologia na escola “tanto no apoio para lidar com sentimentos, quanto para orientar sobre o que venham a fazer no futuro”.

“Há uma preocupação entre os alunos de que as escolas apoiem no desenho do futuro deles”, destaca Tatiana Klix, diretora da Porvir, uma plataforma que produz conteúdos de apoio a educadores, que também esteve à frente da pesquisa.

A atuação permanente de psicólogos nas escolas está prevista em projeto de lei (PL) aprovado pelo Congresso Nacional.

A pesquisa ouviu 258.680 estudantes, de 11 a 21 anos, de todo o Brasil. A maior participação na pesquisa foi de estudantes da Região Sudeste (63,5%). A maioria passou a maior parte da vida escolar em escolas públicas (93,4%), tinha de 15 a 17 anos (58%), é formada de meninas (52%) e se define de cor parda (42%).

Fonte: <https://www.metrojornal.com.br/foco/2019/11/30/maioria-estudantes-psicologo-escolas.html>

7) A partir da interpretação do texto acima, assinale a alternativa correta.

- a) Trata-se de uma reportagem baseada em estatísticas internacionais e que sustenta os argumentos necessários para a aprovação do PL pelo Congresso Nacional.
- b) A demanda dos estudantes por profissionais da educação se deve a uma necessidade tanto de saúde emocional como de orientação vocacional.
- c) Por tratar-se de uma pesquisa feita tanto com alunos do ensino fundamental como do ensino médio nada podemos inferir sobre a necessidade de profissionais da saúde mental para aluno da primeira infância.
- d) O resultado da pesquisa sustenta-se, majoritariamente, na demanda de estudantes de escolas da rede pública e dividiu-se igualmente pela escuta de pessoas do sexo feminino e do sexo masculino.
- e) Sabemos pelo texto que a pesquisa não ouviu estudantes da rede de ensino privado por compreender que a maior necessidade por auxílio psíquico advém das pessoas que não podem pagar pelo ensino.

8) Assinale a alternativa que preencha correta e respectivamente as lacunas do trecho a seguir, respeitando o sentido pretendido pelo texto e a Gramática Normativa da Língua Portuguesa.

“_____ no apoio para lidar com sentimentos, _____ para orientar sobre o que venham a fazer no futuro”.

- a) Seje / seja.
- b) Seja / como.
- c) Quiça / seja.
- d) Mas / mais.
- e) Mais / menos.

9) Leia o trecho: ‘Há uma preocupação entre os alunos de que as escolas apoiem no desenho do futuro deles’, destaca Tatiana Klix, diretora da Porvir, uma plataforma que produz conteúdos de apoio a educadores, que também esteve à frente da pesquisa.’ e assinale a alternativa incorreta.

- a) O verbo “haver” é impessoal.
- b) A palavra “entre” é, morfologicamente, uma preposição.
- c) A expressão “uma plataforma” é composta, respectivamente, por um artigo indefinido e um substantivo.
- d) Em “apoio a educadores”, a palavra “a” é uma preposição.
- e) Em “que também esteve”, a palavra “que” é uma conjunção.

10) De acordo com as regras de concordância verbal e nominal, assinale a alternativa correta.

- a) As dificuldades socioemocionais representam problemas muito graves e presentes na vida de adolescentes de vários níveis social.
- b) A presença de profissionais da área de psicologia é uma reivindicação e direito dos jovens que, na rede de ensino, tem necessidade de apoio psicológico.
- c) A necessidade de auxílio psicológico, por meio da presença de profissionais da área de saúde mental nas escolas, deve ser um fato observado pelas autoridades.
- d) Os direitos devem ser cumpridos para que haja condições saudáveis de convivência entre os jovens na idade escolar.
- e) Os pais e responsáveis devem ficar atentos com quem os adolescentes convivem no seu cotidiano.

RACIOCÍNIO LÓGICO

11) Considerando que os símbolos \wedge , \vee , \rightarrow e \leftrightarrow representem operadores lógicos e significam “e”, “ou”, “então” e “se e somente se”, respectivamente, analise os seguintes testes lógicos e dê valores de Verdadeiro (V) ou Falso (F).

- () $(32 - 3 \times 12 = -4 \wedge 12 + 15 = 27)$
- () $(15 + 2 \neq 17 \vee 18 - 9 = 9)$
- () $(12 \div 4 = 4 \leftrightarrow 25 - 13 = 12)$
- () $(48 \div 4 = 12 \rightarrow 16 + 17 \neq 33)$
- () $(13 + 12 = 9 \vee 1 + 1 = 3)$

Assinale a alternativa que apresenta a sequência correta de cima para baixo.

- a) V, F, V, F, V
- b) V, V, F, F, F
- c) F, F, V, V, V
- d) V, F, F, V, V
- e) F, V, F, V, F

12) Se A e B simbolizam, respectivamente, as proposições “João recebe uma promoção no emprego” e “João compra um carro novo”, considere a proposição composta $A \rightarrow B$ para analisar as afirmações.

- I. A proposição composta $A \rightarrow B$ é falsa se A é falsa e B é falsa.
 II. A proposição composta $A \rightarrow B$ é verdadeira se B é verdadeira e A é verdadeira.
 III. A proposição composta $A \rightarrow B$ é verdadeira se A é falsa e B é verdadeira.

Assinale a alternativa correta.

- a) Apenas a segunda afirmação é verdadeira
 b) Apenas a terceira afirmação é falsa
 c) Apenas a segunda afirmação é falsa
 d) Todas as afirmações são verdadeiras
 e) Apenas a primeira afirmação é falsa

13) Dada a sentença

“Ou Camila é médica ou Ana é dentista.”

Assinale a alternativa que apresenta a negação das proposições anteriores.

- a) Camila não é médica e Ana não é dentista
 b) Camila não é médica ou Ana não é dentista
 c) Se Camila não é médica então Ana não é dentista
 d) Camila é médica se e somente se Ana é dentista
 e) Se Camila é médica então Ana é dentista

14) Considerando o conjunto de números inteiros de três algarismos, analise as afirmativas abaixo.

- I. Existem 56 números menores que 800, terminados em 0 e cujo algarismo da dezena é menor ou igual a 7.
 II. Existem 90 números pares, maiores que 350 cujo algarismo da dezena é igual a 2, 5 ou 9.
 III. Existem 500 números cujo algarismo da centena é ímpar ou algarismo da dezena é ímpar.

Assinale a alternativa correta.

- a) A primeira afirmação é verdadeira
 b) A terceira afirmação é verdadeira
 c) A primeira e a segunda afirmação são verdadeiras
 d) A segunda e a terceira afirmações são verdadeiras
 e) A segunda afirmação é verdadeira

15) Analise as sentenças a seguir, verificando quais resultam em valores lógicos verdadeiros e quais resultam em valores lógicos falsos. Considere que os símbolos \rightarrow e \leftrightarrow representam os operadores lógicos “se...então” e “se e somente se”, respectivamente.

- () A probabilidade de se escolher, ao acaso, um número maior que 6 no conjunto $A = \{2, 5, 8, 25, 1, 12\}$ é de 50%.
 () A negação da negação de uma proposição, resulta na própria proposição.
 () $(5 - 2 = 2) \rightarrow (5 + 2 = 8)$.
 () $(\sqrt{169} > \sqrt{225}) \leftrightarrow (4 > 3)$.

De acordo com as sentenças apresentadas, assinale a alternativa que apresenta a sequência correta de cima para baixo dos valores lógicos das proposições.

- a) V, F, F, V c) V, V, V, F e) V, V, F, V
 b) F, V, F, V d) F, V, V, F

NOÇÕES DE INFORMÁTICA

16) Em relação às Ferramentas de Busca, analise as afirmativas abaixo e dê valores Verdadeiro (V) ou Falso (F).

- () Ferramentas de Busca são ferramentas online utilizadas para encontrar todo o tipo de conteúdo a partir do uso de palavras-chave.
 () As principais Ferramentas de Busca compartilham das mesmas bases de dados.
 () Três Ferramentas de Busca muito usadas no mundo são: Bing, Yahoo e Ask.

Assinale a alternativa que apresenta a sequência correta de cima para baixo.

- a) V, F, F
 b) V, F, V
 c) F, V, V
 d) V, V, F
 e) F, F, V

17) Atualmente a maioria dos hospitais possuem redes de computadores. O que determina os diferentes tipos de redes são as necessidades que elas devem atender. Três formatos comuns em redes de computadores são:

- a) PAN - LAN - WAN
 b) XAN - YAN - ZAN
 c) AAN - BAN - CAN
 d) KAN - LAN - NAN
 e) 1AN - 2AN - 3AN

18) Em um Editor de Planilha do Pacote Microsoft Office, temos a seguinte fórmula expressa: $=B3-A2$. Isso representa que:

- a) o valor de A2 é maior que o valor especificado na célula B3
 b) teremos o resultado do intervalo expresso entre a célula B3 e a célula A2
 c) deve-se retirar da célula B3 o valor especificado na célula A2
 d) tanto o valor de B3, como o valor de A2, tem valores matematicamente iguais
 e) o valor de B3 é maior que o valor especificado na célula A2

19) Leia a frase abaixo referente a Sistema Operacional e Software:

“Dentro dos vários Sistemas Operacionais que encontramos no mercado o _____ e o _____ se destacam atualmente.”

Assinale a alternativa que preencha correta e respectivamente as lacunas.

- a) Outlook / Windows
 b) Linux / Oracle
 c) Oracle / Windows
 d) Linux / Outlook
 e) Linux / Windows

20) Assinale, das alternativas abaixo, a única que identifica corretamente uma das principais funcionalidades dos Editores de Apresentação do Pacote Microsoft Office.

- a) ajuste automático de memória
 b) processamento do desvio padrão
 c) paralelização de operações pesadas
 d) efeitos de transição de slides
 e) monitoramento do processamento da CPU

LEGISLAÇÃO APLICADA AO SUS

21) É previsto na Lei nº 8.080/1990, em seu Capítulo VI no Art. 1º, sobre o subsistema e atendimento domiciliar, incluído pela Lei nº 10.424/2002, que dispõe sobre os atendimentos e internações domiciliares no âmbito do Sistema Único de Saúde (SUS). Com base no exposto, assinale a alternativa correta.

- a) Na modalidade de assistência de atendimento e internação domiciliares incluem-se, principalmente, os procedimentos médicos, de enfermagem, fisioterapêuticos, psicológicos e de assistência social, entre outros necessários ao cuidado integral dos pacientes em seu domicílio
- b) Na modalidade de assistência de atendimento e internação domiciliares incluem-se os procedimentos médicos e de enfermagem, não havendo necessidade entre outras áreas para este tipo de cuidado
- c) O atendimento e a internação domiciliares serão realizados por equipes, exclusivamente médicas, que atuarão nos níveis da medicina preventiva, terapêutica e reabilitadora
- d) O atendimento e a internação domiciliares só poderão ser realizados por indicação da família, sem a concordância com a equipe médica
- e) O atendimento e a internação domiciliares só poderão ser realizados por indicação médica, sem a necessidade de concordância do paciente ou de sua família

22) Leia abaixo parte do Art. 1º da Lei nº 8142/1990, que discorre sobre a participação popular no Sistema Único de Saúde (SUS).

“O Conselho de Saúde, em caráter permanente e deliberativo, órgão colegiado composto por representantes do governo, prestadores de serviço, _____ e _____, atua na formulação de estratégias e no controle da execução da política de saúde na instância correspondente, inclusive nos aspectos econômicos e financeiros, cujas decisões serão homologadas pelo chefe do poder _____ constituído em cada esfera do governo”.

Assinale a alternativa que preencha correta e respectivamente as lacunas

- a) profissionais de saúde / usuários / ilegalmente
- b) médicos / sanitaristas / verbalmente
- c) profissionais de saúde / usuários / legalmente
- d) profissionais de saúde / sanitaristas / legalmente
- e) médicos / usuários / legalmente

23) Os serviços de saúde devem garantir a segurança do seu paciente. Para auxiliar nesse manejo do cuidado, foi criada a Resolução da Diretoria Colegiada (RDC) de nº 36, de 25 de julho de 2013, com objetivo de instituir ações para promoção da segurança do paciente e a melhoria da qualidade nos serviços de saúde. Em relação à vigilância, monitoramento e notificações de eventos adversos, assinale a alternativa correta.

- a) A notificação dos eventos adversos, para fins desta Resolução, deve ser realizada semestralmente pelo Núcleo de Segurança do Paciente (NSP), até o 15º (décimo quinto) dia útil do mês subsequente ao mês de vigilância, por meio das ferramentas eletrônicas disponibilizadas pela Anvisa
- b) Os eventos adversos que evoluírem para óbito devem ser notificados em até 72 (setenta e duas) horas a partir do ocorrido
- c) A notificação dos eventos adversos, para fins desta Resolução, deve ser realizada mensalmente pelo Núcleo de Segurança do Paciente (NSP), até o 20º (vigésimo) dia útil do mês subsequente ao mês de vigilância, por meio das ferramentas eletrônicas disponibilizadas pelo Ministério da Saúde
- d) Os eventos adversos que evoluírem para óbito devem ser notificados em até 24 (vinte e quatro) horas a partir do ocorrido
- e) Os eventos adversos que evoluírem para óbito devem ser notificados em até 48 (quarenta e oito) horas a partir do ocorrido

24) O Conselho Nacional de Saúde é procurado por várias instâncias como: usuários, trabalhadores, gestores, diferentes entidades da sociedade civil (como Organizações não governamentais e órgãos de exercício profissional), entre outros, com a finalidade de sanar dúvidas e obter esclarecimentos sobre o plano de gestão. Neste sentido, também é indicado aos membros dos conselhos de saúde fiscalizar o andamento dos serviços. Em relação à fiscalização dos conselheiros de saúde, analise as afirmativas abaixo e dê valores Verdadeiro (V) ou Falso (F).

- () “É recomendada a leitura do Plano de Saúde e as deliberações apresentadas no relatório da última Conferência de Saúde da cada região.”
- () “São indicadas visitas às unidades de saúde, sem agendamento ou aviso prévio, com a finalidade de analisar a compatibilidade do serviço com critérios pré-definidos.”
- () “É orientado conversar com usuários e com trabalhadores de saúde, levantando informações e percepções sobre a qualidade e deficiências dos serviços de saúde.”

Assinale a alternativa que apresenta a sequência correta de cima para baixo.

- a) F, V, F
- b) V, V, V
- c) V, F, F
- d) V, V, F
- e) V, F, V

25) Os determinantes sociais da saúde interferem diretamente no processo saúde-doença e ditam o mapa de saúde de uma região. Esses determinantes sociais referem-se aos fatores sociais, culturais, étnicos/raciais, psicológicos e comportamentais que influenciam a ocorrência de problemas de saúde e seus fatores de risco na população. Em relação aos determinantes sociais da saúde, assinale a alternativa correta.

- a) No Brasil, com a finalidade de identificar com menor precisão os fatores ambientais que determinam a saúde, foi criada a Comissão Nacional sobre Determinantes Sociais da Saúde
- b) No Brasil, com a finalidade de identificar com maior precisão os fatores genéticos e hereditários que determinam a saúde, foi criada a Comissão Nacional sobre Determinantes Sociais da Saúde
- c) No Brasil, com a finalidade de identificar com maior precisão os fatores sociais que determinam a saúde, foi criada a Comissão Global sobre Determinantes Sociais da Vida
- d) No Brasil, com a finalidade de identificar com maior precisão os fatores sociais que determinam a saúde, foi criada a Comissão Nacional sobre Determinantes Sociais da Saúde
- e) No Brasil, com a finalidade de identificar com maior precisão os fatores biopsicossociais que determinam a doença, foi criada a Comissão Nacional contra os Determinantes Culturais da Saúde

LEGISLAÇÃO APLICADA À EBSEERH

26) No Capítulo XVI do Estatuto da Empresa Brasileira de Serviços Hospitalares (EBSEERH), é tratado sobre a auditoria interna, que é vinculada ao Conselho de Administração, diretamente ou por meio do comitê de auditoria. Sobre a auditoria interna da EBSEERH, analise as afirmativas abaixo e dê valores Verdadeiro (V) ou Falso (F).

- () “Compete executar as atividades de auditoria de natureza contábil, financeira, orçamentária, administrativa, patrimonial e operacional da empresa.”
- () “Cabe propor as medidas preventivas e corretivas dos desvios detectados.”
- () “Deve verificar o cumprimento e a implementação pela empresa das recomendações ou determinações do Ministério da Saúde, da Controladoria Geral da União, do Tribunal de Contas do Estado e do Conselho Executivo.”

Assinale a alternativa que apresenta a sequência correta de cima para baixo.

- a) V, V, V
- b) V, V, F
- c) V, F, F
- d) F, F, F
- e) F, F, V

27) Leia abaixo o Art. 6º da Lei nº 12.550/2011.

“A EBSEERH, respeitado o princípio da autonomia _____, poderá _____ os serviços relacionados às suas competências mediante contrato com as instituições _____ de ensino ou instituições congêneres”.

Assinale a alternativa que preencha correta e respectivamente as lacunas.

- a) hospitalar / prestar / privadas
- b) hospitalar / prestar / públicas
- c) universitária / prestar / federais
- d) universitária / negar / federais
- e) universitária / prestar / privadas

28) De acordo com o Capítulo III do Código de Ética e Conduta da Empresa Brasileira de Serviços Hospitalares (EBSEERH), sobre os compromissos de conduta, os princípios éticos e morais são fundamentais para o trabalho. Em relação ao Art. 6º, sobre os princípios e valores norteadores e compromissos de conduta, assinale a alternativa incorreta.

- a) Os valores e compromissos devem estar refletidos nos relacionamentos nos âmbitos interno e externo à Empresa, sempre zelando pela imagem, reputação e integridade da EBSEERH
- b) A marca da empresa e o conhecimento produzido internamente no desenvolvimento de suas atividades ou em parceria são patrimônios institucionais e devem ser sempre protegidos por todos colaboradores
- c) A propriedade intelectual da empresa diz respeito ao seu direito de proteção às ideias e criação desenvolvidas internamente ou em parceria e inclui sua marca, patentes, direitos autorais, registro de software, dentre outros
- d) Os valores e compromissos da empresa, com base em seu patrimônio capital e intelectual, não são regidos pelos aspectos éticos e morais de conduta, pois se norteiam com base administrativa e executiva
- e) Deve-se proteger a marca e a propriedade intelectual do mau uso, desvios ou utilização para benefícios pessoais

29) O Código de Ética e Conduta da Empresa Brasileira de Serviços Hospitalares (EBSERH) baliza os princípios e valores requeridos pela empresa, sob responsabilidade da Comissão de Ética da EBSERH (CEE). Em relação à CEE, analise as afirmativas abaixo e dê valores Verdadeiro (V) ou Falso (F).

- () “Compete à CEE a divulgação, implementação e atualização do Código de Ética e Conduta, a resposta a consultas éticas, bem como a apuração de denúncias de descumprimento de conduta ética.”
- () “Qualquer pessoa poderá entrar em contato com a CEE, pelos canais de comunicação indicados na intranet e internet, sendo assegurado parcial sigilo e confidencialidade das informações.”
- () “A denúncia de uma conduta contrária aos preceitos éticos poderá ser feita por qualquer cidadão, empregado da EBSERH ou não.”

Assinale a alternativa que apresenta a sequência correta de cima para baixo.

- a) V, F, V
b) V, V, V
c) F, V, F
d) V, V, F
e) F, F, F

30) A Assembleia Geral é o órgão máximo da Empresa Brasileira de Serviços Hospitalares (EBSERH), com poderes para deliberar sobre todos os negócios relativos ao seu objeto. Em relação à Assembleia Geral, assinale a alternativa correta.

- a) As deliberações serão registradas no livro de atas, que não podem ser lavradas em forma de sumário dos fatos ocorridos e serão divulgadas exclusivamente no Diário Oficial da União em sua versão impressa
- b) Os trabalhos da Assembleia Geral são dirigidos pelo Presidente da União ou pelo substituto que esse vier a designar
- c) A Assembleia Geral realizar-se-á ordinariamente 2 (duas) vezes por ano e extraordinariamente sempre que necessário
- d) A Assembleia Geral será convocada pelo Conselho Executivo ou, nas hipóteses admitidas em lei, pelo Conselho Administrativo, pelo Conselho Fiscal ou pela União
- e) A Assembleia Geral é composta pela União, representada pela Procuradoria Geral da Fazenda Nacional

CONHECIMENTOS ESPECÍFICOS

31) A Norma Brasileira “NBR 6123 – Forças devidas ao vento em edificações”, da Associação Brasileira de Normas Técnicas (ABNT), imprescindível no dimensionamento estrutural de um edifício, expressa que a velocidade característica do vento, V_k , é igual a velocidade básica do vento, V_o , multiplicada pelos fatores S_1 , S_2 , e S_3 . Sobre estes fatores, analise as afirmativas a seguir e dê valores Verdadeiro (V) ou Falso (F).

- () S_1 corresponde ao fator topográfico.
- () S_2 corresponde ao fator de rugosidade do terreno, dimensões da edificação e altura sobre o terreno.
- () S_3 corresponde ao fator estatístico.
- Assinale a alternativa que indica a sequência correta de cima para baixo.**
- a) V, V, V
b) V, F, V
c) F, V, F
d) V, V, F
e) F, V, V

32) A Lei 8.666/1993, que regulamenta o art. 37, inciso XXI, da Constituição Federal, institui normas para licitações e contratos da Administração Pública e dá outras providências. De acordo com essa lei, a licitação destina-se a garantir _____ de acordo com princípios básicos de ética e boa conduta. Assinale a alternativa que preencha corretamente a lacuna do texto acima.

- a) O estímulo ao giro financeiro do mercado interno, a escolha da proposta mais proveitosa para a administração e o incentivo à iniciativa das micro e pequenas empresas
- b) O estímulo ao giro financeiro do mercado interno, a escolha da proposta mais proveitosa bilateralmente e o incentivo à iniciativa das micro e pequenas empresas
- c) A conformidade ao princípio constitucional da isonomia, a escolha da proposta mais proveitosa bilateralmente e a realização do desenvolvimento sustentável nacional
- d) A conformidade ao princípio constitucional da isonomia, a escolha da proposta mais proveitosa para a administração e a realização do desenvolvimento sustentável nacional
- e) A conformidade ao princípio constitucional da isonomia, a escolha da proposta mais proveitosa para a administração e o incentivo à iniciativa das micro e pequenas empresas

33) Um sistema de esgoto sanitário, responsável pela coleta, transporte e tratamento adequados das águas residuárias e de infiltração de uma cidade, tem sua concepção estendida às suas diversas partes. Com relação a algumas destas, analise as definições a seguir e dê valores Verdadeiro (V) ou Falso (F).

- () Coletor tronco: coletor principal de uma bacia de drenagem.
- () Interceptor: canalização que caracteriza-se por possuir dispositivo de encerramento temporário no transporte de esgoto.
- () Emissário: canalização destinada a conduzir os esgotos a um destino conveniente sem receber contribuições em marcha.

Assinale a alternativa correta que indica a sequência correta de cima para baixo.

- a) F, F, V
- b) V, F, F
- c) V, V, V
- d) F, F, F
- e) V, F, V

34) Assinale a alternativa que nomeia corretamente o órgão de âmbito nacional que direciona, normaliza e supervisiona as atividades da segurança e saúde no trabalho, através de campanhas, políticas e programas:

- a) Ministério da Fazenda, por meio da Secretaria Executiva
- b) Associação Brasileira de Normas Técnicas (ABNT)
- c) Instituto Nacional de Metrologia, Qualidade e Tecnologia (INMETRO)
- d) Secretaria do Trabalho (STRAB), por meio da Subsecretaria de Inspeção do Trabalho (SIT)
- e) Consolidação das Leis do Trabalho (CLT)

35) Para construção e instalação de novos elevadores elétricos de carga, maca e monta-cargas, a Norma Brasileira “NBR 14712 – Elevadores elétricos – Elevadores de carga, monta-cargas e elevadores de maca – Requisitos de segurança para projeto, fabricação e instalação”, da Associação Brasileira de Normas Técnicas (ABNT), estabelece requisitos de segurança. Assinale a alternativa correta que mostra o ângulo da inclinação máxima entre a vertical e as guias das instalações dos elevadores, para o qual a norma se aplica:

- a) 0°(grau)
- b) 15°
- c) 30°
- d) 45°
- e) 60°

36) O Índice de Suporte Califórnia, também conhecido como ensaio CBR (*California Bearing Ratio*), é útil para o dimensionamento da espessura de pavimento flexível necessária em função do tráfego de uma rodovia a ser construída. Assinale a alternativa que indica corretamente qual(is) valor(es) característico(s) é(são) determinado(s) pelo ensaio CBR:

- a) Granulometria de um corpo-de-prova do solo, em relação às peneiras específicas
- b) O limite de liquidez de um corpo-de-prova do solo
- c) Relação entre a pressão necessária para produzir a penetração de um pistão num corpo-de-prova de solo, e a pressão necessária para produzir a mesma penetração numa brita padronizada
- d) O limite de plasticidade de um corpo-de-prova do solo
- e) Umidade ótima e massa específica aparente seca máxima de um corpo-de-prova do solo

37) No desenho de plantas arquitetônicas feito através do programa AutoCAD da AutoDesk, é essencial que estejam presentes as indicações dos comprimentos dos segmentos retilíneos ou curvos, que formam a representação do objeto de interesse. Assinale a alternativa que indica corretamente o comando que realiza este trabalho.

- a) COTA
- b) APARAR
- c) DIST
- d) LINHA
- e) TAMANHO

38) Na execução de um cronograma de obra, a atividade A, que durará 2 semanas para ser executada, é pré-requisito para a atividade B, que durará 3 semanas, e C, que durará 4 semanas. Ambas as atividades B e C são pré-requisitos para a atividade D, que durará 1 semana. Assinale a alternativa correta que contém a duração do caminho crítico para a conclusão da execução das atividades A, B, C e D do cronograma:

- a) 6 semanas
- b) 7 semanas
- c) 8 semanas
- d) 9 semanas
- e) 10 semanas

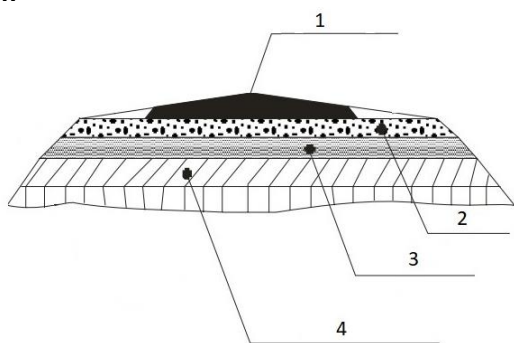
39) A proteção contra incêndio é de fundamental importância para a segurança de edifícios. Com relação às pinturas intumescentes, analise as afirmações a seguir e dê valores Verdadeiro (V) ou Falso (F).

- () São feitas com tintas que aumentam a resistência estrutural da superestrutura do edifício.
- () Resultam em um menor tempo para que os usuários saiam em segurança.
- () São uma medida de proteção ativa contra incêndio.

Assinale a alternativa correta que indica a sequência correta de cima para baixo.

- a) V, F, F
- b) F, V, F
- c) F, F, F
- d) F, V, V
- e) F, F, V

- 40) A figura a seguir mostra um perfil transversal padrão de rodovia, com suas camadas constituintes indicadas pelos números 1, 2, 3 e 4.



(Fonte: Manual de Pavimentação do Departamento Nacional de Infra-Estrutura de Transportes, modificado)

Com base nas camadas apresentadas na figura, assinale a alternativa **incorreta**.

- a) A camada 1 é o revestimento, que recebe diretamente a ação dos veículos
- b) A camada 2 é a base, responsável por resistir e distribuir os esforços oriundos do tráfego
- c) A camada 3 é o greide, responsável por promover interface de impermeabilização, quando requerido por circunstâncias técnico-econômicas
- d) A camada 4 é o reforço de subleito, com características geotécnicas inferiores ao material da camada que lhe for superior, porém melhores que o material do subleito
- e) Abaixo da camada 4 está a de regularização, transversal e longitudinalmente conformada com o leito sobre o qual está posta
- 41) Sobre os requisitos mínimos dos projetos físicos de estabelecimentos de saúde, expressos na Resolução da Diretoria Colegiada (RDC), do Ministério da Saúde, nº 51, de 6 de outubro de 2011, analise as afirmativas abaixo e dê valores Verdadeiro (V) ou Falso (F).
- () Esses projetos devem ser analisados e aprovados de acordo com a legislação sanitária local vigente.
- () A efetivação das ações de análise, avaliação e aprovação de cada projeto depende de pactuação locorregional entre os estados e municípios.
- () Para os projetos relativos a estabelecimentos de saúde que realizem atividades de alta complexidade de atenção básica, as vigilâncias sanitárias estaduais, municipais e do Distrito Federal definirão uma aplicação específica da resolução em questão.
- Assinale a alternativa que contém a sequência correta de cima para baixo.**
- a) V, V, F
- b) F, V, F
- c) F, F, F
- d) V, V, V
- e) V, F, F

- 42) Com relação ao quadro de distribuição principal do sistema elétrico predial de uma edificação, assinale a alternativa **incorreta**:

- a) É o local onde se concentra a distribuição de toda a instalação elétrica predial
- b) Deve ser acessível, facilitando a operação, inspeção e manutenção das suas conexões
- c) Deve possuir dispositivos de manobra, comando e proteção somente para os circuitos já existentes, sem espaços reservas para possíveis futuras ampliações
- d) Possui, dentre outros componentes, barramento de interligação das fases
- e) Possui, dentre outros componentes, barramento de neutro

- 43) De acordo com a Norma Brasileira “NBR 6118/2004 – Projeto de estruturas de concreto – Procedimento”, da Associação Brasileira de Normas Técnicas (ABNT), assinale a alternativa que denomina corretamente o mecanismo de deterioração, relativo ao concreto, responsável por dissolver e carrear os compostos hidratados da pasta de cimento por ação de águas (puras, carbônicas agressivas ou ácidas).

- a) Drenagem
- b) Reação álcali-agregado
- c) Galvanização
- d) Despassivação por carbonação
- e) Lixiviação

- 44) O concreto armado é uma solução inteligente quando usado como material estrutural para edifícios, pois combina as propriedades de alta resistência à _____ do concreto com a alta resistência à _____ do aço.

Assinale a alternativa que preencha correta e respectivamente as lacunas.

- a) tração / compressão
- b) compressão / tração
- c) torção / tração
- d) tração / torção
- e) elasticidade / hidratação

- 45) A Resolução de Diretoria Colegiada (RDC) nº 50 da ANVISA, de 21 de fevereiro de 2002, expressa o Regulamento Técnico destinado ao planejamento, programação, elaboração, avaliação e aprovação de projetos físicos de estabelecimentos assistenciais de saúde, anexados nessa mesma resolução, a nível nacional, na área pública e privada. Sobre os projetos físicos mencionados, analise as afirmativas abaixo e dê valores Verdadeiro (V) ou Falso (F).

- () As construções novas de estabelecimentos assistenciais de saúde, desde que sejam projetadas para uma capacidade igual ou superior a 300 atendimentos por dia.
- () As áreas a serem ampliadas de estabelecimentos assistenciais de saúde já existentes.
- () As reformas de estabelecimentos assistenciais de saúde já existentes.

Assinale a alternativa que contém a sequência correta de cima para baixo.

- a) F, V, V c) V, V, V e) F, F, V
- b) F, V, F d) V, F, F

46) O Benefício e Despesas Indiretas (BDI) é uma taxa que se adiciona a determinados custos de uma obra ou serviço para cobrir despesas, as quais estão exemplificadas incorretamente na alternativa.

- a) Despesas indiretas do executor
- b) Risco do empreendimento
- c) Materiais estruturais e para execução
- d) Tributos incidentes na operação
- e) Lucro do empreendedor

47) A Lei nº 8.666/1993, estabelece normas gerais sobre licitações e contratos administrativos referentes a obras, serviços, inclusive de publicidade, compras, alienações e locações no âmbito dos Poderes da União, dos Estados, do Distrito Federal e dos Municípios. No que se refere às contratações feitas por órgãos e entidades da Administração Pública, analise as afirmativas abaixo e dê valores Verdadeiro (V) ou Falso (F).

- () A empreitada por preço global é a modalidade de contratação de execução indireta de obras e serviços, pela qual é estabelecido um preço global para a execução da obra.
- () A empreitada por preços unitários é a modalidade de contratação de execução direta de obras e serviços, paga pela quantidade de serviços executados.
- () A tarefa é uma modalidade de contratação de execução indireta, quando se ajusta mão-de-obra para pequenos trabalhos por preço certo, com ou sem fornecimento de materiais.

Assinale a alternativa que apresenta a sequência correta de cima para baixo.

- a) F, V, F d) V, F, V
- b) V, V, V e) V, V, F
- c) F, F, V

48) A Norma Brasileira “NBR 9077 – Saídas de emergência em edifícios”, da Associação Brasileira de Normas Técnicas (ABNT), expressa a largura mínima de uma unidade de passagem. Assinale a alternativa que contém o valor correto desta largura.

- a) 0,40 m (metro) d) 0,85 m
- b) 0,55 m e) 1,00 m
- c) 0,70 m

49) Considere que uma sapata retangular, com largura L e comprimento C, deve ser dimensionada para que resista a uma carga de 4800 kN (quilonewtons), transferida ao elemento de fundação de um pilar com dimensões $c = 120$ cm (centímetros) e $l = 20$ cm. A tensão admissível do solo é de 400 kN/m² (quilonewtons por metro quadrado) e, para que haja dimensionamento econômico, a igualdade $C - L = c - l$ deve ser satisfeita.

Assinale a alternativa que contém o valor da largura L da sapata de maneira correta.

- a) 100 cm
- b) 200 cm
- c) 300 cm
- d) 400 cm
- e) 500 cm

50) Utilize o texto abaixo apresentado para responder o questionamento seguinte:

“É um instrumento de planejamento governamental em que constam as despesas da administração pública para um ano, em equilíbrio com a arrecadação das receitas previstas. É o documento onde o governo reúne todas as receitas arrecadadas e programa o que de fato vai ser feito com esses recursos” (Ministério da Economia, Planejamento, Desenvolvimento e Gestão, 2019).

Assinale a alternativa que contém corretamente o nome do instrumento descrito no texto acima.

- a) Licitação
- b) Orçamento Público
- c) Empreitada
- d) Plano Diretor
- e) Plano Plurianual

51) O projeto estrutural é um processo que gera a solução ótima para uma estrutura. Existem duas filosofias de projeto de estruturas metálicas de edifícios correntemente em uso: _____ e _____.

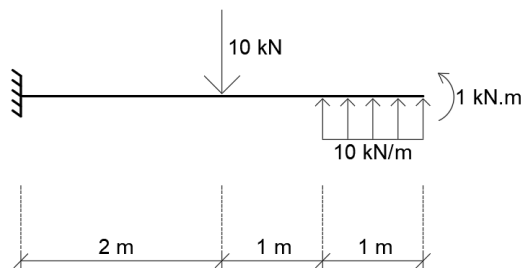
Assinale a alternativa que preencha correta e respectivamente as lacunas.

- a) Projeto pelos limites de serviço / projeto pelos limites últimos
- b) Projeto pela segurança estrutural / projeto pela resistência e esforço solicitante
- c) Projeto pelas cargas acidentais, permanentes e excepcionais / projeto pelas cargas prováveis
- d) Projeto pelas combinações probabilísticas / projeto pela ponderação das resistências
- e) Projeto pelos estados limites / projeto pelas resistências admissíveis

52) A artigo 1º da Lei nº 5.194, de 24 de dezembro de 1966, expressa que a caracterização das profissões de engenheiro, arquiteto e engenheiro-agrônomo se dá pelas realizações de interesse social e humano, que importem na realização de empreendimentos específicos. Assinale a alternativa que contém um destes empreendimentos de forma incorreta.

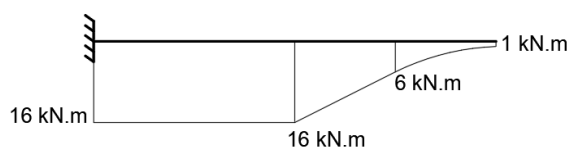
- a) Aproveitamento e utilização de recursos naturais
- b) Meios de locomoção e comunicações
- c) Edificações, serviços e equipamentos urbanos, rurais e regionais, nos seus aspectos técnicos e artísticos
- d) Organização das informações administrativas
- e) Desenvolvimento industrial e agropecuário

53) A concepção global de um projeto estrutural predial se dá pelo entendimento de todos os seus elementos. Uma barra, em balanço, engastada na sua extremidade esquerda, tem comprimento de 4 m (metros). Este elemento estrutural está sendo solicitado por uma força pontual de 10 kN (quilonewtons), uma força uniformemente distribuída de 10 kN/m (quilonewtons por metro), e um momento de 1 kN.m (quilonewton metro) tracionando suas fibras inferiores. As orientações e pontos de aplicação dos vetores de força ou momento estão mostrados na figura. Considere a análise como bidimensional.



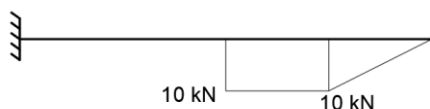
Analise as afirmativas abaixo e dê valores Verdadeiro (V) ou Falso (F).

() O diagrama fletor resultante da barra é:



() A estrutura é isostática.

() O diagrama de cortante resultante da barra é:



Assinale a alternativa que contém a sequência correta de cima para baixo.

- a) V, F, V
- b) V, V, V
- c) F, F, F
- d) F, V, F
- e) V, V, F

54) Visando a proteção contra intempéries, a Norma Regulamentadora nº 8 (NR – 8) expressa que as partes externas de edificações, ou aquelas que separam unidades prediais independentes, devem obrigatoriamente respeitar 5 (cinco) propriedades de normas técnicas oficiais. Assinale a alternativa que contém incorretamente uma dessas propriedades:

- a) Resistência ao fogo
- b) Isolamento térmico
- c) Isolamento e condicionamento acústico
- d) Estanqueidade
- e) Impermeabilidade

55) Em qualquer ponto das tubulações de uma rede predial de distribuição, a pressão da água em condições dinâmicas (onde há escoamento) não deve ser inferior a um valor estipulado pela Norma Brasileira “NBR 5626 – Instalação predial de água fria”, da Associação Brasileira de Normas Técnicas (ABNT). Assinale a alternativa que contém este valor de pressão, de forma correta.

- a) 5 kPa (quilopascal)
- b) 15 kPa
- c) 30 kPa
- d) 45 kPa
- e) 60 kPa

56) Com relação a tipos de fundação, analise as afirmações a seguir e dê valores Verdadeiro (V) ou Falso (F).

- () Bloco, sapata e grelha são exemplos de elementos de fundação superficial.
- () Radier é um exemplo de elemento de fundação profunda.
- () Sapatas sobre estacas é um exemplo de elemento de fundação mista.

Assinale a alternativa que possui a sequência correta de cima para baixo.

- a) V, V, F
- b) V, V, V
- c) V, F, V
- d) F, F, V
- e) V, F, F

57) O método chamado de _____, utilizado tanto no reservatório I da Mina Córrego do Feijão da Empresa Vale como na barragem de Fundão da Empresa Samarco, em Mariana, que rompeu em 2015, permite que o dique inicial seja ampliado para cima quando a barragem fica cheia, utilizando o próprio rejeito do processo de beneficiamento do minério como fundação da barreira de contenção. É o método mais barato dos convencionais (G1, 2019).

Assinale a alternativa que preencha corretamente a lacuna.

- a) Alçamento a jusante
- b) Alçamento a montante
- c) Alçamento da linha de centro
- d) Alçamento com enrocamento
- e) Alçamento com gabião

58) No que se refere à Segurança no Trabalho, analise as afirmativas abaixo e dê valores Verdadeiro (V) ou Falso (F).

- () O dimensionamento dos Serviços Especializados em Engenharia de Segurança e em Medicina do Trabalho (SESMT) de uma empresa depende somente do grau de risco da sua atividade principal.
- () Nas empresas desobrigadas a constituir os Serviços Especializados em Engenharia de Segurança e em Medicina do Trabalho (SESMT), cabe ao empregador selecionar o Equipamento de Proteção Individual (EPI) adequado ao risco, mediante orientação de profissional tecnicamente habilitado, ouvida a Comissão Interna de Prevenção de Acidentes (CIPA) ou, na falta desta, o designado e 2 trabalhadores usuários.
- () O Equipamento de Proteção Individual (EPI) só poderá ser posto à venda ou utilizado com a indicação do Certificado de Aprovação (CA).

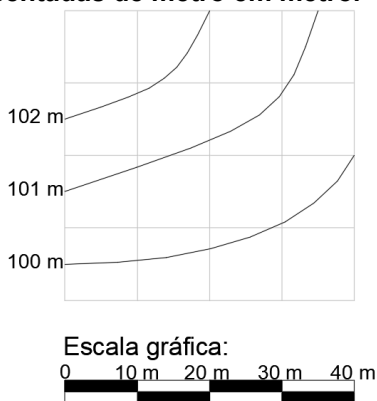
Assinale a alternativa que contém a sequência correta de cima para baixo.

- a) V, V, V
- b) V, F, F
- c) V, V, F
- d) V, F, V
- e) F, V, V

59) O coletor predial de um sistema predial de esgoto sanitário é o trecho de tubulação que conecta a última inserção de subcoletor, ramal de esgoto ou de descarga, ou caixa de inspeção geral e o coletor público ou sistema particular, e tem diâmetro mínimo prescrito pela Norma Brasileira “NBR 8160 - Sistemas prediais de esgoto sanitário - Projeto e execução”, da Associação Brasileira de Normas Técnicas (ABNT). Assinale a alternativa que contém o valor correto deste diâmetro mínimo.

- a) 50 mm (milímetros)
- b) 75 mm
- c) 100 mm
- d) 150 mm
- e) 200 mm

60) O mapa em escala a seguir representa um terreno inclinado com suas curvas de nível representadas de metro em metro.



Uma plataforma horizontal quadrada com lado de 24 metros foi executada no centro deste terreno, na cota 101 metros, através de terraplenagem com cortes e aterros, e taludes de 1:1 nas bordas.

Assinale a alternativa que representa corretamente o desenho em escala do terreno depois da execução da obra descrita.

