



PREFEITURA MUNICIPAL DE SÃO GONÇALO DO AMARANTE – RN
SECRETARIA MUNICIPAL DE ADMINISTRAÇÃO E
RECURSOS HUMANOS – SEMARH

CONCURSO PÚBLICO – EDITAL Nº 01/2019

CONTADOR – CONTADOR (SAAE)

NOME DO CANDIDATO

ASSINATURA DO CANDIDATO

RG DO CANDIDATO

LEIA COM ATENÇÃO AS INSTRUÇÕES ABAIXO

INSTRUÇÕES GERAIS

- I. Nesta prova, você encontrará **08 (oito) páginas** numeradas sequencialmente, contendo **40 (quarenta) questões objetivas** correspondentes às seguintes disciplinas: **Língua Portuguesa 10 (dez) questões, Raciocínio Lógico 10 (dez) questões e Conhecimentos Específicos 20 (vinte) questões.**
- II. Verifique se seu nome e número de inscrição estão corretos na Folha de Respostas. Se houver erro, notifique o fiscal.
- III. Verifique se o Caderno de Questões se refere ao cargo para o qual você se inscreveu. Caso o cargo esteja divergente, solicite ao fiscal de sala para que tome as providências cabíveis, pois não serão aceitas reclamações posteriores nesse sentido.
- IV. Verifique se a impressão, a paginação e a numeração das questões estão corretas. Caso observe qualquer erro, notifique o fiscal.
- V. Assine e preencha a Folha de Respostas nos locais indicados, com caneta azul ou preta.
- VI. Marque a Folha de Respostas cobrindo fortemente o espaço correspondente à letra a ser assinalada, conforme o exemplo na própria Folha de Respostas.
- VII. O sistema de leitura e processamento das Folhas de Respostas não registrará a resposta em que houver falta de nitidez na marcação e/ou marcação de mais de uma alternativa.
- VIII. A Folha de Respostas não pode ser dobrada, amassada, rasurada ou manchada. Exceto sua assinatura, nada deve ser escrito ou registrado fora dos locais destinados às respostas.
- IX. Ao terminar a prova, entregue ao fiscal a Folha de Respostas e este Caderno. As observações ou marcações registradas neste Caderno não serão levadas em consideração.
- X. **Você dispõe de 03 (três) horas para fazer esta prova. Reserve os 20 (vinte) minutos finais para marcar a Folha de Respostas.**
- XI. O candidato só poderá retirar-se do setor de prova **02 (duas) horas após seu início.**
- XII. É terminantemente proibido o uso de telefone celular e demais aparelhos eletrônicos.

Boa Prova!



GABARITO DO CANDIDATO – RASCUNHO



NOME:

ASSINATURA DO CANDIDATO:

INSCRIÇÃO:

1	2	3	4	5	6	7	8	9	10	11	12	13	14	15	16	17	18	19	20
21	22	23	24	25	26	27	28	29	30	31	32	33	34	35	36	37	38	39	40

RASCUNHO

LÍNGUA PORTUGUESA

Leia o texto abaixo para responder às questões de 1 a 7.

Guerra de narrativas (adaptado)

Quando o sol parte e ficamos entretidos ao redor da fogueira ou de frente à telinha, passamos a uma dimensão em que é tênue a fronteira entre o real e o imaginário, o território dos mitos, as sutis engrenagens do nosso modelo social. Esse ritual repete-se há pelo menos 50 mil anos. E, como é da natureza do que é fundamental, histórias são simples. Todas têm começo, meio e fim; personagens e protagonistas; um cenário e um tempo. E mais: toda trama possui um narrador, alguém que escolhe que causo contar, onde o enredo começa e onde termina, o que entra e o que sai. Esse narrador nem sempre é visível, não há como apontar o autor de um mito ou do que entendemos como senso comum.

Repetimos a balela do descobrimento da América sem pensar que aqui já viviam pessoas antes da invasão europeia. Se o uso da linguagem amplifica a capacidade de colaboração, histórias determinam e influenciam o comportamento social. Se repetimos a narrativa de opressão, perpetuamos sua essência.

A habilidade narrativa determina quem tem voz. A tensão entre grupos em disputa pela narrativa é tão velha quanto a linguagem. Religiões e impérios sempre espalharam suas falas e disputaram a atenção. Identificar essas narrativas e a quem servem é o caminho para delimitar quem nos fala e inferir o que nos isola ou ajuda a colaborar.

Não existe narrador isento. Por mais cuidadoso que seja, cada um carrega seu conjunto de valores e é perpassado pelos julgamentos e assunções que vêm com a cultura do grupo. Mesmo que não tenha mensagem específica, o contador de histórias sempre parte de sua visão de mundo.

<https://vidasimples.co/conviver/querra-de-narrativas/>

1) Assinale a alternativa correta, de acordo com o texto.

- No primeiro período do texto, o autor cria, por meio do paralelismo, uma associação entre a época em que sentávamos ao redor das fogueiras para tratar daquilo que é real e a época em que sentamos em frente à televisão para viver o imaginário.
- A simplicidade das narrativas contrapõe-se àquilo que há de fundamental nas histórias, uma vez que nem sempre o narrador é fácil de ser identificado no texto.
- A influência da linguagem e das narrativas é preponderante para a libertação ou perpetuação da opressão.
- A neutralidade da narrativa só é possível quando o cuidado com os valores adotados pelo grupo do qual faz parte revelam sua própria visão de mundo.

2) De acordo com o sentido do texto, leia as afirmativas abaixo.

- O narrador do senso comum é a voz que personifica o narrador invisível, cujo interesse narrativo é desmotivado de intenções políticas e econômicas, já que assim como o narrador mítico ele não se mostra visível.
- A ideia de que a América foi descoberta pelos europeus faz parte de uma narrativa eurocêntrica que desconsidera os nativos do continente americano como sujeitos que já haviam descoberto esse espaço geográfico.
- A disputa pela narrativa pode ser considerada uma guerra ideológica, que movimenta interesses políticos há milhares de anos.

Assinale a alternativa correta.

- Apenas a afirmativa I está correta.
- Apenas a afirmativa II está correta.
- Apenas as afirmativas II e III estão corretas.
- Apenas a afirmativa III está correta.

3) Assinale a alternativa que apresenta, correta e respectivamente, os sinônimos das expressões destacadas nos trechos “Se repetimos a narrativa de opressão, perpetuamos sua essência.” e “para delimitar quem nos fala e inferir o que nos isola ou ajuda a colaborar”.

- imortalizamos / machucar.
- criamos / aprendemos.
- eternizamos / deduzir.
- calculamos / depreender.

4) De acordo com a morfologia, assinale a alternativa que indica, correta e respectivamente, a classe de palavras dos termos destacados no trecho a seguir “A habilidade narrativa determina quem tem voz”.

- substantivo / pronome pessoal / substantivo.
- adjetivo / pronome relativo / substantivo.
- substantivo / pronome interrogativo / adjetivo.
- adjetivo / pronome pessoal / adjetivo.

5) Em relação à sintaxe da Língua Portuguesa avalie as afirmativas abaixo atribuindo-lhes valores de Verdadeiro (V) ou Falso (F).

- No trecho “Quando o sol parte e ficamos entretidos ao redor da fogueira”, a oração destacada é classificada como Subordinada Adverbial Temporal.
- No trecho “Se o uso da linguagem amplifica a capacidade de colaboração, histórias determinam e influenciam o comportamento social.”, a oração destacada é classificada como Subordinada Adverbial Concessiva.
- No trecho “A habilidade narrativa determina quem tem voz.”, a oração destacada é classificada como Subordinada Adjetiva Restritiva.
- No trecho “Não existe narrador isento”, o verbo é impessoal, por isso nessa oração não há sujeito.
- No trecho “Mesmo que não tenha mensagem específica, o contador de histórias sempre parte de sua visão de mundo.”, a oração destacada é classificada como Subordinada Adverbial Condicional.

Assinale a alternativa correta.

- V, F, F, F, F.
- V, V, F, F, V.
- F, V, V, V, F.
- V, F, V, V, F.

6) Em relação às regras de acentuação gráfica da Língua Portuguesa, assinale a alternativa **incorreta**.

- a) O verbo “ter” é acentuado, no trecho “Todas têm começo”, para concordar com o sujeito que está na terceira pessoa do plural.
- b) No trecho “**alguém** que escolhe que causo contar”, a palavra acentuada em destaque recebe acento, pois é uma palavra oxítona terminada em “em”.
- c) A palavra “já” é acentuada no trecho “aqui já viviam”, pois é um monossílabo tônico terminado em “a”.
- d) No trecho “Religiões e impérios sempre espalharam”, a palavra “impérios” é acentuada pois é uma paroxítona terminada em “os”.

7) De acordo com as regras de Concordância Verbal e Nominal, assinale a alternativa que reescreve corretamente o trecho extraído do texto.

“Não existe narrador isento. Por mais cuidadoso que seja, cada um carrega seu conjunto de valores e é perpassado pelos julgamentos e assunções que vêm com a cultura do grupo.”

- a) Não há narradores isentos. Por mais cuidadosos que seja, cada um carrega seu conjunto de valores e são perpassados pelos julgamentos e assunções que vêm com as culturas do grupo.
- b) Não existe narradores isentos. Por mais cuidadosos que seja, cada um carrega seu conjunto de valores e são perpassados pelos julgamentos e assunções que vêm com as culturas do grupo.
- c) Não existem narradores isentos. Por mais cuidadosos que sejam, cada um carrega seu conjunto de valores e são perpassados pelo julgamento que vem com as culturas do grupo.
- d) Não existe narrador isento. Por mais cuidadoso que seja, cada um carrega seu conjunto de valores e é perpassado pelo julgamento que vêm com a cultura do grupo.

8) Assinale a alternativa que apresenta o uso correto do acento grave, indicador de crase.

- a) Todos somos sujeitos à chuvas e trovoadas.
- b) Eu posso te visitar após às 15h.
- c) Devemos à essa professora o nosso sucesso.
- d) Falei à senhora a mais pura verdade.

9) Em relação às regras de regência verbal e nominal, assinale a alternativa **incorreta**.


- a) A família toda assistiu às partidas na TV.
- b) Os síndicos julgaram o caso do condômino irresponsável ontem.
- c) Aspiravam à poluição todos os dias na cidade.
- d) Os professores deram razão aos alunos.

10) Em relação às regras de colocação pronominal, segundo a Gramática Normativa da Língua Portuguesa, assinale a alternativa **correta**.





- a) Elas tinham avisado-me sobre as faltas excessivas.
- b) Se apresentaram muito bem no recital as suas filhas.
- c) Hoje nos preocupamos muito mais com as expressões que usamos.
- d) Os alunos que mantiveram-se em silêncio durante a aula aprenderam.

RACIOCÍNIO LÓGICO

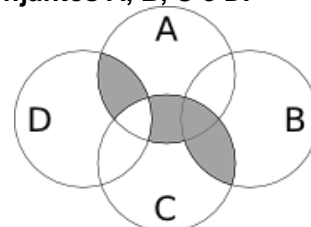
11) Uma pessoa pretende assentar uma fileira ladrilhos idênticos, mas deseja colocá-los de acordo com um padrão fixo de rotações sequenciais para variar o padrão básico/imagem formada com a simples colocação deles na mesma direção. Abaixo, a esquerda, está a peça do ladrilho e, a direita, as três primeiras peças assentadas.



Assinale a alternativa que indica a imagem do quarto ladrilhos colocado à direita que corresponde ao padrão que estava sendo adotado nas três peças colocadas anteriormente.



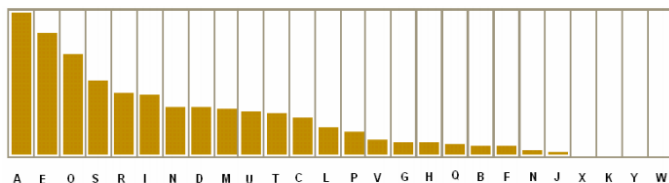
12) A figura abaixo representa o diagrama de Venn para os conjuntos A, B, C e D.



Assinale a alternativa que representa a região acinzentada.

- a) $(A \cap C) \cup (A \cap D) \cup (B \cap C) - (C \cap D)$
- b) $(A \cup C) \cap (A \cup D) \cap (B \cap C) - (C \cap D)$
- c) $(A \cap B \cap C \cap D) - (C \cup D)$
- d) $(B \cap C) \cup (A \cap C \cap D) - (C \cup D)$

13) Um dos mecanismos para quebrar criptografias simples de substituição de caracteres é verificar a frequência das letras e a coerência de palavras em determinado idioma. O diagrama abaixo apresenta a frequência aproximada das letras nas palavras da língua portuguesa.



Com base neste diagrama e nas palavras do vocabulário da língua portuguesa é possível decifrar a frase criptografada.

Z NVMGV JFV HV ZYIV Z FNZ MLEZ RWVRZ
QZNZRH ELOGZIZ ZL HVF GZNZMSL
LIRTRMZO

A frequência de cada caracter dessa frase está indicada na seguinte tabela.

letra	frequência	letra	frequência	letra	frequência
Z	14	F	3	J	1
V	7	G	3	Q	1
L	5	H	3	S	1
R	5	I	3	T	1
M	4	E	2	W	1
N	4	O	2	Y	1

Com base nestas informações e sabendo que todas as palavras são da Língua Portuguesa, os espaços não foram substituídos e que acentos e maiúsculas foram ignorados, analise as afirmativas abaixo:

- I. A letra “Z” no texto criptografado é a mais frequente e corresponde a letra “A” na frase original, compatível com a frequência na Língua Portuguesa.
- II. A letra “V” no texto criptografado corresponde a letra “E” texto original.
- III. A palavra criptografada “ZYIV” correspondem a palavras “AZUL”.

Estão corretas as afirmativas:

- a) I apenas
- b) I e II apenas
- c) I e III apenas
- d) I, II e III

14) O trecho abaixo é do soneto XLIV, de Pablo Neruda, retirado de uma tradução para o Português popular na rede de computadores.

(...)
Amo-te para começar a amar-te,
para recomeçar o infinito
e para não deixar de amar-te nunca:
por isso não te amo ainda.
(...)

Neste trecho vemos um conflito que inspira o poeta, que pode ser trocado pela proposição composta: “Se começa, então termina”. A partir dela considere as afirmações derivadas abaixo.

- I. Se não termina, então não começa.
- II. Não começa ou termina.
- III. Começa e não termina.

Com respeito à lógica proposicional assinale a alternativa que caracteriza cada afirmativa com respeito à proposição original

- a) I - negação; II - negação; III - equivalência
- b) I - equivalência; II - equivalência; III - negação
- c) I - negação; II - equivalência; III - negação
- d) I - negação; II - negação; III - negação

15) O estudo formal de proposições em termos da lógica proposicional é realizado em termos de tabelas-verdade.

“As tabelas-verdade derivam do trabalho de Gottlob Frege, Charles Peirce e outros nomes da década de 1880, e tomaram a forma atual em 1922 através dos trabalhos de Emil Post e Ludwig Wittgenstein. A publicação do Tractatus Logico-Philosophicus, de Wittgenstein, utilizava as mesmas para classificar funções veritativas em uma série. A vasta influência de seu trabalho levou, então, à difusão do uso de tabelas-verdade.” Fonte: wikipedia, “Tabela-verdade”.

Em uma tabela-verdade cada proposição simples individual é organizada em uma coluna e recebe valor verdadeiro (V) ou falso (F) a cada linha. Em uma última coluna se elenca o resultado lógico vindo da regra lógica definida pelos conectivos, para cada uma das linhas. Considere uma proposição composta por proposições simples:

“Se João mora aqui, então ele é rico, e, se ele é rico, então tem mais de um carro, e, se ele tem mais de um carro, então ele tem carros com placas diferentes, e não depende da regra de rodízios de carro do município.”

Assinale a alternativa que indica o número de linhas de uma tabela-verdade que contenha a avaliação desta proposição composta.

- a) 8
- b) 16
- c) 32
- d) 64

16) No mundo contemporâneo com as mídias sociais notícias falsas e falácias surgidas em debates se tornaram muito presentes. Particularmente, a falácia nomeada por “Argumentum ad hominem” que é estruturada “quando alguém procura negar uma proposição com uma crítica ao seu autor e não ao seu conteúdo”.

Considere as proposições abaixo adaptadas de discursos encontrados na rede de computadores.

- I. “Nosso País tem um déficit educacional reconhecido. Pessoas com aprendizado formal deficitário acreditam muito naquilo que recebem pelo aplicativo. Então há preocupante deficiência na checagem de notícias.”
- II. “O filósofo liberal X disse discordar desta opinião. Este filósofo já deu entrevista à revista comunista, então sua opinião não é confiável.”
- III. “Quem nunca fumou não pode tentar interferir nas discussões e políticas públicas sobre tabagismo”.

Assinale a alternativa em que são identificadas falácias de *Argumentum ad hominem*.

- a) I, II e III
- b) I e II apenas
- c) I e III apenas
- d) II e III apenas

17) O número $1/3$ (um terço) em representação decimal assume a forma: $0,33333\dots$ com uma infinidade de casas decimais seguintes (repetitivas) com o algarismo 3. Considere o seguinte procedimento para descobrir o par de números que forma uma dízima periódica baseado em uma sequência de operações aritméticas rudimentares e no encadeamento lógico sequencial:

$$\begin{aligned} N &= 0,33333\dots \Rightarrow \\ 10N &= 3,33333 \Rightarrow \\ 10N - N &= 3 \Rightarrow \\ 9N &= 3 \Rightarrow \\ N &= 3/9 \Rightarrow \\ N &= 1/3 \end{aligned}$$

Baseado neste procedimento, analise as afirmativas abaixo e dê valores Verdadeiro (V) ou Falso (F).

- () $0,99999\dots = 1$
- () $0,1 + 0,01 + 0,001 + \dots = 1/9$
- () Um número que não exhibe repetição como: $0,123456789101112131415\dots$ (onde se encadeiam os inteiros crescentes ao longo de suas casas decimais) pode ter a fração determinada da mesma maneira.

Assinale a alternativa que avalia corretamente as afirmações acima em termos da mesma lógica apresentada no procedimento.

- a) F, F, F
- b) F, V, V
- c) V, V, F
- d) F, V, F

18) Uma pessoa procura por um argumento dedutivo a partir de duas premissas listadas abaixo.

Premissa 1: Toda quantidade física pode ser medida por algum dispositivo.

Premissa 2: Não se consegue medir o amor com um dispositivo.

A pessoa estabelece, então, duas proposições na forma de conclusões possíveis.

Conclusão 1: O amor não é uma quantidade física.
Conclusão 2: Nem toda quantidade física pode ser medida por algum dispositivo.

Partindo do princípio da lógica dedutiva, assinale a alternativa correta.

- a) ambas conclusões são deduções válidas
- b) apenas a conclusão 1 é uma dedução válida
- c) apenas a conclusão 2 é uma dedução válida
- d) nenhuma das conclusões é uma dedução válida

19) Em uma rede social dois amigos, Fernando e Roberto, analisam sua rede de amigos. Fernando tem 2120 amigos, enquanto Roberto tem 580 amigos. A rede completa de amigos de um, de outro ou ambos tem 2550 pessoas. Considere dois cenários:

C1: dado que a pessoa é amiga de Roberto, qual a chance dela ser amiga também de Fernando?

C2: dado que a pessoa é amiga de Fernando, qual a chance dela ser amiga também de Roberto?

Assinale a alternativa que melhor aproxima o valor da resposta de cada pergunta elencada nos cenários acima.

- a) $C1 = 26\%$ e $C2 = 7\%$
- b) $C1 = 6\%$ e $C2 = 6\%$
- c) $C1 = 23\%$ e $C2 = 83\%$
- d) $C1 = 9\%$ e $C2 = 9\%$

20) Sejam duas proposições lógicas simples: A e B, e a representação simbólica para a negação e os conectivos lógicos abaixo listadas:

$\sim A$	negação de A
$A \wedge B$	A e B
$A \vee B$	A ou B
$A \rightarrow B$	se A, então B
$A \leftrightarrow B$	A se, e somente se, B

Considere as proposições enumeradas:

- I. $A \wedge \sim A$
- II. $(A \wedge B) \vee \sim (A \wedge B)$
- III. $(A \rightarrow B) \leftrightarrow (\sim B \rightarrow \sim A)$

Uma tautologia é uma proposição lógica que pode apenas assumir valores-verdade verdadeiros (V), uma antinomia é a negação de uma tautologia, e, portanto, é uma proposição composta em que resulta apenas em valores lógicos falsos (F). Assinale a alternativa que corretamente classifica as proposições completas enumeradas nesses termos.

- a) I - Antinomia; II - Tautologia; III - Tautologia
- b) I - Tautologia; II - Antinomia; III - Tautologia
- c) I - Tautologia; II - Tautologia; III - Antinomia
- d) I - Tautologia; II - Tautologia; III - Tautologia

CONHECIMENTOS ESPECÍFICOS

21) A NBC TG Estrutura Conceitual define as características qualitativas fundamentais e de melhoria das demonstrações financeiras. Associe cada característica apresentada na coluna da esquerda com o texto referente a esta característica na coluna da direita:

Comparabilidade	() Relatórios financeiros são elaborados para usuários que têm conhecimento razoável das atividades comerciais e econômicas.
Tempestividade	() Podem ser utilizadas como informações em processos empregados pelos usuários para prever resultados futuros.
Compreensibilidade	() Permite aos usuários identificar e compreender similaridades e diferenças entre itens, não se refere a um único item, exige no mínimo dois itens.
Relevância	() Disponibilizar informações aos tomadores de decisões a tempo para que sejam capazes de influenciar suas decisões.

Assinale a alternativa que apresenta a sequência correta de cima para baixo.

- a) 4, 3, 1 e 2
- b) 3, 4, 1 e 2
- c) 3, 4, 2 e 1
- d) 4, 3, 2 e 1

22) A NBC TG Estrutura Conceitual que dispõe sobre a estrutura conceitual para relatórios financeiros, dentre outras aborda a “Mensuração do Patrimônio Líquido”. Em relação a este tema, assinale a alternativa correta.

- a) Seu valor total não é mensurado diretamente
- b) Seu valor contábil geralmente equivale ao valor que poderia ser levantado, vendendo a entidade como um todo em regime de continuidade operacional
- c) Seu valor total sempre será positivo
- d) Seu valor total normalmente será negativo, podendo ser positivo em algumas situações específicas

23) Com base na NBC TG 26 (R5) – Apresentação das Demonstrações Contábeis, analise as afirmativas abaixo e dê valores Verdadeiro (V) ou Falso (F).

- () A mutação que ocorre no patrimônio líquido durante um período que resulta de transações e outros eventos que não derivados de transações com os sócios na sua qualidade de proprietários é denominada Resultado Abrangente.
- () Ativos e passivos ou receitas e despesas devem ser compensados exceto quando exigido ou permitido por norma, interpretação ou comunicado técnico.
- () Ganhos e perdas na alienação de ativos não circulantes, incluindo investimentos e ativos operacionais, devem ser apresentados de forma líquida.

Assinale a alternativa que apresenta a sequência correta de cima para baixo.

- a) V, V, V
- b) V, F, F
- c) F, V, V
- d) V, F, V

24) Em relação a Escrituração Contábil, analise as afirmativas abaixo:

- I. Deve ser realizada com observância aos Princípios de Contabilidade;
- II. São de atribuição e de responsabilidade exclusivas do profissional da contabilidade legalmente habilitado;
- III. Retificação de lançamento deve ser feito sempre por estorno do lançamento original com erro;

Assinale a alternativa correta:

- a) Apenas a afirmativa II está correta
- b) Apenas a afirmativa I está correta
- c) Apenas as afirmativas I e II estão corretas
- d) As afirmativas I, II e III estão corretas

25) O Balanço Patrimonial deve apresentar como grupos de contas separados ativos circulantes e não circulantes, e passivos circulantes e não circulantes. Em relação a esta separação de grupos, assinale a alternativa incorreta.

- a) Ativo Circulante, espera-se que seja realizado, ou pretende-se que seja vendido ou consumido no decurso normal do ciclo operacional da entidade
- b) Ativo Circulante, espera-se que seja realizado até doze meses após a data do registro contábil
- c) Passivo Circulante, espera-se que seja liquidado durante o ciclo operacional normal da entidade
- d) Passivo Circulante, deve ser liquidado no período de até doze meses após a data do balanço

26) Segundo a NBC TG 26(R5) – Apresentação das Demonstrações Financeiras, a demonstração do resultado do período, deve incluir as algumas rubricas mínimas, analise os itens a seguir e verifique quais fazem parte desta:

- I. Um único valor para o total de operações descontinuadas.
- II. Receitas, apresentando separadamente receita de juros calculada utilizando o método de juros efetivos.
- III. Custos de financiamento.
- IV. Ganhos e perdas decorrentes do desreconhecimento de ativos financeiros mensurados pelo custo amortizado.
- V. Parcela dos resultados de empresas investidas reconhecida por meio do método da equivalência patrimonial.

Estão corretas as afirmativas:

- a) I, II, IV e V apenas
- b) II, III, IV e V apenas
- c) I, II, III e V apenas
- d) I, II, III, IV e V

27) A empresa Só Brinquedos Ltda, durante o período de 01/01/X1 a 31/01/X1 apresentou os seguintes dados registrados em sua contabilidade: Compras de Mercadorias R\$ 970.500,00; Receita de vendas R\$ 2.390.780,00; Estoque inicial de Mercadorias R\$ 150.370,00; Devolução de compras R\$ 85.000,00 e Estoque final R\$ 230.400,00. Sr. Pedro Pereira Pinto, não concordou com as informações recebidas, pois achou que o estoque não continha o valor dado como Final e realizou um levantamento físico com os funcionários. Após o levantamento, constatou-se que o montante do estoque final era de R\$ 180.300,00. Com base nas informações recebidas, assinale a alternativa correta.

- a) O Custo da Mercadoria Vendida foi de R\$ 805.470,00
- b) O lucro bruto do período foi de R\$ 1.670.310,00
- c) A empresa teve uma perda de estoque de R\$ 50.000,00
- d) O custo de Mercadoria Vendida foi de R\$ 855.570,00

28) A NBC TG 03 (R3) – Demonstração dos Fluxos de Caixa é a norma que busca esclarecer importantes pontos em relação a esta demonstração apresentando algumas definições e exemplos de cada um de seus fluxos. Com base na mencionada norma, analise as afirmativas abaixo e dê valores Verdadeiro (V) ou Falso (F).

- () Para que um investimento seja qualificado como equivalente de caixa, ele precisa ter conversibilidade imediata em montante conhecido de caixa e estar sujeito a um insignificante risco de mudança de valor.
- () Empréstimos obtidos por meio de instrumentos como cheques especiais ou contas correntes garantidas compõem parte integral da gestão de caixa da entidade.
- () Cada transação realizada pela entidade será classificada em um único fluxo de atividade da demonstração.
- () Ganhos e perdas não realizados resultantes de mudanças nas taxas de câmbio de moedas estrangeiras são fluxos de caixa.

Assinale a alternativa que apresenta a sequência correta de cima para baixo.

- a) V, V, V, V
- b) V, V, V, F
- c) V, V, F, F
- d) V, F, F, F

29) Você foi admitido pela Indústria Controle Total Ltda, na função de supervisor de custos. Sua primeira missão na empresa é analisar os conceitos aplicados no seu dia-a-dia. Os fatos encontrados são os seguintes:

- I. As máquinas e equipamentos adquiridos são ativados como imobilizados e considerados, neste primeiro momento, investimento.
- II. A folha de pagamento é registrada como despesa, pois não tem divisão de funcionários por departamento.
- III. As matérias primas adquiridas são consideradas custos, pois serão utilizadas no processo de produção.

Assinale a alternativa correta:

- a) Apenas as afirmativas I e III estão corretos e serão mantidas
- b) Apenas a afirmativa I está correta e será mantida
- c) Apenas a afirmativa II está correta e será mantida
- d) Apenas a afirmativa III está correta e será mantida

30) Em relação a classificação e nomenclatura de custos, assinale a alternativa correta.

- a) Matéria prima, mão de obra e embalagem são custos primários de produção
- b) Os custos indiretos de produção, mão de obra e matéria prima fazem parte do custo de transformação
- c) Matéria prima e materiais de embalagem são custos diretos e variáveis
- d) Todo custo fixo é também classificado como indireto

31) Os Princípios Orçamentários, evidenciados na Constituição Federal de 1988, na Lei nº 4.320 de 1964 e na Lei Complementar Nº 101 de 2000, devem sempre ser observados na elaboração dos orçamentos públicos. Assinale a alternativa que apresenta somente Princípios Orçamentários.

- a) De unidade universalidade e anualidade
- b) Da entidade, da legalidade
- c) Da totalidade, da prudência
- d) Da exclusividade, da continuidade

32) Assinale a alternativa que preencha correta e respectivamente as palavras do Art. 9º da Lei Nº 4.320/64, referente a Receita:

“Art. 9º Tributo é a receita derivada _____ pelas entidades de direito público, _____ os impostos, as taxas e contribuições nos termos da constituição e das leis vigentes em matéria _____, destinado-se o seu produto ao _____ de atividades gerais ou específicas exercidas por essas entidades.”

- a) instituída / abrangendo / financeira / pagamento
- b) instituída / compreendendo / pública / custeio
- c) instituída / compreendendo / financeira / custeio
- d) estabelecida / compreendendo / financeira / custeio

33) Conforme descrito no Artigo 11 da Lei nº 4.320/64: “A receita classificar-se-á nas seguintes categorias econômicas: Receitas Correntes e Receitas de Capital”. Em relação a esta classificação, analise as alternativas a seguir e assinale a correta.

- a) Impostos, taxas e contribuições são geradores de capital, logo Receita de Capital
- b) Operações de Créditos são Receitas Correntes
- c) Amortização de empréstimo são Receita de Capital
- d) Alienação de bens são Receitas Correntes

34) As despesas orçamentárias, assim como as receitas, são classificadas em dois grupos: correntes e de capital. As despesas correntes podem ser de custeio e transferências correntes, já as despesas de capital podem ser investimentos, inversões financeira e transferência de capital. Classifique as contas descritas na coluna da direita conforme numeração dos subgrupos na coluna da esquerda:

Despesa de custeio	() Constituição de Fundos Rotativos
Transferências correntes	() Amortização da dívida pública
Investimentos	() Serviços de terceiros
Inversões financeira	() Serviços em Regime de Programação Especial
Transferência de capital	() Inativos / Pensionistas

Assinale a alternativa que apresenta a sequência correta de cima para baixo.

- a) 4, 5, 1, 3, 2
- b) 3, 5, 1, 4, 2
- c) 4, 2, 1, 3, 5
- d) 3, 2, 1, 4, 5

35) Em relação às Variações Patrimoniais em instituições públicas, assinale a alternativa correta.

- a) Podem ser classificadas de forma simultânea em qualitativas e quantitativas
- b) Variações qualitativas modificam a composição de elementos patrimoniais, consequentemente afetando o patrimônio líquido
- c) As variações patrimoniais, sejam elas qualitativas ou quantitativas, decorrem de fatos modificativos ou permutativos
- d) As variações quantitativas, sempre aumentam o patrimônio líquido

36) A NBC TSP 11 – Apresentação das Demonstrações Contábeis, em seu item 21 apresenta o conjunto completo das Demonstrações Contábeis. Com base na referida norma analise os itens a seguir:

- I. Balanço Patrimonial e Demonstração do Resultado.
- II. Balanço Orçamentário e Balanço Financeiro.
- III. Demonstração da Mutaç o do Patrim nio L quido e Demonstração dos Fluxos de Caixa.
- IV. Demonstração do Valor Adicionado e Notas Explicativas.

Assinale a alternativa que apresenta apenas os itens onde todas as demonstrações mencionadas se referem ao conjunto da NBC TSP 11.

- a) I e III apenas
- b) II e IV apenas
- c) I, II e III apenas
- d) I, II, III e IV

37) A licitação destina-se a garantir a observância do princípio da Isonomia, em relação a seleção da proposta, outros princípios básicos devem ser observados. Analise as afirmativas abaixo em relação a estes princípios.

- I. Da legalidade, da impessoalidade e da moralidade.
- II. Da igualdade, da publicidade e da probidade administrativa.
- III. Do julgamento objetivo, da liberdade e ampla defesa.

Assinale a alternativa correta.

- a) Apenas as afirmativas I, II e III estão corretas
- b) Apenas as afirmativas I e II estão corretas
- c) Apenas as afirmativas I e III estão corretas
- d) Apenas as afirmativas II e III estão corretas

38) Com base na Lei de Responsabilidade Fiscal, Lei nº 101 de 2.000, analise as afirmativas a seguir.

- I. Na renúncia de receita, dentre os pontos a serem observados, está a comprovação de que não afetará as metas de resultados fiscais no anexo próprio da lei de diretrizes orçamentárias.
- II. As despesas com pessoal da União não poderão exceder 60% da receita corrente líquida.
- III. A destinação de recursos para cobrir necessidades de pessoas físicas ou jurídica, desde que de forma indireta, deve atender somente as condições estabelecidas na lei de diretrizes orçamentárias.

Assinale a alternativa correta.

- a) Somente o item I está de acordo com a mencionada legislação
- b) Somente o item II está de acordo com a mencionada legislação
- c) Somente os itens I e III estão de acordo com a mencionada legislação
- d) Somente os itens I e II estão de acordo com a mencionada legislação

39) Em relação as Operações de Crédito, abordadas na Lei nº 101/2000, assinale a alternativa incorreta.

- a) O cumprimento dos limites e condições relativos à realização de operações de crédito dos Estados será verificado pela União
- b) É responsabilidade da instituição financeira que contratar operação de crédito com ente da Federação, exceto quando relativa à dívida mobiliária ou à externa, a exigência de comprovação que operação atende as condições e limites estabelecidos
- c) É proibida a operação de crédito entre uma instituição financeira estatal e o ente da Federação que a controle, na qualidade de beneficiário do empréstimo
- d) É vedada a realização de operação de crédito entre um ente da Federação, diretamente ou por intermédio de fundo, autarquia, fundação ou empresa estatal dependente, e outro, inclusive suas entidades da administração indireta, ainda que sob a forma de novação, refinanciamento ou postergação de dívida contraída anteriormente

40) A Lei nº 8.666 de 1.993 regulamenta o art. 37, inciso XXI, da Constituição Federal. Estão subordinados a esta Legislação.

- I. Fundações e Empresas públicas.
- II. Órgãos da Administração Direta e Sociedades de Economia Mista.
- III. Fundos especiais e Autarquias.
- IV. Entidades controladas direta ou indiretamente pela União, Estados, Distrito Federal e Municípios.

Assinale a alternativa correta:

- a) Apenas as afirmativas I e III estão corretas
- b) Apenas as afirmativas II e IV estão corretas
- c) Apenas as afirmativas I, II e III estão corretas
- d) As afirmativas I, II, III e IV estão corretas