



PREFEITURA MUNICIPAL DE SÃO GONÇALO DO AMARANTE – RN
SECRETARIA MUNICIPAL DE ADMINISTRAÇÃO E
RECURSOS HUMANOS – SEMARH

CONCURSO PÚBLICO – EDITAL Nº 01/2019

ODONTÓLOGO PROTESISTA

NOME DO CANDIDATO

ASSINATURA DO CANDIDATO

RG DO CANDIDATO

LEIA COM ATENÇÃO AS INSTRUÇÕES ABAIXO

INSTRUÇÕES GERAIS

- I. Nesta prova, você encontrará **08 (oito) páginas** numeradas sequencialmente, contendo **40 (quarenta) questões objetivas** correspondentes às seguintes disciplinas: **Língua Portuguesa 10 (dez) questões, Raciocínio Lógico 10 (dez) questões e Conhecimentos Específicos 20 (vinte) questões.**
- II. Verifique se seu nome e número de inscrição estão corretos na Folha de Respostas. Se houver erro, notifique o fiscal.
- III. Verifique se o Caderno de Questões se refere ao cargo para o qual você se inscreveu. Caso o cargo esteja divergente, solicite ao fiscal de sala para que tome as providências cabíveis, pois não serão aceitas reclamações posteriores nesse sentido.
- IV. Verifique se a impressão, a paginação e a numeração das questões estão corretas. Caso observe qualquer erro, notifique o fiscal.
- V. Assine e preencha a Folha de Respostas nos locais indicados, com caneta azul ou preta.
- VI. Marque a Folha de Respostas cobrindo fortemente o espaço correspondente à letra a ser assinalada, conforme o exemplo na própria Folha de Respostas.
- VII. O sistema de leitura e processamento das Folhas de Respostas não registrará a resposta em que houver falta de nitidez na marcação e/ou marcação de mais de uma alternativa.
- VIII. A Folha de Respostas não pode ser dobrada, amassada, rasurada ou manchada. Exceto sua assinatura, nada deve ser escrito ou registrado fora dos locais destinados às respostas.
- IX. Ao terminar a prova, entregue ao fiscal a Folha de Respostas e este Caderno. As observações ou marcações registradas neste Caderno não serão levadas em consideração.
- X. **Você dispõe de 03 (três) horas para fazer esta prova. Reserve os 20 (vinte) minutos finais para marcar a Folha de Respostas.**
- XI. O candidato só poderá retirar-se do setor de prova **02 (duas) horas após seu início.**
- XII. É terminantemente proibido o uso de telefone celular e demais aparelhos eletrônicos.

Boa Prova!



GABARITO DO CANDIDATO – RASCUNHO



NOME:

ASSINATURA DO CANDIDATO:

INSCRIÇÃO:

1	2	3	4	5	6	7	8	9	10	11	12	13	14	15	16	17	18	19	20
21	22	23	24	25	26	27	28	29	30	31	32	33	34	35	36	37	38	39	40

RASCUNHO

LÍNGUA PORTUGUESA

Leia o texto abaixo para responder às questões de 1 a 7.

Guerra de narrativas (adaptado)

Quando o sol parte e ficamos entretidos ao redor da fogueira ou de frente à telinha, passamos a uma dimensão em que é tênue a fronteira entre o real e o imaginário, o território dos mitos, as sutis engrenagens do nosso modelo social. Esse ritual repete-se há pelo menos 50 mil anos. E, como é da natureza do que é fundamental, histórias são simples. Todas têm começo, meio e fim; personagens e protagonistas; um cenário e um tempo. E mais: toda trama possui um narrador, alguém que escolhe que causo contar, onde o enredo começa e onde termina, o que entra e o que sai. Esse narrador nem sempre é visível, não há como apontar o autor de um mito ou do que entendemos como senso comum.

Repetimos a balela do descobrimento da América sem pensar que aqui já viviam pessoas antes da invasão europeia. Se o uso da linguagem amplifica a capacidade de colaboração, histórias determinam e influenciam o comportamento social. Se repetimos a narrativa de opressão, perpetuamos sua essência.

A habilidade narrativa determina quem tem voz. A tensão entre grupos em disputa pela narrativa é tão velha quanto a linguagem. Religiões e impérios sempre espalharam suas falas e disputaram a atenção. Identificar essas narrativas e a quem servem é o caminho para delimitar quem nos fala e inferir o que nos isola ou ajuda a colaborar.

Não existe narrador isento. Por mais cuidadoso que seja, cada um carrega seu conjunto de valores e é perpassado pelos julgamentos e assunções que vêm com a cultura do grupo. Mesmo que não tenha mensagem específica, o contador de histórias sempre parte de sua visão de mundo.

<https://vidasimples.co/conviver/querra-de-narrativas/>

1) Assinale a alternativa correta, de acordo com o texto.

- No primeiro período do texto, o autor cria, por meio do paralelismo, uma associação entre a época em que sentávamos ao redor das fogueiras para tratar daquilo que é real e a época em que sentamos em frente à televisão para viver o imaginário.
- A simplicidade das narrativas contrapõe-se àquilo que há de fundamental nas histórias, uma vez que nem sempre o narrador é fácil de ser identificado no texto.
- A influência da linguagem e das narrativas é preponderante para a libertação ou perpetuação da opressão.
- A neutralidade da narrativa só é possível quando o cuidado com os valores adotados pelo grupo do qual faz parte revelam sua própria visão de mundo.

2) De acordo com o sentido do texto, leia as afirmativas abaixo.

- O narrador do senso comum é a voz que personifica o narrador invisível, cujo interesse narrativo é desmotivado de intenções políticas e econômicas, já que assim como o narrador mítico ele não se mostra visível.
- A ideia de que a América foi descoberta pelos europeus faz parte de uma narrativa eurocêntrica que desconsidera os nativos do continente americano como sujeitos que já haviam descoberto esse espaço geográfico.
- A disputa pela narrativa pode ser considerada uma guerra ideológica, que movimenta interesses políticos há milhares de anos.

Assinale a alternativa correta.

- Apenas a afirmativa I está correta.
- Apenas a afirmativa II está correta.
- Apenas as afirmativas II e III estão corretas.
- Apenas a afirmativa III está correta.

3) Assinale a alternativa que apresenta, correta e respectivamente, os sinônimos das expressões destacadas nos trechos “Se repetimos a narrativa de opressão, perpetuamos sua essência.” e “para delimitar quem nos fala e inferir o que nos isola ou ajuda a colaborar”.

- imortalizamos / machucar.
- criamos / aprendemos.
- eternizamos / deduzir.
- calculamos / depreender.

4) De acordo com a morfologia, assinale a alternativa que indica, correta e respectivamente, a classe de palavras dos termos destacados no trecho a seguir “A habilidade narrativa determina quem tem voz”.

- substantivo / pronome pessoal / substantivo.
- adjetivo / pronome relativo / substantivo.
- substantivo / pronome interrogativo / adjetivo.
- adjetivo / pronome pessoal / adjetivo.

5) Em relação à sintaxe da Língua Portuguesa avalie as afirmativas abaixo atribuindo-lhes valores de Verdadeiro (V) ou Falso (F).

- No trecho “Quando o sol parte e ficamos entretidos ao redor da fogueira”, a oração destacada é classificada como Subordinada Adverbial Temporal.
- No trecho “Se o uso da linguagem amplifica a capacidade de colaboração, histórias determinam e influenciam o comportamento social.”, a oração destacada é classificada como Subordinada Adverbial Concessiva.
- No trecho “A habilidade narrativa determina quem tem voz.”, a oração destacada é classificada como Subordinada Adjetiva Restritiva.
- No trecho “Não existe narrador isento”, o verbo é impessoal, por isso nessa oração não há sujeito.
- No trecho “Mesmo que não tenha mensagem específica, o contador de histórias sempre parte de sua visão de mundo.”, a oração destacada é classificada como Subordinada Adverbial Condicional.

Assinale a alternativa correta.

- V, F, F, F, F.
- F, V, V, V, F.
- V, V, F, F, V.
- V, F, V, V, F.

6) Em relação às regras de acentuação gráfica da Língua Portuguesa, assinale a alternativa **incorreta**.

- a) O verbo “ter” é acentuado, no trecho “Todas têm começo”, para concordar com o sujeito que está na terceira pessoa do plural.
- b) No trecho “**alguém** que escolhe que causo contar”, a palavra acentuada em destaque recebe acento, pois é uma palavra oxítona terminada em “em”.
- c) A palavra “já” é acentuada no trecho “aqui já viviam”, pois é um monossílabo tônico terminado em “a”.
- d) No trecho “Religiões e impérios sempre espalharam”, a palavra “impérios” é acentuada pois é uma paroxítona terminada em “os”.

7) De acordo com as regras de Concordância Verbal e Nominal, assinale a alternativa que reescreve corretamente o trecho extraído do texto.

“Não existe narrador isento. Por mais cuidadoso que seja, cada um carrega seu conjunto de valores e é perpassado pelos julgamentos e assunções que vêm com a cultura do grupo.”

- a) Não há narradores isentos. Por mais cuidadosos que seja, cada um carrega seu conjunto de valores e são perpassados pelos julgamentos e assunções que vêm com as culturas do grupo.
- b) Não existe narradores isentos. Por mais cuidadosos que seja, cada um carrega seu conjunto de valores e são perpassados pelos julgamentos e assunções que vêm com as culturas do grupo.
- c) Não existem narradores isentos. Por mais cuidadosos que sejam, cada um carrega seu conjunto de valores e são perpassados pelo julgamento que vem com as culturas do grupo.
- d) Não existe narrador isento. Por mais cuidadoso que seja, cada um carrega seu conjunto de valores e é perpassado pelo julgamento que vêm com a cultura do grupo.

8) Assinale a alternativa que apresenta o uso correto do acento grave, indicador de crase.

- a) Todos somos sujeitos à chuvas e trovoadas.
- b) Eu posso te visitar após às 15h.
- c) Devemos à essa professora o nosso sucesso.
- d) Falei à senhora a mais pura verdade.

9) Em relação às regras de regência verbal e nominal, assinale a alternativa **incorreta**.


- a) A família toda assistiu às partidas na TV.
- b) Os síndicos julgaram o caso do condômino irresponsável ontem.
- c) Aspiravam à poluição todos os dias na cidade.
- d) Os professores deram razão aos alunos.

10) Em relação às regras de colocação pronominal, segundo a Gramática Normativa da Língua Portuguesa, assinale a alternativa **correta**.





- a) Elas tinham avisado-me sobre as faltas excessivas.
- b) Se apresentaram muito bem no recital as suas filhas.
- c) Hoje nos preocupamos muito mais com as expressões que usamos.
- d) Os alunos que mantiveram-se em silêncio durante a aula aprenderam.

RACIOCÍNIO LÓGICO

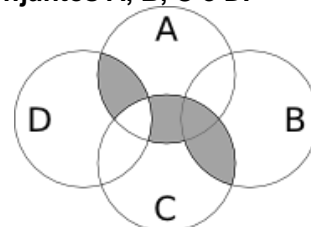
11) Uma pessoa pretende assentar uma fileira ladrilhos idênticos, mas deseja colocá-los de acordo com um padrão fixo de rotações sequenciais para variar o padrão básico/imagem formada com a simples colocação deles na mesma direção. Abaixo, a esquerda, está a peça do ladrilho e, a direita, as três primeiras peças assentadas.



Assinale a alternativa que indica a imagem do quarto ladrilhos colocado à direita que corresponde ao padrão que estava sendo adotado nas três peças colocadas anteriormente.

- a) 
- b) 
- c) 
- d) 

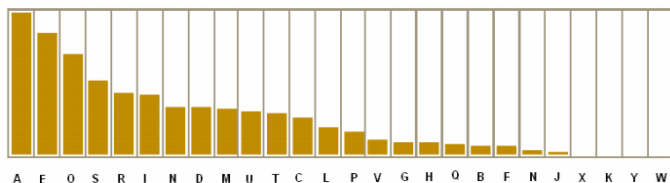
12) A figura abaixo representa o diagrama de Venn para os conjuntos A, B, C e D.



Assinale a alternativa que representa a região acinzentada.

- a) $(A \cap C) \cup (A \cap D) \cup (B \cap C) - (C \cap D)$
- b) $(A \cup C) \cap (A \cup D) \cap (B \cap C) - (C \cap D)$
- c) $(A \cap B \cap C \cap D) - (C \cup D)$
- d) $(B \cap C) \cup (A \cap C \cap D) - (C \cup D)$

13) Um dos mecanismos para quebrar criptografias simples de substituição de caracteres é verificar a frequência das letras e a coerência de palavras em determinado idioma. O diagrama abaixo apresenta a frequência aproximada das letras nas palavras da língua portuguesa.



Com base neste diagrama e nas palavras do vocabulário da língua portuguesa é possível decifrar a frase criptografada.

Z NVMGV JFV HV ZYIV Z FNZ MLEZ RWVRZ
QZNZRH ELOGZIZ ZL HVF GZNZMSL
LIRTRMZO

A frequência de cada caracter dessa frase está indicada na seguinte tabela.

letra	frequência	letra	frequência	letra	frequência
Z	14	F	3	J	1
V	7	G	3	Q	1
L	5	H	3	S	1
R	5	I	3	T	1
M	4	E	2	W	1
N	4	O	2	Y	1

Com base nestas informações e sabendo que todas as palavras são da Língua Portuguesa, os espaços não foram substituídos e que acentos e maiúsculas foram ignorados, analise as afirmativas abaixo:

- I. A letra “Z” no texto criptografado é a mais frequente e corresponde a letra “A” na frase original, compatível com a frequência na Língua Portuguesa.
- II. A letra “V” no texto criptografado corresponde a letra “E” texto original.
- III. A palavra criptografada “ZYIV” correspondem a palavras “AZUL”.

Estão corretas as afirmativas:

- a) I apenas
- b) I e II apenas
- c) I e III apenas
- d) I, II e III

14) O trecho abaixo é do soneto XLIV, de Pablo Neruda, retirado de uma tradução para o Português popular na rede de computadores.

(...)
Amo-te para começar a amar-te,
para recomeçar o infinito
e para não deixar de amar-te nunca:
por isso não te amo ainda.
(...)

Neste trecho vemos um conflito que inspira o poeta, que pode ser trocado pela proposição composta: “Se começa, então termina”. A partir dela considere as afirmações derivadas abaixo.

- I. Se não termina, então não começa.
- II. Não começa ou termina.
- III. Começa e não termina.

Com respeito à lógica proposicional assinale a alternativa que caracteriza cada afirmativa com respeito à proposição original

- a) I - negação; II - negação; III - equivalência
- b) I - equivalência; II - equivalência; III - negação
- c) I - negação; II - equivalência; III - negação
- d) I - negação; II - negação; III - negação

15) O estudo formal de proposições em termos da lógica proposicional é realizado em termos de tabelas-verdade.

“As tabelas-verdade derivam do trabalho de Gottlob Frege, Charles Peirce e outros nomes da década de 1880, e tomaram a forma atual em 1922 através dos trabalhos de Emil Post e Ludwig Wittgenstein. A publicação do Tractatus Logico-Philosophicus, de Wittgenstein, utilizava as mesmas para classificar funções veritativas em uma série. A vasta influência de seu trabalho levou, então, à difusão do uso de tabelas-verdade.” Fonte: wikipedia, “Tabela-verdade”.

Em uma tabela-verdade cada proposição simples individual é organizada em uma coluna e recebe valor verdadeiro (V) ou falso (F) a cada linha. Em uma última coluna se elenca o resultado lógico vindo da regra lógica definida pelos conectivos, para cada uma das linhas. Considere uma proposição composta por proposições simples:

“Se João mora aqui, então ele é rico, e, se ele é rico, então tem mais de um carro, e, se ele tem mais de um carro, então ele tem carros com placas diferentes, e não depende da regra de rodízios de carro do município.”

Assinale a alternativa que indica o número de linhas de uma tabela-verdade que contenha a avaliação desta proposição composta.

- a) 8
- b) 16
- c) 32
- d) 64

16) No mundo contemporâneo com as mídias sociais notícias falsas e falácias surgidas em debates se tornaram muito presentes. Particularmente, a falácia nomeada por “Argumentum ad hominem” que é estruturada “quando alguém procura negar uma proposição com uma crítica ao seu autor e não ao seu conteúdo”.

Considere as proposições abaixo adaptadas de discursos encontrados na rede de computadores.

- I. “Nosso País tem um déficit educacional reconhecido. Pessoas com aprendizado formal deficitário acreditam muito naquilo que recebem pelo aplicativo. Então há preocupante deficiência na checagem de notícias.”
- II. “O filósofo liberal X disse discordar desta opinião. Este filósofo já deu entrevista à revista comunista, então sua opinião não é confiável.”
- III. “Quem nunca fumou não pode tentar interferir nas discussões e políticas públicas sobre tabagismo”.

Assinale a alternativa em que são identificadas falácias de *Argumentum ad hominem*.

- a) I, II e III
- b) I e II apenas
- c) I e III apenas
- d) II e III apenas

17) O número $1/3$ (um terço) em representação decimal assume a forma: $0,33333\dots$ com uma infinidade de casas decimais seguintes (repetitivas) com o algarismo 3. Considere o seguinte procedimento para descobrir o par de números que forma uma dízima periódica baseado em uma sequência de operações aritméticas rudimentares e no encadeamento lógico sequencial:

$$\begin{aligned} N &= 0,33333\dots \Rightarrow \\ 10N &= 3,33333 \Rightarrow \\ 10N - N &= 3 \Rightarrow \\ 9N &= 3 \Rightarrow \\ N &= 3/9 \Rightarrow \\ N &= 1/3 \end{aligned}$$

Baseado neste procedimento, analise as afirmativas abaixo e dê valores Verdadeiro (V) ou Falso (F).

- () $0,999999\dots = 1$
- () $0,1 + 0,01 + 0,001 + \dots = 1/9$
- () Um número que não exhibe repetição como: $0,123456789101112131415\dots$ (onde se encadeiam os inteiros crescentes ao longo de suas casas decimais) pode ter a fração determinada da mesma maneira.

Assinale a alternativa que avalia corretamente as afirmações acima em termos da mesma lógica apresentada no procedimento.

- a) F, F, F
- b) F, V, V
- c) V, V, F
- d) F, V, F

18) Uma pessoa procura por um argumento dedutivo a partir de duas premissas listadas abaixo.

Premissa 1: Toda quantidade física pode ser medida por algum dispositivo.

Premissa 2: Não se consegue medir o amor com um dispositivo.

A pessoa estabelece, então, duas proposições na forma de conclusões possíveis.

Conclusão 1: O amor não é uma quantidade física.
Conclusão 2: Nem toda quantidade física pode ser medida por algum dispositivo.

Partindo do princípio da lógica dedutiva, assinale a alternativa correta.

- a) ambas conclusões são deduções válidas
- b) apenas a conclusão 1 é uma dedução válida
- c) apenas a conclusão 2 é uma dedução válida
- d) nenhuma das conclusões é uma dedução válida

19) Em uma rede social dois amigos, Fernando e Roberto, analisam sua rede de amigos. Fernando tem 2120 amigos, enquanto Roberto tem 580 amigos. A rede completa de amigos de um, de outro ou ambos tem 2550 pessoas. Considere dois cenários:

C1: dado que a pessoa é amiga de Roberto, qual a chance dela ser amiga também de Fernando?

C2: dado que a pessoa é amiga de Fernando, qual a chance dela ser amiga também de Roberto?

Assinale a alternativa que melhor aproxima o valor da resposta de cada pergunta elencada nos cenários acima.

- a) $C1 = 26\%$ e $C2 = 7\%$
- b) $C1 = 6\%$ e $C2 = 6\%$
- c) $C1 = 23\%$ e $C2 = 83\%$
- d) $C1 = 9\%$ e $C2 = 9\%$

20) Sejam duas proposições lógicas simples: A e B, e a representação simbólica para a negação e os conectivos lógicos abaixo listadas:

$\sim A$	negação de A
$A \wedge B$	A e B
$A \vee B$	A ou B
$A \rightarrow B$	se A, então B
$A \leftrightarrow B$	A se, e somente se, B

Considere as proposições enumeradas:

- I. $A \wedge \sim A$
- II. $(A \wedge B) \vee \sim (A \wedge B)$
- III. $(A \rightarrow B) \leftrightarrow (\sim B \rightarrow \sim A)$

Uma tautologia é uma proposição lógica que pode apenas assumir valores-verdade verdadeiros (V), uma antinomia é a negação de uma tautologia, e, portanto, é uma proposição composta em que resulta apenas em valores lógicos falsos (F). Assinale a alternativa que corretamente classifica as proposições completas enumeradas nesses termos.

- a) I - Antinomia; II - Tautologia; III - Tautologia
- b) I - Tautologia; II - Antinomia; III - Tautologia
- c) I - Tautologia; II - Tautologia; III - Antinomia
- d) I - Tautologia; II - Tautologia; III - Tautologia

CONHECIMENTOS ESPECÍFICOS

- 21) O Tratamento Restaurador Atraumático (ART) é uma abordagem que se enquadra na proposta da Odontologia de Mínima Intervenção, cujo conceito está baseado na máxima preservação da estrutura dentária, e atua tanto na prevenção da cárie dentária quanto na paralisação da progressão da lesão. O cimento de ionômero de vidro é o material de escolha quando o assunto são restaurações atraumáticas. Após realizar a restauração, sua camada superficial pode se tornar rugosa, levando à perda da integridade da restauração e à erosão do material. Segundo alguns autores, devemos realizar a proteção superficial do cimento de ionômero de vidro para evitar perda ou ganho excessivo de umidade e o desgaste do material, e dois materiais obtiveram melhores resultados. Assinale a alternativa correta a respeito de quais são eles.
- Flúor fosfato acidulado e vaselina líquida
 - Vaselina sólida e flúor fosfato acidulado
 - Vaselina líquida e esmalte incolor
 - Vaselina sólida e esmalte incolor
- 22) Anestésicos locais são usados diariamente nos consultórios odontológicos, existindo vários tipos de soluções contendo ou não vasoconstritores. Em pacientes portadores de diabetes mellitus, o uso de um certo vasoconstritor pode provocar quebra de glicogênio em glicose, podendo resultar em hiperglicemia. Assinale a alternativa que apresenta esse vasoconstritor.
- Felipressina
 - Fenilefrina
 - Adrenalina
 - Noradrenalina
- 23) Os anestésicos locais podem causar reações adversas que podem ser divididas em psicogênicas e não psicogênicas. As primeiras independem do anestésico e estão relacionadas ao estado de estresse do paciente. As não-psicogênicas são raras, estando relacionadas à técnica de administração inadequada, superdosagem ou a uma reação alérgica ao anestésico (Vieira, Gonçalves: Agra, 2000). Os anestésicos locais podem desencadear reações alérgicas de dois tipos: hipersensibilidade imediata e/ou dermatite de contato. De acordo com os tipos de anestésicos: éster e amida, assinale a alternativa que apresenta quais tipos de reações alérgicas eles podem apresentar no paciente, respectivamente.
- Tipo éster: reações tipo dermatite de contato e Tipo amida: ambos os tipos de hipersensibilidade
 - Tipo éster: reações tipo hipersensibilidade imediata e Tipo amida: ambos os tipos de hipersensibilidade
 - Tipo éster: reações tipo dermatite de contato e Tipo amida: reações tipo hipersensibilidade imediata
 - Tipo éster: reações tipo hipersensibilidade e Tipo amida: reações tipo dermatite de contato
- 24) A Atenção Básica considera o sujeito em sua singularidade, na complexidade, na integralidade e na inserção sócio-cultural e busca a promoção de sua saúde, a prevenção, tratamento de doenças e a redução de danos ou de sofrimentos que possam comprometer suas possibilidades de viver de modo saudável. Em 2004, o Ministério da Saúde elaborou as “Diretrizes da Política Nacional de Saúde Bucal”, que apontam para uma reorganização da atenção em saúde bucal em todos os níveis de atenção. Sobre esse documento, assinale a alternativa **incorreta**.
- O cuidado como eixo de reorientação do modelo
 - O desenvolvimento de ações voltadas para as linhas do cuidado, como por exemplo: do portador de tuberculose, de hanseníase, de sífilis e influenza
 - A Humanização do processo de trabalho
 - A co-responsabilização dos serviços
- 25) O edentulismo é um dos agravos em saúde bucal e os resultados do SB Brasil confirmaram que, em nosso país, esse problema é uma marca da desigualdade social. A porta de entrada para o tratamento odontológico é através da atenção primária, pela Unidade Básica de Saúde, que seguindo critérios de inclusão e exclusão realizam os encaminhamentos, ou seja, as referências para o tratamento especializado. Os critérios de inclusão para prótese total serão avaliados no exame clínico, pelo cirurgião-dentista. Sobre esses critérios de inclusão, assinale a alternativa **incorreta**.
- Ausência total de elementos dentários em uma ou ambas as arcadas
 - Rebordo alveolar regular ou que possibilite o assentamento de uma prótese
 - Ausência de lesões ósseas, da mucosa, gengiva ou dos anexos orais
 - Pacientes com síndrome motora, psiquiátrica ou nervosa severa, que impossibilite tomada de impressão
- 26) A perda de um ou mais dentes geram áreas edêntulas, maiores ou menores, retilíneas ou em curva, capazes de provocar mudanças no sistema de alavancas mandibular, de classe III para classe I ou II, acarretando, com isso, um colapso oclusal posterior. Estas alterações, oriundas da perda dos dentes, seriam responsáveis pelo desenvolvimento de patologias oclusais, reversíveis ou irreversíveis. Assinale a alternativa **incorreta** a esse respeito.
- Migração proximal dos dentes adjacentes à área edêntula, extrusão dos dentes antagônicos
 - Perda ou diminuição dos contatos proximais
 - Aumento de diastemas nos dentes posteriores e a formação de facetas de desgastes não-fisiológicas
 - Impactação alimentar, além de instabilidade oclusal

- 27) A terapêutica medicamentosa durante a gravidez deve ser cuidadosa, pois alguns fármacos podem causar sérios efeitos adversos à mãe e ao feto. O clínico deve considerar cuidadosamente a relação entre benefício e risco, quando indica o uso de antibióticos para gestante. Em casos de real necessidade, assinale a alternativa que apresenta o que se pode utilizar.
- Metronidazol
 - Eritromicina
 - Fenoximetilpenicilina potássica
 - Amoxicilina
- 28) A desinfecção é definida como um processo físico ou químico que elimina a maioria dos microrganismos patogênicos de objetos inanimados e superfícies, com exceção dos esporos bacterianos. Um dos agentes desinfetantes de maior uso em Odontologia é o álcool 70%. Assinale a alternativa correta com relação às desvantagens apresentadas por essa substância.
- Irritante para pele e irritante para mucosa
 - Instável e corrosivo
 - Volátil e pode danificar as lentes de equipamentos ópticos
 - Corrosivo para alguns metais e inativo na presença de matéria inorgânica
- 29) Há diferentes desenhos para as próteses fixas sobre implantes e a escolha do mais adequado é primariamente dependente da quantidade de implantes no arco. O modelo clássico é a prótese tipo protocolo definida por Branemark, caracterizada corretamente na alternativa:
- Colocação de 2 a 4 implantes na região anterior da mandíbula, entre os forames mentuais, e cantilever distal de ambos os lados para substituir os dentes posteriores. Na maxila recomenda-se a colocação de 6 a 8 implantes
 - Colocação de 4 a 6 implantes na região anterior da mandíbula, entre os forames mentuais, e cantilever distal de ambos os lados para substituir os dentes posteriores. Na maxila recomenda-se a colocação de 6 a 8 implantes
 - Colocação de 4 a 6 implantes na região anterior da mandíbula, entre os forames mentuais, e cantilever distal de ambos os lados para substituir os dentes posteriores. Na maxila recomenda-se a colocação de 4 a 6 implantes
 - Colocação de 6 a 8 implantes na região anterior da mandíbula, entre os forames mentuais, e cantilever distal de ambos os lados para substituir os dentes posteriores. Na maxila recomenda-se a colocação de 4 a 6 implantes
- 30) A utilização dos raios X para diagnóstico em Odontologia possui grande importância na prática clínica. A radiologia odontológica continua sendo a principal fonte de exames complementares para conclusão e diagnóstico de doenças bucais. Os dois tipos de radiografias intrabucais mais utilizados são as periapicais e interproximais. Sobre esta última, chamada de *bite wing*, assinale a alternativa incorreta.
- Análise das faces interproximais dos dentes
 - Análise das faces oclusais dos dentes
 - Análise do ápice radicular
 - Análise da crista óssea alveolar
- 31) Mediante a necessidade de extração de dentes remanescentes, muitos pacientes não suportam a situação que lhes é imposta, ou seja, permanecem desdentados após as extrações em virtude do tempo necessário para a completa cicatrização e reparação óssea. No entanto, além do fator psicológico envolvido, outros fatores como estética, fonética, mastigação e convívio social entre outros estão envolvidos em tal situação. Em decorrência de tal circunstância, como solução, vê-se necessário o uso de Próteses Totais Imediatas (PTI). Sobre tais próteses, assinale a alternativa correta.
- PTI com Face Labial Total, com Face Labial Parcial e sem Face Labial
 - PTI com Face Labial Total e com Face Labial Parcial
 - PTI com Face Lingual Total, com Face Lingual Parcial e sem Face Lingual
 - PTI com Face Vestibular Total, com Face Vestibular Parcial e sem Face Vestibular
- 32) Os princípios biomecânicos em prótese fixa unitária são aqueles que dizem respeito à manutenção da prótese em seu lugar, após a cimentação da mesma. Um desses princípios é o de resistência, no qual ocorre a maioria das falhas (Parker, 2004 et al); portanto, deve-se respeitar os elementos que configuram esse princípio. A esse respeito, assinale a alternativa incorreta.
- Altura e largura do dente
 - Ângulo de divergência
 - Presença de sulcos e canaletas
 - Secção transversal do preparo

33) A Prótese Parcial Removível (PPR) é uma modalidade de tratamento usada para recompor elementos dentais perdidos e tecidos circunvizinhos, de modo a integrar-se totalmente ao sistema estomatognático. Uma das propriedades da PPR é a retenção que garante segurança ao paciente no falar e mastigar. Diante da afirmação, analise as afirmativas abaixo e dê valores Verdadeiro (V) ou Falso (F).

- () O sistema de retenção das PPR's é responsável por impedir o deslocamento desta no sentido horizontal.
- () O sistema de retenção é constituído pelos grampos e encaixes.
- () Os grampos devem ser apoiados nos dentes.
- () Os grampos podem ser de 3 tipos: oclusal com localização na face oclusal dos dentes posteriores, lingual, com localização na face lingual dos dentes inferiores e incisal, com localização na incisal dos dentes anteriores.

Assinale a alternativa que apresenta a sequência correta de cima para baixo.

- a) F, V, V, F
- b) F, F, V, F
- c) V, V, V, F
- d) V, F, V, V

34) As Próteses Parciais Removíveis Classe I de Kennedy, devido às bases em extensão bilateral, representam um desafio para o dentista. Estas devem obter suporte através do rebordo residual e dentes remanescentes promovendo uma distribuição equitativa das forças visando preservação dos mesmos. Os rebordos residuais são divididos didaticamente e de acordo com essa classificação, existe um tipo de rebordo que é melhor para receber a ação das cargas mastigatórias. Assinale a alternativa correta a partir do mencionado.

- a) Horizontal
- b) Vertical
- c) Ascendente distal
- d) Descendente distal

35) Dentre os movimentos que as Próteses Parciais Removíveis (PPR's) podem sofrer sob função e durante a inserção e retirada da mesma, estão os de translação e rotação. Diante da afirmação, analise as afirmativas abaixo e dê valores Verdadeiro (V) ou Falso (F).

- () Os movimentos de rotação e translação podem acontecer em diferentes planos, apenas de forma intercalada.
- () Rotação é o movimento do corpo ao redor de seus eixos.
- () Translação é o movimento de todos os pontos de um corpo em relação a um eixo distante dele próprio.
- () Os eixos de rotação podem ser virtuais, ocorrendo nas PPR's de classe III e IV.

Assinale a alternativa que apresenta a sequência correta de cima para baixo.

- a) V, V, V, V
- b) F, V, V, V
- c) F, F, V, F
- d) F, V, V, F

36) O sistema estomatognático é uma entidade fisiológica, funcional, perfeitamente definida e integrada por um conjunto heterogêneo de órgãos e tecidos, cuja biologia e fisiopatologia são absolutamente interdependentes envolvidas nos atos funcionais como: fala, mastigação e deglutição dos alimentos (Neto, 2006). A oclusão pode ser entendida como o equilíbrio, sendo este a essência da harmonia anatômica e funcional. Diante da afirmação, analise as afirmativas abaixo e dê valores Verdadeiro (V) ou Falso (F).

() A Relação Cêntrica (RC) é uma posição condilar, com a participação dos contatos dentários.

() Máxima Intercuspidação Habitual (MIH) é uma posição na qual ocorre o maior número possível de contatos entre os dentes independente da posição condilar.

() A maioria da população apresenta coincidência entre a posição condilar de Relação Cêntrica (RC) e a Máxima Intercuspidação Habitual (MIH), e a isso chamamos de Oclusão em Relação Cêntrica (ORC).

() A estabilidade oclusal é a estabilidade dada à mandíbula em relação à maxila pela intercuspidação simultânea das cúspides funcionais.

Assinale a alternativa que apresenta a sequência correta de cima para baixo.

- a) F, V, F, V
- b) V, V, V, V
- c) F, V, V, F
- d) F, F, F, V

37) Os pacientes edêntulos podem apresentar limitações que devem ser identificadas no exame clínico e com isso implicar no tratamento com prótese total removível. Nos casos de discrepância maxilomandibular, como Classe III esquelética, é necessário montar os dentes em uma determinada mordida para se obter uma boa relação funcional. Isso está corretamente representado na alternativa:

- a) Classe II
- b) Classe I
- c) Topo a topo
- d) Não se deve alterar essa relação, devendo permanecer em classe III

38) As Próteses Adesivas apresentaram nos últimos anos um desenvolvimento muito grande, em função da evolução dos agentes de cimentação e dos cuidados tomados no preparo dos dentes retentores. Essas próteses têm indicações específicas como as citadas nas alternativas abaixo. Assinale a alternativa incorreta a respeito do mencionado.

- a) Quantidade insuficiente de esmalte devido à presença de cáries ou restaurações extensas
- b) Espaços protéticos extensos (mais de 4 pânticos)
- c) Dentes anteriores com deficiência estética
- d) Dentes anteriores mal posicionados, nos quais a estrutura metálica possa prejudicar a estética

39) Em relação ao tecido periodontal as próteses provisórias têm a função primária de preservar a saúde periodontal, para aqueles casos onde a gengiva está saudável, auxiliar no tratamento e na recuperação do tecido gengival alterado e, finalmente, na manutenção da saúde do periodonto tratado. Existem aspectos que devem ser alcançados para a preservação da saúde periodontal que estão descritos nas alternativas abaixo. Assinale a alternativa incorreta com relação ao exposto.

- a) Contatos oclusais simultâneos
- b) Guia anterior personalizada
- c) Aumento da mesa oclusal
- d) Cúspides baixas e fossas rasas

40) A prótese total imediata é definida como uma prótese confeccionada para ser instalada imediatamente após a extração dos dentes naturais. Telles e Telles mencionam suas vantagens quanto à anatomia, função, estética e psicologia. Diante dessa afirmação, assinale a alternativa incorreta com relação às vantagens da prótese total imediata.

- a) Boa Fixação
- b) Promove melhor cicatrização
- c) Previne traumatismo sobre ATM
- d) Protege as feridas cirúrgicas contra agressões bucais