

# SECRETARIA DE PORTOS DA PRESIDÊNCIA DA REPÚBLICA

## CONCURSO PÚBLICO Nº 1/2014



### Contador

MANHÃ

**CARGO: CONTADOR**

Texto para responder às questões de 01 a 10.

**Procuradorias comprovam necessidade de rendimento satisfatório para renovação do FIES**

O Fundo Nacional de Desenvolvimento da Educação (FNDE) não pode ser obrigado a prorrogar contratos do Fundo de Financiamento ao Estudante do Ensino Superior (Fies) a estudantes com baixo rendimento acadêmico. Essa foi a defesa da Advocacia-Geral da União (AGU) acatada pela Justiça para impedir o aditamento indevido aos financiados, sem observar as regras do Ministério da Educação (MEC).

Em duas ações, as estudantes pediam a prorrogação do financiamento estudantil, independentemente do baixo rendimento acadêmico por elas apresentado. Uma das autoras alegava que enfrentou problemas pessoais, pois sua filha estaria doente, o que a levou a ter um baixo rendimento na universidade.

A Procuradoria Federal no estado da Bahia (PF/BA) e a Procuradoria Federal junto ao Fundo (PF/FNDE) esclareceram que a Portaria Normativa MEC nº 15/2011, que dispõe sobre o Fies, estabelece que o não aproveitamento acadêmico em pelo menos 75% das disciplinas cursadas pelo estudante impede a manutenção do financiamento.

Os procuradores destacaram que ficou comprovado, no caso da primeira autora, que os documentos anexados para comprovar a enfermidade da filha se referiam a uma outra pessoa sem qualquer relação de parentesco com a estudante, além de serem de datas posteriores aos semestres que a universitária teve baixo rendimento.

No caso da segunda estudante, a AGU reiterou os mesmos argumentos, pois ela foi aprovada em apenas duas das seis matérias cursadas no primeiro semestre de Engenharia Civil do Centro Universitário Estácio da Bahia, e também usufruiu do aditamento excepcional concedido pela Comissão Permanente de Supervisão e Acompanhamento (CSPA) da instituição, mas teve novamente aproveitamento acadêmico insatisfatório no 1º semestre de 2013.

As procuradorias destacaram, ainda, que a legislação atribui à CSPA a competência de excepcionalmente autorizar, por uma única vez, a continuidade do financiamento, quando há baixo rendimento acadêmico do aluno. Como a estudante obteve rendimento inferior pela segunda vez, ela perdeu qualquer direito a prorrogação do financiamento pelas regras do Fies.

Acolhendo os argumentos da Advocacia-Geral, tanto a 5ª Vara Federal da Seção Judiciária da Bahia quanto a 9ª Vara Federal do estado reconheceram ser legal a decisão do FNDE de rejeitar o pedido de prorrogação das estudantes.

A PF/BA e a PF/FNDE são unidades da Procuradoria-Geral Federal, órgão da AGU.

Ref.: Ação Ordinária nº 40279-03.2013.4.01.3300 - 5ª Vara Federal/BA e Ação Ordinária nº 36536-82.2013.4.01.3300 - 9ª Vara Federal/BA.

(Leane Ribeiro. Disponível em: <http://www.agu.gov.br>.)

**01**

**Considere as afirmativas a seguir tendo em vista as informações apresentadas no texto.**

- I. A obrigatoriedade incondicional da prorrogação de benefícios do FIES, de que trata o texto, tem levado estudantes a requererem na justiça seus direitos relacionados a tal questão.
- II. A AGU exerceu ativamente seu papel nos dois episódios destacados no texto nos quais foram utilizados argumentos equivalentes, obtendo os mesmos resultados.
- III. O aproveitamento acadêmico insatisfatório é visto como fator, que agregado a outros e não de forma isolada, para rompimento do benefício desfrutado através do FIES (Fundo de Financiamento ao Estudante do Ensino Superior).

**Está(ão) correta(s) apenas a(s) afirmativa(s)**

- A) I.                                      B) II.                                      C) I e II.                                      D) I e III.                                      E) II e III.

**02**

**Cada texto possui uma estrutura organizacional distinta. Considerando tal aspecto, assinale a relação corretamente estabelecida entre parágrafo e seu respectivo conteúdo.**

- A) 5º§ – Apresentação dos mesmos argumentos e provas contrárias à 2ª estudante em relação à primeira.
- B) 1º§ – Apresentação de argumentos desenvolvidos ao longo do texto que sustentam a defesa da Advocacia-Geral da União (AGU).
- C) 6º§ e 7º§ – Apresentação da conclusão das ações expostas anteriormente de modo subjetivo, apresentado ponto de vista favorável às decisões indicadas.
- D) 2º§ – Apresentação das ações e respectivos argumentos nos quais as estudantes basearam-se para pedir a prorrogação do financiamento estudantil.
- E) 3º§ e 4º§ – Apresentação de embasamento legal para as decisões citadas no texto em relação ao FIES, além de exposição de elementos usados contra a estudante citada.

03

Analise as afirmativas.

- I. “O Fundo Nacional de Desenvolvimento da Educação (FNDE) não pode ser obrigado a prorrogar contratos do Fundo de Financiamento ao Estudante do Ensino Superior (Fies) a estudantes com baixo rendimento acadêmico.”
- II. “Em duas ações, as estudantes pediam a prorrogação do financiamento estudantil, independentemente do baixo rendimento acadêmico por elas apresentado. Uma das autoras alegava que enfrentou problemas pessoais, pois sua filha estaria doente, o que a levou a ter um baixo rendimento na universidade.”

De acordo com as expressões destacadas nos trechos anteriores, assinale a alternativa correta.

- A) Nas expressões destacadas nos dois trechos, o uso do sinal indicativo de crase é facultativo.
- B) Em “a estudantes” (I), caso a flexão de número do substantivo fosse alterada, o sinal grave indicativo de crase seria obrigatório.
- C) Em “as estudantes” (II), caso a flexão de número do substantivo fosse alterada, o sinal grave indicativo de crase seria obrigatório.
- D) Apenas no trecho I existe a possibilidade da ocorrência do fenômeno da crase acrescentando-se o artigo definido feminino plural.
- E) “a estudantes” (I) e “as estudantes”(II) são expressões que possuem o mesmo sentido, ocorrendo apenas mudança quanto à escolha discursiva do enunciador.

04

A coesão textual é o instrumento através do qual os vários segmentos de um texto estão interligados e relacionam-se entre si. Dentre os termos destacados nos trechos a seguir, assinale a correta relação identificada.

- A) “[...] pois sua filha estaria doente [...]” (2º§) / estudantes
- B) “[...] baixo rendimento acadêmico por elas apresentado.” (2º§) / duas ações
- C) “[...] o que a levou a ter um baixo rendimento na universidade.” (2º§) / uma das autoras
- D) “[...] pois ela foi aprovada em apenas duas das seis matérias cursadas [...]” (5º§) / argumentação
- E) “Essa foi a defesa da Advocacia-Geral da União (AGU) acatada pela Justiça [...]” (1º§) / prorrogação dos contratos do FIES

05

Considerando as relações estabelecidas pelo termo destacado em “No caso da segunda estudante, a AGU reiterou os mesmos argumentos, pois ela foi aprovada em apenas duas das seis matérias cursadas no primeiro semestre de Engenharia Civil do Centro Universitário Estácio da Bahia, [...]” (5º§), assinale a alternativa em que todas as palavras apresentadas poderiam substituí-lo, preservando a correção semântica.

- A) seja / ou.
- B) e / mas também.
- C) por isso / portanto.
- D) porque / porquanto.
- E) não obstante / no entanto.

06

O tempo verbal indicado por “estaria” em “[...] pois sua filha estaria doente [...]”, de acordo com o contexto, produz o mesmo efeito de sentido visto em (considerar os termos destacados)

- A) Estaria feliz na casa que foi comprada?
- B) Eles prometeram que estariam na palestra.
- C) Estaria realizado se seguisse seus conselhos.
- D) Hoje, pela manhã, confirmou que estaria no almoço.
- E) Estaria o professor realmente doente quando não veio trabalhar?

07

O trecho destacado a seguir compõe o 4º§ do texto: “[...] que os documentos anexados para comprovar a enfermidade da filha [...]”. Para que tanto a correção gramatical quanto a correção semântica sejam preservadas, a reescrita aceitável está indicada em:

- A) “[...] que os documentos anexados na comprovação à enfermidade da filha [...]”
- B) “[...] que os documentos em anexos para comprovar a enfermidade da filha [...]”
- C) “[...] os quais documentos em anexo para comprovar a enfermidade da filha [...]”
- D) “[...] de que os documentos anexados a fim de comprovar a enfermidade da filha [...]”
- E) “[...] que os documentos anexados para que fosse comprovada a enfermidade da filha [...]”

08

A interação social por meio da linguagem permite que diferentes tipos de textos sejam produzidos de acordo com o conteúdo, a finalidade e a forma de cada um. Na situação de interação verbal em que o texto apresenta-se, é correto afirmar que se trata, principalmente, de

- A) texto técnico cujo principal objetivo é instruir acerca de procedimentos jurídicos.
- B) discurso de defesa em que são utilizados argumentos na defesa de um ponto de vista.
- C) entrevista de especialistas da AGU com vistas a esclarecer determinado procedimento.
- D) discurso de acusação em que são utilizados argumentos na defesa de um ponto de vista.
- E) texto informativo, em que são relatados fatos reais e experiências vividas situados no tempo.

09

“Essa foi a defesa da Advocacia-Geral da União (AGU) acatada pela Justiça para impedir o aditamento indevido aos financiados, sem observar as regras do Ministério da Educação (MEC).” (1º§)

“[...] e também usufruiu do aditamento excepcional concedido [...]” (5º§)

Considerando-se o contexto, é correto afirmar em relação às expressões destacadas que devem ser substituídas por

- A) expressão equivalente já que expressam o mesmo significado.
- B) expressões de sentido oposto, assegurando o sentido atribuído no texto.
- C) expressões de sentido diferente, assegurando o sentido atribuído no texto.
- D) “acréscimo” apenas, sintetizando o sentido expresso através das expressões.
- E) “indevido” e “excepcional” apenas, pois, a supressão de “aditamento” não acarreta prejuízo semântico.

10

Assinale a alternativa em que a acentuação de todas as palavras está de acordo com a mesma regra da palavra destacada no título do texto: “*Procuradorias comprovam necessidade de rendimento satisfatório para renovação do FIES*”.

- A) após / pó / paletó
- B) moído / juízes / caído
- C) história / cárie / tênue
- D) álibi / íterim / político
- E) êxito / protótipo / ávido

Texto para responder às questões de 11 a 13.

[...] Pesquisas mostraram baixo *stress* em advogados defendendo causas difíceis, o qual virava alto *stress* diante do trânsito engarrafado. Policiais de *Los Angeles* tomam facas de criminosos, perseguem bêbados na estrada e terminam o dia na delegacia fazendo seu relatório. Supressa! O *stress* só aparece na delegacia, absolutamente segura. A lógica é cristalina. O advogado passou anos se preparando para lidar como *stress* dos tribunais, mas não os imponderáveis do trânsito. O mesmo ocorre com o policial. Tomar facas é sua profissão. Escrever um relatório que pode ser criticado por seus superiores é terreno pantanoso.

Em segundo lugar, *stress* não é necessariamente uma coisa ruim. Pode ser boa. O ato de criação pode ser estressante. Tarefas desafiadoras podem ser estressantes e boas. Portanto, evitar o *stress* pode significar distanciar-se de realizações. Entrar nas universidades de primeira linha é difícil. Mas é nelas que se concentram as melhores cabeças e de onde saem as melhores ideias e inovações. É por isso que ouvimos falar tanto de *Harvard* ou *Stanford*. [...]

(Cláudio de Moura Castro – Veja, 23 de agosto de 2011.)

11

“De acordo com o tipo textual apresentado, uma \_\_\_\_\_ é construída utilizando para isso, como recurso, \_\_\_\_\_.” Assinale a alternativa que completa correta e sequencialmente a afirmativa anterior.

- A) exposição / exemplificação
- B) argumentação / exemplificação
- C) exposição / citação de autoridade
- D) dissertação / contra-argumentação
- E) argumentação / citação de autoridade

12

Considerando, ainda, a estrutura do tipo textual apresentado, assinale o trecho em que pode ser identificado o posicionamento do autor.

- A) “O mesmo ocorre com o policial.”
- B) “[...] *stress* não é necessariamente uma coisa ruim.”
- C) “[...] virava alto *stress* diante do trânsito engarrafado.”
- D) “Pesquisas mostraram baixo *stress* em advogados [...]”
- E) “Policiais de *Los Angeles* tomam facas de criminosos, [...]”

13

Acerca das relações sintáticas que ocorrem no interior do período a seguir “Policiais de Los Angeles tomam facas de criminosos, perseguem bêbados na estrada e terminam o dia na delegacia fazendo seu relatório.”, é correto afirmar que

- A) “o dia” é sujeito do verbo “terminar”.
- B) o sujeito do período, Policiais de Los Angeles, é composto.
- C) “bêbados” e “criminosos” apresentam-se na função de sujeito.
- D) “facas” possui a mesma função sintática que “bêbados” e “relatório”.
- E) “de criminosos”, “na estrada”, “na delegacia” são termos que indicam circunstâncias que caracterizam a ação verbal.

14

“Os atos oficiais, aqui entendidos como atos de caráter normativo, ou estabelecem regras para a conduta dos cidadãos, ou regulam o funcionamento dos órgãos públicos, o que só é alcançado se em sua elaboração for empregada a linguagem adequada.”

(Manual de Redação da Presidência da República.)

Acerca da linguagem utilizada nos atos e comunicações oficiais, é correto afirmar que se trata do uso de

- A) uma linguagem erudita.
- B) riqueza de figuras de linguagem.
- C) norma padrão com presença de vocabulário técnico.
- D) uma linguagem específica, restrita a determinado grupo.
- E) expressões pessoais características de tal gênero textual.

15

Dentre outras partes do documento no Padrão Ofício estão:

- I. identificação do signatário;
- II. assinatura do autor da comunicação;
- III. tipo e número do expediente, seguidos da sigla do órgão que o expede;
- IV. local e data em que foi assinado, por extenso, com alinhamento à direita.

Estão corretas as alternativas

- A) I, II, III e IV.
- B) I e II, apenas.
- C) I e III, apenas.
- D) I, II e IV, apenas.
- E) II, III e IV, apenas.

### RACIOCÍNIO LÓGICO

16

Uma torneira enche um tanque de  $7,68 \text{ m}^3$  em 4 horas. Sabendo-se que  $1 \text{ m}^3$  equivale a 1.000 litros, é correto afirmar que a vazão, em litros por minuto, dessa torneira, é

- A) 32.
- B) 1,92.
- C) 19,2.
- D) 1920.
- E) 0,032.

17

Em um setor de uma determinada empresa trabalham 30 pessoas, sendo 20 mulheres. Uma comissão de 3 funcionários será formada, de forma aleatória, por sorteio. A probabilidade de esta comissão ser formada por pessoas do mesmo sexo é, aproximadamente,

- A) 17%.
- B) 20%.
- C) 27%.
- D) 31%.
- E) 35%.

18

A geratriz da dízima periódica  $0,2333\dots$  é uma fração do tipo  $\frac{p}{q}$ , em sua forma irredutível. O valor de  $p + q$  é

- A) 37.
- B) 38.
- C) 39.
- D) 40.
- E) 41.

19

Dadas as matrizes  $A = (a_{ij})_{2 \times 3}$  em que  $a_{ij} = i - j$  e  $B = (b_{ij})_{3 \times 2}$  em que  $b_{ij} = i^2 - j$ . Seja a matriz C a matriz resultante do produto das matrizes A e B, nesta ordem. Assim, o elemento  $C_{11}$  será

- A) 17.
- B) 18.
- C) 19.
- D) -18.
- E) -19.

20

Sabe-se que um livro possui 828 páginas, sendo todas numeradas. Quantas vezes o algarismo 2 foi usado?

- A) 270.
- B) 271.
- C) 272.
- D) 273.
- E) 274.

21

Se o determinante de uma matriz é igual a um valor  $x$ , representamos como  $\det(A) = x$ . Sendo  $B$  uma matriz quadrada de ordem 3 e  $\det(B) = 4$ , é correto afirmar que o valor de  $\det(3B)$  será igual a

- A) 4. B) 12. C) 36. D) 96. E) 108.

22

Um estudante, ao resolver um problema, chegou ao seguinte sistema linear: 
$$\begin{cases} 2x + 3y + 2z = 12 \\ x + 3y + 2z = 13 \\ x + 2y + 2z = 11 \end{cases}$$

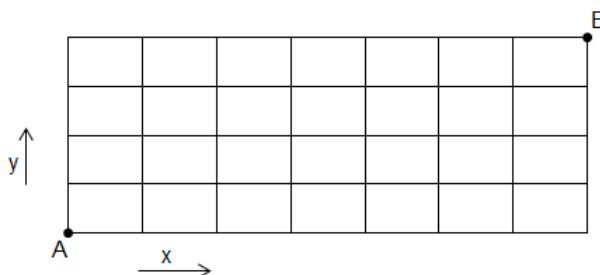
É correto afirmar que  $x + y + z$  é igual a

- A) 1. B) 3. C) 5. D) 7. E) 9.

23

Observe a figura. Quantos caminhos diferentes há para ir de  $A$  até  $B$ , andando sobre as linhas da grade e sempre nos sentidos das setas  $x$  e  $y$ ?

- A) 28.  
B) 120.  
C) 330.  
D) 360.  
E) 720.



24

Sabe-se que um polígono regular com 8 lados possui  $x$  diagonais. É correto afirmar que o valor de  $x$  é

- A) 16. B) 20. C) 22. D) 24. E) 28.

25

Se é verdade que “alguns candidatos são estudiosos” e que “nenhum aventureiro é estudioso”, então, também é necessariamente verdade que

- A) algum candidato é aventureiro. D) nenhum candidato é aventureiro.  
B) algum aventureiro é candidato. E) algum candidato não é aventureiro.  
C) nenhum aventureiro é candidato.

26

Dados os conjuntos  $A = \{a, b, c, d, e, f\}$  e  $B = \{b, d, g, h, i\}$ , assinale a alternativa INCORRETA.

- A)  $b \subset A$ . D)  $A - B = \{a, c, e, f\}$ .  
B)  $B \not\subset A$ . E)  $A \cup B = \{a, b, c, d, e, f, g, h, i\}$ .  
C)  $A \cap B = \{b, d\}$ .

27

Considere a sequência:  $\frac{7}{9}; 9; \frac{7}{3}; 3; 7; 1; 21; \frac{1}{3}; \dots$

É correto afirmar que o produto entre o seu nono termo e décimo termo é

- A) 1. B) 2. C) 3. D) 5. E) 7.

28

Se o ano de 2012 começou em um domingo, então o dia 30 de dezembro de 2017 acontecerá em qual dia da semana?

- A) Sábado. B) Domingo. C) Terça-Feira. D) Quarta-Feira. E) Segunda-Feira.

29

Afirmar que não é verdade que “se Pedro não é brasileiro, então João é corintiano” é equivalente a dizer que

- A) ou Pedro é brasileiro ou João não é corintiano. D) se João não é corintiano, então Pedro é brasileiro.  
B) Pedro não é brasileiro e João não é corintiano. E) se Pedro não é brasileiro, então João é corintiano.  
C) Pedro não é brasileiro ou João não é corintiano.

30

Considere a seguinte proposição: “serei aprovado se e somente se eu estudar muito”. A sua negação pode ser escrita como:

- A) “Serei aprovado ou estudarei muito.”
- B) “Estudarei muito e não serei aprovado ou serei aprovado e não estudarei muito.”
- C) “Serei aprovado ou não estudarei muito e estudarei muito ou não serei aprovado.”
- D) “Serei aprovado e não estudarei muito ou não estudarei muito e não serei aprovado.”
- E) “Não serei aprovado e não estudarei muito ou estudarei muito e não serei aprovado.”

### NOÇÕES DE INFORMÁTICA

31

Um determinado usuário utiliza o Sistema Operacional *Windows 7* (configuração padrão) para realizar suas atividades diárias. Após realizar a exclusão de várias fotos em seu computador, acessou a lixeira e percebeu que existem diversos arquivos neste local. Um procedimento para excluir todos os arquivos da lixeira é: na barra de

- A) Ferramentas, clicar em Esvaziar Lixeira e em Sim.
- B) Menu, clicar em Opções, clicar em Esvaziar Lixeira e em Sim.
- C) Menu, clicar em Ferramentas, clicar em Esvaziar Lixeira e em Sim.
- D) Ferramentas, clicar em Opções, clicar em Esvaziar Lixeira e em Sim.
- E) Menu, clicar em Gerenciamento, clicar em Esvaziar Lixeira e em Sim.

32

“No Sistema Operacional *Microsoft Windows 7* (configuração padrão – idioma português Brasil), ao pressionar as teclas **Ctrl + A** em uma pasta, todo o conteúdo é \_\_\_\_\_. Para recortar arquivos em uma pasta, pode-se utilizar as teclas de atalho \_\_\_\_\_ que poderão ser colados em outro diretório pressionando as teclas \_\_\_\_\_.” Assinale a alternativa que completa correta e sequencialmente a afirmativa anterior.

- A) movido / Ctrl + V / Ctrl + Y
- B) copiado / Ctrl + A / Ctrl + V
- C) compactado / Ctrl + L / Ctrl + Y
- D) selecionado / Ctrl + C / Ctrl + Z
- E) selecionado / Ctrl + X / Ctrl + V

33

Um usuário está criando um texto que conta a história de uma empresa, utilizando a ferramenta *Microsoft Office Word 2007* (configuração padrão). No documento foi solicitado que se utilize o recurso *WordArt*, que permite

- A) inserir caixas de texto pré-formatadas.
- B) adicionar cabeçalho e rodapé personalizado no documento.
- C) formatar as tabelas com estilos predefinidos pela ferramenta.
- D) criar *link* para uma página da *web* que será acessada diretamente do documento.
- E) produzir efeitos especiais de texto, como texto curvo, inclinado ou tridimensional.

34

Sobre a ferramenta *Microsoft Office Excel 2007* (configuração padrão), analise.

- I. Se aplicada a fórmula =SOMA(60;10;2;(10-5)), o resultado será 82.
- II. Se a aplicada a fórmula =SE("AGU"="AGU2";SOMA(10;2);10\*2), o resultado será 20.
- III. Se aplicada a fórmula =MÁXIMO(7;MÍNIMO(MÉDIA(10;2);RAIZ(64))), o resultado será 7.

Está(ão) correta(s) apenas a(s) afirmativa(s)

- A) I.
- B) II.
- C) III.
- D) I e II.
- E) II e III.

35

No gerenciador de e-mail *Microsoft Outlook 2007* (configuração padrão – idioma português Brasil), é possível marcar as mensagens lidas pressionando as teclas **Ctrl + K**. Uma forma alternativa de realizar tal procedimento é: no menu

- A) Exibir, clicar em Marcar como Lido.
- B) Editar, clicar em Marcar como Lido.
- C) Arquivo, clicar em Marcar como Lido.
- D) Ferramentas, apontar para Opções e clicar em Marcar como Lido.
- E) Ações, apontar para Acompanhamento e clicar em Marcar como Lido.

36

No Sistema Operacional *Windows 7* (configuração padrão – idioma português Brasil), ao pressionar as teclas de atalho **Alt + Tab**, é correto afirmar que

- A) a barra de tarefas será exibida. D) a ajuda do Sistema Operacional será executada.  
 B) o gerenciador de tarefas será aberto. E) todos os ícones da área de trabalho ficarão ocultos.  
 C) será possível alternar entre as janelas abertas.

37

Considere a planilha produzida com a ferramenta *Microsoft Office Excel 2007* (configuração padrão).

	A	B	C	D
1	3000	ARGENTINA	ESPAÑA	2000
2	BRASIL	5000	4000	FRANÇA
3				

De acordo com as informações, marque **V** para as afirmativas verdadeiras e **F** para as falsas.

- ( ) Se na célula A3 for inserida a fórmula =MÉDIA(A2;B2;D1), o resultado será 3500.  
 ( ) Se na célula B3 for inserida a fórmula =(B2/2)-MÁXIMO(D1;C2), o resultado será -1500.  
 ( ) Para concatenar na célula C3 o nome de todos os países pode-se utilizar a fórmula =MESCLAR(A2;B1;C1;D2).  
 ( ) Se na célula D3 for inserida a fórmula =SE((C2-D1)>=A1;"ERRADO";"CORRETO") o resultado será "ERRADO".

A sequência está correta em


- A) V, V, V, V. B) V, V, F, F. C) V, F, V, F. D) F, F, V, V. E) F, F, F, F.


38

Considere a tabela produzida com a ferramenta *Microsoft Office Word 2007* (configuração padrão).

Bloco A	Bloco B
Bloco C	Bloco D
Bloco E	Bloco F

Após selecionar toda a tabela, um usuário clicou na guia **Início**, e no grupo **Parágrafo**, efetuou dois procedimentos:

I. Clicou na opção 

II. Clicou na opção 

É correto afirmar que, respectivamente, “todas as bordas da tabela serão \_\_\_\_\_ e será(ão) aplicada(s) somente a(s) borda(s) \_\_\_\_\_.” Assinale a alternativa que completa correta e sequencialmente a afirmativa anterior.

- A) removidas / internas a tabela D) preenchidas / da direita da tabela  
 B) removidas / externas a tabela E) preenchidas / da esquerda da tabela  
 C) preenchidas / horizontal interna

39

O recurso que estuda os princípios e técnicas pelas quais a informação pode ser transformada da sua forma original para outra ilegível, com o objetivo de dificultar a leitura de pessoas não autorizadas, denomina-se

- A) Backup. B) Webgrafia. C) criptografia. D) quarentena. E) endereçamento.

40

O diretor de uma certa empresa de venda de seguros, visando uma maior interatividade dos seus colaboradores, contratou uma empresa de tecnologia da informação para desenvolver um portal onde serão divulgadas informações para todos colaboradores, como aniversariantes do mês, mural de avisos e emissão de contracheque. Ao realizar o contrato com a empresa, o diretor foi incisivo ao afirmar que o portal deveria ser de uso restrito aos colaboradores da sua empresa, que poderão acessá-lo através de um *login*/senha disponibilizado pela direção no ato da admissão. De acordo com as informações, afirma-se que o serviço contratado é para criar uma

- A) Intranet. D) Página de arquivos.  
 B) Extranet. E) Sala virtual em ambiente externo.  
 C) Internet privada.



**CONHECIMENTOS GERAIS**

O texto abaixo contextualiza o tema tratado nas questões de **41** a **43**. Leia-o atentamente.

“A Justiça Federal do Rio de Janeiro aceitou nesta quinta-feira, 15, a denúncia do Ministério Público Federal (MPF) contra seis agentes do regime militar acusados de envolvimento no atentado do Riocentro, em 30 de abril de 1981. A juíza Ana Paula Vieira de Carvalho, da 6ª Vara Criminal Federal, entendeu que o caso cabe à Justiça comum – e não militar – e que os crimes de tentativa de homicídio, associação em organização criminosa, transporte de explosivos e fraude processual não estão prescritos por terem sido cometidos de forma sistemática e frequente durante a ditadura.”

(Disponível em: <http://www.estadao.com.br/noticias/nacional,justica-acata-denuncia-contra-acusados-pelo-atentado-do-riocentro,1167081,0.htm>, em 15 de maio de 2014, às 12h06.)

**41**

O fato histórico tratado no texto pode ser descrito como

- A) uma tentativa de atentado promovido por um grupo de militares da chamada “linha dura”, insatisfeitos com o processo de abertura política e de redemocratização pelo qual vinha passando o Brasil.
- B) crime hediondo contra os organizadores do evento em homenagem ao Dia do Trabalho, no Rio de Janeiro, após serem presos pelos militares, levados para o quartel onde foram torturados até a morte.
- C) invasão do Riocentro pelos militares que tentaram pôr fim à manifestação dos trabalhadores contra a ditadura militar, agredindo todos os participantes do evento e expulsando-os do local com violência.
- D) um plano mal sucedido de Golpe Militar envolvendo militares da aeronáutica e da marinha que se sentiam excluídos do poder federal concentrado nas mãos dos militares remanescentes do exército brasileiro.
- E) motim de um determinado setor do exército insatisfeito com a redemocratização do Brasil que se concentraram no Riocentro para planejar ações de combate aos crescentes movimentos de esquerda no país.

**42**

Quando tal fato ocorreu, em 1981, o Brasil vivia os últimos momentos da Ditadura Militar e era governado pelo último presidente militar, representante deste regime de exceção. Trata-se de

- A) Ernesto Geisel.
- B) Arthur da Costa e Silva.
- C) João Baptista Figueiredo.
- D) Emílio Garrastazu Médici.
- E) Humberto Castelo Branco.

**43**

O objetivo era tumultuar a comemoração do Dia do Trabalho que reuniu cerca de 20 mil pessoas no Centro de Convenções da Zona Oeste do Rio de Janeiro – Riocentro, no entanto, o plano fracassou quando

- A) a imprensa descobriu e denunciou o plano de atentado, forçando o governo a intervir e prender os envolvidos.
- B) a polícia federal descobriu o plano de ação dos militares revoltosos e impediu a tentativa de golpe sobre o governo.
- C) grupos paramilitares que agiam no período impediram a ação do exército matando todos os envolvidos no atentado.
- D) os trabalhadores alertados da investida, proibiram a entrada de militares no local com o apoio da polícia militar do Rio.
- E) uma das bombas explodiu acidentalmente e matou um dos militares e feriu o outro antes que a missão fosse executada.

O texto abaixo contextualiza o tema tratado nas questões de **44** a **46**. Leia-o atentamente.

O acordo provisório alcançado em Genebra, em 24 de novembro de 2013, estabelece um congelamento durante seis meses de algumas das atividades nucleares mais sensíveis do Irã, limitando o enriquecimento de urânio a 5%, em troca de um levantamento parcial das sanções econômicas impostas pelo Ocidente. As potências e Israel temem que o Irã use seu controverso programa nuclear para fins militares, o que Teerã repetidamente nega. O governo israelense criticou várias vezes o acordo, que considera um “erro político”.

(Disponível em: [www.g1.globo.com](http://www.g1.globo.com) – em 12/01/2014, às 17h40.)

**44**

“O Irã assinou o acordo com os Estados Unidos, Rússia, China, França e Reino Unido, que compõem o(a) \_\_\_\_\_ e, também, com o(a) \_\_\_\_\_.” Assinale a alternativa que completa correta e sequencialmente a afirmativa anterior.

- A) G-8 / Arábia Saudita
- B) Grupo Gestor da Otan / União Europeia
- C) Comitê de Proteção Internacional / Japão
- D) Conselho de Segurança da ONU / Alemanha
- E) Comissão de Investigação Nuclear da ONU / Israel

45

Analise as assertivas correlatas.

I. “Além das sanções da Organização das Nações Unidas – ONU, os Estados Unidos e a União Europeia (UE) já impuseram embargo e punições financeiras contra nações que comprassem petróleo do Irã.”

PORQUE

II. “Informações da Agência Internacional de Energia Atômica, da ONU, indicaram que as ações envolvendo as atividades nucleares do Irã só faziam sentido se fossem para construir a bomba atômica, mas a Rússia e a China se opuseram a novas sanções por meio da ONU.”

A respeito dessas asserções, assinale a alternativa correta.

- A) As duas asserções são completamente falsas.
- B) A primeira asserção é falsa e a segunda, verdadeira.
- C) A primeira asserção é verdadeira e a segunda, falsa.
- D) As duas asserções são verdadeiras, mas não estabelecem relação entre si.
- E) As duas asserções são verdadeiras, e a segunda é uma justificativa correta da primeira.

46

Antes da assinatura do acordo, duas nações foram acusadas de sabotagem, segundo o Irã. Uma por ter assassinado cientistas do país e a outra por ter introduzido um vírus de computador em suas instalações nucleares, denunciou o Irã. As nações apontadas como responsáveis por estas ações, segundo o Irã, foram, respectivamente:

- A) Rússia e Israel.
- B) Arábia Saudita e Rússia.
- C) Israel e Estados Unidos.
- D) Grã-Bretanha e Arábia Saudita.
- E) Estados Unidos e Grã-Bretanha.

47

Leia a tabela a seguir.

A. TRABALHO ESCRAVO, POR ATIVIDADE - 2013	CASOS	%	FISCALIZADOS	%	Trabalhadores libertados	%
DESMATAMENTO	6	3%	5	1%	26	1%
PECUÁRIA	70	35%	58	18%	284	13%
REFLORESTAMENTO	8	4%	7	4%	68	3%
EXTRATIVISMO VEGETAL	3	1%	3	3%	102	5%
CANA	1	0%	1	2%	50	2%
OUTRAS LAVOURAS	35	17%	28	20%	443	20%
CARVÃO VEGETAL	13	6%	10	6%	67	3%
MINERAÇÃO	5	2%	5	2%	49	2%
ATIVIDADES NÃO RURAIS [*]	61	30%	59	43%	1.153	51%
TOTAL GERAL	202	100%	176	100%	2.242	100%
SUB-TOTAL ATIVIDADES RURAIS	141	70%	117	57%	1.089	49%
SUB-TOTAL ATIVIDADES NÃO RURAIS [*]	61	30%	59	43%	1.153	51%
Construção civil [*]	39	19%	38	33%	858	38%
Confecção [*]	13	6%	12	5%	122	5%
Outro (*)	9	4%	9	6%	173	8%

(Disponível em: <http://cptnacional.org.br/index.php/component/jdownloads/finish/50-dados-2013/351-release-a-escravidao-no-campo-e-na-cidade?Itemid=23>.)

Acerca das informações apresentadas na tabela sobre o trabalho escravo no Brasil, segundo levantamento da Comissão Pastoral da Terra, analise.

- I. A indústria têxtil registrou mais trabalhadores libertados em área urbana.
- II. A pecuária registra o maior número de casos de trabalho escravo no campo.
- III. O campo concentra o maior número de casos de trabalho escravo no Brasil.
- IV. O número de pessoas resgatadas da escravidão em 2013 foi maior no campo.

As afirmativas INCORRETAS referentes aos dados apresentados anteriormente são apenas

- A) I e II.
- B) I e III.
- C) I e IV.
- D) II e IV.
- E) III e IV.

48

A foto abaixo apresenta as “Sete Quedas”.



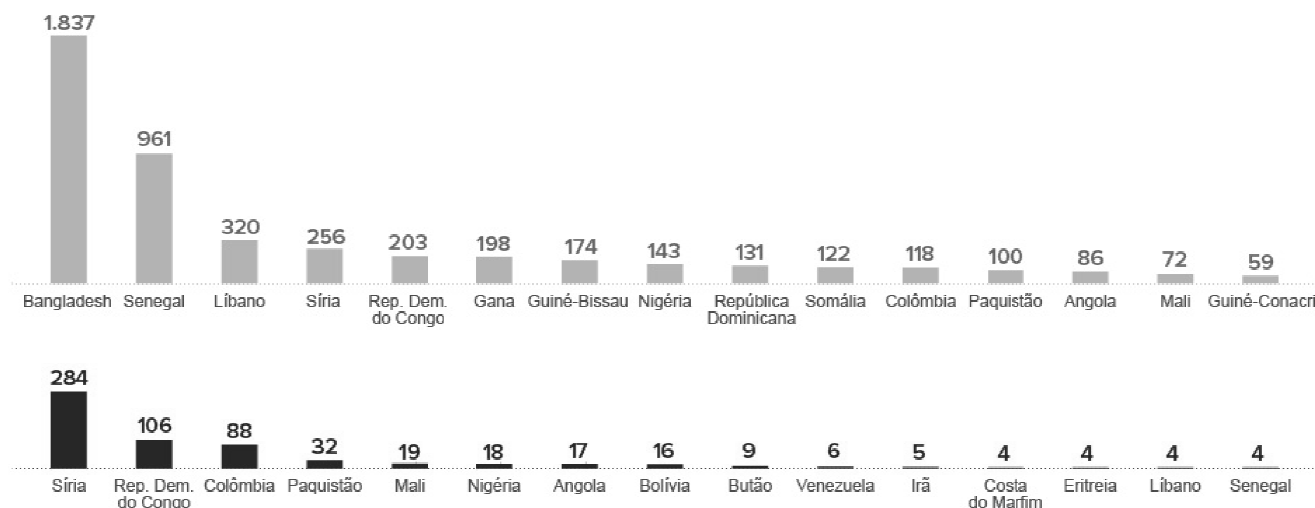
(Disponível em: <http://www.opresente.com.br/geral/salto-del-guaira-sera-indenizada-pelo-fim-das-sete-quebras-23041/>.)

Esta foi uma das mais importantes atrações turísticas do Brasil até a década de 1980 quando deixou de existir devido à construção da hidrelétrica de Itaipu, que foi formalizada há 40 anos, entre o presidente do Brasil, na época, e o general

A) Augusto Pinochet, presidente do Chile.  
 B) Luiz Garcia Meza, presidente da Bolívia.  
 C) Venâncio Flores, presidente do Uruguai.  
 D) Leopoldo Galtieri, presidente da Argentina.  
 E) Alfredo Stroessner, presidente do Paraguai.

49

Segundo dados do Comitê Nacional de Refugiados (Conare) e do Ministério da Justiça, o Brasil abriga, hoje, mais de 5 mil refugiados e o número de pedidos de refúgio tem crescido nos últimos anos. Os dois gráficos apresentam sequencialmente os 15 países com mais pedidos de refúgio para o Brasil em 2013 e os 15 países com mais concessões de refúgios no mesmo ano.



(Disponível em: <http://g1.globo.com/mundo/noticia/2014/04/refugiados-brasil-em-24/04/2014,em-11h27>.)

Analizando os gráficos, é correto afirmar que

- I. liderando a relação de países com maior número de concessões em 2013 está a nação que vive um dos mais sangüinários conflitos do planeta.
- II. metade dos pedidos e concessões de refúgio registrados em 2013 veio da região asiática do Oriente Médio.
- III. os países que lideram a lista de pedidos e concessões são do continente asiático.
- IV. os pedidos de refúgio são todos oriundos da África e Ásia.

As afirmativas corretas referentes aos dados apresentados nos gráficos são apenas

- A) I e II.                      B) I e III.                      C) I e IV.                      D) II e IV.                      E) III e IV.

50

Um novo bloco para integração regional criado no início desta década no continente americano, formado pelos países destacados na figura a seguir, recebe a denominação de



(Disponível em: [http://alianzapacifico.net/que\\_es\\_la\\_alianza/la-alianza-del-pacifico-y-sus-objetivos/.](http://alianzapacifico.net/que_es_la_alianza/la-alianza-del-pacifico-y-sus-objetivos/))

- A) Aliança do Pacífico.  
B) Comunidade Andina.  
C) Mercado Comum do Sul.  
D) Mercado Comum Centro Americano.  
E) Associação Latino-Americana de Integração.

### CONHECIMENTOS ESPECÍFICOS

51

Observe as despesas a seguir:

- I. aquisição de equipamentos de informática para as escolas públicas;
- II. salário de profissionais da área de saúde;
- III. aluguéis de imóveis para atender pessoas desabrigadas em virtude de calamidade pública;
- IV. aquisição de equipamentos hospitalares;
- V. aposentadorias;
- VI. aquisição de veículos para a polícia.

É correto afirmar que apenas as alternativas

- A) I, II e IV compõem o orçamento fiscal.
- B) II, IV e VI compõem o orçamento fiscal.
- C) III, IV e V compõem o orçamento fiscal.
- D) I, III e IV compõem o orçamento da seguridade social.
- E) II, III e V compõem o orçamento da seguridade social.

52

A despesa que é classificada na função saúde, na categoria econômica corrente e no grupo outras despesas correntes, simultaneamente, é

- A) salários dos médicos do hospital público.
- B) serviços de limpeza dos hospitais públicos.
- C) obrigações patronais de postos de saúde públicos.
- D) aquisição de ambulâncias para o serviço móvel de urgência.
- E) construção de unidades de atendimentos ambulatoriais públicos.

53

Uma empresa de alimentos tem parte de suas atividades em uma fazenda. Esta empresa adquire um imóvel próximo à fazenda e o aluga para os funcionários que trabalham na fazenda e não vivem na região. Assinale a alternativa que indica onde o imóvel deve ser evidenciado no Balanço Patrimonial da empresa e qual é a base de mensuração, respectivamente.

- A) Ativo imobilizado e mensurado ao custo.
- B) Investimento e mensurado a valor justo.
- C) Ativo realizável a longo prazo e mensurado ao custo.
- D) Propriedade para investimento e mensurado ao custo.
- E) Propriedade para investimento e mensurado ao custo ou a valor justo.

54

“Em 01 de janeiro de 2011 uma empresa adquiriu uma máquina por R\$ 20.000,00. Na ocasião, a empresa pretendia utilizar a máquina em seus negócios por 5 anos e, depois disso, vendê-la por R\$ 5.000,00. Em 31 de dezembro de 2011, a nova direção da empresa decidiu colocar a máquina à venda, transferindo-a para o ativo circulante. Na data, o valor justo da máquina era de R\$ 15.000,00. Em 31 de dezembro de 2013, a máquina ainda não havia sido vendida, e a empresa decidiu utilizá-la novamente em seus negócios. Sendo assim, transferiu a máquina para o ativo imobilizado. Nesta data, estima-se que valor justo da máquina era de R\$ 13.000,00.”

Considerando que a empresa continua com a mesma vida útil e o mesmo valor residual de 2011, em 31 de dezembro de 2014, o valor contábil da máquina é de

- A) R\$ 8.000,00.
- B) R\$ 9.000,00.
- C) R\$ 11.000,00.
- D) R\$ 13.000,00.
- E) R\$ 17.000,00.

55

Uma empresa observou durante o mês de janeiro de 2014, os seguintes fatos:

- Venda de estoque à vista: R\$ 50.000,00;
- Pagamento do ativo imobilizado que havia sido adquirido em novembro de 2013: R\$ 20.000,00;
- Reconhecimento e provisionamento da despesa de salários: R\$ 3.000,00;
- Aumento de capital social pelos sócios da empresa em dinheiro: R\$ 40.000,00;
- Contratação de empréstimo junto ao banco: R\$ 50.000,00;
- Compra de estoque para pagamento em fevereiro de 2014: R\$ 30.000,00;
- Empréstimo concedido a terceiros: R\$ 12.000,00;
- Compra de material de escritório à vista para ser utilizado no semestre: R\$ 6.000,00;
- Pagamento de dívida com fornecedor: R\$ 4.000,00; e,
- Depreciação dos ativos imobilizados: R\$ 6.000,00.

Com base nas informações anteriores e no Pronunciamento CPC 03 – Demonstração dos Fluxos de Caixa, os fluxos de caixa gerados ou consumidos pelas atividades operacional, de investimento e de financiamento (em Reais), em janeiro de 2014, foram, respectivamente, de

- A) 40.000; zero; e, 58.000.
- B) 37.000; 38.000; e, 20.000.
- C) 40.000; -12.000; e, 70.000.
- D) 40.000; -32.000; e, 90.000.
- E) 37.000; -32.000; e, 90.000.

56

O Pronunciamento Técnico CPC 26 – Apresentação das Demonstrações Contábeis inclui a Demonstração do Resultado Abrangente entre o conjunto completo de demonstrações contábeis. Assinale a alternativa que inclui exemplos de contas classificadas como Outros Resultados Abrangentes.

- A) Perdas na remensuração de ativos financeiros disponíveis mantidos para negociação e perdas com equivalência patrimonial sobre o resultado.
- B) Ganhos atuariais em planos de pensão com benefício definido e ganhos derivados de conversão de demonstrações contábeis de operações no exterior.
- C) Parcela efetiva de ganhos advindos de instrumentos de *hedge* em operação de *hedge* de fluxo de caixa e ganhos com equivalência patrimonial sobre o resultado.
- D) Parcela efetiva de ganhos advindos de instrumentos de *hedge* em operação de *hedge* de fluxo de caixa e ganhos na remensuração de ativos financeiros mantidos para negociação.
- E) Parcela efetiva de perdas advindas de instrumentos de *hedge* em operação de *hedge* de fluxo de caixa e perdas na remensuração de ativos financeiros mantidos até o vencimento.

**57**

**No processo de análise das demonstrações contábeis são recomendados alguns ajustes, de modo a melhorar a eficiência da análise. Um ajuste recomendado para um analista que deseja analisar as demonstrações contábeis de 31/12/2013 de uma empresa é:**

- A) Reclassificação da conta duplicatas descontadas para o passivo.
- B) Reclassificação da conta clientes para o resultado, como receita.
- C) Reclassificação da conta despesa do exercício seguinte para o resultado.
- D) Reclassificação da conta empréstimo a diretor para o ativo não circulante.
- E) Reclassificação da conta ações em tesouraria para o patrimônio líquido, como redutora do capital social.

**58**

**A Resolução do Conselho Federal de Contabilidade nº 1.128, de 21/11/2008, aprovou a NBC T 16.1, que diz respeito à conceituação, ao objeto e ao campo de aplicação da contabilidade aplicada no setor público. De acordo com a NBC T 16.1, são objetivos da Contabilidade Aplicada ao Setor Público, EXCETO:**

- A) Proporcionar a adequada prestação de contas.
- B) Fornecer aos usuários informações sobre os resultados alcançados.
- C) Prestar o necessário suporte para a instrumentalização do controle social.
- D) Avaliar quais entidades estão administrando os recursos públicos de melhor maneira.
- E) Fornecer aos usuários informações sobre os aspectos de natureza orçamentária, econômica, financeira e física do patrimônio da entidade do setor público e suas mutações.

**59**

**Os balancetes são elaborados pelos órgãos de contabilidade e mostram o movimento e o saldo detalhado das contas contábeis. São elementos componentes do balancete de inserção obrigatória, EXCETO:**

- A) Unidade gestora.
- B) Data a que se refere.
- C) Identificação do órgão ou da entidade.
- D) Saldos dos valores dos exercícios anteriores.
- E) Identificação das contas e dos respectivos grupos.

**60**

**Entre as despesas de capital estão os investimentos, as transferências de capital e as inversões financeiras. Podem ser classificadas como inversões financeiras, as dotações destinadas à(ao)**

- A) aquisição de imóveis em utilização.
- B) planejamento e execução de obras.
- C) aquisição de bens de capital que ainda não estão sendo utilizados.
- D) aquisição de títulos representativos do capital de entidades constituídas que importe em aumento do capital.
- E) aumento do capital de entidades que visam a objetivos comerciais ou financeiros, com exceção de operações bancárias ou de seguros.

**61**

**De acordo com o art. 41 da Lei nº 4.320/64, créditos adicionais representam as autorizações de despesa não computadas ou insuficientemente dotadas na Lei de Orçamento. Os créditos adicionais destinados a despesas para as quais não existe dotação orçamentária específica são classificados como**

- A) especiais.
- B) regulares.
- C) essenciais.
- D) suplementares.
- E) extraordinários.

**62**

**Apurar os atos ou fatos inquinados de ilegais ou irregulares, praticados por agentes públicos ou privados, na utilização de recursos públicos federais e, quando for o caso, comunicar à unidade responsável pela contabilidade para as providências cabíveis é atribuição dos(as)**

- A) unidades responsáveis pelas atividades de planejamento.
- B) unidades responsáveis pelas atividades do Sistema de Contabilidade Federal.
- C) órgãos e das unidades do Sistema de Controle Interno do Poder Executivo Federal.
- D) unidades responsáveis pelas atividades do Sistema de Administração Financeira Federal.
- E) unidades responsáveis pelas atividades de elaboração das prestações de contas do governo.

63

Compete ao órgão central do sistema de controle interno federal as seguintes atribuições, EXCETO:

- A) Instituir e manter sistema de informações para o exercício das atividades finalísticas do Sistema de Controle Interno do Poder Executivo Federal.
- B) Normatizar, sistematizar e padronizar os procedimentos operacionais dos órgãos e das unidades do Sistema de Controle Interno do Poder Executivo Federal.
- C) Avaliar o cumprimento das metas estabelecidas no Plano Bienal e na Lei de Diretrizes Financeiras do Sistema de Controle Interno do Poder Executivo Federal.
- D) Exercer a supervisão técnica das atividades desempenhadas pelos órgãos e pelas unidades integrantes do Sistema de Controle Interno do Poder Executivo Federal.
- E) Coordenar as atividades que exijam ações integradas dos órgãos e das unidades do Sistema de Controle Interno do Poder Executivo Federal, com vistas à efetividade das competências que lhe são comuns.

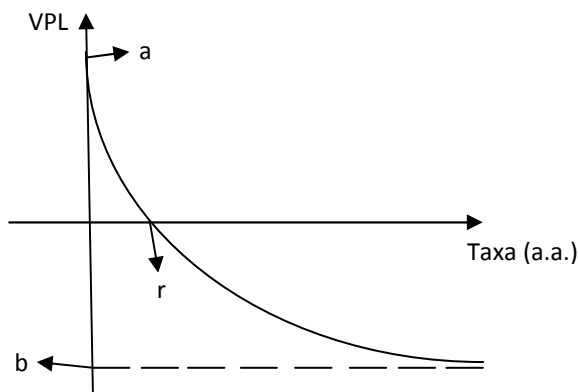
64

O órgão central do sistema de controle interno do Poder Executivo Federal é o(a)

- A) Tribunal de Contas de Controle Interno da União.
- B) Controladoria Geral de Controle Interno da União.
- C) Secretaria de Controle Interno do Tesouro Nacional.
- D) Auditoria Geral de Controle Interno do Poder Executivo Federal.
- E) Secretaria Federal de Controle Interno do Poder Executivo Federal.

65

Seja o seguinte gráfico do valor presente líquido (VPL, em R\$) de um fluxo de caixa, em função da taxa de desconto (em %, ao ano).



O termo  $a$  representa o ponto que a curva intercepta o eixo vertical e o termo  $r$  representa o ponto que a curva intercepta o eixo horizontal. A partir da análise do gráfico, assinale a alternativa que NÃO está de acordo com os conceitos de VPL, taxa interna de retorno (TIR) e/ou dos métodos de análise de investimento.

- A) A TIR é igual a  $r$ , que é a taxa de desconto que zera o VPL.
- B) O *payback* descontado é a diferença entre os valores  $a$  e  $b$ .
- C) O valor  $a$  é obtido a partir da simples soma das entradas positivas e negativas do fluxo de caixa.
- D) O projeto associado a esse fluxo de caixa pode ser escolhido se a taxa  $r$  for maior do que a taxa mínima de atratividade associada a uma alternativa a esse projeto.
- E) A partir do formato da curva do VPL, pode-se concluir que o fluxo de caixa se inicia com uma entrada negativa, que é igual a  $b$ , que é o limite do VPL quando a taxa de desconto cresce indefinidamente.

66

A estrutura de custos de uma empresa depende de um componente fixo e variável. Assim, os custos médios são a soma dos custos fixos e variáveis médios. Nesse sentido, o custo variável médio mínimo pode ser obtido

- A) na área calculada abaixo da curva de custo marginal.
- B) no mesmo ponto no qual o custo fixo médio atinge o seu menor valor.
- C) no ponto em que o custo marginal intercepta a curva de custo total médio.
- D) quando a variação de custo variável médio passa de negativa para nula, quando uma unidade adicional é produzida.
- E) como a soma do custo de produzir cada unidade adicional de um bem e multiplicando essa soma pela quantidade produzida.

67

Considerando o dispositivo constitucional previsto no art. 5º, inciso XXXVI (“a lei não prejudicará o direito adquirido, o ato jurídico perfeito e a coisa julgada”), assinale, dentre as opções a seguir, a que NÃO possui relação direta com a temática do princípio apresentado anteriormente.

- A) Decisão que declara indevida a cobrança do imposto em determinado exercício não faz coisa julgada em relação aos posteriores. (Súmula 239, do STF)
- B) A garantia da irretroatividade da lei, prevista no art. 5º, XXXVI, da CRFB, não é invocável pela entidade estatal que a tenha editado. (Súmula 654, do STF)
- C) A impetração de mandado de segurança coletivo por entidade de classe em favor dos associados independe da autorização destes. (Súmula 629, do STF)
- D) Arquivado o inquérito policial, por despacho do juiz, a requerimento do Promotor de Justiça, não pode a ação penal ser iniciada, sem novas provas. (Súmula 524, do STF)
- E) Não cabe ação rescisória por ofensa a literal disposição de lei, quando a decisão rescindenda se tiver baseado em texto legal de interpretação controvertida nos tribunais. (Súmula 343, do STF)

68

A Lei nº 8.666/93 apresenta alguns conceitos relevantes para o objeto que regulamenta (licitações e contratos da Administração Pública). Assinale a alternativa que apresenta conceito legal correto.

- A) Execução indireta: a que é feita pelos órgãos e entidades da Administração, pelos próprios meios.
- B) Serviços nacionais: serviços prestados no País ou fora dele, mas com contratante nacional, nas condições estabelecidas pelo Poder Executivo federal.
- C) Projeto básico: o conjunto dos elementos necessários e suficientes à execução completa da obra, de acordo com as normas pertinentes da Associação Brasileira de Normas Técnicas – ABNT.
- D) Administração Pública: a administração direta e indireta da União, dos Estados, do Distrito Federal e dos Municípios, abrangendo inclusive as entidades com personalidade jurídica de direito privado sob controle do poder público e das fundações por ele instituídas ou mantidas.
- E) Obra: toda atividade destinada a obter determinada utilidade de interesse para a Administração, tais como: demolição, conserto, instalação, montagem, operação, conservação, reparação, adaptação, manutenção, transporte, locação de bens, publicidade, seguro ou trabalhos técnico-profissionais.

69

“José tem um imóvel registrado, em seu nome, no Registro de Imóveis. No imóvel temos algumas construções recentes. João, que era vizinho do terreno, foi iludido por terceiro e, de boa-fé, pensou ter adquirido a propriedade do terreno, motivo pelo qual começou a construir no mesmo, sem, contudo, efetuar o registro do documento particular por ele celebrado com este terceiro. Quando voltou de viagem de férias ao exterior, José logo constatou a suposta invasão ao seu terreno e foi procurar João para saber o porquê dele estar construindo em seu imóvel.”

Considerando os dispositivos legais acerca das construções e plantações existentes no Código Civil pátrio, assinale a afirmativa correta.

- A) João é presumido como dono da construção existente no terreno de José, pois toda construção ou plantação feita no imóvel, presume-se feita pelo possuidor do boa fé.
- B) Mesmo que João consiga provar que custeou a construção, jamais vai conseguir receber o valor da mesma, já que a construção em terreno alheio, sempre, pertencerá ao proprietário, não fazendo jus a nenhuma indenização.
- C) Ainda que de boa fé e o valor da construção ultrapasse, consideravelmente, o valor do imóvel, João, mesmo que se proponha a indenizar José pelo valor do solo, jamais, nem judicialmente, poderá adquirir a propriedade do mesmo.
- D) João é presumido como dono da construção existente no terreno de José, pois toda construção ou plantação feita no imóvel, presume-se feita pelo possuidor, ainda que de má fé, cabendo a José afastar tal presunção com a prova do custeio da construção para não indenizar João.
- E) José é presumido como dono da construção, pois há em seu favor a presunção de que toda construção ou plantação feita num imóvel é feita pelo proprietário e à sua custa, sendo possível, no entanto, para João, afastar tal presunção com a prova do custeio da construção com boa fé para fins de recebimento de indenização.



70

“Joaquina impetra mandado de segurança no Tribunal de Justiça do local em que reside por ter direito líquido e certo que foi violado por abuso de autoridade da autoridade coatora envolvida na situação. Considere que, nessa hipótese, a autoridade coatora era o Governador do Estado, que possuía foro por prerrogativa de função e que, por essa razão, a competência para julgamento do *writ* era mesmo do Tribunal de Justiça local. Considere, ainda, que a impetração ocorreu tempestivamente, e que todos os requisitos de admissibilidade foram observados. Entretanto, mesmo com a observância de todos os requisitos formais, meritoriamente, foi denegatória a decisão do mandado de segurança impetrado por Joaquina.”

**Tendo em vista todos os aspectos apresentados no caso anterior, assinale a opção que indica, acertadamente, o recurso a ser interposto por Joaquina.**

- A) Recurso especial para o STJ. D) Agravo de instrumento para o STJ.  
B) Recurso ordinário para o STJ. E) Recurso extraordinário para o STF.  
C) Embargos infringentes para o STJ.

71

**São diversas as legislações brasileiras que preconizam a moralidade e a ética no serviço público, reclamando uma conduta íntegra e proba dos servidores públicos civis do Poder Executivo Federal. Desde os deveres expressos na Lei nº 8.112/1990, passando pela repreensão aos atos de improbidade baseada na Lei nº 8.429/1992 e o Código de Ética Profissional aprovado pelo Decreto nº 1.171/1994, é essa a conclusão que se extrai da leitura dos diplomas legais sobre o assunto. A respeito das disposições da última legislação citada, marque V para as afirmativas verdadeiras e F para as falsas.**

- ( ) Toda ausência injustificada do servidor de seu local de trabalho é fator de desmoralização do serviço público, o que quase sempre conduz à desordem nas relações humanas.  
( ) A omissão de publicidade de ato administrativo constitui comprometimento ético contra o bem comum, podendo esta ser admitida, contudo, exclusivamente quando ocorrer caso de interesse superior do Estado e da Administração Pública.  
( ) A função pública deve ser tida como exercício profissional e, portanto, se integra na vida particular de cada servidor público. Todavia, a intimidade do servidor é inviolável, de forma que os fatos e atos verificados na conduta do dia a dia em sua vida privada não poderão acrescer ou diminuir o seu bom conceito na vida funcional.  
( ) O atraso na prestação do serviço não caracteriza apenas atitude contra a ética ou ato de desumanidade, mas, principalmente, grave dano moral aos usuários dos serviços públicos.

**A sequência está correta em**

- A) V, V, F, F. B) V, F, V, V. C) V, F, F, V. D) F, V, F, F. E) F, F, V, V.

72

**“Em todos os órgãos e entidades da Administração Pública Federal direta, indireta autárquica e fundacional, ou em qualquer órgão ou entidade que exerça atribuições delegadas pelo poder público, deverá ser criada uma Comissão de Ética, encarregada de orientar e aconselhar sobre a ética profissional do servidor, no tratamento com as pessoas e com o patrimônio público, competindo-lhe conhecer concretamente de imputação ou de procedimento susceptível de censura”. Assim determina o Decreto nº 6.029/2007 sobre as Comissões de Ética, importantes instrumentos preconizados pelo Decreto nº 1.171/1999 e que, posteriormente, tiveram a regulamentação de algumas de suas ações por meio do diploma legal retrocitado. Acerca do assunto, assinale a alternativa INCORRETA.**

- A) Compete às Comissões de Ética atuar como instância consultiva de dirigentes e servidores no âmbito de seu respectivo órgão ou entidade.  
B) A constituição da Comissão de Ética compete às instâncias superiores dos órgãos e entidades do Poder Executivo Federal, abrangendo a administração direta e indireta.  
C) As Comissões serão integradas por três membros titulares e três suplentes, escolhidos entre servidores e empregados do seu quadro permanente, e designados pelo dirigente máximo da respectiva entidade ou órgão, para mandatos não coincidentes de três anos.  
D) Um dos princípios pelos quais devem as Comissões de Ética desenvolver seus trabalhos é a proteção à identidade do denunciante, que deverá ser mantida sob reserva até a conclusão do procedimento instaurado para apuração de prática em desrespeito às normas éticas.  
E) É dever do titular de entidade ou órgão da Administração Pública Federal, direta e indireta, assegurar as condições de trabalho para que as Comissões de Ética cumpram suas funções, inclusive para que do exercício das atribuições de seus integrantes não lhes resulte qualquer prejuízo ou dano.

73

A Lei nº 8.429, de 2 de junho de 1992, dispõe sobre as sanções aplicáveis aos agentes públicos em decorrência de atos de improbidade, os quais foram divididos em três categorias, a saber:

1. Atos de Improbidade Administrativa que Importam Enriquecimento Ilícito.
  2. Atos de Improbidade Administrativa que Causam Prejuízo ao Erário.
  3. Atos de Improbidade Administrativa que Atentam Contra os Princípios da Administração Pública.
- ( ) Permitir, facilitar ou concorrer para que terceiro se enriqueça ilicitamente.  
( ) Perceber vantagem econômica para intermediar a liberação ou aplicação de verba pública de qualquer natureza.  
( ) Frustrar a licitude de processo licitatório ou dispensá-lo indevidamente.  
( ) Frustrar a licitude de concurso público.

Assinale a sequência de códigos que corresponde corretamente às categorias em que se enquadram as condutas, na ordem em que são apresentadas e conforme a legislação mencionada.

- A) 1, 2, 2, 3.                      B) 1, 2, 3, 2.                      C) 2, 1, 2, 3.                      D) 2, 3, 1, 3.                      E) 3, 2, 2, 1.

74

“João Justo sempre buscou desempenhar suas atividades profissionais de forma escorreita e em estrita observância aos preceitos éticos. Após se tornar servidor público civil da União, contudo, não tomou a precaução básica de conhecer a legislação que regulamenta o assunto em sua nova carreira. Dez anos depois de assumir o cargo, foi surpreendido pela notificação de procedimento de investigação instaurado pelo fato de: (i) participar de gerência de sociedade privada; (ii) ter retirado de sua repartição um plano de trabalho do setor para estudo mais aprofundado em sua residência; e (iii) cometer a outro servidor atribuições estranhas ao cargo que ocupa.” Considerando o disposto na Lei nº 8.112/1990, Estatuto dos Servidores Públicos Civis da União, indique qual das justificativas podem ser consideradas como válidas para afastar a caracterização de eventual infringência ao art. 117 (das proibições ao servidor) da lei em comento.

- A) Não há proibição quanto à retirada de documentos da repartição pelo servidor, quando esta se der por motivos de aperfeiçoamento profissional.
- B) Ocorreu situação emergencial e transitória, devidamente comprovada, que justifica o cometimento a outro servidor de atribuições estranhas ao cargo que ocupa.
- C) A retirada do plano de trabalho da repartição foi previamente comunicada ao superior imediato mediante o envio de um e-mail, o que afasta, no caso, a ocorrência de conduta proibida.
- D) O Sr. João, embora de fato participe da gerência de sociedade privada, não pode ser penalizado por tal prática, pois a sociedade em questão não é personificada, sendo que a lei somente veda a participação em sociedades personificadas.
- E) Não há penalidade no cometimento a outro servidor de atribuições estranhas ao cargo que ocupa, mas, sim, no cometimento a pessoa estranha à repartição, fora dos casos previstos em lei, o desempenho de atribuição que seja de sua responsabilidade ou de seu subordinado.

75

Analise as afirmativas, que tratam acerca das penalidades disciplinares aplicáveis aos servidores públicos, consoante o que dispõe a Lei nº 8.112/90.

- I. O servidor que tenha tido contra si aplicada penalidade de suspensão terá o registro da situação cancelado caso não pratique nova infração disciplinar no decurso de cinco anos de efetivo exercício.
- II. A recusa de fé a documentos públicos é considerada falta gravíssima, devendo contra o servidor que assim agiu ser aplicada a penalidade de demissão.
- III. A acumulação ilegal de cargos públicos é penalizável com demissão, sendo que a lei prevê a possibilidade de o servidor apresentar opção no prazo improrrogável de dez dias, contados da data da ciência, após ser notificado conforme procedimento previsto em lei.
- IV. Entende-se por inassiduidade habitual a falta ao serviço, sem causa justificada, por trinta dias, interpoladamente, durante o período de doze meses.

Estão INCORRETAS apenas as afirmativas

- A) I e II.                      B) II e III.                      C) II e IV.                      D) I, III e IV.                      E) II, III e IV.

**76**

**Os preceitos da legislação afetam a Secretaria de Portos da Presidência da República, mais especificamente acerca da Lei nº 12.815/2013, defendem que a exploração dos portos organizados e instalações portuárias deve seguir determinadas diretrizes, com o objetivo de aumentar a competitividade e o desenvolvimento do País. Acerca do assunto, analise as afirmativas.**

- I. A celebração de contrato para a concessão de bem público destinado à atividade portuária deve ser sempre precedida de licitação, sendo essenciais a tal contrato, entre outras cláusulas, as referentes ao objeto, à área e ao prazo.
- II. As instalações portuárias, localizadas fora da área do porto organizado, serão exploradas mediante arrendamento, precedida de chamada ou anúncio públicos e, quando for o caso, processo seletivo público.
- III. A maior capacidade de movimentação é um dos critérios de julgamento que poderão ser considerados nas licitações dos contratos de concessão e arrendamento, as quais serão realizadas pela Agência Nacional de Transportes Aquaviários – ANTAQ.
- IV. A Lei nº 12.815/2013 traz os mesmos exemplos de critérios de julgamento que serão utilizados, de forma isolada ou combinada, no processo seletivo público para autorização de exploração e nas licitações dos contratos de concessão e arrendamento.

**Estão corretas as afirmativas**

- A) I e II.                      B) I e IV.                      C) II e III.                      D) I, III e IV.                      E) II, III e IV.

**77**

**O Decreto nº 8.088, de 2 de setembro de 2013, elenca como competências da Secretaria de Portos da Presidência da República (SEP/PR) assessorar direta e imediatamente o Presidente da República na formulação de políticas e diretrizes para o desenvolvimento e o fomento do setor de portos e instalações portuárias marítimos, fluviais e lacustres e, especialmente, promover a execução e a avaliação de medidas, programas e projetos de apoio ao desenvolvimento da infraestrutura e da superestrutura dos portos e instalações portuárias marítimos, fluviais e lacustres. Ainda, com relação às competências da Pasta previstas no referido diploma legal, é INCORRETO afirmar que**

- A) incumbe à SEP/PR participar do planejamento estratégico, estabelecer diretrizes para sua implementação e definir as prioridades dos programas de investimentos, bem como elaborar planos gerais de outorgas.
- B) quando o Brasil se fizer representado nos organismos internacionais ou em convenções, acordos e tratados referentes às competências no enunciado anterior, cabe à Secretaria de Portos estabelecer as diretrizes para tal representação.
- C) por meio da integração das políticas portuárias a políticas locais, regionais e nacionais de desenvolvimento social, econômico e ambiental, deve a SEP/PR promover a modernização, a eficiência, a competitividade e a qualidade das atividades portuárias.
- D) as companhias docas vinculadas à Secretaria têm autonomia para fixar compromissos de metas e de desempenho empresarial, todavia, é de competência da Pasta a supervisão de tais órgãos, mediante orientação, coordenação e controle de suas atividades.
- E) insere-se na esfera de competências da Secretaria desenvolver a infraestrutura e a superestrutura aquaviária dos portos e instalações portuárias sob sua esfera de atuação, com a finalidade de promover a segurança e a eficiência do transporte aquaviário de cargas e de passageiros.

**78**

**Suponha que você seja definido como responsável por conduzir a elaboração de um termo de referência para a realização de uma licitação para a concessão de bem público destinado à atividade portuária, dando especial atenção aos critérios para julgamento. Para esse trabalho, foi realizado o estudo minucioso do Decreto nº 8.033, de 27 de junho de 2013, que regulamenta o disposto na Lei nº 12.815, de 5 de junho de 2013, e as demais disposições legais que regulam a exploração de portos organizados e de instalações portuárias. Indique a seguir qual combinação de critérios NÃO pode ser considerada como válida em procedimentos licitatórios desta natureza, conforme o que preconiza o diploma legal retrocitado.**

- A) Maior capacidade de movimentação e menor tarifa.
- B) Menor tarifa e menor tempo de movimentação da carga.
- C) Maior valor de investimento e menor contraprestação do poder concedente.
- D) Menor contraprestação do poder concedente e maior capacidade de movimentação.
- E) Melhor proposta técnica, conforme critérios objetivos estabelecidos pelo poder concedente, e menor tarifa.

**79**

A licitação para a concessão e para o arrendamento de bem público destinado à atividade portuária será regida pelo disposto na Lei nº 12.815, de 2013, na Lei nº 12.462, de 4 de agosto de 2011, no Decreto nº 7.581, de 11 de outubro de 2011 (de forma subsidiária), e no Decreto nº 8.033, de 27 de junho de 2013. Acerca das disposições previstas neste último diploma legal, marque V para as afirmativas verdadeiras e F para as falsas.

- ( ) A realização dos estudos prévios de viabilidade técnica, econômica e ambiental do objeto do arrendamento ou da concessão, quando necessária, deverá observar as diretrizes do planejamento do setor portuário.
- ( ) Para a qualificação técnica nas licitações de arrendamento, o edital poderá estabelecer que o licitante assumo o compromisso de obter sua pré-qualificação como operador portuário perante a administração do porto.
- ( ) O recurso em face dos atos do julgamento da proposta ou da habilitação deverá ser dirigido à Administração do Porto, por intermédio da comissão de licitação, que apreciará sua admissibilidade.
- ( ) O poder concedente poderá anular o procedimento, no todo ou em parte, por vício insanável, mesmo após exauridos os recursos administrativos, não cabendo recursos contra tal decisão.

**A sequência está correta em**

- A) V, V, F, F.                      B) V, F, V, V.                      C) V, F, V, F.                      D) F, V, F, F.                      E) F, F, V, V.

**80**

Considere a situação hipotética em que seja necessário realizar a cessão onerosa, para exploração por prazo determinado, de área e infraestrutura públicas localizadas dentro do porto organizado, este entendido como o bem público construído e aparelhado para atender às necessidades de navegação, de movimentação de passageiros ou de movimentação e armazenagem de mercadorias, e cujo tráfego e operações portuárias estejam sob jurisdição de autoridade portuária. Segundo a Lei nº 12.815, de 5 de junho de 2013, que dispõe sobre a exploração direta e indireta pela União de portos e instalações portuárias e sobre as atividades desempenhadas pelos operadores portuários, tal cessão deverá se dar por meio de

- A) delegação.                      B) concessão.                      C) exploração.                      D) autorização.                      E) arrendamento.







## INSTRUÇÕES

1. Material a ser utilizado: caneta esferográfica de tinta azul ou preta. Os objetos restantes devem ser colocados em local indicado pelo fiscal da sala, inclusive aparelho celular desligado e devidamente identificado.
2. Não é permitida, durante a realização das provas, a utilização de máquinas calculadoras e/ou similares, livros, anotações, impressos ou qualquer outro material de consulta, protetor auricular, lápis, borracha, corretivo. Especificamente, não é permitido que o candidato ingresse na sala de provas sem o devido recolhimento, com respectiva identificação, dos seguintes equipamentos: *bip*, telefone celular, *walkman*, agenda eletrônica, *notebook*, *palmtop*, *ipad*, *ipod*, *tablet*, *smartphone*, mp3, mp4, receptor, gravador, calculadora, câmera fotográfica, controle de alarme de carro, relógio de qualquer modelo etc.
3. Durante a prova, o candidato não deve levantar-se, comunicar-se com outros candidatos e nem fumar.
4. A duração da prova é de 04 (quatro) horas, já incluindo o tempo destinado à entrega do Caderno de Provas e à identificação – que será feita no decorrer da prova – e ao preenchimento do Cartão de Respostas (Gabarito).
5. Somente em caso de urgência pedir ao fiscal para ir ao sanitário, devendo no percurso permanecer absolutamente calado, podendo antes e depois da entrada sofrer revista através de detector de metais. Ao sair da sala no término da prova, o candidato não poderá utilizar o sanitário. Caso ocorra uma emergência, o fiscal deverá ser comunicado.
6. O Caderno de Provas consta de 80 (oitenta) itens. Leia-o atentamente.
7. **Os itens das provas objetivas são do tipo múltipla escolha, com 05 (cinco) opções (A a E) e uma única resposta correta.**
8. Ao receber o material de realização das provas, o candidato deverá conferir atentamente se o Caderno de Provas corresponde ao cargo a que está concorrendo, bem como se os dados constantes no Cartão de Respostas (Gabarito) que lhe foi fornecido estão corretos. Caso os dados estejam incorretos, ou o material esteja incompleto, ou tenha qualquer imperfeição, o candidato deverá informar tal ocorrência ao fiscal.
9. Os fiscais não estão autorizados a emitir opinião e prestar esclarecimentos sobre o conteúdo das provas. Cabe única e exclusivamente ao candidato interpretar e decidir.
10. O candidato poderá retirar-se do local de provas somente a partir dos 90 (noventa) minutos após o início de sua realização, contudo não poderá levar consigo o Caderno de Provas, sendo permitida essa conduta apenas no decurso dos últimos 30 (trinta) minutos anteriores ao horário previsto para o seu término.
11. Os 3 (três) últimos candidatos de cada sala somente poderão sair juntos. Caso o candidato insista em sair do local de aplicação das provas, deverá assinar um termo desistindo do Concurso Público e, caso se negue, deverá ser lavrado Termo de Ocorrência, testemunhado pelos 2 (dois) outros candidatos, pelo fiscal da sala e pelo coordenador da unidade.

## RESULTADOS E RECURSOS

- As provas aplicadas, assim como os gabaritos preliminares das provas objetivas serão divulgados na *Internet*, no site **[www.idecan.org.br](http://www.idecan.org.br)**, a partir das 16h00min do dia subsequente ao da realização das provas.
- O candidato que desejar interpor recursos contra os gabaritos oficiais preliminares das provas objetivas disporá de **02 (dois) dias úteis**, a partir do dia subsequente à divulgação, em requerimento próprio disponibilizado no *link* correlato ao Concurso Público no site **[www.idecan.org.br](http://www.idecan.org.br)**.
- A interposição de recursos deverá ser feita **via Internet**, através do **Sistema Eletrônico de Interposição de Recursos**, com acesso pelo candidato ao fornecer dados referentes à sua inscrição apenas no prazo recursal, ao **IDECAN**, conforme disposições contidas no site **[www.idecan.org.br](http://www.idecan.org.br)**, no *link* correspondente ao Concurso Público.