

# Câmara Municipal da Serra – Espírito Santo

## CONCURSO PÚBLICO Nº 001/2014



## Agente de Apoio Legislativo

**Tarde**

Organizadora:



**CARGO: AGENTE DE APOIO LEGISLATIVO**

**A importância do animal de estimação**

Os animais domésticos são, sem dúvida, grandes companheiros e fazem muito bem a todos (crianças e adultos). Para os adultos, especialmente os que vivem sozinhos, os animais são como um membro da família, suprimindo as necessidades de afeto e atenção que os animais sabem nos dar como ninguém. Para as crianças, então, além de companheiros de todas as horas, os animais ainda servem de aprendizado, pois mostram de forma acelerada as fases principais da vida (nascer, crescer, adoecer, sofrer acidentes “se não se cuidar”, morrer). Enfim, estas fases são mais aceleradas nos animais e a criança acaba conhecendo-as através deles. Além disso, os animais tornam seus donos mais responsáveis, visto que precisam de constantes cuidados e isso desenvolve a responsabilidade.

Mas nem tudo é alegria. Há uns fatores que devem ser analisados antes de adquirir (ou adotar) um animal de estimação. O primeiro fator a ser considerado é se há alguém na família que tenha alergia (rinite, asma, bronquite). Para o alérgico é impossível conviver com um gato, cachorro ou mesmo passarinho, pois pelos e penas irão provocar-lhe crises. Então, neste caso, a pessoa poderá manter um aquário com peixinhos ou uma tartaruga ou qualquer outro animal que não lhe dê alergia.

Outro fator importante é a idade das crianças que conviverão com o animal. Claro que cada criança tem seu tempo e amadurece numa fase só sua, mas a idade considerada ideal para ganhar seu primeiro bichinho de estimação é entre os seis e sete anos. Nesta idade, a criança já está familiarizada com a escola, já é mais sociável, já pode entender suas responsabilidades em relação ao presente que está ganhando, tem condições de entender que não poderá maltratar o bichinho nem apertá-lo muito num carinho sufocante (e isso é próprio das crianças e até de alguns adultos que excedem na força de seus carinhos), e também da responsabilidade com a higiene e alimentação do animal. Também nesta idade será fácil para ela entender que deverá cuidar-se para evitar que o bichinho, sem querer, a machuque, principalmente no caso de gatos e cachorros que, envolvidos em brincadeiras, acabam mordendo ou arranhando seus donos.

Bem, analisando-se todos esses fatores, resta concluir que, apesar do trabalho e da constante atenção que os animais nos exigem, eles retribuem nossa atenção como ninguém e são, sem dúvida, nossos melhores amigos, companheiros nos momentos de alegria, solidários nas horas difíceis, sempre dispostos a nos acolher e dividir conosco todos os momentos. Cada animal que passa por nossa vida nos traz um conhecimento, um ensinamento e nos faz crescer. Aprendemos muito com eles. E, neste aprendizado, fica sempre uma boa lição. Meu último gatinho, por exemplo, ensinou-me a escolher melhor meus amigos... Ironicamente, ele ensinou-me em seus nove meses de vida, muito mais do que aprendi a vida toda em relação aos amigos. Então, se prestarmos atenção, veremos que os animais de estimação são, além de companheiros, excelentes professores da matéria vida!

*(Disponível em: [http://www.vaniadiniz.pro.br/espaco\\_ecos/psicologia\\_lou/animal\\_de\\_estimacao.htm](http://www.vaniadiniz.pro.br/espaco_ecos/psicologia_lou/animal_de_estimacao.htm). Adaptado.)*

**01**

**De acordo com o texto, sobre os animais de estimação, assinale a afirmativa INCORRETA.**

- A) Tornam seus donos mais responsáveis.
- B) São domesticados e devem ser mantidos somente como companhia.
- C) São como um membro da família, suprimindo as necessidades de afeto e atenção.
- D) Mostram de forma acelerada as fases principais da vida (nascer, crescer, adoecer, sofrer acidentes “se não se cuidar”, morrer).

**02**

**Segundo as ideias do texto, é INCORRETO afirmar que**

- A) se aprende muito com os animais de estimação.
- B) por volta dos cinco anos, a criança aprende a ter cuidado e empatia pelos bichos de estimação.
- C) há alguns fatores que devem ser analisados antes de adquirir (ou adotar) um animal de estimação.
- D) cada animal que passa por nossa vida nos traz um conhecimento, um ensinamento e nos faz crescer.

**03**

**Assinale a afirmativa, transcrita do texto, que expressa ideia de tempo.**

- A) “Os animais domésticos são, sem dúvida, grandes companheiros...” (1º§)
- B) “Cada animal que passa por nossa vida nos traz um conhecimento...” (4º§)
- C) “Outro fator importante é a idade das crianças que conviverão com o animal.” (3º§)
- D) “Enfim, estas fases são mais aceleradas nos animais e a criança acaba conhecendo-as através deles.” (1º§)

04

No trecho “Para os adultos, especialmente os que vivem sozinhos, os animais são como um membro da família, suprindo as necessidades de afeto e atenção que os animais sabem nos dar como ninguém.” (1º§), a palavra destacada exprime circunstância de

- A) modo. B) tempo. C) dúvida. D) exclusão.

05

Em “Meu último gatinho, por exemplo, ensinou-me a escolher melhor meus amigos...” (4º§), as reticências (...) foram utilizadas para

- A) exprimir surpresa. C) marcar pausa de curta duração.  
B) realçar uma expressão. D) indicar a continuidade de uma ação ou fato.

06

No trecho “Mas nem tudo é alegria.” (2º§), a palavra destacada expressa ideia de

- A) causa. B) escolha. C) oposição. D) proporção.

07

De acordo com a classe de palavras, assinale a alternativa que apresenta a relação INCORRETA.

- A) “Aprendemos muito com eles.” (4º§) – verbo  
B) “Além disso, os animais tornam seus donos mais responsáveis...” (1º§) – conjunção  
C) “Outro fator importante é a idade das crianças que conviverão com o animal.” (3º§) – adjetivo  
D) “Enfim, estas fases são mais aceleradas nos animais e a criança acaba conhecendo-as através deles.” (1º§) – pronome

08

No trecho “Bem, analisando-se todos esses fatores, resta concluir que, apesar do trabalho e da constante atenção que os animais nos exigem, eles retribuem nossa atenção como ninguém e são, sem dúvida, nossos melhores amigos, companheiros nos momentos de alegria, solidários nas horas difíceis, sempre dispostos a nos acolher e dividir conosco todos os momentos.” (4º§), as palavras destacadas podem ser substituídas, sem alteração de sentido, respectivamente, por

- A) precisam e envolvidos. C) convivem e desenvolvidos.  
B) excedem e constantes. D) recompensam e preparados.

09

Assinale, a seguir, o par de palavras transcritas do texto que são acentuadas pelo mesmo motivo.

- A) já – sociável C) matéria – família  
B) último – além D) alguém – domésticos

10

No trecho “Então, se prestarmos atenção, veremos que os animais de estimação são, além de companheiros, excelentes professores da matéria vida!” (4º§), a palavra em destaque significa

- A) amigos. B) afetuosos. C) importantes. D) responsáveis.

### RACIOCÍNIO LÓGICO

11

A razão entre o número de ovos brancos e vermelhos que se encontra em uma cesta é igual a 3/5. Quantos ovos há nesta cesta, se 15 deles são brancos?

- A) 20. B) 24. C) 35. D) 40.

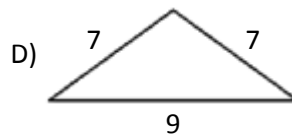
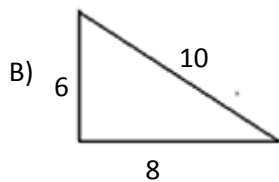
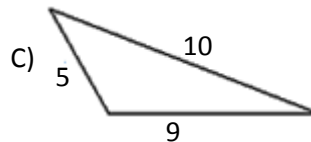
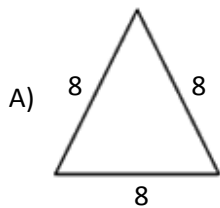
12

As páginas de um livro, cujas somas dos algarismos é igual a 10, não possuem texto. Se o livro tem 80 páginas, quantas são as páginas com texto?

- A) 71. B) 72. C) 73. D) 74.

13

Analise os perímetros do grupo de triângulos e assinale aquele que NÃO pertence ao grupo.



14

Cada símbolo na tabela está associado a uma letra. Observe:

Δ	Ω	♫	♠	♂	☺	☀	♣	♀	%
C	R	T	A	U	P	O	S	N	E

Assinale a alternativa em que a sequência de símbolos representa o nome de um planeta.

- A) ♂ Ω ♀ ♠ ♣      B) ♫ % Ω ♀ ☀      C) ♠ ♠ ♫ ♂ Ω ♀ ♀ ☀      D) ☺ ♠ Ω % ♀ ♫ %

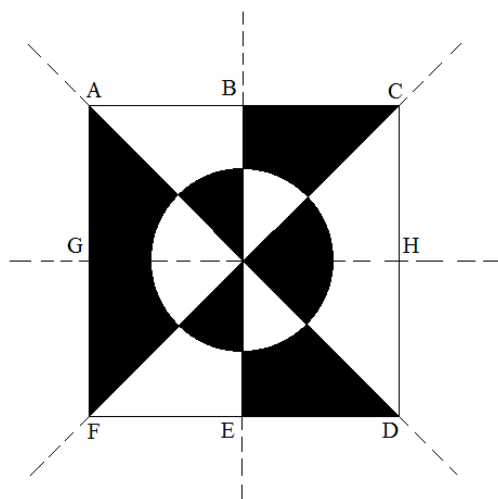
15

Sejam os conjuntos  $A = \{2, 3, 7, 8, 11, 13\}$  e  $B = \{1, 4, 7, 9, 11, 15\}$ . É correto afirmar que

- A) o conjunto  $A \cup B$  possui 9 elementos.  
 B) o conjunto  $B - A$  possui 4 elementos.  
 C) o menor elemento do conjunto  $A - B$  é um número ímpar.  
 D) a soma dos elementos do conjunto  $A \cap B$  é um número ímpar.

16

Observe a figura a seguir:



É correto afirmar que o eixo de simetria dessa figura é a reta que passa pelos pontos

- A) A e D.      B) G e H.      C) B e E.      D) C e F.

17

Sabe-se que para percorrer uma distância de 20 km, um automóvel gasta 15 minutos. Mantendo a mesma velocidade, a distância que esse automóvel percorrerá em 27 minutos será

- A) 36 km.      B) 38 km.      C) 40 km.      D) 42 km.

18

Qual dos objetos a seguir NÃO pertence ao grupo?

- A) Pregoeiro. B) Alicates. C) Martelo. D) Chave de fenda.

19

Observe a sequência de letras a seguir:

ABEFIJMN...

A nona e a décima letra dessa sequência são

- A) PQ. B) QR. C) OP. D) RS.

20

Beatriz e Carla são amigas e nasceram no mesmo ano, sendo este bissexto. Sabe-se que Beatriz nasceu no último dia do mês de fevereiro, que caiu num sábado. Em que dia da semana nasceu Carla, que faz aniversário no dia primeiro de janeiro?

- A) Terça-feira. B) Quarta-feira. C) Quinta-feira. D) Sexta-feira.

### CONHECIMENTOS GERAIS

21

A polêmica em torno da construção da usina de Belo Monte, na Bacia do Rio Xingu, já dura mais de 20 anos. Entre muitas idas e vindas, a hidrelétrica de Belo Monte, hoje, considerada a maior obra do Programa de Aceleração do Crescimento (PAC), do governo federal, vem sendo alvo de intensos debates na região, desde 2009, quando foi apresentado o novo Estudo de Impacto Ambiental (EIA), intensificando-se a partir de fevereiro de 2010, quando o Ministério do Meio Ambiente concedeu a licença ambiental prévia para sua construção.

(Disponível em: <http://www.socioambiental.org/esp/bm/index.asp>. Adaptado.)

As usinas hidrelétricas geram energia por meio do aproveitamento da força das águas de um rio. Sobre os principais impactos causados pela construção de hidrelétricas, marque V para as afirmativas verdadeiras e F para as falsas.

- ( ) Ocorre inundação de extensas áreas de florestas e de produção de alimentos durante sua instalação.  
( ) Ocorre alteração na dinâmica de funcionamento dos rios.  
( ) Muitas vezes, há necessidade de deslocamento de cidades, povoados ou comunidades indígenas.

A sequência está correta em

- A) F, F, F. B) F, F, V. C) V, F, V. D) V, V, V.

22

O procurador-geral da República, Rodrigo Janot, instaurou um Procedimento Preparatório Eleitoral (PPE) para apurar se houve discurso de ódio nas declarações do candidato do PRTB à Presidência da República, *Levy Fidelix*, que afirmou que homossexuais são uma minoria que deve ser “enfrentada”. Em documento, Janot pede que o presidenciável se explique no prazo de até 24 horas.

(Disponível em: <http://g1.globo.com/politica/eleicoes/2014/noticia/2014/10/pgr-instaura-procedimento-e-pede-que-fidelix-explique-fala-sobre-gays.html>. Acesso em: 02/10/14. Adaptado.)

Qual o termo usado para designar a repulsa ou o preconceito contra homossexuais?

- A) Hobofobia. B) Homofobia. C) Batracofobia. D) Claustrofobia.

23

O consumo de energia está aumentando no Brasil e no mundo, exigindo um uso maior de fontes não renováveis e poluentes. Sobre o uso das fontes não renováveis e poluentes no mundo, analise.

- I. O aumento do consumo de energia, especialmente de carvão mineral pela China e Índia, ameaça anular os esforços para reduzir a emissão de gases ligados ao efeito estufa.  
II. Os Estados Unidos são o maior produtor de energia nuclear, seguidos por França, Rússia, Coreia do Sul, Alemanha e Japão.  
III. Segundo o balanço anual de energia no mundo, em 2014, da empresa britânica *British Petroleum*, a produção diária de petróleo está além das necessidades e os preços devem abaixar.

Está(ão) correta(s) a(s) afirmativa(s)

- A) I, II e III. B) I, apenas. C) I e II, apenas. D) II e III, apenas.

24

“Criada em 2012, visa investigar violações de direitos humanos entre 1946 e 1988. Com seu trabalho focado na apuração dos crimes cometidos por agentes da Ditadura Militar (1964-1985), seu prazo de duração irá até dezembro deste ano.” Trata-se da

- A) Comissão da Anistia. C) Comissão Nacional da Verdade.  
B) Comissão de Assuntos Sociais. D) Comissão Intergestores Bipartite.

25

Três décadas após o movimento das Diretas Já (movimento popular ocorrido em 1983 e 1984 pela volta das eleições diretas para Presidente da República), que reuniu multidões, o Brasil já teve seis Presidentes que deram novos destinos ao país. Qual foi o primeiro Presidente eleito pelo voto direto depois da redemocratização do Brasil?

- A) José Sarney. B) Itamar Franco. C) Fernando Collor. D) Tancredo Neves.

26

Em janeiro de 2014, a Presidente Dilma Rousseff participou da inauguração do Porto de Mariel, em Cuba, juntamente com o presidente cubano, Raúl Castro. Trata-se de um dos maiores projetos do governo cubano para dinamizar a economia do país. Única nação comunista do continente americano, há 52 anos, Cuba enfrenta um bloqueio comercial e financeiro imposto por qual país?

- A) China. B) Argentina. C) Venezuela. D) Estados Unidos.

27

O racismo está crescendo: o relator da ONU, encarregado de avaliar a discriminação no mundo, *Doudou Diène*, diz que o preconceito é cada vez maior em muitos países e que no Brasil ele está profundamente arraigado em toda a sociedade.

(Disponível em: <http://racabrasil.uol.com.br/edicoes/93/artigo12649-1.asp/>.)

Sobre um dos símbolos mundiais da luta contra a segregação racial Nelson Mandela, morto em 2013, analise.

I. Ficou preso por quase três décadas pela luta para derrubar o *Apartheid* – regime de segregação racial.

II. Também era chamado de “Madiba”, em referência ao nome do clã ao qual pertencia.

III. Foi o primeiro presidente negro da África do Sul.

Está(ão) correta(s) a(s) afirmativa(s)

- A) I, II e III. B) I, apenas. C) III, apenas. D) I e III, apenas.

28

O Prêmio Nobel de Fisiologia ou Medicina de 2014 foi oferecido em outubro deste ano, pelo Instituto Karolinska, em Estocolmo, aos pesquisadores *John O’Keefe*, *May-Britt Moser* e *Edvard Moser* pela descoberta

- A) de células que formam um sistema de posicionamento no cérebro humano, uma espécie de GPS interno.  
B) do chamado *Bóson de Higgs* – ou a “partícula de Deus” –, que seria a origem de toda matéria existente no universo.  
C) da primeira substância química capaz de prevenir a morte do tecido cerebral em uma doença que causa degeneração dos neurônios.  
D) de células de pele ou sangue, as chamadas “células pluripotentes”, que possuem o potencial de se tornar em qualquer tipo de célula existente no organismo.

29

A presidente Dilma Rousseff defendeu em setembro deste ano, na Cúpula do Clima, um esforço global para ampliar investimentos no combate às mudanças climáticas e disse que o Brasil é um exemplo de que crescimento econômico e preservação ambiental não são contraditórios. A cúpula, convocada pelo secretário-geral da Organização das Nações Unidas (ONU), *Ban Ki-moon*, ocorreu na sede da entidade, em Nova York, a um dia da 69ª Assembleia Geral. Apesar da defesa de investimentos globais, Dilma destacou o princípio das “responsabilidades comuns, porém diferenciadas”, que guia a negociação climática na ONU. Ela lembrou que os países desenvolvidos cresceram com base em economias sustentadas por altas emissões de gases de efeito estufa.

(Disponível em: <http://www.jb.com.br/economia/noticias/2014/09/23/combate-as-mudancas-climaticas-nao-e-danoso-a-economia-diz-dilma-na-onu/>. Acesso em: 23/09/2014. Adaptado.)

Qual o único acordo global em vigor para reduzir a emissão de gases do efeito estufa?

- A) Agenda 21. C) Protocolo de Kyoto.  
B) Convenção OSPAR. D) Protocolo de Annapolis.

**30**

O percentual de idosos cresce porque o declínio da taxa de fertilidade (número de médio de filhos que uma mulher tem ao longo da vida) convive com a longevidade, resultado de melhorias, principalmente na saúde. Assim nascem menos crianças e vive-se mais tempo. São fatores que contribuem para a queda na taxa de fertilidade, EXCETO:

- A) Falta de planejamento familiar.
- B) Aumento da escolarização, especialmente da mulher.
- C) Presença crescente da mulher no mercado de trabalho.
- D) Disseminação de métodos contraceptivos, como a pílula anticoncepcional.

**CONHECIMENTOS ESPECÍFICOS**

**31**

Dentre muitas definições para arquivo, pode-se considerar que “arquivo é toda coleção de documentos conservados, visando a utilidade que poderão oferecer futuramente”.

*(Belloto, 2004.)*

**Em relação aos arquivos, assinale a afirmativa INCORRETA.**

- A) Podem ser classificados, segundo as entidades mantenedoras, entre públicos e privados.
- B) A função administrativa de um documento está associada ao documento ter um objetivo funcional na empresa ou instituição.
- C) Segundo o conceito do ciclo de vida dos documentos, podem ser classificados em três idades como seguem: 1ª idade ou corrente; 2ª idade ou intermediária; e, 3ª idade ou permanente.
- D) Acerca das diferenças entre arquivo e biblioteca, os documentos de arquivos são produzidos e conservados com objetivos culturais, ao passo que os de biblioteca têm como característica maior os objetivos funcionais.

**32**

**Analise as afirmativas.**

- I. O telegrama é um tipo de correspondência com objetivo de uma comunicação rápida. Por ser uma comunicação de caráter de urgência é útil em cumprimentos, congratulações, felicitações e pêsames.
- II. A circular é uma correspondência multidirecional, ou seja, o meio pelo qual se dirige, ao mesmo tempo, a várias repartições ou pessoas.
- III. O memorando é um tipo de comunicação interna entre unidades administrativas de um mesmo órgão, que podem estar hierarquicamente em mesmo nível ou em níveis diferentes.
- IV. Os ofícios correspondem a um tipo de correspondência interna.
- V. O requerimento é um tipo de correspondência que pode ser utilizado por pessoas ou empresas, sendo dirigido sempre à autoridade pública.

**Estão corretas as afirmativas**

- A) I, II, III, IV e V.
- B) I, II e III, apenas.
- C) I, IV e V, apenas.
- D) I, II, III e V, apenas.

**33**

**Visando manter um bom relacionamento humano e, principalmente no ambiente de trabalho, são atitudes que devem ser destacadas, EXCETO:**

- A) Mostrar boa vontade.
- B) Respeitar a individualidade de cada um.
- C) Utilizar palavras de cortesia, como, por exemplo, “por favor” e “obrigado”.
- D) Fazer comentários constrangedores e inconvenientes com o intuito de descontrair o ambiente.

**34**

**Analise as afirmativas.**

- I. O planejamento é um tipo de processo administrativo realizado continuamente dentro da empresa.
- II. Uma equipe de trabalho caracteriza-se por apresentar competitividade e individualismo.
- III. O processo administrativo é caracterizado por: planejamento, organização, direção, controle e planejamento estratégico.
- IV. O diálogo é um fator positivo de um líder para garantir o bom relacionamento interpessoal.

**Estão corretas as afirmativas**

- A) I, II, III e IV.
- B) I e II, apenas.
- C) I e IV, apenas.
- D) I, III e IV, apenas.

35

Do ponto de vista ético, os valores são os fundamentos da moral, das normas e regras que prescrevem a conduta correta...

(Japiassul e Marcondes, 1996.)

Analise as afirmativas.

- I. No setor público, o desenvolvimento de uma cultura ética conduzirá à democracia efetiva.
- II. No setor público, os assuntos éticos, a cidadania e a democracia referem-se àqueles que são responsáveis por coordenar o trabalho dos servidores.
- III. Os valores podem ser considerados como qualidades ou significações que fazem parte da nossa vida.
- IV. Todas as pessoas podem e devem auxiliar umas às outras na formação da consciência ética.

Estão corretas as afirmativas

- A) I, II, III e IV.
- B) I e IV, apenas.
- C) II e IV, apenas.
- D) I, III e IV, apenas.

36

Sobre as rotinas de correspondências, assinale a afirmativa INCORRETA.

- A) Microfilmagem e digitalização não são atividades atribuídas ao setor de protocolo.
- B) Atender às demandas externas de consulta aos documentos é uma das atividades inerentes ao setor de protocolo de uma empresa.
- C) Caracteriza-se por uma das atividades de protocolo o controle da tramitação dos documentos pelos vários setores de uma organização.
- D) Nos serviços de protocolo, os elementos utilizados para o registro de documentos são pontos de referência retirados dos próprios documentos em questão.

Analise a imagem para responder às questões 37 e 38.

	A	B	C	D
1	2	3	2	
2	5	2	5	
3	7	1	7	
4	2	4	1	
5	1	5	2	
6				
7				

37

Utilizando o Microsoft Office Excel 2007 (configuração padrão), caso seja inserida a fórmula =SOMA(A1:C5) na célula A6, qual valor será retornado?

- A) 49.
- B) 50.
- C) 51.
- D) 63.

38

Ao inserir na célula A6 a fórmula =MODO(A1:C5), qual valor será retornado?

- A) 2.
- B) 5.
- C) 7.
- D) 49.

39

Assinale a alternativa que apresenta todos os modos de exibição de documento contidos na Guia Exibição, no Microsoft Word 2007 (configuração padrão).

- A) Layout de Impressão / Leitura em Tela Inteira.
- B) Layout da Web / Estrutura de Tópicos / Rascunho.
- C) Layout de Impressão / Leitura em Tela Inteira / Layout da Web / Estrutura de Tópicos / Exibição.
- D) Layout de Impressão / Leitura em Tela Inteira / Layout da Web / Estrutura de Tópicos / Rascunho.



40

Usando o *Microsoft Word 2007* (configuração padrão), em qual das guias está a funcionalidade **Orientação da Página**?

A) Início.

B) Exibição.

C) Referências.

D) *Layout* da Página.

## INSTRUÇÕES

1. Material a ser utilizado: caneta esferográfica de tinta azul ou preta. Os objetos restantes devem ser colocados em local indicado pelo fiscal da sala, inclusive aparelho celular desligado e devidamente identificado.
2. Não é permitida, durante a realização das provas, a utilização de máquinas calculadoras e/ou similares, livros, anotações, impressos ou qualquer outro material de consulta, protetor auricular, lápis, borracha ou corretivo. Especificamente, não é permitido que o candidato ingresse na sala de provas sem o devido recolhimento, com respectiva identificação, dos seguintes equipamentos: *bip*, telefone celular, *walkman*, agenda eletrônica, *notebook*, *palmtop*, *ipad*, *ipod*, *tablet*, *smartphone*, mp3, mp4, receptor, gravador, calculadora, câmera fotográfica, controle de alarme de carro, relógio de qualquer modelo etc.
3. Durante a prova, o candidato não deve levantar-se, comunicar-se com outros candidatos e fumar.
4. A duração da prova é de 04 (quatro) horas, já incluindo o tempo destinado à entrega do Caderno de Provas e à identificação – que será feita no decorrer da prova – e ao preenchimento do Cartão de Respostas (Gabarito) e Folha de Texto Definitivo (Prova Escrita Discursiva – somente para o cargo de Procurador).
5. Somente em caso de urgência pedir ao fiscal para ir ao sanitário, devendo no percurso permanecer absolutamente calado, podendo antes e depois da entrada sofrer revista através de detector de metais. Ao sair da sala no término da prova, o candidato não poderá utilizar o sanitário. Caso ocorra uma emergência, o fiscal deverá ser comunicado.
6. O Caderno de Provas consta de 40 (quarenta) questões de múltipla escolha. Leia-o atentamente.
7. **As questões das provas objetivas são do tipo múltipla escolha, com 04 (quatro) opções (A a D) e uma única resposta correta.**
8. Será aplicada somente para o cargo de Procurador, Prova Escrita Discursiva, de caráter eliminatório e classificatório, constituída de **1 (um) estudo de caso**.
9. Ao receber o material de realização das provas, o candidato deverá conferir atentamente se o Caderno de Provas corresponde ao cargo a que está concorrendo, bem como se os dados constantes no Cartão de Respostas (Gabarito) e Folha de Texto Definitivo (Prova Escrita Discursiva – somente para o cargo de Procurador) que lhe foram fornecidos estão corretos. Caso os dados estejam incorretos, ou o material esteja incompleto, ou tenha qualquer imperfeição, o candidato deverá informar tal ocorrência ao fiscal.
10. Os fiscais não estão autorizados a emitir opinião e prestar esclarecimentos sobre o conteúdo das provas. Cabe única e exclusivamente ao candidato interpretar e decidir.
11. O candidato poderá retirar-se do local de provas somente a partir dos 90 (noventa) minutos após o início de sua realização, contudo, não poderá levar consigo o Caderno de Provas, sendo permitida essa conduta apenas no decurso dos últimos 30 (trinta) minutos anteriores ao horário previsto para o seu término.
12. Os 3 (três) últimos candidatos de cada sala somente poderão sair juntos. Caso o candidato insista em sair do local de aplicação das provas, deverá assinar um termo desistindo do Concurso Público e, caso se negue, deverá ser lavrado Termo de Ocorrência, testemunhado pelos 2 (dois) outros candidatos, pelo fiscal da sala e pelo Coordenador da Unidade.

## RESULTADOS E RECURSOS

- As provas aplicadas, assim como os gabaritos preliminares das provas objetivas serão divulgados na *Internet*, no site **[www.idecan.org.br](http://www.idecan.org.br)**, a partir das 16h00min do dia subsequente ao da realização das provas.
- O candidato que desejar interpor recursos contra os gabaritos oficiais preliminares das provas objetivas disporá de **02 (dois) dias úteis**, a partir do dia subsequente à divulgação, em requerimento próprio disponibilizado no *link* correlato ao Concurso Público no endereço eletrônico **[www.idecan.org.br](http://www.idecan.org.br)**.
- A interposição de recursos poderá ser feita somente via *Internet*, através do Sistema Eletrônico de Interposição de Recursos, com acesso pelo candidato ao fornecer dados referentes à sua inscrição apenas no prazo recursal, ao IDECAN, conforme disposições contidas no site **[www.idecan.org.br](http://www.idecan.org.br)**, no *link* correspondente ao Concurso Público.