

# Prefeitura Municipal de Apiacá/ES

## CONCURSO PÚBLICO Nº 001/2016



### Motorista D

### Manhã

Organizadora:



**Parentes ainda resistem em autorizar doação de órgãos**

Poucas pessoas sabem, mas o Brasil é destaque no contexto mundial de doação de órgãos e tecidos, principalmente por ter o maior sistema público de transplantes do mundo. Porém, a alta taxa de recusa familiar para doação de órgãos é um problema grave no país. Dados do Ministério da Saúde apontam que mais de 40% da população brasileira não aceita doar órgãos de parentes falecidos com diagnóstico de morte cerebral, principalmente nas regiões Centro-Oeste, Norte e Nordeste do país.

Na opinião do médico Leonardo Borges de Barros e Silva, coordenador da Organização de Procura de Órgãos do Hospital das Clínicas da FMUSP (Faculdade de Medicina da Universidade de São Paulo), os motivos para a recusa familiar são diversos: desde crenças religiosas até o desconhecimento e não aceitação da morte encefálica, que faz com que muitos familiares acreditem que o fato de o ente querido manter o corpo quente e o coração batendo seja um indicativo de que ele sobreviverá.

Realmente, para a grande maioria das pessoas, é muito difícil diferenciar um corpo em morte cerebral de um corpo em sono profundo na cama de um hospital: em ambos, o abdômen se move normalmente na respiração, os batimentos cardíacos aparecem no monitor e há urina no recipiente plástico. A temperatura também permanece normal.

“O diagnóstico de morte encefálica – conhecida também como morte cerebral – é irreversível, ou seja, o paciente perde todas as funções vitais, como a consciência e capacidade de respirar. O coração permanece batendo e os demais órgãos, funcionando. Com exceção das córneas, pele, ossos, vasos e valvas do coração, é somente nessa situação que os órgãos podem ser utilizados para transplante”, observa o especialista.

O que acontece é que enquanto o coração tem oxigênio, ele pode continuar a bater. O ventilador providencia esse suporte por várias horas. Sem o socorro artificial, o coração deixaria de bater.

O consentimento informado é a forma oficial de manifestação à doação. A retirada de tecidos, órgãos e partes do corpo de pessoas falecidas para transplantes ou outra finalidade terapêutica depende da autorização do cônjuge ou parente maior de idade, obedecida a linha sucessória, firmada em documento subscrito por duas testemunhas presentes à verificação da morte.

“Evidentemente, a manifestação em vida da pessoa a favor ou contra a doação de seus órgãos e tecidos para transplante pode ou não favorecer o consentimento após a morte, mas, de acordo com a lei, é a vontade da família que deve prevalecer”, explica o médico Leonardo Borges de Barros e Silva.

De acordo com números do Ministério da Saúde, em 2015, mais de 23 mil transplantes foram realizados no Brasil, sendo a córnea o tecido mais transplantado. No ano passado, o transplante de rins foi o mais realizado, seguido pelos de fígado, coração e pulmão. Mas, enquanto algumas famílias ainda têm receio de autorizar a doação dos órgãos de parentes falecidos, cerca de 40 mil pessoas, entre crianças e adultos, estão na fila de espera por um transplante no Brasil.

*(CONTE, Juliana. Informações da Agência Ex Libris Comunicação Integrada e Ministério da Saúde. Publicado em: 21/06/2016. Adaptado.)*

**01**

**O texto tem como objetivo principal informar sobre**

- A) a constatação do diagnóstico da morte encefálica.
- B) a alta taxa de resistência familiar para doação de órgãos como um problema sério no Brasil.
- C) a diferença entre o doador cadáver e o doador voluntário também conhecido como doador vivo.
- D) os doadores de órgãos que apresentam doenças degenerativas e com caráter de transmissibilidade.

**02**

**Segundo as ideias do texto, podemos afirmar que**

- A) no Brasil, a córnea é o tecido mais transplantado nos últimos anos.
- B) o consentimento informado é a forma oficial de manifestação à doação.
- C) o Brasil é insignificante no contexto mundial de doação de órgãos e tecidos.
- D) a vontade da família não deve prevalecer a respeito da doação de órgãos e tecidos para transplante.

**03**

**De acordo com as informações do texto, o diagnóstico de morte encefálica – conhecida também como morte cerebral – é:**

- A) Escassa.
- B) Irrelevante.
- C) Lamentável.
- D) Irreversível.

04

“A temperatura também permanece normal.” (3º§) O termo “permanece”, de acordo com o contexto em que se encontra empregado, significa

- A) torna-se. B) evidencia-se. C) declara-se. D) conserva-se.

05

Em “O que acontece é que enquanto o coração tem oxigênio, ele pode continuar a bater.” (5º§), a expressão destacada pode ser substituída, sem alteração de sentido, por

- A) logo. C) precedentemente.  
B) depois de. D) durante o tempo que.

06

“Realmente, para a grande maioria das pessoas, é muito difícil diferenciar um corpo em morte cerebral de um corpo em sono profundo na cama de um hospital: (...)” (3º§) Assinale, a seguir, o antônimo do termo destacado anteriormente.

- A) Apegar, prender. C) Escolher, selecionar.  
B) Igualar, semelhar. D) Equiparar, determinar.

07

Assinale, entre as palavras seguintes, a que se encontra no aumentativo.

- A) Doação. B) Opinião. C) Aceitação. D) Grandalhão.

08

Assinale a única palavra transcrita do texto que NÃO é acentuada pelo mesmo motivo que as demais.

- A) Ministério. B) Sucessória. C) Consciência. D) Diagnóstico.

09

São palavras transcritas do texto que se apresentam no masculino, EXCETO:

- A) Morte. B) Monitor. C) Transplante. D) Desconhecimento.

10

Assinale a afirmativa que apresenta ERRO de grafia.

- A) O órgão ou tecido apenas poderá ser dado e nunca vendido.  
B) As primeiras experiências de transplante visavam reparar mutilações.  
C) A equipe de transplantes tem a obrigação moral de providenciar órgãos nas melhores condições possíveis.  
D) Os doadores mais adequados são aqueles cuja causa de morte é a cerebral, em unidades de cuidados intensivos.

### RACIOCÍNIO LÓGICO

11

Joana comprou 2 potes de creme, um possui 1.225 ml e o outro tem 980 ml. Qual fração do pote maior Joana deve utilizar para que seu volume seja igual a  $\frac{3}{4}$  do volume do pote menor?

- A)  $\frac{1}{4}$ . B)  $\frac{1}{5}$ . C)  $\frac{2}{5}$ . D)  $\frac{3}{5}$ .

12

Paula trabalha com encomenda de salgadinhos. Cada 3 salgadinhos que Paula faz correspondem a 105 gramas. Se Paula receber uma encomenda de 25 salgadinhos, o peso desta encomenda será de:

- A) 750 gramas. B) 870 gramas. C) 875 gramas. D) 925 gramas.

13

João está tentando completar um álbum de figurinhas. Sabendo que ele possui 300 figurinhas, valor que corresponde a  $\frac{6}{7}$  do total do álbum, pode-se concluir que o álbum é composto por:

- A) 340 figurinhas. B) 350 figurinhas. C) 360 figurinhas. D) 370 figurinhas.

14

Alberto irá viajar do interior de Minas Gerais para a cidade de Campinas. Para isso, ele precisará pegar dois ônibus para chegar a seu destino: um indo até São Paulo e depois o segundo ônibus indo até Campinas. Considere que:

- para sair do interior de Minas Gerais até chegar a São Paulo, Alberto gastará 10 horas e 40 minutos; e,
- depois de chegar a São Paulo, ele irá esperar 35 minutos pelo ônibus que o levará a Campinas, gastando mais 1 hora e 20 minutos.

Se Alberto deseja chegar a Campinas às 20 horas, a que horas ele deve sair do interior de Minas Gerais?

- A) 7 horas e 25 minutos. C) 8 horas e 15 minutos.  
B) 7 horas e 45 minutos. D) 8 horas e 25 minutos.

15

Considere a seguinte sequência:

(9, 27, 45, 63, ?, 99)

Qual alternativa substitui a interrogação apresentada na sequência?

- A) 76. B) 79. C) 81. D) 83.

16

Considere a seguinte operação:

$$\begin{array}{r} A \\ +AA \\ \hline B6 \end{array}$$

Sabendo que os algarismos A e B possuem valores distintos, qual é o valor de B?

- A) 3. B) 4. C) 6. D) 8.

17

Fernanda utiliza seu salário para pagar as contas de sua casa da seguinte forma:

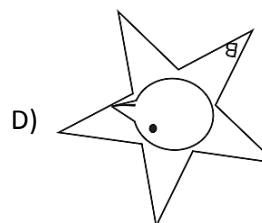
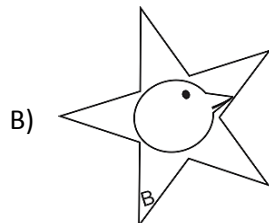
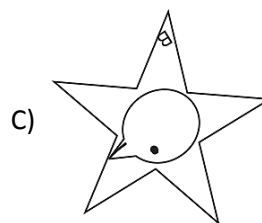
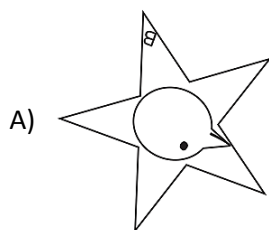
- $\frac{1}{3}$  do salário para o aluguel;
- $\frac{1}{5}$  do salário com as contas de água, luz e gás;
- R\$ 393,00 com prestação de sua motocicleta; e,
- o restante de seu salário deposita em uma conta bancária, valor que corresponde a R\$ 256,60.

Considerando estas informações, pode-se concluir que o salário de Fernanda está compreendido entre:

- A) R\$ 1.380,00 e R\$ 1.384,99. C) R\$ 1.390,00 e R\$ 1.394,99.  
B) R\$ 1.385,00 e R\$ 1.389,99. D) R\$ 1.395,00 e R\$ 1.400,00.

18

Qual das figuras a seguir é DIFERENTE das demais?



**19**

Jorge faz aniversário no dia 25 de julho, numa terça-feira. A esposa de Jorge comprou um presente pela *internet*, com previsão de chegada no dia 10 de agosto. Em que dia da semana Jorge receberá o presente de aniversário?

- A) Terça-feira.                      B) Sexta-feira.                      C) Quarta-feira.                      D) Quinta-feira.

**20**

Qual das alternativas a seguir **NÃO** pertence ao grupo das demais?

- A) Azul.                      B) Rosa.                      C) Violeta.                      D) Laranja.

**CONHECIMENTOS GERAIS**

**21**

“O Museu do Amanhã é o museu de ciências diferente. Um ambiente de ideias, explorações e perguntas sobre a época de grandes mudanças em que vivemos e os diferentes caminhos que se abrem para o futuro. O Amanhã não é uma data no calendário, não é um lugar aonde vamos chegar. É uma construção da qual participamos todos, como pessoas, cidadãos, membros da espécie humana.”

(Disponível em: <https://www.museudoamanha.org.br/pt-br/sobre-o-museu.>)

O fragmento anterior trata do Museu do Amanhã. Em qual cidade brasileira ele está localizado?

- A) Vitória.                      B) São Paulo.                      C) Rio de Janeiro.                      D) Belo Horizonte.

**22**

A economia brasileira está atravessando um momento difícil. Qual dos indicadores a seguir **NÃO** expressa essa realidade de crise?

- A) Aumento do dólar.                      C) Redução do consumo.  
B) Aumento da inflação.                      D) Alta produção industrial.

**23**

A arrecadação de impostos é uma fonte de riqueza para o país e deve ser empregado em benefício da sociedade. Sobre a arrecadação de impostos no Brasil, marque **V** para as afirmativas verdadeiras e **F** para as falsas.

- ( ) O Brasil arrecada muito tributo, porém não propicia retorno adequado em qualidade de vida à população.  
( ) Parte do dinheiro arrecadado some com a corrupção nos diversos níveis governamentais e parte é gasta de forma inadequada.  
( ) Uma redução dos impostos requer diminuição de gastos da máquina pública, e isso implica medidas de contenção de gastos e benesses dos próprios congressistas.

A sequência está correta em

- A) V, V, V.                      B) V, F, V.                      C) V, V, F.                      D) F, F, V.

**24**

Para evitar a propagação do vírus *Zika*, no Brasil e no exterior, é preciso adotar medidas permanentes para o controle do vetor, durante todo o ano, a partir de ações preventivas. É uma ação de combate ao vetor:

- A) Evitar o uso de repelentes.                      C) Evitar o uso de telas nas janelas e portas.  
B) Manter resíduos com água parada.                      D) Aplicar larbicida biológico para uso doméstico.

**25**

A crise humanitária que assola a Europa se tornou um tema recorrente nos noticiários mundiais. Sobre essa realidade, analise as afirmativas a seguir.

- I. Diariamente, milhares de migrantes, vindo de países do continente africano, da Síria, do leste Europeu tentam chegar e ingressar nos países da Europa, em busca de segurança, trabalho e dignidade.  
II. A maior parcela dos migrantes que parte rumo aos países da Europa deseja chegar à Inglaterra e à França, países prósperos, com sistemas de saúde e educação de qualidade.  
III. Homens, mulheres, crianças e idosos deixam seus lares e seus países rumo ao desconhecido, ou à morte, em travessias perigosas, muitas vezes vítimas dos coiotes.

Estão corretas as afirmativas

- A) I, II e III.                      B) I e II, apenas.                      C) I e III, apenas.                      D) II e III, apenas.

**26**

**Saúde em alerta – pesquisas alertam para o aumento preocupante no número de obesidade e alta incidência de casos de morte súbita no Brasil. São algumas atitudes necessárias para não se fazer parte das estatísticas de morte súbita, EXCETO:**

- A) Alimentação desequilibrada. C) Práticas periódicas de atividades físicas.  
B) Avaliações e exames de rotina. D) Evitar o consumo exagerado de bebidas alcoólicas.

**27**

**O plenário do Senado aprovou nesta quarta-feira (31/08), por 61 votos favoráveis e 20 contrários, o *impeachment* de Dilma Rousseff. Após a notificação da decisão do supremo à Dilma e ao presidente interino, quem passou a assumir a presidência?**

- A) Michel Temer. C) Eduardo Cunha.  
B) *Dilma Rousseff*. D) *Ricardo Lewandowski*.

**28**

**Apesar de não existir uma bala de prata que possa eliminar a corrupção, há procedimentos efetivos para seu combate. São ações para eliminar a corrupção, EXCETO:**

- A) Aplicar leis e normas rigorosas.  
B) Garantir ao público acesso à informação como um todo.  
C) Manter nos moldes atuais a gestão pública administrativa e financeira.  
D) Fortalecer normas e regularizações de prevenção à lavagem de dinheiro.

**29**

**As atividades econômicas desenvolvidas pelo ser humano compõem os setores da economia. As atividades econômicas voltadas à circulação e ao consumo de produtos e serviços e que são desempenhadas pelo comércio e pela prestação de serviços formam o setor:**

- A) Primário. B) Terciário. C) Secundário. D) Quaternário.

**30**

**O ser humano sempre utilizou as fontes naturais de energia para realizar suas atividades. Atualmente, as fontes de energia são, em grande parte, provenientes da exploração de combustíveis fósseis. NÃO é considerada uma fonte de combustível fóssil:**

- A) Petróleo. B) Gás natural. C) Carvão mineral. D) Carvão vegetal.

**ATENÇÃO**



**NÃO É PERMITIDA a anotação das respostas da prova em QUALQUER MEIO. O candidato flagrado nesta conduta poderá ser ELIMINADO do processo.**



## INSTRUÇÕES

1. Material a ser utilizado: caneta esferográfica de tinta azul ou preta, feita de material transparente. Os objetos restantes devem ser colocados em local indicado pelo fiscal da sala, inclusive aparelho celular desligado e devidamente identificado.
2. Não é permitida, durante a realização das provas, a utilização de máquinas calculadoras e/ou similares, livros, anotações, impressos ou qualquer outro material de consulta, protetor auricular, lápis, borracha ou corretivo. Especificamente, não é permitido que o candidato ingresse na sala de provas sem o devido recolhimento, com respectiva identificação, dos seguintes equipamentos: *bip*, telefone celular, *walkman*, agenda eletrônica, *notebook*, *palmtop*, *ipod*, *ipad*, *tablet*, *smartphone*, mp3, mp4, receptor, gravador, máquina de calcular, máquina fotográfica, controle de alarme de carro, relógio de qualquer modelo e etc.
3. Não será permitido ao candidato realizar anotação de informações relativas às suas respostas no comprovante de inscrição ou em qualquer outro meio.
4. Durante a prova, o candidato não deve levantar-se, comunicar-se com outros candidatos e fumar.
5. A duração da prova é de 03 (três) horas, já incluindo o tempo destinado à entrega do Caderno de Provas e à identificação – que será feita no decorrer da prova – e ao preenchimento do Cartão de Respostas (Gabarito).
6. Com vistas à garantia da segurança e integridade desse certame, os candidatos serão submetidos ao sistema de detecção de metais quando do ingresso e saída de sanitários. Excepcionalmente, poderão ser realizados, a qualquer tempo durante a realização das provas, outros procedimentos de vistoria além do descrito. Ao término da prova o candidato deverá se retirar do recinto de aplicação, não lhe sendo mais permitido o ingresso nos sanitários.
7. O Caderno de Provas consta de 30 (trinta) questões para o emprego de nível fundamental completo e incompleto e 40 (quarenta) questões para os demais empregos. Leia-o atentamente.
8. **As questões das provas objetivas são do tipo múltipla escolha, com 04 (quatro) opções (A a D) e uma única resposta correta.**
9. Ao receber o material de realização das provas, o candidato deverá conferir atentamente se o Caderno de Provas corresponde ao emprego a que está concorrendo, bem como se os dados constantes no Cartão de Respostas (Gabarito) que lhe foi fornecido estão corretos. Caso os dados estejam incorretos, ou o material esteja incompleto, ou tenha qualquer imperfeição, o candidato deverá informar tal ocorrência ao fiscal.
10. Os fiscais não estão autorizados a emitir opinião e prestar esclarecimentos sobre o conteúdo das provas. Cabe única e exclusivamente ao candidato interpretar e decidir.
11. O candidato somente poderá retirar-se do local de realização das provas escritas levando o Caderno de Provas no decurso dos últimos 30 (trinta) minutos anteriores ao horário previsto para o seu término. O candidato, também, poderá retirar-se do local de provas somente a partir dos 90 (noventa) minutos após o início de sua realização, contudo não poderá levar consigo o Caderno de Provas.
12. Os 3 (três) últimos candidatos de cada sala somente poderão sair juntos. Caso o candidato insista em sair do local de aplicação das provas, deverá assinar um termo desistindo do Concurso Público e, caso se negue, deverá ser lavrado Termo de Ocorrência, testemunhado pelos 2 (dois) outros candidatos, pelo fiscal da sala e pelo Coordenador da Unidade.

## RESULTADOS E RECURSOS

- Os gabaritos oficiais preliminares das provas objetivas serão divulgados na *internet*, no endereço eletrônico [www.idecan.org.br](http://www.idecan.org.br), a partir das 16h00min do dia subsequente ao da realização das provas.
- O candidato que desejar interpor recursos contra os gabaritos oficiais preliminares das provas objetivas disporá de 2 (dois) dias úteis, a partir do dia subsequente à divulgação, em requerimento próprio disponibilizado no *link* correlato ao Concurso Público no endereço eletrônico [www.idecan.org.br](http://www.idecan.org.br).
- A interposição de recursos poderá ser feita via *internet*, através do Sistema Eletrônico de Interposição de Recursos, com acesso pelo candidato ao fornecer dados referentes à sua inscrição apenas no prazo recursal, ao IDECAN, conforme disposições contidas no endereço eletrônico [www.idecan.org.br](http://www.idecan.org.br), no *link* correspondente ao Concurso Público.