

# Prefeitura Municipal de Damianópolis/GO

## CONCURSO PÚBLICO Nº 001/2016



## Agente Administrativo

**Manhã**

Organizadora:



**Por que é importante educar para valores?**

O noticiário da semana traz informações tristes sobre as perspectivas da paz na Colômbia, os resultados das eleições para prefeito e, num cantinho, quase despercebida, uma nota sobre o referendo na Hungria a propósito da cota de imigrantes que a União Europeia estabeleceu para cada país-membro. A Hungria decidiu, por 95% dos votos, não abrigar refugiados. Por sorte, dado o baixo comparecimento, o resultado do referendo não teve valor.

A Hungria é um país com um sistema educacional expressivamente melhor que o nosso, posicionando-se em 39º lugar no Pisa, contra nossa desconfortável 58ª posição, embora com uma média inferior à da OCDE.

Pensei, quando li, em como pode ser falacioso acharmos que basta oferecer educação de qualidade para tornarmos o indivíduo mais apto a vencer preconceitos e a se perceber como parte da grande “tribo” humana. Afinal, as identidades nacionais, nos séculos 19 e 20, se definiram num processo de “nós” contra os “outros”.

A solidariedade e a compaixão seriam sentimentos reservados a nós, não aos outros. Vencer essa lógica é difícil, mesmo entre grupos étnicos no mesmo país, independentemente da aparente qualidade do sistema educacional vigente.

Lembrei-me de outras ondas de refugiados, estes oriundos da Hungria: os judeus, especialmente em 1944, e os perseguidos políticos em 1956, depois de uma “primavera húngara” dizimada por tanques. Os refugiados húngaros foram recebidos em diversos países, inclusive no Brasil. E, agora, em transição demográfica acentuada, precisando de jovens para incorporar à sua envelhecida força de trabalho, não querem refugiados dos outros?

A verdade é que não basta ter uma população com bom estudo ou até com nível superior. Há também que se formar para valores, nas famílias e nas escolas.

Isso não quer dizer, no Brasil, acrescentar mais uma disciplina às já 13 que disputam as quatro horas de aula, no nosso sofrível ensino médio. Quer dizer que devemos ensinar os conteúdos de forma diferente, formando, como nos é proposto pelo recente documento aprovado pela ONU em 2015, “alunos como cidadãos globais”.

Alunos comprometidos com os destinos do planeta, aptos a serem autônomos, mas também solidários, e não só com seus conterrâneos ou correligionários. Alunos persistentes, mas também abertos a novas experiências e a novos horizontes, que podem entender que o diferente não é ilegítimo, que o estrangeiro não é uma ameaça.

Educar para valores em 2016 é não permitir nunca mais que crianças sírias naveguem sem rumo e que povos que agora não necessitem mais de ajuda fechem-lhes as portas, não importando quão melhores sejam seus sistemas de ensino.

(COSTIN, Cláudia. Disponível em: <http://www1.folha.uol.com.br/colunas/claudia-costin/2016/10/1820521-por-que-e-importante-educar-para-valores.shtml>. Acesso em: 07/10/2016.)

**01**

**De acordo com as informações apresentadas no texto, assinale a alternativa que expressa a opinião da autora.**

- A) “A Hungria decidiu, por 95% dos votos, não abrigar refugiados.” (1º§)
- B) “Lembrei-me de outras ondas de refugiados, estes oriundos da Hungria: os judeus, especialmente em 1944, e os perseguidos políticos em 1956, depois de uma ‘primavera húngara’ dizimada por tanques.” (5º§)
- C) “A Hungria é um país com um sistema educacional expressivamente melhor que o nosso, posicionando-se em 39º lugar no Pisa, contra nossa desconfortável 58ª posição, embora com uma média inferior à da OCDE.” (2º§)
- D) “Isso não quer dizer, no Brasil, acrescentar mais uma disciplina às já 13 que disputam as quatro horas de aula, no nosso sofrível ensino médio. Quer dizer que devemos ensinar os conteúdos de forma diferente, formando, como nos é proposto pelo recente documento aprovado pela ONU em 2015 ‘alunos como cidadãos globais’.” (7º§)

**02**

**“Alunos persistentes, mas também abertos a novas experiências e a novos horizontes, que podem entender que o diferente não é ilegítimo, que o estrangeiro não é uma ameaça.” (8º§) A expressão sublinhada pode ser substituída, sem alteração de sentido, por:**

- A) E.
- B) Porém.
- C) Todavia.
- D) Portanto.

**03**

**“A Hungria é um país com um sistema educacional expressivamente melhor que o nosso, posicionando-se em 39º lugar no Pisa, contra nossa desconfortável 58ª posição, embora com uma média inferior à da OCDE.” (2º§) O termo sublinhado anteriormente exprime ao trecho uma ideia de:**

- A) Causa.
- B) Explicação.
- C) Concessão.
- D) Conformidade.

04

De acordo com a função sintática dos termos ou trechos sublinhados, assinale a alternativa que DIFERE das demais.

- A) “A Hungria decidiu, por 95% dos votos, não abrigar refugiados.” (1º§)
- B) “Por sorte, dado o baixo comparecimento, o resultado do referendo não teve valor.” (1º§)
- C) “... que podem entender que o diferente não é ilegítimo, que o estrangeiro não é uma ameaça.” (8º§)
- D) “Afinal, as identidades nacionais, nos séculos 19 e 20, se definiram num processo de ‘nós’ contra os ‘outros’.” (3º§)

05

Quanto aos trechos a seguir, assinale a alternativa cuja palavra indicada substitui adequadamente o termo destacado.

- A) “... e não só com seus conterrâneos ou correligionários.” (8º§) / antagonistas
- B) “... independentemente da aparente qualidade do sistema educacional vigente.” (4º§) / obsoleto
- C) “... os perseguidos políticos em 1956, depois de uma ‘primavera húngara’ dizimada por tanques.” (5º§) / arruinada
- D) “Pensei, quando li, em como pode ser falacioso acharmos que basta oferecer educação de qualidade...” (3º§) / genuíno

06

O assunto principal do texto é:

- A) O sistema educacional húngaro.
- B) A importância da educação dos valores para a formação de cidadãos solidários.
- C) A reforma do ensino médio brasileiro, voltando-se para uma educação solidária.
- D) A importância da valorização da educação institucional para um mundo mais solidário.

07

Assinale a alternativa cujo termo sublinhado está INCORRETAMENTE indicado.

- A) “... povos que agora não necessitem mais de ajuda fechem-lhes as portas...” (9º§) / crianças
- B) “... que podem entender que o diferente não é ilegítimo, que o estrangeiro não é uma ameaça.” (8º§) / correligionários
- C) “... sistema educacional expressivamente melhor que o nosso, posicionando-se em 39º lugar no Pisa...” (2º§) / Hungria
- D) “... o indivíduo mais apto a vencer preconceitos e a se perceber como parte da grande ‘tribo’ humana.” (3º§) / indivíduo

08

“A solidariedade e a compaixão seriam sentimentos reservados a nós, não aos outros. Vencer essa lógica é difícil, mesmo entre grupos étnicos no mesmo país, independentemente da aparente qualidade do sistema educacional vigente.” (4º§) De acordo com a classe de palavras, os termos sublinhados, dentro do contexto empregado, são respectivamente:

- A) Artigo, adjetivo e substantivo.
- B) Artigo, pronome e substantivo.
- C) Preposição, pronome e adjetivo.
- D) Preposição, substantivo e adjetivo.

09

De acordo com o texto “Por que é importante educar para valores?”, assinale a afirmativa INCORRETA.

- A) Ensinar os valores cabe não só à família como também à escola.
- B) O referendo na Hungria ganhou pouco destaque nas manchetes de jornais.
- C) Apesar de refugiados húngaros terem sido recebidos em outros países, a Hungria não é receptiva aos refugiados.
- D) Acrescentar mais uma disciplina no ensino médio brasileiro é uma forma de se estimular a solidariedade nos alunos.

10

“Lembrei-me de outras ondas de refugiados, estes oriundos da Hungria: os judeus, especialmente em 1944, e os perseguidos políticos em 1956, depois de uma ‘primavera húngara’ dizimada por tanques.” (5º§) No trecho em destaque, os dois-pontos foram utilizados para preceder:

- A) Uma citação.
- B) Uma fala direta.
- C) Uma enumeração.
- D) Um esclarecimento sobre o que foi mencionado anteriormente.

**RACIOCÍNIO LÓGICO**

**11**

Um *blog* fez uma pesquisa a fim de saber as preferências de seus leitores a respeito dos filmes e livros de certa franquia. Dos leitores que responderam a pesquisa, 170 disseram preferir os livros, 110 preferir apenas os filmes e 120 preferir ambos os produtos. O número de leitores que responderam a pesquisa é:

- A) 160. B) 230. C) 280. D) 400.

**12**

Uma cidade com 423.300 habitantes possui 17 bairros. Quando listados em ordem crescente de população, cada bairro tem 2800 habitantes a mais que o bairro anterior na lista. O número de habitantes do bairro com maior população na cidade é:

- A) 22.400. B) 24.900. C) 44.800. D) 47.300.

**13**

Observe a sequência a seguir:

$$x, 2x, 2x + 4, 4x + 8, y, 2y, \dots$$

Sabendo que o décimo termo dessa sequência equivale a "4c", então o valor de c equivale a:

- A)  $8y + 24$ . B)  $32x + 120$ . C)  $y + 4x + 12$ . D)  $y + 4x + 18$ .

**14**

Um parque que cobra a entrada por pessoa fez o levantamento do registro de entradas e a receita gerada por estas entradas durante 3 dias:

| Dia | Homens | Mulheres | Crianças | Receita      |
|-----|--------|----------|----------|--------------|
| 1º  | 25     | 32       | 50       | R\$ 1.159,00 |
| 2º  | 0      | 59       | 61       | R\$ 1.196,00 |
| 3º  | 5      | 30       | 43       | R\$ 779,00   |

Osvaldo levou sua esposa e suas duas filhas crianças no parque. Sabendo que homens, mulheres e crianças pagam diferentes valores de entrada, então o valor pago por Osvaldo e sua família na entrada do parque foi de:

- A) R\$ 35,00. B) R\$ 43,00. C) R\$ 46,00. D) R\$ 48,00.

**15**

Cinco funcionários limpam um teatro em 8 horas. Para limpar um local 20% maior, foi contratado mais um funcionário. O tempo gasto para estes funcionários limparem o local é de:

- A) 7 horas. B) 8 horas. C) 7 horas e 40 minutos. D) 8 horas e 20 minutos.

**16**

O lucro de uma empresa em determinado momento do dia é dado pela função  $f(x) = -120x^2 + 1575x$ , na qual  $0 < x \leq 12$  e "x" representa a contagem, em horas, desde a abertura da empresa. Sabendo que a empresa abre às 7:00 horas da manhã, então o lucro máximo da empresa se compreende entre:

- A) 12:00 e 13:00. B) 13:00 e 14:00. C) 14:00 e 15:00. D) 15:00 e 16:00.

**17**

Uma determinada turma com 35 alunos está escolhendo o seu representante e vice-representante. O número de maneiras possíveis para a formação dos representantes é:

- A) 595. B) 561. C) 1.122. D) 1.190.

**18**

Um recife de corais apresentava 80% de sua área original quando começou a ocorrer um fenômeno: a cada ano a área ocupada pelos corais caía pela metade. Após 6 anos, a área ocupada pelo recife em relação à sua área original correspondia a:

- A) 5%. B) 2,5%. C) 1,25%. D) 0,625%.

**19**

Antônia foi a uma mecânica e contratou os seguintes serviços:

| Serviços                           | Preço em reais |
|------------------------------------|----------------|
| Revisão elétrica                   | $5x - 2,00$    |
| Alinhamento                        | $7x + 1,00$    |
| Limpeza do carburador              | $9x - 7,00$    |
| Troca do filtro do ar condicionado | $3x + 2,00$    |
| Troca do radiador                  | $10x + 18,00$  |

Sabendo que Antônia pagou um total de R\$ 216,00 e que cada serviço foi realizado apenas uma vez, então o valor pago pela limpeza do carburador foi de:

- A) R\$ 28,00. B) R\$ 37,00. C) R\$ 43,00. D) R\$ 47,00.

**20**

Um corredor completou um percurso de 6,72 km em 20 minutos. Seu principal rival conseguiu manter uma velocidade média 5,04 km/h maior que ele durante o trajeto. É correto afirmar que o tempo gasto por seu rival para completar o percurso foi de:

- A) 16 minutos. C) 18 minutos e 20 segundos.  
B) 17 minutos e 30 segundos. D) 18 minutos e 40 segundos.

### **CONHECIMENTOS GERAIS**

**21**

A respeito das questões envolvendo as políticas raciais e a situação dos negros no Brasil, assinale a afirmativa INCORRETA.

- A) O Dia da Consciência Negra é celebrado em 20 de novembro.  
B) As heranças de uma sociedade escravocrata que se manteve por quatro séculos ainda representam a exclusão socioeconômica de milhares de brasileiros.  
C) A luta dos afrodescendentes pela conquista da cidadania representa a expressão de uma sociedade mais justa em que a diversidade étnico-cultural deve ser respeitada como uma característica essencial do povo brasileiro.  
D) A data escolhida para celebrar o dia da consciência negra foi determinada por coincidir com o dia da morte de Machado de Assis, importante representante da literatura brasileira e defensor das políticas abolicionistas.

**22**

O *impeachment* refere-se à retirada do mandato de um chefe do poder executivo seja ele de âmbito municipal, estadual ou federal. Sobre essa questão dentro da política nacional, é INCORRETO afirmar que:

- A) O *impeachment* pode ser feito via abaixo-assinado ou pelo voto popular.  
B) Historicamente, apenas dois presidentes brasileiros passaram por esse processo.  
C) Quem assume o comando da presidência nacional, em caso de *impeachment*, é o vice-presidente.  
D) Quando o afastamento ocorre antes da primeira metade do mandato ser concluído, é necessário convocar nova eleição.

**23**

“Após o não alcançado no plebiscito pela maior parte da população, este país ainda tenta digerir a rejeição da população ao acordo de cessar fogo definitivo que abriria caminho para um tratado de paz que pretende por fim ao conflito armado mais antigo da América Latina, que tem sido marcado e alimentado pelo narcotráfico.” O trecho faz referência ao acordo de paz entre:

- A) Colômbia e as Farc. C) Argentina e Reino Unido.  
B) Cuba e Estados Unidos. D) México e Estados Unidos.




**24**

“Nascido em Santa Helena de Goiás, é um cantor e instrumentista brasileiro que se tornou conhecido na década de 70. Uma de suas composições mais famosas é o bolero ‘Você é doida demais’, que ganhou grande notoriedade através da série ‘Os normais’, da Rede Globo de Televisão.” Trata-se do compositor:

- A) Castrinho. B) Erasmo Carlos. C) Amado Batista. D) Lindomar Castilho.

25

Em março de 1956, o governo federal, sob a liderança do presidente *Juscelino Kubitschek*, inaugurou a construção de Brasília. A região passou a receber milhares de operários vindos de todas as partes do Brasil que, com suas famílias, passaram a viver nos arredores da cidade em construção. Esses trabalhadores receberam em homenagem uma escultura instalada na Praça dos Três Poderes em Brasília representada pela imagem:



26

“Na década de 1940, *Walt Disney* visitou o Brasil e, gentilmente, criou um personagem que pretendia ser uma homenagem aos brasileiros. Com um tipo malandro, preguiçoso e boa praça, ele era a imagem padrão que predominava no imaginário norte-americano em relação aos brasileiros.” Esse personagem é:

- A) Louro José. B) Zé Carioca. C) Zeca Urubu. D) Chico Bento.

27

“Na série de pinturas denominadas ‘Os retirantes’, o artista denunciou de forma categórica uma das mais trágicas realidades da sociedade brasileira: o êxodo de milhares de nordestinos que fugiam da miséria e da opressão do latifúndio.” O pintor ao qual o enunciado se refere é:

- A) Salvador Dalí. B) *Di Cavalcanti*. C) Pablo Picasso. D) Cândido Portinari.

28

A promulgação da Consolidação das Leis Trabalhistas (CLT), em 1943, institucionalizou as relações de trabalho no Brasil. Ela foi criada no período histórico brasileiro conhecido como:

- A) Estado Novo. B) Ditadura militar. C) Governo neoliberal. D) República oligárquica.

29

Os parques nacionais são unidades de conservação da natureza e podem ser utilizados para visitação turística, pesquisas e projetos educacionais sem que o ambiente seja prejudicado. NÃO representa uma área de proteção ambiental localizada no Centro-Oeste:

- A) Chapada Diamantina. B) Chapada dos Veadeiros. C) Chapada dos Guimarães. D) Parque Nacional das Emas.

30

O início da ocupação e do povoamento da região Centro-Oeste se deu entre os séculos XVII e XVIII e esteve relacionado diretamente com:

- A) A descoberta de regiões auríferas e a pecuária.  
B) A transferência da capital do país para o interior do Brasil.  
C) A expansão da fronteira agrícola e o aparecimento do agronegócio.  
D) O processo de industrialização verificado na região centro-sul do país.

CONHECIMENTOS ESPECÍFICOS

31

Quando nos referimos à saúde e à segurança ocupacional, comumente nos remetemos a pensamentos envolvendo o ambiente material, a maquinaria, a edificação e as instalações, bem como elementos da organização do trabalho, como a jornada e a duração do trabalho. Poucas vezes nos damos conta de que existem outras dimensões não materializadas e que podem trazer prejuízos à saúde e à segurança em um ambiente de trabalho tanto ou mais que aquelas. De acordo com este cenário, como é conhecida a conduta de alto poder destrutivo que vai no sentido contrário ao de harmonizar o ambiente de trabalho, que atenta contra a dignidade social do trabalhador e alcança a percepção de tirania nas relações de trabalho?

- A) Assédio moral. C) Comportamento omissivo.  
B) Linguagem rebuscada. D) Déficit de comprometimento.

32

Para se obter sucesso na redação comercial, é preciso prestar atenção no universo do vocabulário do receptor, aos estereótipos de sua região e às ideias cristalizadas que fazem parte do seu mundo. Como exemplo, inverno nas regiões Sul e Sudeste tem significado diferente de inverno no Nordeste devido às típicas características climáticas de cada região. Nesse contexto, para que o vocabulário utilizado seja equivalente ao que o destinatário utiliza, o redator de cartas comerciais deve se atentar para:

- A) Tópico frasal. C) Repertório lexical.  
B) Pleonasmos. D) Vaguidade das expressões.

33

De acordo com *Chiavenato* (Administração de Empresas/1994), enquanto o nível institucional de uma organização deve estabelecer os objetivos e o nível intermediário elaborar os planos e os meios de controle em termos departamentais, o nível operacional deve se encarregar de traçar os planos e os meios de controle em termos específicos com relação a cada tarefa ou operação, tomadas isoladamente, controle este que é um processo composto de quatro etapas. Relacione adequadamente cada um desses processos à sua correta descrição.

1. Estabelecimento de padrões.
  2. Avaliação de desempenho.
  3. Comparação do desempenho com o padrão.
  4. Ação corretiva.
- ( ) Verifica-se, nesta etapa, se há desvio ou variação com relação àquilo que foi previamente estabelecido como padrão, isto é, se há falha ou erro em relação à performance desejada.
- ( ) Esta etapa consiste em retificar o desempenho para adequá-lo ao padrão estabelecido, caso o mesmo não tenha sido alcançado.
- ( ) Os padrões representam a base fundamental do controle operacional. Nesta etapa, são determinados os padrões ou critérios de avaliação. O padrão é o ponto de referência para tudo aquilo que será feito.
- ( ) Esta etapa consiste em qualificar o que está sendo feito através do acompanhamento e monitorização daquilo que está sendo executado.

A sequência está correta em

- A) 4, 3, 2, 1. B) 3, 4, 1, 2. C) 2, 1, 3, 4. D) 1, 4, 2, 3.

34

Sobre arquivo, marque V para as afirmativas verdadeiras e F para as falsas.

- ( ) É um conjunto organizado de documentos, produzidos ou recebidos e preservados por instituições públicas ou privadas, mas não por indivíduos.
- ( ) É dividido em três categorias: públicos, privados e segmentados.
- ( ) Constitui fontes culturais de grande relevância, pois guarda a memória histórica individual e coletiva, manifestações culturais, fatos da civilização, leis, criações científicas e tecnológicas.
- ( ) Tem como função classificar, organizar e preservar a documentação.

A sequência está correta em

- A) F, V, V, V. B) V, F, V, F. C) F, F, V, V. D) V, V, F, V.

35

Assinale, a seguir, a característica que NÃO está atrelada ao telegrama:

- A) Urgência. C) Confidencialidade.  
B) Tradicional. D) Baixo custo comparado a serviços similares.

36

Um usuário utiliza a ferramenta *Microsoft Office Word 2007* (configuração padrão) para realizar a digitação de correspondências comerciais que são distribuídas na sua cidade. Nesta ferramenta, o recurso de “espaçamento entre linhas” possibilita ao usuário definir o espaçamento entre as linhas de um texto. É correto afirmar que este recurso está disponível na guia Início e no grupo:

- A) Fonte. B) Edição. C) Parágrafo. D) Configurar Página.

37

A ferramenta *Microsoft Office Word 2007* (configuração padrão) possibilita a criação e a manipulação de tabelas através de um recurso dinâmico disponível no grupo Tabelas da guia Inserir. São opções disponíveis ao acionar o botão Tabela no menu indicado, EXCETO:

- A) Inserir Tabela. B) Tabelas Rápidas. C) Desenhar Tabela. D) Tabelas Dinâmicas.

38

Sobre a ferramenta *Microsoft Office Excel 2007* (configuração padrão), analise as afirmativas a seguir.

- I. É possível salvar uma cópia da pasta de trabalho compatível com o *Excel 97-2003*.  
II. É possível publicar uma cópia da pasta de trabalho como um arquivo PDF ou XPS.  
III. É possível adicionar uma imagem em uma planilha através da opção arquivo, no grupo Imagens da guia Inserir.

Está(ão) correta(s) apenas a(s) afirmativa(s)

- A) I. B) II. C) III. D) I e II.

39

Na ferramenta *Microsoft Office Excel 2007* (configuração padrão), a função que arredonda um número para baixo até o múltiplo ou a significância mais próxima é:

- A) ARRED C) ARREDONDAR.PARA.CIMA  
B) ARREDMULTB D) ARREDONDAR.PARA.BAIXO

40

“Uma empresa de revenda de carros utiliza a ferramenta *Microsoft Office Excel 2007* (configuração padrão) para cadastrar os veículos que estão no estoque da empresa. Ao participar de um leilão, a empresa adquiriu uma grande quantidade de veículos em uma única compra. No ato da compra, a empresa recebeu um arquivo de texto com a relação de veículos adquiridos. Para facilitar o trabalho do colaborador responsável por cadastrar os veículos na planilha de controle, pesquisou que existe um recurso na ferramenta para importar dados externos para uma planilha.” O recurso em questão pode ser acionado no grupo:

- A) Obter Dados na guia Inserir através da opção Arquivo Texto.  
B) Importar Dados na guia Suplementos através da opção Outros.  
C) Obter Dados Externos na guia Dados através da opção De Texto.  
D) Fonte de Dados na guia Exibição através da opção De Outras Fontes.

### ATENÇÃO



**NÃO É PERMITIDA a anotação das respostas da prova em QUALQUER MEIO.  
O candidato flagrado nesta conduta poderá ser ELIMINADO do processo.**









## INSTRUÇÕES

1. Material a ser utilizado: caneta esferográfica de tinta azul ou preta, feita de material transparente e de ponta grossa. Os objetos restantes devem ser colocados em local indicado pelo fiscal da sala, inclusive aparelho celular desligado e devidamente identificado.
2. Não é permitida, durante a realização das provas, a utilização de máquinas calculadoras e/ou similares, livros, anotações, impressos ou qualquer outro material de consulta, protetor auricular, lápis, borracha ou corretivo. Especificamente, não é permitido que o candidato ingresse na sala de provas sem o devido recolhimento, com respectiva identificação, dos seguintes equipamentos: *bip*, telefone celular, *walkman*, agenda eletrônica, *notebook*, *palmtop*, *ipod*, *ipad*, *tablet*, *smartphone*, mp3, mp4, receptor, gravador, máquina de calcular, máquina fotográfica, controle de alarme de carro, relógio de qualquer modelo e etc.
3. Não será permitido ao candidato realizar anotação de informações relativas às suas respostas no comprovante de inscrição ou em qualquer outro meio.
4. Durante a prova, o candidato não deve levantar-se, comunicar-se com outros candidatos e fumar.
5. A duração da prova é de 03 (três) horas, já incluindo o tempo destinado à entrega do Caderno de Provas e à identificação – que será feita no decorrer da prova – e ao preenchimento do Cartão de Respostas (Gabarito).
6. Com vistas à garantia da segurança e integridade desse certame, os candidatos serão submetidos ao sistema de detecção de metais quando do ingresso e saída de sanitários. Excepcionalmente, poderão ser realizados, a qualquer tempo durante a realização das provas, outros procedimentos de vistoria além do descrito. Ao término da prova o candidato deverá se retirar do recinto de aplicação, não lhe sendo mais permitido o ingresso nos sanitários.
7. O Caderno de Provas consta de 30 (trinta) questões para os cargos de nível fundamental completo e incompleto e 40 (quarenta) questões para os demais cargos. Leia-o atentamente.
8. **As questões das provas objetivas são do tipo múltipla escolha, com 04 (quatro) opções (A a D) e uma única resposta correta.**
9. Ao receber o material de realização das provas, o candidato deverá conferir atentamente se o Caderno de Provas corresponde ao cargo a que está concorrendo, bem como se os dados constantes no Cartão de Respostas (Gabarito) que lhe foi fornecido estão corretos. Caso os dados estejam incorretos, ou o material esteja incompleto, ou tenha qualquer imperfeição, o candidato deverá informar tal ocorrência ao fiscal.
10. Os fiscais não estão autorizados a emitir opinião e prestar esclarecimentos sobre o conteúdo das provas. Cabe única e exclusivamente ao candidato interpretar e decidir.
11. O candidato somente poderá retirar-se do local de realização das provas escritas levando o Caderno de Provas no decurso dos últimos 30 (trinta) minutos anteriores ao horário previsto para o seu término. O candidato, também, poderá retirar-se do local de provas somente a partir dos 90 (noventa) minutos após o início de sua realização, contudo não poderá levar consigo o Caderno de Provas.
12. Os 3 (três) últimos candidatos de cada sala somente poderão sair juntos. Caso o candidato insista em sair do local de aplicação das provas, deverá assinar um termo desistindo do Concurso Público e, caso se negue, deverá ser lavrado Termo de Ocorrência, testemunhado pelos 2 (dois) outros candidatos, pelo fiscal da sala e pelo Coordenador da Unidade.

## RESULTADOS E RECURSOS

- Os gabaritos oficiais preliminares das provas objetivas serão divulgados na *internet*, no endereço eletrônico [www.idecan.org.br](http://www.idecan.org.br), a partir das 16h00min do dia subsequente ao da realização das provas.
- O candidato que desejar interpor recursos contra os gabaritos oficiais preliminares das provas objetivas disporá de 2 (dois) dias úteis, a partir do dia subsequente à divulgação, em requerimento próprio disponibilizado no *link* correlato ao Concurso Público no endereço eletrônico [www.idecan.org.br](http://www.idecan.org.br).
- A interposição de recursos poderá ser feita via *internet*, através do Sistema Eletrônico de Interposição de Recursos, com acesso pelo candidato ao fornecer dados referentes à sua inscrição apenas no prazo recursal, ao IDECAN, conforme disposições contidas no endereço eletrônico [www.idecan.org.br](http://www.idecan.org.br), no *link* correspondente ao Concurso Público.