

Prefeitura Municipal de Damianópolis/GO

CONCURSO PÚBLICO Nº 001/2016



Motorista I

Tarde

Organizadora:



A vida sedentária

A seleção natural desenhou o corpo humano para o movimento.

Desde que nossos ancestrais desceram das árvores, há seis milhões de anos, a competição conferiu vantagem de sobrevivência às mulheres e homens que se movimentavam com mais desenvoltura. Como resultado, o corpo que chegou até nós tem pernas e braços longos, fortes e articulados para andar, correr, trepar em árvores, abaixar e levantar com eficiência e facilidade.

A partir da segunda metade do século 20, no entanto, sucessivos avanços tecnológicos tornaram possível ganharmos o pão nosso de cada dia sem sair da cadeira. Graças ao conforto moderno, passamos a usar o corpo de uma maneira para a qual ele não foi engendrado.

Ao mesmo tempo, novas técnicas de cultivo agrícola e armazenagem possibilitaram o acesso de grandes massas populacionais a alimentos de alta qualidade. As refeições da classe média de hoje são mais nutritivas do que as dos nobres nos castelos medievais.

A ingestão diária de um número maior de calorias do que as exigidas para a manutenção do peso saudável de um corpo sedentário criou as condições para a explosão da epidemia de obesidade que assola o mundo. No Brasil, 52% da população adulta está acima do peso.

Um estudo internacional publicado numa das revistas médicas de maior prestígio (*The Lancet*) procurou quantificar os prejuízos causados pela pandemia de inatividade física.

Os autores fizeram uma revisão sistemática da literatura para estimar os custos diretos (para os sistemas de saúde) e os indiretos (produtividade perdida) do sedentarismo em 142 países, que representam 93% da população mundial.

Consideraram o impacto direto no sistema de saúde causado por cinco enfermidades, nas quais a influência da vida sedentária é conhecida com mais detalhes: doença coronariana, derrame cerebral, diabetes tipo 2, câncer de mama, câncer de cólon e reto.

Os custos indiretos foram calculados a partir da produtividade perdida com as mortes prematuras por essas doenças. A falta de dados para a maioria dos países não permitiu estimar as perdas com o absenteísmo provocado por elas.

Foram classificadas como inativas as pessoas que não seguem a recomendação da Organização Mundial da Saúde de praticar atividade física de intensidade moderada ou vigorosa, durante pelo menos 150 minutos por semana.

(Drauzio Varella. Publicado em 06/10/2016. Disponível em: <https://drauziovarella.com.br/drauzio/artigos/a-vida-sedentaria/>. Acesso em: 10/10/2016.)

01

É correto afirmar que o texto tem como finalidade

- A) salientar a importância de praticar atividade física.
- B) supor que a população adulta está acima do peso.
- C) avaliar o sistema de saúde em relação ao sedentarismo.
- D) informar que as refeições da classe média são menos nutritivas.

02

De acordo com as ideias do texto, podemos informar que

- A) o sedentarismo melhora a qualidade de vida.
- B) o sedentarismo é considerado atualmente como um problema de saúde pública.
- C) os exercícios físicos causam diminuição de morte prematura e auxiliam na manutenção do peso.
- D) as pessoas inativas não praticam atividade física de intensidade moderada ou vigorosa, durante pelo menos 150 minutos por semana.

03

Segundo o texto, “vida sedentária” é

- A) o corpo humano em movimento.
- B) quem come alimentos de alta qualidade.
- C) a ingestão diária de um número maior de calorias, apenas.
- D) a falta de prática de atividade física de intensidade ordenada ou intensa.

04

No trecho “A partir da segunda metade do século 20, no entanto, sucessivos avanços tecnológicos tornaram possível ganharmos o pão nosso de cada dia sem sair da cadeira.” (3º§), a expressão “sucessivos” significa

- A) atrelados. B) eliminados. C) constantes. D) danificados.

05

“A falta de dados para a maioria dos países não permitiu estimar as perdas com o absenteísmo provocado por elas.” (9º§) Assinale, a seguir, o antônimo do termo destacado no trecho.

- A) Medida. B) Carência. C) Demasia. D) Necessidade.

06

No trecho “Os custos indiretos foram calculados a partir da produtividade perdida com as mortes prematuras por essas doenças.” (9º§), o termo destacado pode ser substituído, sem alteração de sentido, por

- A) tardias. B) precoces. C) inoportunas. D) complicadas.

07

São palavras citadas no texto que se apresentam no masculino, EXCETO:

- A) Impacto. B) Derrame. C) Conforto. D) Vantagem.

08

Assinale a afirmativa que apresenta ERRO de ortografia.

- A) Não são recomendadas as mesmas atividades físicas para todas as pessoas.
B) A nutrição balanceada é o primeiro passo para se evitar o excesso de peso.
C) Sedentarismo é definido como a falta, a ausência ou a diminuição de atividades físicas ou esportivas.
D) Consideramos sedentário aquele que gasta poucas calorias por semana com atividades ocupacionais.

09

No trecho “A seleção natural desenhou o corpo humano para o movimento.” (1º§), o ponto final (.) tem como finalidade

- A) exprimir surpresa. C) separar um comentário.
B) realçar uma expressão. D) marcar uma pausa absoluta.

10

Leia a mensagem a seguir.



(Disponível em: <http://biafisio.blogspot.com.br/2010/09/sedentarismo-e-doenca-mexa-se.html>. Acesso em: 10/10/2016.)

O período “Saia do sofá. Diga não ao sedentarismo.” manifesta ideia de

- A) ordem. B) dúvida. C) explicação. D) possibilidade.

RACIOCÍNIO LÓGICO

11

Numa rua a distância entre dois postes consecutivos é de 32 m. Quantos metros tem essa rua se do início ao fim da mesma existem 6 postes?

- A) 128 m. B) 160 m. C) 192 m. D) 224 m.

12

Analise a frase a seguir: “Mariana não conseguiu _____ pois estava _____.” Assinale a alternativa que NÃO completa corretamente a afirmativa anterior.

- A) enxergar / sem seus óculos
 B) cantar / sem sua calculadora
 C) correr / com a perna quebrada
 D) estudar / com uma forte dor de cabeça

13

Quatro amigos: Murilo, Marcos, Marcelo e Maurício montaram cada um deles um quebra-cabeça. Na tabela a seguir estão indicados o instante em que cada um deles começou a montar o seu quebra-cabeça e o tempo gasto na montagem.

Nome	Início	Tempo gasto
Murilo	14:55	20 minutos
Marcos	15:05	15 minutos
Marcelo	15:00	25 minutos
Maurício	14:40	30 minutos

Assinale a alternativa correta de acordo com as informações da tabela.

- A) Marcos terminou de montar seu quebra-cabeça 5 minutos antes de Maurício.
 B) Maurício terminou de montar seu quebra-cabeça 10 minutos antes de Murilo.
 C) Marcelo terminou de montar seu quebra-cabeça 5 minutos depois de Marcos.
 D) Murilo terminou de montar seu quebra-cabeça 10 minutos depois de Marcelo.

14

André coleciona latinhas de refrigerante e conseguiu, durante o primeiro ano de seu *hobby*, juntar um total de 132 latinhas. Se a cada mês ele conseguiu juntar a mesma quantidade de latinhas, quantas unidades ele conseguiu acumular nos três primeiros meses de sua coleção?

- A) 27. B) 29. C) 33. D) 36.

15

Relacione adequadamente as colunas a seguir.

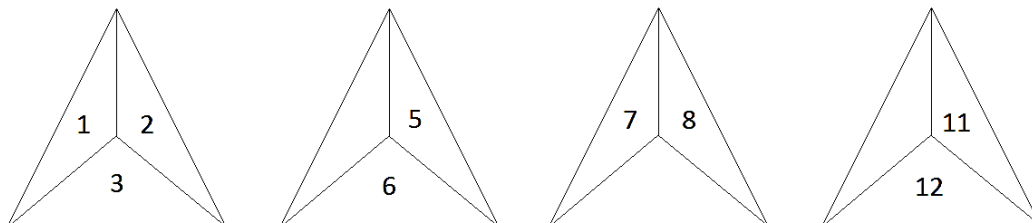
1. Óculos. () Grafite.
 2. Relógio. () Palmilha.
 3. Lapiseira. () Lente.
 4. Calçado. () Ponteiro.

A sequência está correta em

- A) 2, 3, 4, 1. B) 2, 3, 1, 4. C) 3, 4, 1, 2. D) 3, 4, 2, 1.

16

Observe a sequência de figuras a seguir.



A soma dos números que preenchem os espaços vazios nessa sequência é igual a:

- A) 19. B) 21. C) 23. D) 25.

17

Numa rua, as casas de um dos lados foram numeradas conforme indicado a seguir.

5; 9; 13; 17; 21; 25;; 61

Quantas casas têm essa rua se os seus dois lados têm a mesma quantidade de casas?

- A) 30. B) 32. C) 34. D) 36.

18

Mário começou a ler quatro livros de gêneros diferentes conforme indicado na tabela a seguir.

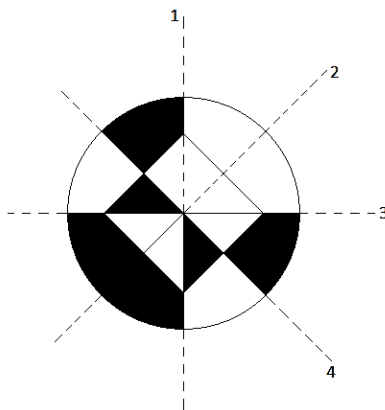
Gênero	Total de páginas	Número de páginas lidas por dia
Romance	120	5
Biografia	100	4
Drama	144	6
Comédia	161	7

Qual dos livros Mário gastou menos dias para ler?

- A) O drama. B) A comédia. C) A biografia. D) O romance.

19

Observe a figura a seguir.



Qual dos eixos indicados na figura divide a mesma em duas regiões simétricas?

- A) 1. B) 2. C) 3. D) 4.

20

Cláudia participou de uma excursão turística que iniciou numa terça-feira e teve 12 dias de duração. Considere que após cinco dias do término dessa excursão Cláudia voltou a trabalhar. Assim, o dia em que Cláudia retornou ao trabalho caiu numa:

- A) Segunda-feira. B) Terça-feira. C) Quarta-feira. D) Quinta-feira.

CONHECIMENTOS GERAIS

21

“É uma extensa área sedimentar que vai do litoral do Espírito Santo ao de Santa Catarina. Com mais de 800 quilômetros, abrangendo as bacias do Espírito Santo, Campos e Santos, com reservas de petróleo entre 5 e 6 mil metros de profundidade. A camada recebe esse nome por estar recoberta por uma camada de sal que, em seu interior, possui petróleo e gás nos poros das rochas.” Qual o nome da camada descrita anteriormente?

- A) Sal. B) Pré-sal. C) Pós-sal. D) Salgema.

22

A energia do vento vem sendo aproveitada desde a Antiguidade e, atualmente, é uma das mais promissoras fontes de energia, principalmente por ser renovável, podendo substituir os combustíveis fósseis e auxiliar na redução dos gases do efeito estufa. Qual região do Brasil apresenta a maior produção nacional de energia eólica?

- A) Sul. B) Norte. C) Nordeste. D) Centro-Oeste.

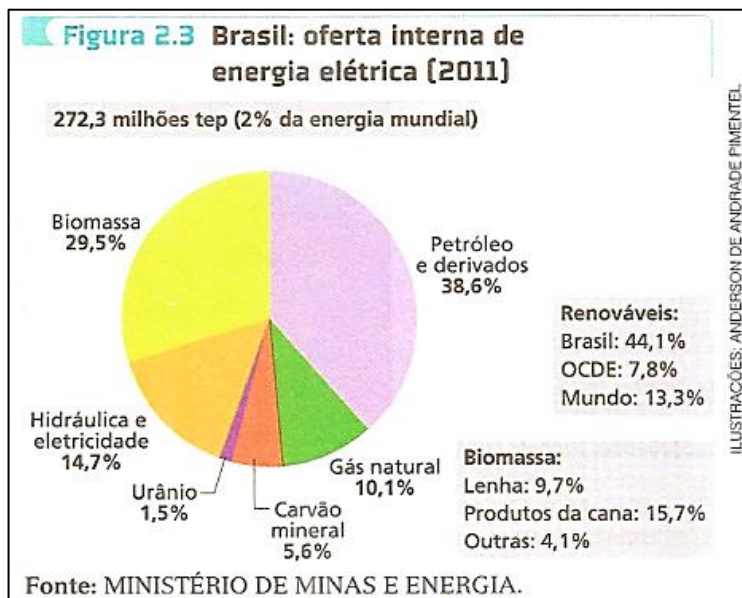
23

Há inúmeros tipos de turismo, desde viagens de férias para uma simples diversão, a viagens de negócios ou profissionais, religiosas, ou para tratamento médico. Conforme dados da Organização Mundial do Turismo (OMT), ainda predominam no mundo as atividades turísticas destinadas a:

- A) Negócios. B) Profissionais. C) Entretenimento. D) Tratamento médico.

24

Observe o gráfico que trata da oferta interna de energia elétrica (2011).



Após a análise do gráfico é possível afirmar que são fontes de energias renováveis:

- A) Biomassa e urânio. C) Biomassa, hidráulica e urânio.
 B) Biomassa e hidráulica. D) Carvão mineral, gás natural e petróleo.

25

Acerca do envelhecimento da população, marque **V** para as afirmativas verdadeiras e **F** para as falsas.

- () Hoje, o número de idosos vem crescendo no Brasil.
 () Com as pessoas vivendo mais, os benefícios sociais, como aposentadoria, são recebidos por mais tempo pelos idosos.
 () O aumento da população da terceira idade requer mais investimentos também na área de saúde, assistência hospitalar, assistência social, entre outros.

A sequência está correta em

- A) V, V, F. B) V, V, V. C) F, V, V. D) V, F, V.

26

A escravidão foi substituída pela exclusão social e econômica. Não há indicadores em que a exclusão dos negros não se faça notar. Dentre os exemplos a seguir, sobre os indicadores de exclusão negra, qual deles NÃO expressa essa realidade?

- A) Maior escolaridade média.
 B) Maiores taxas de analfabetismo.
 C) Maior proporção de desempregados.
 D) Menor rendimento médio da população trabalhadora.

27

De acordo com os dados do Programa das Nações Unidas para o Meio Ambiente, a quantidade de lixo produzida mundialmente tenderá a aumentar na próxima década. Uma alternativa adequada para o descarte do lixo são os aterros sanitários que possuem as seguintes características, EXCETO:

- A) O material é compactado e recebe nova camada de material.
 B) São distribuídos dutos para escoar o gás que se forma a partir da degradação do lixo.
 C) O sistema consiste na distribuição do material (lixo) sobre uma camada protetora que evita que o chorume penetre no solo.
 D) Ocupam terrenos vazios sem nenhum tipo de controle causando problemas de saúde na população no entorno, além de poluírem as águas subterrâneas devido ao chorume.

28

É importante destacar que um dos aspectos responsáveis pela ampliação do fosso entre as nações é justamente o baixo índice educacional dos países pobres. Com base no tema, analise as afirmativas a seguir.

- I. Em um mundo globalizado, o acesso à educação vai além de seu significado sociocultural, pois se trata de uma condição imprescindível para o desenvolvimento do país.
- II. Segundo a ONU, ainda existem muitos analfabetos nos países pobres, e o analfabetismo constitui um entrave para o ingresso desses países na economia moderna.
- III. A grande parte de analfabetos não tem condições de competir no mercado de trabalho, principalmente urbano, pois eles enfrentam não apenas a escassez de vagas, mas também exigências que eles são incapazes de cumprir.

Estão corretas as afirmativas

- A) I, II e III. B) I e II, apenas. C) I e III, apenas. D) II e III, apenas.

29

Segundo dados da ONU, estima-se que em 2010 o tráfico internacional de drogas tenha gerado uma renda de, aproximadamente, US\$ 800 bilhões. Nesse contexto, analise as afirmativas a seguir.

- I. O Brasil é corredor de exportação e consumo de cocaína.
- II. De produção muito mais barata do que o refino completo da cocaína, o crack alastrou-se em todos os recantos, tornando-se atualmente um dos graves problemas de saúde pública.
- III. O Brasil, portanto, constitui-se um dos mais importantes centros disseminadores de drogas ilícitas do continente, além de participar ativamente na distribuição desses entorpecentes para o mercado interno.
- IV. As facções brasileiras que lideram atividades ilícitas nasceram todas ao mesmo tempo e não apresentam nas mesmas características.

Estão corretas as afirmativas

- A) I, II, III e IV. B) I, II e III, apenas. C) I, II e IV, apenas. D) II, III e IV, apenas.

30

Entre os setores de serviço, o turismo tem se destacado, em virtude da ampliação de oferta de novos serviços culturais, dos incrementos do setor de viagens e da disponibilidade de novos serviços vinculados ao atendimento de turistas. Para favorecer o crescimento do turismo torna-se necessário, EXCETO:

- A) Ampliar a oferta de hotéis.
- B) Ampliar a oferta de restaurantes.
- C) Desenvolver projetos de preservação ambiental.
- D) Reduzir a qualidade dos serviços prestados aos turistas.

ATENÇÃO



NÃO É PERMITIDA a anotação das respostas da prova em QUALQUER MEIO. O candidato flagrado nesta conduta poderá ser ELIMINADO do processo.

INSTRUÇÕES

1. Material a ser utilizado: caneta esferográfica de tinta azul ou preta, feita de material transparente e de ponta grossa. Os objetos restantes devem ser colocados em local indicado pelo fiscal da sala, inclusive aparelho celular desligado e devidamente identificado.
2. Não é permitida, durante a realização das provas, a utilização de máquinas calculadoras e/ou similares, livros, anotações, impressos ou qualquer outro material de consulta, protetor auricular, lápis, borracha ou corretivo. Especificamente, não é permitido que o candidato ingresse na sala de provas sem o devido recolhimento, com respectiva identificação, dos seguintes equipamentos: *bip*, telefone celular, *walkman*, agenda eletrônica, *notebook*, *palmtop*, *ipod*, *ipad*, *tablet*, *smartphone*, mp3, mp4, receptor, gravador, máquina de calcular, máquina fotográfica, controle de alarme de carro, relógio de qualquer modelo e etc.
3. Não será permitido ao candidato realizar anotação de informações relativas às suas respostas no comprovante de inscrição ou em qualquer outro meio.
4. Durante a prova, o candidato não deve levantar-se, comunicar-se com outros candidatos e fumar.
5. A duração da prova é de 03 (três) horas, já incluindo o tempo destinado à entrega do Caderno de Provas e à identificação – que será feita no decorrer da prova – e ao preenchimento do Cartão de Respostas (Gabarito).
6. Com vistas à garantia da segurança e integridade desse certame, os candidatos serão submetidos ao sistema de detecção de metais quando do ingresso e saída de sanitários. Excepcionalmente, poderão ser realizados, a qualquer tempo durante a realização das provas, outros procedimentos de vistoria além do descrito. Ao término da prova o candidato deverá se retirar do recinto de aplicação, não lhe sendo mais permitido o ingresso nos sanitários.
7. O Caderno de Provas consta de 30 (trinta) questões para os cargos de nível fundamental completo e incompleto e 40 (quarenta) questões para os demais cargos. Leia-o atentamente.
8. **As questões das provas objetivas são do tipo múltipla escolha, com 04 (quatro) opções (A a D) e uma única resposta correta.**
9. Ao receber o material de realização das provas, o candidato deverá conferir atentamente se o Caderno de Provas corresponde ao cargo a que está concorrendo, bem como se os dados constantes no Cartão de Respostas (Gabarito) que lhe foi fornecido estão corretos. Caso os dados estejam incorretos, ou o material esteja incompleto, ou tenha qualquer imperfeição, o candidato deverá informar tal ocorrência ao fiscal.
10. Os fiscais não estão autorizados a emitir opinião e prestar esclarecimentos sobre o conteúdo das provas. Cabe única e exclusivamente ao candidato interpretar e decidir.
11. O candidato somente poderá retirar-se do local de realização das provas escritas levando o Caderno de Provas no decurso dos últimos 30 (trinta) minutos anteriores ao horário previsto para o seu término. O candidato, também, poderá retirar-se do local de provas somente a partir dos 90 (noventa) minutos após o início de sua realização, contudo não poderá levar consigo o Caderno de Provas.
12. Os 3 (três) últimos candidatos de cada sala somente poderão sair juntos. Caso o candidato insista em sair do local de aplicação das provas, deverá assinar um termo desistindo do Concurso Público e, caso se negue, deverá ser lavrado Termo de Ocorrência, testemunhado pelos 2 (dois) outros candidatos, pelo fiscal da sala e pelo Coordenador da Unidade.

RESULTADOS E RECURSOS

- Os gabaritos oficiais preliminares das provas objetivas serão divulgados na *internet*, no endereço eletrônico www.idecan.org.br, a partir das 16h00min do dia subsequente ao da realização das provas.
- O candidato que desejar interpor recursos contra os gabaritos oficiais preliminares das provas objetivas disporá de 2 (dois) dias úteis, a partir do dia subsequente à divulgação, em requerimento próprio disponibilizado no *link* correlato ao Concurso Público no endereço eletrônico www.idecan.org.br.
- A interposição de recursos poderá ser feita via *internet*, através do Sistema Eletrônico de Interposição de Recursos, com acesso pelo candidato ao fornecer dados referentes à sua inscrição apenas no prazo recursal, ao IDECAN, conforme disposições contidas no endereço eletrônico www.idecan.org.br, no *link* correspondente ao Concurso Público.