

# Prefeitura Municipal de Tenente Ananias/RN

## CONCURSO PÚBLICO Nº 001/2017



### Auxiliar de Secretaria

Tarde  
ÚNICO

Organizadora:



**Do que são feitos os heróis?**

*A ciência ainda tateia para entender o que determina ações repletas de altruísmo e coragem.*

Neste mês (02/2015), comemoram-se 70 anos do fim do Holocausto, o que nos faz lembrar não só as atrocidades cometidas pelos nazistas como os heróis que se arriscaram para salvar o próximo. Por que em momentos tão perigosos surgem heróis? O herói, frequentemente, ao explicar por que retirou uma vítima de automóvel em chamas ou um barco que afundava, dá a mesma resposta: agiu “sem pensar”.

Em editorial da *New Scientist*, *Michael Bond* cita estudos feitos com esses “heróis da vida diária” para entender o que têm em comum. O presidente da Fundação *Carnegie Hero Fund Commission*, que homenageia quem arrisca a vida para salvar os outros, repete seu fundador, afirmando que o heroísmo é um impulso. Agora, pesquisadores buscam entender como ativá-lo.

O sociólogo *Samuel Oliner*, que na infância foi salvo do nazismo ao ser escondido por uma amiga da família, passou a vida pesquisando por que alguém ajudaria o outro sem pensar em si próprio. Altruísmo é uma evolução adaptativa de comportamento, pois os grupos onde ele existe tendem a ser mais bem-sucedidos.

*Oliner* entrevistou 406 pessoas que se arriscaram para salvar judeus durante a Segunda Guerra, e outras 72 que simplesmente viveram na Europa nesse período. Os “heróis” mostraram-se mais empáticos e compartilhavam valores de justiça, compaixão e responsabilidade pelo próximo, conceitos que declararam ter aprendido com os pais. Também eram mais tolerantes com as diferenças, considerando como seu grupo toda a humanidade.

Para *Kristen Monroe*, da Universidade da Califórnia, que estudou a psicologia dos heróis do Holocausto, “onde a maioria das pessoas vê um estranho, o altruísta vê um amigo em necessidade”. O altruísta tende a ser constante em seus atos. *David Rand*, de *Yale*, que estuda jogos de cooperação, descobriu que quem costuma cooperar em um tipo de jogo tende a cooperar em todos, mesmo sem receber benefícios.

Que motivadores tornam as pessoas altruístas ainda está por ser descoberto, mas o que se sabe é que altruístas têm maior senso de igualdade e são influenciados pelo comportamento dos pais. Ou seja, há um componente biológico hereditário e um componente adquirido. Altruístas têm uma região do cérebro, a amígdala do lado direito, maior que o normal. Essa região reconhece faces com expressão de medo. Ou seja, tais pessoas conseguem reconhecer e responder mais rápido ao desespero alheio, ao contrário dos psicopatas, que possuem amígdalas menores. No entanto, ser altruísta é condição necessária, mas não única, para se tornar herói, o qual em potencial precisa também ter uma personalidade que assume riscos.

O heroísmo do dia a dia é difícil de ser estudado, pois é raro. A Fundação *Garnegie*, em seus 110 anos, condecorou apenas 10 mil deles. Uma saída seria estudar os heróis de guerra. Mas esses são diversos, pois os atos heroicos são inspirados mais por lealdade aos companheiros do que por altruísmo. Estudo feito com 283 soldados israelenses que receberam medalhas pela guerra do *Yom Kippur* não encontrou características de personalidade diferentes.

Heróis podem também ser forjados. Experiências no início da vida que trazem mais responsabilidades, como a morte de um dos pais ou ser filho mais velho de família grande, aumentam o senso de preocupação com o próximo. Por isso, *Oliner* propõe que atos de altruísmo sejam discutidos nos primeiros anos escolares, para que seja forjada uma personalidade altruística. Para o neurologista *Silas Weir*, que há mais de um século motivou seu amigo *Carnegie* a instituir o prêmio, “o Homem em situações de emergência é um fantoche do seu passado, que subitamente puxa as cordas e determina a ação”.

(TUMA, Rogério. Publicado em 04/02/2015. Disponível em: <http://www.cartacapital.com.br/revista/835/do-que-sao-feitos-os-herois-568.html>. Acesso em: 20/01/2017.)

**01**

**De acordo com as informações textuais, assinale a afirmativa correta.**

- A) O herói pensa antes de agir.
- B) Atitudes heroicas não são muito comuns atualmente.
- C) O fato de não consentir com as diferenças, estimula atos heroicos em determinadas pessoas.
- D) O herói sempre pensa em si mesmo colocando-se no lugar do outro, por isso pratica atos heroicos.

02

Acerca do altruísta, segundo o texto, é INCORRETO afirmar que

- A) não muda seus atos.
- B) age sem esperar algo em troca.
- C) o seu cérebro se difere do psicopata.
- D) adquire o altruísmo através da educação escolar.

03

De acordo com o contexto, assinale a alternativa cujo termo sublinhado pode ser substituído pelo o que está indicado nos parênteses sem que haja prejuízo semântico.

- A) “Os ‘heróis’ mostraram-se mais empáticos e compartilhavam valores de justiça,...” 4º§ (antipáticos)
- B) “Ou seja, tais pessoas conseguem reconhecer e responder mais rápido ao desespero alheio,...” 6º§ (liberto)
- C) “A ciência ainda tateia para entender o que determina ações repletas de altruísmo e coragem.” subtítulo (apalpa)
- D) “O heroísmo do dia a dia é difícil de ser estudado, pois é raro. A Fundação Carnegie, em seus 110 anos, condecorou apenas 10 mil deles.” 7º§ (galardoou)

04

São trechos em que o uso das vírgulas se justificam pelo mesmo motivo, EXCETO em:

- A) “No entanto, ser altruísta é condição necessária, mas não única, para se tornar herói, o qual em potencial precisa também ter uma personalidade que assume riscos.” (6º§)
- B) “O presidente da Fundação Carnegie Hero Fund Commission, que homenageia quem arrisca a vida para salvar os outros, repete seu fundador, afirmando que o heroísmo é um impulso.” (2º§)
- C) “O sociólogo Samuel Oliner, que na infância foi salvo do nazismo ao ser escondido por uma amiga da família, passou a vida pesquisando por que alguém ajudaria o outro sem pensar em si próprio.” (3º§)
- D) “Para Kristen Monroe, da Universidade da Califórnia, que estudou a psicologia dos heróis do Holocausto, ‘onde a maioria das pessoas vê um estranho, o altruísta vê um amigo em necessidade’.” (5º§)

05

“Altruístas têm uma região do cérebro, a amígdala do lado direito, maior que o normal.” (6º§) O trecho sublinhado trata-se de um aposto

- A) explicativo.
- B) resumitivo.
- C) enumerativo.
- D) especificativo.

06

Assinale a alternativa cujo termo sublinhado apresenta o referente indicado INCORRETAMENTE.

- A) “Agora, pesquisadores buscam entender como ativá-lo.” (2º§) / heroísmo
- B) “Altruísmo é uma evolução adaptativa de comportamento, pois os grupos onde ele existe tendem a ser mais bem-sucedidos.” (3º§) / altruísmo
- C) “Mas esses são diversos, pois os atos heroicos são inspirados mais por lealdade aos companheiros do que por altruísmo.” (7º§) / heróis de guerra
- D) “Para Kristen Monroe, da Universidade da Califórnia, que estudou a psicologia dos heróis do Holocausto, ‘onde a maioria das pessoas vê um estranho, o altruísta vê um amigo em necessidade’.” (5º§) / Universidade da Califórnia

07

No último parágrafo do texto, o autor afirma que: “Heróis podem também ser forçados.” (8º§) por que podem

- A) enganar a sua comunidade.
- B) inventar de maneira mentirosa situações de heroísmo.
- C) ser forçados a viver uma personalidade criada pela família.
- D) ser “moldados” a viver uma vida de heroísmo devido às circunstâncias que a vida lhes impõe.

08

“Neste mês (02/2015), comemoram-se 70 anos do fim do Holocausto, o que nos faz lembrar não só as atrocidades cometidas pelos nazistas como os heróis que se arriscaram para salvar o próximo.” (1º§) Os trechos anteriormente sublinhados exprimem, no contexto, a ideia de:

- A) Acréscimo.
- B) Contradição.
- C) Comparação.
- D) Conformidade.

09

Assinale a alternativa cujo trecho ou termos sublinhados apresenta classificação sintática DIFERENTE dos demais.

- A) "... ao contrário dos psicopatas, que possuem amígdalas menores." (6º§)  
B) "Ou seja, há um componente biológico hereditário e um componente adquirido." (6º§)  
C) "... passou a vida pesquisando por que alguém ajudaria o outro sem pensar em si próprio." (3º§)  
D) "Altruísmo é uma evolução adaptativa de comportamento, pois os grupos onde ele existe tendem a ser mais bem-sucedidos." (3º§)

10

Quanto à classificação do sujeito em "Neste mês (02/2015), comemoram-se 70 anos do fim do Holocausto,..." (1º§) assinale a alternativa correta.

- A) Sujeito simples. C) Sujeito desinencial.  
B) Sujeito composto. D) Sujeito indeterminado.

### RACIOCÍNIO LÓGICO

11

Ana e Bia são irmãs e resolveram dar um anel de ouro de presente para sua mãe. Considere que:

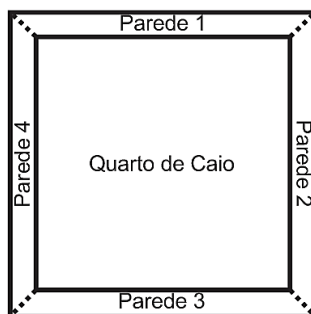
- cada uma das irmãs irá pagar a metade do valor do anel;
- o salário de Ana é R\$ 210,00 a mais do que o salário de Bia;
- Bia gastou  $\frac{2}{5}$  de seu salário para pagar sua parte do anel; e,
- após pagar sua metade do anel, Ana ficou com  $\frac{2}{3}$  de seu salário.

Quanto custou o anel de ouro que as irmãs deram de presente para a mãe?

- A) R\$ 760,00. B) R\$ 820,00. C) R\$ 840,00. D) R\$ 1.050,00.

12

Caio deseja pintar as quatro paredes de seu quarto com as seguintes cores: azul, vermelho ou verde, de modo que cada parede possua apenas uma cor.



De quantas maneiras distintas Caio pode pintar seu quarto com as cores citadas?

- A) 16. B) 27. C) 64. D) 81.

13

Considere um quadrilátero formado pelos pontos A, B, C e D, tais que:

- A (3 cm, 24 cm);
- B (12 cm, 18 cm);
- C (3 cm, 12 cm); e,
- D (0 cm, 20 cm).

Qual é o valor da área deste quadrilátero?

- A) 48 cm<sup>2</sup>. B) 54 cm<sup>2</sup>. C) 72 cm<sup>2</sup>. D) 108 cm<sup>2</sup>.

14

Considere a seguinte progressão geométrica:  $a_n = 5 \times 3^{(n-1)}$ . Qual é o valor de  $\frac{a_{12}}{a_{15}}$ ?

- A) 1/9. B) 1/25. C) 1/27. D) 1/125.

15

Considere a seguinte sequência:

(14, 41, X, 365, 1.094)

Qual é o valor de X na sequência apresentada?

- A) 121. B) 122. C) 123. D) 124.

16

Júlia fez uma aplicação bancária no valor de R\$ 1.000,00 e descobriu que irá receber R\$ 85,00 para cada 12 dias completos que este dinheiro permanecer nesta aplicação. Após quantos dias, no mínimo, o dinheiro que Júlia aplicou irá dobrar?

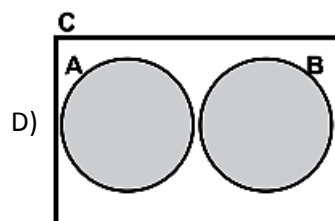
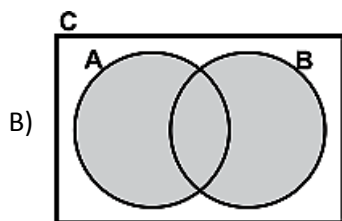
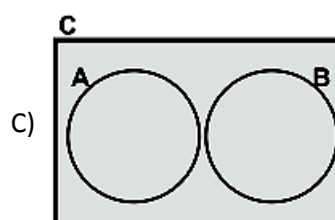
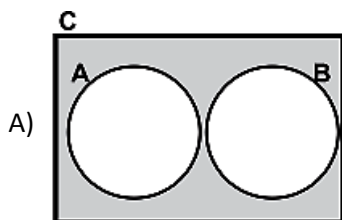
- A) 276 dias. B) 288 dias. C) 300 dias. D) 312 dias.

17

Sejam três conjuntos: A, B e C, finitos. Considere as seguintes informações:

- $C - A = B$ ; e,
- $C - B = A$ .

Sabendo que o Conjunto C está representado nos diagramas pela cor cinza, qual alternativa representa este conjunto corretamente?



18

Considere a seguinte inequação do segundo grau:

$$-2x^2 + 9x - 7 \geq 0$$

Qual é o valor do produto dos elementos inteiros da solução desta inequação?

- A) 4. B) -4. C) 6. D) -6.

19

Três companheiros Antônio, Beto e Carlos trabalham em uma fazenda. O proprietário desta fazenda deixou as seguintes tarefas a serem feitas naquela semana: alimentar os animais, cuidar da horta e consertar a cerca. Os companheiros resolveram dividir as tarefas e fizeram o planejamento com base nas seguintes informações:

- Beto é o menos experiente do que Antônio;
- Carlos não é o mais experiente;
- o mais experiente irá cuidar da horta; e,
- Carlos não ficou com a tarefa de alimentar os animais.

Considerando estas informações, é correto afirmar que

- A) Beto irá consertar a cerca e Antônio cuidará da horta.  
B) Carlos irá alimentar os animais e Antônio cuidará da horta.  
C) Carlos irá consertar a cerca e Beto irá alimentar os animais.  
D) Beto irá consertar a cerca e Carlos irá alimentar os animais.

20

Fabrcio quer encomendar um par de alianças para seu noivado e resolve contratar um ourives para trabalhar o ouro que ser utilizado em seu par de alianças. Com a intenco de economizar, Fabrcio resolve comparar o preo de dois ourives de sua cidade e descobriu que:

- o Ourives A cobra R\$ 150,00 de mo de obra mais R\$ 15,50 por grama de ouro a ser trabalhado; e,
- o Ourives B cobra R\$ 200,00 de mo de obra e R\$ 12,00 por grama de ouro a ser trabalhado.

Considere que Fabrcio possua uma quantia de ouro que seja um nmero inteiro. Qual deve ser o menor valor em gramas que Fabrcio dever utilizar na construo das alianças para que o Ourives B seja mais vantajoso?

- A) 13 g. B) 14 g. C) 15 g. D) 16 g.

**CONHECIMENTOS GERAIS**

21

“Por Estado entende-se a unidade administrativa de um territrio. No existe Estado sem territrio. O Estado  formado pelo conjunto de instituoes pblicas que representam, organizam e atendem (ao menos em tese) os anseios da populao que habita o seu territrio. Entre essas instituoes, podemos citar o governo, as escolas, as prisoes, os hospitais pblicos, o exrcito, dentre outras.”

(Disponvel em: [brasilecola.uol.com.br](http://brasilecola.uol.com.br).)

No mundo existem vrios modelos de Estado, e na Amrica e Europa predominam dois tipos: o Federalista e o Unitarista. Sobre os conceitos de cada um desses modelos de Estado, analise as afirmativas a seguir.

- Federalista:** composto por estados-membros de uma unio, onde estes so autnomos e no-soberanos, ou seja, possuem constituoes prprias e limitadas pela constituo originria.
- Unitarista:** composto por territrio uno e fundamentado em uma lei maior: a constituo Nacional.
- Unitarista:** composto por estados-membros de uma unio, onde estes so autnomos e no-soberanos, ou seja, possuem constituoes prprias e limitadas pela constituo originria.
- Federalista:** composto por territrio uno e fundamentado em uma lei maior: a constituo Nacional.

Esto corretas apenas as afirmativas

- A) I e II. B) II e III. C) III e IV. D) I e IV.

22



“Tributo  um tipo de gnero que comporta cinco espcies, sendo elas: imposto, taxa, contribuo de melhoria, contribuoes sociais e emprstimos compulsrios. Sendo assim, como pode-se denotar, o imposto  um tipo de tributo (como demonstrado na imagem abaixo, sendo eles divididos entre tributos da Unio, dos Estados ou dos Municpios) no podendo ser usado de forma generalizada para descrever toda prestao pecuniria compulsria, em moeda ou cujo valor nela se possa exprimir, que no constitua sano de ato ilcito, instituída em lei e cobrada mediante atividade administrativa plenamente vinculada.”

(Disponvel em: [portogente.com.br](http://portogente.com.br).)

Dos tributos a seguir, qual  o nico que trata de um imposto municipal?

- A) ISS – Imposto Sobre Servios.  
B) IRPJ – Imposto de Renda Pessoa Jurdica.  
C) ICMS – Imposto sobre Circulao de Mercadorias.  
D) IPVA – Imposto sobre a Propriedade de Veculos Automotores.

23



(Disponvel em: [historiaporimagem.blogspot.com.br](http://historiaporimagem.blogspot.com.br).)

Considerando as relaoes internacionais no sculo XX,  correto afirmar que as charges fazem referncia :

- A) Guerra Fria. B) I Guerra Mundial. C) II Guerra Mundial. D) Guerra de Secesso.

24

O Poder Legislativo, segundo o Art. 44 da Constituição Federal de 1988, é exercido pelo Congresso Nacional, que se compõe da Câmara dos Deputados e do Senado Federal. Sobre o congresso brasileiro, marque V para as afirmativas verdadeiras e F para as falsas.

- ( ) É um Congresso Unicameral.  
( ) A Câmara dos Deputados tem como prerrogativa a representação do povo brasileiro.  
( ) O Senado tem prerrogativa de representação dos entes federados.  
( ) O Congresso Nacional brasileiro possui funções estritamente legislativas (criação de leis).

A sequência está correta em

- A) F, V, F, V.                      B) F, V, V, F.                      C) V, F, V, F.                      D) V, F, F, V.

25

“PEA – População Economicamente Ativa – é um conceito elaborado para designar a população que está inserida no mercado de trabalho ou que, de certa forma, tem condições e está procurando se inserir nele para exercer algum tipo de atividade remunerada.”  
*(Disponível em: [brasilecola.uol.com.br](http://brasilecola.uol.com.br).)*

“Para o recebimento dos benefícios previdenciários, é necessário que o segurado esteja em uma situação de risco social, geralmente relacionada à perda da capacidade laboral ou de gerar renda. Também são conferidos benefícios para a maternidade, casos de morte e prisão.”  
*(Disponível em: [segurancadotrabalhown.com](http://segurancadotrabalhown.com).)*

Dentro de uma reflexão social, assinale, a seguir, a relação correta entre os dois trechos anteriores.

- A) Há uma relação de oposição entre o primeiro e segundo trecho.  
B) A relação empregada entre os textos possui nítida procrastinação.  
C) As citações tratam de pontos similares na legislação previdenciária.  
D) Os trechos compõem uma ideia de seguridade social em todas as fases da vida.

26

“A \_\_\_\_\_, como é conhecida mundialmente, foi uma onda revolucionária de manifestações e protestos, contra ditadores e por melhorias sociais, que ocorreram no Oriente Médio e no Norte da África a partir de 18 de dezembro de 2010. Houve revoluções na Tunísia e no Egito, uma guerra civil na Líbia e na Síria; também ocorreram grandes protestos na Argélia, Bahrein, Djibuti, Iraque, Jordânia, Omã e Iémen e protestos menores no Kuwait, Líbano, Mauritânia, Marrocos, Arábia Saudita, Sudão e Saara Ocidental. Os protestos compartilharam técnicas de resistência civil em campanhas sustentadas envolvendo greves, manifestações, passeatas e comícios, bem como o uso das mídias sociais, como Facebook, Twitter e Youtube, para organizar, comunicar e sensibilizar a população e a comunidade internacional em face de tentativas de repressão e censura na internet por partes dos Estados.”

*(Disponível em: [guiadoestudante.abril.com.br](http://guiadoestudante.abril.com.br).)*

Assinale a alternativa que completa corretamente a afirmativa anterior.

- A) Primavera Árabe                      C) Insurreição Mulçumana  
B) Revolução Árabe                      D) Revolta Judaico-Islâmica

27

Observe as imagens.



*(Disponível em: [www.historiadasartes.com](http://www.historiadasartes.com).)*

As obras arquitetônicas anteriores remetem a qual estilo artístico?

- A) Gótico.                      B) Clássico.                      C) Modernista.                      D) Renascentista.

**28**

“Chamamos de inclusão digital a tentativa de garantir a todas as pessoas o acesso às tecnologias de informação e comunicação (TICs). A ideia é que todas as pessoas, principalmente as de baixa renda, possam ter acesso a informações, fazer pesquisas, mandar *e-mails* e mais: facilitar sua própria vida fazendo uso da tecnologia.”

(Disponível em: [www.infoescola.com](http://www.infoescola.com).)

Nesse contexto, o Ministério da Ciência, Tecnologia, Inovação e Telecomunicações – MCTIT tem realizado alguns programas no intuito de promover essa benfeitoria social. Dentre as alternativas a seguir, assinale a que apresenta um programa governamental para inclusão digital.

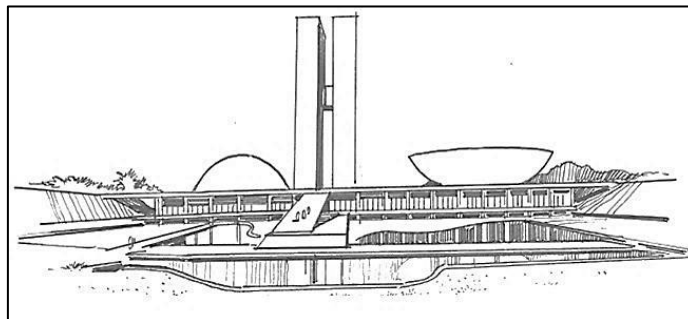
A) PNLD.

B) GESAC.

C) PRONAF.

D) PROALFA.

**29**



(Disponível em: [observatorio.setur.df.gov.br](http://observatorio.setur.df.gov.br).)

A ilustração representa a sede do poder

A) judiciário do Estado brasileiro.

B) executivo do Estado brasileiro.

C) legislativo do Estado brasileiro.

D) moderador do Estado brasileiro.

**30**



(Disponível em: [portogente.com.br](http://portogente.com.br).)

A imagem anterior remete a

A) uma realidade logística disponível em todo o território brasileiro.

B) uma forma racionalizada de transporte denominada multimodalidade.

C) infraestrutura de integração territorial existente na região Norte do Brasil.

D) uma forma de intermodalidade logística, cuja dutovia é a principal estrutura no Brasil.

### **CONHECIMENTOS ESPECÍFICOS**

**31**

A motivação é tão importante para o desempenho humano que já se tornou um mito para os gerentes. São fatores que o gestor poderá utilizar para estimular a motivação das pessoas, EXCETO:

A) Ser um bom líder.

B) Trabalhar em equipe.

C) Implantar inventários rotineiros.

D) Promover um ambiente de trabalho seguro e saudável.



**32**

Relações trabalhistas referem-se ao sistema de relações entre os trabalhadores e a administração. As principais ações a serem desenvolvidas para o atendimento das necessidades dos funcionários por meio dos programas de relacionamento incluem, EXCETO:

- A) Proteção. B) Cooperação. C) Comunicação. D) Política salarial.

**33**

“No ambiente de trabalho, em sua maioria, apresentam algum agente agressor e riscos de acidentes e/ou doenças funcionais, os quais estão entre as principais ameaças à saúde dos trabalhadores. Os agentes que afetam a qualidade do ambiente de trabalho e o trabalhador, por meio de umidade, é classificado como agentes

- A) físicos. B) químicos. C) biológicos. D) ergonômicos.

**34**

Com referência à segurança do trabalho a exposição constante e habitual ou intermitente a um agente nocivo à saúde, tendo maior probabilidade de comprometê-la em curto espaço de tempo denomina-se:

- A) Ato inseguro. B) Insalubridade. C) Incidente crítico. D) Condição insegura.

**35**

Uma empresa emitiu a seguinte correspondência:

**Assunto: Obras no Estacionamento**

“Entre os dias 1º e 15 do mês de março de 2017, o setor de estacionamento da empresa passará por obras de reforma estrutural, de modo a melhorar o serviço prestado aos funcionários. Durante esse período o local estará interditado sendo liberado o uso do pátio dos fundos para guarda dos veículos. O texto se refere à modalidade de comunicação denominada de \_\_\_\_\_.” Assinale a alternativa que completa corretamente a afirmativa anterior.

- A) ofício B) carta C) circular D) atestado

**36**

Uma biblioteca apresenta um método de arquivamento em que procuram reunir os documentos em uma ordem lógica, ficando da seguinte maneira:

000 Obras Gerais

100 Filosofia

200 Religião

300 Sociologia

400 Filologia

O sistema de arquivamento adotado denomina-se:

- A) Assunto. B) Alfabético. C) Numérico. D) Classificado.

**37**

Considere a planilha produzida com a ferramenta *Microsoft Office Excel 2007* (Configuração Padrão).

	A	B
1	Produto	Unidades
2	Pneu A	2000
3	Pneu B	500
4	Pneu C	2000
5	Pneu D	100
6		
7		

Se na célula A6 for digitada a fórmula =MÉDIASE(B3:B5;">100"), pode-se afirmar que o resultado será:

- A) 1000. B) 1150. C) 1250. D) 1500.

38

Na ferramenta *Microsoft Office Word 2007* (Configuração Padrão), são recursos disponíveis no grupo Ilustrações da guia Inserir, EXCETO:

- A) Formas. B) Gráfico. C) Imagem. D) *WordArt*.

39

Na ferramenta *Microsoft Office Word 2007* (Configuração Padrão – Idioma Português do Brasil), as teclas de atalho utilizadas para abrir a caixa de diálogo para localizar dados em um documento e para abrir a caixa que permite inserir um *hiperlink* em um documento são, respectivamente:

- A) Ctrl+L e Ctrl+K. B) Ctrl+F e Ctrl+I. C) Ctrl+B e Ctrl+H. D) Ctrl+E e Ctrl+L.

40

Na ferramenta *Microsoft Office Excel 2007* (Configuração Padrão), a caixa de seleção "*Formato de Número*" (guia Início, grupo número) é utilizada para escolher como os valores de uma célula serão exibidos. São opções de formato disponíveis nessa caixa, EXCETO:

- A) Hora. B) Geral. C) Contábil. D) Romano.

### **ATENÇÃO**



**NÃO É PERMITIDA** a anotação das respostas da prova em QUALQUER MEIO.  
O candidato flagrado nesta conduta poderá ser **ELIMINADO** do processo.



## INSTRUÇÕES

1. Material a ser utilizado: caneta esferográfica de tinta azul ou preta, feita de material transparente. Os objetos restantes devem ser colocados em local indicado pelo fiscal da sala, inclusive aparelho celular desligado e devidamente identificado.
2. Não é permitida, durante a realização das provas, a utilização de máquinas calculadoras e/ou similares, livros, anotações, impressos ou qualquer outro material de consulta, protetor auricular, lápis, lapiseira, borracha ou corretivo. Especificamente, não é permitido que o candidato ingresse na sala de provas sem o devido recolhimento, com respectiva identificação, dos seguintes equipamentos: *bip*, telefone celular, *walkman*, agenda eletrônica, *notebook*, *palmtop*, *ipod*, *ipad*, *tablet*, *smartphone*, mp3, mp4, *pendrive*, receptor, gravador, máquina de calcular, máquina fotográfica, controle de alarme de carro, relógio de qualquer modelo e etc.
3. Não será permitido ao candidato realizar anotação de informações relativas às suas respostas no comprovante de inscrição ou em qualquer outro meio.
4. Durante a prova, o candidato não deve levantar-se, comunicar-se com outros candidatos e fumar.
5. A duração da prova é de 03 (três) horas, já incluindo o tempo destinado à entrega do Caderno de Provas e à identificação – que será feita no decorrer da prova – e ao preenchimento do Cartão de Respostas (Gabarito).
6. Com vistas à garantia da segurança e integridade desse certame, os candidatos serão submetidos ao sistema de detecção de metais quando do ingresso e saída de sanitários. Excepcionalmente, poderão ser realizados, a qualquer tempo durante a realização das provas, outros procedimentos de vistoria além do descrito. Ao término da prova o candidato deverá se retirar do recinto de aplicação, não lhe sendo mais permitido o ingresso nos sanitários.
7. O Caderno de Provas consta de 40 (quarenta) questões. Leia-o atentamente.
8. **As questões das provas objetivas são do tipo múltipla escolha, com 04 (quatro) opções (A a D) e uma única resposta correta.**
9. Ao receber o material de realização das provas, o candidato deverá conferir atentamente se o Caderno de Provas corresponde ao cargo a que está concorrendo, bem como se os dados constantes no Cartão de Respostas (Gabarito) que lhe foi fornecido estão corretos. Caso os dados estejam incorretos, ou o material esteja incompleto, ou tenha qualquer imperfeição, o candidato deverá informar tal ocorrência ao fiscal.
10. Os fiscais não estão autorizados a emitir opinião e prestar esclarecimentos sobre o conteúdo das provas. Cabe única e exclusivamente ao candidato interpretar e decidir.
11. O candidato somente poderá retirar-se do local de realização das provas escritas levando o Caderno de Provas no decurso dos últimos 30 (trinta) minutos anteriores ao horário previsto para o seu término. O candidato, também, poderá retirar-se do local de provas somente a partir dos 90 (noventa) minutos após o início de sua realização, contudo não poderá levar consigo o Caderno de Provas.
12. Os 3 (três) últimos candidatos de cada sala somente poderão sair juntos. Caso o candidato insista em sair do local de aplicação da prova, deverá assinar termo desistindo do Concurso Público e, caso se negue, deverá ser lavrado Termo de Ocorrência, testemunhado pelos 2 (dois) outros candidatos, pelo fiscal de aplicação da sala e pelo Coordenador da Unidade.

## RESULTADOS E RECURSOS

- Os gabaritos oficiais preliminares das provas objetivas serão divulgados na *internet*, no endereço eletrônico [www.idecan.org.br](http://www.idecan.org.br), a partir das 16h00min do dia subsequente ao da realização das provas.
- O candidato que desejar interpor recursos contra os gabaritos oficiais preliminares das provas objetivas disporá de 2 (dois) dias úteis, a partir do dia subsequente à divulgação, em requerimento próprio disponibilizado no *link* correlato ao Concurso Público no endereço eletrônico [www.idecan.org.br](http://www.idecan.org.br).
- A interposição de recursos poderá ser feita via *internet*, através do Sistema Eletrônico de Interposição de Recursos, com acesso pelo candidato ao fornecer dados referentes à sua inscrição apenas no prazo recursal, ao IDECAN, conforme disposições contidas no endereço eletrônico [www.idecan.org.br](http://www.idecan.org.br), no *link* correspondente ao Concurso Público.