

Concurso Público

Técnico Administrativo em Educação



Edital N.º 27, de 11/04/2014

Cargo:

Economista

CADERNO DE PROVA

Nome do Candidato

Número de Inscrição

							-
--	--	--	--	--	--	--	---

Assinatura do Candidato

--



Secretaria de Articulação e Relações Institucionais
Gerência de Exames e Concursos

INSTRUÇÕES

LEIA COM ATENÇÃO

1. Este Caderno de Prova, com páginas numeradas de 1 a 15, é constituído de **40 (quarenta)** questões objetivas, cada uma com **4 (quatro)** alternativas, assim distribuídas:
01 a 10 – Língua Portuguesa
11 a 20 – Informática
21 a 40 – Conhecimentos Específicos
2. Caso o Caderno de Prova esteja incompleto ou tenha qualquer defeito de impressão, solicite ao fiscal que o substitua.
3. **Sobre a Marcação do Cartão de Respostas**

As respostas deverão ser transcritas com caneta esferográfica de tinta azul ou preta não porosa para o Cartão de Respostas, que será o único documento válido para correção.

- 3.1. Para cada questão existe apenas uma alternativa que a responde acertadamente. Para a marcação da alternativa escolhida no **CARTÃO DE RESPOSTAS**, pinte **completamente** o círculo correspondente.


Exemplo: Suponha que para determinada questão a alternativa C seja a escolhida.

N.º da Questão
<input type="radio"/> A
<input type="radio"/> B
<input checked="" type="radio"/>
<input type="radio"/> D

- 3.2. Marque apenas uma alternativa para cada questão.
 - 3.3. Será invalidada a questão em que houver mais de uma marcação, marcação rasurada ou emendada, ou não houver marcação.
 - 3.4. Não rasure nem amasse o **CARTÃO DE RESPOSTAS**.
4. Todos os espaços em branco, neste caderno, podem ser utilizados para rascunho.
 5. A duração da prova é **4 (quatro)** horas, já incluído o tempo destinado ao preenchimento do **CARTÃO DE RESPOSTAS**.
 6. Somente após decorridas **2 horas e 30 minutos** do início da prova, o candidato, depois de entregar seu Caderno de Prova e seu Cartão de Respostas, poderá retirar-se da sala de prova. O candidato que insistir em sair da sala de prova antes desse tempo deverá assinar **Termo de Ocorrência** declarando sua desistência do concurso.
 7. Será permitida a saída de candidatos levando o Caderno de Prova somente **na última meia hora** de prova.
 8. Na página **15** deste Caderno de Prova, encontra-se a **Folha de Anotação do Candidato**, a qual poderá ser utilizada para a transcrição das respostas das questões objetivas. Essa folha poderá ser levada pelo candidato para posterior conferência com o gabarito somente após decorridas **2 horas e 30 minutos** do início da prova.
 9. Após o término da prova, o candidato deverá, obrigatoriamente, entregar ao fiscal o **CARTÃO DE RESPOSTAS** devidamente assinado e preenchido.

LÍNGUA PORTUGUESA


INSTRUÇÃO: Leia a propaganda abaixo e responda às questões 01 e 02.



As botas
do Jurandir
se acidentaram.
O Jurandir
continua
pisando firme
no emprego.

Equipamentos de Proteção Individual salvam vidas.
Quem usa e se previne só tem a ganhar.

Procuradoria Regional do Trabalho da 23ª Região
Coordenadoria Nacional de Defesa
Do Meio ambiente do Trabalho - CODEMAT



(Jornal Diário de Cuiabá, 03/07/2013.)

QUESTÃO 01

Em relação à propaganda, analise as afirmativas.

- I - As botas já desgastadas, como mostra a figura, causam acidentes, por isso foi feita a propaganda.
- II - A intenção da propaganda é estimular o uso de equipamentos de proteção individual pelo trabalhador.
- III - A figura das botas tem caráter metafórico, simboliza o equipamento que pode salvar a vida de quem o usa.
- IV - A propaganda se dirige diretamente aos fabricantes de equipamentos de proteção individual no sentido de aperfeiçoar cada um para garantir a saúde do trabalhador.

Estão corretas as afirmativas

- (A) II e III, apenas.
- (B) I, III e IV, apenas.
- (C) II e IV, apenas.
- (D) I, II e IV, apenas.

QUESTÃO 02

Sobre a linguagem do texto, assinale a afirmativa correta.

- (A) A expressão *pisando firme* no texto sugere passos seguros, andar certo, pessoas que se mostram decididas.
- (B) A frase *Quem usa e se previne só tem a ganhar* pode ser entendida da seguinte forma: A pessoa que utiliza botas não corre risco de perder a vida.
- (C) Nas duas frases em letras maiores, há linguagem denotativa, isto é, não devem ser lidas em sentido literal.
- (D) Todas as formas verbais usadas no texto estão no presente do indicativo, indicando ações que ocorrem no momento da escrita.

QUESTÃO 03

Mais da metade dos brasileiros (54%) troca de celular em menos de três anos e 81% nem sequer recorrem à assistência técnica antes, segundo o Instituto Brasileiro de Defesa do Consumidor (IDEC). Um em cada três celulares e eletroeletrônicos é substituído quando para de funcionar, o que mostra desperdício. Quando não é a obsolescência programada, o motivo da troca é a obsolescência psicológica: a volúpia por um equipamento mais atual. Foram entrevistadas 806 pessoas (homens e mulheres), de 18 a 69 anos, de diferentes classes sociais, em nove capitais do Brasil. Brasileiros são loucos por celulares.

(Revista Planeta, março de 2014.)

Sobre aspectos da concordância verbal no texto, marque V para as afirmativas verdadeiras e F para as falsas.

- () No trecho *Mais da metade dos brasileiros (54%) troca de celular*, o verbo está no singular, mas deveria estar no plural por referir-se à porcentagem (54%).
- () Em *Foram entrevistadas 806 pessoas*, mesmo o sujeito estando posposto ao verbo, a concordância é feita com ele.
- () No fragmento *81% nem sequer recorrem*, o verbo está no plural em função de referir-se à porcentagem 81%.
- () Em *Um em cada três celulares e eletroeletrônicos é substituído*, como o núcleo da expressão *um em cada três* é o numeral um, o verbo deve estar no singular.

Assinale a sequência correta.

- (A) V, V, F, F
- (B) F, V, V, V
- (C) F, F, F, V
- (D) V, F, V, F

INSTRUÇÃO: Leia o texto abaixo e responda às questões de 04 a 08.

Falar de leite já foi bem mais simples. Por muito tempo o consumo do produto foi ponto passivo na nutrição. Atualmente é tema polêmico. Cientistas e médicos questionam as *benesses* desse hábito entranhado. O debate é acirrado, principalmente, por envolver os interesses de um mercado global e por afetar paixões gastronômicas. Se a discussão girasse em torno da alface, os ânimos não se exaltariam da mesma forma. Deixar de comer alface seria um alívio para muita gente. Já abrir mão de queijos, iogurtes, sorvetes ou leite – seja de vaca, cabra, búfala ou ovelha – beira o sacrifício.

O consumo do leite surgiu há dez mil anos, no período Neolítico, quando a espécie humana deixou de ser nômade e se fixou na terra, desenvolvendo a agricultura e a criação de animais para conquistar segurança alimentar. Desde então, o leite materno passou a ser substituído, já nos primeiros meses de vida, pelo de outros mamíferos. [...]

Poinsignon, médico e pesquisador francês, apresenta uma longa lista de doenças respiratórias, osteoarticulares, digestivas, autoimunes e cutâneas, derivadas do consumo do leite animal. Para o estudioso, o único leite adequado à espécie humana é o materno, e nenhum mamífero adulto consome o leite de sua mãe. A tese de Poinsignon é simples: somos vítimas das indústrias alimentícia e farmacêutica e da propaganda. Você quer curar ou prevenir doenças? Mude de dieta.

[...]

(MESQUITA, R.V. Difícil de engolir. *Revista Planeta*, março de 2014.)

QUESTÃO 04

Ao construir a argumentação, pode-se trabalhar com ideias implícitas, reveladas por elementos da linguagem. Assinale o trecho do texto que **NÃO** apresenta implícito.

- (A) *Falar de leite já foi bem mais simples.*
- (B) *Cientistas e médicos questionam as benesses desse hábito entranhado.*
- (C) *quando a espécie humana deixou de ser nômade*
- (D) *Por muito tempo o consumo do produto foi ponto passivo na nutrição.*

QUESTÃO 05

A pontuação é primordial em um texto por contribuir com a organização, com a demarcação de unidades e sinalização de limites da estrutura sintática. Sobre o uso de sinais de pontuação, analise as afirmativas.

- I - Em *Já abrir mão de queijos, iogurtes, sorvetes ou leite – seja de vaca, cabra, búfala ou ovelha – beira o sacrifício.*, os travessões poderiam ser substituídos por vírgulas, com a mesma função.
- II - No trecho *Desde então, o leite materno passou a ser substituído*, a presença da vírgula serve para isolar uma expressão temporal fora de sua posição canônica na língua portuguesa.
- III - Em *A tese de Poinignon é simples: somos vítimas das indústrias alimentícia e farmacêutica*, os dois pontos introduzem a tese referida anteriormente.
- IV - Em *Poinignon, médico e pesquisador francês, apresenta uma longa lista de doenças respiratórias*, as vírgulas foram usadas para destacar o vocativo.

Está correto o que se afirma em

- (A) II, III e IV, apenas.
- (B) I e IV, apenas.
- (C) II e III, apenas.
- (D) I, II e III, apenas.

QUESTÃO 06

Sobre elementos da língua presentes no texto, assinale a afirmativa correta.

- (A) Há três ocorrências da palavra *já* e, em todas elas, o sentido é o mesmo: tempo.
- (B) Em *para conquistar segurança alimentar*, a preposição indica sentido de concessão.
- (C) Sentido de condição é expresso no trecho *Se a discussão girasse em torno da alface, os ânimos não se exaltariam da mesma forma.*
- (D) A conjunção *e* apresenta a função de ligar orações nos seguintes trechos: *desenvolvendo a agricultura e a criação de animais* e *a espécie humana deixou de ser nômade e se fixou na terra.*

QUESTÃO 07

Os advérbios e as expressões adverbiais têm como principal função na língua caracterizar com mais precisão o processo ou estado indicado pelo verbo (ABAURRE, 2014). Assinale o trecho em que o advérbio ou expressão adverbial grifada **NÃO** acrescenta circunstância de tempo ao verbo.

- (A) *Se a discussão girasse em torno da alface, os ânimos não se exaltariam da mesma forma.*
- (B) *O consumo do leite surgiu há dez mil anos, no período Neolítico, quando a espécie humana deixou de ser nômade e se fixou na terra*
- (C) *Desde então, o leite materno passou a ser substituído, já nos primeiros meses de vida, pelo de outros mamíferos.*
- (D) *Atualmente é tema polêmico.*

QUESTÃO 08

Um texto apresenta coesão quando há conexão e harmonia entre as partes que o compõem. Em relação a elementos coesivos no texto, assinale a afirmativa **INCORRETA**.

- (A) O termo *produto* (linha 1) recupera leite, consistindo em coesão lexical.
- (B) O pronome demonstrativo em *desse hábito* (linha 02) conduz o sentido de hábito para beber leite, exemplo de coesão referencial.
- (C) No trecho *pelo de outros mamíferos* (linhas 9 e 10), subentende-se pelo leite de outros mamíferos, exemplo de coesão sequencial.
- (D) A palavra *estudioso* (linha 12) retoma o nome Poinsignon, consistindo em coesão lexical.

INSTRUÇÃO: Leia o fragmento e responda às questões 09 e 10.

O trem saiu lotado da estação de Itapevi, na manhã de um sábado quente e ensolarado de janeiro. Cerca de 200 jovens do município da Grande São Paulo se preparavam para ir a um encontro marcado cinco semanas antes pelo Facebook. Ao todo, 1906 pessoas tinham confirmado presença no Parque Villa-Lobos, a 20 quilômetros da estação. Os meninos e as meninas faziam mais um rolezinho, como os que já aconteciam desde dezembro em shoppings e parques na periferia de São Paulo. Os encontros reuniram milhares de adolescentes, e em alguns houve violência e confusão.

[...]

Por trás dos encontros, também está a nova realidade econômica do país. Na última década, o aumento da renda e do consumo, em especial nas famílias de classe C, fez crescer, e muito, a quantidade de pessoas que podem ter um computador ou um smatphone conectado à internet.

(Revista Info, fevereiro de 2014.)

QUESTÃO 09

Sobre o fragmento, assinale a afirmativa correta.

- (A) O texto é um simples relato, com personagens, unidade de tempo e lugar, clímax e desfecho.
- (B) O uso de *meninos* e *meninas* é uma exigência semântica, pois somente o termo *meninos* não abarcaria, segundo regras do português, o sentido de ambos, pois são palavras de gêneros diferentes.
- (C) Em geral, os rolezinhos, além de ser momento para pequenos furtos, terminam em violência contra os próprios participantes.
- (D) O texto sugere que há outras razões para a ocorrência dos rolezinhos, além da melhoria da situação econômica dos brasileiros.

QUESTÃO 10

Em relação a aspectos gramaticais, assinale a afirmativa correta.

- (A) O trecho *Os encontros reuniram milhares de adolescentes, e em alguns houve violência e confusão* poderia ser reescrito, sem prejuízo do sentido, da forma: Os encontros reuniram milhares de adolescentes. Em alguns, houve violência e confusão.
- (B) Em *no Parque Villa-Lobos, a 20 quilômetros da estação*, por indicar uma medida de comprimento, o verbo haver deveria ter sido usado: *no Parque Villa-Lobos, há 20 quilômetros da estação*.
- (C) Em *Cerca de 200 jovens do município da Grande São Paulo se preparavam*, ocorreu ênclise, que é a tendência da língua portuguesa do Brasil quando não houver palavras ou expressões atrativas para o uso da próclise.
- (D) Em *o aumento da renda e do consumo, em especial nas famílias de classe C, fez crescer*, a expressão verbal refere-se à renda e ao consumo, assim o plural seria correto.

INFORMÁTICA

QUESTÃO 11

Sobre o Internet Explorer 10, marque V para as afirmativas verdadeiras e F para as falsas.

- () Complementos, tais como o Adobe Flash, o Quicktime e o Silverlight, são aplicativos usados pelo Internet Explorer para interagir com conteúdo da Web como vídeos e jogos.
- () A Filtragem ActiveX impede que os sites instalem e utilizem aplicativos ActiveX, fazendo com que a navegação fique mais segura, entretanto o desempenho de alguns sites pode ser afetado.
- () O Internet Explorer 10 não permite importar os favoritos de outros navegadores, mas permite a importação dos favoritos de versões mais antigas.
- () O Gerenciador de Downloads mantém os arquivos baixados salvos na pasta Downloads, mas não permite mover os downloads da pasta Downloads para outros locais no computador.

Assinale a sequência correta.

- (A) F, F, V, V
- (B) F, V, V, F
- (C) V, F, F, V
- (D) V, V, F, F

QUESTÃO 12

Sobre o Windows 7, analise as afirmativas.

- I - Não é possível configurar permissões de acesso a pastas e arquivos para usuários do Windows 7, entretanto pode-se inserir diretamente uma senha de acesso para cada pasta/arquivo.
- II - O Sistema de Arquivos com Criptografia (EFS) é um recurso do Windows 7 que pode ser usado para armazenar informações no disco rígido em um formato criptografado.
- III - No Windows Explorer, um usuário tem a opção de ocultar a visualização de um determinado arquivo criado por ele, acessando a janela de propriedades desse arquivo.

Está correto o que se afirma em

- (A) I e III, apenas.
- (B) II e III, apenas.
- (C) II, apenas.
- (D) I, apenas.

QUESTÃO 13

A figura abaixo apresenta uma planilha do Microsoft Excel 2007 (idioma Português).

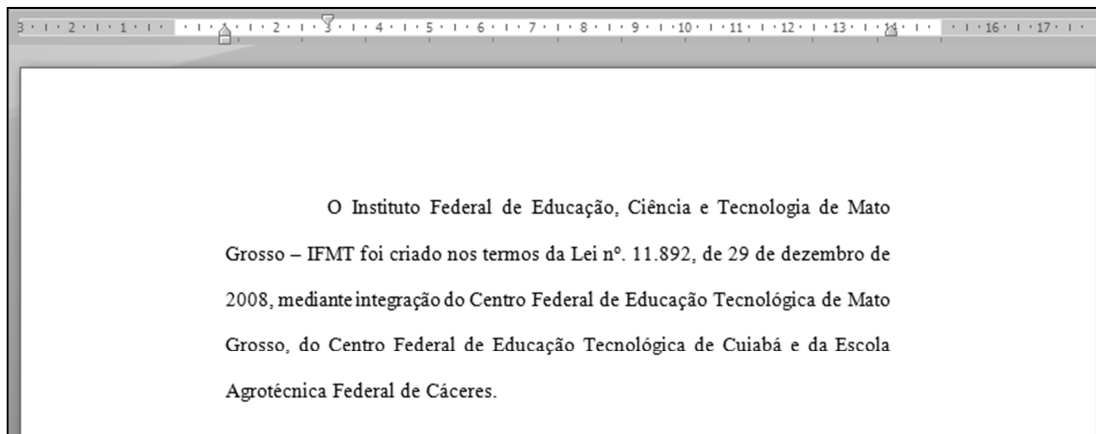
	A	B	C
1	10	15	
2	25	20	
3			

De acordo com a planilha, quais valores seriam retornados, respectivamente, pelas fórmulas $=A1^2-A2-B1-B2$ e $=SE(A2-B1>B2-A1;A1;B2)$?

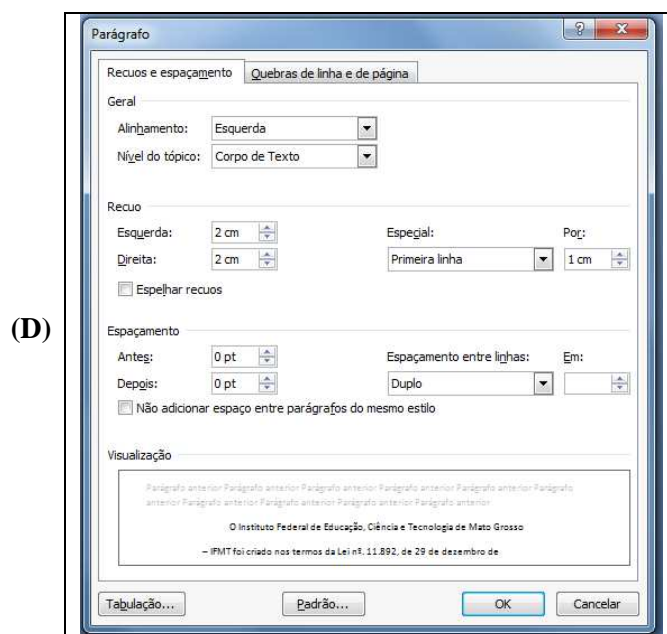
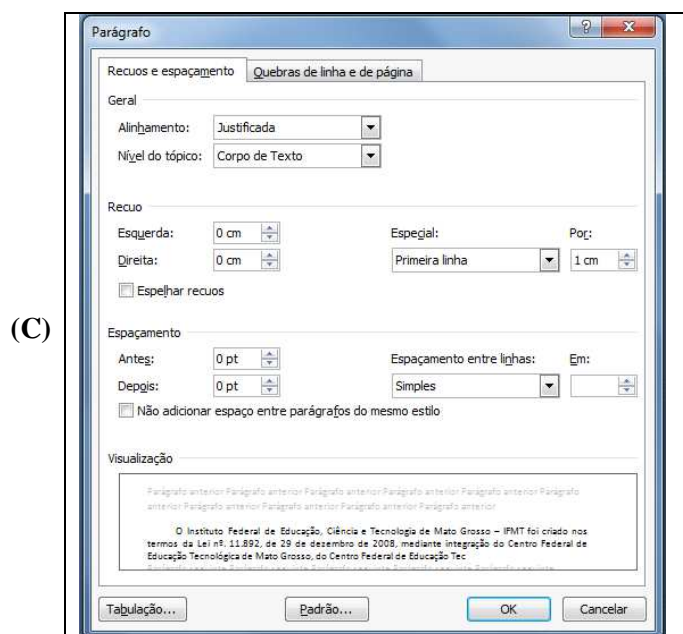
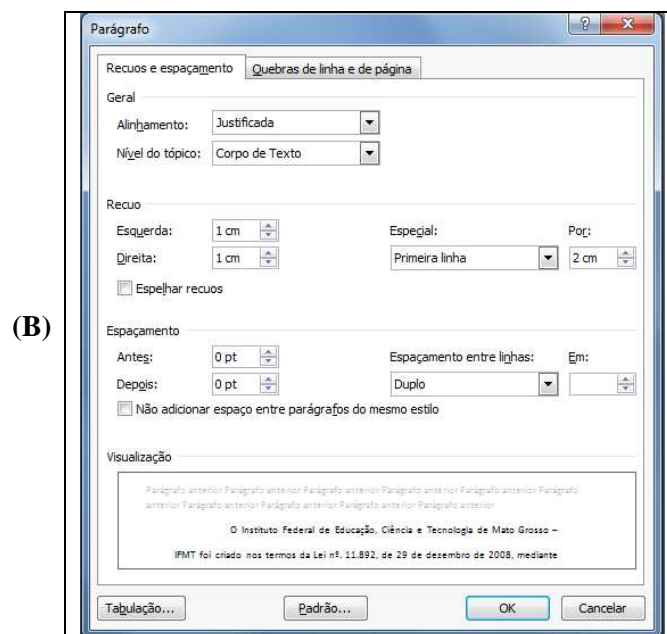
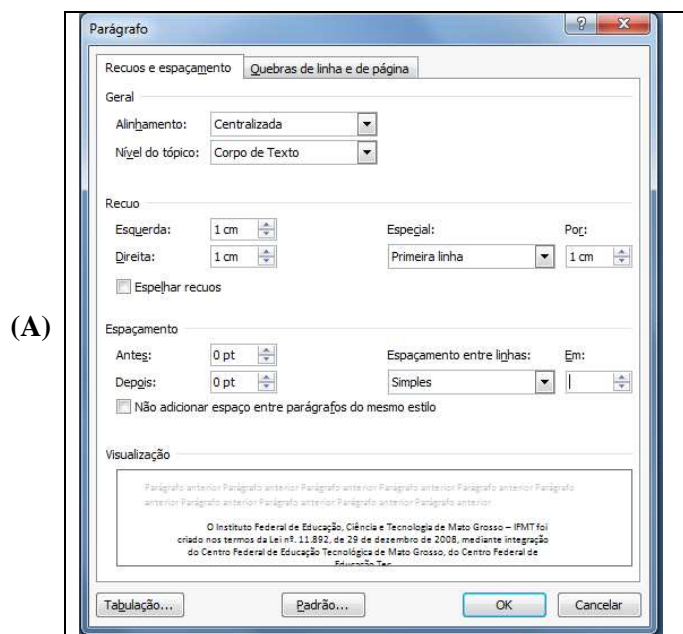
- (A) -40 e 10
- (B) -55 e 20
- (C) 40 e 20
- (D) 40 e 10

QUESTÃO 14

A figura abaixo apresenta um texto do Microsoft Word 2007 (idioma Português).



Assinale a alternativa que apresenta a formatação de parágrafo utilizada no texto mostrado na figura.



QUESTÃO 15

A respeito de conceitos de hardware, marque V para as afirmativas verdadeiras e F para as falsas.






- () O armazenamento baseado em RAID é formado por um conjunto de unidades de discos físicos, visto pelo sistema operacional como uma única unidade lógica.
- () Os discos SSD, diferentemente dos tradicionais discos rígidos magnéticos, não utilizam partes móveis em sua composição, o que os torna mais resistentes a quedas.
- () O *laser* das impressoras a *laser* é utilizado para queimar o papel nos locais onde se deseja gravar as imagens e caracteres que se quer imprimir.
- () Um chip *multicore* combina 2 ou mais processadores em um único chip de computador.

Assinale a sequência correta.

- (A) V, V, F, V
- (B) V, F, V, F
- (C) F, V, F, F
- (D) F, F, V, V

QUESTÃO 16

A coluna da esquerda apresenta ícones de botões do LibreOffice Writer 4.2.2 (idioma Português) e a da direita, a identificação de cada um. Numere a coluna da direita de acordo com a da esquerda.

- 1 -  () Tabela
- 2 -  () Ativar/Desativar marcadores
- 3 -  () Diminuir recuo
- 4 -  () Exportar diretamente como PDF
- 5 -  () Negrito

Marque a sequência correta.

- (A) 3, 4, 2, 5, 1
- (B) 5, 3, 1, 2, 4
- (C) 4, 2, 5, 1, 3
- (D) 4, 3, 5, 2, 1

QUESTÃO 17

A respeito da Internet e de seus conceitos de segurança, analise as afirmativas a seguir.

- I - *Applets* Java são pequenos programas que podem ser embutidos em uma página Web e executados quando um navegador carrega essa página.
- II - Ao usar navegadores Web, a liberação dos *cookies* garante maior segurança e privacidade ao se preencher dados em formulários Web.
- III - Os protocolos HTTPS, SSL e TLS são utilizados para assegurar a confidencialidade e a integridade das informações na Internet.

Está correto o que se afirma em

- (A) I e II, apenas.
- (B) II e III, apenas.
- (C) I, II e III.
- (D) I e III, apenas.

QUESTÃO 18

Ao digitar na barra de pesquisa do Google o termo: **IFMT filetype:pdf**, o que será exibido nos resultados de pesquisa?

- (A) Arquivos do tipo pdf hospedados apenas no site www.ifmt.edu.br.
- (B) Arquivos do tipo pdf hospedados apenas no site www.ifmt.edu.br e que contenham a palavra IFMT.
- (C) Arquivos do tipo pdf que contenham a palavra IFMT.
- (D) Arquivos do tipo pdf hospedados apenas no site www.ifmt.edu.br e que contenham a palavra filetype.

QUESTÃO 19

Observe a figura abaixo que apresenta uma janela do Mozilla Firefox 28.0, quando executado no Microsoft Windows 7.



Levando em consideração a figura acima, pode-se afirmar que o usuário, para visualizar a opção de desabilitar ou habilitar o bloqueio de janelas *popup*, deve clicar

- (A) no botão Opções e, após o aparecimento da janela denominada Opções, selecionar a aba Conteúdo.
- (B) no botão Opções e, após o aparecimento da janela denominada Opções, selecionar a aba Privacidade.
- (C) no botão Complementos e, após o aparecimento da janela denominada Complementos, selecionar a aba Segurança.
- (D) no botão Complementos e, após o aparecimento da janela denominada Complementos, selecionar a aba Geral.

QUESTÃO 20

A coluna da esquerda apresenta termos relacionados a e-mail e a da direita, a caracterização de cada termo. Numere a coluna da direita de acordo com a da esquerda.

- | | |
|------------------------|--|
| 1 - Endereço | () Mensagem indesejada que pode sobrecarregar a caixa postal. |
| 2 - <i>Spam</i> | () Coleta e armazena as mensagens em uma caixa postal. |
| 3 - Filtros | () Consiste no nome do usuário seguido pelo símbolo @ e, por fim, o nome do domínio do servidor de correio. |
| 4 - <i>Mail server</i> | () Pode dirigir as mensagens que chegam para pastas específicas. |

Assinale a sequência correta.

- (A) 3, 2, 1, 4
- (B) 2, 4, 1, 3
- (C) 4, 2, 3, 1
- (D) 2, 1, 4, 3

CONHECIMENTOS ESPECÍFICOS

QUESTÃO 21

A coluna da esquerda apresenta a denominação de determinados custos e a da direita, definição de cada custo. Numere a coluna da direita de acordo com a da esquerda.

- 1 - Custos econômicos () Despesas correntes mais as despesas ocasionadas pela depreciação dos equipamentos de capital.
- 2 - Custos irreversíveis () Custos que a firma incorre para utilizar os recursos econômicos, incluindo os custos de oportunidade.
- 3 - Custos de oportunidade () Custos associados às oportunidades perdidas quando os recursos de uma firma não são usados da melhor forma possível.
- 4 - Custos contábeis () Despesas realizadas que não podem ser diretamente recuperadas.

Marque a sequência correta.

- (A) 1, 3, 2, 4
(B) 4, 1, 3, 2
(C) 1, 2, 3, 4
(D) 3, 1, 4, 2

QUESTÃO 22

A Macroeconomia Clássica concebia como postulado sobre a oferta agregada que, em uma situação de pleno emprego, o produto efetivo era, a rigor, igual ao produto potencial. A partir dessa matriz teórica, o crescimento real da economia tinha como principais fatores de influência:

- (A) Aumento dos estoques de fatores e das técnicas produtivas.
(B) Expansão da moeda como meio de troca e a eficácia do mecanismo de livre mercado.
(C) Aumento dos estoques de fatores e da moeda como meio de troca.
(D) Aumento das técnicas produtivas e retração da quantidade de moeda como meio de troca.

QUESTÃO 23

Considere o jogo abaixo entre Helena e Márcio, cada um com duas possíveis estratégias. Suponha que as duas pessoas tomem suas decisões simultaneamente.

		Márcio	
		M ₁	M ₂
Helena	H ₁	(2,4)	(0,0)
	H ₂	(1,2)	(2,1)

Com base nas informações dadas, marque V para as afirmativas verdadeiras e F para as falsas.

- () H₁ é estratégia dominante para Helena.
() H₂ é estratégia dominante para Helena.
() M₁ é estratégia dominante para Márcio.
() M₂ é estratégia dominante para Márcio.

Assinale a sequência correta.

- (A) F, F, F, V
(B) V, F, V, F
(C) F, F, V, F
(D) F, V, F, V

QUESTÃO 24

Os lucros auferidos por uma firma estrangeira em determinado país estão

- (A) incluídos no PIB, mas não no PNB.
- (B) incluídos no PNB, mas não no PIB.
- (C) incluídos no PNB e no PIB.
- (D) excluídos do PNB e do PIB.

QUESTÃO 25

O custo marginal de uma firma competitiva é definido pela seguinte função: $CMg = 2 + 3q$. Se a receita marginal do único produto que essa firma vende for igual a R\$ 14, a quantidade produzida que ela escolhe para maximizar o lucro será:

- (A) 2
- (B) 5
- (C) 3
- (D) 4

QUESTÃO 26

Com base no modelo IS-LM, sobre a inclinação da curva LM e os deslocamentos na função demanda por moeda, marque V para as afirmativas verdadeiras e F para as falsas.

- () A inclinação da curva LM é ascendente para a direita (positivamente inclinada).
- () Um deslocamento positivo da função demanda por moeda acarreta um deslocamento ascendente da Curva LM.
- () A Curva LM representa combinações de valores de renda e taxa de juros que produzem o equilíbrio no mercado monetário.
- () A Curva LM será relativamente muito inclinada se a elasticidade da demanda por moeda em relação aos juros for relativamente alta.

Assinale a sequência correta.

- (A) V, F, V, F
- (B) F, F, F, V
- (C) V, V, V, F
- (D) F, V, F, V

QUESTÃO 27

A coluna da esquerda apresenta temas associados ao equilíbrio geral e aos teoremas do bem estar e a da direita, afirmativas sobre esses temas. Numere a coluna da direita de acordo com a da esquerda.

- | | |
|-----------------------------------|--|
| 1 - Curva de contrato de produção | () Ninguém consegue aumentar seu bem estar sem que seja reduzido o bem estar de outra pessoa. |
| 2 - Segundo teorema do bem estar | () Toda alocação de equilíbrio de mercado é uma alocação eficiente. |
| 3 - Alocação eficiente | () Mostra todas as combinações tecnicamente eficientes de insumos. |
| 4 - Primeiro teorema do bem estar | () Toda alocação eficiente é alocação de equilíbrio de mercado. |

Marque a sequência correta.

- (A) 1, 3, 2, 4
- (B) 3, 4, 1, 2
- (C) 2, 3, 1, 4
- (D) 3, 1, 4, 2

QUESTÃO 28

O Produto Interno Bruto (PIB) representa também a geração de riqueza produzida pela economia nacional em determinado ano X. Sobre elementos contábeis do PIB, considere:

- I - Despesa de consumo pessoal
- II - Formação Bruta de Capital Fixo do setor privado
- III - Contribuições sociais (efetivas + imputadas)
- IV - Exportações líquidas para o exterior

São elementos contábeis do PIB visualizados sob a ótica das despesas:

- (A) I, II e IV, apenas.
- (B) I, III e IV, apenas.
- (C) II e III, apenas.
- (D) I e II, apenas.

QUESTÃO 29

O valor em reais do balanço de pagamentos para o ano X, se considerados os saldos na conta de transações correntes, foi obtido a partir dos seguintes resultados contábeis: movimentos de capitais = 100; erros e omissões = 50; balança comercial = 80; transferências unilaterais = 50; balança de serviços = 60. Com esses valores, o saldo em transações correntes é:

- (A) 240
- (B) 230
- (C) 190
- (D) 210

QUESTÃO 30

Considere as seguintes curvas de demanda individuais: $D_1 = 20 - p$ e $D_2 = 10 - 2p$, em que D_1 e D_2 , respectivamente, indicam as quantidades demandadas pelo consumidor 1 e 2, enquanto p denota o preço do produto. A elasticidade preço da demanda de mercado, supondo $p = 1$ e $p = 2$, é:

- (A) 0,05
- (B) 0,25
- (C) 1
- (D) 0,11

QUESTÃO 31

São identificados diferentes regimes no mercado cambial, que sofrem influências singulares de origem, em que se despontam a oferta e a demanda, além da política econômica usada como instrumento pela autoridade monetária, a exemplo do Banco Central do Brasil. Com base nesses regimes, marque V para as afirmativas verdadeiras e F para as falsas.

- () No regime de câmbio flutuante, a oferta de moeda estrangeira tem suporte nas divisas recebidas pelos exportadores.
- () No regime de câmbio fixo ou misto, a política de intervenção da autoridade monetária, mediante adoção de “banda cambial”, por exemplo, independe de suporte de reservas cambiais.
- () No regime de câmbio flutuante, quanto maior a taxa real de câmbio, maior a demanda por moeda estrangeira.
- () No regime de câmbio flutuante, quanto menor a taxa real de câmbio, maior a motivação para a demanda por moeda estrangeira.

Assinale a sequência correta.

- (A) V, F, F, V
- (B) V, V, F, F
- (C) F, V, F, V
- (D) F, F, V, V

QUESTÃO 32

Para a economia neoclássica, quando os mercados não se equilibram, ocorrem falhas de mercado. Em relação a essas falhas, assinale a afirmativa correta.

- (A) Externalidade positiva não é causa de falha de mercado.
- (B) O custo marginal de prover um bem público para um consumidor adicional não é nulo.
- (C) Com informações simétricas, o comprador e o vendedor possuem informações diferentes sobre uma transação.
- (D) A seleção adversa é uma forma de falha de mercado.

QUESTÃO 33

Teoricamente a forma de constituição de Blocos Econômicos está associada a determinados objetivos comerciais, em que a eliminação de barreiras alfandegárias é seu principal fator de motivação. Nesse sentido, a sequência do processo econômico para atingir os objetivos de sua constituição é:

- (A) União Aduaneira; União Econômica; Zona de Livre Comércio; Mercado Comum; Integração Econômica Total.
- (B) Mercado Comum; Zona de Livre Comércio; União Econômica; União Aduaneira; Integração Econômica Total.
- (C) União Econômica; Zona de Livre Comércio; União Aduaneira; Mercado Comum; Integração Econômica Total.
- (D) Zona de Livre Comércio; União Aduaneira; Mercado Comum; União Econômica; Integração Econômica Total.

QUESTÃO 34

O resultado nominal estima o montante de recursos que o governo deve buscar junto ao mercado, interno ou externo, para, incluindo os juros da dívida, realizar o financiamento de suas despesas. O resultado nominal é equivalente ao resultado

- (A) operacional acrescido do valor líquido dos juros nominais.
- (B) operacional acrescido da arrecadação dos tributos.
- (C) primário acrescido do valor líquido dos juros nominais.
- (D) primário acrescido da arrecadação dos tributos.

QUESTÃO 35

Considere a seguinte função demanda: $p = 15 - q/2$, que relaciona o preço p de um bem com a quantidade demandada q . Se o preço desse bem for nulo, quantas unidades serão vendidas?

- (A) 15
- (B) 30
- (C) 60
- (D) 0

QUESTÃO 36

A Taxa Interna de Retorno (TIR) é um dos indicadores mais usados em análises sobre viabilidade de projetos de investimentos. Um projeto é considerado economicamente viável se a TIR for maior que a

- (A) Taxa de depreciação das máquinas e dos equipamentos.
- (B) Margem de Lucro.
- (C) Taxa Mínima de Atratividade.
- (D) Razão Benefício/Custo.

QUESTÃO 37

Dois bens são complementares quando o aumento no preço de um deles

- (A) causa aumento na quantidade demandada do outro.
- (B) causa redução na quantidade demandada do outro.
- (C) não altera a quantidade demandada do outro.
- (D) causa inicialmente aumento, depois redução na quantidade demandada do outro.

QUESTÃO 38

O processo de industrialização da economia brasileira, antes de sua consolidação, obteve da política econômica importantes apoios, que podem ser identificados em ações advindas do Plano de Metas (1956-1960), por exemplo. **NÃO** é ação reconhecida como apoiadora do referido processo:

- (A) Investimentos estatais em infraestrutura.
- (B) Estímulo ao aumento da produção de bens intermediários.
- (C) Incentivos à introdução dos setores de consumo duráveis e de capital.
- (D) Implantação de reforma agrária e modernização da agricultura.

QUESTÃO 39

Em relação às teorias do comércio internacional, há um debate que evidencia duas frentes em posições opostas: a defesa da abertura comercial entre países e aquela que apoia medidas consideradas protecionistas. Os argumentos que defendem medidas protecionistas têm como suporte

- (A) falhas de mercado e combate ao desemprego no curto prazo.
- (B) combate ao desemprego no curto prazo e vantagens no processo de estabilização.
- (C) vantagens no processo de estabilização e ganhos de eficiência.
- (D) falhas de mercado e ganhos de eficiência.

QUESTÃO 40

A coluna da esquerda apresenta teorias sobre inflação e a da direita, causas de inflação de acordo com essas teorias. Numere a coluna da direita de acordo com a da esquerda:

- | | |
|--------------------|---|
| 1 - Estruturalista | () Excesso de oferta monetária que pode ter origem tanto em redução da demanda por moeda quanto em excesso de emissão monetária. |
| 2 - Keynesiana | () Mecanismos de indexação presentes nas variações dos preços. |
| 3 - Monetarista | () Rigidez do crescimento da oferta dos produtos agrícolas. |
| 4 - Inercial | () Variação na taxa de crescimento monetário em proporção superior à taxa de expansão do produto. |

Marque a sequência correta.

- (A) 3, 1, 2, 4
- (B) 2, 4, 1, 3
- (C) 1, 3, 4, 2
- (D) 4, 2, 3, 1



Edital N.º 27, de 11/04/2014

Concurso Público - Técnico Administrativo em Educação

Nome: _____

Cargo: *Economista*

FOLHA DE ANOTAÇÃO DO CANDIDATO

Questão	Alternativa
01	
02	
03	
04	
05	
06	
07	
08	
09	
10	
11	
12	
13	
14	
15	
16	
17	
18	
19	
20	

Questão	Alternativa
21	
22	
23	
24	
25	
26	
27	
28	
29	
30	
31	
32	
33	
34	
35	
36	
37	
38	
39	
40	

Esta folha é destinada para uso **EXCLUSIVO** do candidato.