


**ESTADO DO PIAUÍ**  
**PREFEITURA MUNICIPAL DE URUCUÍ**  
**CONCURSO PÚBLICO PARA PROVIMENTOS DE CARGOS**



**CARGO**

**AUXILIAR  
ADMINISTRATIVO**

**TURNO: TARDE**

**CADERNO DE PROVA OBJETIVA**

Leia atentamente as instruções abaixo.

01- Você recebeu do fiscal o seguinte material:

a) Este **Caderno**, com **40 (quarenta) questões** da Prova Objetiva, sem repetição ou falha, conforme distribuição abaixo. Examine se a prova está completa, se há falhas ou imperfeições gráficas que causem dúvidas.

Língua Portuguesa	Matemática	Conhec. Específicos
15	05	20

02- A prova terá duração de **3 (três horas)**.

03- No **Cartão de Respostas**, a marcação da alternativa correta deve ser feita cobrindo a letra e preenchendo todo o espaço interno do quadrado, com caneta esferográfica de tinta na cor **azul** ou **preta**, de forma contínua e densa.

Exemplo:



05- Para cada uma das questões objetivas, são apresentadas **4 (quatro) alternativas** classificadas com as letras **(A, B, C, D)**, mas só uma responde adequadamente à questão proposta. Você só deve assinalar **uma alternativa**. A marcação em mais de uma alternativa anula a questão, mesmo que uma das respostas esteja correta.

06- **Será eliminado** do Concurso Público o candidato que:


a) Utilizar ou consultar cadernos, livros, notas de estudo, calculadoras, telefones celulares, pagers, walkmans, réguas, esquadros, transferidores, compassos, MP3, Ipod, Ipad e quaisquer outros recursos analógicos.

b) Ausentar-se da sala, a qualquer tempo, portando o **Cartão de Respostas**.

**Observações: Por motivo de segurança, o candidato só poderá retirar-se da sala após 1 (uma) hora a partir do início da prova.**

5.11.1. O candidato somente poderá levar o Caderno de Questões caso saia da sala de aplicação de sua prova nos últimos **30 (trinta) minutos**.

**NOME DO (A) CANDIDATO (A):** \_\_\_\_\_



**MAIS INFORMAÇÕES:**

Internet:

[www.institutomachadodeassis.com.br](http://www.institutomachadodeassis.com.br)

Telefone: (86) 3303-3146

E-mail: [ima.urucui2016@outlook.com](mailto:ima.urucui2016@outlook.com)

**INSTITUTO MACHADO DE ASSIS - IMA**

**CONCURSO PÚBLICO DA PREFEITURA MUNICIPAL DE URUCUÍ - PI**

**RASCUNHO**

01	02	03	04	05	06	07	08	09	10	11	12	13	14	15	16	17	18	19	20
21	22	23	24	25	26	27	28	29	30	31	32	33	34	35	36	37	38	39	40

FOLHA DE ANOTAÇÃO DO GABARITO - ATENÇÃO: Esta parte somente deverá ser destacada pelo fiscal da sala, após o término da prova.



**INSTRUÇÃO:**

Para responder a essas questões, assinale APENAS UMA ÚNICA alternativa correta e marque o número correspondente na Folha de Respostas.

**AS QUESTÕES 1 A 14 ESTÃO RELACIONADAS AO TEXTO ABAIXO****TEXTO**

1 A categoria povo se contrapõe às classes sociais. Em termos analíticos, povo não existe  
2 como algo dado, previamente estabelecido. Povo é o resultado da articulação entre movimentos,  
3 comunidades, agrupamentos humanos que romperam a situação de massa, inconsciente e sem  
4 projeto próprio. Encontraram-se ao redor de uma consciência coletiva, de um projeto comum, de  
5 práticas adequadas à consciência e ao projeto. Encontraram-se para construir uma história e uma  
6 identidade próprias nos limites de um determinado território. Ao conceito de povo pertence a  
7 superação dos interesses só classistas e a busca de um bem comum com a assunção de um projeto  
8 participativo e igualitário para o conjunto da sociedade. Povo está sempre em construção contra  
9 forças e grupos que querem reduzi-lo a massa.

10 Povo, como se depreende, configura um valor: todos são chamados a ser povo, a deixar  
11 para trás as relações dominador-dominado, massas-elites; todos são convidados a participar na  
12 gestação de uma sociedade com relações de colaboração e não de concorrência. Portanto, de uma  
13 democracia social, popular, solidária e includente de todos.

14 Hoje vivemos uma fase nova da democracia, sua expressão planetária. Toda a  
15 humanidade deverá ser povo, nas diferenças de suas tradições, mas na convergência de valores  
16 humanitários e ecológicos que o fazem sujeito de uma história coletiva, história da humanidade.

17 O povo organizado busca seu bem comum. Ele não é apenas humano, nacional e  
18 terrenal. Inclui também todos os que compartilhem a aventura humana, como as plantas, os animais,  
19 as águas, os solos, as paisagens. Numa palavra, o bem comum humano será somente humano,  
20 social e planetário, se for também sociocósmico.

BOFF, Leonardo. O despertar da água: o dia-bólico e o sim-bólico na construção da realidade.



**01)** Na ótica do Autor,

- (A) a preocupação com o ecológico deve ser preponderante na construção da nova democracia.
- (B) a maior parte da mobilização das sociedades contemporâneas deve-se à tensão entre capital e trabalho.
- (C) um mundo verdadeiramente democrático constrói-se tão-somente por meio de estruturas econômicas e políticas sólidas e compartilhadas.
- (D) uma sociedade democrática, no contexto contemporâneo, deverá se pautar por relações incluídas tanto no âmbito sociocultural quanto no natural.

**02)** Constitui uma afirmação correta sobre o texto a indicada em

- (A) O conceito de povo se define como um conjunto de pessoas de uma mesma origem de nacionalidade.
- (B) Todos os que se engajam na construção de uma sociedade coletiva igual e democrática podem ser considerados povo.
- (C) A classe social se constitui no início da formação de povo.
- (D) A concepção "planetária" de democracia tem um caráter reducionista e imediatista.

**03)**

- I. "**Portanto**, de uma democracia social, popular, solidária e incluída de todos." (L.12/13).
- II. "**mas** na convergência de valores humanitários e ecológicos.." (L.15/16)

Os conectivos em negrito, nos fragmentos em destaque, estabelecem, no contexto em que se inserem, respectivamente, as relações de

- (A) conclusão e adição.
- (B) ressalva e ressalva.
- (C) explicação e oposição.
- (D) Conclusão e adversidade.

**04)** A palavra que, quando no plural, ocorre abertura de timbre do fonema "**-o**" na pronúncia, encontra-se na alternativa:

- (A) "Toda" (L.14).
- (B) "Valor" (L.10).
- (C) "Povo" (L.2).
- (D) "Dominator" (L.11).

**05)** A alternativa em que há equivalência entre o termo transcrito e o que ele significa, no contexto em que se insere, é:

- (A) "e" (L.12) - adição.
- (B) "se" (L.20) - dúvida.
- (C) "como" (L.2) - conformidade.
- (D) "para" (L.5) - finalidade.

**06)** Possuem o mesmo valor morfológico que a expressão "**só**" (L.7), as palavras:

- (A) "entre" (L.2) e "como" (L.10).
- (B) "sempre" (L.8) e "somente" (L.19).
- (C) "contra" (L.8) e "de" (L.15).
- (D) "terrenal" (L.18) e "coletiva" (L.16).

**07)** A alternativa cujo termo transcrito tem valor **enfático** é:

- (A) "sociais" (L.1).
- (B) "sua" (L.14).
- (C) "todos" (L.11).
- (D) "próprias" (L.6).

**08)** Em, "Hoje vivemos uma fase nova da democracia" (L.14), a ação expressa pela forma verbal em destaque está corretamente indicada em:

- (A) Continua no presente.
- (B) Concluída no presente.
- (C) habitual no passado
- (D) indubitável no futuro.

**09)** Possuem diferentes regências, no contexto em que se inserem, as formas verbais:

- (A) "contrapõe" (L.1) e "pertence" (L.6).
- (B) "romperam" (L.3) e "configura" (L.10).
- (C) "existe" (L.1) e "romperam" (L.3).
- (D) "Inclui" (L.18) e "vivemos" (L.14).

**10)** Do ponto de vista, é correto afirmar:

- (A) "massa" (L.3) está sendo usada em seu sentido literal.
- (B) A expressão "como se depreende" (L.10) conota conformidade.
- (C) O vocábulo "também" (L.18) se opõe a "e" (L.5).
- (D) A palavra "bem" (L.19) é exemplo de advérbio de modo.



11) Assinale a alternativa que apresenta, respectivamente, um **ditongo decrescente**, um **hiato** e um **dígrafo**.

- (A) "sociais" (L.1), "igualitário" (L.8), "chamados" (L.10).
- (B) "fazem" (L.16), "democracia" (L.13), "comum" (L.4).
- (C) "animais" (L.18), "próprias" (L.6), "paisagens" (L.19).
- (D) "sociedade" (L.8), "deixar" (L.10), "expressão" (L.14).

12) Do ponto de vista fonético, a alternativa cuja afirmação está correta é:

- (A) Na palavra "previamente" (L.2), os elementos em destaque formam encontro consonantal.
- (B) No vocábulo "Hoje" (L.14), o '-H' é uma consoante brasileira.
- (C) Na palavra "próprias" (L.6), há a ocorrência de três sílabas.
- (D) No termo "também" (L.18), há a ocorrência de cinco fonemas.

13) Todas as palavras apresentam separação correta de sílaba, exceto em:

- (A) "Ca-te-go-ri-a" (L.1), "cons-ci-ên-cia" (L.4), "Clas-ses" (L.1).
- (B) "na-ci-o-nal" (L.17), "Cons-tru-ção" (L.8) "ter-ri-tó-rio" (L.6).
- (C) "pré-via-men-te" (L.02), "so-ci-e-da-de" (L.8), "his-tó-ria" (L.5).
- (D) "si-tu-a-ção" (L.3), "so-ci-o-cós-mi-co" (L.20), "con-cor-rên-cia" (L.12).

14) Observe as seguintes frases:

- I. "...o bem comum humano será somente humano" (L.19)
- II. "Toda a humanidade deverá ser povo," (L.14/15).

Sobre o uso do artigo, nas frases acima, é correto afirmar:

- (A) Em I e II, foi usado o fenômeno da substantivação.
- (B) Somente em I foi usado o fenômeno da substantivação.
- (C) Somente em II foi usado o fenômeno da substantivação.
- (D) Não há ocorrência do fenômeno da substantivação em nenhuma das frases.

**A QUESTÃO 15 ESTÁ RELACIONADA À TIRINHA ABAIXO**



Q. 01

Q. 02

Q. 03

GOUVEIA, Luís Augusto. Fala, menino!

15) Identifique com **V** as afirmativas verdadeiras e com **F**, as falsas.

O humor dos quadrinhos decorre

- ( ) da preocupação do garoto com o machucado da professora.
- ( ) do desabafo da professora em relação ao acidente de trabalho com o dicionário.
- ( ) da demonstração de descuido no manuseio de livros pesados dada pela professora ao garoto.
- ( ) do desconforto do menino ao considerar ilógica a narrativa da professora diante da colocação que ele lhe havia feito antes.
- ( ) do fato de o garoto usar o verbo marcar (Q. 02) em um sentido, e a professora apreendê-lo em outro, em virtude dessa duplicidade de leitura.

A alternativa que contém a sequência correta, de cima para baixo, é a:

- (A) F-F-V-V- F
- (B) F-V-F-V-F
- (C) V-F-V-F-V
- (D) F-F-F-V-V



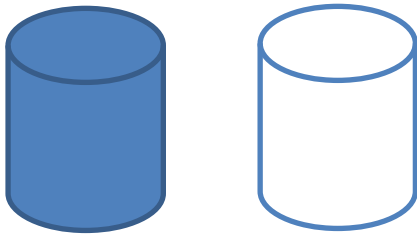
# MATEMÁTICA

# QUESTÕES DE 16 A 20

**16)** A torneira X tem vazão de 1,2 litros por segundo, e a torneira Y de 2,4 litros por segundo. Se a torneira X, sozinha, enche um tanque vazio em 5 minutos e 45 segundos, as duas torneiras, juntas, encheriam esse mesmo tanque vazio em um tempo mínimo de:

- (A) 1 minuto e 45 segundos.
- (B) 2 minutos e 35 segundos.
- (C) 2 minutos e 15 segundos.
- (D) 1 minuto e 55 segundos.

**17)** Considere duas caixas d'água iguais, posicionadas uma ao lado da outra, possuem cada uma, capacidade de 900 litros, sendo que a primeira está cheia e a segunda vazia.



A primeira caixa possui uma torneira que consegue esvazia-la com vazão de 10 litros por hora e a segunda caixa possui uma torneira que consegue enche-la com vazão de 15 litros por hora. Abrindo as duas torneiras simultaneamente, o tempo que deve decorrer até que os níveis da água nas duas caixas estejam na mesma altura é de:

- (A) 18 horas.
- (B) 25 horas.
- (C) 30 horas.
- (D) 36 horas.

**18)** Um caminhão tanque chega a um posto de abastecimento com 36.000 litros de gasolina em seu reservatório. Parte dessa gasolina é transferida para dois tanques de armazenamento, enchendo-os completamente. Um desses tanques tem  $12,5m^3$ , e o outro,  $15,3m^3$ , e estavam inicialmente vazios. Após a transferência, quantos litros de gasolina restaram no caminhão tanque?

- (A) 35.722,00
- (B) 8.200,00
- (C) 3577,20
- (D) 357,72

**19)** Marque a alternativa incorreta:

- (A) Todas as dízimas periódicas são números racionais.
- (B) Todas as frações ordinárias são números racionais.
- (C) Todas as dízimas não periódicas são números irracionais.
- (D) A soma de uma número racional com um número irracional pode ser racional ou irracional.

**20)** A soma da expressão numérica  $0,999\dots + 0,0999\dots$  é igual:

- (A)  $\frac{11}{10}$
- (B)  $\frac{11}{90}$
- (C)  $\frac{10}{9}$
- (D)  $\frac{100}{99}$



## CONHECIMENTOS ESPECÍFICOS

## QUESTÕES DE 21 A 40

**21)** A responsabilidade na gestão fiscal pressupõe a ação planejada e transparente, em que se previnem riscos e corrigem desvios capazes de afetar o equilíbrio das contas públicas, mediante o cumprimento de metas de resultados entre receitas e despesas e a obediência a limites e condições no que tange a renúncia de receita, geração de despesas com pessoal, da seguridade social e outras, dívidas consolidada e mobiliária, operações de crédito, inclusive por antecipação de receita, concessão de garantia e inscrição em:

- (A) Restos a Pagar.
- (B) Receitas a receber.
- (C) Dividendos.
- (D) Despesas a pagar.

**22)** De acordo com a lei de Responsabilidade Fiscal, o acompanhamento e a avaliação, de forma permanente, da política e da operacionalidade da gestão fiscal serão realizados por conselho de gestão fiscal, constituído por representantes de todos os Poderes e esferas de Governo, do Ministério Público e de entidades técnicas representativas da sociedade, visando a:

- I. Harmonização e coordenação entre os entes da Federação.
- II. Adoção de normas de consolidação das contas públicas, padronização das prestações de contas e dos relatórios e demonstrativos de gestão fiscal de que trata esta Lei Complementar, normas e padrões mais simples para os pequenos Municípios, bem como outros, necessários ao controle social.
- III. Disseminação de práticas que resultem em maior eficiência na alocação e execução do gasto público, na arrecadação de receitas, no controle do endividamento e na transparência da gestão fiscal.

É certo o que se afirma em:

- (A) II
- (B) I e III
- (C) I, II e III
- (D) I

**23)** O Poder Legislativo, diretamente ou com o auxílio dos Tribunais de Contas, e o sistema de controle interno de cada Poder e do Ministério Público, fiscalizarão o cumprimento das normas da Lei de Responsabilidade Fiscal, com ênfase no que se refere a:

- I. Limites e condições para realização de operações de crédito e inscrição em Restos a Pagar.
- II. Destinação de recursos obtidos com a alienação de passivos, tendo em vista as restrições constitucionais e as desta Lei Complementar.
- III. Atingimento das metas estabelecidas na lei de diretrizes orçamentárias.
- IV. Cumprimento do limite de gastos totais dos legislativos municipais, quando houver.

É verdadeiro o que se afirma em:

- (A) I e II
- (B) II e IV
- (C) I, III e IV
- (D) I, II, III e IV

**24)** Além de obedecer às demais normas de contabilidade pública, a escrituração das contas públicas observará as seguintes, **EXCETO**:

- (A) A despesa e a assunção de compromisso serão registradas segundo o regime de competência, apurando-se, em caráter complementar, o resultado dos fluxos financeiros pelo regime de caixa.
- (B) A disponibilidade de caixa constará de registro próprio, de modo que os recursos vinculados a órgão, fundo ou despesa obrigatória fiquem identificados e escriturados de forma individualizada.
- (C) As demonstrações contábeis compreenderão, isolada e conjuntamente, as transações e operações de cada órgão, fundo ou entidade da administração direta, autárquica e fundacional, salvo empresa estatal dependente.
- (D) As receitas e despesas previdenciárias serão apresentadas em demonstrativos financeiros e orçamentários específicos.



**25)** São instrumentos de transparência da gestão fiscal, aos quais será dada ampla divulgação, inclusive em meios eletrônicos de acesso público:

- I. Os planos, orçamentos e leis de diretrizes orçamentárias.
- II. As prestações de contas e o respectivo parecer prévio.
- III. O Relatório Resumido da Execução Orçamentária e o Relatório de Gestão Fiscal.
- IV. As versões simplificadas do Relatório Resumido da Execução Orçamentária e do Relatório de Gestão Fiscal.

A quantidade de itens corretos é:

- (A) 2
- (B) 1
- (C) 4
- (D) 3

**26)** O computador realiza as seguintes operações básicas com dados:

- I. Armazenamento (storage).
- II. Entrada (output).
- III. Processamento (processing).
- IV. Saída (input).

É correto o que se afirma em:

- (A) II, III e IV
- (B) I, II, III e IV
- (C) I e III
- (D) I, II e III

**27)** 1 Kilobyte – KB equivale a:

- (A) 1.024 bytes.
- (B) 1.024 megabytes.
- (C) 1.024 gigabytes.
- (D) 1.024 terabytes.

**28)** A porta paralela é:

- (A) Utilizada até hoje para conectar mouse e teclado. As principais características são: rápida velocidade e ocupam pouco espaço.
- (B) Utilizada para conectarem periféricos como mouses, joystick ou modem. Também conhecida como RS-232.
- (C) Utilizada para conectarem periféricos como a impressora. Vem sendo gradativamente substituída pela tecnologia USB.
- (D) O tipo de barramento que se destaca pela sua alta velocidade, destaca-se também pela capacidade de em um único conector com a placa mãe, conectar até 127 dispositivos e é um tipo de conector Plug And Play (conecte e use), ou seja, se o Sistema Operacional oferecer suporte a esta tecnologia o usuário pode conectar um periférico sem a necessidade de desligar o computador.

**29)** Os computadores podem ser classificados quanto a sua capacidade de processamento (porte) em:

- I. Grande (minicomputadores).
- II. Médio (mainframes).
- III. Pequeno (microcomputadores).

É correto o que se indica em:

- (A) III
- (B) I e II
- (C) I, II e III
- (D) II

**30)** São componentes elétricos / eletrônicos ligados à placa-mãe:

- (A) Os slots (encaixes) de expansão e as placas especiais de expansão que são encaixadas neles.
- (B) Chips especiais, chamados de chips ROM.
- (C) O microprocessador.
- (D) As alternativas "A", "B" e "C" estão corretas.





**31)** O projeto básico é o conjunto de elementos necessários e suficientes, com nível de precisão adequado, para caracterizar a obra ou serviço, ou complexo de obras ou serviços objeto da licitação, elaborado com base nas indicações dos estudos técnicos preliminares, que assegurem a viabilidade técnica e o adequado tratamento do impacto ambiental do empreendimento, e que possibilite a avaliação do custo da obra e a definição dos métodos e do prazo de execução, devendo conter os seguintes elementos, dentre outros:

- I. Identificação dos tipos de serviços a executar e de materiais e equipamentos a incorporar à obra, bem como suas especificações que assegurem os melhores resultados para o empreendimento, sem frustrar o caráter competitivo para a sua execução.
- II. Desenvolvimento da solução escolhida de forma a fornecer visão global da obra e identificar todos os seus elementos constitutivos com clareza.
- III. Informações que possibilitem o estudo e a dedução de métodos construtivos, instalações provisórias e condições organizacionais para a obra, sem frustrar o caráter competitivo para a sua execução.
- IV. Soluções técnicas globais e localizadas, suficientemente detalhadas, de forma a minimizar a necessidade de reformulação ou de variantes durante as fases de elaboração do projeto executivo e de realização das obras e montagem.

É certo o que se afirma em:

- (A) IV
- (B) I, II e III
- (C) I, II, III e IV
- (D) I, III e IV

**32)** As obras e os serviços somente poderão ser licitados quando:

- I. Houver previsão de recursos orçamentários que assegurem o pagamento das obrigações decorrentes de obras ou serviços a serem executadas no exercício financeiro em curso, de acordo com o respectivo cronograma.
- II. Houver projeto básico aprovado pela autoridade competente e disponível para exame dos interessados em participar do processo licitatório.
- III. Existir orçamento detalhado em planilhas que expressem a composição de alguns dos seus custos unitários.
- IV. O produto dela esperado estiver contemplado nas metas estabelecidas no Plano Plurianual de que trata o art. 165 da Constituição Federal, quando for o caso.

A quantidade de assertivas corretas é:

- (A) 4
- (B) 2
- (C) 1
- (D) 3

**33)** NÃO é modalidade de licitação presente na lei 8.666/96:

- (A) Tomada de preços.
- (B) Leilão.
- (C) Consulta.
- (D) Concurso.

**34)** Nos projetos básicos e projetos executivos de obras e serviços serão considerados principalmente os seguintes requisitos, dentre outros:

- I. Possibilidade de emprego de mão-de-obra, materiais, tecnologia e matérias-primas existentes no local para execução, conservação e operação.
- II. Economia na execução, conservação e operação.
- III. Funcionalidade e adequação ao interesse público.
- IV. Facilidade na execução, conservação e operação, sem prejuízo da durabilidade da obra ou do serviço.

É certo o que se afirma em:

- (A) I, II e III
- (B) II e IV
- (C) I, II, III e IV
- (D) I e III



**35)** É a modalidade de licitação entre interessados do ramo pertinente ao seu objeto, cadastrados ou não, escolhidos e convidados em número mínimo de 3 (três) pela unidade administrativa, a qual afixará, em local apropriado, cópia do instrumento convocatório e o estenderá aos demais cadastrados na correspondente especialidade que manifestarem seu interesse com antecedência de até 24 (vinte e quatro) horas da apresentação das propostas:

- (A) Consulta.
- (B) Convite.
- (C) Concorrência.
- (D) Pregão.

**36)** De acordo com a Constituição Federal de 1988, é vedada a cassação de direitos políticos, cuja perda ou suspensão só se dará nos casos de:

- I. Recusa de cumprir obrigação a todos imposta ou prestação alternativa.
- II. Incapacidade civil relativa.
- III. Cancelamento da naturalização por sentença transitada em julgado.
- IV. Condenação criminal transitada em julgado, enquanto durarem seus efeitos.
- V. Improbidade administrativa.

É certo o que se indica em:

- (A) I, III e IV
- (B) I, II, III, IV e V
- (C) I, III, IV e V
- (D) II, III, IV e V

**37)** De acordo com a Constituição Federal de 1988, a fixação dos padrões de vencimento e dos demais componentes do sistema remuneratório observará:

- I. A natureza, o grau de responsabilidade e a complexidade dos cargos componentes de cada carreira.
- II. As peculiaridades dos cargos.
- III. Os requisitos para a investidura.

É verdadeiro o disposto em:

- (A) II
- (B) I, II e III
- (C) I e III
- (D) I

**38)** A União, os Estados, o Distrito Federal e os Municípios instituirão conselho de política de administração e remuneração de pessoal, integrado por servidores designados pelos respectivos Poderes. A respeito disso, assinale a opção verdadeira.

- (A) A União, os Estados e o Distrito Federal manterão escolas de governo para a formação e o aperfeiçoamento dos servidores públicos, constituindo-se a participação nos cursos um dos requisitos para a promoção na carreira, facultada, para isso, a celebração de convênios ou contratos entre os entes federados.
- (B) Os Poderes Executivo, Legislativo e Judiciário publicarão anualmente os valores do subsídio e da remuneração dos cargos e empregos públicos.
- (C) Lei da União, dos Estados, do Distrito Federal e dos Municípios disciplinará a aplicação de recursos orçamentários provenientes da economia com despesas correntes em cada órgão, autarquia e fundação, para aplicação no desenvolvimento de programas de qualidade e produtividade, treinamento e desenvolvimento, modernização, reaparelhamento e racionalização do serviço público, inclusive sob a forma de adicional ou prêmio de produtividade.
- (D) Todas as alternativas anteriores estão corretas.

**39)** A *clareza* deve ser a qualidade básica de todo texto oficial, conforme já sublinhado na introdução deste capítulo. Pode-se definir como claro aquele texto que possibilita imediata compreensão pelo leitor. No entanto a clareza não é algo que se atinja por si só: ela depende estritamente das demais características da redação oficial. Para ela concorrem:

- I. A formalidade e a padronização, que possibilitam a imprescindível uniformidade dos textos.
- II. O uso do padrão culto de linguagem, em princípio, de entendimento geral e por definição avesso a vocábulos de circulação restrita, como a gíria e o jargão.
- III. A impessoalidade, que promove a duplicidade de interpretações que poderia decorrer de um tratamento personalista dado ao texto.
- IV. A concisão, que faz desaparecer do texto os excessos lingüísticos que nada lhe acrescentam.

A quantidade de assertivas corretas é:

- (A) 1
- (B) 3
- (C) 2
- (D) 4



**40)** Os documentos do *Padrão Ofício* devem obedecer à seguinte forma de apresentação, **SALVO:**

- (A) Os ofícios, memorandos e anexos destes poderão ser impressos em ambas as faces do papel. Neste caso, as margens esquerda e direita terão as distâncias invertidas nas páginas pares ("*margem espelho*").
- (B) É facultativo constar a partir da segunda página o número da página;
- (C) A impressão dos textos deve ser feita na cor preta em papel branco. A impressão colorida deve ser usada apenas para gráficos e ilustrações.
- (D) O campo destinado à margem lateral esquerda terá, no mínimo, 3,0 cm de largura.