



M0631040N

Concurso Público

REF. EDITAL Nº 02

NÍVEL SUPERIOR - MANHÃ
Cargo
MÉDICO - NEUROCIURURGIA

Nome do Candidato _____

Inscrição _____

ATENÇÃO

O Caderno de questões possui 50 (cinquenta) questões objetivas, numeradas sequencialmente, de acordo com o exposto no quadro a seguir:

MATÉRIA	QUESTÕES
Língua Portuguesa	01 a 10
Raciocínio Lógico e Matemático	11 a 15
Legislação Aplicada à EBSERH	16 a 20
Legislação Aplicada ao SUS	21 a 25
Conhecimentos Específicos	26 a 50

INSTRUÇÕES

1. Na sua Folha de Respostas, confira seu nome, o número do seu documento e o número de sua inscrição. Além disso, não se esqueça de conferir seu Caderno de Questões quanto a falhas de impressão e de numeração, e se o cargo corresponde àquele para o qual você se inscreveu. Preencha os campos destinados à assinatura e ao número de inscrição. Qualquer divergência comunique ao fiscal.
2. O único documento válido para avaliação da prova é a Folha de Respostas. Só é permitido o uso de caneta esferográfica **transparente** de cor azul ou preta para o preenchimento da Folha de Respostas, que deve ser realizado da seguinte maneira: ■
3. O prazo de realização da prova é de 4 (quatro) horas, incluindo a marcação da Folha de Respostas. Após 60 (sessenta) minutos do início da prova, o candidato estará liberado para utilizar o sanitário ou deixar definitivamente o local de aplicação. A retirada da sala de prova dos 3 (três) últimos candidatos só ocorrerá conjuntamente.
4. Ao término de sua prova, comunique ao fiscal, devolvendo-lhe a Folha de Respostas devidamente preenchida e assinada. O candidato poderá levar consigo o Caderno de Questões, desde que aguarde em sala o término da aplicação.
5. As provas e os gabaritos preliminares estarão disponíveis no site do Instituto AOCP - www.institutoaocp.org.br - no dia posterior à aplicação da prova.
6. Implicará na eliminação do candidato, caso, durante a realização das provas, qualquer equipamento eletrônico venha emitir ruídos, mesmo que devidamente acondicionado no **envelope de guarda de pertences**. O NÃO cumprimento a qualquer uma das determinações constantes em Edital, no presente Caderno ou na Folha de Respostas, incorrerá na eliminação do candidato.



-----(destaque aqui)-----

FOLHA PARA ANOTAÇÃO DAS RESPOSTAS DO CANDIDATO

Questão	01	02	03	04	05	06	07	08	09	10	11	12	13	14	15	16	17	18	19	20	21	22	23	24	25	
Resp.																										

Questão	26	27	28	29	30	31	32	33	34	35	36	37	38	39	40	41	42	43	44	45	46	47	48	49	50	
Resp.																										

O gabarito oficial preliminar e o caderno de questões da prova objetiva estarão disponíveis no endereço eletrônico www.institutoaocp.org.br no dia seguinte à aplicação da prova.

A lista de desejos

Rosely Sayao

Acabou a graça de dar presentes em situações de comemoração e celebração, não é? Hoje, temos listas para quase todas as ocasiões: casamento, chá de cozinha e seus similares – e há similares espantosos, como chá de lingerie –, nascimento de filho e chá de bebê, e agora até para aniversário.

Presente para os filhos? Tudo eles já pediram e apenas mudam, de vez em quando ou frequentemente, a ordem das suas prioridades. Quem tem filho tem sempre à sua disposição uma lista de pedidos de presentes feita por ele, que pode crescer diariamente, e que tanto pode ser informal quanto formal.

A filha de uma amiga, por exemplo, tem uma lista na bolsa escrita à mão pelo filho, que tem a liberdade de sacá-la a qualquer momento para fazer as mudanças que ele julgar necessárias. Ah! E ela funciona tanto como lista de pedidos como também de “checklist” porque, dessa maneira, o garoto controla o que já recebeu e o que ainda está por vir. Sim: essas listas são quase uma garantia de conseguir ter o pedido atendido.

Ninguém mais precisa ter trabalho ao comprar um presente para um conhecido, para um colega de trabalho, para alguma criança e até amigo. Sabe aquele esforço de pensar na pessoa que vai receber o presente e de imaginar o que ela gostaria de ganhar, o que tem relação com ela e seu modo de ser e de viver? Pois é: agora, basta um telefonema ou uma passada rápida nas lojas físicas ou virtuais em que as listas estão, ou até mesmo pedir para uma outra pessoa realizar tal tarefa, e pronto! Problema resolvido!

Não é preciso mais o investimento pessoal do pensar em algo, de procurar até encontrar, de bater perna e cabeça até sentir-se satisfeito com a escolha feita que, além de tudo, precisaria estar dentro do orçamento disponível para tal. Hoje, o presente custa só o gasto financeiro e nem precisa estar dentro do orçamento porque, para não transgredir a lista, às vezes é preciso parcelar o presente em diversas prestações...

E, assim que os convites chegam, acompanhados sem discrição alguma das listas, é uma correria dos convidados para efetuar sem demora sua compra. É que os presentes menos custosos são os primeiros a serem ticados nas listas, e quem demora para cumprir

seu compromisso acaba gastando um pouco mais do que gostaria.

Se, por um lado, dar presentes deixou de dar trabalho, por outro deixou também totalmente excluído do ato de presentear o relacionamento entre as pessoas envolvidas. Ganho para o mercado de consumo, perda para as relações humanas afetivas.

Os presentes se tornaram impessoais, objetos de utilidade ou de luxo desejados. Acabou-se o que era doce no que já foi, num passado recente, uma demonstração pessoal de carinho.

Sabe, caro leitor, aquela expressão de surpresa gostosa, ou de um pequeno susto que insiste em se expressar, apesar da vontade de querer que ele passe despercebido, quando recebíamos um mimo? Ou aquela frase transparente de criança, que nunca deixa por menos: “Eu não quero isso!”? Tudo isso acabou. Hoje, tudo o que ocorre é uma operação mental dupla. Quem recebe apenas tica algum item da lista elaborada, e quem presenteia dá-se por satisfeito por ter cumprido seu compromisso.

Que tempos mais chatos. Resta, a quem tiver coragem, a possibilidade de transgredir essas tais listas. Assim, é possível tornar a vida mais saborosa.

Disponível em <http://www1.folha.uol.com.br/colunas/rosely-sayao/2014/07/1489356-a-lista-de-desejos.shtml>

QUESTÃO 01

De acordo com a autora,

- (A) com as listas de presentes, os presentes tornaram-se ainda mais pessoais, exigindo a habilidade da pessoa para não transgredir a lista sugerida.
- (B) seguir as listas de presentes e comprar exatamente o que está sendo solicitado é uma demonstração de carinho maior que escolher um presente por conta própria.
- (C) antes das listas de presentes, presentear exigia esforço, pois era necessário pensar em quem iria receber o presente, no que a pessoa gostaria de ganhar, o que teria relação com ela e seu modo de ser e de viver.
- (D) o esforço para comprar um presente solicitado em uma lista de presente é muito maior que escolher por conta própria.
- (E) os itens mais caros da lista de presentes são os primeiros a serem selecionados para a compra.

QUESTÃO 02

Qual das alternativas a seguir apresenta, **explicitamente**, a busca da autora em manter um diálogo com o interlocutor de seu texto?

- (A) “E, assim que os convites chegam, acompanhados sem discrição alguma das listas, é uma correria dos convidados para efetuar sem demora sua compra.”.
- (B) “Hoje, tudo o que ocorre é uma operação mental dupla.”.
- (C) “Ninguém mais precisa ter trabalho ao comprar um presente para um conhecido, para um colega de trabalho, para alguma criança e até amigo.”.
- (D) “Sabe, caro leitor, aquela expressão de surpresa gostosa, ou de um pequeno susto que insiste em se expressar, apesar da vontade de querer que ele passe despercebido, quando recebíamos um mimo?”.
- (E) “Quem recebe apenas tica algum item da lista elaborada, e quem presenteia dá-se por satisfeito por ter cumprido seu compromisso.”.

QUESTÃO 03

Em “Resta, a quem tiver coragem, a possibilidade de transgredir essas tais listas.”, é possível inferir que

- (A) a autora acredita que todos devem seguir as listas de presentes, caso contrário demonstrarão covardia.
- (B) a autora acredita que aqueles que decidem não seguir as sugestões das listas de presentes e escolher por decisão própria um presente são pessoas que têm coragem.
- (C) as pessoas seguem as sugestões das listas de presentes porque querem transgredir.
- (D) a autora aconselha a todos a não transgredirem a lista de presentes.
- (E) seguir as sugestões das listas de presentes é uma maneira de não se acomodar e transgredir o que é imposto.

QUESTÃO 04

Assinale a alternativa em que o termo destacado expressa finalidade.

- (A) “Presente para os filhos?”.
- (B) “... ou até mesmo pedir para uma outra pessoa realizar tal tarefa.”.
- (C) “Ninguém mais precisa ter trabalho ao comprar um presente para um conhecido...”.
- (D) “Ganho para o mercado de consumo...”.
- (E) “... é uma correria dos convidados para efetuar sem demora sua compra.”.

QUESTÃO 05

Em “... que tem a liberdade de sacá-la a qualquer momento para fazer as mudanças que ele julgar necessárias.”, o termo destacado retoma

- (A) bolsa.
- (B) filha.
- (C) lista.
- (D) amiga.
- (E) liberdade.

QUESTÃO 06

Em “... às vezes é preciso parcelar o presente em diversas prestações...”, podemos afirmar que nesse caso a crase foi utilizada

- (A) porque a expressão em destaque é uma locução adverbial de base feminina.
- (B) para atender a regência do verbo “precisar”.
- (C) para atender a regência do verbo “parcelar”.
- (D) porque a expressão em destaque é uma locução conjuntiva de base feminina.
- (E) porque a expressão de que ela faz parte está diante da palavra feminina “prestações”.

QUESTÃO 07

Assinale a alternativa em que a expressão ou termo destacado NÃO expressa tempo.

- (A) “às vezes”.
- (B) “de vez em quando”.
- (C) “frequentemente”.
- (D) “Hoje”.
- (E) “pouco”.

QUESTÃO 08

Assinale a alternativa em que o termo destacado NÃO é um artigo.

- (A) “Acabou a graça de dar presentes...”.
- (B) “... tem a liberdade de sacá-la a qualquer momento...”.
- (C) “A filha de uma amiga...”.
- (D) “... é possível tornar a vida mais saborosa.”.
- (E) “...para não transgredir a lista...”.

QUESTÃO 09

Em “... para não transgredir a lista, às vezes é preciso parcelar o presente em diversas prestações...”, a oração destacada indica

- (A) concessão.
- (B) finalidade.
- (C) comparação.
- (D) condição.
- (E) tempo.

QUESTÃO 10

Assinale a alternativa correta quanto à grafia dos pares.

- (A) Excluído – excluzão.
- (B) Doce – dossura.
- (C) Presente – presenssa.
- (D) Transparente – transparência.
- (E) Insiste – insistência.

RACIOCÍNIO LÓGICO E MATEMÁTICO

QUESTÃO 11

Em um grupo de 650 eleitores, 42% votaram no candidato A. Sabendo que todos os eleitores votaram em algum candidato, quantos desses eleitores não votaram no candidato A?

- (A) 377
- (B) 273
- (C) 608
- (D) 142
- (E) 302

QUESTÃO 12

Minha mãe fez uma jarra de suco de laranja.

Eu tomei $\frac{2}{5}$ da quantidade de suco que havia na jarra e, em seguida, meu irmão bebeu $\frac{1}{3}$ do restante. Qual é a fração da quantidade inicial de suco que meu irmão bebeu?

- (A) $\frac{1}{3}$
- (B) $\frac{3}{8}$
- (C) $\frac{2}{15}$
- (D) $\frac{5}{6}$
- (E) $\frac{1}{5}$

QUESTÃO 13

Assinale a alternativa que representa a negação da proposição “ Todo homem joga futebol”.

- (A) “Toda mulher joga futebol”.
- (B) “Nenhum homem joga futebol”.
- (C) “Algum homem não joga futebol”.
- (D) “Todo homem joga vôlei”.
- (E) “Nem toda mulher joga futebol”.

QUESTÃO 14

Considere as proposições: $p =$ “João gosta de maçãs”, $q =$ “Está chovendo aqui”. Assinale a alternativa que corresponde à proposição $(\sim p \wedge \sim q)$.

- (A) “João gosta de maçãs ou está chovendo aqui”.
- (B) “João não gosta de maçãs ou não está chovendo aqui”.
- (C) “João gosta de maçãs e está chovendo aqui”.
- (D) “João não gosta de maçãs e está não chovendo aqui”.
- (E) “Se João gosta de maçãs, então não está chovendo aqui”.

QUESTÃO 15

A proposição $p \rightarrow q$ é equivalente a

- (A) $\sim p \rightarrow \sim q$.
- (B) $\sim p \vee q$.
- (C) $\sim q \wedge p$.
- (D) $q \rightarrow p$.
- (E) $\sim p \rightarrow q$.

QUESTÃO 16

O Conselho de Administração da EBSEH, segundo seu regimento, tem sua competência previamente determinada. Assim, com relação a essa competência, assinale a alternativa INCORRETA.

- (A) Assistir a Diretoria Executiva e o Conselho de Administração em suas funções, sobretudo na formulação, implementação e avaliação de estratégias de ação da EBSEH.
- (B) Aprovar o orçamento e o programa de investimentos propostos pela Presidência e acompanhar a sua execução.
- (C) Examinar e aprovar, por proposta do Presidente da EBSEH, as políticas gerais e programas de atuação da Empresa, a curto, médio e longo prazos, em consonância com as políticas de educação; de saúde; e econômico-financeira do Governo Federal.
- (D) Aprovar o Regimento Interno da EBSEH e suas alterações supervenientes, o qual deverá conter, dentre outros aspectos, a estrutura básica da Empresa e os níveis de alçada decisória das Diretorias e do Presidente.
- (E) Apreciar e aprovar o Relatório Anual de Gestão apresentado pela Administração da EBSEH.

QUESTÃO 17

Quanto à sede da Empresa Brasileira de Serviços Hospitalares – EBSEH –, é correto afirmar que ela fica na cidade de

- (A) São Paulo (SP).
- (B) Belo Horizonte (MG).
- (C) Rio de Janeiro (RJ).
- (D) Salvador (BA).
- (E) Brasília (DF).

QUESTÃO 18

O Decreto que aprova o Estatuto Social da Empresa Brasileira de Serviços Hospitalares – EBSEH – é o

- (A) Decreto n.º 10.302, de 05 de fevereiro de 2015.
- (B) Decreto n.º 3.123, de 17 de outubro de 2002.
- (C) Decreto n.º 7.661, de 28 de dezembro de 2011.
- (D) Decreto n.º 8.280, de 19 de dezembro de 1990.
- (E) Decreto-Lei n.º 2.848, de 7 de dezembro de 1940.

QUESTÃO 19

A integralização do capital social da Empresa Brasileira de Serviços Hospitalares – EBSEH – fica estabelecida no Parágrafo único, do art. 2.º da Lei n.º 12.550, de 15 de dezembro de 2011, que prescreve: “A integralização do capital social será realizada com recursos oriundos de dotações consignadas no orçamento da União, bem como pela incorporação de qualquer espécie de bens e direitos suscetíveis de avaliação em dinheiro.” Quanto à propriedade do capital social da EBSEH, é correto afirmar que

- (A) é concorrente entre Municípios, dos Estados e da União.
- (B) é concorrente entre Estados e União.
- (C) é exclusivo dos Estados.
- (D) é exclusivo da União
- (E) é exclusivo do Município.

QUESTÃO 20

Em uma EBSEH, para seu devido funcionamento, deve ter algumas diretorias que serão direcionadas de acordo com a sua competência, como a Diretoria de Administração e Infraestrutura, a Diretoria de Gestão de Pessoas, dentre outras. No que se refere ao que compete à Diretoria de Gestão de Pessoas, assinale a alternativa correta.

- (A) Compete planejar, implementar e controlar as políticas e diretrizes de gestão orçamentária, financeira e contábil no âmbito da Sede da EBSEH, das filiais e das unidades descentralizadas.
- (B) Compete propor e gerir a Política de Gestão de Pessoas da EBSEH, em articulação com as demais Diretorias e órgãos de assessoramento da Presidência, de acordo com as necessidades da Empresa.
- (C) Compete planejar, implementar e controlar as políticas e diretrizes de gestão administrativa, patrimonial e de infraestrutura no âmbito da Sede da EBSEH, filiais e unidades descentralizadas.
- (D) Compete implementar, monitorar, avaliar e aperfeiçoar as características e a execução do Plano Estratégico de Tecnologia da Informação (PETI) e do Plano Diretor de Tecnologia da Informação (PDTI) na EBSEH, de acordo com o planejamento institucional.
- (E) Compete alinhar as ações de atenção à saúde coordenadas pela EBSEH às políticas e diretrizes dos Ministérios da Educação e da Saúde.

LEGISLAÇÃO APLICADA AO SUS

QUESTÃO 21

A Lei que dispõe sobre a participação da comunidade na gestão do Sistema Único de Saúde (SUS) é

- (A) a Lei n.º 8.142, de 28 de dezembro de 1990.
- (B) a Lei n.º 10.406, de 10 de janeiro de 2002.
- (C) a Lei n.º 5.869, de 11 de janeiro de 1973.
- (D) a Lei n.º 8.080, de 19 de dezembro de 1990.
- (E) o Decreto-Lei nº 2.848, de 7 de dezembro de 1940.

QUESTÃO 22

Acerca da Ordem Social, de acordo com a Constituição Federal brasileira, de 05 de outubro de 1988, é correto afirmar que

- (A) a seguridade social compreende um conjunto integrado de ações de iniciativa exclusiva dos Poderes Públicos.
- (B) a seguridade social será financiada por toda a sociedade, de forma direta e indireta, nos termos da lei, mediante recursos provenientes dos orçamentos da União, dos Estados, do Distrito Federal e dos Municípios e de contribuições sociais.
- (C) a saúde é direito de todos e dever de cada cidadão.
- (D) não são de relevância pública as ações e serviços de saúde.
- (E) a assistência à saúde é exclusiva do Poder Público.

QUESTÃO 23

A Constituição Federal brasileira, de 05 de outubro de 1988, declara que a saúde é direito de todos e dever

- (A) do particular.
- (B) da escola.
- (C) dos planos de saúde.
- (D) do Estado.
- (E) das empresas.

QUESTÃO 24

Conforme dispõe o art. 28 da Lei nº 8.080, de 19 de setembro de 1990, os cargos e funções de chefia, direção e assessoramento, no âmbito do Sistema Único de Saúde (SUS), só poderão ser exercidos

- (A) em regime de tempo integral.
- (B) em regime de tempo parcial de 04 (quatro) horas.
- (C) em escala de 24 (vinte e quatro) horas por 48 (quarenta e oito) horas.
- (D) sem ter horário determinado, por tratar-se de cargo de confiança.
- (E) em regime de tempo parcial de 06 (seis) horas.

QUESTÃO 25

De acordo com o Decreto Federal nº 7.508, de 28 de junho de 2011, o acesso universal e igualitário à assistência farmacêutica pressupõe

- (A) não estar o usuário assistido por ações e serviços de saúde do SUS.
- (B) ter o medicamento sido prescrito por qualquer pessoa.
- (C) estar a prescrição em conformidade com a RENAME e os Protocolos Clínicos e Diretrizes Terapêuticas ou com a relação específica complementar estadual, distrital ou municipal de medicamentos.
- (D) não ter a dispensação ocorrido em unidades indicadas pela direção do SUS.
- (E) estar o usuário assistido por ações e serviços de saúde particular.

CONHECIMENTOS ESPECÍFICOS

QUESTÃO 26

Assinale a alternativa correta em relação ao diencéfalo.

- (A) Corresponde ao tálamo e ao hipotálamo.
- (B) É formado pelo tálamo, hipotálamo, subtálamo (ou pré-tálamo) e o epitálamo.
- (C) Faz parte dos gânglios da base.
- (D) Não possui conexão alguma com o sistema límbico.
- (E) Não possui relação alguma com a glândula pineal.

QUESTÃO 27

Do ponto de vista anatômico e funcional, quais são os componentes dos núcleos ou gânglios da base?

- (A) Neoestriado e paleoestriado.
- (B) Paleoestriado e substância branca.
- (C) Neoestriado, paleoestriado e núcleo subtalâmico.
- (D) Paleoestriado e núcleo subtalâmico.
- (E) Neoestriado, paleoestriado, núcleo subtalâmico e substância negra.

QUESTÃO 28

De acordo com a *Terminologia Anatômica*, a qual substituiu a *Nomina Anatômica*, quais são os lobos cerebrais?

- (A) Frontal, temporal, parietal e occipital.
- (B) Frontal, central, temporal, parietal e occipital.
- (C) Frontal, central, insular, temporal, límbico, parietal e occipital.
- (D) Fronto-central, insular, temporal, parietal e occipital.
- (E) Fronto-central, temporal, parietal e occipital.

QUESTÃO 29

Quais são os sulcos/fissuras considerados totalmente (em 100% dos casos) contínuos do cérebro?

- (A) Fissura lateral do cérebro e sulco central.
- (B) Sulco central e sulco do (corpo) caloso.
- (C) Fissura lateral do cérebro, sulco parieto-occipital e fissura calcarina.
- (D) Fissura lateral do cérebro, sulco do (corpo) caloso, sulco parieto-occipital e sulco colateral.
- (E) Fissura coroideia e sulco colateral.

QUESTÃO 30

Quais são os componentes da cápsula interna?

- (A) Membro (ou *crus*) anterior, joelho, membro posterior e retrolenticular.
- (B) Membro anterior, joelho, membro posterior, retrolenticular e alça de Meyer.
- (C) Membro anterior, joelho, membro posterior e sublenticular.
- (D) Membro anterior, joelho e membro posterior.
- (E) Membro anterior, joelho, membro posterior, retrolenticular e sublenticular.

QUESTÃO 31

Assinale a alternativa correta em relação à fissura coroideia.

- (A) Projeta-se, na superfície, como o ramo ascendente da fissura lateral do cérebro.
- (B) Situa-se entre o tálamo e o fórnix.
- (C) Situa-se entre a pirâmide e a oliva.
- (D) Situa-se entre o trato óptico e o globo pálido.
- (E) É totalmente descontínua em 100% dos casos.

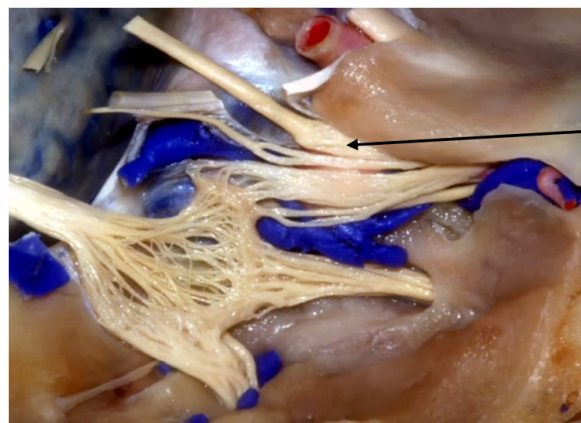
QUESTÃO 32

Qual é a função primária da musculatura inervada pelo troclear?

- (A) Adução do globo ocular.
- (B) Depressão do globo ocular com este aduzido.
- (C) Rotação externa do globo ocular.
- (D) Adução do globo ocular durante o olhar vertical para cima.
- (E) Abdução do globo ocular durante o olhar vertical para baixo.

QUESTÃO 33

Considere a figura a seguir, a qual representa uma dissecação anatômica cadavérica no nível das fossas cranianas anterior e média à direita. Qual estrutura está apontada pela seta?



- (A) Anel dural distal.
- (B) Nervo oculomotor.
- (C) Nervo abducente.
- (D) Ramo oftálmico do nervo trigêmeo.
- (E) Ligamento petroclínóideo anterior.

QUESTÃO 34

A que se refere a dissociação siringomiélica?

- (A) Preservação da sensibilidade vibratória e perda do tato epicrítico.
- (B) Preservação da sensibilidade dolorosa e perda da sensibilidade térmica.
- (C) Perda da sensibilidade térmica e dolorosa e preservação da sensibilidade tátil.
- (D) Perda da sensibilidade vibratória e preservação do tato protopático.
- (E) Perda da sensibilidade dolorosa e preservação da sensibilidade térmica.

QUESTÃO 35

Qual das seguintes alternativas apresenta um dado típico de uma síndrome vestibular de origem central?

- (A) Oscilopsia.
- (B) Presença de nistagmo à manobra de Dix-Hallpike.
- (C) Vertigem isolada.
- (D) Nistagmo puramente vertical.
- (E) Nistagmo horizontal unilateral.

QUESTÃO 36

O sinal de Spurling é

- (A) altamente sugestivo de radiculopatia cervical.
- (B) uma variante do sinal de Lhermitte.
- (C) um dos sucedâneos do sinal de Babinski.
- (D) clássico, mas pouco específico para a radiculopatia lombossacra.
- (E) patognômico da tuberculose raquídea torácica.

QUESTÃO 37

Assinale a alternativa correta em relação a uma hérnia discal foraminal L4-L5 esquerda.

- (A) Há ausência típica do sinal de Lasègue.
- (B) Apresenta abolição do reflexo aquileu ipsilateral.
- (C) Apresenta radiculopatia L5 ipsilateral.
- (D) Apresenta possível presença do sinal de Lasègue invertido.
- (E) É muito menos comum que as hérnias em níveis mais altos, como L1-L2 e L2-L3.

QUESTÃO 38

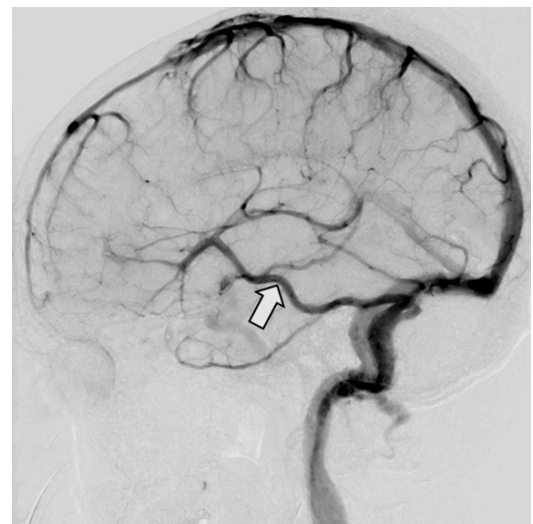
Considere a figura a seguir, solicitada para a avaliação de uma paciente de 32 anos com lombalgia crônica. Qual é o diagnóstico mais provável?



- (A) Fratura do platô de S1.
- (B) Espondilólise L5-S1.
- (C) Fratura do processo transverso de L5.
- (D) Espondilolistese grau III L4-L5.
- (E) Doença de Scheuermann.

QUESTÃO 39

Considere a figura a seguir, qual estrutura está assinalada pela seta?



- (A) Artéria cerebral posterior (padrão fetal).
- (B) Veia basal de Rosenthal.
- (C) Veia de Labbé.
- (D) Artéria cerebral média.
- (E) Seio petroso superior.

QUESTÃO 40

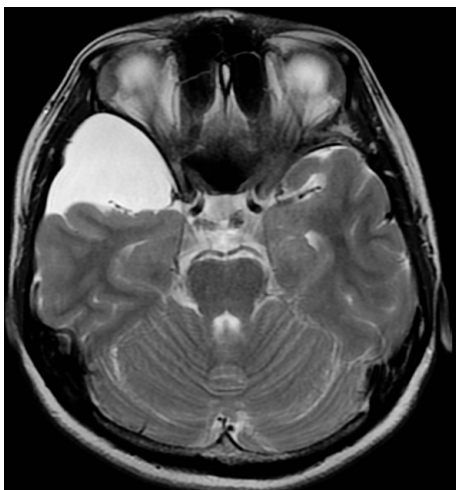
Qual é a hipótese diagnóstica mais compatível com o que está demonstrado na figura a seguir?



- (A) Tumor dermoide.
- (B) Tumor epidermoide.
- (C) Cisto aracnoide.
- (D) Má-formação (*continuum*) de Dandy-Walker.
- (E) Megacisterna magna.

QUESTÃO 41

Qual é a hipótese diagnóstica mais compatível com o que está demonstrado na figura a seguir, a qual representa parte de um exame para a avaliação de um paciente de 17 anos, com crise convulsiva inédita e exames físicos geral e neurológico sem anormalidades?



- (A) Tumor epidermoide.
- (B) Cisto aracnoide.
- (C) Tumor neuroepitelial disembrionário.
- (D) Hemangioblastoma.
- (E) Xantoastrocitoma pleomórfico.

QUESTÃO 42

Qual é o agente infeccioso mais comum nas espondilodiscites?

- (A) *Escherichia coli*.
- (B) *Staphylococcus aureus*.
- (C) *Staphylococcus epidermidis*.
- (D) *Klebsiella pneumoniae*.
- (E) *Enterobacter sp.*

QUESTÃO 43

Qual é o sítio primário mais comum das metástases intracerebrais?

- (A) Melanoma cutâneo.
- (B) Pulmão.
- (C) Trato gastrointestinal.
- (D) Próstata.
- (E) Trato genitourinário.

QUESTÃO 44

Qual alternativa apresenta um típico marcador bioquímico das neoplasias embrionárias intracranianas situadas na linha mediana?

- (A) p53.
- (B) CA-125.
- (C) Fosfatase alcalina placentária.
- (D) VEGF.
- (E) TIMP-2.

QUESTÃO 45

Qual alternativa apresenta um aspecto histopatológico típico do astrocitoma pilocítico?

- (A) Necrose.
- (B) MIB-1 acima de 30%.
- (C) Marcante atipia celular.
- (D) Fibras de Rosenthal.
- (E) Proliferação vascular conspícua.

QUESTÃO 46

Qual alternativa apresenta uma alteração que é critério diagnóstico para a neurofibromatose tipo 2?

- (A) Manchas café-com-leite.
- (B) Efélides axilares.
- (C) Nódulos de Lisch.
- (D) Glioma de nervo óptico.
- (E) Schwannoma vestibular bilateral.

QUESTÃO 47

Assinale a alternativa que apresenta uma contraindicação para a radiocirurgia intracraniana.

- (A) Trigeminalgia essencial.
- (B) Adenoma hipofisário residual (após abordagem transesfenoidal) junto ao seio cavernoso.
- (C) Provável metástase intracerebral única de melanoma com 5,5 cm em seu maior diâmetro.
- (D) Schwannoma vestibular intracanalicular unilateral.
- (E) Má-formação artério-venosa no giro pré-central esquerdo.

QUESTÃO 48

No manejo inicial de um paciente com traumatismo cranioencefálico grave, recomenda-se evitar

- (A) injeção de manitol 20%.
- (B) injeção de solução salina 7,2%.
- (C) hiperventilação Profilática.
- (D) monitorização da pressão intracraniana.
- (E) sedação plena.

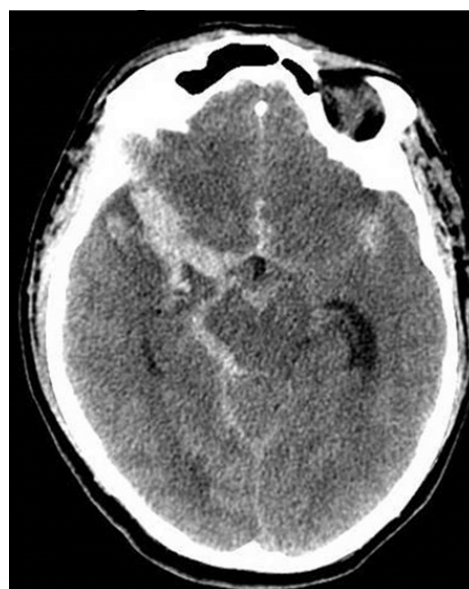
QUESTÃO 49

Na distribuição do plexo braquial, é correto afirmar que

- (A) o nervo ulnar é formado pelo tronco superior.
- (B) o tronco superior é formado pelas raízes C6, C7 e C8.
- (C) o nervo musculocutâneo é formado pelas raízes C7 e T1.
- (D) o tronco inferior é formado pelas raízes C8 e T1.
- (E) o nervo mediano é formado pelas raízes C3 e C4.

QUESTÃO 50

Uma mulher de 43 anos de idade foi levada ao pronto-socorro (PS). Ela é caucasóide, longilínea, natural e procedente de Juiz de Fora (MG). Segundo o marido, logo após o final da relação sexual, o que ocorreu há cerca de meia hora, ela se queixou de “forte dor de cabeça e apagou daí” (*sic*). O marido negou quaisquer doenças. A avaliação inicial no PS estava anotada da seguinte forma: “PA = 150 X 95 mmHg, FC = 115 bpm, corada, hidratada, anictérica, acianótica, eupneica, afebril, pulmões limpos, ausculta cardíaca normal, abdome inocente, sem edema de MMII, Glasgow 10, rigidez nucal 3+/4+, anisocoria (dir > esq)”. A figura a seguir demonstra parte de um exame solicitado para avaliação inicial do quadro. Em relação ao caso clínico, assinale a alternativa correta.



- (A) Fisher I e Hunt-Hess I.
- (B) Fisher II e Hunt-Hess II.
- (C) Fisher III e Hunt-Hess III.
- (D) Fisher III e Hunt-Hess IV.
- (E) Fisher IV e Hunt-Hess IV.