



FUNDAÇÃO INSTITUTO BRASILEIRO DE GEOGRAFIA E ESTATÍSTICA - IBGE

EDITAL DE PROCESSO SELETIVO SIMPLIFICADO Nº02/2019

NÍVEL SUPERIOR

ANALISTA CENSITÁRIO

CIÊNCIAS SOCIAIS

Nome do Candidato _____

Inscrição _____



COMPOSIÇÃO DO CADERNO

Língua Portuguesa 01 a 15

Conhecimentos Específicos 16 a 50

Raciocínio Lógico 51 a 60



INSTRUÇÕES

1. Confira seu nome, o número do seu documento e o número de sua inscrição na Folha de Respostas. Além disso, não se esqueça de conferir seu Caderno de Questões quanto a falhas de impressão e de numeração. Preencha os campos destinados à assinatura e ao número de inscrição. Qualquer divergência, comunique ao fiscal.
2. O único documento válido para avaliação é a Folha de Respostas. Só é permitido o uso de caneta esferográfica transparente de cor azul ou preta para o preenchimento da Folha de Respostas, que deve ser preenchida da seguinte maneira: ●
3. O prazo de realização da prova é de 4 (quatro) horas, incluindo a marcação da Folha de Respostas. Após 60 (sessenta) minutos do início da prova, o candidato estará liberado para utilizar o sanitário ou deixar definitivamente o local de aplicação, não podendo, no entanto, levar o Caderno de Questões e nenhum tipo de anotação de suas respostas.
4. Ao término de sua prova, comunique ao fiscal, devolvendo-lhe a Folha de Respostas devidamente preenchida e assinada. O candidato somente poderá levar consigo o Caderno de Questões, ao final da prova, se sua saída ocorrer nos 30 (trinta) minutos anteriores ao horário determinado para o término das provas.
5. Os 3 (três) últimos candidatos só poderão retirar-se da sala juntos, após assinatura do Termo de Fechamento do envelope de retorno.
6. As provas e os gabaritos preliminares estarão disponíveis no site do Instituto AOCP - www.institutoaocp.org.br, no dia posterior à aplicação da prova.
7. O NÃO cumprimento a qualquer uma das determinações constantes em Edital, no presente Caderno ou na Folha de Respostas incorrerá na eliminação do candidato.

PROVA

01

**LEMBRE-SE DE MARCAR O NÚMERO
CORRESPONDENTE À SUA PROVA NA
FOLHA DE RESPOSTAS!**

ATENÇÃO!

NÃO SE ESQUEÇA de marcar, na Folha de Respostas, o número de sua prova indicado na capa deste caderno.

Língua Portuguesa

TEXTO I

O último paradoxo da vida moderna: por que ficamos presos ao celular, mas odiamos falar por telefone?

Não deixe uma ligação rápida arruinar uma longa e confusa série de mensagens de WhatsApp

SILVIA LÓPEZ

Para iniciar um texto, Hemingway dizia a si mesmo: “Escreva a frase mais verdadeira que você conhece”. Neste caso, seria: a psicóloga Cristina Pérez, do Siquia, respondeu por meio de mensagens de áudio às perguntas que lhe enviamos por email. Essa curiosidade metajornalística não tem importância, não altera a qualidade de suas respostas, só ilustra a variedade e fluidez de opções com as quais podemos nos comunicar hoje. Recebemos um email? Respondemos com um áudio. Chegou um áudio de WhatsApp? Respondemos com um texto. Recebemos um telefonema? Não respondemos. Esperamos. Esperamos. E escrevemos: “Você me ligou? Não posso falar, é melhor me escrever”. O paradoxo do grande vício do século XXI é que estamos presos ao celular, mas temos fobia das ligações telefônicas.

A ligação telefônica – que, até não muito tempo atrás, esperávamos com alegria ou tolerávamos com resignação, mas nunca evitávamos com uma rejeição universal – se tornou uma presença intrusiva e incômoda, perturbadora e tirânica, mas por quê? “Uma das razões é que quando recebemos uma ligação, ela interrompe algo que estávamos fazendo, ou simplesmente não temos vontade de falar nesse momento”, explica a psicóloga Cristina Pérez. “Por outro lado, também exige de nós uma resposta imediata, ao contrário do que ocorre na comunicação escrita, que nos permite pensar bem no que queremos dizer. E a terceira razão seria o fato de não poder saber de antemão qual será a duração do telefonema”, acrescenta.

Adaptado de: <https://brasil.elpais.com/brasil/2019/06/01/tecnologia/1559392400_168692.html>. Acesso em: 25 jun. 2019

As questões de 1 a 10 se referem ao texto I.

- 1. Em relação ao excerto “Não deixe uma ligação rápida arruinar uma longa e confusa série de mensagens de WhatsApp”, é correto afirmar que**
 - (A) ele é um conselho para as pessoas não receberem ligações rápidas.
 - (B) a palavra “rápida” caracteriza “ligação” enquanto as palavras “longa”, “confusa” e “série” caracterizam “mensagens”.
 - (C) ele é irônico, pois o conteúdo que se pretende veicular possui o significado contrário daquilo que é posto.
 - (D) ele está no modo imperativo, indicando um pedido para que as pessoas não diminuam o uso de WhatsApp.
 - (E) a palavra “série” está sendo utilizada com o mesmo significado que na frase: “A antiga 5ª série equivale hoje ao 6º ano”.
- 2. De acordo com o texto, é correto afirmar que**
 - (A) a autora seguiu o conselho de Hemingway.
 - (B) a curiosidade metajornalística citada pela autora não tem importância para a temática do texto.
 - (C) não há resposta para a pergunta presente no título.
 - (D) a ligação telefônica está presente na vida das pessoas.
 - (E) respondemos e-mails com áudios porque nos comunicamos melhor oralmente do que pela escrita.
- 3. No segundo parágrafo do texto, a informação entre travessões**
 - (A) descreve três atitudes negativas em relação à ligação telefônica.
 - (B) é constituída por três ações que se excluem mutuamente.
 - (C) é constituída por verbos que não requerem um complemento.
 - (D) restringe o sentido do termo “ligação telefônica”.
 - (E) completa o sentido do termo “ligação telefônica”.

4. Assinale a alternativa que apresenta a reescrita adequada, sintática e semanticamente, para o seguinte excerto: “O paradoxo do grande vício do século XXI é que estamos presos ao celular, mas temos fobia das ligações telefônicas.”.
- (A) O paradoxo do grande vício do século consecutivo é estarmos presos ao celular, mas termos fobia das ligações telefônicas.
- (B) A incoerência do grande vício do século consecutivo é estarmos presos ao celular, mas ficarmos doentes sem as ligações telefônicas.
- (C) No século XXI, é contraditório estar preso ao celular por ter medo das ligações telefônicas.
- (D) Temos medo das ligações telefônicas porque estamos presos ao celular; esse é o paradoxo do grande vício do século XXI.
- (E) Estarmos presos ao celular, mas termos fobia das ligações telefônicas é a incoerência do grande vício do século vigente.
5. Assinale a alternativa em que a expressão em destaque NÃO indica circunstância de tempo, NÃO sendo, portanto, um adjunto adverbial de tempo ou uma oração subordinada adverbial temporal.
- (A) “O paradoxo do grande vício do século XXI é que estamos presos ao celular [...]”.
- (B) “[...] quando recebemos uma ligação, ela interrompe algo [...]”.
- (C) “[...] simplesmente não temos vontade de falar nesse momento [...]”.
- (D) “[...] saber de antemão qual será a duração do telefonema [...]”.
- (E) “[...] opções com as quais podemos nos comunicar hoje.”.
6. Qual é a relação de sentido estabelecida no excerto “Não posso falar, é melhor me escrever”?
- (A) Contraste.
- (B) Causalidade.
- (C) Adição.
- (D) Conformidade.
- (E) Finalidade.
7. Em “[...] esperávamos com alegria ou tolerávamos com resignação, mas nunca evitávamos com uma rejeição universal.”,
- (A) há uma relação de oposição entre esperar com alegria e tolerar com resignação.
- (B) a acentuação de “esperávamos”, “tolerávamos” e “evitávamos” se deve ao fato de serem verbos.
- (C) não é possível identificar os sujeitos dos verbos presentes no excerto.
- (D) todos os verbos apresentam o mesmo sujeito e estão no mesmo modo.
- (E) o uso da vírgula é facultativo.
8. É um sinônimo da palavra “ligação” o vocábulo
- (A) “email”.
- (B) “telefone”.
- (C) “telefonema”.
- (D) “celular”.
- (E) “áudio de WhatsApp”.
9. A repetição de “esperamos”, em “Recebemos um telefonema? Não respondemos. Esperamos. Esperamos. E escrevemos: [...]”,
- (A) indica que o retorno é dado depois de um tempo considerável após a ligação.
- (B) indica que o retorno é dado imediatamente após a ligação.
- (C) não dá nenhum indício sobre o tempo transcorrido até o retorno.
- (D) deveria ser eliminada, pois se trata de um problema de coesão.
- (E) enfatiza a pouca frequência com que se recebem telefonemas.
10. Assinale a alternativa que apresenta a reescrita adequada, sintática e semanticamente, para o seguinte excerto: “[...] ‘Você me ligou? Não posso falar, é melhor me escrever’.”.
- (A) Você ligou-me? Não posso falar, é melhor eu escrever.
- (B) Ligastes para mim? Não posso falar, escreve a mim que és melhor.
- (C) Me ligou? Não posso falar, escrever é melhor para mim.
- (D) Você ligou para mim? Não posso falar, é melhor que me escreva.
- (E) Me ligou? Não posso falar, me escreve que é melhor.

TEXTO II

Você é o que você se diz: a ciência do diálogo interno

PILAR JERICÓ

Se você quiser variar a percepção que tem sobre você, precisa alterar seu diálogo interior. A forma como você conversa consigo mesmo condiciona sua capacidade de enfrentar as dificuldades e determina a tomada de decisões. A autoafirmação, ou pensar coisas positivas sobre nós mesmos, é uma ferramenta muito útil para reforçar a autoestima. Entretanto, não vale qualquer comentário. Já ficou comprovado que frases como “aguento tudo” ou “sou uma pessoa superagradável” não ajudam muito. Quem as expressa não está realmente convencido disso, então essas expressões podem ter efeito contrário. A ciência do diálogo interior nos dá pistas sobre as técnicas que tornam nossas autoafirmações eficazes: devemos imaginar futuras situações agradáveis e nos tratar na segunda pessoa.

Adaptado de: <https://brasil.elpais.com/brasil/2019/05/05/ciencia/1557083642_455016.html>. Acesso em: 25 jun. 2019.

As questões de 11 a 15 se referem ao texto II.

11. Assinale a alternativa que apresenta um exemplo de tratamento na segunda pessoa do singular.

- (A) Eu sou capaz de vencer meus desafios.
- (B) Juntos, nós podemos transformar o mundo.
- (C) Você é forte para superar os obstáculos da vida.
- (D) As pessoas não vão abalar minha autoconfiança.
- (E) Sempre é possível evoluir como ser humano.

12. Em “Se você quiser variar a percepção que tem sobre você, precisa alterar seu diálogo interior.”, a relação de sentido que se estabelece é de

- (A) condição.
- (B) tempo.
- (C) conclusão.
- (D) concessão.
- (E) contraste.

13. Em “A forma como você conversa consigo mesmo condiciona sua capacidade [...]”, o termo em destaque poderia ser substituído adequadamente por

- (A) “que”.
- (B) “cuja”.
- (C) “onde”.
- (D) “para qual”.
- (E) “pela qual”.

14. Assinale a alternativa em que a palavra formada, assim como “autoafirmação” e “superagradável”, é grafada sem hífen.

- (A) auto + hipnose.
- (B) auto + observação.
- (C) super + herói.
- (D) super + requintado.
- (E) super + salário.

15. De acordo com o texto, é correto afirmar que

- (A) conversar consigo mesmo pode combater a depressão.
- (B) a imaginação é importante no processo de melhora da autoestima.
- (C) as pessoas que não conversam com elas mesmas não têm autoestima.
- (D) falar consigo mesmo na primeira pessoa não ajuda porque isso não reflete como as outras pessoas falam conosco.
- (E) o diálogo interior só é possível a partir de um diálogo exterior, no qual está presente uma segunda pessoa.

Conhecimentos Específicos

16. Considere a seguinte situação: uma comunidade quilombola vive da agricultura, cultivando feijão, milho, arroz, hortaliças, mandioca e frutas, e da pecuária, criando aves, suínos, bovinos, etc. Por conta do tamanho dos lotes e do relevo acidentado, a produção agropecuária é mais para a subsistência e o que sobra é comercializado. Algumas famílias produzem fumo, que é uma cultura que utiliza menor extensão de terra; outras famílias vendem sua força de trabalho por dia a outros produtores da região. Quanto ao recenseamento, levando em conta a necessidade de enquadramento dessa população no quesito trabalho produtivo, assinale a alternativa correta.

- (A) O cultivo de fumo é a única atividade a ser considerada como trabalho.
- (B) Deve-se esperar para realizar o recenseamento até que essa comunidade esteja mais estruturada economicamente.
- (C) Deve-se considerar a atividade na roça e no trato com animais para subsistência como trabalho.
- (D) Somente serão enquadradas aquelas pessoas que receberem pagamento em dinheiro por seu trabalho.
- (E) Nenhuma das atividades listadas tem caráter permanente, portanto não podem ser consideradas atividades produtivas.

17. Acerca da língua falada por grupos indígenas, assinale a alternativa correta.

- (A) Os grupos indígenas foram aculturados ao longo dos anos e perderam contato com a língua original.
- (B) Os grupos indígenas procuram preservar a língua materna e hoje em dia só falam o Tupi-Guarani.
- (C) Apenas os índios da região amazônica, sem contato com a civilização, falam a língua materna.
- (D) O grupo Kaingang é o maior e o único a preservar a língua original.
- (E) Existem dois grandes troncos linguísticos falados e subdivididos em várias línguas: o Macro-Jê e o Tupi.

18. O território é fundamental para as comunidades quilombolas. Assinale a alternativa que melhor descreve a relação dessas comunidades com o território.

- (A) O território é a somatória dos lotes individuais.
- (B) O território, hoje em dia, é tratado como uma mercadoria a ser comercializada.
- (C) A terra não passa como herança para os descendentes.
- (D) Os territórios são tratados como bem comum ao grupo e sua exploração segue a partir de acordos consensuais, baseados na solidariedade e ajuda coletiva.
- (E) A decisão sobre o modo de exploração das terras e o tipo de cultura é decisão do coordenador do grupo.

19. De acordo com o art. 2º do Decreto nº 4.887, de 20 de novembro de 2003, os quilombolas são remanescentes das comunidades dos quilombos e são grupos étnico-raciais, segundo critérios de autoatribuição, com trajetória histórica própria, dotados de relações territoriais específicas, com presunção de ancestralidade negra. Assinale a alternativa correta a respeito dos quilombolas.

- (A) Toda população negra pode se considerar quilombola.
- (B) Os grupos quilombolas precisam comprovar por documentos que descendem de escravos.
- (C) Hoje em dia, não existem mais quilombolas, em decorrência da ampla miscigenação da população brasileira.
- (D) Quilombolas se confundem com os grupos indígenas e têm os mesmos direitos.
- (E) Comunidade quilombola remanescente é um conceito jurídico-político ancorado em realidade específica desse agrupamento social.

20. Considerando a situação em que o entrevistado se declarar indígena no censo demográfico, informe se é verdadeiro (V) ou falso (F) o que se afirma a seguir e assinale a alternativa com a sequência correta.

- () Será tratado como os outros entrevistados, afinal, somos todos brasileiros.
- () Deverá apontar etnia, grupo ou povo a que pertence.
- () Somente será entrevistado aquele que se declarar também brasileiro.
- () Somente aquele pertencente a tribos amazônicas terá tratamento diferenciado.
- () Poderá apontar a crença, religião ou ritual que professa.

- (A) F – V – F – F – V.
- (B) V – F – F – V – V.
- (C) F – F – V – V – F.
- (D) F – V – V – F – V.
- (E) V – V – F – V – F.

21. A noção de exclusão social é bastante utilizada pelas ciências sociais e também quando governos elaboram políticas públicas. Embora não existam consensos em torno do conceito, elementos consistentes são listados quando se trata do tema. Entre eles, estão frágil acesso a direitos fundamentais, condições de vida precária e ruptura de laços sociais. A partir dessa afirmação, é correto afirmar que a pessoa vive em situação de exclusão social quando houver:

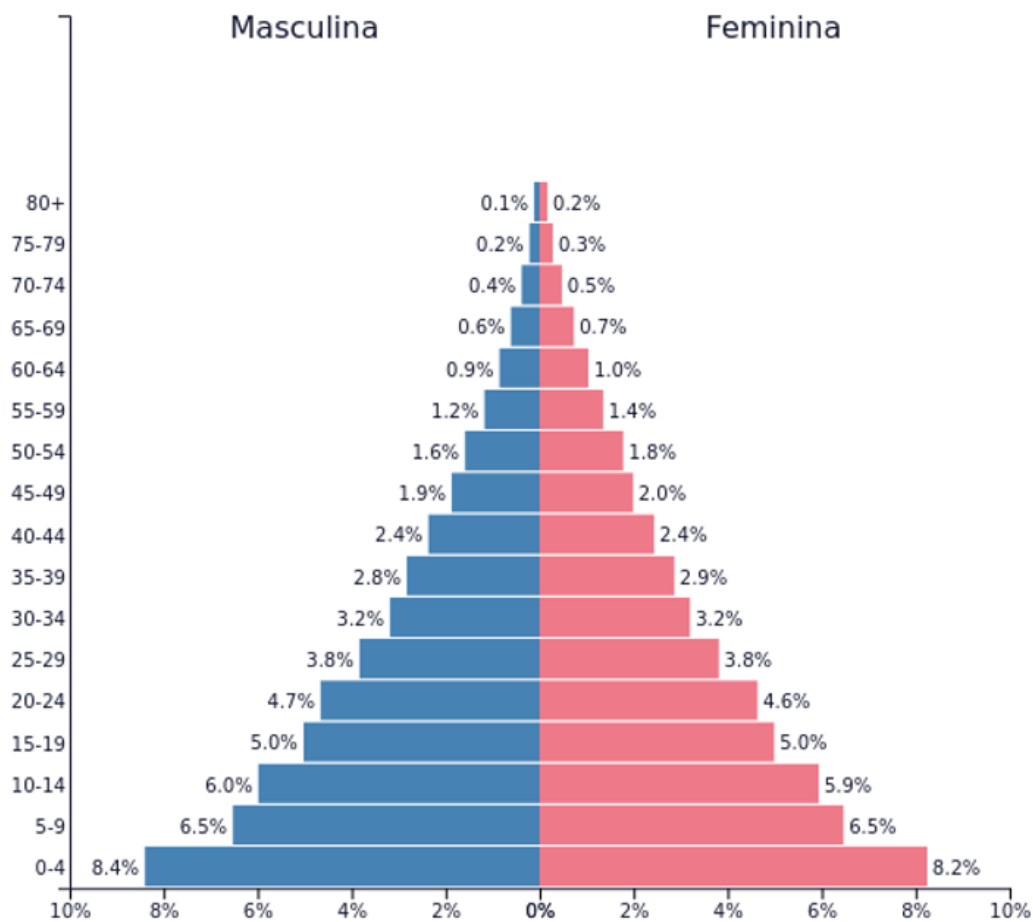
- (A) habitação subnormal; trabalho infantil; falta de vagas no sistema de saúde público; alto índice de analfabetismo entre adultos.
- (B) alto índice de abstenção eleitoral; remuneração diferenciada entre as categorias profissionais; dificuldade de acesso à rede de ensino privado.
- (C) alto índice de abstenção eleitoral; analfabetismo entre adultos; trabalho infantil.
- (D) falta de saneamento básico; dificuldade de acesso à rede de ensino privada; trabalho infantil.
- (E) existência de movimentos separatistas; alto índice de abstenção eleitoral; remuneração diferenciada entre as categorias profissionais.

22. A parcela mais expressiva da transição rural-urbana no Brasil ocorreu entre 1960 e 1991, de acordo com os dados do IBGE. Sobre esse assunto, analise as assertivas e assinale a alternativa que aponta as corretas.

- I. Nas décadas de 1960 e 1970, mais de 31 milhões de indivíduos abandonaram o campo.**
- II. Os migrantes rurais compuseram os extratos mais altos das ocupações urbanas.**
- III. A modernização agrícola brasileira, intensificada a partir de 1960, resultou no aumento de concentração de terra e na expulsão violenta de pequenos produtores familiares em áreas de fronteira agrícola como Centro-Oeste e Norte.**
- IV. Na modernização agrícola brasileira, ocorreu maior distribuição de terra, principalmente no Centro-Oeste e no Norte, que passaram a utilizar menos mão de obra por conta da mecanização.**

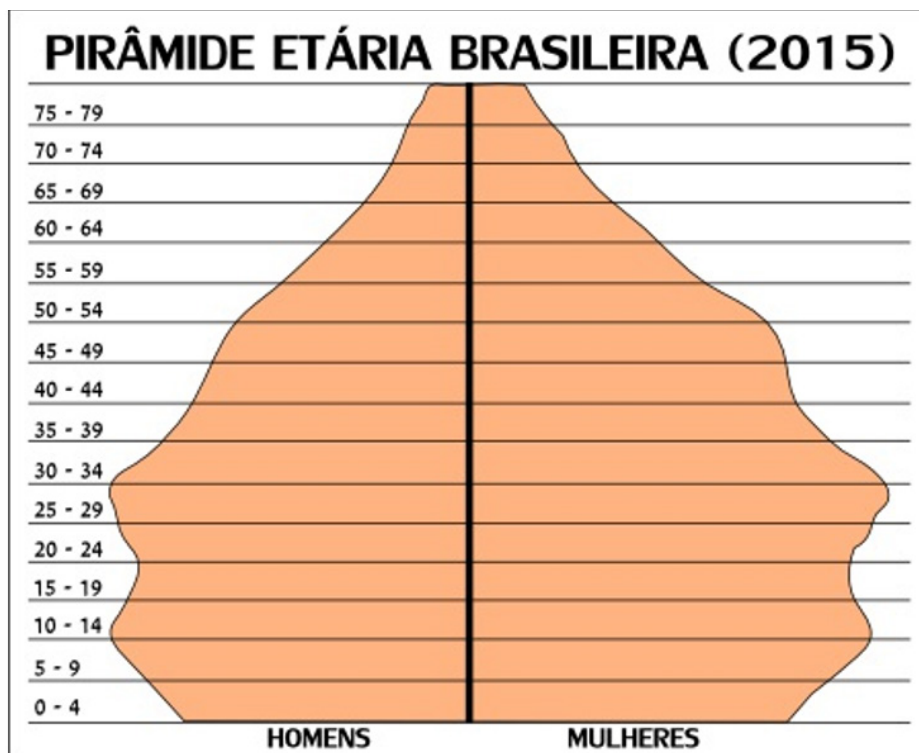
- (A) Apenas I e IV.
- (B) Apenas II e III.
- (C) Apenas I e II.
- (D) Apenas II e IV.
- (E) Apenas I e III.

As seguintes figuras correspondem às questões 23 e 24.



PopulationPyramid.net

Brasil - 1950
População: **53,974,726**



23. Analise atentamente as pirâmides populacionais apresentadas, sendo que a linha vertical corresponde às faixas etárias, e assinale a alternativa correta.

- (A) A principal mudança ocorrida entre 1950 e 2015 foi que a população jovem entre 15 e 19 anos aumentou.
- (B) A população está envelhecendo e aumentaram as faixas etárias da população economicamente ativa.
- (C) O Brasil permanece com a maioria da população jovem.
- (D) A população está envelhecendo e diminuíram as faixas etárias da população economicamente ativa.
- (E) A distribuição da população por faixa etária sofreu pouca mudança.

24. Considerando que PEA – População Economicamente Ativa – é a população empregada ou que possui condições de trabalhar e que realiza esforço para isso, ou seja, que possui idade legal e está ativa para o trabalho remunerado, assinale a alternativa correta.

- (A) Comparando as figuras 1 e 2, verifica-se a tendência para o envelhecimento populacional, mas isso não se apresenta como um problema, pois as pessoas trabalham mais anos.
- (B) No futuro, haverá equilíbrio entre todas as faixas etárias, o que significa que a PEA permanecerá equilibrada.
- (C) É mais adequado ao país existirem menos jovens, pois significa menos investimento em escolas.
- (D) A tendência de mudança na pirâmide etária é negativa, pois a projeção é que haverá proporção maior de pessoas economicamente inativas que de pessoas economicamente ativas.
- (E) A tendência é positiva, pois, no futuro, haverá mais jovens no mercado de trabalho.

25. No que diz respeito à política de industrialização brasileira, a partir da década de 1970, alguns segmentos políticos e econômicos acreditaram ser possível colocar o Brasil em uma posição de país industrialmente avançado e autossuficiente. Assinale a alternativa correta, a partir dessa afirmação.

- (A) Na década de 1980, o Brasil atingiu um patamar de industrialização compatível com o dos países desenvolvidos.
- (B) O ingresso do país na chamada terceira Revolução Industrial ou Revolução Técnico-científica permitiu o desenvolvimento de atividades na indústria que aplicam tecnologias de ponta em todas as etapas produtivas.
- (C) Os processos de transnacionalização foram adquirindo uma base tecnológica que tornou baixo o patamar de produtividade alcançado pela indústria brasileira.
- (D) Apesar de o padrão tecnológico brasileiro corresponder ao da segunda revolução industrial, o empenho do empresariado garantiu que a indústria permanecesse competitiva.
- (E) A crise inflacionária dos anos de 1980 foi revertida rapidamente e o Brasil conseguiu atingir patamares adequados de produtividade.

26. Sobre as características do arranjo federativo no Brasil, informe se é verdadeiro (V) ou falso (F) o que se afirma a seguir e assinale a alternativa com a sequência correta.

- () O poder legislativo, nos níveis federal e estadual, é unicameral.
- () O sistema partidário é multipartidário, mas com apenas dois partidos relevantes.
- () Projeto de iniciativa popular deve ser apresentado à Câmara dos Deputados na forma de projeto de lei subscrito por, no mínimo, um por cento do eleitorado nacional, distribuído por, pelo menos, cinco Estados.
- () O Senado é formado por meio do método majoritário, representação igual por Estado, e a Câmara Federal por representação proporcional ao número de eleitores.
- () Os 26 estados da federação mais o distrito Federal possuem representação em igualdade numérica na Câmara dos Deputados.

- (A) V – F – V – V – F.
- (B) F – F – F – V – V.
- (C) V – V – F – F – V.
- (D) F – F – V – V – F.
- (E) F – V – F – V – F.

27. A cultura produzida pelo homem em seus mais variados processos de interação com o meio que o cerca se constitui em elementos materiais e elementos imateriais. Segundo essa divisão, assinale a alternativa correta.

- (A) Faz parte da cultura material o hábito de algumas comunidades do sul do país de tomar vinho às refeições e estimular as gerações futuras a incorporar a tradição.
- (B) A fabricação de móveis artesanais se caracteriza como de bens imateriais; já uma receita de moqueca corresponde a um elemento material.
- (C) Congada, Moçambique e Maracatu são danças que correspondem a elementos da cultura imaterial brasileira, já a confecção de panelas de barro para culinária é elemento de cultura material.
- (D) São elementos da cultura imaterial somente aqueles vinculados ao folclore brasileiro.
- (E) Apenas no meio urbano se produzem elementos da cultura material.

28. O chamado terceiro setor ganhou grande protagonismo nas últimas décadas. Quando se trata desse tema, refere-se a que tipo de organizações?

- (A) Organizações estatais que se desenvolvem e se adaptam com rapidez.
- (B) Organizações da sociedade civil, filantrópicas e sem fins lucrativos.
- (C) Organizações da sociedade civil com grande flexibilidade às mudanças.
- (D) Entidades governamentais que têm estrutura de poder competitiva.
- (E) Entidades que buscam primeiro o ganho financeiro.

29. Assinale a frase que melhor corresponde a um sistema político democrático.

- (A) Não existem mecanismos legais para remover um líder do poder.
- (B) O sistema assegura os direitos políticos de uma minoria econômica.
- (C) Os interesses de Estado ganham prioridade sobre os interesses dos cidadãos.
- (D) Sistema que leva em conta o interesse da maioria da população.
- (E) Eleições ocorrem em períodos irregulares.

30. Entre os cientistas sociais, existem diferentes terminologias para definir o que seria um trabalho etnográfico e também sobre suas aplicações. Uma definição largamente aceita é que etnografia é trabalho que resulta na descrição de uma cultura ou na compreensão de um estilo de vida sob a ótica do nativo. Considerando essa definição, assinale a alternativa que NÃO corresponde a um trabalho etnográfico.

- (A) O pesquisador, abandonando a ideia de objetividade absoluta, mistura-se ao ser cultural que pretende estudar.
- (B) O trabalho etnográfico também comporta a tarefa de tradução cultural.
- (C) Nas últimas quatro décadas, avanços significativos nessa técnica foram produzidos na antropologia e na sociologia.
- (D) Conhecer o grupo, possuir informações sobre o grupo, suas rotinas e rituais, facilitando a entrada e a permissão dos pesquisados.
- (E) Por se tratar de uma abordagem que leva em conta diversos aspectos da subjetividade, é parte fundamental o conhecimento de técnicas de pesquisa que usam o recurso da estatística.

31. Os números referentes à inclusão social no Brasil têm se modificado na última década, caracterizando alguns êxitos no processo de inclusão socioeconômica da população pobre no período compreendido entre 1960 e 2010, porém muitos desequilíbrios persistem. Sobre esse assunto, informe se é verdadeiro (V) ou falso (F) o que se afirma a seguir e assinale a alternativa com a sequência correta.

- () Coleta de lixo e energia elétrica tornaram-se praticamente universais no meio urbano.
- () Quando se desagregam dados do Sistema Único de Saúde (SUS), verifica-se que há uma maior proporção de usuários brancos.
- () 36,4% das mulheres com 25 anos ou mais de idade nunca fizeram exames clínicos de mama, sendo a proporção de 28,7% de brancas e 46,3% de negras. Esse número aponta a desigualdade no atendimento relacionada a práticas discricionárias.

- () Os homens negros dedicam mais horas aos afazeres domésticos que os homens brancos.
- () Sobre a exclusão digital das parcelas mais pobres da população, é possível afirmar que ocorre um maior acesso a microcomputadores, se comparado a outro bem de consumo, como o telefone celular.
- (A) V – F – F – V – F.
(B) F – V – F – V – F.
(C) V – F – V – F – F.
(D) F – V – V – F – V.
(E) V – F – F – V – V.

32. As políticas sociais no Brasil sofreram mudanças ao longo das últimas décadas no que diz respeito às competências dos entes federados e da sociedade civil. Sobre o assunto, assinale a alternativa correta.

- (A) Alguns estudos mostram que a agenda política para áreas como educação fundamental e saúde estão a cargo apenas dos municípios.
- (B) As políticas estatais voltadas para áreas de habitação e saneamento básico têm, historicamente, um caráter estatal e centralizador, que não foi alterado pela agenda de reformas dos anos 1990.
- (C) A política de assistência social sofreu inúmeras mudanças, mas o atendimento a populações em situação de vulnerabilidade ficou sob responsabilidade das entidades assistenciais sem fins lucrativos.
- (D) Na década de 1990, a descentralização e a universalização das políticas de saúde conferiram aos municípios brasileiros a responsabilidade pela gestão dos serviços públicos nessa área. Contudo o financiamento ficou a cargo das três esferas de governo.
- (E) A Construção do Sistema Único de Saúde (SUS) implicou em uma ampla reforma que envolveu o princípio ordenador do direito à saúde, deixando-a prioritariamente com o setor privado.

33. Um pesquisador escolhe como objeto de estudo uma área urbana de população pobre e degradada. Seu interesse é a estrutura social da localidade e, contrariamente ao senso comum de então, ele afirma que seu interesse é identificar os padrões de organização dessas comunidades, vistas como desorganizadas ou caóticas. Considerando a situação de pesquisa descrita, assinale a alternativa que apresenta a técnica de pesquisa correta a ser aplicada.

- (A) Realizar análise de documentos oficiais que reúnem dados estatísticos da área.
- (B) Realizar um *survey* com os moradores, a partir de amostragem aleatória.
- (C) Realizar pesquisa qualitativa, baseada em observação participante.
- (D) Realizar pesquisa a partir de fontes orais com os moradores mais antigos.
- (E) Passar um questionário aos moradores por meio eletrônico.

34. Quando o tema é a Antropologia Brasileira, o período entre 1930 e 1960 foi de fundamental importância para a construção do campo de conhecimento. A respeito do assunto, assinale a alternativa INCORRETA.

- (A) O antropólogo Darcy Ribeiro pertence à segunda geração de antropólogos.
- (B) O Antropólogo Claude Lévi-Strauss pertence à primeira geração de antropólogos e veio para o Brasil em uma das inúmeras missões francesas.
- (C) A construção de uma identidade profissional no período se difundiu por meio da Associação Brasileira de Antropologia.
- (D) As comunidades indígenas foram a grande fonte de pesquisas da primeira geração de antropólogos.
- (E) Roger Bastide lecionou na Universidade de São Paulo ao final da década de 1960 e concentrou seus estudos em tribos indígenas.

35. No Brasil, os princípios e definições referentes à cultura, direitos e relações com a sociedade brasileira por parte da população indígena estão presentes na Lei nº 6.001/1973, que dispõe sobre o Estatuto do Índio. Com base nessa Lei, assinale a alternativa INCORRETA.

- (A) Restringe, no próprio benefício das populações indígenas, a possibilidade de escolha dos seus meios de vida e subsistência; garante aos índios a permanência voluntária no seu habitat.
- (B) A proposta aponta ao mesmo tempo a necessidade de preservação da cultura indígena e propõe uma integração progressiva e harmoniosa com a sociedade não índia.
- (C) É de responsabilidade da União, dos Estados, dos Municípios e dos órgãos das respectivas administrações indiretas, nos limites de sua competência, a proteção das comunidades indígenas e a preservação dos seus direitos.
- (D) No que diz respeito às comunidades indígenas ainda não integradas à sociedade nacional, é necessário proporcionar aos índios meios para o seu desenvolvimento. O ritmo de integração será respeitado de acordo com seus ritos e costumes.
- (E) Nos termos da Constituição, as comunidades indígenas detêm direito ao usufruto exclusivo das riquezas naturais e de todas as utilidades naquelas terras existentes.

36. Quando o tema são os direitos da população negra no Brasil, a referência ao período de transição da escravidão para a liberdade é obrigatória. Sobre essa fase, assinale a alternativa correta.

- (A) Os libertos receberam ao menos um pedaço de terra para iniciar a vida com sua família.
- (B) Os libertos não receberam nem terras, nem empregos e nem escolas.
- (C) Os libertos tiveram condições de acesso imediato ao sistema educacional público.
- (D) Os libertos tiveram preferência de empregos quando se dirigiram aos grandes centros urbanos, como o Rio de Janeiro.
- (E) Nas fazendas cafeeiras de São Paulo, os libertos conseguiram trabalho com melhor remuneração, pois tinham mais experiência que os imigrantes.

37. Considerando o aparelho administrativo brasileiro em perspectiva histórica, informe se é verdadeiro (V) ou falso (F) o que se afirma a seguir e assinale a alternativa com a sequência correta.

- () Ocorre progressiva extensão da atuação do Estado sobre o sistema educacional já a partir da Primeira República. Getúlio Vargas amplia a atuação para o ensino superior.
- () A condução geral de nomeação ao serviço público que vigorou no país até os anos de 1930 foi baseada em critérios meritocráticos.
- () Os principais órgãos e políticas de Estado foram estruturados anteriormente a 1930, e as reformulações levadas adiante por Getúlio Vargas apenas aprimoraram as estruturas já existentes.
- () Mesmo com a reforma administrativa, que se iniciou nos anos 30, o governo não conseguiu eliminar os traços de clientelismo e patrimonialismo e substituí-los por comportamentos baseados em valores de direitos e cidadania.
- () Estados e municípios conseguiram reproduzir, na mesma década, os elementos de racionalidade presentes na Lei nº 284/1936 que instituía o sistema de mérito.

- (A) F – F – F – V – F.
- (B) V – F – F – V – F.
- (C) F – F – V – V – F.
- (D) V – V – F – F – V.
- (E) V – F – F – V – V.

38. A Constituição de 1988 foi um documento crucial na expansão dos direitos políticos no Brasil. Diante dessa afirmação, assinale a alternativa correta.

- (A) Eliminou um grande obstáculo à universalidade do voto, tornando-o obrigatório aos analfabetos.
- (B) Permitiu o registro provisório de partidos políticos com um número grande de assinaturas.
- (C) Permaneceu a restrição de voto aos conscritos.
- (D) A idade mínima de votação permaneceu 18 anos.
- (E) Corrigiu a distorção regional da representação parlamentar.

39. Analise as assertivas e assinale a alternativa que aponta as corretas.

Na segunda metade dos anos de 1970, a ditadura militar, iniciada com o golpe de 1964, passou a sofrer pressão dos movimentos sociais e populares para o retorno à democracia. Foram várias entidades envolvidas nos acontecimentos. Entre essas entidades estão:

- I. Associação Brasileira de Imprensa.**
- II. Movimento Passe Livre.**
- III. ONG Geledés de Mulheres Negras.**
- IV. Ordem dos Advogados do Brasil.**
- V. Sociedade Brasileira para o Progresso da Ciência.**

- (A) Apenas I, II e III.
- (B) Apenas I, III e IV.
- (C) Apenas II, IV e V.
- (D) Apenas III, IV e V.
- (E) Apenas I, IV e V.

40. Conforme a pesquisa do IPEA, Retratos da Desigualdade de Gênero e Raça com a População Adulta com 12 ou mais anos de estudo, a situação comparada entre a população negra e branca é a seguinte:

	1995	2015
População Branca	12,5%	25,9%
População Negra	3,3%	12%

Considerando os dados apresentandos, assinale a alternativa que melhor descreve a diferença de escolaridade entre brancos e negros no Brasil.

- (A) Sobre a população negra, duplicou a velocidade de acessos aos anos de estudos, se comparado a 1995.
- (B) Apenas $\frac{1}{4}$ da população branca possui 12 anos ou mais de estudos. Trata-se do principal problema detectado.
- (C) O aumento de anos de estudo em relação à população negra está adequado à sua posição no mercado de trabalho.
- (D) A escolaridade da população negra teve um aumento de quase 4 vezes, mas não esconde o fato de que ela chega somente agora ao patamar de vinte anos atrás da população branca.
- (E) Seguindo o ritmo de mudanças, a defasagem de escolaridade entre a população negra e branca será superada em dez anos.

41. O Índice de Desenvolvimento Humano – IDH – é um exemplo de método estatístico de aglutinação que resulta em um índice composto.



IDH – Índice de Desenvolvimento Humano

Assinale a alternativa que corresponde corretamente aos 3 indicadores simples.

- (A) Produto Interno Bruto, média de anos de estudo da população adulta/ expectativa de vida escolar; expectativa de vida da população.
- (B) Média de anos de estudo da população adulta/expectativa de vida escolar; número de leitos hospitalares da rede pública; Produto Interno Bruto.
- (C) Expectativa de Vida da população; média de anos de estudo da população adulta/expectativa de vida escolar; Renda Nacional Bruta (RBN) *per capita*.
- (D) Quantidade de pessoas que concluem o ensino fundamental; Renda Nacional Bruta (RBN) *per capita*; expectativa de vida da população.
- (E) Número de leitos hospitalares na rede pública; Renda Nacional Bruta (RBN) *per capita*; quantidade de pessoas que concluem o ensino fundamental.
42. **A Marcha Noturna pela Democracia Racial ocorre na cidade de São Paulo no dia 13 de maio, desde 1997. Segundo os organizadores, o movimento trocou o dia pela madrugada, substituiu os discursos pelo silêncio, todos trajaram preto com uma tarja branca e substituíram a luz do sol pela luz de velas, buscando enfrentar o racismo e a discriminação. Sobre esse movimento social, é correto afirmar que**
- (A) trata-se de uma celebração do dia 13 de maio, dia em que a princesa Isabel promulgou a Lei Áurea.
- (B) trata-se de uma denúncia à situação do negro no Brasil, pois alguns ainda sofrem discriminação.
- (C) trata-se de um protesto contra a celebração do 13 de maio, pois o dia comemorado pelo movimento negro é o 20 de novembro, dia da morte de Zumbi dos Palmares.
- (D) corresponde a uma performance teatral de denúncia do racismo e da discriminação racial.
- (E) a marcha é uma denúncia contra a Prefeitura de São Paulo, que ainda não considerou o dia 20 de novembro como feriado.
43. **A pobreza se apresenta na literatura especializada como um fenômeno complexo, podendo ser definida como a situação na qual as necessidades não são atendidas de forma adequada. A noção é bastante ampla e vaga, já que novas necessidades surgem todos os dias, estimuladas pelo mundo do consumo, sendo que a maioria delas não são essenciais para a nossa sobrevivência. Sobre o fenômeno da pobreza, assinale a alternativa correta.**
- (A) Originalmente, a preocupação com as desigualdades e a pobreza surgiu nos países pobres, onde o problema é mais crítico.
- (B) Originalmente, a preocupação com as desigualdades e a pobreza se iniciou nos países desenvolvidos, após a euforia da reconstrução no pós-guerra.
- (C) A noção de pobreza relativa está diretamente relacionada às questões de sobrevivência física.
- (D) A distinção entre pobreza absoluta e pobreza relativa apresenta limites claros.
- (E) Não se deve levar em conta aspectos culturais ao definir a dieta mínima “de sobrevivência”, como incluir chá na cesta alimentar inglesa.

44. A realização de pesquisas com comunidades indígenas deve obedecer a protocolos que respeitam a peculiaridade e os direitos dos pesquisados, evitando torná-los objetos de curiosidade acadêmica e científica. Referente ao assunto, analise as assertivas e assinale a alternativa que aponta as corretas.

- I. É necessária solicitação de anuência para pesquisa em comunidade indígena junto à liderança grupal.**
- II. É necessário envio de protocolo à Fundação Nacional do Índio (FUNAI) para liberação da entrada em terras indígenas.**
- III. É necessária solicitação de anuência ao indivíduo pesquisado.**
- IV. Em caso de pesquisas com o conhecimento tradicional associado ou não ao patrimônio genético, que integra o patrimônio cultural brasileiro, há a necessidade de autorização de pesquisa ao Departamento do Patrimônio Imaterial do Instituto do Patrimônio Histórico e Artístico Nacional (IPHAN).**
- V. É necessária solicitação da prefeitura à qual a comunidade indígena está vinculada.**

- (A) Apenas I, II, III e IV.
- (B) Apenas II, III e IV.
- (C) Apenas III, IV e V.
- (D) Apenas IV e V.
- (E) I, II, III, IV e V.

45. O período do chamado “milagre brasileiro” ocorreu entre 1967 e 1973. Sobre essa fase da política econômica brasileira, é correto afirmar que

- (A) um trabalhador que ganhava salário mínimo durante o período não teve qualquer ganho de poder aquisitivo, mas no setor industrial os trabalhadores tiveram maiores reajustes.
- (B) o rápido crescimento de renda teve efeitos desconcentradores entre os pobres e os não pobres. A fatia daqueles que se encontravam no topo da pirâmide de renda se estreitou ainda mais.
- (C) ocorreu um significativo desenvolvimento da indústria de transformação.
- (D) ocorreu uma política de incentivos fiscais beneficiando Norte e Nordeste, o que fez as regiões se aproximarem, em termos de desenvolvimento, do Sudeste.
- (E) em um período de forte urbanização, a região nordeste foi a que mais se “desruralizou”, eliminando traços de atraso que caracterizaram a estrutura agrária do país.

46. No processo de construção da nação brasileira, há um ponto de inflexão importante que marca a incorporação, por parte da população, de ideários de pertencimento a um coletivo: a percepção da nação, de ser brasileiro. Sobre esse assunto, é correto afirmar que

- (A) o período da independência do Brasil teve grande participação popular e foi movido por grande ódio aos portugueses.
- (B) um primeiro momento de forte sentimento de lealdade à pátria e que aparece superior à lealdade provincial e familiar foi a Guerra do Paraguai.
- (C) no Brasil o sentimento de pertencimento à nação brasileira sempre esteve presente, desde a vinda da família real para o Brasil.
- (D) no Brasil a ideia de nação foi implantada antes que a estrutura estatal estivesse consolidada.
- (E) a Proclamação da República foi o principal momento de envolvimento da população em uma causa nacional.

47. No Brasil, os chamados “novos movimentos sociais” emergiram na cena pública como resistência à ditadura militar de 1964, tendo como protagonistas novos sujeitos sociais. A respeito do tema, assinale a alternativa correta.

- (A) Assumiram a frente das lutas de resistência novos sujeitos sociais: artistas e intelectuais.
- (B) Receberam a denominação de novos pela composição etária de jovens militantes.
- (C) São movimentos que emergiram majoritariamente no meio rural.
- (D) Movimentos urbanos tiveram características como estabelecerem necessariamente uma unidade a partir do mundo do trabalho.
- (E) Sob a chancela de "novos movimentos sociais", enquadra-se uma gama bastante heterogênea de articulação social: habitação, acesso a bens e transporte público, saúde, educação, segurança, além de movimento feminista e movimento negro.

48. Autores apontam para a prevalência, no mundo contemporâneo, de uma cultura internacional popular em substituição a uma produção local. Assinale a alternativa correta que melhor corresponde a essa transformação.

- (A) Ocorre a absorção e valorização de elementos étnicos e produção local.
- (B) As pessoas ficam por décadas expostas a valores e produtos consumidos no mundo todo e moldam suas preferências por valores descartáveis.
- (C) O elemento positivo é que há o acesso à produção cultural do mundo todo de forma homogênea.
- (D) O consumo se torna mais responsável.
- (E) A indústria da música é a principal responsável pela disseminação dessa cultura internacional popular.

49. No contexto de sociedades democráticas, existem várias formas de participação social e política. A mais clássica é a participação eleitoral. Diante dessa afirmação, analise a seguinte situação: “Pessoas mudam-se para um conjunto habitacional, encontram uma série de irregularidades na obra e criam uma associação de moradores para poder melhor defender seus interesses e cobrar dos responsáveis providências”. Essa situação corresponde a que tipo de participação?

- (A) Participação voluntária.
- (B) Participação involuntária.
- (C) Participação espontânea.
- (D) Participação concedida.
- (E) Participação imposta.

50. O desafio dos pesquisadores no mundo contemporâneo e globalizado é lidar com uma grande quantidade de dados. O método quantitativo aparece como ferramenta importante em um grande número de pesquisas. Nesse sentido, a alternativa correta, em pesquisa realizada com uma determinada população a partir do grau de confiabilidade, é

- (A) o desvio padrão da amostra.
- (B) o número de questionários aplicados.
- (C) a média da amostra.
- (D) a representatividade da amostra.
- (E) a quantidade de pesquisadores em campo.

Raciocínio Lógico

51. Em um bairro de uma cidade existem 10 casas, numeradas de 1 a 10. Duas pessoas visitaram algumas dessas casas, para divulgação de um novo produto no mercado. Sabe-se que a primeira pessoa visitou as casas de número ímpar e a segunda visitou as casas cuja numeração era um número par e divisor de 8. Dessa forma, as casas que NÃO foram visitadas foram as que possuem as respectivas numerações iguais a

- (A) 2 e 10.
- (B) 4 e 10.
- (C) 6 e 10.
- (D) 2 e 8.
- (E) 4 e 8.

52. Sete candidatos a uma vaga em uma empresa (identificados pelas iniciais de seus nomes: A, B, C, D, E, F e G) foram convocados para uma dinâmica. Três desses candidatos já estavam previamente contratados, porém nenhum deles sabia desse fato. Havia ainda mais duas vagas para serem preenchidas. Para a primeira dinâmica proposta pela empresa, foi formado um grupo com cinco pessoas, sendo que os candidatos A e B não foram incluídos. Em seguida, foi formado um segundo grupo para participar da segunda dinâmica, também com cinco pessoas, sendo que os candidatos C e D não foram incluídos. Sabendo que os três candidatos previamente contratados fizeram parte dos dois grupos citados anteriormente, então as outras duas vagas poderão ser preenchidas pelos candidatos

- (A) A e F.
- (B) B e G.
- (C) C e B.
- (D) D e E.
- (E) E e A.

53. Para obter a informação sobre a origem de seus funcionários, identificados pelo estado em que nasceram, uma empresa selecionou um grupo de funcionários.

Após essa seleção, foi obtido que $\frac{1}{3}$ das pessoas eram do estado da Bahia, $\frac{3}{7}$ das pessoas eram do estado do Rio de Janeiro, $\frac{1}{9}$ das pessoas eram do estado do

Paraná e o restante era do estado de Minas Gerais.

Dessa forma, a fração que representa a quantidade de pessoas originárias do estado do Rio de Janeiro em relação à quantidade de pessoas originárias do estado da Bahia é igual a

- (A) $\frac{9}{7}$.
- (B) $\frac{1}{10}$.
- (C) $\frac{4}{9}$.
- (D) $\frac{9}{4}$.
- (E) $\frac{4}{7}$.

54. No último recenseamento de um bairro em uma grande cidade, foram utilizadas folhas de sulfite, com um questionário impresso em cada folha, e canetas esferográficas para preencher os questionários, tal que foram utilizadas 1000 canetas e a quantidade de folhas de sulfite utilizada foi o quádruplo da quantidade de canetas. O custo de cada caneta foi de R\$ 2,00 e o custo de cada folha de sulfite foi de R\$ 0,10. Em um novo recenseamento nesse mesmo bairro, ficou estipulado que serão utilizados $\frac{1}{4}$ a menos de canetas e a metade de folhas de sulfite utilizadas no recenseamento anterior, mantido o custo de cada folha de sulfite, porém com um aumento de R\$ 0,05 no custo de cada caneta. Dessa forma, a economia no custo total para esse novo recenseamento será de

- (A) R\$ 1.122,75.
- (B) R\$ 662,50.
- (C) R\$ 507,45.
- (D) R\$ 1.258,73.
- (E) R\$ 362,25.

55. Duas competidoras irão fazer uma disputa particular em uma pista circular de atletismo, cujo comprimento total é de 600 metros. Por meio de medições em disputas anteriores, a corredora Alice corre a uma velocidade de 120 metros por minuto e a corredora Tereza corre a uma velocidade de 180 metros por minuto. Ambas correm no mesmo sentido da pista. Como Tereza é mais rápida que Alice, fica estipulado que Alice iniciará a corrida em um ponto da pista e Tereza somente entrará na competição no exato momento em que Alice passar novamente no ponto de partida, ou seja, quando ela completar 1 volta. Dado o início da prova, a quantidade de voltas completas que Tereza dará na pista até encontrar Alice no ponto de partida pela terceira vez será igual a

- (A) 15 voltas.
- (B) 6 voltas.
- (C) 9 voltas.
- (D) 3 voltas.
- (E) 12 voltas.

56. Se não é verdade que na próxima quinta-feira não haverá jogo de futebol e também não é verdade que no próximo domingo vai chover, então é correto afirmar que

- (A) na próxima quinta-feira não haverá jogo ou no próximo domingo vai chover.
- (B) se não houver jogo na próxima quinta-feira, então não vai chover no próximo domingo.
- (C) se chover no próximo domingo, então não haverá jogo na próxima quinta-feira.
- (D) ou na próxima quinta-feira haverá jogo ou no próximo domingo não vai chover.
- (E) haverá jogo na próxima quinta-feira e não vai chover no próximo domingo.

- 57. Comparando a agilidade de quatro rendeiras na confecção de uma toalha de mesa, sabe-se que Fabiana não é mais ágil que Paula, ou Claudia ou Larissa é a rendeira menos ágil entre as quatro, Larissa não é mais ágil do que Paula e é mais ágil do que duas outras rendeiras. Sabendo que a cada duas rendeiras as agilidades são sempre diferentes, é correto afirmar que**
- (A) Paula é a rendeira menos ágil.
 (B) Larissa é mais ágil que Paula.
 (C) Fabiana é mais ágil que Larissa.
 (D) Paula é a rendeira mais ágil.
 (E) Claudia é a rendeira menos ágil.
- 58. Se não é verdade que, se o carro é um Fiesta, então sua cor não é azul, é correto afirmar que**
- (A) o carro é um Fiesta e sua cor é azul.
 (B) ou o carro não é um Fiesta ou sua cor não é azul, nunca ambos.
 (C) se o carro é azul, então ele não é um Fiesta.
 (D) ou o carro é um Fiesta ou o carro é azul, nunca ambos.
 (E) o carro não é um Fiesta e sua cor não é azul.
- 59. O CNPq concede bolsas para a formação de recursos humanos no campo da pesquisa científica e tecnológica, em universidades, institutos de pesquisa, centros tecnológicos e de formação profissional, tanto no Brasil como no exterior. Confira alguns valores de bolsas no Brasil.**

Tabela de Valores de Bolsas no Brasil

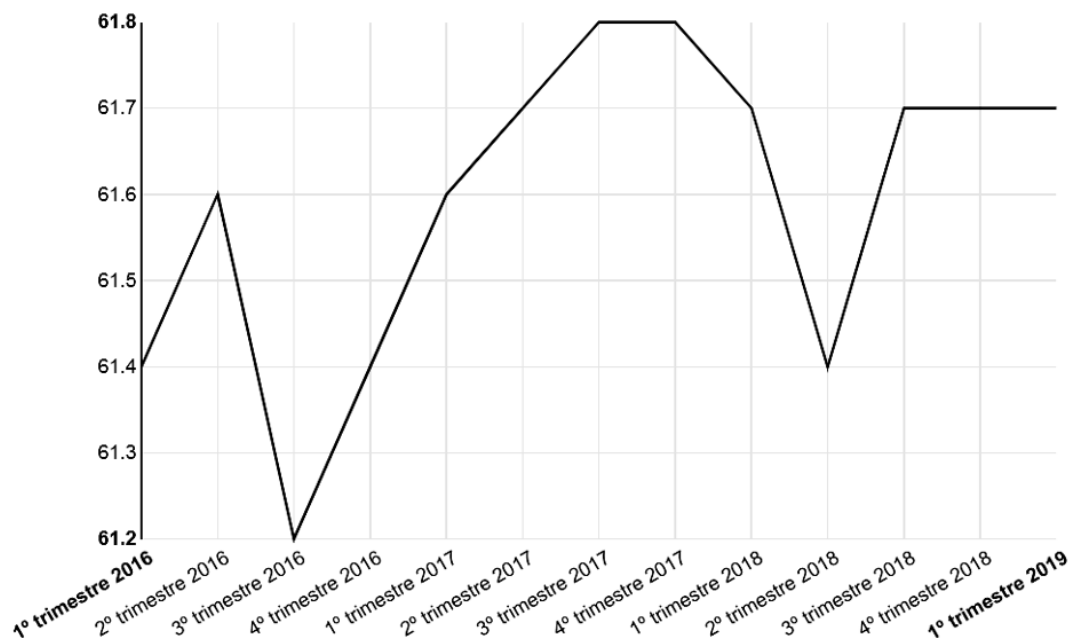
Modalidade	Valor (R\$)
Apoio Técnico à Pesquisa	550,00
Doutorado	2.200,00
Iniciação Científica	400,00
Iniciação Científica Júnior	100,00
Iniciação Tecnológica (PIBITI)	400,00
Mestrado	1.500,00
Pós-doutorado Sênior	4.400,00
Pós-doutorado Júnior	4.100,00
Pós-doutorado Empresarial	4.100,00

Público Alvo: Jovens de ensino médio e superior, em nível de pós-graduação, interessados em atuar na pesquisa científica, e especialistas para atuarem em Pesquisa e Desenvolvimento (P&D) nas empresas e centros tecnológicos. (Disponível em: <<http://cnpq.br/no-pais/>>. Acesso em 28 de junho de 2019).

- Considerando os dados acima e sabendo que dois jovens foram contemplados, cada um com uma bolsa, tal que a soma dos valores das duas bolsas está entre R\$ 3.000,00 e R\$ 4.000,00, então as duas bolsas concedidas foram de**
- (A) Iniciação Científica Júnior e Pós-doutorado Sênior.
 (B) Iniciação Tecnológica (PIBITI) e Doutorado.
 (C) Iniciação Científica e Pós-doutorado Empresarial.
 (D) Mestrado e Doutorado.
 (E) Apoio Técnico à Pesquisa e Mestrado.

60. No site do Instituto Brasileiro de Geografia e Estatística (IBGE), por meio da Pesquisa Nacional por Amostra de Domicílios Contínua - Divulgação Trimestral - 1º trimestre 2019 (PNADC/T), foi divulgado o seguinte gráfico que indica a taxa de participação na força de trabalho das pessoas de 14 anos ou mais de idade, na semana de referência (%) – Brasil:

PNADC/T - Taxa de participação na força de trabalho das pessoas de 14 anos ou mais de idade, na semana de referência (%) - Brasil



(Disponível em: <<https://sidra.ibge.gov.br/home/pnadct>>. Acesso em: 28 de junho de 2019).

Pelas informações obtidas por meio desse gráfico, assinale a alternativa correta.

- (A) A menor taxa de participação na força de trabalho das pessoas de 14 anos ou mais de idade ocorreu no 4º trimestre de 2017.
- (B) Do 1º trimestre de 2018 até o 2º trimestre do mesmo ano, houve um aumento na taxa de participação na força de trabalho das pessoas de 14 anos ou mais de idade.
- (C) A maior taxa de participação na força de trabalho das pessoas de 14 anos ou mais de idade ocorreu no 3º trimestre de 2016.
- (D) A taxa de participação na força de trabalho das pessoas de 14 anos ou mais de idade manteve-se constante entre o 3º e o 4º trimestre de 2017.
- (E) Do 1º trimestre de 2016 até o 1º trimestre de 2019, houve uma variação de 0,9 % na taxa de participação na força de trabalho das pessoas de 14 anos ou mais de idade.

.....
ATENÇÃO!

NÃO SE ESQUEÇA de marcar, na Folha de Respostas, o número de sua prova indicado na capa deste caderno.
.....

