



FUNDAÇÃO INSTITUTO BRASILEIRO DE GEOGRAFIA E ESTATÍSTICA - IBGE

EDITAL DE PROCESSO SELETIVO SIMPLIFICADO Nº02/2019

NÍVEL SUPERIOR

ANALISTA CENSITÁRIO

GESTÃO E INFRAESTRUTURA

Nome do Candidato _____

Inscrição _____



COMPOSIÇÃO DO CADERNO

Língua Portuguesa 01 a 15

Conhecimentos Específicos 16 a 50

Raciocínio Lógico 51 a 60



INSTRUÇÕES

1. Confira seu nome, o número do seu documento e o número de sua inscrição na Folha de Respostas. Além disso, não se esqueça de conferir seu Caderno de Questões quanto a falhas de impressão e de numeração. Preencha os campos destinados à assinatura e ao número de inscrição. Qualquer divergência, comunique ao fiscal.
2. O único documento válido para avaliação é a Folha de Respostas. Só é permitido o uso de caneta esferográfica transparente de cor azul ou preta para o preenchimento da Folha de Respostas, que deve ser preenchida da seguinte maneira: ●
3. O prazo de realização da prova é de 4 (quatro) horas, incluindo a marcação da Folha de Respostas. Após 60 (sessenta) minutos do início da prova, o candidato estará liberado para utilizar o sanitário ou deixar definitivamente o local de aplicação, não podendo, no entanto, levar o Caderno de Questões e nenhum tipo de anotação de suas respostas.
4. Ao término de sua prova, comunique ao fiscal, devolvendo-lhe a Folha de Respostas devidamente preenchida e assinada. O candidato somente poderá levar consigo o Caderno de Questões, ao final da prova, se sua saída ocorrer nos 30 (trinta) minutos anteriores ao horário determinado para o término das provas.
5. Os 3 (três) últimos candidatos só poderão retirar-se da sala juntos, após assinatura do Termo de Fechamento do envelope de retorno.
6. As provas e os gabaritos preliminares estarão disponíveis no site do Instituto AOCP - www.institutoaocp.org.br, no dia posterior à aplicação da prova.
7. O NÃO cumprimento a qualquer uma das determinações constantes em Edital, no presente Caderno ou na Folha de Respostas incorrerá na eliminação do candidato.

PROVA

01

LEMBRE-SE DE MARCAR O NÚMERO
CORRESPONDENTE À SUA PROVA NA
FOLHA DE RESPOSTAS!

ATENÇÃO!

NÃO SE ESQUEÇA de marcar, na Folha de Respostas, o número de sua prova indicado na capa deste caderno.

Língua Portuguesa

TEXTO I

O último paradoxo da vida moderna: por que ficamos presos ao celular, mas odiamos falar por telefone?

Não deixe uma ligação rápida arruinar uma longa e confusa série de mensagens de WhatsApp

SILVIA LÓPEZ

Para iniciar um texto, Hemingway dizia a si mesmo: “Escreva a frase mais verdadeira que você conhece”. Neste caso, seria: a psicóloga Cristina Pérez, do Siquia, respondeu por meio de mensagens de áudio às perguntas que lhe enviamos por email. Essa curiosidade metajornalística não tem importância, não altera a qualidade de suas respostas, só ilustra a variedade e fluidez de opções com as quais podemos nos comunicar hoje. Recebemos um email? Respondemos com um áudio. Chegou um áudio de WhatsApp? Respondemos com um texto. Recebemos um telefonema? Não respondemos. Esperamos. Esperamos. E escrevemos: “Você me ligou? Não posso falar, é melhor me escrever”. O paradoxo do grande vício do século XXI é que estamos presos ao celular, mas temos fobia das ligações telefônicas.

A ligação telefônica – que, até não muito tempo atrás, esperávamos com alegria ou tolerávamos com resignação, mas nunca evitávamos com uma rejeição universal – se tornou uma presença intrusiva e incômoda, perturbadora e tirânica, mas por quê? “Uma das razões é que quando recebemos uma ligação, ela interrompe algo que estávamos fazendo, ou simplesmente não temos vontade de falar nesse momento”, explica a psicóloga Cristina Pérez. “Por outro lado, também exige de nós uma resposta imediata, ao contrário do que ocorre na comunicação escrita, que nos permite pensar bem no que queremos dizer. E a terceira razão seria o fato de não poder saber de antemão qual será a duração do telefonema”, acrescenta.

Adaptado de: <https://brasil.elpais.com/brasil/2019/06/01/tecnologia/1559392400_168692.html>. Acesso em: 25 jun. 2019

As questões de 1 a 10 se referem ao texto I.

- 1. Em relação ao excerto “Não deixe uma ligação rápida arruinar uma longa e confusa série de mensagens de WhatsApp”, é correto afirmar que**
 - (A) ele é um conselho para as pessoas não receberem ligações rápidas.
 - (B) a palavra “rápida” caracteriza “ligação” enquanto as palavras “longa”, “confusa” e “série” caracterizam “mensagens”.
 - (C) ele é irônico, pois o conteúdo que se pretende veicular possui o significado contrário daquilo que é posto.
 - (D) ele está no modo imperativo, indicando um pedido para que as pessoas não diminuam o uso de WhatsApp.
 - (E) a palavra “série” está sendo utilizada com o mesmo significado que na frase: “A antiga 5ª série equivale hoje ao 6º ano”.
- 2. De acordo com o texto, é correto afirmar que**
 - (A) a autora seguiu o conselho de Hemingway.
 - (B) a curiosidade metajornalística citada pela autora não tem importância para a temática do texto.
 - (C) não há resposta para a pergunta presente no título.
 - (D) a ligação telefônica está presente na vida das pessoas.
 - (E) respondemos e-mails com áudios porque nos comunicamos melhor oralmente do que pela escrita.
- 3. No segundo parágrafo do texto, a informação entre travessões**
 - (A) descreve três atitudes negativas em relação à ligação telefônica.
 - (B) é constituída por três ações que se excluem mutuamente.
 - (C) é constituída por verbos que não requerem um complemento.
 - (D) restringe o sentido do termo “ligação telefônica”.
 - (E) completa o sentido do termo “ligação telefônica”.

4. Assinale a alternativa que apresenta a reescrita adequada, sintática e semanticamente, para o seguinte excerto: “O paradoxo do grande vício do século XXI é que estamos presos ao celular, mas temos fobia das ligações telefônicas.”.
- (A) O paradoxo do grande vício do século consecutivo é estarmos presos ao celular, mas termos fobia das ligações telefônicas.
- (B) A incoerência do grande vício do século consecutivo é estarmos presos ao celular, mas ficarmos doentes sem as ligações telefônicas.
- (C) No século XXI, é contraditório estar preso ao celular por ter medo das ligações telefônicas.
- (D) Temos medo das ligações telefônicas porque estamos presos ao celular; esse é o paradoxo do grande vício do século XXI.
- (E) Estarmos presos ao celular, mas termos fobia das ligações telefônicas é a incoerência do grande vício do século vigente.
5. Assinale a alternativa em que a expressão em destaque NÃO indica circunstância de tempo, NÃO sendo, portanto, um adjunto adverbial de tempo ou uma oração subordinada adverbial temporal.
- (A) “O paradoxo do grande vício do século XXI é que estamos presos ao celular [...]”.
- (B) “[...] quando recebemos uma ligação, ela interrompe algo [...]”.
- (C) “[...] simplesmente não temos vontade de falar nesse momento [...]”.
- (D) “[...] saber de antemão qual será a duração do telefonema [...]”.
- (E) “[...] opções com as quais podemos nos comunicar hoje.”.
6. Qual é a relação de sentido estabelecida no excerto “Não posso falar, é melhor me escrever”?
- (A) Contraste.
- (B) Causalidade.
- (C) Adição.
- (D) Conformidade.
- (E) Finalidade.
7. Em “[...] esperávamos com alegria ou tolerávamos com resignação, mas nunca evitávamos com uma rejeição universal.”, há uma relação de oposição entre esperar com alegria e tolerar com resignação.
- (A) há uma relação de oposição entre esperar com alegria e tolerar com resignação.
- (B) a acentuação de “esperávamos”, “tolerávamos” e “evitávamos” se deve ao fato de serem verbos.
- (C) não é possível identificar os sujeitos dos verbos presentes no excerto.
- (D) todos os verbos apresentam o mesmo sujeito e estão no mesmo modo.
- (E) o uso da vírgula é facultativo.
8. É um sinônimo da palavra “ligação” o vocábulo
- (A) “email”.
- (B) “telefone”.
- (C) “telefonema”.
- (D) “celular”.
- (E) “áudio de WhatsApp”.
9. A repetição de “esperamos”, em “Recebemos um telefonema? Não respondemos. Esperamos. Esperamos. E escrevemos: [...]”,
- (A) indica que o retorno é dado depois de um tempo considerável após a ligação.
- (B) indica que o retorno é dado imediatamente após a ligação.
- (C) não dá nenhum indício sobre o tempo transcorrido até o retorno.
- (D) deveria ser eliminada, pois se trata de um problema de coesão.
- (E) enfatiza a pouca frequência com que se recebem telefonemas.
10. Assinale a alternativa que apresenta a reescrita adequada, sintática e semanticamente, para o seguinte excerto: “[...] ‘Você me ligou? Não posso falar, é melhor me escrever’.”.
- (A) Você ligou-me? Não posso falar, é melhor eu escrever.
- (B) Ligastes para mim? Não posso falar, escreve a mim que és melhor.
- (C) Me ligou? Não posso falar, escrever é melhor para mim.
- (D) Você ligou para mim? Não posso falar, é melhor que me escreva.
- (E) Me ligou? Não posso falar, me escreve que é melhor.

TEXTO II

Você é o que você se diz: a ciência do diálogo interno

PILAR JERICÓ

Se você quiser variar a percepção que tem sobre você, precisa alterar seu diálogo interior. A forma como você conversa consigo mesmo condiciona sua capacidade de enfrentar as dificuldades e determina a tomada de decisões. A autoafirmação, ou pensar coisas positivas sobre nós mesmos, é uma ferramenta muito útil para reforçar a autoestima. Entretanto, não vale qualquer comentário. Já ficou comprovado que frases como “aguento tudo” ou “sou uma pessoa superagradável” não ajudam muito. Quem as expressa não está realmente convencido disso, então essas expressões podem ter efeito contrário. A ciência do diálogo interior nos dá pistas sobre as técnicas que tornam nossas autoafirmações eficazes: devemos imaginar futuras situações agradáveis e nos tratar na segunda pessoa.

Adaptado de: <https://brasil.elpais.com/brasil/2019/05/05/ciencia/1557083642_455016.html>. Acesso em: 25 jun. 2019.

As questões de 11 a 15 se referem ao texto II.

11. Assinale a alternativa que apresenta um exemplo de tratamento na segunda pessoa do singular.

- (A) Eu sou capaz de vencer meus desafios.
- (B) Juntos, nós podemos transformar o mundo.
- (C) Você é forte para superar os obstáculos da vida.
- (D) As pessoas não vão abalar minha autoconfiança.
- (E) Sempre é possível evoluir como ser humano.

12. Em “Se você quiser variar a percepção que tem sobre você, precisa alterar seu diálogo interior.”, a relação de sentido que se estabelece é de

- (A) condição.
- (B) tempo.
- (C) conclusão.
- (D) concessão.
- (E) contraste.

13. Em “A forma como você conversa consigo mesmo condiciona sua capacidade [...]”, o termo em destaque poderia ser substituído adequadamente por

- (A) “que”.
- (B) “cuja”.
- (C) “onde”.
- (D) “para qual”.
- (E) “pela qual”.

14. Assinale a alternativa em que a palavra formada, assim como “autoafirmação” e “superagradável”, é grafada sem hífen.

- (A) auto + hipnose.
- (B) auto + observação.
- (C) super + herói.
- (D) super + requintado.
- (E) super + salário.

15. De acordo com o texto, é correto afirmar que

- (A) conversar consigo mesmo pode combater a depressão.
- (B) a imaginação é importante no processo de melhora da autoestima.
- (C) as pessoas que não conversam com elas mesmas não têm autoestima.
- (D) falar consigo mesmo na primeira pessoa não ajuda porque isso não reflete como as outras pessoas falam conosco.
- (E) o diálogo interior só é possível a partir de um diálogo exterior, no qual está presente uma segunda pessoa.

Conhecimentos Específicos

16. No processo de avaliação de programas de treinamento, quais são os níveis que requerem mais tempo para serem avaliados?

- (A) Reação e aprendizagem.
- (B) Comportamento e reação.
- (C) Aprendizagem e resultados.
- (D) Comportamento e resultados.
- (E) Aprendizagem e comportamento.

17. No planejamento de processos seletivos, é importante a realização de um conjunto integrado de atividades, denominado técnicas de seleção, que envolve, dentre outros, os testes. Assinale a alternativa que apresenta os testes de seleção que proporcionam a possibilidade de análise simultânea de competências técnicas e comportamentais.

- (A) Testes psicológicos.
- (B) Testes situacionais.
- (C) Testes personalizados.
- (D) Testes de conhecimentos.
- (E) Testes de estrutura de cargos.

18. O Serviço Público Federal tem buscado prover suas necessidades de mão de obra utilizando formas de atingir seus objetivos com agilidade dos trabalhos, contando com maquinário, tecnologia e pessoal treinado e reciclado na execução das atividades-meio. Qual é a técnica, que tem sido utilizada com frequência e é livre de subordinação direta e de pessoalidade entre a administração pública e o trabalhador, que proporciona esse suprimento de pessoal?

- (A) Estágio.
- (B) Trainee.
- (C) Autonomia.
- (D) Home office.
- (E) Terceirização.

19. Assinale a alternativa que apresenta o departamento ou função da área de recursos humanos que tem o papel de definir oportunidades oferecidas pela empresa para as pessoas crescerem nessa empresa.

- (A) Plano de carreira.
- (B) Descrição de cargo.
- (C) Estrutura hierárquica.
- (D) Avaliação de desempenho.
- (E) Competências e capacitação.

20. Assinale a alternativa que apresenta um conceito de recursos humanos nas organizações.

- (A) É a área que tem a especificidade de prover os suprimentos necessários a todos os departamentos no sentido de permitir que as pessoas realizem seu trabalho com eficiência.
- (B) É a área que tem a autoridade para realizar licitações e celebrar contratos de aquisições de materiais com a finalidade de atender às demandas de produção das pessoas.
- (C) É a área que tem a peculiaridade de aplicar as funções da administração a cada uma das áreas da empresa e a cada um de seus departamentos, apoiando o desenvolvimento das pessoas.
- (D) É a área que tem vinculação direta com a alta administração para desenvolver estudos e análises que embasem decisões sobre o desenvolvimento de produtos para a realização das vendas pessoais.
- (E) É a área que tem a necessidade de envolvimento com os vendedores em seu relacionamento com os clientes atuais e potenciais para promover o crescimento e o desenvolvimento da organização.

21. Para a implantação de um sistema informatizado de gestão de informações de pessoal no IBGE, é necessário, dentre outros, um elemento imprescindível que possibilita aumentar o conhecimento das atividades organizacionais, a confiança, as percepções de satisfação no trabalho, o compromisso com a organização, o desempenho e a aceitação das mudanças organizacionais. Qual é esse elemento que pode ser definido como um valor intrínseco, porque desenvolve as mais elevadas capacidades humanas e ampara o caráter moral ativo, direcionado ao bem público?

- (A) Participação.
- (B) Cidadania.
- (C) Maturidade.
- (D) Empoderamento.
- (E) Otimização.

22. Analisando o cenário do serviço público federal, incluindo o IBGE, é correto afirmar que, por ser absolutamente imprescindível ao país, o custeio dos servidores públicos deve ser tratado como

- (A) uma solução que demanda cortes de gastos.
- (B) uma melhor alocação e dimensionamento da força de trabalho.
- (C) uma questão que requer intensos esforços de qualificação.
- (D) uma necessidade de transferência para a iniciativa privada.
- (E) uma quantia que indica maior alocação de trabalho aos servidores.

23. A área de recursos humanos pode ser conceituada de forma clássica como o homem certo, no lugar certo e no momento certo. De que forma organizações como o IBGE podem e devem ajudar as pessoas para a atuação em um ambiente de mudanças?

- (A) Estabelecendo alvos incrementais e adaptados.
- (B) Condicionando a remuneração à adaptação.
- (C) Proporcionando atividades de mitigação do estresse.
- (D) Desenvolvendo suas habilidades e autoconfiança.
- (E) Administrando seu pessoal como recurso de produção.

24. Administrar as pessoas dentro de uma organização não é prioridade da função de recursos humanos, pois depende de todos os indivíduos que estão envolvidos com os processos administrativos e produtivos, tendo em vista o duplo papel da administração de recursos humanos dentro da estrutura organizacional. A que se refere esse duplo papel que torna a função de recursos humanos atípica em relação às demais?

- (A) Sua atuação particular e holística.
- (B) Sua abordagem localizada e global.
- (C) Sua posição de linha e assessoria.
- (D) Sua função de recrutar e contratar.
- (E) Sua atribuição de controle e promoção.

25. Não há um campo comum que defina claramente o que a administração de recursos humanos deve fazer, porém é possível estabelecer princípios que podem ser usados pelos administradores de recursos humanos em soluções de problemas e tomadas de decisão em sua área de ação. Assinale a alternativa que apresenta alguns desses princípios.

- (A) Prospectores, automação, ambivertido e transmissores da mensagem organizacional.
- (B) Transformadores de ideias em ações, experimentadores e imutabilidade empresarial.
- (C) Objetivos desafiadores, hábitos de sucesso, reason why e otimismo realista na empresa.
- (D) Melhoradores contínuos, receptividade ao feedback, disciplina, foco e gratidão à empresa.
- (E) Facilitadores de mudança, mediação, autoridade e alinhamento organizacional.

26. Pedro é o Administrador Patrimonial do IBGE e precisa movimentar materiais, trocando a responsabilidade de uma unidade organizacional para outra, dentro do próprio IBGE. Qual é a ocorrência patrimonial que ele precisa realizar?

- (A) Passagem.
- (B) Contrapartida.
- (C) Transferência.
- (D) Reincorporação.
- (E) Transformação física.

27. Luiza precisa incorporar e registrar um equipamento fotocopiador recebido pelo IBGE na forma de doação de uma indústria produtora. Para registrar esse bem, qual é o gênero patrimonial em que ele deverá ser classificado?

- (A) Bem novo.
- (B) Bem móvel.
- (C) Bem cedido.
- (D) Bem doado.
- (E) Bem industrial.

28. Qual é a atividade realizada nas organizações cujo propósito é prover estoque de materiais do tipo específico, na quantidade certa, para o lugar certo, no tempo certo e pelo mínimo de custo?

- (A) Armazenamento de materiais.
- (B) Inventário de materiais.
- (C) Atendimento de materiais.
- (D) Transporte de materiais.
- (E) Especificação de materiais.

- 29. Márcio é o responsável pelo controle dos estoques de materiais do IBGE e procura desempenhar essa atividade registrando as entradas e saídas de materiais com competência e responsabilidade, sabendo que o primeiro passo para ter um bom controle de estoque é ter um bom e confiável sistema que lhe auxilie na administração de todo material, sendo necessário organizar suas principais funções. Assinale a alternativa que apresenta algumas dessas funções que precisam ser organizadas pelo responsável em controlar os estoques.**
- (A) Determinar os horários de recebimento e de entrega de materiais; acolher com prioridade os pedidos dos principais superiores hierárquicos; questionar os setores de produção e de vendas a respeito da real necessidade de materiais que solicitam e fixar quantitativos e qualitativos com base histórica.
 - (B) Determinar o número de itens que deve permanecer em estoque; quando se deve reabastecer o estoque; a quantidade de estoque necessária em certo período; acionar o departamento de compras para as aquisições de materiais; manter inventários periódicos e identificar e retirar do estoque os itens danificados.
 - (C) Determinar os recebimentos, o armazenamento e o atendimento de materiais de acordo com os maiores produtores dos itens; fiscalizar as aplicações de materiais realizadas pelos funcionários de todos os níveis da organização e procurar conhecer o desenvolvimento científico e tecnológico dos materiais.
 - (D) Determinar a perfeita composição e dimensão de cada embalagem de materiais para adequá-la à melhor forma de armazenamento; compartilhar os sistemas de registros de materiais existentes na organização com os controladores de outras organizações, com o objetivo de conhecer os diversos sistemas.
 - (E) Determinar os níveis mínimos e máximos de valor dos materiais a serem acondicionados no armazém; verificar as movimentações de materiais realizadas pelos competidores no mercado e assumir todos os desvios e quebras de materiais, seja por roubo, perda ou danos causados nos transportes dos fornecedores.
- 30. Dentre os princípios básicos da produção de material, há aqueles que fazem parte da administração de materiais e que possuem um subsistema ou setor típico que se preocupa sobremaneira com o estoque de materiais, assegurando que os materiais exigidos pela produção estejam à disposição nas quantidades certas e nos períodos desejados. Qual é esse setor ou subsistema da administração de materiais?**
- (A) Administração de movimentações de materiais.
 - (B) Administração de especificações de materiais.
 - (C) Administração de qualidade de materiais.
 - (D) Administração de estoques de materiais.
 - (E) Administração de compras de materiais.
- 31. No desempenho de sua função de comprador do IBGE, José precisa definir com quantos e com quais fornecedores irá negociar e trabalhar. Se ele necessita adquirir alguns materiais com uma especificação bastante singular e com certas exigências particulares de qualidade e desempenho para o IBGE, ou seja, necessita de fornecedores exclusivos para esses materiais, qual será a forma de gestão de fornecedores que José poderá adotar?**
- (A) Supplier network.
 - (B) Multiple sourcing.
 - (C) Global sourcing.
 - (D) Single sourcing.
 - (E) Extra sourcing.

32. Conforme informações do departamento de compras do IBGE, a quantidade adquirida em cada pedido de tablets para serem utilizados na coleta de dados é de 8 unidades. Segundo dados obtidos nesse departamento, a demanda anual é de 400 unidades ao custo unitário de R\$ 200,00 cada tablet. Além disso, devido a sua enxuta estrutura de compras, o custo de emissão de cada pedido pelo departamento de compras é de apenas R\$ 0,375. Considere um custo de manter de 6% ao ano do valor unitário do tablet e apure o Lote Econômico de Compras de tablets, em seguida, assinale a alternativa que apresenta a quantidade de compras de tablets por pedido.

- (A) 4 unidades por pedido.
- (B) 5 unidades por pedido.
- (C) 7 unidades por pedido.
- (D) 8 unidades por pedido.
- (E) 16 unidades por pedido.

33. O orçamento público possui uma grande variedade de termos que são utilizados por seus elaboradores e interessados nas finanças públicas. Relacione alguns desses termos a seus significados e assinale a alternativa com a sequência correta.

1. Alienação de bens.
2. Ordenador de despesa.
3. Aspecto qualitativo do patrimônio.
4. Aspecto quantitativo do patrimônio.
5. Homologação.

() Autoridade de cujos atos resultam autorização para efetuar despesas, emissão de empenho, assinatura de contratos e convênios, homologação de licitações, realização de pagamentos etc.

() Um conjunto de bens, créditos, débitos, dotações e previsões que, em determinado momento, encontram-se à disposição do ente público, concorrendo para a realização de seus fins.

() Processo administrativo de venda de bens móveis e imóveis, passando a transferência de domínio de bens públicos a terceiros.

() Ato da autoridade administrativa superior, confirmando o julgamento das propostas concorrentes e possibilitando a adjudicação.

() Fundo de valores constituído pela expressão monetária dos elementos Ativo, Passivo e Situação Líquida.

- (A) 1 – 3 – 4 – 5 – 2.
- (B) 3 – 4 – 5 – 1 – 4.
- (C) 5 – 4 – 3 – 1 – 2.
- (D) 4 – 1 – 2 – 3 – 5.
- (E) 2 – 3 – 1 – 5 – 4.

34. Nos dias de hoje, é possível reconhecer o orçamento público como um instrumento que apresenta múltiplas funções. Além da clássica função de controle político, o orçamento apresenta outras funções do ponto de vista administrativo, gerencial, contábil e financeiro. Qual é a função incorporada mais recentemente no Brasil que está ligada à técnica de orçamento por programas?

- (A) Função de coordenação.
- (B) Função de gerenciamento.
- (C) Função de fiscalização.
- (D) Função de planejamento.
- (E) Função de realização.

35. Dentre as técnicas orçamentárias, qual é a que se caracteriza por um processo orçamentário que se apoia na necessidade de justificativa de todos os programas cada vez que se inicia um novo ciclo orçamentário, com análise, revisão e avaliação de todas as despesas propostas?

- (A) Orçamento de desempenho.
- (B) Orçamento com teto fixo.
- (C) Orçamento base-zero.
- (D) Orçamento incremental.
- (E) Orçamento inercial.

36. No gerenciamento de projetos, o planejamento define os caminhos para que os objetivos do projeto sejam alcançados. Assinale a alternativa que apresenta a característica da etapa de planejamento que requer a consideração de todos os envolvidos no projeto.

- (A) Ser um elemento dinâmico que pode sofrer modificações no decorrer do ciclo de vida do projeto.
- (B) Ser um elemento estrutural que deve ser cumprido ao longo do ciclo de vida do projeto.
- (C) Ser um elemento metódico que proporciona o alcance das metas empresariais traçadas.

- (D) Ser um elemento indispensável que implica na adoção de rigor em sua implementação.
- (E) Ser um elemento complexo que tipifica a complexidade de todas as organizações.
- 37. O controle é uma etapa vital no gerenciamento de projetos, pois permite a percepção de problemas em tempo hábil para solucioná-los. Assinale a alternativa que apresenta algumas das atividades típicas do processo de controle.**
- (A) Identificação da dimensão do projeto e gerenciamento das aquisições de produtos e das mudanças no projeto.
- (B) Acompanhamento da temperatura e gerenciamento das condições climáticas e meteorológicas do ambiente.
- (C) Definição da estrutura organizacional e gerenciamento dos recursos materiais e humanos da empresa.
- (D) Obtenção da aceitação do escopo e gerenciamento de partes interessadas e da equipe do projeto.
- (E) Visualização da finalização do projeto e gerenciamento das fontes de financiamento do projeto.
- 38. O diretor do departamento de treinamento do IBGE realiza suas atividades com competência e sempre procura, em suas relações interpessoais, favorecer o trabalho da equipe, incentivando as discussões informais, construindo um ambiente com confiança mútua e envolvimento grupal intenso. De acordo com esse cenário, qual é o estilo de liderança desse diretor?**
- (A) Autoritário benevolente.
- (B) Autoritário coercitivo.
- (C) Participativo.
- (D) Consultivo.
- (E) Liberal.
- 39. Liderança pode ser definida como a capacidade de influenciar um grupo em direção ao alcance dos objetivos. Qual é a condição necessária e básica para que o líder promova a motivação aos seus liderados?**
- (A) O líder precisa estar motivado.
- (B) O líder precisa ser exigente.
- (C) O líder precisa ser positivo.
- (D) O líder precisa estar convencido.
- (E) O líder precisa ficar imparcial.
- 40. O poder está alicerçado em estruturas denominadas bases de poder. Assinale a alternativa que apresenta algumas das características da base do poder de influência.**
- (A) Relaciona-se ao resultado de uma ação que concorda com as relações de poder entre os atores, gerando reconhecimentos e incentivos nas organizações.
- (B) Resulta do receio que as pessoas têm em causar resultados negativos, procedente de uma ação não concordante com a relação de poder.
- (C) É consequência da posição hierárquica de uma pessoa na organização, resultando na aceitação das demais pessoas.
- (D) É aquele que resulta do carisma que uma pessoa possui, gerando uma relação positiva de influência do carismático sobre as demais pessoas com a ocorrência de mudanças.
- (E) É resultado do controle exercido pelas pessoas em decorrência de suas competências, habilidades ou conhecimentos adquiridos na realização de suas atividades e na vida social.
- 41. A relação entre tecnologia e estratégia empresarial é perceptível de maneira especial em relação ao papel estratégico da tecnologia da informação. Quais são os impactos que a evolução da tecnologia da informação tem provocado nas estratégias das empresas?**
- (A) Mudanças nos clientes da empresa, exigências de financiamentos e investimentos financeiros e alterações da composição societária e de direção das empresas.
- (B) Mudanças nos processos de negócios, exigências de habilidades e de recursos humanos e alterações da estrutura da organização e da estratégia de negócios.
- (C) Mudanças nos relacionamentos da empresa, exigências de incrementos visuais e publicitários e alterações da estrutura física e produtiva das organizações.
- (D) Mudanças nos instrumentos regulatórios dos negócios, exigências de maiores incentivos aos fornecedores e alterações do padrão cultural dos empresários.
- (E) Mudanças nos mecanismos dos equipamentos de produção, exigências de criação de meios fiscalizatórios e alterações do status econômico e social de seus dirigentes.

42. A Teoria Geral dos Sistemas possibilitou ao profissional de administração desenvolver meios de análise e diagnóstico a partir de uma abordagem globalizante. Quais foram alguns dos instrumentos que a Teoria Geral dos Sistemas proporcionou o desenvolvimento no contexto administrativo?

- (A) Agrupamento departamental para soluções especializadas, fluxos de problemas tendo em vista os objetivos finais, métodos voltados para promoção e estruturas organizacionais dependentes.
- (B) Agrupamento de partes autônomas independentes para operações, fluxos de sistemas tendo em vista os subsistemas, métodos voltados para controles e estruturas departamentalizadas.
- (C) Agrupamento para efetivação, fluxos de informações tendo em vista o controle operacional, métodos voltados para publicização e estruturas de cargos e salários por tempo de emprego.
- (D) Agrupamento para coordenação, fluxos de comunicação tendo em vista a tomada de decisão, métodos voltados para objetivos e estruturas organizacionais dinâmicas e definidamente interdependentes.
- (E) Agrupamento para tarefas, fluxos de materiais ininterruptos na produção, métodos voltados para construção de ambientes climatizados e estruturas desenhadas para acomodar processos independentes.

43. Licitação é o procedimento administrativo mediante o qual a Administração pública seleciona a proposta mais vantajosa para o contrato de seu interesse. Como procedimento, desenvolve-se por meio de uma sucessão ordenada de atos vinculados para a Administração e para os licitantes, o que propicia igual oportunidade a todos os interessados e atua como fator de eficiência e moralidade nos negócios administrativos. Nesse contexto, assinale a alternativa correta considerando as disposições da Lei nº 8.666/93.

- (A) A licitação será processada e julgada em estrita conformidade com os princípios básicos da legalidade, da impessoalidade, da moralidade, da igualdade, da publicidade, da probidade administrativa, da vinculação ao instrumento convocatório, do julgamento subjetivo e dos que lhes são correlatos.

- (B) As normas de licitações e contratos devem privilegiar o tratamento diferenciado e favorecido às microempresas e empresas de pequeno porte na forma da lei.
- (C) Ressalvados os casos de inexigibilidade de licitação, os contratos para a prestação de serviços técnicos profissionais especializados deverão, preferencialmente, ser celebrados mediante a realização de concorrência, com estipulação prévia de prêmio ou remuneração.
- (D) No sistema de registro de preços, os preços registrados serão publicados bimestralmente para orientação da Administração na imprensa oficial.
- (E) Será dada publicidade, trimestralmente, em órgão de divulgação oficial, à relação de todas as compras feitas pela Administração, Direta ou Indireta, de maneira a clarificar a identificação do bem comprado, seu preço unitário, a quantidade adquirida, o nome do vendedor e o valor total da operação.

44. Considere que Joana, servidora pública federal efetiva, manteve sob sua chefia imediata, em função de confiança, seu companheiro José. Além disso, em um momento de descontração com colegas servidores, revelou que utilizava de recursos materiais da repartição em atividades particulares. Tendo em vista a situação hipotética narrada, bem como as disposições da Lei nº 8.112/90, as ações disciplinares referentes às condutas de Joana prescrevem em

- (A) 180 (cento e oitenta dias) e 2 (dois) anos, respectivamente.
- (B) 180 (cento e oitenta dias) e 5 (cinco) anos, respectivamente.
- (C) 2 (dois) anos e 180 (cento e oitenta dias), respectivamente.
- (D) 5 (cinco) anos e 180 (cento e oitenta dias), respectivamente.
- (E) 5 (cinco) anos em ambos os casos.

- 45. Alonso, servidor público federal efetivo, em virtude de exigências transitórias decorrentes das atribuições de seu cargo, necessitou se deslocar de Curitiba, sede de seu serviço, para Porto Alegre por 5 (cinco) dias. Contudo, diante do falecimento de seu neto, retornou a Curitiba antes do prazo previsto para o término de seu deslocamento. Nesse caso, considerando que foram observadas todas as formalidades legais, dispõe a Lei nº 8.112/90 que, caso o servidor retorne à sede em prazo menor do que o previsto para o seu afastamento, restituirá as diárias recebidas em excesso, no prazo de**
- (A) 05 (cinco) dias.
 - (B) 10 (dez) dias.
 - (C) 15 (quinze) dias.
 - (D) 20 (vinte) dias.
 - (E) 30 (trinta) dias.
- 46. De modo geral, podemos conceituar a Administração Indireta como o conjunto de pessoas jurídicas (desprovidas de autonomia política) que, vinculadas à administração direta, têm competência para o exercício, de forma descentralizada, de atividades administrativas. Em relação ao tema, o Instituto Brasileiro de Geografia e Estatística (IBGE) é classificado como**
- (A) empresa pública.
 - (B) autarquia.
 - (C) fundação pública.
 - (D) sociedade de economia mista.
 - (E) entidade paraestatal.
- 47. Assinale a alternativa correta de acordo com a Lei de Licitações (Lei nº 8.666/93).**
- (A) A alienação de bens da Administração Pública, subordinada à existência de interesse público devidamente justificado, quando móveis, dependerá de avaliação prévia e de autorização legislativa.
 - (B) Na concorrência para a venda de bens imóveis, a fase de habilitação limitar-se-á à comprovação do recolhimento de quantia correspondente a 10% (dez por cento) da avaliação.
 - (C) Quando a lei autoriza a administração a, discricionariamente, deixar de realizar a licitação, temos a denominada licitação dispensada.
 - (D) Nos casos em que couber a tomada de preços, a Administração poderá utilizar convite e, em qualquer caso, a concorrência.
 - (E) Os bens arrematados serão pagos à vista ou no percentual estabelecido no edital, não inferior a 5% (cinco por cento) e, após a assinatura da respectiva ata lavrada no local do leilão, imediatamente entregues ao arrematante, o qual se obrigará ao pagamento do restante no prazo estipulado no edital de convocação, sob pena de perder em favor da Administração o valor já recolhido.
- 48. O Instituto Brasileiro de Geografia e Estatística (IBGE), buscando oferecer melhores condições a seus servidores no desempenho das atividades censitárias, iniciou procedimento licitatório na modalidade pregão para a aquisição de 500 (quinhentos) equipamentos de informática Desktop. Considerando a temática do Pregão e a legislação aplicável ao caso, assinale a alternativa correta.**
- (A) No pregão, a habilitação do licitante ocorre em fase anterior à de julgamento e classificação.
 - (B) A equipe de apoio ao pregoeiro deverá ser integrada em sua maioria por servidores ocupantes de cargo efetivo ou emprego da administração e sempre pertencentes ao quadro permanente da entidade promotora do evento, no caso o IBGE.
 - (C) O prazo para apresentação das propostas não será inferior a 15 (quinze) dias úteis, contados a partir da publicação do aviso.
 - (D) Se outro não estiver fixado no edital, o prazo de validade das propostas será de 90 (noventa) dias.
 - (E) A União publicará, no Diário Oficial da União, o extrato dos contratos celebrados, no prazo de até 20 (vinte) dias da data de sua assinatura, com indicação da modalidade de licitação e de seu número de referência.

49. Referente à Lei nº 8.745/93, que dispõe sobre a contratação por tempo determinado para atender a necessidade temporária de excepcional interesse público, assinale a alternativa correta.

- (A) As contratações somente poderão ser feitas com observância da dotação orçamentária específica e mediante prévia autorização do Ministro de Estado sob cuja supervisão se encontrar o órgão ou a entidade contratante.
- (B) Na contratação de servidores temporários para a realização de recenseamentos e outras pesquisas de natureza estatística efetuadas pelo IBGE, é admitida a prorrogação dos respectivos contratos, desde que o prazo total não exceda a 4 (quatro) anos.
- (C) O contratado, nos termos dessa Lei, não poderá ser nomeado ou designado, exceto nos casos de substituição por prazo inferior a 45 (quarenta e cinco) dias, para o exercício de cargo em comissão ou função de confiança.
- (D) As infrações disciplinares atribuídas ao pessoal contratado nos termos dessa Lei serão apuradas mediante sindicância, concluída no prazo de trinta dias e assegurada ampla defesa.
- (E) A extinção do contrato, por iniciativa do órgão ou entidade contratante, decorrente de conveniência administrativa, importará no pagamento ao contratado de indenização correspondente a dois terços do que lhe caberia referente ao restante do contrato.

50. Em relação à Portaria nº 450, de 6 de novembro de 2002, do Ministério do Planejamento, Orçamento e Gestão, que estabelece normas gerais para realização de concursos públicos, no âmbito da Administração Pública federal direta, autárquica e fundacional, assinale a alternativa correta.

- (A) O prazo para publicação de edital de abertura de inscrições para realização do concurso público será de até 12 (doze) meses, contado a partir da data de publicação da Portaria de autorização do certame.
- (B) O não cumprimento das disposições contidas nessa Portaria implicará o cancelamento da autorização concedida para fins de realização do concurso público, bem como a suspensão do certame, exceto quando já aplicadas as provas.

- (C) O valor cobrado a título de inscrição no concurso será de, no máximo, 2,5% do valor da remuneração inicial do cargo ou emprego público prevista no edital.
- (D) O órgão ou entidade responsável pela realização do concurso homologará e divulgará, pelo Diário Oficial da União, a relação dos candidatos aprovados no certame, classificados em até três vezes o número de vagas previsto no edital para cada cargo ou emprego público, por ordem de classificação.
- (E) Durante o período de validade do concurso público, o Ministério do Planejamento, Orçamento e Gestão poderá autorizar a nomeação ou contratação de candidatos classificados e não convocados, até o limite de 25% (vinte e cinco por cento) a mais do quantitativo original de vagas.

Raciocínio Lógico

51. Em um bairro de uma cidade existem 10 casas, numeradas de 1 a 10. Duas pessoas visitaram algumas dessas casas, para divulgação de um novo produto no mercado. Sabe-se que a primeira pessoa visitou as casas de número ímpar e a segunda visitou as casas cuja numeração era um número par e divisor de 8. Dessa forma, as casas que NÃO foram visitadas foram as que possuem as respectivas numerações iguais a

- (A) 2 e 10.
- (B) 4 e 10.
- (C) 6 e 10.
- (D) 2 e 8.
- (E) 4 e 8.

52. Sete candidatos a uma vaga em uma empresa (identificados pelas iniciais de seus nomes: A, B, C, D, E, F e G) foram convocados para uma dinâmica. Três desses candidatos já estavam previamente contratados, porém nenhum deles sabia desse fato. Havia ainda mais duas vagas para serem preenchidas. Para a primeira dinâmica proposta pela empresa, foi formado um grupo com cinco pessoas, sendo que os candidatos A e B não foram incluídos. Em seguida, foi formado um segundo grupo para participar da segunda dinâmica, também com cinco pessoas, sendo que os candidatos C e D não foram incluídos.

Sabendo que os três candidatos previamente contratados fizeram parte dos dois grupos citados anteriormente, então as outras duas vagas poderão ser preenchidas pelos candidatos

- (A) A e F.
- (B) B e G.
- (C) C e B.
- (D) D e E.
- (E) E e A.

53. Para obter a informação sobre a origem de seus funcionários, identificados pelo estado em que nasceram, uma empresa selecionou um grupo de funcionários.

Após essa seleção, foi obtido que $\frac{1}{3}$ das pessoas eram do estado da Bahia,

$\frac{3}{7}$ das pessoas eram do estado do Rio de Janeiro, $\frac{1}{9}$ das pessoas eram do estado do

Paraná e o restante era do estado de Minas Gerais.

Dessa forma, a fração que representa a quantidade de pessoas originárias do estado do Rio de Janeiro em relação à quantidade de pessoas originárias do estado da Bahia é igual a

- (A) $\frac{9}{7}$.
- (B) $\frac{1}{10}$.
- (C) $\frac{4}{9}$.
- (D) $\frac{9}{4}$.
- (E) $\frac{4}{7}$.

54. No último recenseamento de um bairro em uma grande cidade, foram utilizadas folhas de sulfite, com um questionário impresso em cada folha, e canetas esferográficas para preencher os questionários, tal que foram utilizadas 1000 canetas e a quantidade de folhas de sulfite utilizada foi o quádruplo da quantidade de canetas. O custo de cada caneta foi de R\$ 2,00 e o custo de cada folha de sulfite foi de R\$ 0,10. Em um novo recenseamento nesse mesmo bairro, ficou estipulado que serão utilizados $\frac{1}{4}$ a menos de canetas e a metade de folhas de sulfite utilizadas no recenseamento anterior, mantido o custo de cada folha de sulfite, porém com um aumento de R\$ 0,05 no custo de cada caneta. Dessa forma, a economia no custo total para esse novo recenseamento será de

- (A) R\$ 1.122,75.
- (B) R\$ 662,50.
- (C) R\$ 507,45.
- (D) R\$ 1.258,73.
- (E) R\$ 362,25.

55. Duas competidoras irão fazer uma disputa particular em uma pista circular de atletismo, cujo comprimento total é de 600 metros. Por meio de medições em disputas anteriores, a corredora Alice corre a uma velocidade de 120 metros por minuto e a corredora Tereza corre a uma velocidade de 180 metros por minuto. Ambas correm no mesmo sentido da pista. Como Tereza é mais rápida que Alice, fica estipulado que Alice iniciará a corrida em um ponto da pista e Tereza somente entrará na competição no exato momento em que Alice passar novamente no ponto de partida, ou seja, quando ela completar 1 volta. Dado o início da prova, a quantidade de voltas completas que Tereza dará na pista até encontrar Alice no ponto de partida pela terceira vez será igual a

- (A) 15 voltas.
- (B) 6 voltas.
- (C) 9 voltas.
- (D) 3 voltas.
- (E) 12 voltas.

56. Se não é verdade que na próxima quinta-feira não haverá jogo de futebol e também não é verdade que no próximo domingo vai chover, então é correto afirmar que

- (A) na próxima quinta-feira não haverá jogo ou no próximo domingo vai chover.
- (B) se não houver jogo na próxima quinta-feira, então não vai chover no próximo domingo.
- (C) se chover no próximo domingo, então não haverá jogo na próxima quinta-feira.
- (D) ou na próxima quinta-feira haverá jogo ou no próximo domingo não vai chover.
- (E) haverá jogo na próxima quinta-feira e não vai chover no próximo domingo.

57. Comparando a agilidade de quatro rendeiras na confecção de uma toalha de mesa, sabe-se que Fabiana não é mais ágil que Paula, ou Claudia ou Larissa é a rendeira menos ágil entre as quatro, Larissa não é mais ágil do que Paula e é mais ágil do que duas outras rendeiras. Sabendo que a cada duas rendeiras as agilidades são sempre diferentes, é correto afirmar que

- (A) Paula é a rendeira menos ágil.
- (B) Larissa é mais ágil que Paula.
- (C) Fabiana é mais ágil que Larissa.
- (D) Paula é a rendeira mais ágil.
- (E) Claudia é a rendeira menos ágil.

58. Se não é verdade que, se o carro é um Fiesta, então sua cor não é azul, é correto afirmar que

- (A) o carro é um Fiesta e sua cor é azul.
- (B) ou o carro não é um Fiesta ou sua cor não é azul, nunca ambos.
- (C) se o carro é azul, então ele não é um Fiesta.
- (D) ou o carro é um Fiesta ou o carro é azul, nunca ambos.
- (E) o carro não é um Fiesta e sua cor não é azul.

59. O CNPq concede bolsas para a formação de recursos humanos no campo da pesquisa científica e tecnológica, em universidades, institutos de pesquisa, centros tecnológicos e de formação profissional, tanto no Brasil como no exterior. Confira alguns valores de bolsas no Brasil.

Tabela de Valores de Bolsas no Brasil

Modalidade	Valor (R\$)
Apoio Técnico à Pesquisa	550,00
Doutorado	2.200,00
Iniciação Científica	400,00
Iniciação Científica Júnior	100,00
Iniciação Tecnológica (PIBITI)	400,00
Mestrado	1.500,00
Pós-doutorado Sênior	4.400,00
Pós-doutorado Júnior	4.100,00
Pós-doutorado Empresarial	4.100,00

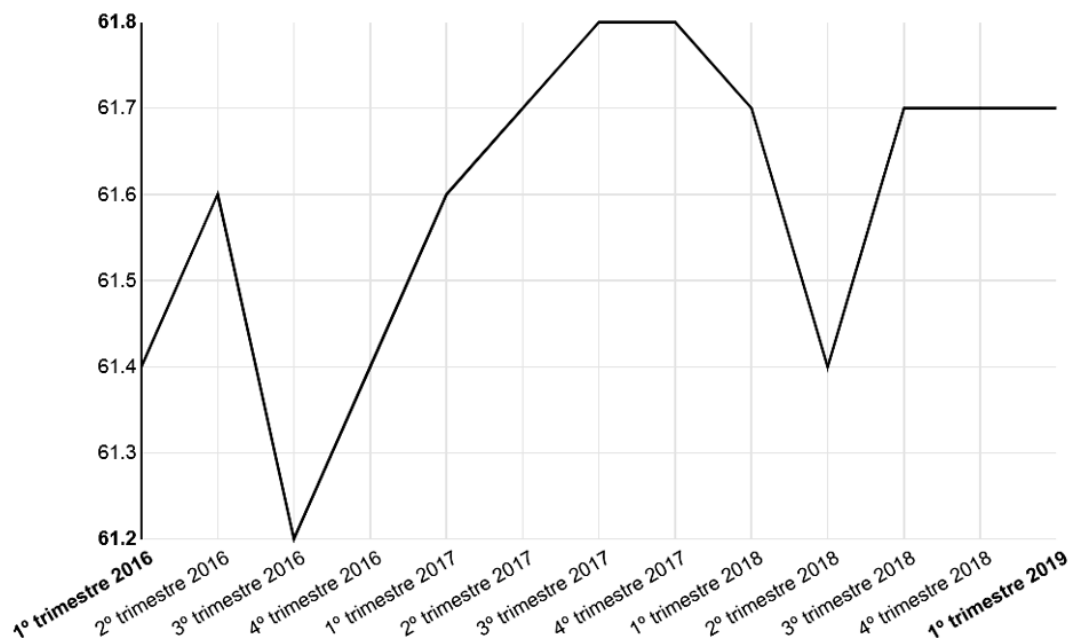
Público Alvo: Jovens de ensino médio e superior, em nível de pós-graduação, interessados em atuar na pesquisa científica, e especialistas para atuarem em Pesquisa e Desenvolvimento (P&D) nas empresas e centros tecnológicos. (Disponível em: <<http://cnpq.br/no-pais/>>. Acesso em 28 de junho de 2019).

Considerando os dados acima e sabendo que dois jovens foram contemplados, cada um com uma bolsa, tal que a soma dos valores das duas bolsas está entre R\$ 3.000,00 e R\$ 4.000,00, então as duas bolsas concedidas foram de

- (A) Iniciação Científica Júnior e Pós-doutorado Sênior.
- (B) Iniciação Tecnológica (PIBITI) e Doutorado.
- (C) Iniciação Científica e Pós-doutorado Empresarial.
- (D) Mestrado e Doutorado.
- (E) Apoio Técnico à Pesquisa e Mestrado.

60. No site do Instituto Brasileiro de Geografia e Estatística (IBGE), por meio da Pesquisa Nacional por Amostra de Domicílios Contínua - Divulgação Trimestral - 1º trimestre 2019 (PNADC/T), foi divulgado o seguinte gráfico que indica a taxa de participação na força de trabalho das pessoas de 14 anos ou mais de idade, na semana de referência (%) – Brasil:

PNADC/T - Taxa de participação na força de trabalho das pessoas de 14 anos ou mais de idade, na semana de referência (%) - Brasil



(Disponível em: <<https://sidra.ibge.gov.br/home/pnadct>>. Acesso em: 28 de junho de 2019).

Pelas informações obtidas por meio desse gráfico, assinale a alternativa correta.

- (A) A menor taxa de participação na força de trabalho das pessoas de 14 anos ou mais de idade ocorreu no 4º trimestre de 2017.
- (B) Do 1º trimestre de 2018 até o 2º trimestre do mesmo ano, houve um aumento na taxa de participação na força de trabalho das pessoas de 14 anos ou mais de idade.
- (C) A maior taxa de participação na força de trabalho das pessoas de 14 anos ou mais de idade ocorreu no 3º trimestre de 2016.
- (D) A taxa de participação na força de trabalho das pessoas de 14 anos ou mais de idade manteve-se constante entre o 3º e o 4º trimestre de 2017.
- (E) Do 1º trimestre de 2016 até o 1º trimestre de 2019, houve uma variação de 0,9 % na taxa de participação na força de trabalho das pessoas de 14 anos ou mais de idade.

ATENÇÃO!

NÃO SE ESQUEÇA de marcar, na Folha de Respostas, o número de sua prova indicado na capa deste caderno.



T2406012N

FUNDAÇÃO INSTITUTO BRASILEIRO DE GEOGRAFIA E ESTATÍSTICA - IBGE

EDITAL DE PROCESSO SELETIVO SIMPLIFICADO Nº02/2019

NÍVEL SUPERIOR

ANALISTA CENSITÁRIO

GESTÃO E INFRAESTRUTURA

Nome do Candidato _____

Inscrição _____



COMPOSIÇÃO DO CADERNO

Língua Portuguesa 01 a 15

Conhecimentos Específicos 16 a 50

Raciocínio Lógico 51 a 60



INSTRUÇÕES

1. Confira seu nome, o número do seu documento e o número de sua inscrição na Folha de Respostas. Além disso, não se esqueça de conferir seu Caderno de Questões quanto a falhas de impressão e de numeração. Preencha os campos destinados à assinatura e ao número de inscrição. Qualquer divergência, comunique ao fiscal.
2. O único documento válido para avaliação é a Folha de Respostas. Só é permitido o uso de caneta esferográfica transparente de cor azul ou preta para o preenchimento da Folha de Respostas, que deve ser preenchida da seguinte maneira: ●
3. O prazo de realização da prova é de 4 (quatro) horas, incluindo a marcação da Folha de Respostas. Após 60 (sessenta) minutos do início da prova, o candidato estará liberado para utilizar o sanitário ou deixar definitivamente o local de aplicação, não podendo, no entanto, levar o Caderno de Questões e nenhum tipo de anotação de suas respostas.
4. Ao término de sua prova, comunique ao fiscal, devolvendo-lhe a Folha de Respostas devidamente preenchida e assinada. O candidato somente poderá levar consigo o Caderno de Questões, ao final da prova, se sua saída ocorrer nos 30 (trinta) minutos anteriores ao horário determinado para o término das provas.
5. Os 3 (três) últimos candidatos só poderão retirar-se da sala juntos, após assinatura do Termo de Fechamento do envelope de retorno.
6. As provas e os gabaritos preliminares estarão disponíveis no site do Instituto AOCP - www.institutoaocp.org.br, no dia posterior à aplicação da prova.
7. O NÃO cumprimento a qualquer uma das determinações constantes em Edital, no presente Caderno ou na Folha de Respostas incorrerá na eliminação do candidato.

PROVA

02

LEMBRE-SE DE MARCAR O NÚMERO
CORRESPONDENTE À SUA PROVA NA
FOLHA DE RESPOSTAS!



ATENÇÃO!

NÃO SE ESQUEÇA de marcar, na Folha de Respostas, o número de sua prova indicado na capa deste caderno.

Língua Portuguesa

TEXTO I

O último paradoxo da vida moderna: por que ficamos presos ao celular, mas odiamos falar por telefone?

Não deixe uma ligação rápida arruinar uma longa e confusa série de mensagens de WhatsApp

SILVIA LÓPEZ

Para iniciar um texto, Hemingway dizia a si mesmo: “Escreva a frase mais verdadeira que você conhece”. Neste caso, seria: a psicóloga Cristina Pérez, do Siquia, respondeu por meio de mensagens de áudio às perguntas que lhe enviamos por email. Essa curiosidade metajornalística não tem importância, não altera a qualidade de suas respostas, só ilustra a variedade e fluidez de opções com as quais podemos nos comunicar hoje. Recebemos um email? Respondemos com um áudio. Chegou um áudio de WhatsApp? Respondemos com um texto. Recebemos um telefonema? Não respondemos. Esperamos. Esperamos. E escrevemos: “Você me ligou? Não posso falar, é melhor me escrever”. O paradoxo do grande vício do século XXI é que estamos presos ao celular, mas temos fobia das ligações telefônicas.

A ligação telefônica – que, até não muito tempo atrás, esperávamos com alegria ou tolerávamos com resignação, mas nunca evitávamos com uma rejeição universal – se tornou uma presença intrusiva e incômoda, perturbadora e tirânica, mas por quê? “Uma das razões é que quando recebemos uma ligação, ela interrompe algo que estávamos fazendo, ou simplesmente não temos vontade de falar nesse momento”, explica a psicóloga Cristina Pérez. “Por outro lado, também exige de nós uma resposta imediata, ao contrário do que ocorre na comunicação escrita, que nos permite pensar bem no que queremos dizer. E a terceira razão seria o fato de não poder saber de antemão qual será a duração do telefonema”, acrescenta.

Adaptado de: <https://brasil.elpais.com/brasil/2019/06/01/tecnologia/1559392400_168692.html>. Acesso em: 25 jun. 2019

As questões de 1 a 10 se referem ao texto I.

1. De acordo com o texto, é correto afirmar que

- (A) a autora seguiu o conselho de Hemingway.
- (B) a curiosidade metajornalística citada pela autora não tem importância para a temática do texto.
- (C) não há resposta para a pergunta presente no título.
- (D) a ligação telefônica está presente na vida das pessoas.
- (E) respondemos e-mails com áudios porque nos comunicamos melhor oralmente do que pela escrita.

2. No segundo parágrafo do texto, a informação entre travessões

- (A) descreve três atitudes negativas em relação à ligação telefônica.
- (B) é constituída por três ações que se excluem mutuamente.
- (C) é constituída por verbos que não requerem um complemento.
- (D) restringe o sentido do termo “ligação telefônica”.
- (E) completa o sentido do termo “ligação telefônica”.

3. Assinale a alternativa que apresenta a reescrita adequada, sintática e semanticamente, para o seguinte excerto: “O paradoxo do grande vício do século XXI é que estamos presos ao celular, mas temos fobia das ligações telefônicas.”.

- (A) O paradoxo do grande vício do século consecutivo é estarmos presos ao celular, mas termos fobia das ligações telefônicas.
- (B) A incoerência do grande vício do século consecutivo é estarmos presos ao celular, mas ficarmos doentes sem as ligações telefônicas.
- (C) No século XXI, é contraditório estar preso ao celular por ter medo das ligações telefônicas.

- (D) Temos medo das ligações telefônicas porque estamos presos ao celular; esse é o paradoxo do grande vício do século XXI.
- (E) Estarmos presos ao celular, mas termos fobia das ligações telefônicas é a incoerência do grande vício do século vigente.

4. Assinale a alternativa em que a expressão em destaque NÃO indica circunstância de tempo, NÃO sendo, portanto, um adjunto adverbial de tempo ou uma oração subordinada adverbial temporal.

- (A) “O paradoxo do grande vício do século XXI é que estamos presos ao celular [...]”.
- (B) “[...] quando recebemos uma ligação, ela interrompe algo [...]”.
- (C) “[...] simplesmente não temos vontade de falar nesse momento [...]”.
- (D) “[...] saber de antemão qual será a duração do telefonema [...]”.
- (E) “[...] opções com as quais podemos nos comunicar hoje.”.

5. Qual é a relação de sentido estabelecida no excerto “Não posso falar, é melhor me escrever”?

- (A) Contraste.
- (B) Causalidade.
- (C) Adição.
- (D) Conformidade.
- (E) Finalidade.

6. Em “[...] esperávamos com alegria ou tolerávamos com resignação, mas nunca evitávamos com uma rejeição universal.”,

- (A) há uma relação de oposição entre esperar com alegria e tolerar com resignação.
- (B) a acentuação de “esperávamos”, “tolerávamos” e “evitávamos” se deve ao fato de serem verbos.
- (C) não é possível identificar os sujeitos dos verbos presentes no excerto.
- (D) todos os verbos apresentam o mesmo sujeito e estão no mesmo modo.
- (E) o uso da vírgula é facultativo.

7. É um sinônimo da palavra “ligação” o vocábulo

- (A) “email”.
- (B) “telefone”.
- (C) “telefonema”.
- (D) “celular”.
- (E) “áudio de WhatsApp”.

8. A repetição de “esperamos”, em “Recebemos um telefonema? Não respondemos. Esperamos. Esperamos. E escrevemos: [...]”,

- (A) indica que o retorno é dado depois de um tempo considerável após a ligação.
- (B) indica que o retorno é dado imediatamente após a ligação.
- (C) não dá nenhum indício sobre o tempo transcorrido até o retorno.
- (D) deveria ser eliminada, pois se trata de um problema de coesão.
- (E) enfatiza a pouca frequência com que se recebem telefonemas.

9. Assinale a alternativa que apresenta a reescrita adequada, sintática e semanticamente, para o seguinte excerto: “[...] ‘Você me ligou? Não posso falar, é melhor me escrever’.”.

- (A) Você ligou-me? Não posso falar, é melhor eu escrever.
- (B) Ligastes para mim? Não posso falar, escreve a mim que és melhor.
- (C) Me ligou? Não posso falar, escrever é melhor para mim.
- (D) Você ligou para mim? Não posso falar, é melhor que me escreva.
- (E) Me ligou? Não posso falar, me escreve que é melhor.

10. Em relação ao excerto “Não deixe uma ligação rápida arruinar uma longa e confusa série de mensagens de WhatsApp”, é correto afirmar que

- (A) ele é um conselho para as pessoas não receberem ligações rápidas.
- (B) a palavra “rápida” caracteriza “ligação” enquanto as palavras “longa”, “confusa” e “série” caracterizam “mensagens”.
- (C) ele é irônico, pois o conteúdo que se pretende veicular possui o significado contrário daquilo que é posto.
- (D) ele está no modo imperativo, indicando um pedido para que as pessoas não diminuam o uso de WhatsApp.
- (E) a palavra “série” está sendo utilizada com o mesmo significado que na frase: “A antiga 5ª série equivale hoje ao 6º ano”.

TEXTO II

Você é o que você se diz: a ciência do diálogo interno

PILAR JERICÓ

Se você quiser variar a percepção que tem sobre você, precisa alterar seu diálogo interior. A forma como você conversa consigo mesmo condiciona sua capacidade de enfrentar as dificuldades e determina a tomada de decisões. A autoafirmação, ou pensar coisas positivas sobre nós mesmos, é uma ferramenta muito útil para reforçar a autoestima. Entretanto, não vale qualquer comentário. Já ficou comprovado que frases como “aguento tudo” ou “sou uma pessoa superagradável” não ajudam muito. Quem as expressa não está realmente convencido disso, então essas expressões podem ter efeito contrário. A ciência do diálogo interior nos dá pistas sobre as técnicas que tornam nossas autoafirmações eficazes: devemos imaginar futuras situações agradáveis e nos tratar na segunda pessoa.

Adaptado de: <https://brasil.elpais.com/brasil/2019/05/05/ciencia/1557083642_455016.html>. Acesso em: 25 jun. 2019.

As questões de 11 a 15 se referem ao texto II.

- 11. Em “Se você quiser variar a percepção que tem sobre você, precisa alterar seu diálogo interior.”, a relação de sentido que se estabelece é de**
- (A) condição.
 - (B) tempo.
 - (C) conclusão.
 - (D) concessão.
 - (E) contraste.
- 12. Em “A forma como você conversa consigo mesmo condiciona sua capacidade [...]”, o termo em destaque poderia ser substituído adequadamente por**
- (A) “que”.
 - (B) “cuja”.
 - (C) “onde”.
 - (D) “para qual”.
 - (E) “pela qual”.

- 13. Assinale a alternativa em que a palavra formada, assim como “autoafirmação” e “superagradável”, é grafada sem hífen.**
- (A) auto + hipnose.
 - (B) auto + observação.
 - (C) super + herói.
 - (D) super + requintado.
 - (E) super + salário.
- 14. De acordo com o texto, é correto afirmar que**
- (A) conversar consigo mesmo pode combater a depressão.
 - (B) a imaginação é importante no processo de melhora da autoestima.
 - (C) as pessoas que não conversam com elas mesmas não têm autoestima.
 - (D) falar consigo mesmo na primeira pessoa não ajuda porque isso não reflete como as outras pessoas falam conosco.
 - (E) o diálogo interior só é possível a partir de um diálogo exterior, no qual está presente uma segunda pessoa.
- 15. Assinale a alternativa que apresenta um exemplo de tratamento na segunda pessoa do singular.**
- (A) Eu sou capaz de vencer meus desafios.
 - (B) Juntos, nós podemos transformar o mundo.
 - (C) Você é forte para superar os obstáculos da vida.
 - (D) As pessoas não vão abalar minha autoconfiança.
 - (E) Sempre é possível evoluir como ser humano.

Conhecimentos Específicos

16. No planejamento de processos seletivos, é importante a realização de um conjunto integrado de atividades, denominado técnicas de seleção, que envolve, dentre outros, os testes. Assinale a alternativa que apresenta os testes de seleção que proporcionam a possibilidade de análise simultânea de competências técnicas e comportamentais.

- (A) Testes psicológicos.
- (B) Testes situacionais.
- (C) Testes personalizados.
- (D) Testes de conhecimentos.
- (E) Testes de estrutura de cargos.

17. O Serviço Público Federal tem buscado prover suas necessidades de mão de obra utilizando formas de atingir seus objetivos com agilidade dos trabalhos, contando com maquinário, tecnologia e pessoal treinado e reciclado na execução das atividades-meio. Qual é a técnica, que tem sido utilizada com frequência e é livre de subordinação direta e de pessoalidade entre a administração pública e o trabalhador, que proporciona esse suprimento de pessoal?

- (A) Estágio.
- (B) Trainee.
- (C) Autonomia.
- (D) Home office.
- (E) Terceirização.

18. Assinale a alternativa que apresenta o departamento ou função da área de recursos humanos que tem o papel de definir oportunidades oferecidas pela empresa para as pessoas crescerem nessa empresa.

- (A) Plano de carreira.
- (B) Descrição de cargo.
- (C) Estrutura hierárquica.
- (D) Avaliação de desempenho.
- (E) Competências e capacitação.

19. Assinale a alternativa que apresenta um conceito de recursos humanos nas organizações.

- (A) É a área que tem a especificidade de prover os suprimentos necessários a todos os departamentos no sentido de permitir que as pessoas realizem seu trabalho com eficiência.
- (B) É a área que tem a autoridade para realizar licitações e celebrar contratos de aquisições de materiais com a finalidade de atender às demandas de produção das pessoas.
- (C) É a área que tem a peculiaridade de aplicar as funções da administração a cada uma das áreas da empresa e a cada um de seus departamentos, apoiando o desenvolvimento das pessoas.
- (D) É a área que tem vinculação direta com a alta administração para desenvolver estudos e análises que embasem decisões sobre o desenvolvimento de produtos para a realização das vendas pessoais.
- (E) É a área que tem a necessidade de envolvimento com os vendedores em seu relacionamento com os clientes atuais e potenciais para promover o crescimento e o desenvolvimento da organização.

20. Para a implantação de um sistema informatizado de gestão de informações de pessoal no IBGE, é necessário, dentre outros, um elemento imprescindível que possibilita aumentar o conhecimento das atividades organizacionais, a confiança, as percepções de satisfação no trabalho, o compromisso com a organização, o desempenho e a aceitação das mudanças organizacionais. Qual é esse elemento que pode ser definido como um valor intrínseco, porque desenvolve as mais elevadas capacidades humanas e ampara o caráter moral ativo, direcionado ao bem público?

- (A) Participação.
- (B) Cidadania.
- (C) Maturidade.
- (D) Empoderamento.
- (E) Otimização.

21. Analisando o cenário do serviço público federal, incluindo o IBGE, é correto afirmar que, por ser absolutamente imprescindível ao país, o custeio dos servidores públicos deve ser tratado como

- (A) uma solução que demanda cortes de gastos.
- (B) uma melhor alocação e dimensionamento da força de trabalho.
- (C) uma questão que requer intensos esforços de qualificação.
- (D) uma necessidade de transferência para a iniciativa privada.
- (E) uma quantia que indica maior alocação de trabalho aos servidores.

22. A área de recursos humanos pode ser conceituada de forma clássica como o homem certo, no lugar certo e no momento certo. De que forma organizações como o IBGE podem e devem ajudar as pessoas para a atuação em um ambiente de mudanças?

- (A) Estabelecendo alvos incrementais e adaptados.
- (B) Condicionando a remuneração à adaptação.
- (C) Proporcionando atividades de mitigação do estresse.
- (D) Desenvolvendo suas habilidades e autoconfiança.
- (E) Administrando seu pessoal como recurso de produção.

23. Administrar as pessoas dentro de uma organização não é prioridade da função de recursos humanos, pois depende de todos os indivíduos que estão envolvidos com os processos administrativos e produtivos, tendo em vista o duplo papel da administração de recursos humanos dentro da estrutura organizacional. A que se refere esse duplo papel que torna a função de recursos humanos atípica em relação às demais?

- (A) Sua atuação particular e holística.
- (B) Sua abordagem localizada e global.
- (C) Sua posição de linha e assessoria.
- (D) Sua função de recrutar e contratar.
- (E) Sua atribuição de controle e promoção.

24. Não há um campo comum que defina claramente o que a administração de recursos humanos deve fazer, porém é possível estabelecer princípios que podem ser usados pelos administradores de recursos humanos em soluções de problemas e tomadas de decisão em sua área de ação. Assinale a alternativa que apresenta alguns desses princípios.

- (A) Prospectores, automação, ambivertido e transmissores da mensagem organizacional.
- (B) Transformadores de ideias em ações, experimentadores e imutabilidade empresarial.
- (C) Objetivos desafiadores, hábitos de sucesso, reason why e otimismo realista na empresa.
- (D) Melhoradores contínuos, receptividade ao feedback, disciplina, foco e gratidão à empresa.
- (E) Facilitadores de mudança, mediação, autoridade e alinhamento organizacional.

25. Pedro é o Administrador Patrimonial do IBGE e precisa movimentar materiais, trocando a responsabilidade de uma unidade organizacional para outra, dentro do próprio IBGE. Qual é a ocorrência patrimonial que ele precisa realizar?

- (A) Passagem.
- (B) Contrapartida.
- (C) Transferência.
- (D) Reincorporação.
- (E) Transformação física.

26. Luiza precisa incorporar e registrar um equipamento fotocopiador recebido pelo IBGE na forma de doação de uma indústria produtora. Para registrar esse bem, qual é o gênero patrimonial em que ele deverá ser classificado?

- (A) Bem novo.
- (B) Bem móvel.
- (C) Bem cedido.
- (D) Bem doado.
- (E) Bem industrial.

27. Qual é a atividade realizada nas organizações cujo propósito é prover estoque de materiais do tipo específico, na quantidade certa, para o lugar certo, no tempo certo e pelo mínimo de custo?

- (A) Armazenamento de materiais.
- (B) Inventário de materiais.
- (C) Atendimento de materiais.
- (D) Transporte de materiais.
- (E) Especificação de materiais.

- 28. Márcio é o responsável pelo controle dos estoques de materiais do IBGE e procura desempenhar essa atividade registrando as entradas e saídas de materiais com competência e responsabilidade, sabendo que o primeiro passo para ter um bom controle de estoque é ter um bom e confiável sistema que lhe auxilie na administração de todo material, sendo necessário organizar suas principais funções. Assinale a alternativa que apresenta algumas dessas funções que precisam ser organizadas pelo responsável em controlar os estoques.**
- (A) Determinar os horários de recebimento e de entrega de materiais; acolher com prioridade os pedidos dos principais superiores hierárquicos; questionar os setores de produção e de vendas a respeito da real necessidade de materiais que solicitam e fixar quantitativos e qualitativos com base histórica.
- (B) Determinar o número de itens que deve permanecer em estoque; quando se deve reabastecer o estoque; a quantidade de estoque necessária em certo período; acionar o departamento de compras para as aquisições de materiais; manter inventários periódicos e identificar e retirar do estoque os itens danificados.
- (C) Determinar os recebimentos, o armazenamento e o atendimento de materiais de acordo com os maiores produtores dos itens; fiscalizar as aplicações de materiais realizadas pelos funcionários de todos os níveis da organização e procurar conhecer o desenvolvimento científico e tecnológico dos materiais.
- (D) Determinar a perfeita composição e dimensão de cada embalagem de materiais para adequá-la à melhor forma de armazenamento; compartilhar os sistemas de registros de materiais existentes na organização com os controladores de outras organizações, com o objetivo de conhecer os diversos sistemas.
- (E) Determinar os níveis mínimos e máximos de valor dos materiais a serem acondicionados no armazém; verificar as movimentações de materiais realizadas pelos competidores no mercado e assumir todos os desvios e quebras de materiais, seja por roubo, perda ou danos causados nos transportes dos fornecedores.
- 29. Dentre os princípios básicos da produção de material, há aqueles que fazem parte da administração de materiais e que possuem um subsistema ou setor típico que se preocupa sobremaneira com o estoque de materiais, assegurando que os materiais exigidos pela produção estejam à disposição nas quantidades certas e nos períodos desejados. Qual é esse setor ou subsistema da administração de materiais?**
- (A) Administração de movimentações de materiais.
- (B) Administração de especificações de materiais.
- (C) Administração de qualidade de materiais.
- (D) Administração de estoques de materiais.
- (E) Administração de compras de materiais.
- 30. No desempenho de sua função de comprador do IBGE, José precisa definir com quantos e com quais fornecedores irá negociar e trabalhar. Se ele necessita adquirir alguns materiais com uma especificação bastante singular e com certas exigências particulares de qualidade e desempenho para o IBGE, ou seja, necessita de fornecedores exclusivos para esses materiais, qual será a forma de gestão de fornecedores que José poderá adotar?**
- (A) Supplier network.
- (B) Multiple sourcing.
- (C) Global sourcing.
- (D) Single sourcing.
- (E) Extra sourcing.

31. Conforme informações do departamento de compras do IBGE, a quantidade adquirida em cada pedido de tablets para serem utilizados na coleta de dados é de 8 unidades. Segundo dados obtidos nesse departamento, a demanda anual é de 400 unidades ao custo unitário de R\$ 200,00 cada tablet. Além disso, devido a sua enxuta estrutura de compras, o custo de emissão de cada pedido pelo departamento de compras é de apenas R\$ 0,375. Considere um custo de manter de 6% ao ano do valor unitário do tablet e apure o Lote Econômico de Compras de tablets, em seguida, assinale a alternativa que apresenta a quantidade de compras de tablets por pedido.

- (A) 4 unidades por pedido.
- (B) 5 unidades por pedido.
- (C) 7 unidades por pedido.
- (D) 8 unidades por pedido.
- (E) 16 unidades por pedido.

32. O orçamento público possui uma grande variedade de termos que são utilizados por seus elaboradores e interessados nas finanças públicas. Relacione alguns desses termos a seus significados e assinale a alternativa com a sequência correta.

1. Alienação de bens.
2. Ordenador de despesa.
3. Aspecto qualitativo do patrimônio.
4. Aspecto quantitativo do patrimônio.
5. Homologação.

() Autoridade de cujos atos resultam autorização para efetuar despesas, emissão de empenho, assinatura de contratos e convênios, homologação de licitações, realização de pagamentos etc.

() Um conjunto de bens, créditos, débitos, dotações e previsões que, em determinado momento, encontram-se à disposição do ente público, concorrendo para a realização de seus fins.

() Processo administrativo de venda de bens móveis e imóveis, passando a transferência de domínio de bens públicos a terceiros.

() Ato da autoridade administrativa superior, confirmando o julgamento das propostas concorrentes e possibilitando a adjudicação.

() Fundo de valores constituído pela expressão monetária dos elementos Ativo, Passivo e Situação Líquida.

- (A) 1 – 3 – 4 – 5 – 2.
- (B) 3 – 4 – 5 – 1 – 4.
- (C) 5 – 4 – 3 – 1 – 2.
- (D) 4 – 1 – 2 – 3 – 5.
- (E) 2 – 3 – 1 – 5 – 4.

33. Nos dias de hoje, é possível reconhecer o orçamento público como um instrumento que apresenta múltiplas funções. Além da clássica função de controle político, o orçamento apresenta outras funções do ponto de vista administrativo, gerencial, contábil e financeiro. Qual é a função incorporada mais recentemente no Brasil que está ligada à técnica de orçamento por programas?

- (A) Função de coordenação.
- (B) Função de gerenciamento.
- (C) Função de fiscalização.
- (D) Função de planejamento.
- (E) Função de realização.

34. Dentre as técnicas orçamentárias, qual é a que se caracteriza por um processo orçamentário que se apoia na necessidade de justificativa de todos os programas cada vez que se inicia um novo ciclo orçamentário, com análise, revisão e avaliação de todas as despesas propostas?

- (A) Orçamento de desempenho.
- (B) Orçamento com teto fixo.
- (C) Orçamento base-zero.
- (D) Orçamento incremental.
- (E) Orçamento inercial.

35. No gerenciamento de projetos, o planejamento define os caminhos para que os objetivos do projeto sejam alcançados. Assinale a alternativa que apresenta a característica da etapa de planejamento que requer a consideração de todos os envolvidos no projeto.

- (A) Ser um elemento dinâmico que pode sofrer modificações no decorrer do ciclo de vida do projeto.
- (B) Ser um elemento estrutural que deve ser cumprido ao longo do ciclo de vida do projeto.
- (C) Ser um elemento metódico que proporciona o alcance das metas empresariais traçadas.

- (D) Ser um elemento indispensável que implica na adoção de rigor em sua implementação.
- (E) Ser um elemento complexo que tipifica a complexidade de todas as organizações.
- 36. O controle é uma etapa vital no gerenciamento de projetos, pois permite a percepção de problemas em tempo hábil para solucioná-los. Assinale a alternativa que apresenta algumas das atividades típicas do processo de controle.**
- (A) Identificação da dimensão do projeto e gerenciamento das aquisições de produtos e das mudanças no projeto.
- (B) Acompanhamento da temperatura e gerenciamento das condições climáticas e meteorológicas do ambiente.
- (C) Definição da estrutura organizacional e gerenciamento dos recursos materiais e humanos da empresa.
- (D) Obtenção da aceitação do escopo e gerenciamento de partes interessadas e da equipe do projeto.
- (E) Visualização da finalização do projeto e gerenciamento das fontes de financiamento do projeto.
- 37. O diretor do departamento de treinamento do IBGE realiza suas atividades com competência e sempre procura, em suas relações interpessoais, favorecer o trabalho da equipe, incentivando as discussões informais, construindo um ambiente com confiança mútua e envolvimento grupal intenso. De acordo com esse cenário, qual é o estilo de liderança desse diretor?**
- (A) Autoritário benevolente.
- (B) Autoritário coercitivo.
- (C) Participativo.
- (D) Consultivo.
- (E) Liberal.
- 38. Liderança pode ser definida como a capacidade de influenciar um grupo em direção ao alcance dos objetivos. Qual é a condição necessária e básica para que o líder promova a motivação aos seus liderados?**
- (A) O líder precisa estar motivado.
- (B) O líder precisa ser exigente.
- (C) O líder precisa ser positivo.
- (D) O líder precisa estar convencido.
- (E) O líder precisa ficar imparcial.
- 39. O poder está alicerçado em estruturas denominadas bases de poder. Assinale a alternativa que apresenta algumas das características da base do poder de influência.**
- (A) Relaciona-se ao resultado de uma ação que concorda com as relações de poder entre os atores, gerando reconhecimentos e incentivos nas organizações.
- (B) Resulta do receio que as pessoas têm em causar resultados negativos, procedente de uma ação não concordante com a relação de poder.
- (C) É consequência da posição hierárquica de uma pessoa na organização, resultando na aceitação das demais pessoas.
- (D) É aquele que resulta do carisma que uma pessoa possui, gerando uma relação positiva de influência do carismático sobre as demais pessoas com a ocorrência de mudanças.
- (E) É resultado do controle exercido pelas pessoas em decorrência de suas competências, habilidades ou conhecimentos adquiridos na realização de suas atividades e na vida social.
- 40. A relação entre tecnologia e estratégia empresarial é perceptível de maneira especial em relação ao papel estratégico da tecnologia da informação. Quais são os impactos que a evolução da tecnologia da informação tem provocado nas estratégias das empresas?**
- (A) Mudanças nos clientes da empresa, exigências de financiamentos e investimentos financeiros e alterações da composição societária e de direção das empresas.
- (B) Mudanças nos processos de negócios, exigências de habilidades e de recursos humanos e alterações da estrutura da organização e da estratégia de negócios.
- (C) Mudanças nos relacionamentos da empresa, exigências de incrementos visuais e publicitários e alterações da estrutura física e produtiva das organizações.
- (D) Mudanças nos instrumentos regulatórios dos negócios, exigências de maiores incentivos aos fornecedores e alterações do padrão cultural dos empresários.
- (E) Mudanças nos mecanismos dos equipamentos de produção, exigências de criação de meios fiscalizatórios e alterações do status econômico e social de seus dirigentes.

41. A Teoria Geral dos Sistemas possibilitou ao profissional de administração desenvolver meios de análise e diagnóstico a partir de uma abordagem globalizante. Quais foram alguns dos instrumentos que a Teoria Geral dos Sistemas proporcionou o desenvolvimento no contexto administrativo?

- (A) Agrupamento departamental para soluções especializadas, fluxos de problemas tendo em vista os objetivos finais, métodos voltados para promoção e estruturas organizacionais dependentes.
- (B) Agrupamento de partes autônomas independentes para operações, fluxos de sistemas tendo em vista os subsistemas, métodos voltados para controles e estruturas departamentalizadas.
- (C) Agrupamento para efetivação, fluxos de informações tendo em vista o controle operacional, métodos voltados para publicização e estruturas de cargos e salários por tempo de emprego.
- (D) Agrupamento para coordenação, fluxos de comunicação tendo em vista a tomada de decisão, métodos voltados para objetivos e estruturas organizacionais dinâmicas e definidamente interdependentes.
- (E) Agrupamento para tarefas, fluxos de materiais ininterruptos na produção, métodos voltados para construção de ambientes climatizados e estruturas desenhadas para acomodar processos independentes.

42. No processo de avaliação de programas de treinamento, quais são os níveis que requerem mais tempo para serem avaliados?

- (A) Reação e aprendizagem.
- (B) Comportamento e reação.
- (C) Aprendizagem e resultados.
- (D) Comportamento e resultados.
- (E) Aprendizagem e comportamento.

43. Considere que Joana, servidora pública federal efetiva, manteve sob sua chefia imediata, em função de confiança, seu companheiro José. Além disso, em um momento de descontração com colegas servidores, revelou que utilizava de recursos materiais da repartição em atividades particulares. Tendo em vista a situação hipotética narrada, bem como as disposições da Lei nº 8.112/90, as ações disciplinares referentes às condutas de Joana prescrevem em

- (A) 180 (cento e oitenta dias) e 2 (dois) anos, respectivamente.
- (B) 180 (cento e oitenta dias) e 5 (cinco) anos, respectivamente.
- (C) 2 (dois) anos e 180 (cento e oitenta dias), respectivamente.
- (D) 5 (cinco) anos e 180 (cento e oitenta dias), respectivamente.
- (E) 5 (cinco) anos em ambos os casos.

44. Alonso, servidor público federal efetivo, em virtude de exigências transitórias decorrentes das atribuições de seu cargo, necessitou se deslocar de Curitiba, sede de seu serviço, para Porto Alegre por 5 (cinco) dias. Contudo, diante do falecimento de seu neto, retornou a Curitiba antes do prazo previsto para o término de seu deslocamento. Nesse caso, considerando que foram observadas todas as formalidades legais, dispõe a Lei nº 8.112/90 que, caso o servidor retorne à sede em prazo menor do que o previsto para o seu afastamento, restituirá as diárias recebidas em excesso, no prazo de

- (A) 05 (cinco) dias.
- (B) 10 (dez) dias.
- (C) 15 (quinze) dias.
- (D) 20 (vinte) dias.
- (E) 30 (trinta) dias.

45. De modo geral, podemos conceituar a Administração Indireta como o conjunto de pessoas jurídicas (desprovidas de autonomia política) que, vinculadas à administração direta, têm competência para o exercício, de forma descentralizada, de atividades administrativas. Em relação ao tema, o Instituto Brasileiro de Geografia e Estatística (IBGE) é classificado como

- (A) empresa pública.
- (B) autarquia.
- (C) fundação pública.
- (D) sociedade de economia mista.
- (E) entidade paraestatal.

46. Assinale a alternativa correta de acordo com a Lei de Licitações (Lei nº 8.666/93).

- (A) A alienação de bens da Administração Pública, subordinada à existência de interesse público devidamente justificado, quando móveis, dependerá de avaliação prévia e de autorização legislativa.
- (B) Na concorrência para a venda de bens imóveis, a fase de habilitação limitar-se-á à comprovação do recolhimento de quantia correspondente a 10% (dez por cento) da avaliação.
- (C) Quando a lei autoriza a administração a, discricionariamente, deixar de realizar a licitação, temos a denominada licitação dispensada.
- (D) Nos casos em que couber a tomada de preços, a Administração poderá utilizar convite e, em qualquer caso, a concorrência.
- (E) Os bens arrematados serão pagos à vista ou no percentual estabelecido no edital, não inferior a 5% (cinco por cento) e, após a assinatura da respectiva ata lavrada no local do leilão, imediatamente entregues ao arrematante, o qual se obrigará ao pagamento do restante no prazo estipulado no edital de convocação, sob pena de perder em favor da Administração o valor já recolhido.

47. O Instituto Brasileiro de Geografia e Estatística (IBGE), buscando oferecer melhores condições a seus servidores no desempenho das atividades censitárias, iniciou procedimento licitatório na modalidade pregão para a aquisição de 500 (quinhentos) equipamentos de informática Desktop. Considerando a temática do Pregão e a legislação aplicável ao caso, assinale a alternativa correta.

- (A) No pregão, a habilitação do licitante ocorre em fase anterior à de julgamento e classificação.
- (B) A equipe de apoio ao pregoeiro deverá ser integrada em sua maioria por servidores ocupantes de cargo efetivo ou emprego da administração e sempre pertencentes ao quadro permanente da entidade promotora do evento, no caso o IBGE.
- (C) O prazo para apresentação das propostas não será inferior a 15 (quinze) dias úteis, contados a partir da publicação do aviso.
- (D) Se outro não estiver fixado no edital, o prazo de validade das propostas será de 90 (noventa) dias.
- (E) A União publicará, no Diário Oficial da União, o extrato dos contratos celebrados, no prazo de até 20 (vinte) dias da data de sua assinatura, com indicação da modalidade de licitação e de seu número de referência.

48. Referente à Lei nº 8.745/93, que dispõe sobre a contratação por tempo determinado para atender a necessidade temporária de excepcional interesse público, assinale a alternativa correta.

- (A) As contratações somente poderão ser feitas com observância da dotação orçamentária específica e mediante prévia autorização do Ministro de Estado sob cuja supervisão se encontrar o órgão ou a entidade contratante.
- (B) Na contratação de servidores temporários para a realização de recenseamentos e outras pesquisas de natureza estatística efetuadas pelo IBGE, é admitida a prorrogação dos respectivos contratos, desde que o prazo total não exceda a 4 (quatro) anos.
- (C) O contratado, nos termos dessa Lei, não poderá ser nomeado ou designado, exceto nos casos de substituição por prazo inferior a 45 (quarenta e cinco) dias, para o exercício de cargo em comissão ou função de confiança.
- (D) As infrações disciplinares atribuídas ao pessoal contratado nos termos dessa Lei serão apuradas mediante sindicância, concluída no prazo de trinta dias e assegurada ampla defesa.
- (E) A extinção do contrato, por iniciativa do órgão ou entidade contratante, decorrente de conveniência administrativa, importará no pagamento ao contratado de indenização correspondente a dois terços do que lhe caberia referente ao restante do contrato.

49. Em relação à Portaria nº 450, de 6 de novembro de 2002, do Ministério do Planejamento, Orçamento e Gestão, que estabelece normas gerais para realização de concursos públicos, no âmbito da Administração Pública federal direta, autárquica e fundacional, assinale a alternativa correta.

- (A) O prazo para publicação de edital de abertura de inscrições para realização do concurso público será de até 12 (doze) meses, contado a partir da data de publicação da Portaria de autorização do certame.
- (B) O não cumprimento das disposições contidas nessa Portaria implicará o cancelamento da autorização concedida para fins de realização do concurso público, bem como a suspensão do certame, exceto quando já aplicadas as provas.

- (C) O valor cobrado a título de inscrição no concurso será de, no máximo, 2,5% do valor da remuneração inicial do cargo ou emprego público prevista no edital.
- (D) O órgão ou entidade responsável pela realização do concurso homologará e divulgará, pelo Diário Oficial da União, a relação dos candidatos aprovados no certame, classificados em até três vezes o número de vagas previsto no edital para cada cargo ou emprego público, por ordem de classificação.
- (E) Durante o período de validade do concurso público, o Ministério do Planejamento, Orçamento e Gestão poderá autorizar a nomeação ou contratação de candidatos classificados e não convocados, até o limite de 25% (vinte e cinco por cento) a mais do quantitativo original de vagas.

50. Licitação é o procedimento administrativo mediante o qual a Administração pública seleciona a proposta mais vantajosa para o contrato de seu interesse. Como procedimento, desenvolve-se por meio de uma sucessão ordenada de atos vinculados para a Administração e para os licitantes, o que propicia igual oportunidade a todos os interessados e atua como fator de eficiência e moralidade nos negócios administrativos. Nesse contexto, assinale a alternativa correta considerando as disposições da Lei nº 8.666/93.

- (A) A licitação será processada e julgada em estrita conformidade com os princípios básicos da legalidade, da impessoalidade, da moralidade, da igualdade, da publicidade, da probidade administrativa, da vinculação ao instrumento convocatório, do julgamento subjetivo e dos que lhes são correlatos.
- (B) As normas de licitações e contratos devem privilegiar o tratamento diferenciado e favorecido às microempresas e empresas de pequeno porte na forma da lei.
- (C) Ressalvados os casos de inexigibilidade de licitação, os contratos para a prestação de serviços técnicos profissionais especializados deverão, preferencialmente, ser celebrados mediante a realização de concorrência, com estipulação prévia de prêmio ou remuneração.
- (D) No sistema de registro de preços, os preços registrados serão publicados bimestralmente para orientação da Administração na imprensa oficial.

- (E) Será dada publicidade, trimestralmente, em órgão de divulgação oficial, à relação de todas as compras feitas pela Administração, Direta ou Indireta, de maneira a clarificar a identificação do bem comprado, seu preço unitário, a quantidade adquirida, o nome do vendedor e o valor total da operação.

Raciocínio Lógico

51. Sete candidatos a uma vaga em uma empresa (identificados pelas iniciais de seus nomes: A, B, C, D, E, F e G) foram convocados para uma dinâmica. Três desses candidatos já estavam previamente contratados, porém nenhum deles sabia desse fato. Havia ainda mais duas vagas para serem preenchidas. Para a primeira dinâmica proposta pela empresa, foi formado um grupo com cinco pessoas, sendo que os candidatos A e B não foram incluídos. Em seguida, foi formado um segundo grupo para participar da segunda dinâmica, também com cinco pessoas, sendo que os candidatos C e D não foram incluídos. Sabendo que os três candidatos previamente contratados fizeram parte dos dois grupos citados anteriormente, então as outras duas vagas poderão ser preenchidas pelos candidatos
- (A) A e F.
(B) B e G.
(C) C e B.
(D) D e E.
(E) E e A.

52. Para obter a informação sobre a origem de seus funcionários, identificados pelo estado em que nasceram, uma empresa selecionou um grupo de funcionários. Após essa seleção, foi obtido que $\frac{1}{3}$ das pessoas eram do estado da Bahia, $\frac{3}{7}$ das pessoas eram do estado do Rio de Janeiro, $\frac{1}{9}$ das pessoas eram do estado do Paraná e o restante era do estado de Minas Gerais.

Dessa forma, a fração que representa a quantidade de pessoas originárias do estado do Rio de Janeiro em relação à quantidade de pessoas originárias do estado da Bahia é igual a

- (A) $\frac{9}{7}$.
(B) $\frac{1}{10}$.
(C) $\frac{4}{9}$.
(D) $\frac{9}{4}$.
(E) $\frac{4}{7}$.

53. No último recenseamento de um bairro em uma grande cidade, foram utilizadas folhas de sulfite, com um questionário impresso em cada folha, e canetas esferográficas para preencher os questionários, tal que foram utilizadas 1000 canetas e a quantidade de folhas de sulfite utilizada foi o quádruplo da quantidade de canetas. O custo de cada caneta foi de R\$ 2,00 e o custo de cada folha de sulfite foi de R\$ 0,10. Em um novo recenseamento nesse mesmo bairro, ficou estipulado que serão utilizados $\frac{1}{4}$ a menos de canetas e a metade de folhas de sulfite utilizadas no recenseamento anterior, mantido o custo de cada folha de sulfite, porém com um aumento de R\$ 0,05 no custo de cada caneta. Dessa forma, a economia no custo total para esse novo recenseamento será de

- (A) R\$ 1.122,75.
- (B) R\$ 662,50.
- (C) R\$ 507,45.
- (D) R\$ 1.258,73.
- (E) R\$ 362,25.

54. Duas competidoras irão fazer uma disputa particular em uma pista circular de atletismo, cujo comprimento total é de 600 metros. Por meio de medições em disputas anteriores, a corredora Alice corre a uma velocidade de 120 metros por minuto e a corredora Tereza corre a uma velocidade de 180 metros por minuto. Ambas correm no mesmo sentido da pista. Como Tereza é mais rápida que Alice, fica estipulado que Alice iniciará a corrida em um ponto da pista e Tereza somente entrará na competição no exato momento em que Alice passar novamente no ponto de partida, ou seja, quando ela completar 1 volta. Dado o início da prova, a quantidade de voltas completas que Tereza dará na pista até

encontrar Alice no ponto de partida pela terceira vez será igual a

- (A) 15 voltas.
- (B) 6 voltas.
- (C) 9 voltas.
- (D) 3 voltas.
- (E) 12 voltas.

55. Se não é verdade que na próxima quinta-feira não haverá jogo de futebol e também não é verdade que no próximo domingo vai chover, então é correto afirmar que

- (A) na próxima quinta-feira não haverá jogo ou no próximo domingo vai chover.
- (B) se não houver jogo na próxima quinta-feira, então não vai chover no próximo domingo.
- (C) se chover no próximo domingo, então não haverá jogo na próxima quinta-feira.
- (D) ou na próxima quinta-feira haverá jogo ou no próximo domingo não vai chover.
- (E) haverá jogo na próxima quinta-feira e não vai chover no próximo domingo.

56. Comparando a agilidade de quatro rendeiras na confecção de uma toalha de mesa, sabe-se que Fabiana não é mais ágil que Paula, ou Claudia ou Larissa é a rendeira menos ágil entre as quatro, Larissa não é mais ágil do que Paula e é mais ágil do que duas outras rendeiras. Sabendo que a cada duas rendeiras as agilidades são sempre diferentes, é correto afirmar que

- (A) Paula é a rendeira menos ágil.
- (B) Larissa é mais ágil que Paula.
- (C) Fabiana é mais ágil que Larissa.
- (D) Paula é a rendeira mais ágil.
- (E) Claudia é a rendeira menos ágil.

57. Se não é verdade que, se o carro é um Fiesta, então sua cor não é azul, é correto afirmar que

- (A) o carro é um Fiesta e sua cor é azul.
- (B) ou o carro não é um Fiesta ou sua cor não é azul, nunca ambos.
- (C) se o carro é azul, então ele não é um Fiesta.
- (D) ou o carro é um Fiesta ou o carro é azul, nunca ambos.
- (E) o carro não é um Fiesta e sua cor não é azul.

58. O CNPq concede bolsas para a formação de recursos humanos no campo da pesquisa científica e tecnológica, em universidades, institutos de pesquisa, centros tecnológicos e de formação profissional, tanto no Brasil como no exterior. Confira alguns valores de bolsas no Brasil.

Tabela de Valores de Bolsas no Brasil

Modalidade	Valor (R\$)
Apoio Técnico à Pesquisa	550,00
Doutorado	2.200,00
Iniciação Científica	400,00
Iniciação Científica Júnior	100,00
Iniciação Tecnológica (PIBITI)	400,00
Mestrado	1.500,00
Pós-doutorado Sênior	4.400,00
Pós-doutorado Júnior	4.100,00
Pós-doutorado Empresarial	4.100,00

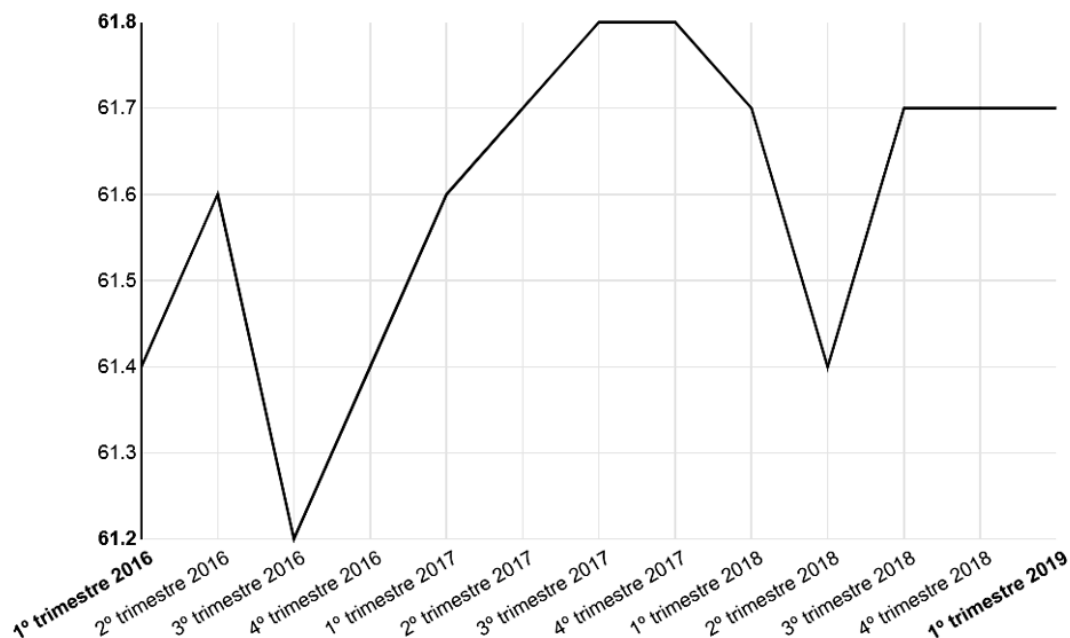
Público Alvo: Jovens de ensino médio e superior, em nível de pós-graduação, interessados em atuar na pesquisa científica, e especialistas para atuarem em Pesquisa e Desenvolvimento (P&D) nas empresas e centros tecnológicos. (Disponível em: <<http://cnpq.br/no-pais/>>. Acesso em 28 de junho de 2019).

Considerando os dados acima e sabendo que dois jovens foram contemplados, cada um com uma bolsa, tal que a soma dos valores das duas bolsas está entre R\$ 3.000,00 e R\$ 4.000,00, então as duas bolsas concedidas foram de

- (A) Iniciação Científica Júnior e Pós-doutorado Sênior.
- (B) Iniciação Tecnológica (PIBITI) e Doutorado.
- (C) Iniciação Científica e Pós-doutorado Empresarial.
- (D) Mestrado e Doutorado.
- (E) Apoio Técnico à Pesquisa e Mestrado.

59. No site do Instituto Brasileiro de Geografia e Estatística (IBGE), por meio da Pesquisa Nacional por Amostra de Domicílios Contínua - Divulgação Trimestral - 1º trimestre 2019 (PNADC/T), foi divulgado o seguinte gráfico que indica a taxa de participação na força de trabalho das pessoas de 14 anos ou mais de idade, na semana de referência (%) – Brasil:

PNADC/T - Taxa de participação na força de trabalho das pessoas de 14 anos ou mais de idade, na semana de referência (%) - Brasil



(Disponível em: <<https://sidra.ibge.gov.br/home/pnadct>>. Acesso em: 28 de junho de 2019).

Pelas informações obtidas por meio desse gráfico, assinale a alternativa correta.

- (A) A menor taxa de participação na força de trabalho das pessoas de 14 anos ou mais de idade ocorreu no 4º trimestre de 2017.
- (B) Do 1º trimestre de 2018 até o 2º trimestre do mesmo ano, houve um aumento na taxa de participação na força de trabalho das pessoas de 14 anos ou mais de idade.
- (C) A maior taxa de participação na força de trabalho das pessoas de 14 anos ou mais de idade ocorreu no 3º trimestre de 2016.
- (D) A taxa de participação na força de trabalho das pessoas de 14 anos ou mais de idade manteve-se constante entre o 3º e o 4º trimestre de 2017.
- (E) Do 1º trimestre de 2016 até o 1º trimestre de 2019, houve uma variação de 0,9 % na taxa de participação na força de trabalho das pessoas de 14 anos ou mais de idade.
60. Em um bairro de uma cidade existem 10 casas, numeradas de 1 a 10. Duas pessoas visitaram algumas dessas casas, para divulgação de um novo produto no mercado. Sabe-se que a primeira pessoa visitou as casas de número ímpar e a segunda visitou as casas cuja numeração era um número par e divisor de 8. Dessa forma, as casas que NÃO foram visitadas foram as que possuem as respectivas numerações iguais a
- (A) 2 e 10.
- (B) 4 e 10.
- (C) 6 e 10.
- (D) 2 e 8.
- (E) 4 e 8.

.....
ATENÇÃO!
NÃO SE ESQUEÇA de marcar, na Folha de Respostas, o número de sua prova indicado na capa deste caderno.
.....



FUNDAÇÃO INSTITUTO BRASILEIRO DE GEOGRAFIA E ESTATÍSTICA - IBGE

EDITAL DE PROCESSO SELETIVO SIMPLIFICADO Nº02/2019

NÍVEL SUPERIOR

ANALISTA CENSITÁRIO

GESTÃO E INFRAESTRUTURA

Nome do Candidato _____

Inscrição _____

COMPOSIÇÃO DO CADERNO

Língua Portuguesa 01 a 15

Conhecimentos Específicos 16 a 50

Raciocínio Lógico 51 a 60

INSTRUÇÕES

1. Confira seu nome, o número do seu documento e o número de sua inscrição na Folha de Respostas. Além disso, não se esqueça de conferir seu Caderno de Questões quanto a falhas de impressão e de numeração. Preencha os campos destinados à assinatura e ao número de inscrição. Qualquer divergência, comunique ao fiscal.
2. O único documento válido para avaliação é a Folha de Respostas. Só é permitido o uso de caneta esferográfica transparente de cor azul ou preta para o preenchimento da Folha de Respostas, que deve ser preenchida da seguinte maneira: ●
3. O prazo de realização da prova é de 4 (quatro) horas, incluindo a marcação da Folha de Respostas. Após 60 (sessenta) minutos do início da prova, o candidato estará liberado para utilizar o sanitário ou deixar definitivamente o local de aplicação, não podendo, no entanto, levar o Caderno de Questões e nenhum tipo de anotação de suas respostas.
4. Ao término de sua prova, comunique ao fiscal, devolvendo-lhe a Folha de Respostas devidamente preenchida e assinada. O candidato somente poderá levar consigo o Caderno de Questões, ao final da prova, se sua saída ocorrer nos 30 (trinta) minutos anteriores ao horário determinado para o término das provas.
5. Os 3 (três) últimos candidatos só poderão retirar-se da sala juntos, após assinatura do Termo de Fechamento do envelope de retorno.
6. As provas e os gabaritos preliminares estarão disponíveis no site do Instituto AOCP - www.institutoaocp.org.br, no dia posterior à aplicação da prova.
7. O NÃO cumprimento a qualquer uma das determinações constantes em Edital, no presente Caderno ou na Folha de Respostas incorrerá na eliminação do candidato.

PROVA

03

LEMBRE-SE DE MARCAR O NÚMERO
CORRESPONDENTE À SUA PROVA NA
FOLHA DE RESPOSTAS!

ATENÇÃO!

NÃO SE ESQUEÇA de marcar, na Folha de Respostas, o número de sua prova indicado na capa deste caderno.

Língua Portuguesa

TEXTO I

O último paradoxo da vida moderna: por que ficamos presos ao celular, mas odiamos falar por telefone?

Não deixe uma ligação rápida arruinar uma longa e confusa série de mensagens de WhatsApp

SILVIA LÓPEZ

Para iniciar um texto, Hemingway dizia a si mesmo: “Escreva a frase mais verdadeira que você conhece”. Neste caso, seria: a psicóloga Cristina Pérez, do Siquia, respondeu por meio de mensagens de áudio às perguntas que lhe enviamos por email. Essa curiosidade metajornalística não tem importância, não altera a qualidade de suas respostas, só ilustra a variedade e fluidez de opções com as quais podemos nos comunicar hoje. Recebemos um email? Respondemos com um áudio. Chegou um áudio de WhatsApp? Respondemos com um texto. Recebemos um telefonema? Não respondemos. Esperamos. Esperamos. E escrevemos: “Você me ligou? Não posso falar, é melhor me escrever”. O paradoxo do grande vício do século XXI é que estamos presos ao celular, mas temos fobia das ligações telefônicas.

A ligação telefônica – que, até não muito tempo atrás, esperávamos com alegria ou tolerávamos com resignação, mas nunca evitávamos com uma rejeição universal – se tornou uma presença intrusiva e incômoda, perturbadora e tirânica, mas por quê? “Uma das razões é que quando recebemos uma ligação, ela interrompe algo que estávamos fazendo, ou simplesmente não temos vontade de falar nesse momento”, explica a psicóloga Cristina Pérez. “Por outro lado, também exige de nós uma resposta imediata, ao contrário do que ocorre na comunicação escrita, que nos permite pensar bem no que queremos dizer. E a terceira razão seria o fato de não poder saber de antemão qual será a duração do telefonema”, acrescenta.

Adaptado de: <https://brasil.elpais.com/brasil/2019/06/01/tecnologia/1559392400_168692.html>. Acesso em: 25 jun. 2019

As questões de 1 a 10 se referem ao texto I.

- 1. Assinale a alternativa que apresenta a reescrita adequada, sintática e semanticamente, para o seguinte excerto: “O paradoxo do grande vício do século XXI é que estamos presos ao celular, mas temos fobia das ligações telefônicas.”.**
 - (A) O paradoxo do grande vício do século consecutivo é estarmos presos ao celular, mas termos fobia das ligações telefônicas.
 - (B) A incoerência do grande vício do século consecutivo é estarmos presos ao celular, mas ficarmos doentes sem as ligações telefônicas.
 - (C) No século XXI, é contraditório estar preso ao celular por ter medo das ligações telefônicas.
 - (D) Temos medo das ligações telefônicas porque estamos presos ao celular; esse é o paradoxo do grande vício do século XXI.
 - (E) Estarmos presos ao celular, mas termos fobia das ligações telefônicas é a incoerência do grande vício do século vigente.
- 2. Assinale a alternativa em que a expressão em destaque NÃO indica circunstância de tempo, NÃO sendo, portanto, um adjunto adverbial de tempo ou uma oração subordinada adverbial temporal.**
 - (A) “O paradoxo do grande vício do século XXI é que estamos presos ao celular [...]”.
 - (B) “[...] quando recebemos uma ligação, ela interrompe algo [...]”.
 - (C) “[...] simplesmente não temos vontade de falar nesse momento [...]”.
 - (D) “[...] saber de antemão qual será a duração do telefonema [...]”.
 - (E) “[...] opções com as quais podemos nos comunicar hoje.”.

- 3. Qual é a relação de sentido estabelecida no excerto “Não posso falar, é melhor me escrever”?**
- (A) Contraste.
(B) Causalidade.
(C) Adição.
(D) Conformidade.
(E) Finalidade.
- 4. Em “[...] esperávamos com alegria ou tolerávamos com resignação, mas nunca evitávamos com uma rejeição universal.”,**
- (A) há uma relação de oposição entre esperar com alegria e tolerar com resignação.
(B) a acentuação de “esperávamos”, “tolerávamos” e “evitávamos” se deve ao fato de serem verbos.
(C) não é possível identificar os sujeitos dos verbos presentes no excerto.
(D) todos os verbos apresentam o mesmo sujeito e estão no mesmo modo.
(E) o uso da vírgula é facultativo.
- 5. É um sinônimo da palavra “ligação” o vocábulo**
- (A) “email”.
(B) “telefone”.
(C) “telefonema”.
(D) “celular”.
(E) “áudio de WhatsApp”.
- 6. A repetição de “esperamos”, em “Recebemos um telefonema? Não respondemos. Esperamos. Esperamos. E escrevemos: [...]”,**
- (A) indica que o retorno é dado depois de um tempo considerável após a ligação.
(B) indica que o retorno é dado imediatamente após a ligação.
(C) não dá nenhum indício sobre o tempo transcorrido até o retorno.
(D) deveria ser eliminada, pois se trata de um problema de coesão.
(E) enfatiza a pouca frequência com que se recebem telefonemas.
- 7. Assinale a alternativa que apresenta a reescrita adequada, sintática e semanticamente, para o seguinte excerto: “[...] ‘Você me ligou? Não posso falar, é melhor me escrever’.”.**
- (A) Você ligou-me? Não posso falar, é melhor eu escrever.
(B) Ligastes para mim? Não posso falar, escreve a mim que és melhor.
(C) Me ligou? Não posso falar, escrever é melhor para mim.
(D) Você ligou para mim? Não posso falar, é melhor que me escreva.
(E) Me ligou? Não posso falar, me escreve que é melhor.
- 8. Em relação ao excerto “Não deixe uma ligação rápida arruinar uma longa e confusa série de mensagens de WhatsApp”, é correto afirmar que**
- (A) ele é um conselho para as pessoas não receberem ligações rápidas.
(B) a palavra “rápida” caracteriza “ligação” enquanto as palavras “longa”, “confusa” e “série” caracterizam “mensagens”.
(C) ele é irônico, pois o conteúdo que se pretende veicular possui o significado contrário daquilo que é posto.
(D) ele está no modo imperativo, indicando um pedido para que as pessoas não diminuam o uso de WhatsApp.
(E) a palavra “série” está sendo utilizada com o mesmo significado que na frase: “A antiga 5ª série equivale hoje ao 6º ano”.
- 9. De acordo com o texto, é correto afirmar que**
- (A) a autora seguiu o conselho de Hemingway.
(B) a curiosidade metajornalística citada pela autora não tem importância para a temática do texto.
(C) não há resposta para a pergunta presente no título.
(D) a ligação telefônica está presente na vida das pessoas.
(E) respondemos e-mails com áudios porque nos comunicamos melhor oralmente do que pela escrita.
- 10. No segundo parágrafo do texto, a informação entre travessões**
- (A) descreve três atitudes negativas em relação à ligação telefônica.
(B) é constituída por três ações que se excluem mutuamente.
(C) é constituída por verbos que não requerem um complemento.
(D) restringe o sentido do termo “ligação telefônica”.
(E) completa o sentido do termo “ligação telefônica”.

TEXTO II

Você é o que você se diz: a ciência do diálogo interno

PILAR JERICÓ

Se você quiser variar a percepção que tem sobre você, precisa alterar seu diálogo interior. A forma como você conversa consigo mesmo condiciona sua capacidade de enfrentar as dificuldades e determina a tomada de decisões. A autoafirmação, ou pensar coisas positivas sobre nós mesmos, é uma ferramenta muito útil para reforçar a autoestima. Entretanto, não vale qualquer comentário. Já ficou comprovado que frases como “aguento tudo” ou “sou uma pessoa superagradável” não ajudam muito. Quem as expressa não está realmente convencido disso, então essas expressões podem ter efeito contrário. A ciência do diálogo interior nos dá pistas sobre as técnicas que tornam nossas autoafirmações eficazes: devemos imaginar futuras situações agradáveis e nos tratar na segunda pessoa.

Adaptado de: <https://brasil.elpais.com/brasil/2019/05/05/ciencia/1557083642_455016.html>. Acesso em: 25 jun. 2019.

As questões de 11 a 15 se referem ao texto II.

11. Assinale a alternativa em que a palavra formada, assim como “autoafirmação” e “superagradável”, é grafada sem hífen.

- (A) auto + hipnose.
- (B) auto + observação.
- (C) super + herói.
- (D) super + requintado.
- (E) super + salário.

12. De acordo com o texto, é correto afirmar que

- (A) conversar consigo mesmo pode combater a depressão.
- (B) a imaginação é importante no processo de melhora da autoestima.
- (C) as pessoas que não conversam com elas mesmas não têm autoestima.
- (D) falar consigo mesmo na primeira pessoa não ajuda porque isso não reflete como as outras pessoas falam conosco.
- (E) o diálogo interior só é possível a partir de um diálogo exterior, no qual está presente uma segunda pessoa.

13. Assinale a alternativa que apresenta um exemplo de tratamento na segunda pessoa do singular.

- (A) Eu sou capaz de vencer meus desafios.
- (B) Juntos, nós podemos transformar o mundo.
- (C) Você é forte para superar os obstáculos da vida.
- (D) As pessoas não vão abalar minha autoconfiança.
- (E) Sempre é possível evoluir como ser humano.

14. Em “Se você quiser variar a percepção que tem sobre você, precisa alterar seu diálogo interior.”, a relação de sentido que se estabelece é de

- (A) condição.
- (B) tempo.
- (C) conclusão.
- (D) concessão.
- (E) contraste.

15. Em “A forma como você conversa consigo mesmo condiciona sua capacidade [...]”, o termo em destaque poderia ser substituído adequadamente por

- (A) “que”.
- (B) “cuja”.
- (C) “onde”.
- (D) “para qual”.
- (E) “pela qual”.

Conhecimentos Específicos

16. Assinale a alternativa que apresenta o departamento ou função da área de recursos humanos que tem o papel de definir oportunidades oferecidas pela empresa para as pessoas crescerem nessa empresa.

- (A) Plano de carreira.
- (B) Descrição de cargo.
- (C) Estrutura hierárquica.
- (D) Avaliação de desempenho.
- (E) Competências e capacitação.

17. Assinale a alternativa que apresenta um conceito de recursos humanos nas organizações.

- (A) É a área que tem a especificidade de prover os suprimentos necessários a todos os departamentos no sentido de permitir que as pessoas realizem seu trabalho com eficiência.
- (B) É a área que tem a autoridade para realizar licitações e celebrar contratos de aquisições de materiais com a finalidade de atender às demandas de produção das pessoas.
- (C) É a área que tem a peculiaridade de aplicar as funções da administração a cada uma das áreas da empresa e a cada um de seus departamentos, apoiando o desenvolvimento das pessoas.
- (D) É a área que tem vinculação direta com a alta administração para desenvolver estudos e análises que embasem decisões sobre o desenvolvimento de produtos para a realização das vendas pessoais.
- (E) É a área que tem a necessidade de envolvimento com os vendedores em seu relacionamento com os clientes atuais e potenciais para promover o crescimento e o desenvolvimento da organização.

18. Para a implantação de um sistema informatizado de gestão de informações de pessoal no IBGE, é necessário, dentre outros, um elemento imprescindível que possibilita aumentar o conhecimento das atividades organizacionais, a confiança, as percepções de satisfação no trabalho, o compromisso com a organização, o desempenho e a aceitação das mudanças organizacionais. Qual é esse elemento que pode ser definido como um valor intrínseco, porque desenvolve as mais elevadas capacidades humanas e ampara o caráter moral ativo, direcionado ao bem público?

- (A) Participação.
- (B) Cidadania.
- (C) Maturidade.
- (D) Empoderamento.
- (E) Otimização.

19. Analisando o cenário do serviço público federal, incluindo o IBGE, é correto afirmar que, por ser absolutamente imprescindível ao país, o custeio dos servidores públicos deve ser tratado como

- (A) uma solução que demanda cortes de gastos.
- (B) uma melhor alocação e dimensionamento da força de trabalho.
- (C) uma questão que requer intensos esforços de qualificação.
- (D) uma necessidade de transferência para a iniciativa privada.
- (E) uma quantia que indica maior alocação de trabalho aos servidores.

20. A área de recursos humanos pode ser conceituada de forma clássica como o homem certo, no lugar certo e no momento certo. De que forma organizações como o IBGE podem e devem ajudar as pessoas para a atuação em um ambiente de mudanças?

- (A) Estabelecendo alvos incrementais e adaptados.
- (B) Condicionando a remuneração à adaptação.
- (C) Proporcionando atividades de mitigação do estresse.
- (D) Desenvolvendo suas habilidades e autoconfiança.
- (E) Administrando seu pessoal como recurso de produção.

21. Administrar as pessoas dentro de uma organização não é prioridade da função de recursos humanos, pois depende de todos os indivíduos que estão envolvidos com os processos administrativos e produtivos, tendo em vista o duplo papel da administração de recursos humanos dentro da estrutura organizacional. A que se refere esse duplo papel que torna a função de recursos humanos atípica em relação às demais?

- (A) Sua atuação particular e holística.
- (B) Sua abordagem localizada e global.
- (C) Sua posição de linha e assessoria.
- (D) Sua função de recrutar e contratar.
- (E) Sua atribuição de controle e promoção.

22. Não há um campo comum que defina claramente o que a administração de recursos humanos deve fazer, porém é possível estabelecer princípios que podem ser usados pelos administradores de recursos humanos em soluções de problemas e tomadas de decisão em sua área de ação. Assinale a alternativa que apresenta alguns desses princípios.

- (A) Prospectores, automação, ambivertido e transmissores da mensagem organizacional.
- (B) Transformadores de ideias em ações, experimentadores e imutabilidade empresarial.
- (C) Objetivos desafiadores, hábitos de sucesso, reason why e otimismo realista na empresa.
- (D) Melhoradores contínuos, receptividade ao feedback, disciplina, foco e gratidão à empresa.
- (E) Facilitadores de mudança, mediação, autoridade e alinhamento organizacional.

23. Pedro é o Administrador Patrimonial do IBGE e precisa movimentar materiais, trocando a responsabilidade de uma unidade organizacional para outra, dentro do próprio IBGE. Qual é a ocorrência patrimonial que ele precisa realizar?

- (A) Passagem.
- (B) Contrapartida.
- (C) Transferência.
- (D) Reincorporação.
- (E) Transformação física.

24. Luiza precisa incorporar e registrar um equipamento fotocopador recebido pelo IBGE na forma de doação de uma indústria produtora. Para registrar esse bem, qual é o gênero patrimonial em que ele deverá ser classificado?

- (A) Bem novo.
- (B) Bem móvel.
- (C) Bem cedido.
- (D) Bem doado.
- (E) Bem industrial.

25. Qual é a atividade realizada nas organizações cujo propósito é prover estoque de materiais do tipo específico, na quantidade certa, para o lugar certo, no tempo certo e pelo mínimo de custo?

- (A) Armazenamento de materiais.
- (B) Inventário de materiais.
- (C) Atendimento de materiais.
- (D) Transporte de materiais.
- (E) Especificação de materiais.

26. Márcio é o responsável pelo controle dos estoques de materiais do IBGE e procura desempenhar essa atividade registrando as entradas e saídas de materiais com competência e responsabilidade, sabendo que o primeiro passo para ter um bom controle de estoque é ter um bom e confiável sistema que lhe auxilie na administração de todo material, sendo necessário organizar suas principais funções. Assinale a alternativa que apresenta algumas dessas funções que precisam ser organizadas pelo responsável em controlar os estoques.

- (A) Determinar os horários de recebimento e de entrega de materiais; acolher com prioridade os pedidos dos principais superiores hierárquicos; questionar os setores de produção e de vendas a respeito da real necessidade de materiais que solicitam e fixar quantitativos e qualitativos com base histórica.
- (B) Determinar o número de itens que deve permanecer em estoque; quando se deve reabastecer o estoque; a quantidade de estoque necessária em certo período; acionar o departamento de compras para as aquisições de materiais; manter inventários periódicos e identificar e retirar do estoque os itens danificados.

- (C) Determinar os recebimentos, o armazenamento e o atendimento de materiais de acordo com os maiores produtores dos itens; fiscalizar as aplicações de materiais realizadas pelos funcionários de todos os níveis da organização e procurar conhecer o desenvolvimento científico e tecnológico dos materiais.
- (D) Determinar a perfeita composição e dimensão de cada embalagem de materiais para adequá-la à melhor forma de armazenamento; compartilhar os sistemas de registros de materiais existentes na organização com os controladores de outras organizações, com o objetivo de conhecer os diversos sistemas.
- (E) Determinar os níveis mínimos e máximos de valor dos materiais a serem acondicionados no armazém; verificar as movimentações de materiais realizadas pelos competidores no mercado e assumir todos os desvios e quebras de materiais, seja por roubo, perda ou danos causados nos transportes dos fornecedores.

27. Dentre os princípios básicos da produção de material, há aqueles que fazem parte da administração de materiais e que possuem um subsistema ou setor típico que se preocupa sobremaneira com o estoque de materiais, assegurando que os materiais exigidos pela produção estejam à disposição nas quantidades certas e nos períodos desejados. Qual é esse setor ou subsistema da administração de materiais?

- (A) Administração de movimentações de materiais.
- (B) Administração de especificações de materiais.
- (C) Administração de qualidade de materiais.
- (D) Administração de estoques de materiais.
- (E) Administração de compras de materiais.

28. No desempenho de sua função de comprador do IBGE, José precisa definir com quantos e com quais fornecedores irá negociar e trabalhar. Se ele necessita adquirir alguns materiais com uma especificação bastante singular e com certas exigências particulares de qualidade e desempenho para o IBGE, ou seja, necessita de fornecedores exclusivos para esses materiais, qual será a forma de gestão de fornecedores que José poderá adotar?

- (A) Supplier network.
- (B) Multiple sourcing.
- (C) Global sourcing.
- (D) Single sourcing.
- (E) Extra sourcing.

29. Conforme informações do departamento de compras do IBGE, a quantidade adquirida em cada pedido de tablets para serem utilizados na coleta de dados é de 8 unidades. Segundo dados obtidos nesse departamento, a demanda anual é de 400 unidades ao custo unitário de R\$ 200,00 cada tablet. Além disso, devido a sua enxuta estrutura de compras, o custo de emissão de cada pedido pelo departamento de compras é de apenas R\$ 0,375. Considere um custo de manter de 6% ao ano do valor unitário do tablet e apure o Lote Econômico de Compras de tablets, em seguida, assinale a alternativa que apresenta a quantidade de compras de tablets por pedido.

- (A) 4 unidades por pedido.
- (B) 5 unidades por pedido.
- (C) 7 unidades por pedido.
- (D) 8 unidades por pedido.
- (E) 16 unidades por pedido.

30. O orçamento público possui uma grande variedade de termos que são utilizados por seus elaboradores e interessados nas finanças públicas. Relacione alguns desses termos a seus significados e assinale a alternativa com a sequência correta.

1. Alienação de bens.
2. Ordenador de despesa.
3. Aspecto qualitativo do patrimônio.
4. Aspecto quantitativo do patrimônio.
5. Homologação.

() Autoridade de cujos atos resultam autorização para efetuar despesas, emissão de empenho, assinatura de contratos e convênios, homologação de licitações, realização de pagamentos etc.

() Um conjunto de bens, créditos, débitos, dotações e previsões que, em determinado momento, encontram-se à disposição do ente público, concorrendo para a realização de seus fins.

() Processo administrativo de venda de bens móveis e imóveis, passando a transferência de domínio de bens públicos a terceiros.

() Ato da autoridade administrativa superior, confirmando o julgamento das propostas concorrentes e possibilitando a adjudicação.

() Fundo de valores constituído pela expressão monetária dos elementos Ativo, Passivo e Situação Líquida.

- (A) 1 – 3 – 4 – 5 – 2.
(B) 3 – 4 – 5 – 1 – 4.
(C) 5 – 4 – 3 – 1 – 2.
(D) 4 – 1 – 2 – 3 – 5.
(E) 2 – 3 – 1 – 5 – 4.

31. Nos dias de hoje, é possível reconhecer o orçamento público como um instrumento que apresenta múltiplas funções. Além da clássica função de controle político, o orçamento apresenta outras funções do ponto de vista administrativo, gerencial, contábil e financeiro. Qual é a função incorporada mais recentemente no Brasil que está ligada à técnica de orçamento por programas?

- (A) Função de coordenação.
(B) Função de gerenciamento.
(C) Função de fiscalização.

- (D) Função de planejamento.
(E) Função de realização.

32. Dentre as técnicas orçamentárias, qual é a que se caracteriza por um processo orçamentário que se apoia na necessidade de justificativa de todos os programas cada vez que se inicia um novo ciclo orçamentário, com análise, revisão e avaliação de todas as despesas propostas?

- (A) Orçamento de desempenho.
(B) Orçamento com teto fixo.
(C) Orçamento base-zero.
(D) Orçamento incremental.
(E) Orçamento inercial.

33. No gerenciamento de projetos, o planejamento define os caminhos para que os objetivos do projeto sejam alcançados. Assinale a alternativa que apresenta a característica da etapa de planejamento que requer a consideração de todos os envolvidos no projeto.

- (A) Ser um elemento dinâmico que pode sofrer modificações no decorrer do ciclo de vida do projeto.
(B) Ser um elemento estrutural que deve ser cumprido ao longo do ciclo de vida do projeto.
(C) Ser um elemento metódico que proporciona o alcance das metas empresariais traçadas.
(D) Ser um elemento indispensável que implica na adoção de rigor em sua implementação.
(E) Ser um elemento complexo que tipifica a complexidade de todas as organizações.

34. O controle é uma etapa vital no gerenciamento de projetos, pois permite a percepção de problemas em tempo hábil para solucioná-los. Assinale a alternativa que apresenta algumas das atividades típicas do processo de controle.

- (A) Identificação da dimensão do projeto e gerenciamento das aquisições de produtos e das mudanças no projeto.
(B) Acompanhamento da temperatura e gerenciamento das condições climáticas e meteorológicas do ambiente.
(C) Definição da estrutura organizacional e gerenciamento dos recursos materiais e humanos da empresa.
(D) Obtenção da aceitação do escopo e gerenciamento de partes interessadas e da equipe do projeto.

(E) Visualização da finalização do projeto e gerenciamento das fontes de financiamento do projeto.

35. O diretor do departamento de treinamento do IBGE realiza suas atividades com competência e sempre procura, em suas relações interpessoais, favorecer o trabalho da equipe, incentivando as discussões informais, construindo um ambiente com confiança mútua e envolvimento grupal intenso. De acordo com esse cenário, qual é o estilo de liderança desse diretor?

- (A) Autoritário benevolente.
- (B) Autoritário coercitivo.
- (C) Participativo.
- (D) Consultivo.
- (E) Liberal.

36. Liderança pode ser definida como a capacidade de influenciar um grupo em direção ao alcance dos objetivos. Qual é a condição necessária e básica para que o líder promova a motivação aos seus liderados?

- (A) O líder precisa estar motivado.
- (B) O líder precisa ser exigente.
- (C) O líder precisa ser impositivo.
- (D) O líder precisa estar convencido.
- (E) O líder precisa ficar imparcial.

37. O poder está alicerçado em estruturas denominadas bases de poder. Assinale a alternativa que apresenta algumas das características da base do poder de influência.

- (A) Relaciona-se ao resultado de uma ação que concorda com as relações de poder entre os atores, gerando reconhecimentos e incentivos nas organizações.
- (B) Resulta do receio que as pessoas têm em causar resultados negativos, procedente de uma ação não concordante com a relação de poder.
- (C) É consequência da posição hierárquica de uma pessoa na organização, resultando na aceitação das demais pessoas.
- (D) É aquele que resulta do carisma que uma pessoa possui, gerando uma relação positiva de influência do carismático sobre as demais pessoas com a ocorrência de mudanças.

(E) É resultado do controle exercido pelas pessoas em decorrência de suas competências, habilidades ou conhecimentos adquiridos na realização de suas atividades e na vida social.

38. A relação entre tecnologia e estratégia empresarial é perceptível de maneira especial em relação ao papel estratégico da tecnologia da informação. Quais são os impactos que a evolução da tecnologia da informação tem provocado nas estratégias das empresas?

- (A) Mudanças nos clientes da empresa, exigências de financiamentos e investimentos financeiros e alterações da composição societária e de direção das empresas.
- (B) Mudanças nos processos de negócios, exigências de habilidades e de recursos humanos e alterações da estrutura da organização e da estratégia de negócios.
- (C) Mudanças nos relacionamentos da empresa, exigências de incrementos visuais e publicitários e alterações da estrutura física e produtiva das organizações.
- (D) Mudanças nos instrumentos regulatórios dos negócios, exigências de maiores incentivos aos fornecedores e alterações do padrão cultural dos empresários.
- (E) Mudanças nos mecanismos dos equipamentos de produção, exigências de criação de meios fiscalizatórios e alterações do status econômico e social de seus dirigentes.

39. A Teoria Geral dos Sistemas possibilitou ao profissional de administração desenvolver meios de análise e diagnóstico a partir de uma abordagem globalizante. Quais foram alguns dos instrumentos que a Teoria Geral dos Sistemas proporcionou o desenvolvimento no contexto administrativo?

- (A) Agrupamento departamental para soluções especializadas, fluxos de problemas tendo em vista os objetivos finais, métodos voltados para promoção e estruturas organizacionais dependentes.
- (B) Agrupamento de partes autônomas independentes para operações, fluxos de sistemas tendo em vista os subsistemas, métodos voltados para controles e estruturas departamentalizadas.
- (C) Agrupamento para efetivação, fluxos de informações tendo em vista o controle operacional, métodos voltados para publicização e estruturas de cargos e salários por tempo de emprego.
- (D) Agrupamento para coordenação, fluxos de comunicação tendo em vista a tomada de decisão, métodos voltados para objetivos e estruturas organizacionais dinâmicas e definidamente interdependentes.
- (E) Agrupamento para tarefas, fluxos de materiais ininterruptos na produção, métodos voltados para construção de ambientes climatizados e estruturas desenhadas para acomodar processos independentes.

40. No processo de avaliação de programas de treinamento, quais são os níveis que requerem mais tempo para serem avaliados?

- (A) Reação e aprendizagem.
- (B) Comportamento e reação.
- (C) Aprendizagem e resultados.
- (D) Comportamento e resultados.
- (E) Aprendizagem e comportamento.

41. No planejamento de processos seletivos, é importante a realização de um conjunto integrado de atividades, denominado técnicas de seleção, que envolve, dentre outros, os testes. Assinale a alternativa que apresenta os testes de seleção que proporcionam a possibilidade de análise simultânea de competências técnicas e comportamentais.

- (A) Testes psicológicos.
- (B) Testes situacionais.
- (C) Testes personalizados.
- (D) Testes de conhecimentos.
- (E) Testes de estrutura de cargos.

42. O Serviço Público Federal tem buscado prover suas necessidades de mão de obra utilizando formas de atingir seus objetivos com agilidade dos trabalhos, contando com maquinário, tecnologia e pessoal treinado e reciclado na execução das atividades-meio. Qual é a técnica, que tem sido utilizada com frequência e é livre de subordinação direta e de pessoalidade entre a administração pública e o trabalhador, que proporciona esse suprimento de pessoal?

- (A) Estágio.
- (B) Trainee.
- (C) Autonomia.
- (D) Home office.
- (E) Terceirização.

43. De modo geral, podemos conceituar a Administração Indireta como o conjunto de pessoas jurídicas (desprovidas de autonomia política) que, vinculadas à administração direta, têm competência para o exercício, de forma descentralizada, de atividades administrativas. Em relação ao tema, o Instituto Brasileiro de Geografia e Estatística (IBGE) é classificado como

- (A) empresa pública.
- (B) autarquia.
- (C) fundação pública.
- (D) sociedade de economia mista.
- (E) entidade paraestatal.

44. Assinale a alternativa correta de acordo com a Lei de Licitações (Lei nº 8.666/93).

- (A) A alienação de bens da Administração Pública, subordinada à existência de interesse público devidamente justificado, quando móveis, dependerá de avaliação prévia e de autorização legislativa.

- (B) Na concorrência para a venda de bens imóveis, a fase de habilitação limitar-se-á à comprovação do recolhimento de quantia correspondente a 10% (dez por cento) da avaliação.
- (C) Quando a lei autoriza a administração a, discricionariamente, deixar de realizar a licitação, temos a denominada licitação dispensada.
- (D) Nos casos em que couber a tomada de preços, a Administração poderá utilizar convite e, em qualquer caso, a concorrência.
- (E) Os bens arrematados serão pagos à vista ou no percentual estabelecido no edital, não inferior a 5% (cinco por cento) e, após a assinatura da respectiva ata lavrada no local do leilão, imediatamente entregues ao arrematante, o qual se obrigará ao pagamento do restante no prazo estipulado no edital de convocação, sob pena de perder em favor da Administração o valor já recolhido.

45. O Instituto Brasileiro de Geografia e Estatística (IBGE), buscando oferecer melhores condições a seus servidores no desempenho das atividades censitárias, iniciou procedimento licitatório na modalidade pregão para a aquisição de 500 (quinhentos) equipamentos de informática Desktop. Considerando a temática do Pregão e a legislação aplicável ao caso, assinale a alternativa correta.

- (A) No pregão, a habilitação do licitante ocorre em fase anterior à de julgamento e classificação.
- (B) A equipe de apoio ao pregoeiro deverá ser integrada em sua maioria por servidores ocupantes de cargo efetivo ou emprego da administração e sempre pertencentes ao quadro permanente da entidade promotora do evento, no caso o IBGE.
- (C) O prazo para apresentação das propostas não será inferior a 15 (quinze) dias úteis, contados a partir da publicação do aviso.
- (D) Se outro não estiver fixado no edital, o prazo de validade das propostas será de 90 (noventa) dias.
- (E) A União publicará, no Diário Oficial da União, o extrato dos contratos celebrados, no prazo de até 20 (vinte) dias da data de sua assinatura, com indicação da modalidade de licitação e de seu número de referência.

46. Referente à Lei nº 8.745/93, que dispõe sobre a contratação por tempo determinado para atender a necessidade temporária de excepcional interesse público, assinale a alternativa correta.

- (A) As contratações somente poderão ser feitas com observância da dotação orçamentária específica e mediante prévia autorização do Ministro de Estado sob cuja supervisão se encontrar o órgão ou a entidade contratante.
- (B) Na contratação de servidores temporários para a realização de recenseamentos e outras pesquisas de natureza estatística efetuadas pelo IBGE, é admitida a prorrogação dos respectivos contratos, desde que o prazo total não exceda a 4 (quatro) anos.
- (C) O contratado, nos termos dessa Lei, não poderá ser nomeado ou designado, exceto nos casos de substituição por prazo inferior a 45 (quarenta e cinco) dias, para o exercício de cargo em comissão ou função de confiança.
- (D) As infrações disciplinares atribuídas ao pessoal contratado nos termos dessa Lei serão apuradas mediante sindicância, concluída no prazo de trinta dias e assegurada ampla defesa.
- (E) A extinção do contrato, por iniciativa do órgão ou entidade contratante, decorrente de conveniência administrativa, importará no pagamento ao contratado de indenização correspondente a dois terços do que lhe caberia referente ao restante do contrato.

47. Em relação à Portaria nº 450, de 6 de novembro de 2002, do Ministério do Planejamento, Orçamento e Gestão, que estabelece normas gerais para realização de concursos públicos, no âmbito da Administração Pública federal direta, autárquica e fundacional, assinale a alternativa correta.

- (A) O prazo para publicação de edital de abertura de inscrições para realização do concurso público será de até 12 (doze) meses, contado a partir da data de publicação da Portaria de autorização do certame.
- (B) O não cumprimento das disposições contidas nessa Portaria implicará o cancelamento da autorização concedida para fins de realização do concurso público, bem como a suspensão do certame, exceto quando já aplicadas as provas.
- (C) O valor cobrado a título de inscrição no concurso será de, no máximo, 2,5% do valor da remuneração inicial do cargo ou emprego público prevista no edital.
- (D) O órgão ou entidade responsável pela realização do concurso homologará e divulgará, pelo Diário Oficial da União, a relação dos candidatos aprovados no certame, classificados em até três vezes o número de vagas previsto no edital para cada cargo ou emprego público, por ordem de classificação.
- (E) Durante o período de validade do concurso público, o Ministério do Planejamento, Orçamento e Gestão poderá autorizar a nomeação ou contratação de candidatos classificados e não convocados, até o limite de 25% (vinte e cinco por cento) a mais do quantitativo original de vagas.

48. Licitação é o procedimento administrativo mediante o qual a Administração pública seleciona a proposta mais vantajosa para o contrato de seu interesse. Como procedimento, desenvolve-se por meio de uma sucessão ordenada de atos vinculados para a Administração e para os licitantes, o que propicia igual oportunidade a todos os interessados e atua como fator de eficiência e moralidade nos negócios administrativos. Nesse contexto, assinale a alternativa correta considerando as disposições da Lei nº 8.666/93.

- (A) A licitação será processada e julgada em estrita conformidade com os princípios básicos da legalidade, da impessoalidade,

da moralidade, da igualdade, da publicidade, da probidade administrativa, da vinculação ao instrumento convocatório, do julgamento subjetivo e dos que lhes são correlatos.

- (B) As normas de licitações e contratos devem privilegiar o tratamento diferenciado e favorecido às microempresas e empresas de pequeno porte na forma da lei.
- (C) Ressalvados os casos de inexigibilidade de licitação, os contratos para a prestação de serviços técnicos profissionais especializados deverão, preferencialmente, ser celebrados mediante a realização de concorrência, com estipulação prévia de prêmio ou remuneração.
- (D) No sistema de registro de preços, os preços registrados serão publicados bimestralmente para orientação da Administração na imprensa oficial.
- (E) Será dada publicidade, trimestralmente, em órgão de divulgação oficial, à relação de todas as compras feitas pela Administração, Direta ou Indireta, de maneira a clarificar a identificação do bem comprado, seu preço unitário, a quantidade adquirida, o nome do vendedor e o valor total da operação.

49. Considere que Joana, servidora pública federal efetiva, manteve sob sua chefia imediata, em função de confiança, seu companheiro José. Além disso, em um momento de descontração com colegas servidores, revelou que utilizava de recursos materiais da repartição em atividades particulares. Tendo em vista a situação hipotética narrada, bem como as disposições da Lei nº 8.112/90, as ações disciplinares referentes às condutas de Joana prescrevem em

- (A) 180 (cento e oitenta dias) e 2 (dois) anos, respectivamente.
- (B) 180 (cento e oitenta dias) e 5 (cinco) anos, respectivamente.
- (C) 2 (dois) anos e 180 (cento e oitenta dias), respectivamente.
- (D) 5 (cinco) anos e 180 (cento e oitenta dias), respectivamente.
- (E) 5 (cinco) anos em ambos os casos.

50. Alonso, servidor público federal efetivo, em virtude de exigências transitórias decorrentes das atribuições de seu cargo, necessitou se deslocar de Curitiba, sede de seu serviço, para Porto Alegre por 5 (cinco) dias. Contudo, diante

do falecimento de seu neto, retornou a Curitiba antes do prazo previsto para o término de seu deslocamento. Nesse caso, considerando que foram observadas todas as formalidades legais, dispõe a Lei nº 8.112/90 que, caso o servidor retorne à sede em prazo menor do que o previsto para o seu afastamento, restituirá as diárias recebidas em excesso, no prazo de

- (A) 05 (cinco) dias.
- (B) 10 (dez) dias.
- (C) 15 (quinze) dias.
- (D) 20 (vinte) dias.
- (E) 30 (trinta) dias.

Raciocínio Lógico

51. No último recenseamento de um bairro em uma grande cidade, foram utilizadas folhas de sulfite, com um questionário impresso em cada folha, e canetas esferográficas para preencher os questionários, tal que foram utilizadas 1000 canetas e a quantidade de folhas de sulfite utilizada foi o quádruplo da quantidade de canetas. O custo de cada caneta foi de R\$ 2,00 e o custo de cada folha de sulfite foi de R\$ 0,10. Em um novo recenseamento nesse mesmo bairro, ficou estipulado que serão utilizados $\frac{1}{4}$ a menos de canetas e a metade de folhas de sulfite utilizadas no recenseamento anterior, mantido o custo de cada folha de sulfite, porém com um aumento de R\$ 0,05 no custo de cada caneta. Dessa forma, a economia no custo total para esse novo recenseamento será de

- (A) R\$ 1.122,75.
- (B) R\$ 662,50.
- (C) R\$ 507,45.
- (D) R\$ 1.258,73.
- (E) R\$ 362,25.

52. Duas competidoras irão fazer uma disputa particular em uma pista circular de atletismo, cujo comprimento total é de 600 metros. Por meio de medições em disputas anteriores, a corredora Alice corre a uma velocidade de 120 metros por minuto e a corredora Tereza corre a uma velocidade de 180 metros por minuto. Ambas correm no mesmo sentido da pista. Como Tereza é mais rápida que Alice, fica estipulado que Alice iniciará a corrida em um ponto da pista e Tereza somente entrará na competição no exato momento em que Alice passar novamente no ponto de partida, ou seja, quando ela completar 1 volta. Dado o início da prova, a quantidade de voltas completas que Tereza dará na pista até encontrar Alice no ponto de partida pela terceira vez será igual a

- (A) 15 voltas.
- (B) 6 voltas.
- (C) 9 voltas.
- (D) 3 voltas.
- (E) 12 voltas.

53. Se não é verdade que na próxima quinta-feira não haverá jogo de futebol e também não é verdade que no próximo domingo vai chover, então é correto afirmar que

- (A) na próxima quinta-feira não haverá jogo ou no próximo domingo vai chover.
- (B) se não houver jogo na próxima quinta-feira, então não vai chover no próximo domingo.
- (C) se chover no próximo domingo, então não haverá jogo na próxima quinta-feira.
- (D) ou na próxima quinta-feira haverá jogo ou no próximo domingo não vai chover.
- (E) haverá jogo na próxima quinta-feira e não vai chover no próximo domingo.

54. Comparando a agilidade de quatro rendeiras na confecção de uma toalha de mesa, sabe-se que Fabiana não é mais ágil que Paula, ou Claudia ou Larissa é a rendeira menos ágil entre as quatro, Larissa não é mais ágil do que Paula e é mais ágil do que duas outras rendeiras. Sabendo que a cada duas rendeiras as agilidades são sempre diferentes, é correto afirmar que

- (A) Paula é a rendeira menos ágil.
- (B) Larissa é mais ágil que Paula.
- (C) Fabiana é mais ágil que Larissa.
- (D) Paula é a rendeira mais ágil.
- (E) Claudia é a rendeira menos ágil.

55. Se não é verdade que, se o carro é um Fiesta, então sua cor não é azul, é correto afirmar que
- (A) o carro é um Fiesta e sua cor é azul.
 - (B) ou o carro não é um Fiesta ou sua cor não é azul, nunca ambos.
 - (C) se o carro é azul, então ele não é um Fiesta.
 - (D) ou o carro é um Fiesta ou o carro é azul, nunca ambos.
 - (E) o carro não é um Fiesta e sua cor não é azul.
56. O CNPq concede bolsas para a formação de recursos humanos no campo da pesquisa científica e tecnológica, em universidades, institutos de pesquisa, centros tecnológicos e de formação profissional, tanto no Brasil como no exterior. Confira alguns valores de bolsas no Brasil.

Tabela de Valores de Bolsas no Brasil

Modalidade	Valor (R\$)
Apoio Técnico à Pesquisa	550,00
Doutorado	2.200,00
Iniciação Científica	400,00
Iniciação Científica Júnior	100,00
Iniciação Tecnológica (PIBITI)	400,00
Mestrado	1.500,00
Pós-doutorado Sênior	4.400,00
Pós-doutorado Júnior	4.100,00
Pós-doutorado Empresarial	4.100,00

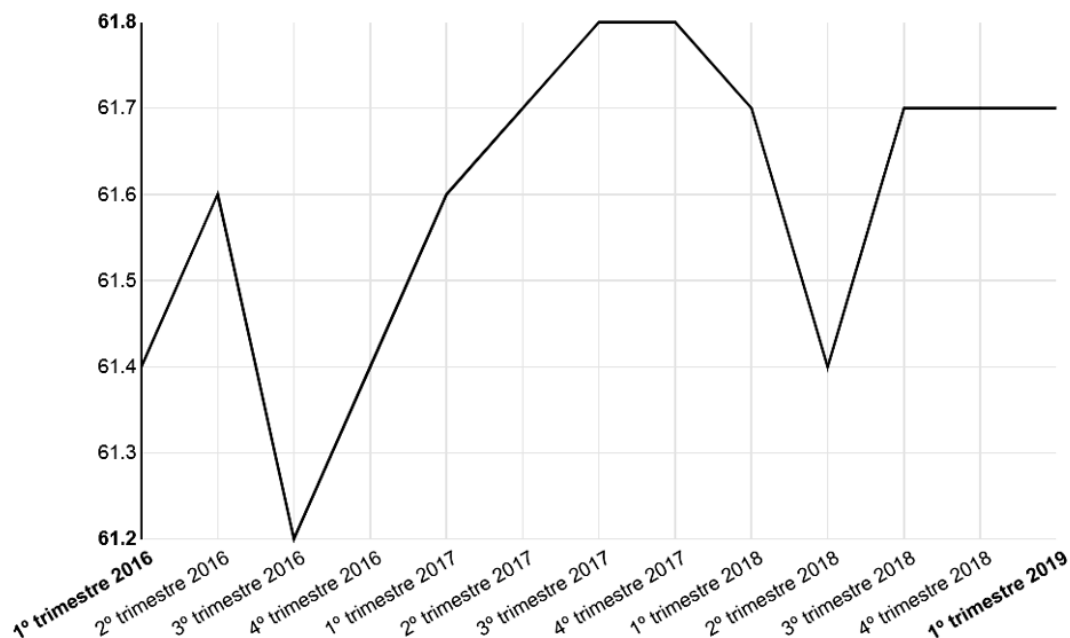
Público Alvo: Jovens de ensino médio e superior, em nível de pós-graduação, interessados em atuar na pesquisa científica, e especialistas para atuarem em Pesquisa e Desenvolvimento (P&D) nas empresas e centros tecnológicos. (Disponível em: <<http://cnpq.br/no-pais/>>. Acesso em 28 de junho de 2019).

Considerando os dados acima e sabendo que dois jovens foram contemplados, cada um com uma bolsa, tal que a soma dos valores das duas bolsas está entre R\$ 3.000,00 e R\$ 4.000,00, então as duas bolsas concedidas foram de

- (A) Iniciação Científica Júnior e Pós-doutorado Sênior.
- (B) Iniciação Tecnológica (PIBITI) e Doutorado.
- (C) Iniciação Científica e Pós-doutorado Empresarial.
- (D) Mestrado e Doutorado.
- (E) Apoio Técnico à Pesquisa e Mestrado.

57. No site do Instituto Brasileiro de Geografia e Estatística (IBGE), por meio da Pesquisa Nacional por Amostra de Domicílios Contínua - Divulgação Trimestral - 1º trimestre 2019 (PNADC/T), foi divulgado o seguinte gráfico que indica a taxa de participação na força de trabalho das pessoas de 14 anos ou mais de idade, na semana de referência (%) – Brasil:

PNADC/T - Taxa de participação na força de trabalho das pessoas de 14 anos ou mais de idade, na semana de referência (%) - Brasil



(Disponível em: <<https://sidra.ibge.gov.br/home/pnadct>>. Acesso em: 28 de junho de 2019).

Pelas informações obtidas por meio desse gráfico, assinale a alternativa correta.

- (A) A menor taxa de participação na força de trabalho das pessoas de 14 anos ou mais de idade ocorreu no 4º trimestre de 2017.
- (B) Do 1º trimestre de 2018 até o 2º trimestre do mesmo ano, houve um aumento na taxa de participação na força de trabalho das pessoas de 14 anos ou mais de idade.
- (C) A maior taxa de participação na força de trabalho das pessoas de 14 anos ou mais de idade ocorreu no 3º trimestre de 2016.
- (D) A taxa de participação na força de trabalho das pessoas de 14 anos ou mais de idade manteve-se constante entre o 3º e o 4º trimestre de 2017.
- (E) Do 1º trimestre de 2016 até o 1º trimestre de 2019, houve uma variação de 0,9 % na taxa de participação na força de trabalho das pessoas de 14 anos ou mais de idade.

58. Em um bairro de uma cidade existem 10 casas, numeradas de 1 a 10. Duas pessoas visitaram algumas dessas casas, para divulgação de um novo produto no mercado. Sabe-se que a primeira pessoa visitou as casas de número ímpar e a segunda visitou as casas cuja numeração era um número par e divisor de 8. Dessa forma, as casas que NÃO foram visitadas foram as que possuem as respectivas numerações iguais a

- (A) 2 e 10.
(B) 4 e 10.
(C) 6 e 10.
(D) 2 e 8.
(E) 4 e 8.

59. Sete candidatos a uma vaga em uma empresa (identificados pelas iniciais de seus nomes: A, B, C, D, E, F e G) foram convocados para uma dinâmica. Três desses candidatos já estavam previamente contratados, porém nenhum deles sabia desse fato. Havia ainda mais duas vagas para serem preenchidas. Para a primeira dinâmica proposta pela empresa, foi formado um grupo com cinco pessoas, sendo que os candidatos A e B não foram incluídos. Em seguida, foi formado um segundo grupo para participar da segunda dinâmica, também com cinco pessoas, sendo que os candidatos C e D não foram incluídos. Sabendo que os três candidatos previamente contratados fizeram parte dos dois grupos citados anteriormente, então as outras duas vagas poderão ser preenchidas pelos candidatos

- (A) A e F.
- (B) B e G.
- (C) C e B.
- (D) D e E.
- (E) E e A.

60. Para obter a informação sobre a origem de seus funcionários, identificados pelo estado em que nasceram, uma empresa selecionou um grupo de funcionários. Após essa seleção, foi obtido que $\frac{1}{3}$ das pessoas eram do estado da Bahia, $\frac{3}{7}$ das pessoas eram do estado do Rio de Janeiro, $\frac{1}{9}$ das pessoas eram do estado do Paraná e o restante era do estado de Minas Gerais.

Dessa forma, a fração que representa a quantidade de pessoas originárias do estado do Rio de Janeiro em relação à quantidade de pessoas originárias do estado da Bahia é igual a

- (A) $\frac{9}{7}$.
- (B) $\frac{1}{10}$.
- (C) $\frac{4}{9}$.
- (D) $\frac{9}{4}$.
- (E) $\frac{4}{7}$.

ATENÇÃO!

NÃO SE ESQUEÇA de marcar, na Folha de Respostas, o número de sua prova indicado na capa deste caderno.



FUNDAÇÃO INSTITUTO BRASILEIRO DE GEOGRAFIA E ESTATÍSTICA - IBGE

EDITAL DE PROCESSO SELETIVO SIMPLIFICADO Nº02/2019

NÍVEL SUPERIOR

ANALISTA CENSITÁRIO

GESTÃO E INFRAESTRUTURA

Nome do Candidato _____

Inscrição _____



COMPOSIÇÃO DO CADERNO

Língua Portuguesa 01 a 15

Conhecimentos Específicos 16 a 50

Raciocínio Lógico 51 a 60



INSTRUÇÕES

1. Confira seu nome, o número do seu documento e o número de sua inscrição na Folha de Respostas. Além disso, não se esqueça de conferir seu Caderno de Questões quanto a falhas de impressão e de numeração. Preencha os campos destinados à assinatura e ao número de inscrição. Qualquer divergência, comunique ao fiscal.
2. O único documento válido para avaliação é a Folha de Respostas. Só é permitido o uso de caneta esferográfica transparente de cor azul ou preta para o preenchimento da Folha de Respostas, que deve ser preenchida da seguinte maneira: ●
3. O prazo de realização da prova é de 4 (quatro) horas, incluindo a marcação da Folha de Respostas. Após 60 (sessenta) minutos do início da prova, o candidato estará liberado para utilizar o sanitário ou deixar definitivamente o local de aplicação, não podendo, no entanto, levar o Caderno de Questões e nenhum tipo de anotação de suas respostas.
4. Ao término de sua prova, comunique ao fiscal, devolvendo-lhe a Folha de Respostas devidamente preenchida e assinada. O candidato somente poderá levar consigo o Caderno de Questões, ao final da prova, se sua saída ocorrer nos 30 (trinta) minutos anteriores ao horário determinado para o término das provas.
5. Os 3 (três) últimos candidatos só poderão retirar-se da sala juntos, após assinatura do Termo de Fechamento do envelope de retorno.
6. As provas e os gabaritos preliminares estarão disponíveis no site do Instituto AOCP - www.institutoaocp.org.br, no dia posterior à aplicação da prova.
7. O NÃO cumprimento a qualquer uma das determinações constantes em Edital, no presente Caderno ou na Folha de Respostas incorrerá na eliminação do candidato.

PROVA

04

**LEMBRE-SE DE MARCAR O NÚMERO
CORRESPONDENTE À SUA PROVA NA
FOLHA DE RESPOSTAS!**

4. Assinale a alternativa que apresenta a reescrita adequada, sintática e semanticamente, para o seguinte excerto: “[...] ‘Você me ligou? Não posso falar, é melhor me escrever’.”.

- (A) Você ligou-me? Não posso falar, é melhor eu escrever.
- (B) Ligastes para mim? Não posso falar, escreve a mim que és melhor.
- (C) Me ligou? Não posso falar, escrever é melhor para mim.
- (D) Você ligou para mim? Não posso falar, é melhor que me escreva.
- (E) Me ligou? Não posso falar, me escreve que é melhor.

5. Em relação ao excerto “Não deixe uma ligação rápida arruinar uma longa e confusa série de mensagens de WhatsApp”, é correto afirmar que

- (A) ele é um conselho para as pessoas não receberem ligações rápidas.
- (B) a palavra “rápida” caracteriza “ligação” enquanto as palavras “longa”, “confusa” e “série” caracterizam “mensagens”.
- (C) ele é irônico, pois o conteúdo que se pretende veicular possui o significado contrário daquilo que é posto.
- (D) ele está no modo imperativo, indicando um pedido para que as pessoas não diminuam o uso de WhatsApp.
- (E) a palavra “série” está sendo utilizada com o mesmo significado que na frase: “A antiga 5ª série equivale hoje ao 6º ano”.

6. De acordo com o texto, é correto afirmar que

- (A) a autora seguiu o conselho de Hemingway.
- (B) a curiosidade metajornalística citada pela autora não tem importância para a temática do texto.
- (C) não há resposta para a pergunta presente no título.
- (D) a ligação telefônica está presente na vida das pessoas.
- (E) respondemos e-mails com áudios porque nos comunicamos melhor oralmente do que pela escrita.

7. No segundo parágrafo do texto, a informação entre travessões

- (A) descreve três atitudes negativas em relação à ligação telefônica.
- (B) é constituída por três ações que se excluem mutuamente.

- (C) é constituída por verbos que não requerem um complemento.
- (D) restringe o sentido do termo “ligação telefônica”.
- (E) completa o sentido do termo “ligação telefônica”.

8. Assinale a alternativa que apresenta a reescrita adequada, sintática e semanticamente, para o seguinte excerto: “O paradoxo do grande vício do século XXI é que estamos presos ao celular, mas temos fobia das ligações telefônicas.”.

- (A) O paradoxo do grande vício do século consecutivo é estarmos presos ao celular, mas termos fobia das ligações telefônicas.
- (B) A incoerência do grande vício do século consecutivo é estarmos presos ao celular, mas ficarmos doentes sem as ligações telefônicas.
- (C) No século XXI, é contraditório estar preso ao celular por ter medo das ligações telefônicas.
- (D) Temos medo das ligações telefônicas porque estamos presos ao celular; esse é o paradoxo do grande vício do século XXI.
- (E) Estarmos presos ao celular, mas termos fobia das ligações telefônicas é a incoerência do grande vício do século vigente.

9. Assinale a alternativa em que a expressão em destaque NÃO indica circunstância de tempo, NÃO sendo, portanto, um adjunto adverbial de tempo ou uma oração subordinada adverbial temporal.

- (A) “O paradoxo do grande vício do século XXI é que estamos presos ao celular [...]”.
- (B) “[...] quando recebemos uma ligação, ela interrompe algo [...]”.
- (C) “[...] simplesmente não temos vontade de falar nesse momento [...]”.
- (D) “[...] saber de antemão qual será a duração do telefonema [...]”.
- (E) “[...] opções com as quais podemos nos comunicar hoje.”.

10. Qual é a relação de sentido estabelecida no excerto “Não posso falar, é melhor me escrever”?

- (A) Contraste.
- (B) Causalidade.
- (C) Adição.
- (D) Conformidade.
- (E) Finalidade.

TEXTO II

Você é o que você se diz: a ciência do diálogo interno

PILAR JERICÓ

Se você quiser variar a percepção que tem sobre você, precisa alterar seu diálogo interior. A forma como você conversa consigo mesmo condiciona sua capacidade de enfrentar as dificuldades e determina a tomada de decisões. A autoafirmação, ou pensar coisas positivas sobre nós mesmos, é uma ferramenta muito útil para reforçar a autoestima. Entretanto, não vale qualquer comentário. Já ficou comprovado que frases como “aguento tudo” ou “sou uma pessoa superagradável” não ajudam muito. Quem as expressa não está realmente convencido disso, então essas expressões podem ter efeito contrário. A ciência do diálogo interior nos dá pistas sobre as técnicas que tornam nossas autoafirmações eficazes: devemos imaginar futuras situações agradáveis e nos tratar na segunda pessoa.

Adaptado de: <https://brasil.elpais.com/brasil/2019/05/05/ciencia/1557083642_455016.html>. Acesso em: 25 jun. 2019.

As questões de 11 a 15 se referem ao texto II.

- 11. Em “Se você quiser variar a percepção que tem sobre você, precisa alterar seu diálogo interior.”, a relação de sentido que se estabelece é de**
- (A) condição.
 - (B) tempo.
 - (C) conclusão.
 - (D) concessão.
 - (E) contraste.
- 12. Em “A forma como você conversa consigo mesmo condiciona sua capacidade [...]”, o termo em destaque poderia ser substituído adequadamente por**
- (A) “que”.
 - (B) “cuja”.
 - (C) “onde”.
 - (D) “para qual”.
 - (E) “pela qual”.

- 13. Assinale a alternativa em que a palavra formada, assim como “autoafirmação” e “superagradável”, é grafada sem hífen.**
- (A) auto + hipnose.
 - (B) auto + observação.
 - (C) super + herói.
 - (D) super + requintado.
 - (E) super + salário.
- 14. De acordo com o texto, é correto afirmar que**
- (A) conversar consigo mesmo pode combater a depressão.
 - (B) a imaginação é importante no processo de melhora da autoestima.
 - (C) as pessoas que não conversam com elas mesmas não têm autoestima.
 - (D) falar consigo mesmo na primeira pessoa não ajuda porque isso não reflete como as outras pessoas falam conosco.
 - (E) o diálogo interior só é possível a partir de um diálogo exterior, no qual está presente uma segunda pessoa.
- 15. Assinale a alternativa que apresenta um exemplo de tratamento na segunda pessoa do singular.**
- (A) Eu sou capaz de vencer meus desafios.
 - (B) Juntos, nós podemos transformar o mundo.
 - (C) Você é forte para superar os obstáculos da vida.
 - (D) As pessoas não vão abalar minha autoconfiança.
 - (E) Sempre é possível evoluir como ser humano.

Conhecimentos Específicos

- 16. Analisando o cenário do serviço público federal, incluindo o IBGE, é correto afirmar que, por ser absolutamente imprescindível ao país, o custeio dos servidores públicos deve ser tratado como**
- (A) uma solução que demanda cortes de gastos.
 - (B) uma melhor alocação e dimensionamento da força de trabalho.
 - (C) uma questão que requer intensos esforços de qualificação.
 - (D) uma necessidade de transferência para a iniciativa privada.
 - (E) uma quantia que indica maior alocação de trabalho aos servidores.
- 17. A área de recursos humanos pode ser conceituada de forma clássica como o homem certo, no lugar certo e no momento certo. De que forma organizações como o IBGE podem e devem ajudar as pessoas para a atuação em um ambiente de mudanças?**
- (A) Estabelecendo alvos incrementais e adaptados.
 - (B) Condicionando a remuneração à adaptação.
 - (C) Proporcionando atividades de mitigação do estresse.
 - (D) Desenvolvendo suas habilidades e autoconfiança.
 - (E) Administrando seu pessoal como recurso de produção.
- 18. Administrar as pessoas dentro de uma organização não é prioridade da função de recursos humanos, pois depende de todos os indivíduos que estão envolvidos com os processos administrativos e produtivos, tendo em vista o duplo papel da administração de recursos humanos dentro da estrutura organizacional. A que se refere esse duplo papel que torna a função de recursos humanos atípica em relação às demais?**
- (A) Sua atuação particular e holística.
 - (B) Sua abordagem localizada e global.
 - (C) Sua posição de linha e assessoria.
 - (D) Sua função de recrutar e contratar.
 - (E) Sua atribuição de controle e promoção.
- 19. Não há um campo comum que defina claramente o que a administração de recursos humanos deve fazer, porém é possível estabelecer princípios que podem ser usados pelos administradores de recursos humanos em soluções de problemas e tomadas de decisão em sua área de ação. Assinale a alternativa que apresenta alguns desses princípios.**
- (A) Prospectores, automação, ambivertido e transmissores da mensagem organizacional.
 - (B) Transformadores de ideias em ações, experimentadores e imutabilidade empresarial.
 - (C) Objetivos desafiadores, hábitos de sucesso, reason why e otimismo realista na empresa.
 - (D) Melhoradores contínuos, receptividade ao feedback, disciplina, foco e gratidão à empresa.
 - (E) Facilitadores de mudança, mediação, autoridade e alinhamento organizacional.
- 20. Pedro é o Administrador Patrimonial do IBGE e precisa movimentar materiais, trocando a responsabilidade de uma unidade organizacional para outra, dentro do próprio IBGE. Qual é a ocorrência patrimonial que ele precisa realizar?**
- (A) Passagem.
 - (B) Contrapartida.
 - (C) Transferência.
 - (D) Reincorporação.
 - (E) Transformação física.
- 21. Luiza precisa incorporar e registrar um equipamento fotocopador recebido pelo IBGE na forma de doação de uma indústria produtora. Para registrar esse bem, qual é o gênero patrimonial em que ele deverá ser classificado?**
- (A) Bem novo.
 - (B) Bem móvel.
 - (C) Bem cedido.
 - (D) Bem doado.
 - (E) Bem industrial.
- 22. Qual é a atividade realizada nas organizações cujo propósito é prover estoque de materiais do tipo específico, na quantidade certa, para o lugar certo, no tempo certo e pelo mínimo de custo?**
- (A) Armazenamento de materiais.
 - (B) Inventário de materiais.
 - (C) Atendimento de materiais.
 - (D) Transporte de materiais.
 - (E) Especificação de materiais.

- 23. Márcio é o responsável pelo controle dos estoques de materiais do IBGE e procura desempenhar essa atividade registrando as entradas e saídas de materiais com competência e responsabilidade, sabendo que o primeiro passo para ter um bom controle de estoque é ter um bom e confiável sistema que lhe auxilie na administração de todo material, sendo necessário organizar suas principais funções. Assinale a alternativa que apresenta algumas dessas funções que precisam ser organizadas pelo responsável em controlar os estoques.**
- (A) Determinar os horários de recebimento e de entrega de materiais; acolher com prioridade os pedidos dos principais superiores hierárquicos; questionar os setores de produção e de vendas a respeito da real necessidade de materiais que solicitam e fixar quantitativos e qualitativos com base histórica.
- (B) Determinar o número de itens que deve permanecer em estoque; quando se deve reabastecer o estoque; a quantidade de estoque necessária em certo período; acionar o departamento de compras para as aquisições de materiais; manter inventários periódicos e identificar e retirar do estoque os itens danificados.
- (C) Determinar os recebimentos, o armazenamento e o atendimento de materiais de acordo com os maiores produtores dos itens; fiscalizar as aplicações de materiais realizadas pelos funcionários de todos os níveis da organização e procurar conhecer o desenvolvimento científico e tecnológico dos materiais.
- (D) Determinar a perfeita composição e dimensão de cada embalagem de materiais para adequá-la à melhor forma de armazenamento; compartilhar os sistemas de registros de materiais existentes na organização com os controladores de outras organizações, com o objetivo de conhecer os diversos sistemas.
- (E) Determinar os níveis mínimos e máximos de valor dos materiais a serem acondicionados no armazém; verificar as movimentações de materiais realizadas pelos competidores no mercado e assumir todos os desvios e quebras de materiais, seja por roubo, perda ou danos causados nos transportes dos fornecedores.
- 24. Dentre os princípios básicos da produção de material, há aqueles que fazem parte da administração de materiais e que possuem um subsistema ou setor típico que se preocupa sobremaneira com o estoque de materiais, assegurando que os materiais exigidos pela produção estejam à disposição nas quantidades certas e nos períodos desejados. Qual é esse setor ou subsistema da administração de materiais?**
- (A) Administração de movimentações de materiais.
- (B) Administração de especificações de materiais.
- (C) Administração de qualidade de materiais.
- (D) Administração de estoques de materiais.
- (E) Administração de compras de materiais.
- 25. No desempenho de sua função de comprador do IBGE, José precisa definir com quantos e com quais fornecedores irá negociar e trabalhar. Se ele necessita adquirir alguns materiais com uma especificação bastante singular e com certas exigências particulares de qualidade e desempenho para o IBGE, ou seja, necessita de fornecedores exclusivos para esses materiais, qual será a forma de gestão de fornecedores que José poderá adotar?**
- (A) Supplier network.
- (B) Multiple sourcing.
- (C) Global sourcing.
- (D) Single sourcing.
- (E) Extra sourcing.
- 26. Conforme informações do departamento de compras do IBGE, a quantidade adquirida em cada pedido de tablets para serem utilizados na coleta de dados é de 8 unidades. Segundo dados obtidos nesse departamento, a demanda anual é de 400 unidades ao custo unitário de R\$ 200,00 cada tablet. Além disso, devido a sua enxuta estrutura de compras, o custo de emissão de cada pedido pelo departamento de compras é de apenas R\$ 0,375. Considere um custo de manter de 6% ao ano do valor unitário do tablet e apure o Lote Econômico de Compras de tablets, em seguida, assinale a alternativa que apresenta a quantidade de compras de tablets por pedido.**
- (A) 4 unidades por pedido.
- (B) 5 unidades por pedido.

- (C) 7 unidades por pedido.
- (D) 8 unidades por pedido.
- (E) 16 unidades por pedido.

27. O orçamento público possui uma grande variedade de termos que são utilizados por seus elaboradores e interessados nas finanças públicas. Relacione alguns desses termos a seus significados e assinale a alternativa com a sequência correta.

1. Alienação de bens.
2. Ordenador de despesa.
3. Aspecto qualitativo do patrimônio.
4. Aspecto quantitativo do patrimônio.
5. Homologação.

() Autoridade de cujos atos resultam autorização para efetuar despesas, emissão de empenho, assinatura de contratos e convênios, homologação de licitações, realização de pagamentos etc.

() Um conjunto de bens, créditos, débitos, dotações e previsões que, em determinado momento, encontram-se à disposição do ente público, concorrendo para a realização de seus fins.

() Processo administrativo de venda de bens móveis e imóveis, passando a transferência de domínio de bens públicos a terceiros.

() Ato da autoridade administrativa superior, confirmando o julgamento das propostas concorrentes e possibilitando a adjudicação.

() Fundo de valores constituído pela expressão monetária dos elementos Ativo, Passivo e Situação Líquida.

- (A) 1 – 3 – 4 – 5 – 2.
- (B) 3 – 4 – 5 – 1 – 4.
- (C) 5 – 4 – 3 – 1 – 2.
- (D) 4 – 1 – 2 – 3 – 5.
- (E) 2 – 3 – 1 – 5 – 4.

28. Nos dias de hoje, é possível reconhecer o orçamento público como um instrumento que apresenta múltiplas funções. Além da clássica função de controle político, o orçamento apresenta outras funções do ponto de vista administrativo, gerencial, contábil e financeiro. Qual é a função incorporada mais recentemente no Brasil que está ligada à técnica de orçamento por programas?

- (A) Função de coordenação.
- (B) Função de gerenciamento.
- (C) Função de fiscalização.
- (D) Função de planejamento.
- (E) Função de realização.

29. Dentre as técnicas orçamentárias, qual é a que se caracteriza por um processo orçamentário que se apoia na necessidade de justificativa de todos os programas cada vez que se inicia um novo ciclo orçamentário, com análise, revisão e avaliação de todas as despesas propostas?

- (A) Orçamento de desempenho.
- (B) Orçamento com teto fixo.
- (C) Orçamento base-zero.
- (D) Orçamento incremental.
- (E) Orçamento inercial.

30. No gerenciamento de projetos, o planejamento define os caminhos para que os objetivos do projeto sejam alcançados. Assinale a alternativa que apresenta a característica da etapa de planejamento que requer a consideração de todos os envolvidos no projeto.

- (A) Ser um elemento dinâmico que pode sofrer modificações no decorrer do ciclo de vida do projeto.
- (B) Ser um elemento estrutural que deve ser cumprido ao longo do ciclo de vida do projeto.
- (C) Ser um elemento metódico que proporciona o alcance das metas empresariais traçadas.
- (D) Ser um elemento indispensável que implica na adoção de rigor em sua implementação.
- (E) Ser um elemento complexo que tipifica a complexidade de todas as organizações.

31. O controle é uma etapa vital no gerenciamento de projetos, pois permite a percepção de problemas em tempo hábil para solucioná-los. Assinale a alternativa que apresenta algumas das atividades típicas do processo de controle.

- (A) Identificação da dimensão do projeto e gerenciamento das aquisições de produtos e das mudanças no projeto.
- (B) Acompanhamento da temperatura e gerenciamento das condições climáticas e meteorológicas do ambiente.
- (C) Definição da estrutura organizacional e gerenciamento dos recursos materiais e humanos da empresa.
- (D) Obtenção da aceitação do escopo e gerenciamento de partes interessadas e da equipe do projeto.
- (E) Visualização da finalização do projeto e gerenciamento das fontes de financiamento do projeto.

32. O diretor do departamento de treinamento do IBGE realiza suas atividades com competência e sempre procura, em suas relações interpessoais, favorecer o trabalho da equipe, incentivando as discussões informais, construindo um ambiente com confiança mútua e envolvimento grupal intenso. De acordo com esse cenário, qual é o estilo de liderança desse diretor?

- (A) Autoritário benevolente.
- (B) Autoritário coercitivo.
- (C) Participativo.
- (D) Consultivo.
- (E) Liberal.

33. Liderança pode ser definida como a capacidade de influenciar um grupo em direção ao alcance dos objetivos. Qual é a condição necessária e básica para que o líder promova a motivação aos seus liderados?

- (A) O líder precisa estar motivado.
- (B) O líder precisa ser exigente.
- (C) O líder precisa ser impositivo.
- (D) O líder precisa estar convencido.
- (E) O líder precisa ficar imparcial.

34. O poder está alicerçado em estruturas denominadas bases de poder. Assinale a alternativa que apresenta algumas das características da base do poder de influência.

- (A) Relaciona-se ao resultado de uma ação que concorda com as relações de poder entre os atores, gerando reconhecimentos e incentivos nas organizações.
- (B) Resulta do receio que as pessoas têm em causar resultados negativos, procedente de uma ação não concordante com a relação de poder.
- (C) É consequência da posição hierárquica de uma pessoa na organização, resultando na aceitação das demais pessoas.
- (D) É aquele que resulta do carisma que uma pessoa possui, gerando uma relação positiva de influência do carismático sobre as demais pessoas com a ocorrência de mudanças.
- (E) É resultado do controle exercido pelas pessoas em decorrência de suas competências, habilidades ou conhecimentos adquiridos na realização de suas atividades e na vida social.

35. A relação entre tecnologia e estratégia empresarial é perceptível de maneira especial em relação ao papel estratégico da tecnologia da informação. Quais são os impactos que a evolução da tecnologia da informação tem provocado nas estratégias das empresas?

- (A) Mudanças nos clientes da empresa, exigências de financiamentos e investimentos financeiros e alterações da composição societária e de direção das empresas.
- (B) Mudanças nos processos de negócios, exigências de habilidades e de recursos humanos e alterações da estrutura da organização e da estratégia de negócios.
- (C) Mudanças nos relacionamentos da empresa, exigências de incrementos visuais e publicitários e alterações da estrutura física e produtiva das organizações.
- (D) Mudanças nos instrumentos regulatórios dos negócios, exigências de maiores incentivos aos fornecedores e alterações do padrão cultural dos empresários.
- (E) Mudanças nos mecanismos dos equipamentos de produção, exigências de criação de meios fiscalizatórios e alterações do status econômico e social de seus dirigentes.

- 36. A Teoria Geral dos Sistemas possibilitou ao profissional de administração desenvolver meios de análise e diagnóstico a partir de uma abordagem globalizante. Quais foram alguns dos instrumentos que a Teoria Geral dos Sistemas proporcionou o desenvolvimento no contexto administrativo?**
- (A) Agrupamento departamental para soluções especializadas, fluxos de problemas tendo em vista os objetivos finais, métodos voltados para promoção e estruturas organizacionais dependentes.
 - (B) Agrupamento de partes autônomas independentes para operações, fluxos de sistemas tendo em vista os subsistemas, métodos voltados para controles e estruturas departamentalizadas.
 - (C) Agrupamento para efetivação, fluxos de informações tendo em vista o controle operacional, métodos voltados para publicização e estruturas de cargos e salários por tempo de emprego.
 - (D) Agrupamento para coordenação, fluxos de comunicação tendo em vista a tomada de decisão, métodos voltados para objetivos e estruturas organizacionais dinâmicas e definidamente interdependentes.
 - (E) Agrupamento para tarefas, fluxos de materiais ininterruptos na produção, métodos voltados para construção de ambientes climatizados e estruturas desenhadas para acomodar processos independentes.
- 37. No processo de avaliação de programas de treinamento, quais são os níveis que requerem mais tempo para serem avaliados?**
- (A) Reação e aprendizagem.
 - (B) Comportamento e reação.
 - (C) Aprendizagem e resultados.
 - (D) Comportamento e resultados.
 - (E) Aprendizagem e comportamento.
- 38. No planejamento de processos seletivos, é importante a realização de um conjunto integrado de atividades, denominado técnicas de seleção, que envolve, dentre outros, os testes. Assinale a alternativa que apresenta os testes de seleção que proporcionam a possibilidade de análise simultânea de competências técnicas e comportamentais.**
- (A) Testes psicológicos.
 - (B) Testes situacionais.
 - (C) Testes personalizados.
 - (D) Testes de conhecimentos.
 - (E) Testes de estrutura de cargos.
- 39. O Serviço Público Federal tem buscado prover suas necessidades de mão de obra utilizando formas de atingir seus objetivos com agilidade dos trabalhos, contando com maquinário, tecnologia e pessoal treinado e reciclado na execução das atividades-meio. Qual é a técnica, que tem sido utilizada com frequência e é livre de subordinação direta e de pessoalidade entre a administração pública e o trabalhador, que proporciona esse suprimento de pessoal?**
- (A) Estágio.
 - (B) Trainee.
 - (C) Autonomia.
 - (D) Home office.
 - (E) Terceirização.
- 40. Assinale a alternativa que apresenta o departamento ou função da área de recursos humanos que tem o papel de definir oportunidades oferecidas pela empresa para as pessoas crescerem nessa empresa.**
- (A) Plano de carreira.
 - (B) Descrição de cargo.
 - (C) Estrutura hierárquica.
 - (D) Avaliação de desempenho.
 - (E) Competências e capacitação.

41. Assinale a alternativa que apresenta um conceito de recursos humanos nas organizações.

- (A) É a área que tem a especificidade de prover os suprimentos necessários a todos os departamentos no sentido de permitir que as pessoas realizem seu trabalho com eficiência.
- (B) É a área que tem a autoridade para realizar licitações e celebrar contratos de aquisições de materiais com a finalidade de atender às demandas de produção das pessoas.
- (C) É a área que tem a peculiaridade de aplicar as funções da administração a cada uma das áreas da empresa e a cada um de seus departamentos, apoiando o desenvolvimento das pessoas.
- (D) É a área que tem vinculação direta com a alta administração para desenvolver estudos e análises que embasem decisões sobre o desenvolvimento de produtos para a realização das vendas pessoais.
- (E) É a área que tem a necessidade de envolvimento com os vendedores em seu relacionamento com os clientes atuais e potenciais para promover o crescimento e o desenvolvimento da organização.

42. Para a implantação de um sistema informatizado de gestão de informações de pessoal no IBGE, é necessário, dentre outros, um elemento imprescindível que possibilita aumentar o conhecimento das atividades organizacionais, a confiança, as percepções de satisfação no trabalho, o compromisso com a organização, o desempenho e a aceitação das mudanças organizacionais. Qual é esse elemento que pode ser definido como um valor intrínseco, porque desenvolve as mais elevadas capacidades humanas e ampara o caráter moral ativo, direcionado ao bem público?

- (A) Participação.
- (B) Cidadania.
- (C) Maturidade.
- (D) Empoderamento.
- (E) Otimização.

43. Referente à Lei nº 8.745/93, que dispõe sobre a contratação por tempo determinado para atender a necessidade temporária de excepcional interesse público, assinale a alternativa correta.

- (A) As contratações somente poderão ser feitas com observância da dotação orçamentária específica e mediante prévia autorização do Ministro de Estado sob cuja supervisão se encontrar o órgão ou a entidade contratante.
- (B) Na contratação de servidores temporários para a realização de recenseamentos e outras pesquisas de natureza estatística efetuadas pelo IBGE, é admitida a prorrogação dos respectivos contratos, desde que o prazo total não exceda a 4 (quatro) anos.
- (C) O contratado, nos termos dessa Lei, não poderá ser nomeado ou designado, exceto nos casos de substituição por prazo inferior a 45 (quarenta e cinco) dias, para o exercício de cargo em comissão ou função de confiança.
- (D) As infrações disciplinares atribuídas ao pessoal contratado nos termos dessa Lei serão apuradas mediante sindicância, concluída no prazo de trinta dias e assegurada ampla defesa.
- (E) A extinção do contrato, por iniciativa do órgão ou entidade contratante, decorrente de conveniência administrativa, importará no pagamento ao contratado de indenização correspondente a dois terços do que lhe caberia referente ao restante do contrato.

44. Em relação à Portaria nº 450, de 6 de novembro de 2002, do Ministério do Planejamento, Orçamento e Gestão, que estabelece normas gerais para realização de concursos públicos, no âmbito da Administração Pública federal direta, autárquica e fundacional, assinale a alternativa correta.

- (A) O prazo para publicação de edital de abertura de inscrições para realização do concurso público será de até 12 (doze) meses, contado a partir da data de publicação da Portaria de autorização do certame.
- (B) O não cumprimento das disposições contidas nessa Portaria implicará o cancelamento da autorização concedida para fins de realização do concurso público, bem como a suspensão do certame, exceto quando já aplicadas as provas.

- (C) O valor cobrado a título de inscrição no concurso será de, no máximo, 2,5% do valor da remuneração inicial do cargo ou emprego público prevista no edital.
- (D) O órgão ou entidade responsável pela realização do concurso homologará e divulgará, pelo Diário Oficial da União, a relação dos candidatos aprovados no certame, classificados em até três vezes o número de vagas previsto no edital para cada cargo ou emprego público, por ordem de classificação.
- (E) Durante o período de validade do concurso público, o Ministério do Planejamento, Orçamento e Gestão poderá autorizar a nomeação ou contratação de candidatos classificados e não convocados, até o limite de 25% (vinte e cinco por cento) a mais do quantitativo original de vagas.
- 45. Licitação é o procedimento administrativo mediante o qual a Administração pública seleciona a proposta mais vantajosa para o contrato de seu interesse. Como procedimento, desenvolve-se por meio de uma sucessão ordenada de atos vinculados para a Administração e para os licitantes, o que propicia igual oportunidade a todos os interessados e atua como fator de eficiência e moralidade nos negócios administrativos. Nesse contexto, assinale a alternativa correta considerando as disposições da Lei nº 8.666/93.**
- (A) A licitação será processada e julgada em estrita conformidade com os princípios básicos da legalidade, da impessoalidade, da moralidade, da igualdade, da publicidade, da probidade administrativa, da vinculação ao instrumento convocatório, do julgamento subjetivo e dos que lhes são correlatos.
- (B) As normas de licitações e contratos devem privilegiar o tratamento diferenciado e favorecido às microempresas e empresas de pequeno porte na forma da lei.
- (C) Ressalvados os casos de inexigibilidade de licitação, os contratos para a prestação de serviços técnicos profissionais especializados deverão, preferencialmente, ser celebrados mediante a realização de concorrência, com estipulação prévia de prêmio ou remuneração.
- (D) No sistema de registro de preços, os preços registrados serão publicados bimestralmente para orientação da Administração na imprensa oficial.
- (E) Será dada publicidade, trimestralmente, em órgão de divulgação oficial, à relação de todas as compras feitas pela Administração, Direta ou Indireta, de maneira a clarificar a identificação do bem comprado, seu preço unitário, a quantidade adquirida, o nome do vendedor e o valor total da operação.
- 46. Considere que Joana, servidora pública federal efetiva, manteve sob sua chefia imediata, em função de confiança, seu companheiro José. Além disso, em um momento de descontração com colegas servidores, revelou que utilizava de recursos materiais da repartição em atividades particulares. Tendo em vista a situação hipotética narrada, bem como as disposições da Lei nº 8.112/90, as ações disciplinares referentes às condutas de Joana prescrevem em**
- (A) 180 (cento e oitenta dias) e 2 (dois) anos, respectivamente.
- (B) 180 (cento e oitenta dias) e 5 (cinco) anos, respectivamente.
- (C) 2 (dois) anos e 180 (cento e oitenta dias), respectivamente.
- (D) 5 (cinco) anos e 180 (cento e oitenta dias), respectivamente.
- (E) 5 (cinco) anos em ambos os casos.
- 47. Alonso, servidor público federal efetivo, em virtude de exigências transitórias decorrentes das atribuições de seu cargo, necessitou se deslocar de Curitiba, sede de seu serviço, para Porto Alegre por 5 (cinco) dias. Contudo, diante do falecimento de seu neto, retornou a Curitiba antes do prazo previsto para o término de seu deslocamento. Nesse caso, considerando que foram observadas todas as formalidades legais, dispõe a Lei nº 8.112/90 que, caso o servidor retorne à sede em prazo menor do que o previsto para o seu afastamento, restituirá as diárias recebidas em excesso, no prazo de**
- (A) 05 (cinco) dias.
- (B) 10 (dez) dias.
- (C) 15 (quinze) dias.
- (D) 20 (vinte) dias.
- (E) 30 (trinta) dias.

48. De modo geral, podemos conceituar a Administração Indireta como o conjunto de pessoas jurídicas (desprovidas de autonomia política) que, vinculadas à administração direta, têm competência para o exercício, de forma descentralizada, de atividades administrativas. Em relação ao tema, o Instituto Brasileiro de Geografia e Estatística (IBGE) é classificado como

- (A) empresa pública.
- (B) autarquia.
- (C) fundação pública.
- (D) sociedade de economia mista.
- (E) entidade paraestatal.

49. Assinale a alternativa correta de acordo com a Lei de Licitações (Lei nº 8.666/93).

- (A) A alienação de bens da Administração Pública, subordinada à existência de interesse público devidamente justificado, quando móveis, dependerá de avaliação prévia e de autorização legislativa.
- (B) Na concorrência para a venda de bens imóveis, a fase de habilitação limitar-se-á à comprovação do recolhimento de quantia correspondente a 10% (dez por cento) da avaliação.
- (C) Quando a lei autoriza a administração a, discricionariamente, deixar de realizar a licitação, temos a denominada licitação dispensada.
- (D) Nos casos em que couber a tomada de preços, a Administração poderá utilizar convite e, em qualquer caso, a concorrência.
- (E) Os bens arrematados serão pagos à vista ou no percentual estabelecido no edital, não inferior a 5% (cinco por cento) e, após a assinatura da respectiva ata lavrada no local do leilão, imediatamente entregues ao arrematante, o qual se obrigará ao pagamento do restante no prazo estipulado no edital de convocação, sob pena de perder em favor da Administração o valor já recolhido.

50. O Instituto Brasileiro de Geografia e Estatística (IBGE), buscando oferecer melhores condições a seus servidores no desempenho das atividades censitárias, iniciou procedimento licitatório na modalidade pregão para a aquisição de 500 (quinhentos) equipamentos de informática Desktop. Considerando a temática do Pregão e a legislação aplicável ao caso, assinale a alternativa correta.

- (A) No pregão, a habilitação do licitante ocorre em fase anterior à de julgamento e classificação.
- (B) A equipe de apoio ao pregoeiro deverá ser integrada em sua maioria por servidores ocupantes de cargo efetivo ou emprego da administração e sempre pertencentes ao quadro permanente da entidade promotora do evento, no caso o IBGE.
- (C) O prazo para apresentação das propostas não será inferior a 15 (quinze) dias úteis, contados a partir da publicação do aviso.
- (D) Se outro não estiver fixado no edital, o prazo de validade das propostas será de 90 (noventa) dias.
- (E) A União publicará, no Diário Oficial da União, o extrato dos contratos celebrados, no prazo de até 20 (vinte) dias da data de sua assinatura, com indicação da modalidade de licitação e de seu número de referência.

Raciocínio Lógico

51. Comparando a agilidade de quatro rendeiras na confecção de uma toalha de mesa, sabe-se que Fabiana não é mais ágil que Paula, ou Claudia ou Larissa é a rendeira menos ágil entre as quatro, Larissa não é mais ágil do que Paula e é mais ágil do que duas outras rendeiras. Sabendo que a cada duas rendeiras as agilidades são sempre diferentes, é correto afirmar que

- (A) Paula é a rendeira menos ágil.
- (B) Larissa é mais ágil que Paula.
- (C) Fabiana é mais ágil que Larissa.
- (D) Paula é a rendeira mais ágil.
- (E) Claudia é a rendeira menos ágil.

52. Se não é verdade que, se o carro é um Fiesta, então sua cor não é azul, é correto afirmar que

- (A) o carro é um Fiesta e sua cor é azul.
- (B) ou o carro não é um Fiesta ou sua cor não é azul, nunca ambos.
- (C) se o carro é azul, então ele não é um Fiesta.
- (D) ou o carro é um Fiesta ou o carro é azul, nunca ambos.
- (E) o carro não é um Fiesta e sua cor não é azul.

53. O CNPq concede bolsas para a formação de recursos humanos no campo da pesquisa científica e tecnológica, em universidades, institutos de pesquisa, centros tecnológicos e de formação profissional, tanto no Brasil como no exterior. Confira alguns valores de bolsas no Brasil.

Tabela de Valores de Bolsas no Brasil

Modalidade	Valor (R\$)
Apoio Técnico à Pesquisa	550,00
Doutorado	2.200,00
Iniciação Científica	400,00
Iniciação Científica Júnior	100,00
Iniciação Tecnológica (PIBITI)	400,00
Mestrado	1.500,00
Pós-doutorado Sênior	4.400,00
Pós-doutorado Júnior	4.100,00
Pós-doutorado Empresarial	4.100,00

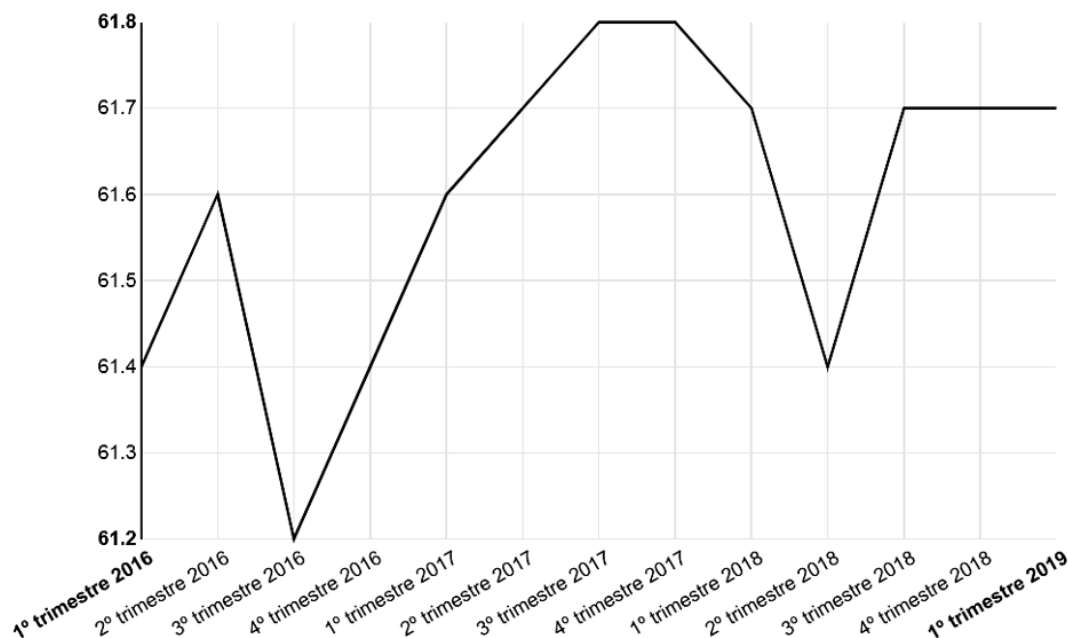
Público Alvo: Jovens de ensino médio e superior, em nível de pós-graduação, interessados em atuar na pesquisa científica, e especialistas para atuarem em Pesquisa e Desenvolvimento (P&D) nas empresas e centros tecnológicos. (Disponível em: <<http://cnpq.br/no-pais/>>. Acesso em 28 de junho de 2019).

Considerando os dados acima e sabendo que dois jovens foram contemplados, cada um com uma bolsa, tal que a soma dos valores das duas bolsas está entre R\$ 3.000,00 e R\$ 4.000,00, então as duas bolsas concedidas foram de

- (A) Iniciação Científica Júnior e Pós-doutorado Sênior.
- (B) Iniciação Tecnológica (PIBITI) e Doutorado.
- (C) Iniciação Científica e Pós-doutorado Empresarial.
- (D) Mestrado e Doutorado.
- (E) Apoio Técnico à Pesquisa e Mestrado.

54. No site do Instituto Brasileiro de Geografia e Estatística (IBGE), por meio da Pesquisa Nacional por Amostra de Domicílios Contínua - Divulgação Trimestral - 1º trimestre 2019 (PNADC/T), foi divulgado o seguinte gráfico que indica a taxa de participação na força de trabalho das pessoas de 14 anos ou mais de idade, na semana de referência (%) – Brasil:

PNADC/T - Taxa de participação na força de trabalho das pessoas de 14 anos ou mais de idade, na semana de referência (%) - Brasil



(Disponível em: <<https://sidra.ibge.gov.br/home/pnadct>>. Acesso em: 28 de junho de 2019).

Pelas informações obtidas por meio desse gráfico, assinale a alternativa correta.

- (A) A menor taxa de participação na força de trabalho das pessoas de 14 anos ou mais de idade ocorreu no 4º trimestre de 2017.
- (B) Do 1º trimestre de 2018 até o 2º trimestre do mesmo ano, houve um aumento na taxa de participação na força de trabalho das pessoas de 14 anos ou mais de idade.
- (C) A maior taxa de participação na força de trabalho das pessoas de 14 anos ou mais de idade ocorreu no 3º trimestre de 2016.
- (D) A taxa de participação na força de trabalho das pessoas de 14 anos ou mais de idade manteve-se constante entre o 3º e o 4º trimestre de 2017.
- (E) Do 1º trimestre de 2016 até o 1º trimestre de 2019, houve uma variação de 0,9 % na taxa de participação na força de trabalho das pessoas de 14 anos ou mais de idade.
55. Em um bairro de uma cidade existem 10 casas, numeradas de 1 a 10. Duas pessoas visitaram algumas dessas casas, para divulgação de um novo produto no mercado. Sabe-se que a primeira pessoa visitou as casas de número ímpar e a segunda visitou as casas cuja numeração era um número par e divisor de 8. Dessa forma, as casas que NÃO foram visitadas foram as que possuem as respectivas numerações iguais a
- (A) 2 e 10.
- (B) 4 e 10.
- (C) 6 e 10.
- (D) 2 e 8.
- (E) 4 e 8.

56. Sete candidatos a uma vaga em uma empresa (identificados pelas iniciais de seus nomes: A, B, C, D, E, F e G) foram convocados para uma dinâmica. Três desses candidatos já estavam previamente contratados, porém nenhum deles sabia desse fato. Havia ainda mais duas vagas para serem preenchidas. Para a primeira dinâmica proposta pela empresa, foi formado um grupo com cinco pessoas, sendo que os candidatos A e B não foram incluídos. Em seguida, foi formado um segundo grupo para participar da segunda dinâmica, também com cinco pessoas, sendo que os candidatos C e D não foram incluídos. Sabendo que os três candidatos previamente contratados fizeram parte dos dois grupos citados anteriormente, então as outras duas vagas poderão ser preenchidas pelos candidatos

- (A) A e F.
- (B) B e G.
- (C) C e B.
- (D) D e E.
- (E) E e A.

57. Para obter a informação sobre a origem de seus funcionários, identificados pelo estado em que nasceram, uma empresa selecionou um grupo de funcionários. Após essa seleção, foi obtido que $\frac{1}{3}$ das pessoas eram do estado da Bahia, $\frac{3}{7}$ das pessoas eram do estado do Rio de Janeiro, $\frac{1}{9}$ das pessoas eram do estado do Paraná e o restante era do estado de Minas Gerais.

Dessa forma, a fração que representa a quantidade de pessoas originárias do estado do Rio de Janeiro em relação à quantidade de pessoas originárias do estado da Bahia é igual a

- (A) $\frac{9}{7}$.
- (B) $\frac{1}{10}$.
- (C) $\frac{4}{9}$.
- (D) $\frac{9}{4}$.
- (E) $\frac{4}{7}$.

58. No último recenseamento de um bairro em uma grande cidade, foram utilizadas folhas de sulfite, com um questionário impresso em cada folha, e canetas esferográficas para preencher os questionários, tal que foram utilizadas 1000 canetas e a quantidade de folhas de sulfite utilizada foi o quádruplo da quantidade de canetas. O custo de cada caneta foi de R\$ 2,00 e o custo de cada folha de sulfite foi de R\$ 0,10. Em um novo recenseamento nesse mesmo bairro, ficou estipulado que serão utilizados $\frac{1}{4}$ a menos de canetas e a metade de folhas de sulfite utilizadas no recenseamento anterior, mantido o custo de cada folha de sulfite, porém com um aumento de R\$ 0,05 no custo de cada caneta. Dessa forma, a economia no custo total para esse novo recenseamento será de

- (A) R\$ 1.122,75.
- (B) R\$ 662,50.
- (C) R\$ 507,45.
- (D) R\$ 1.258,73.
- (E) R\$ 362,25.

59. Duas competidoras irão fazer uma disputa particular em uma pista circular de atletismo, cujo comprimento total é de 600 metros. Por meio de medições em disputas anteriores, a corredora Alice corre a uma velocidade de 120 metros por minuto e a corredora Tereza corre a uma velocidade de 180 metros por minuto. Ambas correm no mesmo sentido da pista. Como Tereza é mais rápida que Alice, fica estipulado que Alice iniciará a corrida em um ponto da pista e Tereza somente entrará na competição no exato momento em que Alice passar novamente no ponto de partida, ou seja, quando ela completar 1 volta. Dado o início da prova, a quantidade de voltas completas que Tereza dará na pista até encontrar Alice no ponto de partida pela terceira vez será igual a

- (A) 15 voltas.
- (B) 6 voltas.
- (C) 9 voltas.
- (D) 3 voltas.
- (E) 12 voltas.

60. Se não é verdade que na próxima quinta-feira não haverá jogo de futebol e também não é verdade que no próximo domingo vai chover, então é correto afirmar que

- (A) na próxima quinta-feira não haverá jogo ou no próximo domingo vai chover.
- (B) se não houver jogo na próxima quinta-feira, então não vai chover no próximo domingo.
- (C) se chover no próximo domingo, então não haverá jogo na próxima quinta-feira.
- (D) ou na próxima quinta-feira haverá jogo ou no próximo domingo não vai chover.
- (E) haverá jogo na próxima quinta-feira e não vai chover no próximo domingo.

.....
ATENÇÃO!

NÃO SE ESQUEÇA de marcar, na Folha de Respostas, o número de sua prova indicado na capa deste caderno.
.....

