



EDITAL DE CONCURSO PÚBLICO Nº 02/2020



T1426044N

PREFEITURA DE JOÃO PESSOA
SECRETARIA DA SAÚDE

ENFERMEIRO

NOME DO CANDIDATO

INSCRIÇÃO

Nível

SUPERIOR

Turno

TARDE

PROVA

01

Lembre-se de marcar o número acima na folha de respostas!



**instituto
aacp**

Fraudar ou tentar fraudar
Concursos Públicos é Crime!
Previsto no art. 311 - A do
Código Penal

Sobre o material recebido pelo candidato

- ✓ Além deste Caderno de Questões, com **sessenta questões objetivas**, você receberá do fiscal de sala a Folha de Respostas.
- ✓ Confira seu nome, o número do seu documento e o número de sua inscrição em todos os documentos entregues pelo fiscal. Além disso, não se esqueça de conferir seu Caderno de Questões quanto a falhas de impressão e de numeração e se o cargo corresponde àquele para o qual você se inscreveu.
- ✓ O não cumprimento a qualquer uma das determinações constantes em Edital, no presente Caderno ou na Folha de Respostas incorrerá na eliminação do candidato.

Sobre o material a ser devolvido pelo candidato

- ✓ O único documento válido para avaliação é a Folha de Respostas.
- ✓ Na Folha de Respostas, preencha os campos destinados à assinatura e ao número de inscrição. As respostas às questões objetivas devem ser preenchidas da seguinte maneira: ●
- ✓ Na Folha de Respostas, só é permitido o uso de caneta esferográfica transparente de cor azul ou preta. Esse documento deve ser devolvido ao fiscal na saída, devidamente preenchido e assinado.

Sobre a duração da prova e a permanência na sala

- ✓ O prazo de realização da prova é de 4 horas, incluindo a marcação da Folha de Respostas.
- ✓ Após 60 (sessenta) minutos do início da prova, o candidato estará liberado para utilizar o sanitário ou deixar definitivamente o local de aplicação, não podendo, no entanto, levar o Caderno de Questões e nenhum tipo de anotação de suas respostas.
- ✓ O candidato poderá levar consigo o Caderno de Questões somente se aguardar em sala até o término do prazo de realização da prova estabelecido em edital.
- ✓ Os três últimos candidatos só poderão retirar-se da sala juntos, após assinatura do Termo de Fechamento do Envelope de Retorno.

Sobre a divulgação das provas e dos gabaritos

- ✓ As provas e os gabaritos preliminares estarão disponíveis no dia posterior à aplicação da prova no site do **Instituto AACP** no endereço eletrônico **www.institutoaacp.org.br**

Língua Portuguesa

Borderline: o transtorno que faz pessoas irem do "céu ao inferno" em horas

Tatiana Pronin

Uma alegria contagiante pode se transformar em tristeza profunda em um piscar de olhos porque alguém "pisou na bola". O amor intenso vira ódio profundo, porque a atitude foi interpretada como traição; o sentimento sai de controle e se traduz em gritos, palavrões e até socos. E, então, bate uma culpa enorme e o medo de ser abandonado, como sempre. Dá vontade de se cortar, de beber e até de morrer, porque a dor, o vazio e a raiva de si mesmo são insuportáveis. As emoções e comportamentos exaltados podem dar uma ideia do que vive alguém com transtorno de personalidade borderline (ou "limítrofe").

Reconhecido como um dos transtornos mais lesivos, leva a episódios de automutilação, abuso de substâncias e agressões físicas. Além disso, cerca de 10% dos pacientes cometem suicídio. Além da montanha-russa emocional e da dificuldade em controlar os impulsos, o borderline tende a enxergar a si mesmo e aos outros na base do "tudo ou nada", o que torna as relações familiares, amorosas, de amizade e até mesmo a com o médico ou terapeuta extremamente desgastantes.

Muitos comportamentos do "border" (apelido usado pelos especialistas) lembram os de um jovem rebelde sem tolerância à frustração. Mas, enquanto um adolescente problemático pode melhorar com o tempo ou depois de uma boa terapia, o adulto com o transtorno parece alguém cujo lado afetivo não amadurece nunca.

Ainda que seja inteligente, talentoso e brilhante no que faz, reage como uma criança ao se relacionar com os outros e com as próprias emoções — o que os psicanalistas chamam de "ego imaturo". Em muitos casos, o transtorno fica camuflado entre outros, como o bipolar, a depressão e o uso abusivo de álcool, remédios e drogas ilícitas.

De forma resumida, um transtorno de personalidade pode ser descrito como um jeito de ser, de sentir, se perceber e se relacionar com os outros que foge do padrão considerado "normal" ou saudável. Ou seja, causa sofrimento para a própria pessoa e/ou para os outros. Enquadrar um indivíduo em uma categoria não é fácil — cada pessoa é um universo, com características próprias. [...]

O diagnóstico é bem mais frequente entre as mulheres, mas estudos sugerem que a incidência seja igual em ambos os sexos. O que acontece é que elas tendem a pedir mais socorro, enquanto os homens são mais propensos a se meter em encrencas, ir para a cadeia ou até morrer mais precocemente por causa de comportamentos de risco. Quase sempre o transtorno é identificado em adultos jovens e os sintomas tendem a se tornar atenuados com o passar da idade.

Transtornos de personalidade são diferentes de transtornos mentais (como depressão, ansiedade, transtorno bipolar, psicose etc.), embora seja difícil para leigos e desafiante até para especialistas fazer essa distinção, já que sobreposições ou comorbidades (existência de duas ou mais condições ao mesmo tempo) são muito frequentes. Não é raro que o borderline desenvolva transtorno bipolar, depressão, transtornos alimentares (em especial a bulimia), estresse pós-traumático, déficit de atenção/hiperatividade e transtorno por abuso de substâncias, entre outros. [...]

O paciente borderline sofre os períodos de instabilidade mais intensos no início da vida adulta. Há situações de crise, ou maior descontrole, que podem até resultar em internações porque o paciente coloca sua própria vida ou a dos outros em risco. Por volta dos 40 ou 50 anos, a maioria dos "border" melhora bastante, probabilidade que aumenta se o paciente se engaja no tratamento. [...]

A personalidade envolve não só aspectos herdados, mas também aprendidos, por isso a melhora é possível, ainda que seja difícil de acreditar no início. Se a psicoterapia é importante para ajudar o bipolar a identificar uma virada e evitar perdas, no transtorno de personalidade ela é o carro-chefe do tratamento. [...]

Medicamentos ajudam a aliviar os sintomas depressivos, a agressividade e o perfeccionismo exagerado, e são ainda mais importantes quando existe um transtorno mental associado. Os fármacos mais utilizados são os antidepressivos (fluoxetina, escitalopram, venlafaxina etc.), os estabilizadores de humor (lítio, lamotrigina, ácido valproico etc.), os antipsicóticos (olanzapina, risperidona, quetiapina etc.) e, em situações pontuais, sedativos ou remédios para dormir (clonazepan, diazepam, alprazolam etc.). Esses últimos costumam ser até solicitados pelos pacientes, mas devem ser evitados ao máximo, porque podem afrouxar o controle dos impulsos, assim como o álcool, além de causarem dependência. [...]

Disponível em:

<https://www.uol.com.br/vivabem/noticias/redacao/2018/04/16/borderline-a-doenca-que-faz-10-dos-dagnosticados-cometerem-suicidio.htm>.

Acesso em: 04 jan. 2021.

1

De acordo com o texto, assinale a alternativa correta.

- (A) Pessoas que sofrem do transtorno borderline vão do “céu ao inferno” em um curto período de tempo porque ora se comportam como crianças sem malícia ora se comportam como adultos responsáveis.
- (B) Alguém com a personalidade borderline (“límitrofe”), comumente, apresenta posturas resistentes a limites, regras.
- (C) Um “border”, em geral, vive a infância e a adolescência sem apresentar graves alterações geradas por tal transtorno.
- (D) Grande parte dos “borders”, além de se automutilarem e de apresentarem intensa rebeldia, acabam cometendo suicídio.
- (E) Borderline afeta, sobretudo, mulheres que apresentam esse transtorno aliado à bipolaridade e à depressão.

2

Assinale a alternativa correta considerando o conteúdo do texto.

- (A) Segundo o texto, as relações interpessoais e até mesmo relacionadas ao tratamento dos “borders” desgastam-se com facilidade e isso acaba provocando descontrole emocional e alterações de humor extremas em tais indivíduos.
- (B) De acordo com o texto, categorizar pessoas é uma tarefa difícil porque cada um apresenta atitudes, pensamentos, aptidões, gostos, sentimentos etc. bem particulares.
- (C) Transtornos como a bipolaridade (de personalidade) e borderline (mentais) apresentam diferenças sutis e, normalmente, esses transtornos são observados em um mesmo paciente de modo simultâneo.
- (D) Segundo o texto, quem mais sofre com a síndrome borderline é o próprio paciente acometido pela doença, sendo pouco e/ou raramente afetadas as pessoas que o rodeiam.
- (E) Tratamentos psicoterápicos são mais eficazes em casos de bipolaridade do que em quadros de borderline, uma vez que, comprovadamente, para esses pacientes, a abordagem medicamentosa costuma funcionar mais.

3

Assinale a alternativa em que haja um verbo de ligação com valor de “mudança de estado”.

- (A) “O amor intenso vira ódio profundo, [...]”.
- (B) “[...] a dor, o vazio e a raiva de si mesmo são insuportáveis.”
- (C) “[...] o transtorno fica camuflado [...]”.
- (D) “O paciente borderline sofre os períodos de instabilidade mais intensos no início da vida adulta.”.
- (E) “[...] o adulto com o transtorno parece alguém cujo lado afetivo não amadurece nunca.”.

4

Assinale a alternativa em que o termo ou a expressão destacado(a) tenha sido usado(a) em sentido denotativo.

- (A) “Uma alegria contagiante pode se transformar em tristeza profunda em um piscar de olhos porque alguém ‘pisou na bola’”.
- (B) “E, então, bate uma culpa enorme e o medo de ser abandonado, como sempre.”
- (C) “Além da montanha-russa emocional e da dificuldade em controlar os impulsos, o borderline tende a enxergar a si mesmo e aos outros na base do ‘tudo ou nada’, [...]”.
- (D) “Transtornos de personalidade são diferentes de transtornos mentais [...]”.
- (E) “[...] o adulto com o transtorno parece alguém cujo lado afetivo não amadurece nunca.”.

5

Referente ao seguinte excerto, assinale a alternativa correta.

“Há situações de crise, ou maior descontrole, que podem até resultar em interações porque o paciente coloca sua própria vida ou a dos outros em risco. Por volta dos 40 ou 50 anos, a maioria dos "borders" melhora bastante, probabilidade que aumenta se o paciente se engaja no tratamento. [...]”

- (A) Em “Há situações de crise, ou maior descontrole, [...]”, o verbo “haver” poderia ser substituído por “existir” sem mudanças no que tange à concordância.
- (B) No trecho “Há situações de crise, ou maior descontrole, que podem até resultar em interações [...]”, o pronome “que” em destaque retoma a locução “de crise”.
- (C) Em “[...] a maioria dos "borders" melhora bastante, [...]”, o verbo “melhora”, segundo a norma-padrão, deveria ser empregado no plural, para concordar com “borders”.
- (D) O termos destacados em “[...] se o paciente se engaja no tratamento [...]” desempenham a mesma função gramatical.
- (E) No trecho “[...] probabilidade que aumenta se o paciente se engaja no tratamento.”, a oração adjetiva em destaque restringe o termo “probabilidade”.

6

Em relação aos usos da vírgula, assinale a alternativa em que tal sinal de pontuação tenha sido usado para separar orações coordenadas.

- (A) “[...] o sentimento sai de controle e se traduz em gritos, palavrões e até socos.”
- (B) “E, então, bate uma culpa enorme e o medo de ser abandonado [...]”.
- (C) “Mas, enquanto um adolescente problemático pode melhorar com o tempo ou depois de uma boa terapia, o adulto com o transtorno parece alguém cujo lado afetivo não amadurece nunca.”.
- (D) “Por volta dos 40 ou 50 anos, a maioria dos "borders" melhora bastante [...]”.
- (E) “Esses últimos costumam ser até solicitados pelos pacientes, mas devem ser evitados ao máximo [...]”.

7

Considerando o trecho que segue, a respeito dos elementos de coesão e suas respectivas relações lógico-semânticas, analise as assertivas e assinale a alternativa que aponta a(s) correta(s).

“A personalidade envolve não só aspectos herdados, mas também aprendidos, por isso a melhora é possível, ainda que seja difícil de acreditar no início. Se a psicoterapia é importante para ajudar o bipolar a identificar uma virada e evitar perdas, no transtorno de personalidade ela é o carro-chefe do tratamento. [...]”.

- I. Não haveria prejuízo de sintaxe nem de efeito de sentido caso a expressão correlativa “não só/mas também” fosse, nesse contexto, substituída pela conjunção, igualmente aditiva, “e”.
- II. Em vez de “não só/mas também”, poder-se-ia usar, nessa situação, a locução também correlativa “tanto/quanto”, embora esta expresse valor de comparação e não de adição.
- III. A expressão “ainda que” tem valor de concessão e poderia ser substituída, nesse caso, por “embora”.

- (A) Apenas I.
- (B) Apenas II.
- (C) Apenas I e II.
- (D) Apenas II e III.
- (E) I, II e III.

8

Considerando o seguinte excerto, informe se é verdadeiro (V) ou falso (F) o que se afirma a seguir e assinale a alternativa com a sequência correta.

“O diagnóstico é bem mais frequente entre as mulheres, mas estudos sugerem que a incidência seja igual em ambos os sexos.”.

- () Os termos “diagnóstico” e “incidência” são acentuados devido à mesma regra de acentuação em Língua Portuguesa.
- () No termo “frequente”, há um encontro consonantal em “fr”.
- () O vocábulo “mulheres” apresenta um dígrafo e um encontro consonantal.
- () As palavras “frequente”, “mulheres” e “incidência” são todas paroxítonas.
- () O termo “sexos” apresenta cinco letras e seis fonemas.

- (A) F – V – F – V – F.
- (B) V – F – V – F – V.
- (C) F – V – F – V – V.
- (D) V – V – F – F – F.
- (E) F – F – V – V – V.

9

Analise o trecho que segue.

“Medicamentos ajudam a aliviar os sintomas depressivos, a agressividade e o perfeccionismo exagerado, e são ainda mais importantes quando existe um transtorno mental associado. Os fármacos mais utilizados são os antidepressivos (fluoxetina, escitalopram, venlafaxina etc), os estabilizadores de humor (lítio, lamotrigina, ácido valproico etc), os antipsicóticos (olanzapina, risperidona, quietiapina etc) e, em situações pontuais, sedativos ou remédios para dormir (clonazepan, diazepan, alprazolam etc). Esses últimos costumam ser até solicitados pelos pacientes, mas devem ser evitados ao máximo, porque podem afrouxar o controle dos impulsos, assim como o álcool, além de causarem dependência. [...]”.

Em relação, sobretudo, aos componentes destacados nesse segmento do texto, é correto afirmar que

- (A) o verbo “são” em destaque tem como sujeito os elementos “os sintomas depressivos, a agressividade e o perfeccionismo exagerado”.
- (B) a conjunção “quando”, tradicionalmente indicadora de tempo, em certos contextos, pode também expressar valor de condição, como ocorre nesse caso.
- (C) o uso de “antidepressivos”, em destaque, exemplifica um caso de substantivo transformado em adjetivo.
- (D) a preposição “para” expressa a relação lógico-semântica de causa.
- (E) o pronome demonstrativo “esses” retoma os medicamentos “clonazepan, diazepan, alprazolam” e poderia ser substituído por “estes” sem nenhum dano gramatical.

10

Ainda em relação ao trecho “Esses últimos costumam ser até solicitados pelos pacientes, mas devem ser evitados ao máximo, porque podem afrouxar o controle dos impulsos, assim como o álcool, além de causarem dependência.”, os verbos destacados retomam a expressão “Esses últimos” e fazem referência a ela por meio de

- (A) sujeito elíptico, em que se oculta um termo já de conhecimento do leitor.
- (B) zeugma, em que se oculta um termo, independente de ter sido mencionado antes ou não.
- (C) coesão por anáfora, em que se usa um elemento para anunciar outro, ainda não mencionado no texto.
- (D) coesão por catáfora, em que se usa um elemento para recuperar outro, já mencionado no texto.
- (E) referenciação nominal, em que se emprega um nome para recuperar um termo anterior.

Matemática

11

Uma dosagem total de 100 ml deve ser preparada para ser aplicada em um paciente a partir da mistura de três tipos de soluções, identificadas por H, J e Q, tal que $\frac{3}{4}$ da dosagem total é da solução H, $\frac{1}{5}$ da dosagem total é da solução J e o restante da dosagem total é da solução Q. Dessa forma, uma fração que indica a divisão entre as quantidades da solução Q e da solução H, nessa dosagem e nessa ordem, é igual a

(A) $\frac{1}{4}$

(B) $\frac{15}{4}$

(C) $\frac{1}{15}$

(D) $\frac{4}{5}$

(E) $\frac{4}{15}$

12

Cinco pessoas, identificadas como P₁, P₂, P₃, P₄ e P₅, estão em uma clínica médica aguardando a vez para realizar dois tipos de exames laboratoriais. Sabe-se que duas dessas pessoas, cada uma na sua vez, irão fazer o exame de Hemograma e as outras três, também cada um na sua vez, irão fazer o exame de Glicemia. Sabe-se também que P₃ e P₄ irão fazer o mesmo tipo de exame, P₂ e P₅ irão fazer exames de tipos diferentes e P₂ e P₅ irão fazer exames de tipos diferentes. Com base nessas informações, é correto afirmar que

- (A) P₁ irá fazer o exame de Glicemia.
- (B) P₅ irá fazer o exame de Hemograma.
- (C) P₃ irá fazer o exame de Hemograma.
- (D) P₂ irá fazer o exame de Glicemia.
- (E) P₄ irá fazer o exame de Glicemia.

13

Comparando os números 500 e 100, é correto afirmar que

- (A) 500 é exatamente 300% maior que 100.
- (B) 500 é exatamente 400% maior que 100.
- (C) 100 é exatamente 180% menor que 500.
- (D) 500 é exatamente 100% maior que 100.
- (E) 100 é exatamente 60% menor que 500.

14

Sendo $p = \frac{7}{10}$, $q = \frac{1}{50}$ e $r = \frac{6}{7}$, então o valor de $\frac{2.p.r}{6.q}$ é igual a

- (A) 10
- (B) $\frac{1}{10}$
- (C) 1
- (D) $\frac{1}{5}$
- (E) 5

15

Considere a seguinte sequência numérica, tal que os termos dessa sequência foram dispostos obedecendo a uma lei (lógica) de formação, em que ainda falta identificar o último termo:

(- 8, - 7, - 3, 4, 14, ___).

Seguindo a lógica de formação dessa sequência, então o último termo da sequência dada é igual a

- (A) 33.
- (B) 31.
- (C) 29.
- (D) 27.
- (E) 25.

Informática

16

Considerando o sistema operacional Microsoft Windows 10 Pro, qual programa deve ser utilizado para abrir um arquivo que possua a extensão “.STL”?

- (A) Windows Media Player.
- (B) Gerenciador de Tarefas.
- (C) Visualizador 3D.
- (D) Microsoft PowerPoint.
- (E) Gravador de Passos.

17

Qual é o caminho correto para encontrar a ferramenta que cria um disco de reparação do sistema no sistema Microsoft Windows 7 Ultimate Service Pack 1 versão em Português?

- (A) Menu Iniciar, Acessórios do Windows e Backup e Restauração.
- (B) Painel de controle, Sistema e Segurança e Backup e Restauração.
- (C) Menu Iniciar, Programas e Backup do Windows.
- (D) Barra de notificações, Configurações de Inicialização e Backup e Restauração.
- (E) Painel de Controle e Backup do Windows 7.

18

Um byte é composto por quantos bits?

- (A) 64
- (B) 32
- (C) 16
- (D) 8
- (E) 2

19

No software Microsoft Excel 2013, versão em português do Brasil, qual das funções a seguir deve ser utilizada para agrupar várias cadeias de texto em uma única sequência de texto?

- (A) ARRUMAR
- (B) CARACT
- (C) BAHTTEXT
- (D) CARACTUNICODE
- (E) CONCATENAR

20

No sistema Microsoft Windows 10 Pro, versão em português, qual arquivo do painel de controle dá acesso à ferramenta que permite configurar opções de gravação e reprodução de sons?

- (A) Mmsys.cpl
- (B) Netcpl.cpl
- (C) Sysdm.cpl
- (D) Joy.cpl
- (E) Mlcfg32.cpl

Conhecimentos Específicos

21

A ferida é definida como qualquer lesão no tecido epitelial, mucosa ou órgãos com prejuízo de suas funções básicas. Quanto à sua origem, é possível expor que as feridas causadas por fatores endógenos ou lesões secundárias a uma ou mais doenças de base, como as lesões vasculares, são denominadas feridas de origem

- (A) patológica.
- (B) iatrogênica.
- (C) traumática.
- (D) acidental.
- (E) cirúrgica.

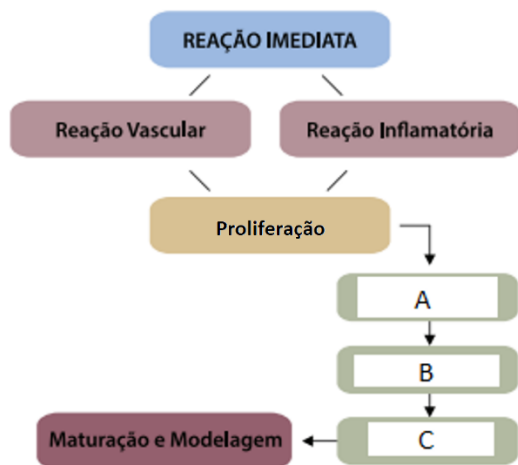
22

Durante a avaliação de uma ferida quanto à presença de infecção, o enfermeiro constatou que existia alta carga microbiana na superfície da lesão, mas sem chegar até o leito da ferida. Pela descrição realizada pelo enfermeiro, qual é a classificação dessa ferida?

- (A) Ferida não infectada.
- (B) Ferida limpa.
- (C) Ferida colonizada.
- (D) Ferida contaminada.
- (E) Ferida infectada.

23

Observe a seguinte figura e assinale a alternativa correta sobre as fases do processo de cicatrização da ferida.



- (A) A etapa descrita pela letra A refere-se ao processo de Epitelização.
- (B) A etapa descrita pela letra B refere-se ao processo de Granulação.
- (C) A etapa descrita pela letra C refere-se ao processo de Contração.
- (D) A etapa descrita pela letra A refere-se ao processo de Retração.
- (E) A etapa descrita pela letra B refere-se ao processo de Queratinização.

24

Dentro dos serviços de saúde, os principais ambientes de atuação da equipe de Enfermagem são: a unidade de Enfermagem (composta pelos espaços em que a equipe atua ativamente) e a unidade do cliente (menor espaço de atuação, em que o paciente é internado e recebe os cuidados essenciais). Nesse sentido, qual das alternativas ilustra corretamente o ambiente da unidade do cliente?

- (A) Cama com colchão e travesseiro.
- (B) Enfermaria ou quartos.
- (C) Copa.
- (D) Posto de enfermagem.
- (E) Sala de serviços.

25

As principais vacinas recomendadas pelo Ministério da Saúde para todos os profissionais da saúde são:

- (A) a pentavalente, a anti-hepatite B, a influenza (gripe) e a tríplice viral (sarampo, caxumba, rubéola).
- (B) a dT (difteria e tétano), a anti-hepatite A, a influenza (gripe) e a varicela monovalente.
- (C) a dT (difteria e tétano), a anti-hepatite B, a influenza (gripe) e a varicela monovalente.
- (D) a dT (difteria e tétano), a anti-hepatite B, a hepatite A e a tríplice viral (sarampo, caxumba, rubéola).
- (E) a dT (difteria e tétano), a anti-hepatite B, a influenza (gripe) e a tríplice viral (sarampo, caxumba, rubéola).

26

Recentemente, um procedimento foi recomendado, em março, pela Organização Mundial da Saúde (OMS) para pacientes com COVID-19 em Síndrome Respiratória Aguda Grave (SRAG). Trata-se de uma posição em que o paciente é colocado a fim de melhorar os parâmetros respiratórios, facilitando a abertura de alvéolos pulmonares, proporcionando melhores trocas gasosas. Qual é o nome desse posicionamento do paciente?

- (A) Decúbito dorsal.
- (B) Decúbito lateral direito.
- (C) Posição de Sims.
- (D) Decúbito ventral.
- (E) Posição genupeitoral.

27

Um paciente apresenta quadro de hipertermia (febre), alternando regularmente períodos de hipertermia e padrões de normotermia. Esse tipo de hipertermia pode ser classificado como

- (A) hipertermia intermitente.
- (B) hipertermia contínua.
- (C) hipertermia remitente.
- (D) hipertermia recrudente.
- (E) hipertermia recorrente.

28

A amplitude do pulso traduz o grau de enchimento da artéria (relativo ao volume de sangue ejetado do ventrículo esquerdo na sístole e o remanescente na diástole), que pode ser cheio/forte ou fraco/filiforme, percebido em forma de onda durante a palpação da artéria. Assim, para a verificação do pulso, utiliza-se preferencialmente a artéria

- (A) femoral.
- (B) braquial.
- (C) radial.
- (D) temporal.
- (E) carotídea.

29

Um paciente está em quadro de cetoacidose diabética, apresentando um quadro respiratório com profundas e rápidas inspirações, interrompidas por curtos períodos de apneia, seguindo-se de respirações profundas e ruidosas, lembrando um peixe fora d'água. Como se denomina esse padrão respiratório?

- (A) Bradipneia.
- (B) Respiração de Biot.
- (C) Dispneia.
- (D) Respiração de Cheyne Stokes.
- (E) Respiração de Kussmaul.

30

A terminologia empregada para designar as variações da pressão arterial é de extrema importância para a identificação do quadro apresentado pelo paciente. Nesse sentido, é correto afirmar que, quando as pressões sistólicas e diastólicas estão muito próximas, denomina-se

- (A) pressão divergente.
- (B) pressão convergente.
- (C) pressão de pulso.
- (D) hipertensão.
- (E) hipotensão.

31

Em relação à composição do esfigmomanômetro, apresentado a seguir, é correto afirmar que a seta indica



- (A) a válvula de escape do esfigmomanômetro.
- (B) a válvula reguladora do esfigmomanômetro.
- (C) o anel de insuflação do esfigmomanômetro.
- (D) o manguito do esfigmomanômetro.
- (E) o manômetro do esfigmomanômetro.

32

Os determinantes da dor são compostos principalmente pelos aspectos psicossociais e neurossensitivos. Assim, a dor é classificada quanto ao tempo, à origem e à localização. Quanto a essa última classificação, quando a dor geralmente envolve comprometimento de articulações e pode ser referida como dor em agulhada, queimação e pulsátil, ela é chamada de

- (A) dor somática.
- (B) dor visceral.
- (C) dor referida.
- (D) dor irradiada.
- (E) dor cutânea.

33

Sobre as medicações mais comuns utilizadas para o tratamento de processos inflamatórios do sistema respiratório, é correto afirmar que

- (A) os broncodilatadores têm como ação o aumento da produção de muco, estimulando a tosse. São exemplos o Bromidrato de Fenoterol e o Brometo de Ipratrópio.
- (B) os expectorantes reflexos têm como ação o relaxamento das vias aéreas, permitindo maior fluxo de ar, como o Iodeto de Potássio.
- (C) os expectorantes mucolíticos têm como ação a diminuição do reflexo da tosse. A Codeína é um exemplo desse tipo de medicação.
- (D) os antitussígenos têm como ação a diminuição da viscosidade do muco, permitindo facilidade na expectoração. Um exemplo desse tipo de medicação é a Acetilcisteína.
- (E) o Oxigênio tem como ação o aumento dos níveis séricos de oxigênio absorvido pelos pulmões. São exemplos o cateter nasal, o cateter tipo óculos (dupla saída), a máscara facial, a ventilação por pressão positiva e a ventilação artificial.

34

A máscara facial de nebulização, ou também chamada de máscara simples, é considerada um sistema de baixo fluxo muito utilizado no cuidado a pacientes com alterações do sistema respiratório. É um sistema simples, confortável, que tem baixo custo e fornece concentrações de O2 superiores a

- (A) 5%
- (B) 40%
- (C) 30%
- (D) 20%
- (E) 10%

35

A Nutrição Enteral (NE) é indicada, de modo geral, a clientes que apresentam o aparelho digestivo funcionando, mas que não são capazes de ingerir pelo menos 60% de suas necessidades calórico-proteicas por via oral. No entanto é correto afirmar que essa terapia está contraindicada em qual das seguintes condições?

- (A) Anorexia nervosa.
- (B) Lesões orais.
- (C) Peritonite difusa.
- (D) Acidentes Vasculares Encefálicos (AVE).
- (E) Neoplasias.

36

A Nutrição Parenteral (NP) consiste na administração intravenosa de macronutrientes, como glicose, lipídios e aminoácidos, além de água, eletrólitos e micronutrientes, incluindo vitaminas e minerais. A Nutrição Parenteral Central (NPC) consiste na administração da solução de alta osmolaridade, sendo realizada por meio de diversos tipos de cateter vascular, cuja extremidade distal é posicionada na

- (A) valva aórtica.
- (B) valva mitral.
- (C) veia cava inferior.
- (D) veia cava superior.
- (E) artéria pulmonar esquerda.

37

Em relação ao cateterismo vesical, assinale a alternativa INCORRETA.

- (A) Pode ser do tipo sonda de Foley, de três vias, sendo a terceira utilizada para irrigação vesical, ou sonda de Owens, com duas vias (um lúmen para drenagem de urina e o outro para insuflar e desinsuflar o balão).
- (B) O cateterismo uretral requer prescrição médica e, a depender da instituição, pode ser realizado pela equipe de Enfermagem ou pelo profissional médico.
- (C) Consiste na inserção de um cateter na bexiga, por meio da uretra. Tem como funções promover um fluxo contínuo de urina, em casos de obstrução ou quando o indivíduo não consegue controlar a micção.
- (D) A sondagem vesical pode ser de alívio (intermitente) ou de demora. As sondas de alívio são geralmente plásticas e as de demora são elásticas, flexíveis e autoestáticas.
- (E) As medidas de Enfermagem devem ser direcionadas para manutenção do fluxo de urina e prevenção de infecções.

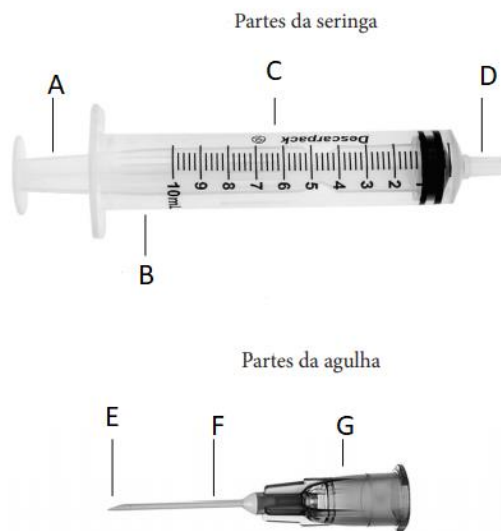
38

Em um paciente com uma ferida cavitária em região sacral, com presença de infecção, exsudação de moderada à intensa e com tecido necrótico, o enfermeiro optou corretamente por usar qual cobertura/produto?

- (A) Papaína.
- (B) Hidrocoloide.
- (C) Filme transparente.
- (D) Alginato de Cálcio.
- (E) Sulfadiazina de prata.

39

Para que se proceda uma punção venosa, é necessário, além do equipamento apropriado, o conhecimento do material a ser utilizado. Sobre isso, analise a figura a seguir e assinale a alternativa correta.



- (A) A=Êmbolo, B=Escala de graduação, C=Corpo.
- (B) D=Bico, E=Haste, G=Bisel.
- (C) F=agulha, D=Bisel, A=Canhão.
- (D) C=seringa, G=conector, E=agulha.
- (E) F=Haste, A=Êmbolo, E=Bisel.

40

Em relação à via, ao local, ao volume, ao ângulo e à posição do bisel para administração de medicação parenteral em adultos, observe a seguinte tabela e assinale a alternativa correta.

Via	Locais de Aplicação	Volume Máximo	Ângulo da agulha	Posição do bisel
ID	- Face central do antebraço	A	De 10° a 15°	Para cima
SC	- Face externa anterior e posterior do braço	B	90°	Para cima
EV	- Veias longitudinais do braço e antebraço	Ilimitado	De 10° a 15°	D
IM	Dorsoglúteo	C	E	Lateral

- (A) A letra B refere-se ao volume máximo de 4 ml.
- (B) A letra A refere-se ao volume máximo de 2 ml.
- (C) A letra D refere-se ao bisel voltado para baixo.
- (D) A letra C refere-se ao volume máximo de 5 ml.
- (E) A letra E refere-se ao ângulo de 45° graus.

41

No esquema Paucibacilar (PB) do tratamento da Hanseníase, considera-se uma pessoa de alta por cura aquela que completa o esquema de tratamento poliquimioterápico (PQT) em qual prazo?

- (A) 18 doses mensais supervisionadas de rifampicina, em até 24 meses, mais a clorpromazina autoadministrada e a clofazimina autoadministrada e supervisionada.
- (B) 15 doses mensais supervisionadas de dapsona, em até 18 meses, mais a sulfona autoadministrada e a rifampicina autoadministrada e supervisionada.
- (C) 6 doses mensais supervisionadas de rifampicina, em até 9 meses, mais a sulfona autoadministrada.
- (D) 12 doses mensais supervisionadas de rifampicina, em até 15 meses, mais a sulfona autoadministrada e a clindamicina autoadministrada e supervisionada.
- (E) 6 doses mensais supervisionadas de clofazimina, em até 12 meses, mais a sulfona autoadministrada e a rifampicina autoadministrada e supervisionada.

42

A comprovação bacteriológica dos casos de tuberculose é fundamental tanto para o diagnóstico quanto para o controle da doença. Para a realização da baciloscopia, recomenda(m)-se:

- (A) duas amostras de escarro: uma no momento da identificação do Sintomático Respiratório (SR) e outra na manhã do dia seguinte.
- (B) duas amostras de escarro: uma no momento da identificação do Sintomático Respiratório (SR) e outra na semana seguinte.
- (C) uma amostra de escarro no momento da identificação do Sintomático Respiratório (SR).
- (D) três amostras de escarros: a primeira coleta no momento da identificação do Sintomático Respiratório (SR), a segunda coleta depois de 10 dias da primeira e a terceira coleta 10 dias depois da segunda.
- (E) duas amostras de escarro: uma no momento da identificação do Sintomático Respiratório (SR) e outra após o resultado da primeira, para evitar falso-positivo.

43

O Ministério da Saúde propõe três pilares para o plano de combate à hanseníase: 1) Fortalecimento da Gestão do Programa; 2) Enfrentamento da hanseníase e suas complicações e 3) Promoção da inclusão social por meio do combate ao estigma e à discriminação. Qual das alternativas está inserida no segundo pilar?

- (A) Apoiar modelos de desenvolvimento inclusivos para pessoas acometidas pela hanseníase.
- (B) Fortalecer o sistema de vigilância e informação em saúde para monitoramento e avaliação do programa.
- (C) Assegurar compromisso político e recursos para os programas de hanseníase nas três esferas de governo.
- (D) Qualificar as ações de prevenção e o manejo das incapacidades durante o tratamento e no pós-alta.
- (E) Fortalecer a capacidade de participação ativa das pessoas acometidas pela hanseníase nos espaços de controle social e nos serviços de saúde.

44

A imunização para o Papilomavírus Humano (HPV) é realizada por meio de vacina quadrivalente (tipos 6, 11, 16 e 18), estando indicada para meninas e meninos. Sobre o esquema vacinal é correto afirmar que a vacinação está indicada

- (A) para meninas de 7 a 9 anos e meninos de 10 a 12 anos. O esquema é composto por dose única em ambos os sexos.
- (B) para meninas de 9 a 14 anos e meninos de 11 a 14 anos. O esquema é composto de duas doses, com intervalo de seis meses.
- (C) para meninas de 10 a 15 anos e meninos de 15 a 17 anos. O esquema é composto de duas doses, com intervalo de dois meses.
- (D) para meninas de 9 a 11 anos e meninos de 9 a 14 anos. O esquema é composto de três doses, com intervalo de dois meses entre as doses.
- (E) para meninas de 10 a 14 anos e meninos de 10 a 17 anos. O esquema é composto de duas doses, com intervalo de três meses.

45

Paciente do sexo feminino, 28 anos, procurou o serviço de saúde com queixas de ulcerações na região genital. Após resultado laboratorial dessa paciente ter dado positivo para *Treponema pallidum*, é correto afirmar que estamos diante de qual Infecção Sexualmente Transmissível (IST)?

- (A) Vaginose bacteriana.
- (B) Condiloma acuminado.
- (C) Gonorreia.
- (D) Clamídia.
- (E) Sífilis.

46

Em adultos, qual é o tempo ideal para a aplicação do primeiro choque no caso de uma Parada Cardiorrespiratória (PCR) em Fibrilação Ventricular (FV), já que, nesse período, o coração se encontra em ritmo de FV grosseira, o que facilita a reversão pela desfibrilação?

- (A) Compreende os primeiros 9 a 11 minutos da PCR.
- (B) Compreende os primeiros 3 a 5 minutos da PCR.
- (C) Compreende os primeiros 5 a 7 minutos da PCR.
- (D) Compreende os primeiros 7 a 9 minutos da PCR.
- (E) Compreende os primeiros 11 a 13 minutos da PCR.

47

Durante uma tentativa de reanimação, o socorrista deve tentar identificar a causa da Parada Cardiorrespiratória (PCR). Deve-se tentar obter dados, examinando o paciente ou conversando com os familiares, que permitam definir a possível causa e a estratégia terapêutica, particularmente para as causas reversíveis de PCR. A maioria das causas de parada pode ser resumida pelo mnemônico “5H e 5T”. Qual das seguintes alternativas NÃO contempla esse mnemônico?

- (A) Hipóxia.
- (B) Toxinas.
- (C) Hipoglicemia.
- (D) Hipovolemia.
- (E) Trombose coronariana.

48

Em se tratando de autocuidado apoiado, a equipe de saúde deve utilizar algumas estratégias para apoiar o processo de mudança de acordo com os estágios de motivação do indivíduo. Por exemplo, uma das estratégias profissionais utilizadas no estágio de pré-contemplação do paciente está corretamente descrita em qual das alternativas?

- (A) Acompanhar a realização dos passos para a mudança, avaliar em conjunto o foco na mudança, os resultados atuais, a necessidade de adequação, a persistência.
- (B) Explorar a divisão interna para que a pessoa saia do estado de paralisia; evocar as razões para mudar e os riscos de mudar ou não mudar o comportamento-alvo; fornecer apoio; fortalecer a autoeficácia para a mudança.
- (C) Auxiliar na elaboração e no detalhamento de um plano de ação; questionar quando, como e onde pretende realizá-lo, como irá se organizar, qual é a data de início, quais são as metas e os prazos, quais são os obstáculos, quem ou o que ajudará.
- (D) Ajudar na identificação dos benefícios do comportamento assumido e na valorização do que está funcionando; reconhecer as situações de risco e as estratégias de enfrentamento; prevenir deslizes e recaídas.
- (E) Fornecer informações; levantar dúvidas e trazer questionamentos; aumentar e fortalecer a percepção acerca dos riscos e dos problemas decorrentes do comportamento atual; evidenciar a discrepância entre os objetivos pessoais e o comportamento; dar *feedback*.





49

Durante a realização do exame físico, o enfermeiro utilizou a seguinte técnica: “com uma das mãos, golpeia-se o abdome, enquanto a outra mão fica espalmada na região contralateral, tentando captar ondas líquidas que se chocam contra a parede abdominal”. Qual é o nome dado a essa técnica?

- (A) Percussão dígito-digital.
- (B) Percussão punho-percussão.
- (C) Percussão com a borda da mão.
- (D) Percussão por piparote.
- (E) Percussão dígito-frontal.

50

O exame da pupila é de grande importância durante o exame físico do paciente, pois é possível identificar algum tipo de lesão neurológica. Portanto é imprescindível que se conheça a forma normal das pupilas. Nesse sentido, observe as figuras a seguir e assinale a alternativa correta.

SINAIS A SEREM OBSERVADOS	DIAGNÓSTICO-PROVÁVEL
 <p>ISOCÓRICAS</p>	1
 <p>MIOSE</p>	2
 <p>ANISOCÓRICAS</p>	3
 <p>MIDRIASE</p>	4

- (A) A situação 2 refere-se à condição normal, porém deve-se reavaliar constantemente.
- (B) A situação 1 refere-se à lesão no sistema nervoso central ou abuso no uso de drogas (toxinas).
- (C) A situação 4 refere-se ao Acidente Vascular Cerebral (AVC), traumatismo cranioencefálico (TCE).
- (D) A situação 3 refere-se a ambientes com pouca luz, anóxia ou hipóxia severa, inconsciência, estado de choque e hemorragia.
- (E) A situação 2 refere-se à lesão no sistema nervoso central ou abuso no uso de drogas (toxinas).

51

Durante ausculta do tórax de um paciente, o enfermeiro constatou um som grave de fricção durante a inspiração e a expiração, causado pela fricção dos dois folhetos da pleura que se encontram inflamados. Esse som anormal durante a ausculta é chamado de

- (A) sibilo.
- (B) ronco.
- (C) atrito pleural.
- (D) crepitação.
- (E) estridor.

52

Uma das queixas mais comuns em saúde da mulher são os problemas relacionados à menstruação. A causa do sangramento uterino aumentado em ciclos regulares, porém prolongados ou intensos pode estar relacionada

- (A) à miomatose uterina.
- (B) ao climatério.
- (C) à Síndrome dos Ovários Policísticos (SOP).
- (D) à hiperprolactinemia.
- (E) ao hipotireoidismo.

53

Em relação ao câncer de mama, os serviços de saúde podem atuar em diferentes níveis de prevenção. Qual desses níveis auxilia a reabilitação, o retorno às atividades e a reinserção da mulher na comunidade; orienta cuidados; mantém o acompanhamento clínico e o controle da doença; orienta quanto aos direitos dos portadores de câncer e facilita o acesso a eles, quando necessário?

- (A) Prevenção primária.
- (B) Prevenção terciária.
- (C) Prevenção secundária.
- (D) Prevenção quaternária.
- (E) Posvenção primária.

54

Trabalhar com grupos operativos de adolescentes significa que eles se reunirão em torno de uma tarefa (um bate-papo, a preparação de uma peça teatral, a confecção de um jornal), trabalhando o processo grupal, as relações, os conflitos e as questões da singularidade. Assim, em relação aos aspectos considerados importantes no trabalho com grupos de adolescentes, assinale a alternativa INCORRETA.

- (A) O grupo pode constituir uma “porta de entrada” para outros atendimentos. Os adolescentes, muitas vezes resistentes aos atendimentos individuais, aderem com mais facilidade às atividades em grupo, mais atraentes e menos ameaçadoras.
- (B) Um desafio sempre presente é constituir no grupo de adolescentes um espaço, não só de construção de conhecimento, mas também de elaboração de experiências e sentimentos.
- (C) É importante que o espaço grupal favoreça o desenvolvimento da subjetividade e possibilite aos jovens a construção de saídas mais saudáveis e singulares para a adolescência.
- (D) O trabalho deve privilegiar o desenvolvimento de atividades lúdicas e participativas, o que contribui significativamente para aumentar o interesse e o grau de compromisso dos jovens com o grupo.
- (E) Organizar os adolescentes em grupos (independente da idade), pois os interesses, a capacidade de abstração e de elaboração das questões são próprios da adolescência e o contato com diversas faixas etárias estimula a tomada de decisão.

55

A gestão de determinado serviço de saúde está organizando a abertura de um setor de cuidados semi-intensivo hospitalar. De acordo com o referencial mínimo para o quadro de profissionais de enfermagem para as 24 horas de cada Unidade de Internação (UI) e considerando o Sistema de Classificação de Pacientes (SCP), as horas de assistência de enfermagem, a distribuição percentual do total de profissionais de enfermagem e a proporção profissional/paciente, assinale a alternativa correta.

- (A) A distribuição percentual do total de profissionais de enfermagem deve levar em conta, para o cuidado semi-intensivo, a seguinte proporção: 33% de enfermeiros (mínimo de seis) e os demais auxiliares e/ou técnicos de enfermagem.
- (B) Para efeito de cálculo, devem ser considerados: o SCP e a proporção profissional/paciente nos diferentes turnos de trabalho de cuidado semi-intensivo: sendo 1 profissional de enfermagem para 6 pacientes.
- (C) Cabe à equipe médica realizar o registro diário da classificação dos pacientes segundo o SCP, para subsidiar a composição do quadro de profissionais para as unidades de internação.
- (D) Como horas de enfermagem, por paciente, nas 24 horas, deve-se levar em conta 10 horas de enfermagem, por paciente, no cuidado semi-intensivo.
- (E) Para o alojamento conjunto, o binômio mãe/filho deve ser classificado, no mínimo, como cuidado intensivo.

56

A Rede de Atenção à Saúde (RAS) se constitui como um conjunto de ações e serviços de saúde articulados em níveis de complexidade crescente, com a finalidade de garantir a integralidade da assistência à saúde. Considerando a organização da RAS, qual das alternativas apresenta corretamente a BASE dessa rede?

- (A) Rede Cegonha.
- (B) Atenção Básica.
- (C) Rede de Atenção Psicossocial.
- (D) Rede de Urgência e Emergência.
- (E) Rede de atenção às condições crônicas.

57

Em relação à atenção das pessoas idosas, a organização do cuidado dessa população deve ser articulada em rede, no âmbito de uma Região de Saúde, ou de várias delas. A organização e o financiamento desse cuidado deverão ser pactuados

- (A) nas comissões intergestores.
- (B) nos conselhos locais de saúde.
- (C) nas Unidades Básicas de Saúde.
- (D) na atenção especializada de saúde.
- (E) no centro de referência de cuidado ao idoso.

58

Sabe-se que o cuidado com a saúde da criança é composto por uma rede interdisciplinar e multiprofissional capaz de compreender todas as necessidades e os direitos infantis. Considerando essa rede, qual das alternativas apresenta um serviço pertencente à rede intersetorial de atenção à criança?

- (A) Unidade Básica de Saúde (UBS).
- (B) Núcleos de Apoio à Saúde da Família (NASF).
- (C) Centro de Atenção Psicossocial (CAPS) infantil.
- (D) Juizados da Infância e da Juventude.
- (E) Estratégia Saúde da Família (ESF).

59

Ao realizar o exame físico de uma criança de dois meses de idade, o enfermeiro realizou a manobra de rotação da cabeça para um lado, observando consequente extensão do membro superior e inferior do lado facial e flexão dos membros contralaterais. A manobra foi realizada bilateralmente e foi simétrica. Nesse caso, não há motivo para preocupações, pois esse reflexo desaparece até o 3º mês. De acordo com o enunciado, qual é o nome do reflexo avaliado pelo enfermeiro?

- (A) Reflexo de Moro.
- (B) Reflexo tônico-cervical.
- (C) Reflexo cutâneo-plantar.
- (D) Reflexo de preensão plantar.
- (E) Reflexo contralateral.

60

De acordo com o Calendário Nacional de Vacinação para crianças, preconizado pelo Ministério da Saúde, qual das alternativas corresponde às vacinas que devem ser aplicadas em uma criança de 4 anos de idade, considerando que suas vacinas estão em dia?

- (A) Pentavalente + DTP, VOP, Febre amarela.
- (B) Hepatite B, VOP, Meningocócica C.
- (C) Pentavalente, VIP, Tríplice viral.
- (D) VIP/VOP, Pneumocócica 10, Rotavírus humano.
- (E) Pentavalente, Rotavírus Humano, Febre amarela.

Realização



instituto aacp



EDITAL DE CONCURSO PÚBLICO Nº 02/2020



T2426044N

PREFEITURA DE JOÃO PESSOA
SECRETARIA DA SAÚDE

ENFERMEIRO

NOME DO CANDIDATO _____

INSCRIÇÃO _____

Nível

SUPERIOR

Turno

TARDE

PROVA

02

Lembre-se de marcar o número acima na folha de respostas!



**instituto
aacp**

Fraudar ou tentar fraudar
Concursos Públicos é Crime!
Previsto no art. 311 - A do
Código Penal

Sobre o material recebido pelo candidato

- ✓ Além deste Caderno de Questões, com **sessenta questões objetivas**, você receberá do fiscal de sala a Folha de Respostas.
- ✓ Confira seu nome, o número do seu documento e o número de sua inscrição em todos os documentos entregues pelo fiscal. Além disso, não se esqueça de conferir seu Caderno de Questões quanto a falhas de impressão e de numeração e se o cargo corresponde àquele para o qual você se inscreveu.
- ✓ O não cumprimento a qualquer uma das determinações constantes em Edital, no presente Caderno ou na Folha de Respostas incorrerá na eliminação do candidato.

Sobre o material a ser devolvido pelo candidato

- ✓ O único documento válido para avaliação é a Folha de Respostas.
- ✓ Na Folha de Respostas, preencha os campos destinados à assinatura e ao número de inscrição. As respostas às questões objetivas devem ser preenchidas da seguinte maneira: ●
- ✓ Na Folha de Respostas, só é permitido o uso de caneta esferográfica transparente de cor azul ou preta. Esse documento deve ser devolvido ao fiscal na saída, devidamente preenchido e assinado.

Sobre a duração da prova e a permanência na sala

- ✓ O prazo de realização da prova é de 4 horas, incluindo a marcação da Folha de Respostas.
- ✓ Após 60 (sessenta) minutos do início da prova, o candidato estará liberado para utilizar o sanitário ou deixar definitivamente o local de aplicação, não podendo, no entanto, levar o Caderno de Questões e nenhum tipo de anotação de suas respostas.
- ✓ O candidato poderá levar consigo o Caderno de Questões somente se aguardar em sala até o término do prazo de realização da prova estabelecido em edital.
- ✓ Os três últimos candidatos só poderão retirar-se da sala juntos, após assinatura do Termo de Fechamento do Envelope de Retorno.

Sobre a divulgação das provas e dos gabaritos

- ✓ As provas e os gabaritos preliminares estarão disponíveis no dia posterior à aplicação da prova no site do **Instituto AACP** no endereço eletrônico **www.institutoaacp.org.br**

Língua Portuguesa

Borderline: o transtorno que faz pessoas irem do "céu ao inferno" em horas

Tatiana Pronin

Uma alegria contagiante pode se transformar em tristeza profunda em um piscar de olhos porque alguém "pisou na bola". O amor intenso vira ódio profundo, porque a atitude foi interpretada como traição; o sentimento sai de controle e se traduz em gritos, palavrões e até socos. E, então, bate uma culpa enorme e o medo de ser abandonado, como sempre. Dá vontade de se cortar, de beber e até de morrer, porque a dor, o vazio e a raiva de si mesmo são insuportáveis. As emoções e comportamentos exaltados podem dar uma ideia do que vive alguém com transtorno de personalidade borderline (ou "limítrofe").

Reconhecido como um dos transtornos mais lesivos, leva a episódios de automutilação, abuso de substâncias e agressões físicas. Além disso, cerca de 10% dos pacientes cometem suicídio. Além da montanha-russa emocional e da dificuldade em controlar os impulsos, o borderline tende a enxergar a si mesmo e aos outros na base do "tudo ou nada", o que torna as relações familiares, amorosas, de amizade e até mesmo a com o médico ou terapeuta extremamente desgastantes.

Muitos comportamentos do "border" (apelido usado pelos especialistas) lembram os de um jovem rebelde sem tolerância à frustração. Mas, enquanto um adolescente problemático pode melhorar com o tempo ou depois de uma boa terapia, o adulto com o transtorno parece alguém cujo lado afetivo não amadurece nunca.

Ainda que seja inteligente, talentoso e brilhante no que faz, reage como uma criança ao se relacionar com os outros e com as próprias emoções — o que os psicanalistas chamam de "ego imaturo". Em muitos casos, o transtorno fica camuflado entre outros, como o bipolar, a depressão e o uso abusivo de álcool, remédios e drogas ilícitas.

De forma resumida, um transtorno de personalidade pode ser descrito como um jeito de ser, de sentir, se perceber e se relacionar com os outros que foge do padrão considerado "normal" ou saudável. Ou seja, causa sofrimento para a própria pessoa e/ou para os outros. Enquadrar um indivíduo em uma categoria não é fácil — cada pessoa é um universo, com características próprias. [...]

O diagnóstico é bem mais frequente entre as mulheres, mas estudos sugerem que a incidência seja igual em ambos os sexos. O que acontece é que elas tendem a pedir mais socorro, enquanto os homens são mais propensos a se meter em encrencas, ir para a cadeia ou até morrer mais precocemente por causa de comportamentos de risco. Quase sempre o transtorno é identificado em adultos jovens e os sintomas tendem a se tornar atenuados com o passar da idade.

Transtornos de personalidade são diferentes de transtornos mentais (como depressão, ansiedade, transtorno bipolar, psicose etc.), embora seja difícil para leigos e desafiante até para especialistas fazer essa distinção, já que sobreposições ou comorbidades (existência de duas ou mais condições ao mesmo tempo) são muito frequentes. Não é raro que o borderline desenvolva transtorno bipolar, depressão, transtornos alimentares (em especial a bulimia), estresse pós-traumático, déficit de atenção/hiperatividade e transtorno por abuso de substâncias, entre outros. [...]

O paciente borderline sofre os períodos de instabilidade mais intensos no início da vida adulta. Há situações de crise, ou maior descontrole, que podem até resultar em internações porque o paciente coloca sua própria vida ou a dos outros em risco. Por volta dos 40 ou 50 anos, a maioria dos "borders" melhora bastante, probabilidade que aumenta se o paciente se engaja no tratamento. [...]

A personalidade envolve não só aspectos herdados, mas também aprendidos, por isso a melhora é possível, ainda que seja difícil de acreditar no início. Se a psicoterapia é importante para ajudar o bipolar a identificar uma virada e evitar perdas, no transtorno de personalidade ela é o carro-chefe do tratamento. [...]

Medicamentos ajudam a aliviar os sintomas depressivos, a agressividade e o perfeccionismo exagerado, e são ainda mais importantes quando existe um transtorno mental associado. Os fármacos mais utilizados são os antidepressivos (fluoxetina, escitalopram, venlafaxina etc.), os estabilizadores de humor (lítio, lamotrigina, ácido valproico etc.), os antipsicóticos (olanzapina, risperidona, quetiapina etc.) e, em situações pontuais, sedativos ou remédios para dormir (clonazepan, diazepam, alprazolam etc.). Esses últimos costumam ser até solicitados pelos pacientes, mas devem ser evitados ao máximo, porque podem afrouxar o controle dos impulsos, assim como o álcool, além de causarem dependência. [...]

Disponível em:

<https://www.uol.com.br/vivabem/noticias/redacao/2018/04/16/borderline-a-doenca-que-faz-10-dos-diagnosticados-cometerem-suicidio.htm>.

Acesso em: 04 jan. 2021.

1

Assinale a alternativa correta considerando o conteúdo do texto.

- (A) Segundo o texto, as relações interpessoais e até mesmo relacionadas ao tratamento dos “borders” desgastam-se com facilidade e isso acaba provocando descontrole emocional e alterações de humor extremas em tais indivíduos.
- (B) De acordo com o texto, categorizar pessoas é uma tarefa difícil porque cada um apresenta atitudes, pensamentos, aptidões, gostos, sentimentos etc. bem particulares.
- (C) Transtornos como a bipolaridade (de personalidade) e borderline (mentais) apresentam diferenças sutis e, normalmente, esses transtornos são observados em um mesmo paciente de modo simultâneo.
- (D) Segundo o texto, quem mais sofre com a síndrome borderline é o próprio paciente acometido pela doença, sendo pouco e/ou raramente afetadas as pessoas que o rodeiam.
- (E) Tratamentos psicoterápicos são mais eficazes em casos de bipolaridade do que em quadros de borderline, uma vez que, comprovadamente, para esses pacientes, a abordagem medicamentosa costuma funcionar mais.

2

Assinale a alternativa em que haja um verbo de ligação com valor de “mudança de estado”.

- (A) “O amor intenso vira ódio profundo, [...]”.
- (B) “[...] a dor, o vazio e a raiva de si mesmo são insuportáveis.”
- (C) “[...] o transtorno fica camuflado [...]”.
- (D) “O paciente borderline sofre os períodos de instabilidade mais intensos no início da vida adulta.”.
- (E) “[...] o adulto com o transtorno parece alguém cujo lado afetivo não amadurece nunca.”.

3

Assinale a alternativa em que o termo ou a expressão destacado(a) tenha sido usado(a) em sentido denotativo.

- (A) “Uma alegria contagiante pode se transformar em tristeza profunda em um piscar de olhos porque alguém ‘pisou na bola’.”.
- (B) “E, então, bate uma culpa enorme e o medo de ser abandonado, como sempre.”.
- (C) “Além da montanha-russa emocional e da dificuldade em controlar os impulsos, o borderline tende a enxergar a si mesmo e aos outros na base do ‘tudo ou nada’, [...]”.
- (D) “Transtornos de personalidade são diferentes de transtornos mentais [...]”.
- (E) “[...] o adulto com o transtorno parece alguém cujo lado afetivo não amadurece nunca.”.

4

Referente ao seguinte excerto, assinale a alternativa correta.

“Há situações de crise, ou maior descontrole, que podem até resultar em internações porque o paciente coloca sua própria vida ou a dos outros em risco. Por volta dos 40 ou 50 anos, a maioria dos "borders" melhora bastante, probabilidade que aumenta se o paciente se engaja no tratamento. [...]"

- (A) Em “Há situações de crise, ou maior descontrole, [...]”, o verbo “haver” poderia ser substituído por “existir” sem mudanças no que tange à concordância.
- (B) No trecho “Há situações de crise, ou maior descontrole, que podem até resultar em internações [...]”, o pronome “que” em destaque retoma a locução “de crise”.
- (C) Em “[...] a maioria dos "borders" melhora bastante, [...]”, o verbo “melhora”, segundo a norma-padrão, deveria ser empregado no plural, para concordar com “borders”.
- (D) O termos destacados em “[...] se o paciente se engaja no tratamento [...]” desempenham a mesma função gramatical.
- (E) No trecho “[...] probabilidade que aumenta se o paciente se engaja no tratamento.”, a oração adjetiva em destaque restringe o termo “probabilidade”.

5

Em relação aos usos da vírgula, assinale a alternativa em que tal sinal de pontuação tenha sido usado para separar orações coordenadas.

- (A) “[...] o sentimento sai de controle e se traduz em gritos, palavrões e até socos.”
- (B) “E, então, bate uma culpa enorme e o medo de ser abandonado [...]”.
- (C) “Mas, enquanto um adolescente problemático pode melhorar com o tempo ou depois de uma boa terapia, o adulto com o transtorno parece alguém cujo lado afetivo não amadurece nunca.”.
- (D) “Por volta dos 40 ou 50 anos, a maioria dos "borders" melhora bastante [...]”.
- (E) “Esses últimos costumam ser até solicitados pelos pacientes, mas devem ser evitados ao máximo [...]”.

6

Considerando o trecho que segue, a respeito dos elementos de coesão e suas respectivas relações lógico-semânticas, analise as assertivas e assinale a alternativa que aponta a(s) correta(s).

“A personalidade envolve não só aspectos herdados, mas também aprendidos, por isso a melhora é possível, ainda que seja difícil de acreditar no início. Se a psicoterapia é importante para ajudar o bipolar a identificar uma virada e evitar perdas, no transtorno de personalidade ela é o carro-chefe do tratamento. [...]”.

- I. Não haveria prejuízo de sintaxe nem de efeito de sentido caso a expressão correlativa “não só/mas também” fosse, nesse contexto, substituída pela conjunção, igualmente aditiva, “e”.
- II. Em vez de “não só/mas também”, poder-se-ia usar, nessa situação, a locução também correlativa “tanto/quanto”, embora esta expresse valor de comparação e não de adição.
- III. A expressão “ainda que” tem valor de concessão e poderia ser substituída, nesse caso, por “embora”.

- (A) Apenas I.
- (B) Apenas II.
- (C) Apenas I e II.
- (D) Apenas II e III.
- (E) I, II e III.

7

Considerando o seguinte excerto, informe se é verdadeiro (V) ou falso (F) o que se afirma a seguir e assinale a alternativa com a sequência correta.

“O diagnóstico é bem mais frequente entre as mulheres, mas estudos sugerem que a incidência seja igual em ambos os sexos.”.

- () Os termos “diagnóstico” e “incidência” são acentuados devido à mesma regra de acentuação em Língua Portuguesa.
- () No termo “frequente”, há um encontro consonantal em “fr”.
- () O vocábulo “mulheres” apresenta um dígrafo e um encontro consonantal.
- () As palavras “frequente”, “mulheres” e “incidência” são todas paroxítonas.
- () O termo “sexos” apresenta cinco letras e seis fonemas.

- (A) F – V – F – V – F.
- (B) V – F – V – F – V.
- (C) F – V – F – V – V.
- (D) V – V – F – F – F.
- (E) F – F – V – V – V.

8

Analise o trecho que segue.

“Medicamentos ajudam a aliviar os sintomas depressivos, a agressividade e o perfeccionismo exagerado, e são ainda mais importantes quando existe um transtorno mental associado. Os fármacos mais utilizados são os antidepressivos (fluoxetina, escitalopram, venlafaxina etc), os estabilizadores de humor (lítio, lamotrigina, ácido valproico etc), os antipsicóticos (olanzapina, risperidona, quetiapina etc) e, em situações pontuais, sedativos ou remédios para dormir (clonazepan, diazepan, alprazolam etc). Esses últimos costumam ser até solicitados pelos pacientes, mas devem ser evitados ao máximo, porque podem afrouxar o controle dos impulsos, assim como o álcool, além de causarem dependência. [...]”.

Em relação, sobretudo, aos componentes destacados nesse segmento do texto, é correto afirmar que

- (A) o verbo “são” em destaque tem como sujeito os elementos “os sintomas depressivos, a agressividade e o perfeccionismo exagerado”.
- (B) a conjunção “quando”, tradicionalmente indicadora de tempo, em certos contextos, pode também expressar valor de condição, como ocorre nesse caso.
- (C) o uso de “antidepressivos”, em destaque, exemplifica um caso de substantivo transformado em adjetivo.
- (D) a preposição “para” expressa a relação lógico-semântica de causa.
- (E) o pronome demonstrativo “esses” retoma os medicamentos “clonazepan, diazepan, alprazolam” e poderia ser substituído por “estes” sem nenhum dano gramatical.

9

Ainda em relação ao trecho “Esses últimos costumam ser até solicitados pelos pacientes, mas devem ser evitados ao máximo, porque podem afrouxar o controle dos impulsos, assim como o álcool, além de causarem dependência.”, os verbos destacados retomam a expressão “Esses últimos” e fazem referência a ela por meio de

- (A) sujeito elíptico, em que se oculta um termo já de conhecimento do leitor.
- (B) zeugma, em que se oculta um termo, independente de ter sido mencionado antes ou não.
- (C) coesão por anáfora, em que se usa um elemento para anunciar outro, ainda não mencionado no texto.
- (D) coesão por catáfora, em que se usa um elemento para recuperar outro, já mencionado no texto.
- (E) referência nominal, em que se emprega um nome para recuperar um termo anterior.

10

De acordo com o texto, assinale a alternativa correta.

- (A) Pessoas que sofrem do transtorno borderline vão do “céu ao inferno” em um curto período de tempo porque ora se comportam como crianças sem malícia ora se comportam como adultos responsáveis.
- (B) Alguém com a personalidade borderline (“límitrofe”), comumente, apresenta posturas resistentes a limites, regras.
- (C) Um “border”, em geral, vive a infância e a adolescência sem apresentar graves alterações geradas por tal transtorno.
- (D) Grande parte dos “borders”, além de se automutilarem e de apresentarem intensa rebeldia, acabam cometendo suicídio.
- (E) Borderline afeta, sobretudo, mulheres que apresentam esse transtorno aliado à bipolaridade e à depressão.

Matemática

11

Cinco pessoas, identificadas como P_1 , P_2 , P_3 , P_4 e P_5 , estão em uma clínica médica aguardando a vez para realizar dois tipos de exames laboratoriais. Sabe-se que duas dessas pessoas, cada uma na sua vez, irão fazer o exame de Hemograma e as outras três, também cada um na sua vez, irão fazer o exame de Glicemia. Sabe-se também que P_3 e P_4 irão fazer o mesmo tipo de exame, P_2 e P_5 irão fazer exames de tipos diferentes e P_2 e P_5 irão fazer exames de tipos diferentes. Com base nessas informações, é correto afirmar que

- (A) P_1 irá fazer o exame de Glicemia.
- (B) P_5 irá fazer o exame de Hemograma.
- (C) P_3 irá fazer o exame de Hemograma.
- (D) P_2 irá fazer o exame de Glicemia.
- (E) P_4 irá fazer o exame de Glicemia.

12

Comparando os números 500 e 100, é correto afirmar que

- (A) 500 é exatamente 300% maior que 100.
- (B) 500 é exatamente 400% maior que 100.
- (C) 100 é exatamente 180% menor que 500.
- (D) 500 é exatamente 100% maior que 100.
- (E) 100 é exatamente 60% menor que 500.

13

Se $p = \frac{7}{10}$, $q = \frac{1}{50}$ e $r = \frac{6}{7}$, então o valor de $\frac{2.p.r}{6.q}$ é igual a

- (A) 10
- (B) $\frac{1}{10}$
- (C) 1
- (D) $\frac{1}{5}$
- (E) 5

14

Considere a seguinte sequência numérica, tal que os termos dessa sequência foram dispostos obedecendo a uma lei (lógica) de formação, em que ainda falta identificar o último termo:

(- 8, - 7, - 3, 4, 14, ___).

Seguindo a lógica de formação dessa sequência, então o último termo da sequência dada é igual a

- (A) 33.
- (B) 31.
- (C) 29.
- (D) 27.
- (E) 25.

15

Uma dosagem total de 100 ml deve ser preparada para ser aplicada em um paciente a partir da mistura de três tipos de soluções, identificadas por H, J e Q, tal que $\frac{3}{4}$ da

dosagem total é da solução H, $\frac{1}{5}$ da dosagem total é da solução J e o restante da dosagem total é da solução Q. Dessa forma, uma fração que indica a divisão entre as quantidades da solução Q e da solução H, nessa dosagem e nessa ordem, é igual a

- (A) $\frac{1}{4}$
- (B) $\frac{15}{4}$
- (C) $\frac{1}{15}$
- (D) $\frac{4}{5}$
- (E) $\frac{4}{15}$

Informática

16

Qual é o caminho correto para encontrar a ferramenta que cria um disco de reparação do sistema no sistema Microsoft Windows 7 Ultimate Service Pack 1 versão em Português?

- (A) Menu Iniciar, Acessórios do Windows e Backup e Restauração.
- (B) Painel de controle, Sistema e Segurança e Backup e Restauração.
- (C) Menu Iniciar, Programas e Backup do Windows.
- (D) Barra de notificações, Configurações de Inicialização e Backup e Restauração.
- (E) Painel de Controle e Backup do Windows 7.

17

Um byte é composto por quantos bits?

- (A) 64
- (B) 32
- (C) 16
- (D) 8
- (E) 2

18

No software Microsoft Excel 2013, versão em português do Brasil, qual das funções a seguir deve ser utilizada para agrupar várias cadeias de texto em uma única sequência de texto?

- (A) ARRUMAR
- (B) CARACT
- (C) BAHTTEXT
- (D) CARACTUNICODE
- (E) CONCATENAR

19

No sistema Microsoft Windows 10 Pro, versão em português, qual arquivo do painel de controle dá acesso à ferramenta que permite configurar opções de gravação e reprodução de sons?

- (A) Mmsys.cpl
- (B) Netcpl.cpl
- (C) Sysdm.cpl
- (D) Joy.cpl
- (E) Mlcfg32.cpl

20

Considerando o sistema operacional Microsoft Windows 10 Pro, qual programa deve ser utilizado para abrir um arquivo que possua a extensão “.STL”?

- (A) Windows Media Player.
- (B) Gerenciador de Tarefas.
- (C) Visualizador 3D.
- (D) Microsoft PowerPoint.
- (E) Gravador de Passos.

Conhecimentos Específicos

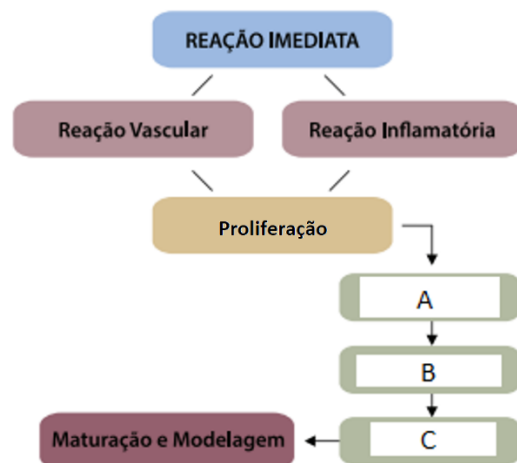
21

Durante a avaliação de uma ferida quanto à presença de infecção, o enfermeiro constatou que existia alta carga microbiana na superfície da lesão, mas sem chegar até o leito da ferida. Pela descrição realizada pelo enfermeiro, qual é a classificação dessa ferida?

- (A) Ferida não infectada.
- (B) Ferida limpa.
- (C) Ferida colonizada.
- (D) Ferida contaminada.
- (E) Ferida infectada.

22

Observe a seguinte figura e assinale a alternativa correta sobre as fases do processo de cicatrização da ferida.



- (A) A etapa descrita pela letra A refere-se ao processo de Epitelização.
- (B) A etapa descrita pela letra B refere-se ao processo de Granulação.
- (C) A etapa descrita pela letra C refere-se ao processo de Contração.
- (D) A etapa descrita pela letra A refere-se ao processo de Retração.
- (E) A etapa descrita pela letra B refere-se ao processo de Queratinização.

23

Dentro dos serviços de saúde, os principais ambientes de atuação da equipe de Enfermagem são: a unidade de Enfermagem (composta pelos espaços em que a equipe atua ativamente) e a unidade do cliente (menor espaço de atuação, em que o paciente é internado e recebe os cuidados essenciais). Nesse sentido, qual das alternativas ilustra corretamente o ambiente da unidade do cliente?

- (A) Cama com colchão e travesseiro.
- (B) Enfermaria ou quartos.
- (C) Copa.
- (D) Posto de enfermagem.
- (E) Sala de serviços.

24

As principais vacinas recomendadas pelo Ministério da Saúde para todos os profissionais da saúde são:

- (A) a pentavalente, a anti-hepatite B, a influenza (gripe) e a tríplice viral (sarampo, caxumba, rubéola).
- (B) a dT (difteria e tétano), a anti-hepatite A, a influenza (gripe) e a varicela monovalente.
- (C) a dT (difteria e tétano), a anti-hepatite B, a influenza (gripe) e a varicela monovalente.
- (D) a dT (difteria e tétano), a anti-hepatite B, a hepatite A e a tríplice viral (sarampo, caxumba, rubéola).
- (E) a dT (difteria e tétano), a anti-hepatite B, a influenza (gripe) e a tríplice viral (sarampo, caxumba, rubéola).

25

Recentemente, um procedimento foi recomendado, em março, pela Organização Mundial da Saúde (OMS) para pacientes com COVID-19 em Síndrome Respiratória Aguda Grave (SRAG). Trata-se de uma posição em que o paciente é colocado a fim de melhorar os parâmetros respiratórios, facilitando a abertura de alvéolos pulmonares, proporcionando melhores trocas gasosas. Qual é o nome desse posicionamento do paciente?

- (A) Decúbito dorsal.
- (B) Decúbito lateral direito.
- (C) Posição de Sims.
- (D) Decúbito ventral.
- (E) Posição genupeitoral.

26

Um paciente apresenta quadro de hipertermia (febre), alternando regularmente períodos de hipertermia e padrões de normotermia. Esse tipo de hipertermia pode ser classificado como

- (A) hipertermia intermitente.
- (B) hipertermia contínua.
- (C) hipertermia remitente.
- (D) hipertermia recrudente.
- (E) hipertermia recorrente.

27

A amplitude do pulso traduz o grau de enchimento da artéria (relativo ao volume de sangue ejetado do ventrículo esquerdo na sístole e o remanescente na diástole), que pode ser cheio/forte ou fraco/filiforme, percebido em forma de onda durante a palpação da artéria. Assim, para a verificação do pulso, utiliza-se preferencialmente a artéria

- (A) femoral.
- (B) braquial.
- (C) radial.
- (D) temporal.
- (E) carotídea.

28

Um paciente está em quadro de cetoacidose diabética, apresentando um quadro respiratório com profundas e rápidas inspirações, interrompidas por curtos períodos de apneia, seguindo-se de respirações profundas e ruidosas, lembrando um peixe fora d'água. Como se denomina esse padrão respiratório?

- (A) Bradipneia.
- (B) Respiração de Biot.
- (C) Dispneia.
- (D) Respiração de Cheyne Stokes.
- (E) Respiração de Kussmaul.

29

A terminologia empregada para designar as variações da pressão arterial é de extrema importância para a identificação do quadro apresentado pelo paciente. Nesse sentido, é correto afirmar que, quando as pressões sistólicas e diastólicas estão muito próximas, denomina-se

- (A) pressão divergente.
- (B) pressão convergente.
- (C) pressão de pulso.
- (D) hipertensão.
- (E) hipotensão.

30

Em relação à composição do esfigmomanômetro, apresentado a seguir, é correto afirmar que a seta indica



- (A) a válvula de escape do esfigmomanômetro.
- (B) a válvula reguladora do esfigmomanômetro.
- (C) o anel de insuflação do esfigmomanômetro.
- (D) o manguito do esfigmomanômetro.
- (E) o manômetro do esfigmomanômetro.

31

Os determinantes da dor são compostos principalmente pelos aspectos psicossociais e neurossensitivos. Assim, a dor é classificada quanto ao tempo, à origem e à localização. Quanto a essa última classificação, quando a dor geralmente envolve comprometimento de articulações e pode ser referida como dor em agulhada, queimação e pulsátil, ela é chamada de

- (A) dor somática.
- (B) dor visceral.
- (C) dor referida.
- (D) dor irradiada.
- (E) dor cutânea.

32

Sobre as medicações mais comuns utilizadas para o tratamento de processos inflamatórios do sistema respiratório, é correto afirmar que

- (A) os broncodilatadores têm como ação o aumento da produção de muco, estimulando a tosse. São exemplos o Bromidrato de Fenoterol e o Brometo de Ipratrópio.
- (B) os expectorantes reflexos têm como ação o relaxamento das vias aéreas, permitindo maior fluxo de ar, como o Iodeto de Potássio.
- (C) os expectorantes mucolíticos têm como ação a diminuição do reflexo da tosse. A Codeína é um exemplo desse tipo de medicação.
- (D) os antitussígenos têm como ação a diminuição da viscosidade do muco, permitindo facilidade na expectoração. Um exemplo desse tipo de medicação é a Acetilcisteína.
- (E) o Oxigênio tem como ação o aumento dos níveis séricos de oxigênio absorvido pelos pulmões. São exemplos o cateter nasal, o cateter tipo óculos (dupla saída), a máscara facial, a ventilação por pressão positiva e a ventilação artificial.

33

A máscara facial de nebulização, ou também chamada de máscara simples, é considerada um sistema de baixo fluxo muito utilizado no cuidado a pacientes com alterações do sistema respiratório. É um sistema simples, confortável, que tem baixo custo e fornece concentrações de O₂ superiores a

- (A) 5%
- (B) 40%
- (C) 30%
- (D) 20%
- (E) 10%

34

A Nutrição Enteral (NE) é indicada, de modo geral, a clientes que apresentam o aparelho digestivo funcionando, mas que não são capazes de ingerir pelo menos 60% de suas necessidades calórico-proteicas por via oral. No entanto é correto afirmar que essa terapia está contraindicada em qual das seguintes condições?

- (A) Anorexia nervosa.
- (B) Lesões orais.
- (C) Peritonite difusa.
- (D) Acidentes Vasculares Encefálicos (AVE).
- (E) Neoplasias.

35

A Nutrição Parenteral (NP) consiste na administração intravenosa de macronutrientes, como glicose, lipídios e aminoácidos, além de água, eletrólitos e micronutrientes, incluindo vitaminas e minerais. A Nutrição Parenteral Central (NPC) consiste na administração da solução de alta osmolaridade, sendo realizada por meio de diversos tipos de cateter vascular, cuja extremidade distal é posicionada na

- (A) valva aórtica.
- (B) valva mitral.
- (C) veia cava inferior.
- (D) veia cava superior.
- (E) artéria pulmonar esquerda.

36

Em relação ao cateterismo vesical, assinale a alternativa INCORRETA.

- (A) Pode ser do tipo sonda de Foley, de três vias, sendo a terceira utilizada para irrigação vesical, ou sonda de Owens, com duas vias (um lúmen para drenagem de urina e o outro para insuflar e desinsuflar o balão).
- (B) O cateterismo uretral requer prescrição médica e, a depender da instituição, pode ser realizado pela equipe de Enfermagem ou pelo profissional médico.
- (C) Consiste na inserção de um cateter na bexiga, por meio da uretra. Tem como funções promover um fluxo contínuo de urina, em casos de obstrução ou quando o indivíduo não consegue controlar a micção.
- (D) A sondagem vesical pode ser de alívio (intermitente) ou de demora. As sondas de alívio são geralmente plásticas e as de demora são elásticas, flexíveis e autoestáticas.
- (E) As medidas de Enfermagem devem ser direcionadas para manutenção do fluxo de urina e prevenção de infecções.

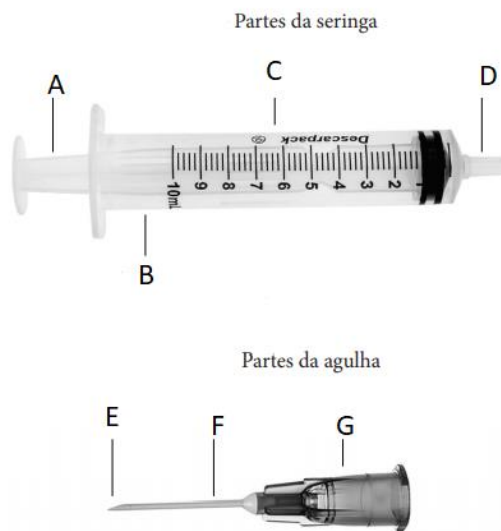
37

Em um paciente com uma ferida cavitária em região sacral, com presença de infecção, exsudação de moderada à intensa e com tecido necrótico, o enfermeiro optou corretamente por usar qual cobertura/produto?

- (A) Papaína.
- (B) Hidrocoloide.
- (C) Filme transparente.
- (D) Alginato de Cálcio.
- (E) Sulfadiazina de prata.

38

Para que se proceda uma punção venosa, é necessário, além do equipamento apropriado, o conhecimento do material a ser utilizado. Sobre isso, analise a figura a seguir e assinale a alternativa correta.



- (A) A=Êmbolo, B=Escala de graduação, C=Corpo.
- (B) D=Bico, E=Haste, G=Bisel.
- (C) F=agulha, D=Bisel, A=Canhão.
- (D) C=seringa, G=conector, E=agulha.
- (E) F=Haste, A=Êmbolo, E=Bisel.

39

Em relação à via, ao local, ao volume, ao ângulo e à posição do bisel para administração de medicação parenteral em adultos, observe a seguinte tabela e assinale a alternativa correta.

Via	Locais de Aplicação	Volume Máximo	Ângulo da agulha	Posição do bisel
ID	- Face central do antebraço	A	De 10° a 15°	Para cima
SC	- Face externa anterior e posterior do braço	B	90°	Para cima
EV	- Veias longitudinais do braço e antebraço	Ilimitado	De 10° a 15°	D
IM	Dorsoglúteo	C	E	Lateral

- (A) A letra B refere-se ao volume máximo de 4 ml.
- (B) A letra A refere-se ao volume máximo de 2 ml.
- (C) A letra D refere-se ao bisel voltado para baixo.
- (D) A letra C refere-se ao volume máximo de 5 ml.
- (E) A letra E refere-se ao ângulo de 45° graus.

40

No esquema Paucibacilar (PB) do tratamento da Hanseníase, considera-se uma pessoa de alta por cura aquela que completa o esquema de tratamento poliquimioterápico (PQT) em qual prazo?

- (A) 18 doses mensais supervisionadas de rifampicina, em até 24 meses, mais a clorpromazina autoadministrada e a clofazimina autoadministrada e supervisionada.
- (B) 15 doses mensais supervisionadas de dapsona, em até 18 meses, mais a sulfona autoadministrada e a rifampicina autoadministrada e supervisionada.
- (C) 6 doses mensais supervisionadas de rifampicina, em até 9 meses, mais a sulfona autoadministrada.
- (D) 12 doses mensais supervisionadas de rifampicina, em até 15 meses, mais a sulfona autoadministrada e a clindamicina autoadministrada e supervisionada.
- (E) 6 doses mensais supervisionadas de clofazimina, em até 12 meses, mais a sulfona autoadministrada e a rifampicina autoadministrada e supervisionada.

41

A comprovação bacteriológica dos casos de tuberculose é fundamental tanto para o diagnóstico quanto para o controle da doença. Para a realização da baciloscopia, recomenda(m)-se:

- (A) duas amostras de escarro: uma no momento da identificação do Sintomático Respiratório (SR) e outra na manhã do dia seguinte.
- (B) duas amostras de escarro: uma no momento da identificação do Sintomático Respiratório (SR) e outra na semana seguinte.
- (C) uma amostra de escarro no momento da identificação do Sintomático Respiratório (SR).
- (D) três amostras de escarros: a primeira coleta no momento da identificação do Sintomático Respiratório (SR), a segunda coleta depois de 10 dias da primeira e a terceira coleta 10 dias depois da segunda.
- (E) duas amostras de escarro: uma no momento da identificação do Sintomático Respiratório (SR) e outra após o resultado da primeira, para evitar falso-positivo.

42

O Ministério da Saúde propõe três pilares para o plano de combate à hanseníase: 1) Fortalecimento da Gestão do Programa; 2) Enfrentamento da hanseníase e suas complicações e 3) Promoção da inclusão social por meio do combate ao estigma e à discriminação. Qual das alternativas está inserida no segundo pilar?

- (A) Apoiar modelos de desenvolvimento inclusivos para pessoas acometidas pela hanseníase.
- (B) Fortalecer o sistema de vigilância e informação em saúde para monitoramento e avaliação do programa.
- (C) Assegurar compromisso político e recursos para os programas de hanseníase nas três esferas de governo.
- (D) Qualificar as ações de prevenção e o manejo das incapacidades durante o tratamento e no pós-alta.
- (E) Fortalecer a capacidade de participação ativa das pessoas acometidas pela hanseníase nos espaços de controle social e nos serviços de saúde.

43

A imunização para o Papilomavírus Humano (HPV) é realizada por meio de vacina quadrivalente (tipos 6, 11, 16 e 18), estando indicada para meninas e meninos. Sobre o esquema vacinal é correto afirmar que a vacinação está indicada

- (A) para meninas de 7 a 9 anos e meninos de 10 a 12 anos. O esquema é composto por dose única em ambos os sexos.
- (B) para meninas de 9 a 14 anos e meninos de 11 a 14 anos. O esquema é composto de duas doses, com intervalo de seis meses.
- (C) para meninas de 10 a 15 anos e meninos de 15 a 17 anos. O esquema é composto de duas doses, com intervalo de dois meses.
- (D) para meninas de 9 a 11 anos e meninos de 9 a 14 anos. O esquema é composto de três doses, com intervalo de dois meses entre as doses.
- (E) para meninas de 10 a 14 anos e meninos de 10 a 17 anos. O esquema é composto de duas doses, com intervalo de três meses.

44

Paciente do sexo feminino, 28 anos, procurou o serviço de saúde com queixas de ulcerações na região genital. Após resultado laboratorial dessa paciente ter dado positivo para *Treponema pallidum*, é correto afirmar que estamos diante de qual Infecção Sexualmente Transmissível (IST)?

- (A) Vaginose bacteriana.
- (B) Condiloma acuminado.
- (C) Gonorreia.
- (D) Clamídia.
- (E) Sífilis.

45

Em adultos, qual é o tempo ideal para a aplicação do primeiro choque no caso de uma Parada Cardiorrespiratória (PCR) em Fibrilação Ventricular (FV), já que, nesse período, o coração se encontra em ritmo de FV grosseira, o que facilita a reversão pela desfibrilação?

- (A) Compreende os primeiros 9 a 11 minutos da PCR.
- (B) Compreende os primeiros 3 a 5 minutos da PCR.
- (C) Compreende os primeiros 5 a 7 minutos da PCR.
- (D) Compreende os primeiros 7 a 9 minutos da PCR.
- (E) Compreende os primeiros 11 a 13 minutos da PCR.

46

Durante uma tentativa de reanimação, o socorrista deve tentar identificar a causa da Parada Cardiorrespiratória (PCR). Deve-se tentar obter dados, examinando o paciente ou conversando com os familiares, que permitam definir a possível causa e a estratégia terapêutica, particularmente para as causas reversíveis de PCR. A maioria das causas de parada pode ser resumida pelo mnemônico “5H e 5T”. Qual das seguintes alternativas **NÃO** contempla esse mnemônico?

- (A) Hipóxia.
- (B) Toxinas.
- (C) Hipoglicemia.
- (D) Hipovolemia.
- (E) Trombose coronariana.

47

Em se tratando de autocuidado apoiado, a equipe de saúde deve utilizar algumas estratégias para apoiar o processo de mudança de acordo com os estágios de motivação do indivíduo. Por exemplo, uma das estratégias profissionais utilizadas no estágio de pré-contemplação do paciente está corretamente descrita em qual das alternativas?

- (A) Acompanhar a realização dos passos para a mudança, avaliar em conjunto o foco na mudança, os resultados atuais, a necessidade de adequação, a persistência.
- (B) Explorar a divisão interna para que a pessoa saia do estado de paralisia; evocar as razões para mudar e os riscos de mudar ou não mudar o comportamento-alvo; fornecer apoio; fortalecer a autoeficácia para a mudança.
- (C) Auxiliar na elaboração e no detalhamento de um plano de ação; questionar quando, como e onde pretende realizá-lo, como irá se organizar, qual é a data de início, quais são as metas e os prazos, quais são os obstáculos, quem ou o que ajudará.
- (D) Ajudar na identificação dos benefícios do comportamento assumido e na valorização do que está funcionando; reconhecer as situações de risco e as estratégias de enfrentamento; prevenir deslizes e recaídas.
- (E) Fornecer informações; levantar dúvidas e trazer questionamentos; aumentar e fortalecer a percepção acerca dos riscos e dos problemas decorrentes do comportamento atual; evidenciar a discrepância entre os objetivos pessoais e o comportamento; dar *feedback*.





48

Durante a realização do exame físico, o enfermeiro utilizou a seguinte técnica: “com uma das mãos, golpeia-se o abdome, enquanto a outra mão fica espalmada na região contralateral, tentando captar ondas líquidas que se chocam contra a parede abdominal”. Qual é o nome dado a essa técnica?

- (A) Percussão dígito-digital.
- (B) Percussão punho-percussão.
- (C) Percussão com a borda da mão.
- (D) Percussão por piparote.
- (E) Percussão dígito-frontal.

49

O exame da pupila é de grande importância durante o exame físico do paciente, pois é possível identificar algum tipo de lesão neurológica. Portanto é imprescindível que se conheça a forma normal das pupilas. Nesse sentido, observe as figuras a seguir e assinale a alternativa correta.

SINAIS A SEREM OBSERVADOS	DIAGNÓSTICO-PROVÁVEL
 <p>ISOCÓRICAS</p>	1
 <p>MIOSE</p>	2
 <p>ANISOCÓRICAS</p>	3
 <p>MIDRIASE</p>	4

- (A) A situação 2 refere-se à condição normal, porém deve-se reavaliar constantemente.
- (B) A situação 1 refere-se à lesão no sistema nervoso central ou abuso no uso de drogas (toxinas).
- (C) A situação 4 refere-se ao Acidente Vascular Cerebral (AVC), traumatismo cranioencefálico (TCE).
- (D) A situação 3 refere-se a ambientes com pouca luz, anóxia ou hipóxia severa, inconsciência, estado de choque e hemorragia.
- (E) A situação 2 refere-se à lesão no sistema nervoso central ou abuso no uso de drogas (toxinas).

50

Durante ausculta do tórax de um paciente, o enfermeiro constatou um som grave de fricção durante a inspiração e a expiração, causado pela fricção dos dois folhetos da pleura que se encontram inflamados. Esse som anormal durante a ausculta é chamado de

- (A) sibilo.
- (B) ronco.
- (C) atrito pleural.
- (D) crepitação.
- (E) estridor.

51

Uma das queixas mais comuns em saúde da mulher são os problemas relacionados à menstruação. A causa do sangramento uterino aumentado em ciclos regulares, porém prolongados ou intensos pode estar relacionada

- (A) à miomatose uterina.
- (B) ao climatério.
- (C) à Síndrome dos Ovários Policísticos (SOP).
- (D) à hiperprolactinemia.
- (E) ao hipotireoidismo.

52

Em relação ao câncer de mama, os serviços de saúde podem atuar em diferentes níveis de prevenção. Qual desses níveis auxilia a reabilitação, o retorno às atividades e a reinserção da mulher na comunidade; orienta cuidados; mantém o acompanhamento clínico e o controle da doença; orienta quanto aos direitos dos portadores de câncer e facilita o acesso a eles, quando necessário?

- (A) Prevenção primária.
- (B) Prevenção terciária.
- (C) Prevenção secundária.
- (D) Prevenção quaternária.
- (E) Posvenção primária.

53

Trabalhar com grupos operativos de adolescentes significa que eles se reunirão em torno de uma tarefa (um bate-papo, a preparação de uma peça teatral, a confecção de um jornal), trabalhando o processo grupal, as relações, os conflitos e as questões da singularidade. Assim, em relação aos aspectos considerados importantes no trabalho com grupos de adolescentes, assinale a alternativa INCORRETA.

- (A) O grupo pode constituir uma “porta de entrada” para outros atendimentos. Os adolescentes, muitas vezes resistentes aos atendimentos individuais, aderem com mais facilidade às atividades em grupo, mais atraentes e menos ameaçadoras.
- (B) Um desafio sempre presente é constituir no grupo de adolescentes um espaço, não só de construção de conhecimento, mas também de elaboração de experiências e sentimentos.
- (C) É importante que o espaço grupal favoreça o desenvolvimento da subjetividade e possibilite aos jovens a construção de saídas mais saudáveis e singulares para a adolescência.
- (D) O trabalho deve privilegiar o desenvolvimento de atividades lúdicas e participativas, o que contribui significativamente para aumentar o interesse e o grau de compromisso dos jovens com o grupo.
- (E) Organizar os adolescentes em grupos (independente da idade), pois os interesses, a capacidade de abstração e de elaboração das questões são próprios da adolescência e o contato com diversas faixas etárias estimula a tomada de decisão.

54

A gestão de determinado serviço de saúde está organizando a abertura de um setor de cuidados semi-intensivo hospitalar. De acordo com o referencial mínimo para o quadro de profissionais de enfermagem para as 24 horas de cada Unidade de Internação (UI) e considerando o Sistema de Classificação de Pacientes (SCP), as horas de assistência de enfermagem, a distribuição percentual do total de profissionais de enfermagem e a proporção profissional/paciente, assinale a alternativa correta.

- (A) A distribuição percentual do total de profissionais de enfermagem deve levar em conta, para o cuidado semi-intensivo, a seguinte proporção: 33% de enfermeiros (mínimo de seis) e os demais auxiliares e/ou técnicos de enfermagem.
- (B) Para efeito de cálculo, devem ser considerados: o SCP e a proporção profissional/paciente nos diferentes turnos de trabalho de cuidado semi-intensivo: sendo 1 profissional de enfermagem para 6 pacientes.
- (C) Cabe à equipe médica realizar o registro diário da classificação dos pacientes segundo o SCP, para subsidiar a composição do quadro de profissionais para as unidades de internação.
- (D) Como horas de enfermagem, por paciente, nas 24 horas, deve-se levar em conta 10 horas de enfermagem, por paciente, no cuidado semi-intensivo.
- (E) Para o alojamento conjunto, o binômio mãe/filho deve ser classificado, no mínimo, como cuidado intensivo.

55

A Rede de Atenção à Saúde (RAS) se constitui como um conjunto de ações e serviços de saúde articulados em níveis de complexidade crescente, com a finalidade de garantir a integralidade da assistência à saúde. Considerando a organização da RAS, qual das alternativas apresenta corretamente a BASE dessa rede?

- (A) Rede Cegonha.
- (B) Atenção Básica.
- (C) Rede de Atenção Psicossocial.
- (D) Rede de Urgência e Emergência.
- (E) Rede de atenção às condições crônicas.

56

Em relação à atenção das pessoas idosas, a organização do cuidado dessa população deve ser articulada em rede, no âmbito de uma Região de Saúde, ou de várias delas. A organização e o financiamento desse cuidado deverão ser pactuados

- (A) nas comissões intergestores.
- (B) nos conselhos locais de saúde.
- (C) nas Unidades Básicas de Saúde.
- (D) na atenção especializada de saúde.
- (E) no centro de referência de cuidado ao idoso.

57

Sabe-se que o cuidado com a saúde da criança é composto por uma rede interdisciplinar e multiprofissional capaz de compreender todas as necessidades e os direitos infantis. Considerando essa rede, qual das alternativas apresenta um serviço pertencente à rede intersetorial de atenção à criança?

- (A) Unidade Básica de Saúde (UBS).
- (B) Núcleos de Apoio à Saúde da Família (NASF).
- (C) Centro de Atenção Psicossocial (CAPS) infantil.
- (D) Juizados da Infância e da Juventude.
- (E) Estratégia Saúde da Família (ESF).

58

Ao realizar o exame físico de uma criança de dois meses de idade, o enfermeiro realizou a manobra de rotação da cabeça para um lado, observando consequente extensão do membro superior e inferior do lado facial e flexão dos membros contralaterais. A manobra foi realizada bilateralmente e foi simétrica. Nesse caso, não há motivo para preocupações, pois esse reflexo desaparece até o 3º mês. De acordo com o enunciado, qual é o nome do reflexo avaliado pelo enfermeiro?

- (A) Reflexo de Moro.
- (B) Reflexo tônico-cervical.
- (C) Reflexo cutâneo-plantar.
- (D) Reflexo de preensão plantar.
- (E) Reflexo contralateral.

59

De acordo com o Calendário Nacional de Vacinação para crianças, preconizado pelo Ministério da Saúde, qual das alternativas corresponde às vacinas que devem ser aplicadas em uma criança de 4 anos de idade, considerando que suas vacinas estão em dia?

- (A) Pentavalente + DTP, VOP, Febre amarela.
- (B) Hepatite B, VOP, Meningocócica C.
- (C) Pentavalente, VIP, Tríplice viral.
- (D) VIP/VOP, Pneumocócica 10, Rotavírus humano.
- (E) Pentavalente, Rotavírus Humano, Febre amarela.

60

A ferida é definida como qualquer lesão no tecido epitelial, mucosa ou órgãos com prejuízo de suas funções básicas. Quanto à sua origem, é possível expor que as feridas causadas por fatores endógenos ou lesões secundárias a uma ou mais doenças de base, como as lesões vasculares, são denominadas feridas de origem

- (A) patológica.
- (B) iatrogênica.
- (C) traumática.
- (D) acidental.
- (E) cirúrgica.

Realização



instituto aacp



EDITAL DE CONCURSO PÚBLICO Nº 02/2020



T3426044N

PREFEITURA DE JOÃO PESSOA
SECRETARIA DA SAÚDE

ENFERMEIRO

NOME DO CANDIDATO

INSCRIÇÃO

Nível

SUPERIOR

Turno

TARDE

PROVA

03

Lembre-se de marcar o número acima na folha de respostas!



**instituto
aacp**

Fraudar ou tentar fraudar
Concursos Públicos é Crime!
Previsto no art. 311 - A do
Código Penal

Sobre o material recebido pelo candidato

- ✓ Além deste Caderno de Questões, com **sessenta questões objetivas**, você receberá do fiscal de sala a Folha de Respostas.
- ✓ Confira seu nome, o número do seu documento e o número de sua inscrição em todos os documentos entregues pelo fiscal. Além disso, não se esqueça de conferir seu Caderno de Questões quanto a falhas de impressão e de numeração e se o cargo corresponde àquele para o qual você se inscreveu.
- ✓ O não cumprimento a qualquer uma das determinações constantes em Edital, no presente Caderno ou na Folha de Respostas incorrerá na eliminação do candidato.

Sobre o material a ser devolvido pelo candidato

- ✓ O único documento válido para avaliação é a Folha de Respostas.
- ✓ Na Folha de Respostas, preencha os campos destinados à assinatura e ao número de inscrição. As respostas às questões objetivas devem ser preenchidas da seguinte maneira: ●
- ✓ Na Folha de Respostas, só é permitido o uso de caneta esferográfica transparente de cor azul ou preta. Esse documento deve ser devolvido ao fiscal na saída, devidamente preenchido e assinado.

Sobre a duração da prova e a permanência na sala

- ✓ O prazo de realização da prova é de 4 horas, incluindo a marcação da Folha de Respostas.
- ✓ Após 60 (sessenta) minutos do início da prova, o candidato estará liberado para utilizar o sanitário ou deixar definitivamente o local de aplicação, não podendo, no entanto, levar o Caderno de Questões e nenhum tipo de anotação de suas respostas.
- ✓ O candidato poderá levar consigo o Caderno de Questões somente se aguardar em sala até o término do prazo de realização da prova estabelecido em edital.
- ✓ Os três últimos candidatos só poderão retirar-se da sala juntos, após assinatura do Termo de Fechamento do Envelope de Retorno.

Sobre a divulgação das provas e dos gabaritos

- ✓ As provas e os gabaritos preliminares estarão disponíveis no dia posterior à aplicação da prova no site do **Instituto AACP** no endereço eletrônico **www.institutoaacp.org.br**

Língua Portuguesa

Borderline: o transtorno que faz pessoas irem do "céu ao inferno" em horas

Tatiana Pronin

Uma alegria contagiante pode se transformar em tristeza profunda em um piscar de olhos porque alguém "pisou na bola". O amor intenso vira ódio profundo, porque a atitude foi interpretada como traição; o sentimento sai de controle e se traduz em gritos, palavrões e até socos. E, então, bate uma culpa enorme e o medo de ser abandonado, como sempre. Dá vontade de se cortar, de beber e até de morrer, porque a dor, o vazio e a raiva de si mesmo são insuportáveis. As emoções e comportamentos exaltados podem dar uma ideia do que vive alguém com transtorno de personalidade borderline (ou "limítrofe").

Reconhecido como um dos transtornos mais lesivos, leva a episódios de automutilação, abuso de substâncias e agressões físicas. Além disso, cerca de 10% dos pacientes cometem suicídio. Além da montanha-russa emocional e da dificuldade em controlar os impulsos, o borderline tende a enxergar a si mesmo e aos outros na base do "tudo ou nada", o que torna as relações familiares, amorosas, de amizade e até mesmo a com o médico ou terapeuta extremamente desgastantes.

Muitos comportamentos do "border" (apelido usado pelos especialistas) lembram os de um jovem rebelde sem tolerância à frustração. Mas, enquanto um adolescente problemático pode melhorar com o tempo ou depois de uma boa terapia, o adulto com o transtorno parece alguém cujo lado afetivo não amadurece nunca.

Ainda que seja inteligente, talentoso e brilhante no que faz, reage como uma criança ao se relacionar com os outros e com as próprias emoções — o que os psicanalistas chamam de "ego imaturo". Em muitos casos, o transtorno fica camuflado entre outros, como o bipolar, a depressão e o uso abusivo de álcool, remédios e drogas ilícitas.

De forma resumida, um transtorno de personalidade pode ser descrito como um jeito de ser, de sentir, se perceber e se relacionar com os outros que foge do padrão considerado "normal" ou saudável. Ou seja, causa sofrimento para a própria pessoa e/ou para os outros. Enquadrar um indivíduo em uma categoria não é fácil — cada pessoa é um universo, com características próprias. [...]

O diagnóstico é bem mais frequente entre as mulheres, mas estudos sugerem que a incidência seja igual em ambos os sexos. O que acontece é que elas tendem a pedir mais socorro, enquanto os homens são mais propensos a se meter em encrencas, ir para a cadeia ou até morrer mais precocemente por causa de comportamentos de risco. Quase sempre o transtorno é identificado em adultos jovens e os sintomas tendem a se tornar atenuados com o passar da idade.

Transtornos de personalidade são diferentes de transtornos mentais (como depressão, ansiedade, transtorno bipolar, psicose etc.), embora seja difícil para leigos e desafiante até para especialistas fazer essa distinção, já que sobreposições ou comorbidades (existência de duas ou mais condições ao mesmo tempo) são muito frequentes. Não é raro que o borderline desenvolva transtorno bipolar, depressão, transtornos alimentares (em especial a bulimia), estresse pós-traumático, déficit de atenção/hiperatividade e transtorno por abuso de substâncias, entre outros. [...]

O paciente borderline sofre os períodos de instabilidade mais intensos no início da vida adulta. Há situações de crise, ou maior descontrole, que podem até resultar em internações porque o paciente coloca sua própria vida ou a dos outros em risco. Por volta dos 40 ou 50 anos, a maioria dos "borders" melhora bastante, probabilidade que aumenta se o paciente se engaja no tratamento. [...]

A personalidade envolve não só aspectos herdados, mas também aprendidos, por isso a melhora é possível, ainda que seja difícil de acreditar no início. Se a psicoterapia é importante para ajudar o bipolar a identificar uma virada e evitar perdas, no transtorno de personalidade ela é o carro-chefe do tratamento. [...]

Medicamentos ajudam a aliviar os sintomas depressivos, a agressividade e o perfeccionismo exagerado, e são ainda mais importantes quando existe um transtorno mental associado. Os fármacos mais utilizados são os antidepressivos (fluoxetina, escitalopram, venlafaxina etc.), os estabilizadores de humor (lítio, lamotrigina, ácido valproico etc.), os antipsicóticos (olanzapina, risperidona, quietiapina etc.) e, em situações pontuais, sedativos ou remédios para dormir (clonazepan, diazepan, alprazolam etc.). Esses últimos costumam ser até solicitados pelos pacientes, mas devem ser evitados ao máximo, porque podem afrouxar o controle dos impulsos, assim como o álcool, além de causarem dependência. [...]

Disponível em:

<https://www.uol.com.br/vivabem/noticias/redacao/2018/04/16/borderline-a-doenca-que-faz-10-dos-dagnosticados-cometerem-suicidio.htm>.
Acesso em: 04 jan. 2021.

1

Assinale a alternativa em que haja um verbo de ligação com valor de “mudança de estado”.

- (A) “O amor intenso vira ódio profundo, [...]”.
- (B) “[...] a dor, o vazio e a raiva de si mesmo são insuportáveis.”
- (C) “[...] o transtorno fica camuflado [...]”.
- (D) “O paciente borderline sofre os períodos de instabilidade mais intensos no início da vida adulta.”.
- (E) “[...] o adulto com o transtorno parece alguém cujo lado afetivo não amadurece nunca.”.

2

Assinale a alternativa em que o termo ou a expressão destacado(a) tenha sido usado(a) em sentido denotativo.

- (A) “Uma alegria contagiante pode se transformar em tristeza profunda em um piscar de olhos porque alguém **‘pisou na bola’**.”.
- (B) “E, então, **bate** uma culpa enorme e o medo de ser abandonado, como sempre.”.
- (C) “Além da **montanha-russa** emocional e da dificuldade em controlar os impulsos, o borderline tende a enxergar a si mesmo e aos outros na base do ‘tudo ou nada’, [...]”.
- (D) “**Transtornos de personalidade** são diferentes de transtornos mentais [...]”.
- (E) “[...] o adulto com o transtorno parece alguém cujo lado afetivo não **amadurece** nunca.”.

3

Referente ao seguinte excerto, assinale a alternativa correta.

“Há situações de crise, ou maior descontrole, que podem até resultar em internações porque o paciente coloca sua própria vida ou a dos outros em risco. Por volta dos 40 ou 50 anos, a maioria dos "borders" melhora bastante, probabilidade que aumenta se o paciente se engaja no tratamento. [...]”

- (A) Em “Há situações de crise, ou maior descontrole, [...]”, o verbo “haver” poderia ser substituído por “existir” sem mudanças no que tange à concordância.
- (B) No trecho “Há situações de crise, ou maior descontrole, **que** podem até resultar em internações [...]”, o pronome “que” em destaque retoma a locução “de crise”.
- (C) Em “[...] a maioria dos "borders" melhora bastante, [...]”, o verbo “melhora”, segundo a norma-padrão, deveria ser empregado no plural, para concordar com “borders”.
- (D) O termos destacados em “[...] **se** o paciente **se** engaja no tratamento [...]” desempenham a mesma função gramatical.
- (E) No trecho “[...] probabilidade **que aumenta** se o paciente se engaja no tratamento.”, a oração adjetiva em destaque restringe o termo “probabilidade”.

4

Em relação aos usos da vírgula, assinale a alternativa em que tal sinal de pontuação tenha sido usado para separar orações coordenadas.

- (A) “[...] o sentimento sai de controle e se traduz em gritos, palavrões e até socos.”
- (B) “E, então, bate uma culpa enorme e o medo de ser abandonado [...]”.
- (C) “Mas, enquanto um adolescente problemático pode melhorar com o tempo ou depois de uma boa terapia, o adulto com o transtorno parece alguém cujo lado afetivo não amadurece nunca.”.
- (D) “Por volta dos 40 ou 50 anos, a maioria dos "borders" melhora bastante [...]”.
- (E) “Esses últimos costumam ser até solicitados pelos pacientes, mas devem ser evitados ao máximo [...]”.

5

Considerando o trecho que segue, a respeito dos elementos de coesão e suas respectivas relações lógico-semânticas, analise as assertivas e assinale a alternativa que aponta a(s) correta(s).

“A personalidade envolve não só aspectos herdados, mas também aprendidos, por isso a melhora é possível, ainda que seja difícil de acreditar no início. Se a psicoterapia é importante para ajudar o bipolar a identificar uma virada e evitar perdas, no transtorno de personalidade ela é o carro-chefe do tratamento. [...]”.

- I. Não haveria prejuízo de sintaxe nem de efeito de sentido caso a expressão correlativa “não só/mas também” fosse, nesse contexto, substituída pela conjunção, igualmente aditiva, “e”.
- II. Em vez de “não só/mas também”, poder-se-ia usar, nessa situação, a locução também correlativa “tanto/quanto”, embora esta expresse valor de comparação e não de adição.
- III. A expressão “ainda que” tem valor de concessão e poderia ser substituída, nesse caso, por “embora”.

- (A) Apenas I.
- (B) Apenas II.
- (C) Apenas I e II.
- (D) Apenas II e III.
- (E) I, II e III.

6

Considerando o seguinte excerto, informe se é verdadeiro (V) ou falso (F) o que se afirma a seguir e assinale a alternativa com a sequência correta.

“O diagnóstico é bem mais frequente entre as mulheres, mas estudos sugerem que a incidência seja igual em ambos os sexos.”.

- () Os termos “diagnóstico” e “incidência” são acentuados devido à mesma regra de acentuação em Língua Portuguesa.
- () No termo “frequente”, há um encontro consonantal em “fr”.
- () O vocábulo “mulheres” apresenta um dígrafo e um encontro consonantal.
- () As palavras “frequente”, “mulheres” e “incidência” são todas paroxítonas.
- () O termo “sexos” apresenta cinco letras e seis fonemas.

- (A) F – V – F – V – F.
- (B) V – F – V – F – V.
- (C) F – V – F – V – V.
- (D) V – V – F – F – F.
- (E) F – F – V – V – V.

7

Analise o trecho que segue.

“Medicamentos ajudam a aliviar os sintomas depressivos, a agressividade e o perfeccionismo exagerado, e são ainda mais importantes quando existe um transtorno mental associado. Os fármacos mais utilizados são os antidepressivos (fluoxetina, escitalopram, venlafaxina etc), os estabilizadores de humor (lítio, lamotrigina, ácido valproico etc), os antipsicóticos (olanzapina, risperidona, quetiapina etc) e, em situações pontuais, sedativos ou remédios para dormir (clonazepan, diazepan, alprazolam etc). Esses últimos costumam ser até solicitados pelos pacientes, mas devem ser evitados ao máximo, porque podem afrouxar o controle dos impulsos, assim como o álcool, além de causarem dependência. [...]”.

Em relação, sobretudo, aos componentes destacados nesse segmento do texto, é correto afirmar que

- (A) o verbo “são” em destaque tem como sujeito os elementos “os sintomas depressivos, a agressividade e o perfeccionismo exagerado”.
- (B) a conjunção “quando”, tradicionalmente indicadora de tempo, em certos contextos, pode também expressar valor de condição, como ocorre nesse caso.
- (C) o uso de “antidepressivos”, em destaque, exemplifica um caso de substantivo transformado em adjetivo.
- (D) a preposição “para” expressa a relação lógico-semântica de causa.
- (E) o pronome demonstrativo “esses” retoma os medicamentos “clonazepan, diazepan, alprazolam” e poderia ser substituído por “estes” sem nenhum dano gramatical.

8

Ainda em relação ao trecho “Esses últimos costumam ser até solicitados pelos pacientes, mas devem ser evitados ao máximo, porque podem afrouxar o controle dos impulsos, assim como o álcool, além de causarem dependência.”, os verbos destacados retomam a expressão “Esses últimos” e fazem referência a ela por meio de

- (A) sujeito elíptico, em que se oculta um termo já de conhecimento do leitor.
- (B) zeugma, em que se oculta um termo, independente de ter sido mencionado antes ou não.
- (C) coesão por anáfora, em que se usa um elemento para anunciar outro, ainda não mencionado no texto.
- (D) coesão por catáfora, em que se usa um elemento para recuperar outro, já mencionado no texto.
- (E) referência nominal, em que se emprega um nome para recuperar um termo anterior.

9

De acordo com o texto, assinale a alternativa correta.

- (A) Pessoas que sofrem do transtorno borderline vão do “céu ao inferno” em um curto período de tempo porque ora se comportam como crianças sem malícia ora se comportam como adultos responsáveis.
- (B) Alguém com a personalidade borderline (“límitrofe”), comumente, apresenta posturas resistentes a limites, regras.
- (C) Um “border”, em geral, vive a infância e a adolescência sem apresentar graves alterações geradas por tal transtorno.
- (D) Grande parte dos “borders”, além de se automutilarem e de apresentarem intensa rebeldia, acabam cometendo suicídio.
- (E) Borderline afeta, sobretudo, mulheres que apresentam esse transtorno aliado à bipolaridade e à depressão.

10

Assinale a alternativa correta considerando o conteúdo do texto.

- (A) Segundo o texto, as relações interpessoais e até mesmo relacionadas ao tratamento dos “borders” desgastam-se com facilidade e isso acaba provocando descontrole emocional e alterações de humor extremas em tais indivíduos.
- (B) De acordo com o texto, categorizar pessoas é uma tarefa difícil porque cada um apresenta atitudes, pensamentos, aptidões, gostos, sentimentos etc. bem particulares.
- (C) Transtornos como a bipolaridade (de personalidade) e borderline (mentais) apresentam diferenças sutis e, normalmente, esses transtornos são observados em um mesmo paciente de modo simultâneo.
- (D) Segundo o texto, quem mais sofre com a síndrome borderline é o próprio paciente acometido pela doença, sendo pouco e/ou raramente afetadas as pessoas que o rodeiam.
- (E) Tratamentos psicoterápicos são mais eficazes em casos de bipolaridade do que em quadros de borderline, uma vez que, comprovadamente, para esses pacientes, a abordagem medicamentosa costuma funcionar mais.

Matemática

11

Comparando os números 500 e 100, é correto afirmar que

- (A) 500 é exatamente 300% maior que 100.
- (B) 500 é exatamente 400% maior que 100.
- (C) 100 é exatamente 180% menor que 500.
- (D) 500 é exatamente 100% maior que 100.
- (E) 100 é exatamente 60% menor que 500.

12

Se $p = \frac{7}{10}$, $q = \frac{1}{50}$ e $r = \frac{6}{7}$, então o valor de $\frac{2.p.r}{6.q}$ é igual a

- (A) 10
- (B) $\frac{1}{10}$
- (C) 1
- (D) $\frac{1}{5}$
- (E) 5

13

Considere a seguinte sequência numérica, tal que os termos dessa sequência foram dispostos obedecendo a uma lei (lógica) de formação, em que ainda falta identificar o último termo:

(- 8, - 7, - 3, 4, 14, ___).

Seguindo a lógica de formação dessa sequência, então o último termo da sequência dada é igual a

- (A) 33.
- (B) 31.
- (C) 29.
- (D) 27.
- (E) 25.

14

Uma dosagem total de 100 ml deve ser preparada para ser aplicada em um paciente a partir da mistura de três tipos de soluções, identificadas por H, J e Q, tal que $\frac{3}{4}$ da dosagem total é da solução H, $\frac{1}{5}$ da dosagem total é da solução J e o restante da dosagem total é da solução Q. Dessa forma, uma fração que indica a divisão entre as quantidades da solução Q e da solução H, nessa dosagem e nessa ordem, é igual a

- (A) $\frac{1}{4}$
- (B) $\frac{15}{4}$
- (C) $\frac{1}{15}$
- (D) $\frac{4}{5}$
- (E) $\frac{4}{15}$

15

Cinco pessoas, identificadas como P₁, P₂, P₃, P₄ e P₅, estão em uma clínica médica aguardando a vez para realizar dois tipos de exames laboratoriais. Sabe-se que duas dessas pessoas, cada uma na sua vez, irão fazer o exame de Hemograma e as outras três, também cada um na sua vez, irão fazer o exame de Glicemia. Sabe-se também que P₃ e P₄ irão fazer o mesmo tipo de exame, P₂ e P₄ irão fazer exames de tipos diferentes e P₂ e P₅ irão fazer exames de tipos diferentes. Com base nessas informações, é correto afirmar que

- (A) P₁ irá fazer o exame de Glicemia.
- (B) P₅ irá fazer o exame de Hemograma.
- (C) P₃ irá fazer o exame de Hemograma.
- (D) P₂ irá fazer o exame de Glicemia.
- (E) P₄ irá fazer o exame de Glicemia.

Informática

16

Um byte é composto por quantos bits?

- (A) 64
- (B) 32
- (C) 16
- (D) 8
- (E) 2

17

No software Microsoft Excel 2013, versão em português do Brasil, qual das funções a seguir deve ser utilizada para agrupar várias cadeias de texto em uma única sequência de texto?

- (A) ARRUMAR
- (B) CARACT
- (C) BAHTTEXT
- (D) CARACTUNICODE
- (E) CONCATENAR

18

No sistema Microsoft Windows 10 Pro, versão em português, qual arquivo do painel de controle dá acesso à ferramenta que permite configurar opções de gravação e reprodução de sons?

- (A) Mmsys.cpl
- (B) Netcpl.cpl
- (C) Sysdm.cpl
- (D) Joy.cpl
- (E) Mlcfg32.cpl

19

Considerando o sistema operacional Microsoft Windows 10 Pro, qual programa deve ser utilizado para abrir um arquivo que possua a extensão “.STL”?

- (A) Windows Media Player.
- (B) Gerenciador de Tarefas.
- (C) Visualizador 3D.
- (D) Microsoft PowerPoint.
- (E) Gravador de Passos.

20

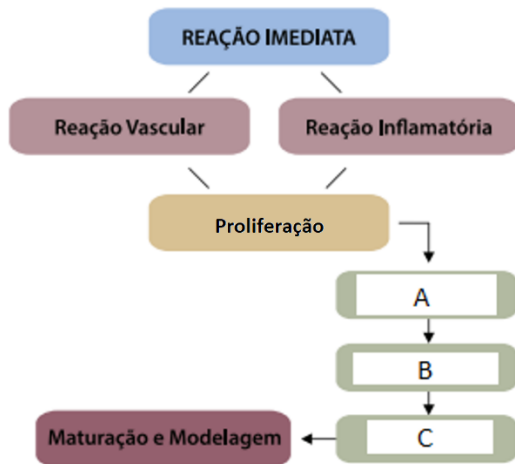
Qual é o caminho correto para encontrar a ferramenta que cria um disco de reparação do sistema no sistema Microsoft Windows 7 Ultimate Service Pack 1 versão em Português?

- (A) Menu Iniciar, Acessórios do Windows e Backup e Restauração.
- (B) Painel de controle, Sistema e Segurança e Backup e Restauração.
- (C) Menu Iniciar, Programas e Backup do Windows.
- (D) Barra de notificações, Configurações de Inicialização e Backup e Restauração.
- (E) Painel de Controle e Backup do Windows 7.

Conhecimentos Específicos

21

Observe a seguinte figura e assinale a alternativa correta sobre as fases do processo de cicatrização da ferida.



- (A) A etapa descrita pela letra A refere-se ao processo de Epitelização.
- (B) A etapa descrita pela letra B refere-se ao processo de Granulação.
- (C) A etapa descrita pela letra C refere-se ao processo de Contração.
- (D) A etapa descrita pela letra A refere-se ao processo de Retração.
- (E) A etapa descrita pela letra B refere-se ao processo de Queratinização.

22

Dentro dos serviços de saúde, os principais ambientes de atuação da equipe de Enfermagem são: a unidade de Enfermagem (composta pelos espaços em que a equipe atua ativamente) e a unidade do cliente (menor espaço de atuação, em que o paciente é internado e recebe os cuidados essenciais). Nesse sentido, qual das alternativas ilustra corretamente o ambiente da unidade do cliente?

- (A) Cama com colchão e travesseiro.
- (B) Enfermaria ou quartos.
- (C) Copa.
- (D) Posto de enfermagem.
- (E) Sala de serviços.

23

As principais vacinas recomendadas pelo Ministério da Saúde para todos os profissionais da saúde são:

- (A) a pentavalente, a anti-hepatite B, a influenza (gripe) e a tríplice viral (sarampo, caxumba, rubéola).
- (B) a dT (difteria e tétano), a anti-hepatite A, a influenza (gripe) e a varicela monovalente.
- (C) a dT (difteria e tétano), a anti-hepatite B, a influenza (gripe) e a varicela monovalente.
- (D) a dT (difteria e tétano), a anti-hepatite B, a hepatite A e a tríplice viral (sarampo, caxumba, rubéola).
- (E) a dT (difteria e tétano), a anti-hepatite B, a influenza (gripe) e a tríplice viral (sarampo, caxumba, rubéola).

24

Recentemente, um procedimento foi recomendado, em março, pela Organização Mundial da Saúde (OMS) para pacientes com COVID-19 em Síndrome Respiratória Aguda Grave (SRAG). Trata-se de uma posição em que o paciente é colocado a fim de melhorar os parâmetros respiratórios, facilitando a abertura de alvéolos pulmonares, proporcionando melhores trocas gasosas. Qual é o nome desse posicionamento do paciente?

- (A) Decúbito dorsal.
- (B) Decúbito lateral direito.
- (C) Posição de Sims.
- (D) Decúbito ventral.
- (E) Posição genupeitoral.

25

Um paciente apresenta quadro de hipertermia (febre), alternando regularmente períodos de hipertermia e padrões de normotermia. Esse tipo de hipertermia pode ser classificado como

- (A) hipertermia intermitente.
- (B) hipertermia contínua.
- (C) hipertermia remitente.
- (D) hipertermia recrudente.
- (E) hipertermia recorrente.

26

A amplitude do pulso traduz o grau de enchimento da artéria (relativo ao volume de sangue ejetado do ventrículo esquerdo na sístole e o remanescente na diástole), que pode ser cheio/forte ou fraco/filiforme, percebido em forma de onda durante a palpação da artéria. Assim, para a verificação do pulso, utiliza-se preferencialmente a artéria

- (A) femoral.
- (B) braquial.
- (C) radial.
- (D) temporal.
- (E) carotídea.

27

Um paciente está em quadro de cetoacidose diabética, apresentando um quadro respiratório com profundas e rápidas inspirações, interrompidas por curtos períodos de apneia, seguindo-se de respirações profundas e ruidosas, lembrando um peixe fora d'água. Como se denomina esse padrão respiratório?

- (A) Bradipneia.
- (B) Respiração de Biot.
- (C) Dispneia.
- (D) Respiração de Cheyne Stokes.
- (E) Respiração de Kussmaul.

28

A terminologia empregada para designar as variações da pressão arterial é de extrema importância para a identificação do quadro apresentado pelo paciente. Nesse sentido, é correto afirmar que, quando as pressões sistólicas e diastólicas estão muito próximas, denomina-se

- (A) pressão divergente.
- (B) pressão convergente.
- (C) pressão de pulso.
- (D) hipertensão.
- (E) hipotensão.

29

Em relação à composição do esfigmomanômetro, apresentado a seguir, é correto afirmar que a seta indica



- (A) a válvula de escape do esfigmomanômetro.
- (B) a válvula reguladora do esfigmomanômetro.
- (C) o anel de insuflação do esfigmomanômetro.
- (D) o manguito do esfigmomanômetro.
- (E) o manômetro do esfigmomanômetro.

30

Os determinantes da dor são compostos principalmente pelos aspectos psicossociais e neurossensitivos. Assim, a dor é classificada quanto ao tempo, à origem e à localização. Quanto a essa última classificação, quando a dor geralmente envolve comprometimento de articulações e pode ser referida como dor em agulhada, queimação e pulsátil, ela é chamada de

- (A) dor somática.
- (B) dor visceral.
- (C) dor referida.
- (D) dor irradiada.
- (E) dor cutânea.

31

Sobre as medicações mais comuns utilizadas para o tratamento de processos inflamatórios do sistema respiratório, é correto afirmar que

- (A) os broncodilatadores têm como ação o aumento da produção de muco, estimulando a tosse. São exemplos o Bromidrato de Fenoterol e o Brometo de Ipratrópio.
- (B) os expectorantes reflexos têm como ação o relaxamento das vias aéreas, permitindo maior fluxo de ar, como o Iodeto de Potássio.
- (C) os expectorantes mucolíticos têm como ação a diminuição do reflexo da tosse. A Codeína é um exemplo desse tipo de medicação.
- (D) os antitussígenos têm como ação a diminuição da viscosidade do muco, permitindo facilidade na expectoração. Um exemplo desse tipo de medicação é a Acetilcisteína.
- (E) o Oxigênio tem como ação o aumento dos níveis séricos de oxigênio absorvido pelos pulmões. São exemplos o cateter nasal, o cateter tipo óculos (dupla saída), a máscara facial, a ventilação por pressão positiva e a ventilação artificial.

32

A máscara facial de nebulização, ou também chamada de máscara simples, é considerada um sistema de baixo fluxo muito utilizado no cuidado a pacientes com alterações do sistema respiratório. É um sistema simples, confortável, que tem baixo custo e fornece concentrações de O₂ superiores a

- (A) 5%
- (B) 40%
- (C) 30%
- (D) 20%
- (E) 10%

33

A Nutrição Enteral (NE) é indicada, de modo geral, a clientes que apresentam o aparelho digestivo funcionando, mas que não são capazes de ingerir pelo menos 60% de suas necessidades calórico-proteicas por via oral. No entanto é correto afirmar que essa terapia está contraindicada em qual das seguintes condições?

- (A) Anorexia nervosa.
- (B) Lesões orais.
- (C) Peritonite difusa.
- (D) Acidentes Vasculares Encefálicos (AVE).
- (E) Neoplasias.

34

A Nutrição Parenteral (NP) consiste na administração intravenosa de macronutrientes, como glicose, lipídios e aminoácidos, além de água, eletrólitos e micronutrientes, incluindo vitaminas e minerais. A Nutrição Parenteral Central (NPC) consiste na administração da solução de alta osmolaridade, sendo realizada por meio de diversos tipos de cateter vascular, cuja extremidade distal é posicionada na

- (A) valva aórtica.
- (B) valva mitral.
- (C) veia cava inferior.
- (D) veia cava superior.
- (E) artéria pulmonar esquerda.

35

Em relação ao cateterismo vesical, assinale a alternativa INCORRETA.

- (A) Pode ser do tipo sonda de Foley, de três vias, sendo a terceira utilizada para irrigação vesical, ou sonda de Owens, com duas vias (um lúmen para drenagem de urina e o outro para insuflar e desinsuflar o balão).
- (B) O cateterismo uretral requer prescrição médica e, a depender da instituição, pode ser realizado pela equipe de Enfermagem ou pelo profissional médico.
- (C) Consiste na inserção de um cateter na bexiga, por meio da uretra. Tem como funções promover um fluxo contínuo de urina, em casos de obstrução ou quando o indivíduo não consegue controlar a micção.
- (D) A sondagem vesical pode ser de alívio (intermitente) ou de demora. As sondas de alívio são geralmente plásticas e as de demora são elásticas, flexíveis e autoestáticas.
- (E) As medidas de Enfermagem devem ser direcionadas para manutenção do fluxo de urina e prevenção de infecções.

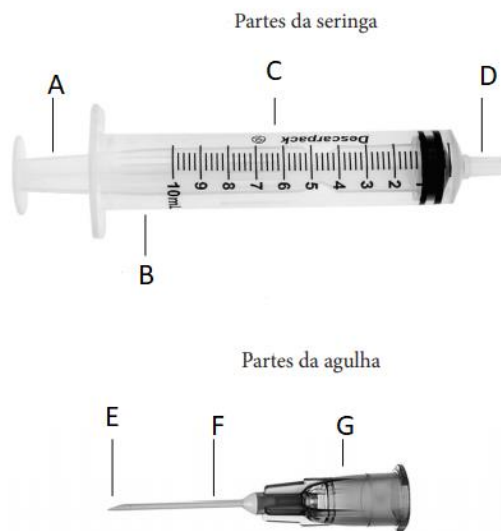
36

Em um paciente com uma ferida cavitária em região sacral, com presença de infecção, exsudação de moderada à intensa e com tecido necrótico, o enfermeiro optou corretamente por usar qual cobertura/produto?

- (A) Papaína.
- (B) Hidrocoloide.
- (C) Filme transparente.
- (D) Alginato de Cálcio.
- (E) Sulfadiazina de prata.

37

Para que se proceda uma punção venosa, é necessário, além do equipamento apropriado, o conhecimento do material a ser utilizado. Sobre isso, analise a figura a seguir e assinale a alternativa correta.



- (A) A=Êmbolo, B=Escala de graduação, C=Corpo.
- (B) D=Bico, E=Haste, G=Bisel.
- (C) F=agulha, D=Bisel, A=Canhão.
- (D) C=seringa, G=conector, E=agulha.
- (E) F=Haste, A=Êmbolo, E=Bisel.

38

Em relação à via, ao local, ao volume, ao ângulo e à posição do bisel para administração de medicação parenteral em adultos, observe a seguinte tabela e assinale a alternativa correta.

Via	Locais de Aplicação	Volume Máximo	Ângulo da agulha	Posição do bisel
ID	- Face central do antebraço	A	De 10° a 15°	Para cima
SC	- Face externa anterior e posterior do braço	B	90°	Para cima
EV	- Veias longitudinais do braço e antebraço	Ilimitado	De 10° a 15°	D
IM	Dorsoglúteo	C	E	Lateral

- (A) A letra B refere-se ao volume máximo de 4 ml.
- (B) A letra A refere-se ao volume máximo de 2 ml.
- (C) A letra D refere-se ao bisel voltado para baixo.
- (D) A letra C refere-se ao volume máximo de 5 ml.
- (E) A letra E refere-se ao ângulo de 45° graus.

39

No esquema Paucibacilar (PB) do tratamento da Hanseníase, considera-se uma pessoa de alta por cura aquela que completa o esquema de tratamento poliquimioterápico (PQT) em qual prazo?

- (A) 18 doses mensais supervisionadas de rifampicina, em até 24 meses, mais a clorpromazina autoadministrada e a clofazimina autoadministrada e supervisionada.
- (B) 15 doses mensais supervisionadas de dapsona, em até 18 meses, mais a sulfona autoadministrada e a rifampicina autoadministrada e supervisionada.
- (C) 6 doses mensais supervisionadas de rifampicina, em até 9 meses, mais a sulfona autoadministrada.
- (D) 12 doses mensais supervisionadas de rifampicina, em até 15 meses, mais a sulfona autoadministrada e a clindamicina autoadministrada e supervisionada.
- (E) 6 doses mensais supervisionadas de clofazimina, em até 12 meses, mais a sulfona autoadministrada e a rifampicina autoadministrada e supervisionada.

40

A comprovação bacteriológica dos casos de tuberculose é fundamental tanto para o diagnóstico quanto para o controle da doença. Para a realização da baciloscopia, recomenda(m)-se:

- (A) duas amostras de escarro: uma no momento da identificação do Sintomático Respiratório (SR) e outra na manhã do dia seguinte.
- (B) duas amostras de escarro: uma no momento da identificação do Sintomático Respiratório (SR) e outra na semana seguinte.
- (C) uma amostra de escarro no momento da identificação do Sintomático Respiratório (SR).
- (D) três amostras de escarros: a primeira coleta no momento da identificação do Sintomático Respiratório (SR), a segunda coleta depois de 10 dias da primeira e a terceira coleta 10 dias depois da segunda.
- (E) duas amostras de escarro: uma no momento da identificação do Sintomático Respiratório (SR) e outra após o resultado da primeira, para evitar falso-positivo.

41

O Ministério da Saúde propõe três pilares para o plano de combate à hanseníase: 1) Fortalecimento da Gestão do Programa; 2) Enfrentamento da hanseníase e suas complicações e 3) Promoção da inclusão social por meio do combate ao estigma e à discriminação. Qual das alternativas está inserida no segundo pilar?

- (A) Apoiar modelos de desenvolvimento inclusivos para pessoas acometidas pela hanseníase.
- (B) Fortalecer o sistema de vigilância e informação em saúde para monitoramento e avaliação do programa.
- (C) Assegurar compromisso político e recursos para os programas de hanseníase nas três esferas de governo.
- (D) Qualificar as ações de prevenção e o manejo das incapacidades durante o tratamento e no pós-alta.
- (E) Fortalecer a capacidade de participação ativa das pessoas acometidas pela hanseníase nos espaços de controle social e nos serviços de saúde.

42

A imunização para o Papilomavírus Humano (HPV) é realizada por meio de vacina quadrivalente (tipos 6, 11, 16 e 18), estando indicada para meninas e meninos. Sobre o esquema vacinal é correto afirmar que a vacinação está indicada

- (A) para meninas de 7 a 9 anos e meninos de 10 a 12 anos. O esquema é composto por dose única em ambos os sexos.
- (B) para meninas de 9 a 14 anos e meninos de 11 a 14 anos. O esquema é composto de duas doses, com intervalo de seis meses.
- (C) para meninas de 10 a 15 anos e meninos de 15 a 17 anos. O esquema é composto de duas doses, com intervalo de dois meses.
- (D) para meninas de 9 a 11 anos e meninos de 9 a 14 anos. O esquema é composto de três doses, com intervalo de dois meses entre as doses.
- (E) para meninas de 10 a 14 anos e meninos de 10 a 17 anos. O esquema é composto de duas doses, com intervalo de três meses.

43

Paciente do sexo feminino, 28 anos, procurou o serviço de saúde com queixas de ulcerações na região genital. Após resultado laboratorial dessa paciente ter dado positivo para *Treponema pallidum*, é correto afirmar que estamos diante de qual Infecção Sexualmente Transmissível (IST)?

- (A) Vaginose bacteriana.
- (B) Condiloma acuminado.
- (C) Gonorreia.
- (D) Clamídia.
- (E) Sífilis.

44

Em adultos, qual é o tempo ideal para a aplicação do primeiro choque no caso de uma Parada Cardiorrespiratória (PCR) em Fibrilação Ventricular (FV), já que, nesse período, o coração se encontra em ritmo de FV grosseira, o que facilita a reversão pela desfibrilação?

- (A) Compreende os primeiros 9 a 11 minutos da PCR.
- (B) Compreende os primeiros 3 a 5 minutos da PCR.
- (C) Compreende os primeiros 5 a 7 minutos da PCR.
- (D) Compreende os primeiros 7 a 9 minutos da PCR.
- (E) Compreende os primeiros 11 a 13 minutos da PCR.

45

Durante uma tentativa de reanimação, o socorrista deve tentar identificar a causa da Parada Cardiorrespiratória (PCR). Deve-se tentar obter dados, examinando o paciente ou conversando com os familiares, que permitam definir a possível causa e a estratégia terapêutica, particularmente para as causas reversíveis de PCR. A maioria das causas de parada pode ser resumida pelo mnemônico “5H e 5T”. Qual das seguintes alternativas **NÃO** contempla esse mnemônico?

- (A) Hipóxia.
- (B) Toxinas.
- (C) Hipoglicemia.
- (D) Hipovolemia.
- (E) Trombose coronariana.

46

Em se tratando de autocuidado apoiado, a equipe de saúde deve utilizar algumas estratégias para apoiar o processo de mudança de acordo com os estágios de motivação do indivíduo. Por exemplo, uma das estratégias profissionais utilizadas no estágio de pré-contemplação do paciente está corretamente descrita em qual das alternativas?

- (A) Acompanhar a realização dos passos para a mudança, avaliar em conjunto o foco na mudança, os resultados atuais, a necessidade de adequação, a persistência.
- (B) Explorar a divisão interna para que a pessoa saia do estado de paralisia; evocar as razões para mudar e os riscos de mudar ou não mudar o comportamento-alvo; fornecer apoio; fortalecer a autoeficácia para a mudança.
- (C) Auxiliar na elaboração e no detalhamento de um plano de ação; questionar quando, como e onde pretende realizá-lo, como irá se organizar, qual é a data de início, quais são as metas e os prazos, quais são os obstáculos, quem ou o que ajudará.
- (D) Ajudar na identificação dos benefícios do comportamento assumido e na valorização do que está funcionando; reconhecer as situações de risco e as estratégias de enfrentamento; prevenir deslizes e recaídas.
- (E) Fornecer informações; levantar dúvidas e trazer questionamentos; aumentar e fortalecer a percepção acerca dos riscos e dos problemas decorrentes do comportamento atual; evidenciar a discrepância entre os objetivos pessoais e o comportamento; dar *feedback*.





47

Durante a realização do exame físico, o enfermeiro utilizou a seguinte técnica: “com uma das mãos, golpeia-se o abdome, enquanto a outra mão fica espalmada na região contralateral, tentando captar ondas líquidas que se chocam contra a parede abdominal”. Qual é o nome dado a essa técnica?

- (A) Percussão dígito-digital.
- (B) Percussão punho-percussão.
- (C) Percussão com a borda da mão.
- (D) Percussão por piparote.
- (E) Percussão dígito-frontal.

48

O exame da pupila é de grande importância durante o exame físico do paciente, pois é possível identificar algum tipo de lesão neurológica. Portanto é imprescindível que se conheça a forma normal das pupilas. Nesse sentido, observe as figuras a seguir e assinale a alternativa correta.

SINAIS A SEREM OBSERVADOS	DIAGNÓSTICO-PROVÁVEL
 <p>ISOCÓRICAS</p>	1
 <p>MIOSE</p>	2
 <p>ANISOCÓRICAS</p>	3
 <p>MIDRIASE</p>	4

- (A) A situação 2 refere-se à condição normal, porém deve-se reavaliar constantemente.
- (B) A situação 1 refere-se à lesão no sistema nervoso central ou abuso no uso de drogas (toxinas).
- (C) A situação 4 refere-se ao Acidente Vascular Cerebral (AVC), traumatismo cranioencefálico (TCE).
- (D) A situação 3 refere-se a ambientes com pouca luz, anóxia ou hipóxia severa, inconsciência, estado de choque e hemorragia.
- (E) A situação 2 refere-se à lesão no sistema nervoso central ou abuso no uso de drogas (toxinas).

49

Durante ausculta do tórax de um paciente, o enfermeiro constatou um som grave de fricção durante a inspiração e a expiração, causado pela fricção dos dois folhetos da pleura que se encontram inflamados. Esse som anormal durante a ausculta é chamado de

- (A) sibilo.
- (B) ronco.
- (C) atrito pleural.
- (D) crepitação.
- (E) estridor.

50

Uma das queixas mais comuns em saúde da mulher são os problemas relacionados à menstruação. A causa do sangramento uterino aumentado em ciclos regulares, porém prolongados ou intensos pode estar relacionada

- (A) à miomatose uterina.
- (B) ao climatério.
- (C) à Síndrome dos Ovários Policísticos (SOP).
- (D) à hiperprolactinemia.
- (E) ao hipotireoidismo.

51

Em relação ao câncer de mama, os serviços de saúde podem atuar em diferentes níveis de prevenção. Qual desses níveis auxilia a reabilitação, o retorno às atividades e a reinserção da mulher na comunidade; orienta cuidados; mantém o acompanhamento clínico e o controle da doença; orienta quanto aos direitos dos portadores de câncer e facilita o acesso a eles, quando necessário?

- (A) Prevenção primária.
- (B) Prevenção terciária.
- (C) Prevenção secundária.
- (D) Prevenção quaternária.
- (E) Posvenção primária.

52

Trabalhar com grupos operativos de adolescentes significa que eles se reunirão em torno de uma tarefa (um bate-papo, a preparação de uma peça teatral, a confecção de um jornal), trabalhando o processo grupal, as relações, os conflitos e as questões da singularidade. Assim, em relação aos aspectos considerados importantes no trabalho com grupos de adolescentes, assinale a alternativa INCORRETA.

- (A) O grupo pode constituir uma “porta de entrada” para outros atendimentos. Os adolescentes, muitas vezes resistentes aos atendimentos individuais, aderem com mais facilidade às atividades em grupo, mais atraentes e menos ameaçadoras.
- (B) Um desafio sempre presente é constituir no grupo de adolescentes um espaço, não só de construção de conhecimento, mas também de elaboração de experiências e sentimentos.
- (C) É importante que o espaço grupal favoreça o desenvolvimento da subjetividade e possibilite aos jovens a construção de saídas mais saudáveis e singulares para a adolescência.
- (D) O trabalho deve privilegiar o desenvolvimento de atividades lúdicas e participativas, o que contribui significativamente para aumentar o interesse e o grau de compromisso dos jovens com o grupo.
- (E) Organizar os adolescentes em grupos (independente da idade), pois os interesses, a capacidade de abstração e de elaboração das questões são próprios da adolescência e o contato com diversas faixas etárias estimula a tomada de decisão.

53

A gestão de determinado serviço de saúde está organizando a abertura de um setor de cuidados semi-intensivo hospitalar. De acordo com o referencial mínimo para o quadro de profissionais de enfermagem para as 24 horas de cada Unidade de Internação (UI) e considerando o Sistema de Classificação de Pacientes (SCP), as horas de assistência de enfermagem, a distribuição percentual do total de profissionais de enfermagem e a proporção profissional/paciente, assinale a alternativa correta.

- (A) A distribuição percentual do total de profissionais de enfermagem deve levar em conta, para o cuidado semi-intensivo, a seguinte proporção: 33% de enfermeiros (mínimo de seis) e os demais auxiliares e/ou técnicos de enfermagem.
- (B) Para efeito de cálculo, devem ser considerados: o SCP e a proporção profissional/paciente nos diferentes turnos de trabalho de cuidado semi-intensivo: sendo 1 profissional de enfermagem para 6 pacientes.
- (C) Cabe à equipe médica realizar o registro diário da classificação dos pacientes segundo o SCP, para subsidiar a composição do quadro de profissionais para as unidades de internação.
- (D) Como horas de enfermagem, por paciente, nas 24 horas, deve-se levar em conta 10 horas de enfermagem, por paciente, no cuidado semi-intensivo.
- (E) Para o alojamento conjunto, o binômio mãe/filho deve ser classificado, no mínimo, como cuidado intensivo.

54

A Rede de Atenção à Saúde (RAS) se constitui como um conjunto de ações e serviços de saúde articulados em níveis de complexidade crescente, com a finalidade de garantir a integralidade da assistência à saúde. Considerando a organização da RAS, qual das alternativas apresenta corretamente a BASE dessa rede?

- (A) Rede Cegonha.
- (B) Atenção Básica.
- (C) Rede de Atenção Psicossocial.
- (D) Rede de Urgência e Emergência.
- (E) Rede de atenção às condições crônicas.

55

Em relação à atenção das pessoas idosas, a organização do cuidado dessa população deve ser articulada em rede, no âmbito de uma Região de Saúde, ou de várias delas. A organização e o financiamento desse cuidado deverão ser pactuados

- (A) nas comissões intergestores.
- (B) nos conselhos locais de saúde.
- (C) nas Unidades Básicas de Saúde.
- (D) na atenção especializada de saúde.
- (E) no centro de referência de cuidado ao idoso.

56

Sabe-se que o cuidado com a saúde da criança é composto por uma rede interdisciplinar e multiprofissional capaz de compreender todas as necessidades e os direitos infantis. Considerando essa rede, qual das alternativas apresenta um serviço pertencente à rede intersetorial de atenção à criança?

- (A) Unidade Básica de Saúde (UBS).
- (B) Núcleos de Apoio à Saúde da Família (NASF).
- (C) Centro de Atenção Psicossocial (CAPS) infantil.
- (D) Juizados da Infância e da Juventude.
- (E) Estratégia Saúde da Família (ESF).

57

Ao realizar o exame físico de uma criança de dois meses de idade, o enfermeiro realizou a manobra de rotação da cabeça para um lado, observando consequente extensão do membro superior e inferior do lado facial e flexão dos membros contralaterais. A manobra foi realizada bilateralmente e foi simétrica. Nesse caso, não há motivo para preocupações, pois esse reflexo desaparece até o 3º mês. De acordo com o enunciado, qual é o nome do reflexo avaliado pelo enfermeiro?

- (A) Reflexo de Moro.
- (B) Reflexo tônico-cervical.
- (C) Reflexo cutâneo-plantar.
- (D) Reflexo de preensão plantar.
- (E) Reflexo contralateral.

58

De acordo com o Calendário Nacional de Vacinação para crianças, preconizado pelo Ministério da Saúde, qual das alternativas corresponde às vacinas que devem ser aplicadas em uma criança de 4 anos de idade, considerando que suas vacinas estão em dia?

- (A) Pentavalente + DTP, VOP, Febre amarela.
- (B) Hepatite B, VOP, Meningocócica C.
- (C) Pentavalente, VIP, Tríplice viral.
- (D) VIP/VOP, Pneumocócica 10, Rotavírus humano.
- (E) Pentavalente, Rotavírus Humano, Febre amarela.

59

A ferida é definida como qualquer lesão no tecido epitelial, mucosa ou órgãos com prejuízo de suas funções básicas. Quanto à sua origem, é possível expor que as feridas causadas por fatores endógenos ou lesões secundárias a uma ou mais doenças de base, como as lesões vasculares, são denominadas feridas de origem

- (A) patológica.
- (B) iatrogênica.
- (C) traumática.
- (D) acidental.
- (E) cirúrgica.

60

Durante a avaliação de uma ferida quanto à presença de infecção, o enfermeiro constatou que existia alta carga microbiana na superfície da lesão, mas sem chegar até o leito da ferida. Pela descrição realizada pelo enfermeiro, qual é a classificação dessa ferida?

- (A) Ferida não infectada.
- (B) Ferida limpa.
- (C) Ferida colonizada.
- (D) Ferida contaminada.
- (E) Ferida infectada.

Realização



instituto aacp



EDITAL DE CONCURSO PÚBLICO Nº 02/2020



T4426044N

PREFEITURA DE JOÃO PESSOA
SECRETARIA DA SAÚDE

ENFERMEIRO

NOME DO CANDIDATO _____

INSCRIÇÃO _____

Nível

SUPERIOR

Turno

TARDE

PROVA

04

Lembre-se de marcar o número acima na folha de respostas!



**instituto
aacp**

Fraudar ou tentar fraudar
Concursos Públicos é Crime!
Previsto no art. 311 - A do
Código Penal

Sobre o material recebido pelo candidato

- ✓ Além deste Caderno de Questões, com **sessenta questões objetivas**, você receberá do fiscal de sala a Folha de Respostas.
- ✓ Confira seu nome, o número do seu documento e o número de sua inscrição em todos os documentos entregues pelo fiscal. Além disso, não se esqueça de conferir seu Caderno de Questões quanto a falhas de impressão e de numeração e se o cargo corresponde àquele para o qual você se inscreveu.
- ✓ O não cumprimento a qualquer uma das determinações constantes em Edital, no presente Caderno ou na Folha de Respostas incorrerá na eliminação do candidato.

Sobre o material a ser devolvido pelo candidato

- ✓ O único documento válido para avaliação é a Folha de Respostas.
- ✓ Na Folha de Respostas, preencha os campos destinados à assinatura e ao número de inscrição. As respostas às questões objetivas devem ser preenchidas da seguinte maneira: ●
- ✓ Na Folha de Respostas, só é permitido o uso de caneta esferográfica transparente de cor azul ou preta. Esse documento deve ser devolvido ao fiscal na saída, devidamente preenchido e assinado.

Sobre a duração da prova e a permanência na sala

- ✓ O prazo de realização da prova é de 4 horas, incluindo a marcação da Folha de Respostas.
- ✓ Após 60 (sessenta) minutos do início da prova, o candidato estará liberado para utilizar o sanitário ou deixar definitivamente o local de aplicação, não podendo, no entanto, levar o Caderno de Questões e nenhum tipo de anotação de suas respostas.
- ✓ O candidato poderá levar consigo o Caderno de Questões somente se aguardar em sala até o término do prazo de realização da prova estabelecido em edital.
- ✓ Os três últimos candidatos só poderão retirar-se da sala juntos, após assinatura do Termo de Fechamento do Envelope de Retorno.

Sobre a divulgação das provas e dos gabaritos

- ✓ As provas e os gabaritos preliminares estarão disponíveis no dia posterior à aplicação da prova no site do **Instituto AACP** no endereço eletrônico **www.institutoaacp.org.br**

Língua Portuguesa

Borderline: o transtorno que faz pessoas irem do "céu ao inferno" em horas

Tatiana Pronin

Uma alegria contagiante pode se transformar em tristeza profunda em um piscar de olhos porque alguém "pisou na bola". O amor intenso vira ódio profundo, porque a atitude foi interpretada como traição; o sentimento sai de controle e se traduz em gritos, palavrões e até socos. E, então, bate uma culpa enorme e o medo de ser abandonado, como sempre. Dá vontade de se cortar, de beber e até de morrer, porque a dor, o vazio e a raiva de si mesmo são insuportáveis. As emoções e comportamentos exaltados podem dar uma ideia do que vive alguém com transtorno de personalidade borderline (ou "limítrofe").

Reconhecido como um dos transtornos mais lesivos, leva a episódios de automutilação, abuso de substâncias e agressões físicas. Além disso, cerca de 10% dos pacientes cometem suicídio. Além da montanha-russa emocional e da dificuldade em controlar os impulsos, o borderline tende a enxergar a si mesmo e aos outros na base do "tudo ou nada", o que torna as relações familiares, amorosas, de amizade e até mesmo a com o médico ou terapeuta extremamente desgastantes.

Muitos comportamentos do "border" (apelido usado pelos especialistas) lembram os de um jovem rebelde sem tolerância à frustração. Mas, enquanto um adolescente problemático pode melhorar com o tempo ou depois de uma boa terapia, o adulto com o transtorno parece alguém cujo lado afetivo não amadurece nunca.

Ainda que seja inteligente, talentoso e brilhante no que faz, reage como uma criança ao se relacionar com os outros e com as próprias emoções — o que os psicanalistas chamam de "ego imaturo". Em muitos casos, o transtorno fica camuflado entre outros, como o bipolar, a depressão e o uso abusivo de álcool, remédios e drogas ilícitas.

De forma resumida, um transtorno de personalidade pode ser descrito como um jeito de ser, de sentir, se perceber e se relacionar com os outros que foge do padrão considerado "normal" ou saudável. Ou seja, causa sofrimento para a própria pessoa e/ou para os outros. Enquadrar um indivíduo em uma categoria não é fácil — cada pessoa é um universo, com características próprias. [...]

O diagnóstico é bem mais frequente entre as mulheres, mas estudos sugerem que a incidência seja igual em ambos os sexos. O que acontece é que elas tendem a pedir mais socorro, enquanto os homens são mais propensos a se meter em encrencas, ir para a cadeia ou até morrer mais precocemente por causa de comportamentos de risco. Quase sempre o transtorno é identificado em adultos jovens e os sintomas tendem a se tornar atenuados com o passar da idade.

Transtornos de personalidade são diferentes de transtornos mentais (como depressão, ansiedade, transtorno bipolar, psicose etc.), embora seja difícil para leigos e desafiante até para especialistas fazer essa distinção, já que sobreposições ou comorbidades (existência de duas ou mais condições ao mesmo tempo) são muito frequentes. Não é raro que o borderline desenvolva transtorno bipolar, depressão, transtornos alimentares (em especial a bulimia), estresse pós-traumático, déficit de atenção/hiperatividade e transtorno por abuso de substâncias, entre outros. [...]

O paciente borderline sofre os períodos de instabilidade mais intensos no início da vida adulta. Há situações de crise, ou maior descontrole, que podem até resultar em internações porque o paciente coloca sua própria vida ou a dos outros em risco. Por volta dos 40 ou 50 anos, a maioria dos "borders" melhora bastante, probabilidade que aumenta se o paciente se engaja no tratamento. [...]

A personalidade envolve não só aspectos herdados, mas também aprendidos, por isso a melhora é possível, ainda que seja difícil de acreditar no início. Se a psicoterapia é importante para ajudar o bipolar a identificar uma virada e evitar perdas, no transtorno de personalidade ela é o carro-chefe do tratamento. [...]

Medicamentos ajudam a aliviar os sintomas depressivos, a agressividade e o perfeccionismo exagerado, e são ainda mais importantes quando existe um transtorno mental associado. Os fármacos mais utilizados são os antidepressivos (fluoxetina, escitalopram, venlafaxina etc.), os estabilizadores de humor (lítio, lamotrigina, ácido valproico etc.), os antipsicóticos (olanzapina, risperidona, quetiapina etc.) e, em situações pontuais, sedativos ou remédios para dormir (clonazepan, diazepam, alprazolam etc.). Esses últimos costumam ser até solicitados pelos pacientes, mas devem ser evitados ao máximo, porque podem afrouxar o controle dos impulsos, assim como o álcool, além de causarem dependência. [...]

Disponível em:

<https://www.uol.com.br/vivabem/noticias/redacao/2018/04/16/borderline-a-doenca-que-faz-10-dos-diagnosticados-cometerem-suicidio.htm>. Acesso em: 04 jan. 2021.

1

Assinale a alternativa em que o termo ou a expressão destacado(a) tenha sido usado(a) em sentido denotativo.

- (A) “Uma alegria contagiante pode se transformar em tristeza profunda em um piscar de olhos porque alguém **‘pisou na bola’**.”
- (B) “E, então, **bate** uma culpa enorme e o medo de ser abandonado, como sempre.”
- (C) “Além da **montanha-russa** emocional e da dificuldade em controlar os impulsos, o borderline tende a enxergar a si mesmo e aos outros na base do ‘tudo ou nada’, [...]”.
- (D) “**Transtornos de personalidade** são diferentes de transtornos mentais [...]”.
- (E) “[...] o adulto com o transtorno parece alguém cujo lado afetivo não **amadurece** nunca.”.

2

Referente ao seguinte excerto, assinale a alternativa correta.

“Há situações de crise, ou maior descontrole, que podem até resultar em internações porque o paciente coloca sua própria vida ou a dos outros em risco. Por volta dos 40 ou 50 anos, a maioria dos "borders" melhora bastante, probabilidade que aumenta se o paciente se engaja no tratamento. [...]”

- (A) Em “Há situações de crise, ou maior descontrole, [...]”, o verbo “haver” poderia ser substituído por “existir” sem mudanças no que tange à concordância.
- (B) No trecho “Há situações de crise, ou maior descontrole, **que** podem até resultar em internações [...]”, o pronome “que” em destaque retoma a locução “de crise”.
- (C) Em “[...] a maioria dos "borders" melhora bastante, [...]”, o verbo “melhora”, segundo a norma-padrão, deveria ser empregado no plural, para concordar com “borders”.
- (D) O termos destacados em “[...] **se** o paciente **se** engaja no tratamento [...]” desempenham a mesma função gramatical.
- (E) No trecho “[...] probabilidade **que aumenta** se o paciente se engaja no tratamento.”, a oração adjetiva em destaque restringe o termo “probabilidade”.

3

Em relação aos usos da vírgula, assinale a alternativa em que tal sinal de pontuação tenha sido usado para separar orações coordenadas.

- (A) “[...] o sentimento sai de controle e se traduz em gritos, palavrões e até socos.”
- (B) “E, então, bate uma culpa enorme e o medo de ser abandonado [...]”.
- (C) “Mas, enquanto um adolescente problemático pode melhorar com o tempo ou depois de uma boa terapia, o adulto com o transtorno parece alguém cujo lado afetivo não amadurece nunca.”.
- (D) “Por volta dos 40 ou 50 anos, a maioria dos "borders" melhora bastante [...]”.
- (E) “Esses últimos costumam ser até solicitados pelos pacientes, mas devem ser evitados ao máximo [...]”.

4

Considerando o trecho que segue, a respeito dos elementos de coesão e suas respectivas relações lógico-semânticas, analise as assertivas e assinale a alternativa que aponta a(s) correta(s).

“A personalidade envolve não só aspectos herdados, mas também aprendidos, por isso a melhora é possível, ainda que seja difícil de acreditar no início. Se a psicoterapia é importante para ajudar o bipolar a identificar uma virada e evitar perdas, no transtorno de personalidade ela é o carro-chefe do tratamento. [...]”.

- I. Não haveria prejuízo de sintaxe nem de efeito de sentido caso a expressão correlativa “não só/mas também” fosse, nesse contexto, substituída pela conjunção, igualmente aditiva, “e”.
- II. Em vez de “não só/mas também”, poder-se-ia usar, nessa situação, a locução também correlativa “tanto/quanto”, embora esta expresse valor de comparação e não de adição.
- III. A expressão “ainda que” tem valor de concessão e poderia ser substituída, nesse caso, por “embora”.

- (A) Apenas I.
- (B) Apenas II.
- (C) Apenas I e II.
- (D) Apenas II e III.
- (E) I, II e III.

5

Considerando o seguinte excerto, informe se é verdadeiro (V) ou falso (F) o que se afirma a seguir e assinale a alternativa com a sequência correta.

“O diagnóstico é bem mais frequente entre as mulheres, mas estudos sugerem que a incidência seja igual em ambos os sexos.”.

- () Os termos “diagnóstico” e “incidência” são acentuados devido à mesma regra de acentuação em Língua Portuguesa.
- () No termo “frequente”, há um encontro consonantal em “fr”.
- () O vocábulo “mulheres” apresenta um dígrafo e um encontro consonantal.
- () As palavras “frequente”, “mulheres” e “incidência” são todas paroxítonas.
- () O termo “sexos” apresenta cinco letras e seis fonemas.

- (A) F – V – F – V – F.
- (B) V – F – V – F – V.
- (C) F – V – F – V – V.
- (D) V – V – F – F – F.
- (E) F – F – V – V – V.

6

Analise o trecho que segue.

“Medicamentos ajudam a aliviar os sintomas depressivos, a agressividade e o perfeccionismo exagerado, e são ainda mais importantes quando existe um transtorno mental associado. Os fármacos mais utilizados são os antidepressivos (fluoxetina, escitalopram, venlafaxina etc), os estabilizadores de humor (lítio, lamotrigina, ácido valproico etc), os antipsicóticos (olanzapina, risperidona, quietiapina etc) e, em situações pontuais, sedativos ou remédios para dormir (clonazepan, diazepan, alprazolam etc). Esses últimos costumam ser até solicitados pelos pacientes, mas devem ser evitados ao máximo, porque podem afrouxar o controle dos impulsos, assim como o álcool, além de causarem dependência. [...]”.

Em relação, sobretudo, aos componentes destacados nesse segmento do texto, é correto afirmar que

- (A) o verbo “são” em destaque tem como sujeito os elementos “os sintomas depressivos, a agressividade e o perfeccionismo exagerado”.
- (B) a conjunção “quando”, tradicionalmente indicadora de tempo, em certos contextos, pode também expressar valor de condição, como ocorre nesse caso.
- (C) o uso de “antidepressivos”, em destaque, exemplifica um caso de substantivo transformado em adjetivo.
- (D) a preposição “para” expressa a relação lógico-semântica de causa.
- (E) o pronome demonstrativo “esses” retoma os medicamentos “clonazepan, diazepan, alprazolam” e poderia ser substituído por “estes” sem nenhum dano gramatical.

7

Ainda em relação ao trecho “Esses últimos costumam ser até solicitados pelos pacientes, mas devem ser evitados ao máximo, porque podem afrouxar o controle dos impulsos, assim como o álcool, além de causarem dependência.”, os verbos destacados retomam a expressão “Esses últimos” e fazem referência a ela por meio de

- (A) sujeito elíptico, em que se oculta um termo já de conhecimento do leitor.
- (B) zeugma, em que se oculta um termo, independente de ter sido mencionado antes ou não.
- (C) coesão por anáfora, em que se usa um elemento para anunciar outro, ainda não mencionado no texto.
- (D) coesão por catáfora, em que se usa um elemento para recuperar outro, já mencionado no texto.
- (E) referenciação nominal, em que se emprega um nome para recuperar um termo anterior.

8

De acordo com o texto, assinale a alternativa correta.

- (A) Pessoas que sofrem do transtorno borderline vão do “céu ao inferno” em um curto período de tempo porque ora se comportam como crianças sem malícia ora se comportam como adultos responsáveis.
- (B) Alguém com a personalidade borderline (“límitrofe”), comumente, apresenta posturas resistentes a limites, regras.
- (C) Um “border”, em geral, vive a infância e a adolescência sem apresentar graves alterações geradas por tal transtorno.
- (D) Grande parte dos “borders”, além de se automutilarem e de apresentarem intensa rebeldia, acabam cometendo suicídio.
- (E) Borderline afeta, sobretudo, mulheres que apresentam esse transtorno aliado à bipolaridade e à depressão.

9

Assinale a alternativa correta considerando o conteúdo do texto.

- (A) Segundo o texto, as relações interpessoais e até mesmo relacionadas ao tratamento dos “borders” desgastam-se com facilidade e isso acaba provocando descontrole emocional e alterações de humor extremas em tais indivíduos.
- (B) De acordo com o texto, categorizar pessoas é uma tarefa difícil porque cada um apresenta atitudes, pensamentos, aptidões, gostos, sentimentos etc. bem particulares.
- (C) Transtornos como a bipolaridade (de personalidade) e borderline (mentais) apresentam diferenças sutis e, normalmente, esses transtornos são observados em um mesmo paciente de modo simultâneo.
- (D) Segundo o texto, quem mais sofre com a síndrome borderline é o próprio paciente acometido pela doença, sendo pouco e/ou raramente afetadas as pessoas que o rodeiam.
- (E) Tratamentos psicoterápicos são mais eficazes em casos de bipolaridade do que em quadros de borderline, uma vez que, comprovadamente, para esses pacientes, a abordagem medicamentosa costuma funcionar mais.

10

Assinale a alternativa em que haja um verbo de ligação com valor de “mudança de estado”.

- (A) “O amor intenso vira ódio profundo, [...]”.
- (B) “[...] a dor, o vazio e a raiva de si mesmo são insuportáveis.”
- (C) “[...] o transtorno fica camuflado [...]”.
- (D) “O paciente borderline sofre os períodos de instabilidade mais intensos no início da vida adulta.”
- (E) “[...] o adulto com o transtorno parece alguém cujo lado afetivo não amadurece nunca.”.

Matemática

11

Sendo $p = \frac{7}{10}$, $q = \frac{1}{50}$ e $r = \frac{6}{7}$, então o valor de $\frac{2.p.r}{6.q}$ é igual a

- (A) 10
- (B) $\frac{1}{10}$
- (C) 1
- (D) $\frac{1}{5}$
- (E) 5

12

Considere a seguinte sequência numérica, tal que os termos dessa sequência foram dispostos obedecendo a uma lei (lógica) de formação, em que ainda falta identificar o último termo:

(- 8, - 7, - 3, 4, 14, __).

Seguindo a lógica de formação dessa sequência, então o último termo da sequência dada é igual a

- (A) 33.
- (B) 31.
- (C) 29.
- (D) 27.
- (E) 25.

13

Uma dosagem total de 100 ml deve ser preparada para ser aplicada em um paciente a partir da mistura de três tipos de soluções, identificadas por H, J e Q, tal que $\frac{3}{4}$ da dosagem total é da solução H, $\frac{1}{5}$ da dosagem total é da solução J e o restante da dosagem total é da solução Q. Dessa forma, uma fração que indica a divisão entre as quantidades da solução Q e da solução H, nessa dosagem e nessa ordem, é igual a

(A) $\frac{1}{4}$

(B) $\frac{15}{4}$

(C) $\frac{1}{15}$

(D) $\frac{4}{5}$

(E) $\frac{4}{15}$

14

Cinco pessoas, identificadas como P₁, P₂, P₃, P₄ e P₅, estão em uma clínica médica aguardando a vez para realizar dois tipos de exames laboratoriais. Sabe-se que duas dessas pessoas, cada uma na sua vez, irão fazer o exame de Hemograma e as outras três, também cada um na sua vez, irão fazer o exame de Glicemia. Sabe-se também que P₃ e P₄ irão fazer o mesmo tipo de exame, P₂ e P₄ irão fazer exames de tipos diferentes e P₂ e P₅ irão fazer exames de tipos diferentes. Com base nessas informações, é correto afirmar que

- (A) P₁ irá fazer o exame de Glicemia.
- (B) P₅ irá fazer o exame de Hemograma.
- (C) P₃ irá fazer o exame de Hemograma.
- (D) P₂ irá fazer o exame de Glicemia.
- (E) P₄ irá fazer o exame de Glicemia.

15

Comparando os números 500 e 100, é correto afirmar que

- (A) 500 é exatamente 300% maior que 100.
- (B) 500 é exatamente 400% maior que 100.
- (C) 100 é exatamente 180% menor que 500.
- (D) 500 é exatamente 100% maior que 100.
- (E) 100 é exatamente 60% menor que 500.

Informática

16

No software Microsoft Excel 2013, versão em português do Brasil, qual das funções a seguir deve ser utilizada para agrupar várias cadeias de texto em uma única sequência de texto?

- (A) ARRUMAR
- (B) CARACT
- (C) BAHTTEXT
- (D) CARACTUNICODE
- (E) CONCATENAR

17

No sistema Microsoft Windows 10 Pro, versão em português, qual arquivo do painel de controle dá acesso à ferramenta que permite configurar opções de gravação e reprodução de sons?

- (A) Mmsys.cpl
- (B) Netcpl.cpl
- (C) Sysdm.cpl
- (D) Joy.cpl
- (E) Mlcfg32.cpl

18

Considerando o sistema operacional Microsoft Windows 10 Pro, qual programa deve ser utilizado para abrir um arquivo que possua a extensão “.STL”?

- (A) Windows Media Player.
- (B) Gerenciador de Tarefas.
- (C) Visualizador 3D.
- (D) Microsoft PowerPoint.
- (E) Gravador de Passos.

19

Qual é o caminho correto para encontrar a ferramenta que cria um disco de reparação do sistema no sistema Microsoft Windows 7 Ultimate Service Pack 1 versão em Português?

- (A) Menu Iniciar, Acessórios do Windows e Backup e Restauração.
- (B) Painel de controle, Sistema e Segurança e Backup e Restauração.
- (C) Menu Iniciar, Programas e Backup do Windows.
- (D) Barra de notificações, Configurações de Inicialização e Backup e Restauração.
- (E) Painel de Controle e Backup do Windows 7.

20

Um byte é composto por quantos bits?

- (A) 64
- (B) 32
- (C) 16
- (D) 8
- (E) 2

Conhecimentos Específicos

21

Dentro dos serviços de saúde, os principais ambientes de atuação da equipe de Enfermagem são: a unidade de Enfermagem (composta pelos espaços em que a equipe atua ativamente) e a unidade do cliente (menor espaço de atuação, em que o paciente é internado e recebe os cuidados essenciais). Nesse sentido, qual das alternativas ilustra corretamente o ambiente da unidade do cliente?

- (A) Cama com colchão e travesseiro.
- (B) Enfermaria ou quartos.
- (C) Copa.
- (D) Posto de enfermagem.
- (E) Sala de serviços.

22

As principais vacinas recomendadas pelo Ministério da Saúde para todos os profissionais da saúde são:

- (A) a pentavalente, a anti-hepatite B, a influenza (gripe) e a tríplice viral (sarampo, caxumba, rubéola).
- (B) a dT (difteria e tétano), a anti-hepatite A, a influenza (gripe) e a varicela monovalente.
- (C) a dT (difteria e tétano), a anti-hepatite B, a influenza (gripe) e a varicela monovalente.
- (D) a dT (difteria e tétano), a anti-hepatite B, a hepatite A e a tríplice viral (sarampo, caxumba, rubéola).
- (E) a dT (difteria e tétano), a anti-hepatite B, a influenza (gripe) e a tríplice viral (sarampo, caxumba, rubéola).

23

Recentemente, um procedimento foi recomendado, em março, pela Organização Mundial da Saúde (OMS) para pacientes com COVID-19 em Síndrome Respiratória Aguda Grave (SRAG). Trata-se de uma posição em que o paciente é colocado a fim de melhorar os parâmetros respiratórios, facilitando a abertura de alvéolos pulmonares, proporcionando melhores trocas gasosas. Qual é o nome desse posicionamento do paciente?

- (A) Decúbito dorsal.
- (B) Decúbito lateral direito.
- (C) Posição de Sims.
- (D) Decúbito ventral.
- (E) Posição genupeitoral.

24

Um paciente apresenta quadro de hipertermia (febre), alternando regularmente períodos de hipertermia e padrões de normotermia. Esse tipo de hipertermia pode ser classificado como

- (A) hipertermia intermitente.
- (B) hipertermia contínua.
- (C) hipertermia remitente.
- (D) hipertermia recrudente.
- (E) hipertermia recorrente.

25

A amplitude do pulso traduz o grau de enchimento da artéria (relativo ao volume de sangue ejetado do ventrículo esquerdo na sístole e o remanescente na diástole), que pode ser cheio/forte ou fraco/filiforme, percebido em forma de onda durante a palpação da artéria. Assim, para a verificação do pulso, utiliza-se preferencialmente a artéria

- (A) femoral.
- (B) braquial.
- (C) radial.
- (D) temporal.
- (E) carotídea.

26

Um paciente está em quadro de cetoacidose diabética, apresentando um quadro respiratório com profundas e rápidas inspirações, interrompidas por curtos períodos de apneia, seguindo-se de respirações profundas e ruidosas, lembrando um peixe fora d'água. Como se denomina esse padrão respiratório?

- (A) Bradipneia.
- (B) Respiração de Biot.
- (C) Dispneia.
- (D) Respiração de Cheyne Stokes.
- (E) Respiração de Kussmaul.

27

A terminologia empregada para designar as variações da pressão arterial é de extrema importância para a identificação do quadro apresentado pelo paciente. Nesse sentido, é correto afirmar que, quando as pressões sistólicas e diastólicas estão muito próximas, denomina-se

- (A) pressão divergente.
- (B) pressão convergente.
- (C) pressão de pulso.
- (D) hipertensão.
- (E) hipotensão.

28

Em relação à composição do esfigmomanômetro, apresentado a seguir, é correto afirmar que a seta indica



- (A) a válvula de escape do esfigmomanômetro.
- (B) a válvula reguladora do esfigmomanômetro.
- (C) o anel de insuflação do esfigmomanômetro.
- (D) o manguito do esfigmomanômetro.
- (E) o manômetro do esfigmomanômetro.

29

Os determinantes da dor são compostos principalmente pelos aspectos psicossociais e neurossensitivos. Assim, a dor é classificada quanto ao tempo, à origem e à localização. Quanto a essa última classificação, quando a dor geralmente envolve comprometimento de articulações e pode ser referida como dor em agulhada, queimação e pulsátil, ela é chamada de

- (A) dor somática.
- (B) dor visceral.
- (C) dor referida.
- (D) dor irradiada.
- (E) dor cutânea.

30

Sobre as medicações mais comuns utilizadas para o tratamento de processos inflamatórios do sistema respiratório, é correto afirmar que

- (A) os broncodilatadores têm como ação o aumento da produção de muco, estimulando a tosse. São exemplos o Bromidrato de Fenoterol e o Brometo de Ipratrópio.
- (B) os expectorantes reflexos têm como ação o relaxamento das vias aéreas, permitindo maior fluxo de ar, como o Iodeto de Potássio.
- (C) os expectorantes mucolíticos têm como ação a diminuição do reflexo da tosse. A Codeína é um exemplo desse tipo de medicação.
- (D) os antitussígenos têm como ação a diminuição da viscosidade do muco, permitindo facilidade na expectoração. Um exemplo desse tipo de medicação é a Acetilcisteína.
- (E) o Oxigênio tem como ação o aumento dos níveis séricos de oxigênio absorvido pelos pulmões. São exemplos o cateter nasal, o cateter tipo óculos (dupla saída), a máscara facial, a ventilação por pressão positiva e a ventilação artificial.

31

A máscara facial de nebulização, ou também chamada de máscara simples, é considerada um sistema de baixo fluxo muito utilizado no cuidado a pacientes com alterações do sistema respiratório. É um sistema simples, confortável, que tem baixo custo e fornece concentrações de O2 superiores a

- (A) 5%
- (B) 40%
- (C) 30%
- (D) 20%
- (E) 10%

32

A Nutrição Enteral (NE) é indicada, de modo geral, a clientes que apresentam o aparelho digestivo funcionando, mas que não são capazes de ingerir pelo menos 60% de suas necessidades calórico-proteicas por via oral. No entanto é correto afirmar que essa terapia está contraindicada em qual das seguintes condições?

- (A) Anorexia nervosa.
- (B) Lesões orais.
- (C) Peritonite difusa.
- (D) Acidentes Vasculares Encefálicos (AVE).
- (E) Neoplasias.

33

A Nutrição Parenteral (NP) consiste na administração intravenosa de macronutrientes, como glicose, lipídios e aminoácidos, além de água, eletrólitos e micronutrientes, incluindo vitaminas e minerais. A Nutrição Parenteral Central (NPC) consiste na administração da solução de alta osmolaridade, sendo realizada por meio de diversos tipos de cateter vascular, cuja extremidade distal é posicionada na

- (A) valva aórtica.
- (B) valva mitral.
- (C) veia cava inferior.
- (D) veia cava superior.
- (E) artéria pulmonar esquerda.

34

Em relação ao cateterismo vesical, assinale a alternativa INCORRETA.

- (A) Pode ser do tipo sonda de Foley, de três vias, sendo a terceira utilizada para irrigação vesical, ou sonda de Owens, com duas vias (um lúmen para drenagem de urina e o outro para insuflar e desinsuflar o balão).
- (B) O cateterismo uretral requer prescrição médica e, a depender da instituição, pode ser realizado pela equipe de Enfermagem ou pelo profissional médico.
- (C) Consiste na inserção de um cateter na bexiga, por meio da uretra. Tem como funções promover um fluxo contínuo de urina, em casos de obstrução ou quando o indivíduo não consegue controlar a micção.
- (D) A sondagem vesical pode ser de alívio (intermitente) ou de demora. As sondas de alívio são geralmente plásticas e as de demora são elásticas, flexíveis e autoestáticas.
- (E) As medidas de Enfermagem devem ser direcionadas para manutenção do fluxo de urina e prevenção de infecções.

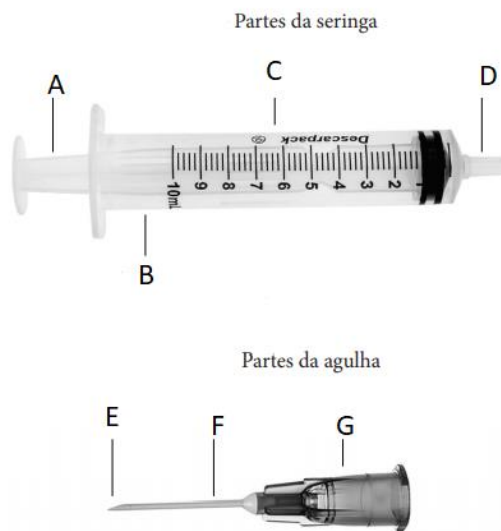
35

Em um paciente com uma ferida cavitária em região sacral, com presença de infecção, exsudação de moderada à intensa e com tecido necrótico, o enfermeiro optou corretamente por usar qual cobertura/produto?

- (A) Papaína.
- (B) Hidrocoloide.
- (C) Filme transparente.
- (D) Alginato de Cálcio.
- (E) Sulfadiazina de prata.

36

Para que se proceda uma punção venosa, é necessário, além do equipamento apropriado, o conhecimento do material a ser utilizado. Sobre isso, analise a figura a seguir e assinale a alternativa correta.



- (A) A=Êmbolo, B=Escala de graduação, C=Corpo.
- (B) D=Bico, E=Haste, G=Bisel.
- (C) F=agulha, D=Bisel, A=Canhão.
- (D) C=seringa, G=conector, E=agulha.
- (E) F=Haste, A=Êmbolo, E=Bisel.

37

Em relação à via, ao local, ao volume, ao ângulo e à posição do bisel para administração de medicação parenteral em adultos, observe a seguinte tabela e assinale a alternativa correta.

Via	Locais de Aplicação	Volume Máximo	Ângulo da agulha	Posição do bisel
ID	- Face central do antebraço	A	De 10° a 15°	Para cima
SC	- Face externa anterior e posterior do braço	B	90°	Para cima
EV	- Veias longitudinais do braço e antebraço	Ilimitado	De 10° a 15°	D
IM	Dorsoglúteo	C	E	Lateral

- (A) A letra B refere-se ao volume máximo de 4 ml.
- (B) A letra A refere-se ao volume máximo de 2 ml.
- (C) A letra D refere-se ao bisel voltado para baixo.
- (D) A letra C refere-se ao volume máximo de 5 ml.
- (E) A letra E refere-se ao ângulo de 45° graus.

38

No esquema Paucibacilar (PB) do tratamento da Hanseníase, considera-se uma pessoa de alta por cura aquela que completa o esquema de tratamento poliquimioterápico (PQT) em qual prazo?

- (A) 18 doses mensais supervisionadas de rifampicina, em até 24 meses, mais a clorpromazina autoadministrada e a clofazimina autoadministrada e supervisionada.
- (B) 15 doses mensais supervisionadas de dapsona, em até 18 meses, mais a sulfona autoadministrada e a rifampicina autoadministrada e supervisionada.
- (C) 6 doses mensais supervisionadas de rifampicina, em até 9 meses, mais a sulfona autoadministrada.
- (D) 12 doses mensais supervisionadas de rifampicina, em até 15 meses, mais a sulfona autoadministrada e a clindamicina autoadministrada e supervisionada.
- (E) 6 doses mensais supervisionadas de clofazimina, em até 12 meses, mais a sulfona autoadministrada e a rifampicina autoadministrada e supervisionada.

39

A comprovação bacteriológica dos casos de tuberculose é fundamental tanto para o diagnóstico quanto para o controle da doença. Para a realização da baciloscopia, recomenda(m)-se:

- (A) duas amostras de escarro: uma no momento da identificação do Sintomático Respiratório (SR) e outra na manhã do dia seguinte.
- (B) duas amostras de escarro: uma no momento da identificação do Sintomático Respiratório (SR) e outra na semana seguinte.
- (C) uma amostra de escarro no momento da identificação do Sintomático Respiratório (SR).
- (D) três amostras de escarros: a primeira coleta no momento da identificação do Sintomático Respiratório (SR), a segunda coleta depois de 10 dias da primeira e a terceira coleta 10 dias depois da segunda.
- (E) duas amostras de escarro: uma no momento da identificação do Sintomático Respiratório (SR) e outra após o resultado da primeira, para evitar falso-positivo.

40

O Ministério da Saúde propõe três pilares para o plano de combate à hanseníase: 1) Fortalecimento da Gestão do Programa; 2) Enfrentamento da hanseníase e suas complicações e 3) Promoção da inclusão social por meio do combate ao estigma e à discriminação. Qual das alternativas está inserida no segundo pilar?

- (A) Apoiar modelos de desenvolvimento inclusivos para pessoas acometidas pela hanseníase.
- (B) Fortalecer o sistema de vigilância e informação em saúde para monitoramento e avaliação do programa.
- (C) Assegurar compromisso político e recursos para os programas de hanseníase nas três esferas de governo.
- (D) Qualificar as ações de prevenção e o manejo das incapacidades durante o tratamento e no pós-alta.
- (E) Fortalecer a capacidade de participação ativa das pessoas acometidas pela hanseníase nos espaços de controle social e nos serviços de saúde.

41

A imunização para o Papilomavírus Humano (HPV) é realizada por meio de vacina quadrivalente (tipos 6, 11, 16 e 18), estando indicada para meninas e meninos. Sobre o esquema vacinal é correto afirmar que a vacinação está indicada

- (A) para meninas de 7 a 9 anos e meninos de 10 a 12 anos. O esquema é composto por dose única em ambos os sexos.
- (B) para meninas de 9 a 14 anos e meninos de 11 a 14 anos. O esquema é composto de duas doses, com intervalo de seis meses.
- (C) para meninas de 10 a 15 anos e meninos de 15 a 17 anos. O esquema é composto de duas doses, com intervalo de dois meses.
- (D) para meninas de 9 a 11 anos e meninos de 9 a 14 anos. O esquema é composto de três doses, com intervalo de dois meses entre as doses.
- (E) para meninas de 10 a 14 anos e meninos de 10 a 17 anos. O esquema é composto de duas doses, com intervalo de três meses.

42

Paciente do sexo feminino, 28 anos, procurou o serviço de saúde com queixas de ulcerações na região genital. Após resultado laboratorial dessa paciente ter dado positivo para *Treponema pallidum*, é correto afirmar que estamos diante de qual Infecção Sexualmente Transmissível (IST)?

- (A) Vaginose bacteriana.
- (B) Condiloma acuminado.
- (C) Gonorreia.
- (D) Clamídia.
- (E) Sífilis.

43

Em adultos, qual é o tempo ideal para a aplicação do primeiro choque no caso de uma Parada Cardiorrespiratória (PCR) em Fibrilação Ventricular (FV), já que, nesse período, o coração se encontra em ritmo de FV grosseira, o que facilita a reversão pela desfibrilação?

- (A) Compreende os primeiros 9 a 11 minutos da PCR.
- (B) Compreende os primeiros 3 a 5 minutos da PCR.
- (C) Compreende os primeiros 5 a 7 minutos da PCR.
- (D) Compreende os primeiros 7 a 9 minutos da PCR.
- (E) Compreende os primeiros 11 a 13 minutos da PCR.

44

Durante uma tentativa de reanimação, o socorrista deve tentar identificar a causa da Parada Cardiorrespiratória (PCR). Deve-se tentar obter dados, examinando o paciente ou conversando com os familiares, que permitam definir a possível causa e a estratégia terapêutica, particularmente para as causas reversíveis de PCR. A maioria das causas de parada pode ser resumida pelo mnemônico “5H e 5T”. Qual das seguintes alternativas NÃO contempla esse mnemônico?

- (A) Hipóxia.
- (B) Toxinas.
- (C) Hipoglicemia.
- (D) Hipovolemia.
- (E) Trombose coronariana.

45

Em se tratando de autocuidado apoiado, a equipe de saúde deve utilizar algumas estratégias para apoiar o processo de mudança de acordo com os estágios de motivação do indivíduo. Por exemplo, uma das estratégias profissionais utilizadas no estágio de pré-contemplação do paciente está corretamente descrita em qual das alternativas?

- (A) Acompanhar a realização dos passos para a mudança, avaliar em conjunto o foco na mudança, os resultados atuais, a necessidade de adequação, a persistência.
- (B) Explorar a divisão interna para que a pessoa saia do estado de paralisia; evocar as razões para mudar e os riscos de mudar ou não mudar o comportamento-alvo; fornecer apoio; fortalecer a autoeficácia para a mudança.
- (C) Auxiliar na elaboração e no detalhamento de um plano de ação; questionar quando, como e onde pretende realizá-lo, como irá se organizar, qual é a data de início, quais são as metas e os prazos, quais são os obstáculos, quem ou o que ajudará.
- (D) Ajudar na identificação dos benefícios do comportamento assumido e na valorização do que está funcionando; reconhecer as situações de risco e as estratégias de enfrentamento; prevenir deslizes e recaídas.
- (E) Fornecer informações; levantar dúvidas e trazer questionamentos; aumentar e fortalecer a percepção acerca dos riscos e dos problemas decorrentes do comportamento atual; evidenciar a discrepância entre os objetivos pessoais e o comportamento; dar *feedback*.





46

Durante a realização do exame físico, o enfermeiro utilizou a seguinte técnica: “com uma das mãos, golpeia-se o abdome, enquanto a outra mão fica espalmada na região contralateral, tentando captar ondas líquidas que se chocam contra a parede abdominal”. Qual é o nome dado a essa técnica?

- (A) Percussão dígito-digital.
- (B) Percussão punho-percussão.
- (C) Percussão com a borda da mão.
- (D) Percussão por piparote.
- (E) Percussão dígito-frontal.

47

O exame da pupila é de grande importância durante o exame físico do paciente, pois é possível identificar algum tipo de lesão neurológica. Portanto é imprescindível que se conheça a forma normal das pupilas. Nesse sentido, observe as figuras a seguir e assinale a alternativa correta.

SINAIS A SEREM OBSERVADOS	DIAGNÓSTICO-PROVÁVEL
 <p>ISOCÓRICAS</p>	1
 <p>MIOSE</p>	2
 <p>ANISOCÓRICAS</p>	3
 <p>MIDRIASE</p>	4

- (A) A situação 2 refere-se à condição normal, porém deve-se reavaliar constantemente.
- (B) A situação 1 refere-se à lesão no sistema nervoso central ou abuso no uso de drogas (toxinas).
- (C) A situação 4 refere-se ao Acidente Vascular Cerebral (AVC), traumatismo cranioencefálico (TCE).
- (D) A situação 3 refere-se a ambientes com pouca luz, anóxia ou hipóxia severa, inconsciência, estado de choque e hemorragia.
- (E) A situação 2 refere-se à lesão no sistema nervoso central ou abuso no uso de drogas (toxinas).

48

Durante ausculta do tórax de um paciente, o enfermeiro constatou um som grave de fricção durante a inspiração e a expiração, causado pela fricção dos dois folhetos da pleura que se encontram inflamados. Esse som anormal durante a ausculta é chamado de

- (A) sibilo.
- (B) ronco.
- (C) atrito pleural.
- (D) crepitação.
- (E) estridor.

49

Uma das queixas mais comuns em saúde da mulher são os problemas relacionados à menstruação. A causa do sangramento uterino aumentado em ciclos regulares, porém prolongados ou intensos pode estar relacionada

- (A) à miomatose uterina.
- (B) ao climatério.
- (C) à Síndrome dos Ovários Policísticos (SOP).
- (D) à hiperprolactinemia.
- (E) ao hipotireoidismo.

50

Em relação ao câncer de mama, os serviços de saúde podem atuar em diferentes níveis de prevenção. Qual desses níveis auxilia a reabilitação, o retorno às atividades e a reinserção da mulher na comunidade; orienta cuidados; mantém o acompanhamento clínico e o controle da doença; orienta quanto aos direitos dos portadores de câncer e facilita o acesso a eles, quando necessário?

- (A) Prevenção primária.
- (B) Prevenção terciária.
- (C) Prevenção secundária.
- (D) Prevenção quaternária.
- (E) Posvenção primária.

51

Trabalhar com grupos operativos de adolescentes significa que eles se reunirão em torno de uma tarefa (um bate-papo, a preparação de uma peça teatral, a confecção de um jornal), trabalhando o processo grupal, as relações, os conflitos e as questões da singularidade. Assim, em relação aos aspectos considerados importantes no trabalho com grupos de adolescentes, assinale a alternativa INCORRETA.

- (A) O grupo pode constituir uma “porta de entrada” para outros atendimentos. Os adolescentes, muitas vezes resistentes aos atendimentos individuais, aderem com mais facilidade às atividades em grupo, mais atraentes e menos ameaçadoras.
- (B) Um desafio sempre presente é constituir no grupo de adolescentes um espaço, não só de construção de conhecimento, mas também de elaboração de experiências e sentimentos.
- (C) É importante que o espaço grupal favoreça o desenvolvimento da subjetividade e possibilite aos jovens a construção de saídas mais saudáveis e singulares para a adolescência.
- (D) O trabalho deve privilegiar o desenvolvimento de atividades lúdicas e participativas, o que contribui significativamente para aumentar o interesse e o grau de compromisso dos jovens com o grupo.
- (E) Organizar os adolescentes em grupos (independente da idade), pois os interesses, a capacidade de abstração e de elaboração das questões são próprios da adolescência e o contato com diversas faixas etárias estimula a tomada de decisão.

52

A gestão de determinado serviço de saúde está organizando a abertura de um setor de cuidados semi-intensivo hospitalar. De acordo com o referencial mínimo para o quadro de profissionais de enfermagem para as 24 horas de cada Unidade de Internação (UI) e considerando o Sistema de Classificação de Pacientes (SCP), as horas de assistência de enfermagem, a distribuição percentual do total de profissionais de enfermagem e a proporção profissional/paciente, assinale a alternativa correta.

- (A) A distribuição percentual do total de profissionais de enfermagem deve levar em conta, para o cuidado semi-intensivo, a seguinte proporção: 33% de enfermeiros (mínimo de seis) e os demais auxiliares e/ou técnicos de enfermagem.
- (B) Para efeito de cálculo, devem ser considerados: o SCP e a proporção profissional/paciente nos diferentes turnos de trabalho de cuidado semi-intensivo: sendo 1 profissional de enfermagem para 6 pacientes.
- (C) Cabe à equipe médica realizar o registro diário da classificação dos pacientes segundo o SCP, para subsidiar a composição do quadro de profissionais para as unidades de internação.
- (D) Como horas de enfermagem, por paciente, nas 24 horas, deve-se levar em conta 10 horas de enfermagem, por paciente, no cuidado semi-intensivo.
- (E) Para o alojamento conjunto, o binômio mãe/filho deve ser classificado, no mínimo, como cuidado intensivo.

53

A Rede de Atenção à Saúde (RAS) se constitui como um conjunto de ações e serviços de saúde articulados em níveis de complexidade crescente, com a finalidade de garantir a integralidade da assistência à saúde. Considerando a organização da RAS, qual das alternativas apresenta corretamente a BASE dessa rede?

- (A) Rede Cegonha.
- (B) Atenção Básica.
- (C) Rede de Atenção Psicossocial.
- (D) Rede de Urgência e Emergência.
- (E) Rede de atenção às condições crônicas.

54

Em relação à atenção das pessoas idosas, a organização do cuidado dessa população deve ser articulada em rede, no âmbito de uma Região de Saúde, ou de várias delas. A organização e o financiamento desse cuidado deverão ser pactuados

- (A) nas comissões intergestores.
- (B) nos conselhos locais de saúde.
- (C) nas Unidades Básicas de Saúde.
- (D) na atenção especializada de saúde.
- (E) no centro de referência de cuidado ao idoso.

55

Sabe-se que o cuidado com a saúde da criança é composto por uma rede interdisciplinar e multiprofissional capaz de compreender todas as necessidades e os direitos infantis. Considerando essa rede, qual das alternativas apresenta um serviço pertencente à rede intersetorial de atenção à criança?

- (A) Unidade Básica de Saúde (UBS).
- (B) Núcleos de Apoio à Saúde da Família (NASF).
- (C) Centro de Atenção Psicossocial (CAPS) infantil.
- (D) Juizados da Infância e da Juventude.
- (E) Estratégia Saúde da Família (ESF).

56

Ao realizar o exame físico de uma criança de dois meses de idade, o enfermeiro realizou a manobra de rotação da cabeça para um lado, observando consequente extensão do membro superior e inferior do lado facial e flexão dos membros contralaterais. A manobra foi realizada bilateralmente e foi simétrica. Nesse caso, não há motivo para preocupações, pois esse reflexo desaparece até o 3º mês. De acordo com o enunciado, qual é o nome do reflexo avaliado pelo enfermeiro?

- (A) Reflexo de Moro.
- (B) Reflexo tônico-cervical.
- (C) Reflexo cutâneo-plantar.
- (D) Reflexo de preensão plantar.
- (E) Reflexo contralateral.

57

De acordo com o Calendário Nacional de Vacinação para crianças, preconizado pelo Ministério da Saúde, qual das alternativas corresponde às vacinas que devem ser aplicadas em uma criança de 4 anos de idade, considerando que suas vacinas estão em dia?

- (A) Pentavalente + DTP, VOP, Febre amarela.
- (B) Hepatite B, VOP, Meningocócica C.
- (C) Pentavalente, VIP, Tríplice viral.
- (D) VIP/VOP, Pneumocócica 10, Rotavírus humano.
- (E) Pentavalente, Rotavírus Humano, Febre amarela.

58

A ferida é definida como qualquer lesão no tecido epitelial, mucosa ou órgãos com prejuízo de suas funções básicas. Quanto à sua origem, é possível expor que as feridas causadas por fatores endógenos ou lesões secundárias a uma ou mais doenças de base, como as lesões vasculares, são denominadas feridas de origem

- (A) patológica.
- (B) iatrogênica.
- (C) traumática.
- (D) acidental.
- (E) cirúrgica.

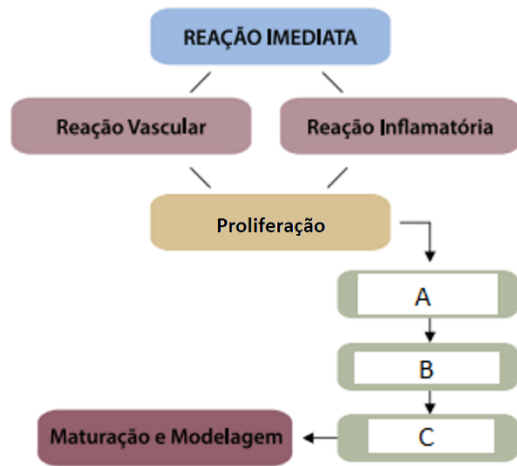
59

Durante a avaliação de uma ferida quanto à presença de infecção, o enfermeiro constatou que existia alta carga microbiana na superfície da lesão, mas sem chegar até o leito da ferida. Pela descrição realizada pelo enfermeiro, qual é a classificação dessa ferida?

- (A) Ferida não infectada.
- (B) Ferida limpa.
- (C) Ferida colonizada.
- (D) Ferida contaminada.
- (E) Ferida infectada.

60

Observe a seguinte figura e assinale a alternativa correta sobre as fases do processo de cicatrização da ferida.



- (A) A etapa descrita pela letra A refere-se ao processo de Epitelização.
- (B) A etapa descrita pela letra B refere-se ao processo de Granulação.
- (C) A etapa descrita pela letra C refere-se ao processo de Contração.
- (D) A etapa descrita pela letra A refere-se ao processo de Retração.
- (E) A etapa descrita pela letra B refere-se ao processo de Queratinização.

Realização



instituto aocp