

# Prefeitura Municipal de Pitangueiras/SP

**CONCURSO PÚBLICO - EDITAL Nº 01/2019**

---



PERÍODO:  
**TARDE**

PROVA:  
**TIPO 01 - BRANCA**

DATA:  
**25/08/2019**

## **AGENTE COMUNITÁRIO DE SAÚDE**

INSTRUÇÕES NO VERSO DA PROVA

ORGANIZADOR:



**INSTITUTO**  
CONSULPLAN

**CARGO: AGENTE COMUNITÁRIO DE SAÚDE**

**CONHECIMENTOS GERAIS**

**Fazer nada**

*Como a visita de um pássaro nos fez pensar no tempo.*

Conseguimos uns dias de folga e fomos passar um tempo cuidando um do outro. No hotel, em Itatiba, deram-nos o quarto 37, que se abre para um mar de morros verdes, com plantações, pastos, florestas. Fica no piso superior, tem pé-direito alto e uma varanda abraçada por árvores repletas de pássaros. À noite, entrou pela janela um passarinho. Minúsculo, branco no peito e na parte inferior da face, preto no dorso e na metade de cima da cabeça. Entrou pelo quarto, acelerado. Voava junto ao teto e não conseguia baixar até a altura da porta por onde havia entrado. Temíamos que se machucasse. Apagamos as luzes. Ele se acalmou e parou para descansar no toucador. Pulou em pé, no chão. Caminhou um pouco, ofegante. Usamos um chapéu para levá-lo à varanda, onde ficou ainda um tempo, refazendo-se.

Depois, vimos que deixou de lembrança um cocozinho na nossa cama. De onde teria vindo essa ave? Qual o significado do carimbo de passarinho sobre o lençol? Resisti à ideia de lembrar que excremento de pássaro é sinal de boa fortuna em antigas tradições. Augúrio? Sinal? Ali não havia mistério. Era apenas um bichinho assustado, acelerado demais. Talvez apenas apavorado por haver entrado em um lugar de onde parecia impossível sair. Mais do que um significado oculto, sua visita pode é nos inspirar, quem sabe, uma analogia. Quantas vezes o homem não se debate, na ilusão de que está acuado? Quantas vezes sofre sem perceber que está saturado por estímulos que ele próprio foi buscar? A sensação de que seu tempo é estrangulado, sem se dar conta de que é ele quem cultiva desassossego para si. Um amigo, sobrinho de um sábio do interior, costuma usar a imagem da trajetória errática e vã das formigas para ilustrar a ilusão que acomete o homem em movimentos inócuos e sem sentido, o esforço inútil. Não é à toa que se fale tanto na necessidade de ir com mais calma.

Afinal, nós nunca aceleramos tanto. Na ilusão de anteciparmos o futuro, roubamos o momento seguinte e deixamos de vivê-lo. Convivemos sem prestar atenção no outro, respiramos com sofreguidão, comemos sem sentir o sabor. Fugimos do presente, o único tempo que existe e sobre o qual criamos a referência para um passado reconstruído na memória e um futuro sonhado. Como parar e fazer nada? Como apenas ser, sem se debater por ter entrado em uma porta estranha? Há quem não consiga relaxar e, simplesmente, fazer nada. Alguém já disse que fazer nada não é a completa falta de ação, mas a ação feita com desapego, sem visar resultado para si mesmo. Há algo de bom em atingir esse momento em que só se é parte da paisagem e não um observador separado. Se ainda quiséssemos procurar um significado para a visita da

pequena ave, poderíamos dizer que ela veio trazer o tema para estas linhas que você lê agora. Como se nos dissesse: que bom que vocês conseguiram uns dias de folga e vieram aqui, cuidar um do outro. Sejam bem-vindos a este momento e esqueçam o resto. Fui.

(NOGUEIRA, Paulo. *Vida Simples*, ed. 37. São Paulo: Abril, 2006.

Disponível em [http://mdemulher.abril.com.br/revistas/vidasimples/Edições/037/caminho/conteúdo\\_237474.shtml](http://mdemulher.abril.com.br/revistas/vidasimples/Edições/037/caminho/conteúdo_237474.shtml). Acesso em: 13/07/2019.)

**Questão 01**

**De acordo com as ideias apresentadas no texto, podemos inferir que:**

- A) Há uma suposição lógica de que o homem se esforça cada vez menos na vida.
- B) Estamos convivendo sem valorizar o outro; deixando de viver satisfatoriamente bem.
- C) Existe uma valorização exagerada a respeito de credices e superstições no nosso dia a dia.
- D) É muito importante tirarmos alguns dias de folga para solucionar problemas significativos.

**Questão 02**

**Considerando o trecho “Resisti à ideia de lembrar que excremento de pássaro é sinal de boa fortuna em antigas tradições.” (2º§), podemos perceber que o autor:**

- A) É excessivamente contrário a credices e superstições.
- B) Expressa certa dificuldade em associar alguma crença em seu cotidiano.
- C) Ironiza certas tradições e crenças, até que se prove a veracidade dos fatos.
- D) Critica tradições e religiosidades, pois aceita apenas a realidade, isto é, o que é concreto na vida.

**Questão 03**

**Considerando o sentido e o significado que as palavras empregam no texto, assinale a associação INCORRETA.**

- A) “Caminhou um pouco, ofegante.” (1º§) – exaurido.
- B) “Entrou pelo quarto, acelerado.” (1º§) – apressado.
- C) “A sensação de que seu tempo é estrangulado (...)” (2º§) – consagrado.
- D) “Sejam bem-vindos a este momento e esqueçam o resto.” (3º§) – abandonem.

**Questão 04**

**Considerando que o sujeito é a parte da oração sobre a qual a restante oração se refere, ou seja, de quem ou do que se fala, assinale a afirmativa transcrita do texto que evidencia um sujeito simples.**

- A) “Como parar e fazer nada?” (3º§)
- B) “Ele se acalmou e parou para descansar no toucador.” (1º§)
- C) “Não é à toa que se fale tanto na necessidade de ir com mais calma.” (2º§)
- D) “Conseguimos uns dias de folga e fomos passar um tempo cuidando um do outro.” (1º§)

**Questão 05**

Em “*Afinal, nós nunca aceleramos tanto.*” (3º§), a expressão “*afinal*” pode ser substituída, sem alteração semântica, por:

- A) Enfim.
- B) Por isso.
- C) Contudo.
- D) Além disso.

**Questão 06**

Em “*Talvez apenas apavorado por haver entrado em um lugar de onde parecia impossível sair.*” (2º§), o termo destacado exprime circunstância de:

- A) Modo.
- B) Tempo.
- C) Dúvida.
- D) Afirmação.

**Questão 07**

Em “*Quantas vezes o homem não se debate, na ilusão de que está acuado? Quantas vezes sofre sem perceber que está saturado por estímulos que ele próprio foi buscar?*” (2º§), o ponto de interrogação tem como finalidade:

- A) Indicar perguntas.
- B) Expressar certezas.
- C) Marcar pausas curtas.
- D) Interromper o pensamento do autor.

**Questão 08**

De acordo com a classe de palavras, assinale a correlação **INADEQUADA**.

- A) “*Apagamos as luzes.*” (1º§) – substantivo.
- B) “*Usamos um chapéu para levá-lo à varanda (...)*” (1º§) – preposição.
- C) “*Depois, vimos que deixou de lembrança um cocozinho na nossa cama.*” (2º§) – pronome.
- D) “*Como apenas ser, sem se debater por ter entrado em uma porta estranha?*” (3º§) – adjetivo.

**Questão 09**

No trecho “*À noite, entrou pela janela um passarinho.*” (1º§), o acento indicativo de crase foi adequadamente empregado. Assinale, a seguir, a afirmativa em que o seu uso é facultativo.

- A) Às vezes é necessário fugir do presente.
- B) Estamos à espera de simplesmente fazer nada.
- C) Voou até à varanda do hotel que é abraçada por árvores.
- D) À tarde, os passarinhos entraram acelerados nas plantações.

**Questão 10**

Assinale a alternativa que **CONTRARIA** a norma-padrão da Língua Portuguesa em relação à concordância.

- A) A maior parte dos pássaros voou.
- B) Todos estavam meio ansiosos com os dias de folga.
- C) As pessoas consideram difícil o trabalho e o estudo.
- D) Nem chuva nem frio são bem recebidos nesse hotel.

**Questão 11**

Considere a tabela apresentada.

	A	B
1	1	2
2	2	3
3	3	4
4	4	5
5	5	6
6		
7		

O valor evidenciado em A7, após a execução da expressão =SOMA(A1:A6) \*(\$B\$1), é:

- A) 30
- B) 45
- C) 60
- D) 75

**Questão 12**

Um SGBD (Sistema Gerenciador de Banco de Dados) se refere a um conjunto de programas (*softwares*), que permite aos usuários construir e manter um banco de dados. **NÃO** se trata de característica de um SGBD:

- A) Integridade
- B) Interface única.
- C) Backup e Restauração.
- D) Controle de Redundância.

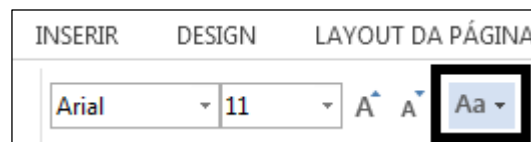
**Questão 13**

Sistema operacional é o conjunto de *softwares* que gerenciam recursos, processadores, armazenamento, dispositivos de entrada e saída e dados de um microcomputador e seus periféricos. Assinale a alternativa que melhor define um Sistema Operacional Proprietário.

- A) BSD.
- B) Unix.
- C) Linux.
- D) Windows.

**Questão 14**

Editores de texto são muito utilizados em atividades profissionais. O pacote *office* da *Microsoft* possui o MS-WORD, um processador de texto com recursos oferecidos pela interface gráfica do *Windows*. Na imagem há uma caixa preta que representa uma ferramenta de edição.



É correto afirmar que a sua função é alterar:

- A) A cor do texto selecionado.
- B) A fonte do texto selecionado.
- C) O tamanho do texto selecionado.
- D) O texto selecionado para maiúsculo ou minúsculo.

**Questão 15**

MSDOS é o sistema operacional responsável pela comunicação entre usuário e computador. O DOS utiliza uma linguagem própria denominada linguagem de controle. Assinale, a seguir, a função do comando date /?

- A) Altera a data atual do dispositivo.
- B) Retorna a funcionalidade do comando date.
- C) Retorna a data atual do dispositivo na tela de comando.
- D) Retorna a data e a hora do dispositivo na tela de comando.

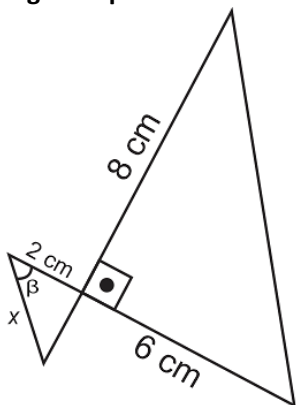
**Questão 16**

Vinte amigos que jogam futebol aos domingos fizeram um churrasco e consumiram 8 kg de carne. Como o evento foi muito divertido, resolveram marcar um novo churrasco para quarta-feira, mas apenas doze amigos confirmaram presença. Considerando que todos comam a mesma quantidade, quantos quilogramas de carne serão necessários para esse churrasco na quarta-feira?

- A) 4,2 kg
- B) 4,5 kg
- C) 4,8 kg
- D) 5,0 kg

**Questão 17**

Considere os triângulos apresentados na figura a seguir.



Sabendo-se que  $\text{tg } \beta = 1$ , qual é o valor de  $x$ ?

- A) 4 cm
- B)  $2\sqrt{2}$  cm
- C)  $2\sqrt{3}$  cm
- D)  $3\sqrt{2}$  cm

**Questão 18**

Manoel é um pedreiro que está trabalhando em uma obra onde há uma laje que deve ser construída em concreto com 12 metros de largura, 8 metros de comprimento e 20 centímetros de espessura. Quantos metros cúbicos de concreto Manoel deverá preparar para utilizar nessa laje?

- A) 19,2 m<sup>3</sup>
- B) 36,4 m<sup>3</sup>
- C) 40,8 m<sup>3</sup>
- D) 192 m<sup>3</sup>

**Questão 19**

Rosana deseja colocar um número em sua residência e, para isso, pediu autorização na prefeitura para escolher livremente qual seria a numeração da sua casa. Desse modo, Rosana comprou numa loja de construções os algarismos 3, 4, 5, 7 e 8 e decidiu que iria colocar em sua residência um número par, formado por três algarismos distintos. Com base nos critérios estabelecidos e usando apenas os algarismos comprados na loja, a quantidade de números diferentes que Rosana poderá colocar em sua residência está compreendida entre:

- A) 5 e 20.
- B) 21 e 30.
- C) 31 e 50.
- D) 51 e 150.

**Questão 20**

Marcus recebeu uma herança de seu avô e, rapidamente, começou a gastar o dinheiro. Primeiramente, ele comprou uma casa usando  $\frac{3}{7}$  do valor que recebeu de herança. Em seguida, pegou metade do que havia lhe sobrado e comprou um carro. Após comprar o carro, resolveu pegar o restante da herança e guardar 80% na poupança e gastou os R\$ 24.000,00 que sobraram com uma viagem à Europa. É correto afirmar que o valor que Marcus recebeu de herança está compreendido entre:

- A) R\$ 250.000,00 e R\$ 320.000,00.
- B) R\$ 321.000,00 e R\$ 460.000,00.
- C) R\$ 461.000,00 e R\$ 530.000,00.
- D) R\$ 531.000,00 e R\$ 700.000,00.

**Questão 21**

Mariana começou a namorar José quando sua idade correspondia a  $\frac{5}{7}$  da idade dele. Depois de 12 anos de namoro, a idade de Mariana equivalia a 80% da idade de José. Quantos anos Mariana tinha quando começou a namorar José?

- A) 18 anos.
- B) 20 anos.
- C) 22 anos.
- D) 24 anos.

**Questão 22**

Se os determinantes das matrizes  $M = \begin{bmatrix} 4 & 9 \\ -1 & 3 \end{bmatrix}$  e

$N = \begin{bmatrix} x & 9 \\ 7 & 3 \end{bmatrix}$  são iguais, qual é o valor da soma dos

algarismos de  $x$ ?

- A) 4
- B) 6
- C) 8
- D) 10

**Questão 23**

Considere uma reta definida no plano cartesiano que passa pelo ponto (4, 7) e possui coeficiente angular igual a  $-2$ . Qual das alternativas apresenta um ponto pelo qual essa reta passa?

- A) (0, 9)
- B) (0, 11)
- C) (0, 15)
- D) (0, 17)

**Questão 24**

Considere duas funções reais:  $f(x) = \frac{2x}{3} - 4$  e

$g(x) = 3x - 9$ . Qual alternativa apresenta o intervalo real

dos valores de  $x$  para os quais  $\frac{f(x)}{g(x)} \leq 0$  ?

- A) [1, 6]
- B) [3, 6]
- C) [-3, 1]
- D) [-3, 6]

**Questão 25**

Uma progressão aritmética tem razão igual a seu oitavo termo. Sabendo-se que  $a_2 - a_4 = 4$ , quanto vale o primeiro termo dessa progressão?

- A) 8
- B) 12
- C) -8
- D) -12

CONHECIMENTOS ESPECÍFICOS

**Questão 26**

Segundo a Lei nº 1.904, de 10 de dezembro de 1997, que dispõe sobre o Estatuto dos Servidores Públicos do Município de Pitangueiras, nenhum servidor poderá perceber, mensalmente, a título de remuneração, importância superior à soma dos valores percebidos como remuneração, em espécie, a qualquer título, no âmbito dos respectivos Poderes, pelos Diretores de Departamentos Municipais, EXCETO nos casos de:

- A) Gratificação pelo exercício de função de direção e chefia; adicional noturno.
- B) Adicional noturno; adicional relativo ao local ou à natureza do trabalho.
- C) Adicional por tempo de serviço; gratificação pelo exercício de função de direção e chefia.
- D) Gratificação natalina; adicional por tempo de serviço; adicional pela prestação de serviço extraordinário.

**Questão 27**

Remuneração é o salário-base ou vencimento do cargo efetivo, acrescido das vantagens pecuniárias permanentes estabelecidas em Lei. Em relação à remuneração, é correto afirmar que:

- A) As diárias são incorporadas ao vencimento ou provento.
- B) Todas as gratificações e todos os adicionais são incorporados ao vencimento ou provento.
- C) O vencimento do cargo efetivo é irredutível; porém, as vantagens de caráter permanente podem sofrer alterações em casos e condições indicados em Lei.
- D) É assegurada a isonomia de vencimentos para cargos de atribuições iguais ou assemelhadas do mesmo Poder, ou entre servidores dos Poderes Executivo e Legislativo, ressalvadas as vantagens de caráter individual e as relativas à natureza ou ao local de trabalho.

**Questão 28**

Pedro, servidor estável, sofreu penalidade de demissão através de processo administrativo disciplinar, sendo-lhe negada a ampla defesa. A pena foi invalidada por decisão judicial transitada em julgado. Segundo a Lei, Pedro deverá ser reinvestido no cargo anteriormente ocupado. Tal ato denomina-se:

- A) Reversão.
- B) Recondução.
- C) Reintegração.
- D) Reestruturação.

**Questão 29**

Nos termos da Lei nº 1.904, de 10 de dezembro de 1997, ao entrar em exercício, o servidor nomeado para cargo de provimento efetivo ficará sujeito a estágio probatório, durante o qual a sua aptidão e a capacidade serão objeto de avaliação para o desempenho do cargo. Deste modo, é correto afirmar que:

- A) Ao servidor público estável é dispensado o prazo de estágio probatório na investidura de novo cargo.
- B) O servidor não aprovado no estágio probatório será exonerado ou, se estável, reconduzido ao cargo anteriormente ocupado.
- C) O servidor que tiver uma avaliação insatisfatória e for reprovado no estágio probatório poderá deixar o serviço público e ser exonerado de seu cargo, sem serem avaliadas todas as circunstâncias do caso.
- D) Servidores nomeados para cargos em comissão de livre designação e destituição (popularmente, cargos de confiança) ou nomeados para cargos de provimento e desligamento condicionado (como os servidores temporários) também estão sujeitos ao período de estágio probatório.

**Questão 30**

Considere a situação hipotética de que um casal, sendo um servidor público efetivo e o outro em estágio probatório, acredita que serão pais de uma criança e, durante o parto, descobrem que a mulher estava grávida de gêmeos. Em relação aos auxílios concedidos pela Lei, é correto afirmar que:

- A) O servidor em estágio probatório não tem direito ao benefício do salário-família.
- B) O auxílio-natalidade seria pago ao cônjuge servidor público, mesmo se a parturiente não fosse servidora pública.
- C) O benefício do salário-família será pago aos dois servidores, quando divorciados, independente da guarda legal dos filhos.
- D) A servidora não receberá o auxílio-natalidade em relação ao segundo filho, já que este não foi declarado para a administração pública no momento da licença maternidade.

**Questão 31**

A dengue é uma doença viral transmitida pelo mosquito *Aedes aegypti*. A sua principal forma de transmissão é pela picada dos mosquitos e pela transmissão vertical. Assinale, a seguir, um sinal característico da forma grave dessa doença.

- A) Fraqueza.
- B) Dor no corpo.
- C) Dor atrás dos olhos.
- D) Dor abdominal intensa e contínua ou dor à palpação do abdômen.

**Questão 32**

O câncer de mama é causado por alterações genéticas, diretamente relacionadas à biologia celular, que podem ser estimuladas por fatores ambientais, tais como: tabagismo, uso de hormônios (TRH – Terapia de Reposição Hormonal por tempo prolongado), obesidade, fumo e alcoolismo. O Agente Comunitário de Saúde (ACS), durante a visita domiciliar, poderá:

- A) Realizar o exame clínico das mamas em mulheres.
- B) Analisar o exame de mamografia, caso apresentado.
- C) Avaliar o inchaço em parte da mama semelhante à casca de laranja.
- D) Orientar as mulheres sobre como realizar o autoexame, bem como a comparecer à Unidade Básica de Saúde (UBS).

**Questão 33**

“Por meio das ações produzidas, busca alcançar os melhores resultados possíveis, principalmente em relação à cobertura (número de pessoas atendidas) e à concentração (número de ações oferecidas a cada pessoa).” O trecho citado anteriormente refere-se a qual conceito?

- A) Eficácia.
- B) Eficiência.
- C) Efetividade.
- D) Coletividade.

**Questão 34**

O uso da Terapia Antirretroviral (TARV) tem diminuído significativamente a morbidade e a mortalidade das pessoas infectadas pelo Vírus da Imunodeficiência Humana (HIV), propiciando, em consequência, o aumento da expectativa de vida desses sujeitos. Quanto às ações dos Agentes Comunitários de Saúde aos pacientes portadores do Vírus da Imunodeficiência Humana (HIV), analise as afirmativas a seguir.

- I. Realizar uma escuta qualificada, tratando com respeito e dignidade seus comunitários portadores do HIV.
- II. Orientar e articular juntamente com a sua Equipe de Saúde da Família (ESF) os cuidados em saúde direcionados aos indivíduos portadores do HIV, mesmo que eles não tenham autorizado a divulgação da sua doença.
- III. Avaliar as condições individuais e sociais que determinam sua vulnerabilidade e prescrever o uso da Terapia Antirretroviral (TARV).

Assinale a alternativa correta.

- A) Todas as afirmativas estão corretas.
- B) Apenas uma afirmativa está correta.
- C) Todas as afirmativas estão incorretas.
- D) Estão corretas duas afirmativas, somente.

**Questão 35**

São consideradas funções do Sistema de Informação em Saúde (SIS), EXCETO:

- A) Assessorar o desenvolvimento de sistemas voltados para as especificidades das diferentes unidades operacionais do Sistema de Saúde.
- B) Avaliar e distribuir os recursos de saúde, focalizando as disparidades existentes entre as unidades da federação e as disparidades intraestaduais.
- C) Contribuir para o desenvolvimento dos profissionais de saúde, para a construção de uma consciência sanitária coletiva, como base para ampliar o exercício do controle social e da cidadania.
- D) Organizar a produção de informações compatíveis com as necessidades dos diferentes níveis, garantindo uma avaliação permanente das ações executadas e do seu impacto sobre a situação de saúde.

**Questão 36**

O Ministério da Saúde definiu a Saúde da Família como estratégia prioritária para a organização e fortalecimento da Atenção Primária à Saúde (APS) no país. Cada equipe é composta, minimamente, por um médico, um enfermeiro, um auxiliar de enfermagem ou técnico de enfermagem e ACS, cujo total não deverá ultrapassar a:

- A) 12
- B) 24
- C) 30
- D) 36

**Questão 37**

**Organização Mundial de Saúde (OMS) recomenda a administração de suplementos de vitamina A para prevenir a carência, a xerofthalmia e a cegueira de origem nutricional em crianças de 6 a 59 meses. Quanto à administração de vitamina A, o Agente Comunitário de Saúde (ACS) deverá, EXCETO:**

- A) Administrar a vitamina A em crianças de 6 a 59 meses de idade durante as visitas domiciliares.
- B) Verificar na Caderneta de Saúde da Criança a data da última administração do suplemento de vitamina A.
- C) Orientar os pais ou responsáveis a retornar com a criança na Unidade Básica de Saúde para receber a próxima dose de vitamina A, no período adequado.
- D) Estar em contato permanente com as famílias, desenvolver ações educativas, visando a promoção da saúde, a prevenção das doenças e ao acompanhamento das pessoas com problemas de saúde, pois se trata de uma condicionalidade do Programa Bolsa-Família.

**Questão 38**

**Analise as assertivas correlatas a seguir.**

“Articular com o Ministério da Educação estratégias de indução às mudanças curriculares nos cursos de graduação e pós-graduação na área da saúde visando à formação de profissionais e gestores com perfil adequado à Atenção Básica.”

E

“Estabelecer, de forma tripartite, diretrizes nacionais e disponibilizar instrumentos técnicos e pedagógicos que facilitem o processo de gestão, de formação e educação permanente dos gestores e profissionais da Atenção Básica.”

**É correto afirmar que as assertivas evidenciam competências:**

- A) Do Ministério da Saúde.
- B) Do Conselho Nacional de Saúde.
- C) Das Secretarias Estaduais de Saúde.
- D) Das Secretarias Municipais de Saúde.

**Questão 39**

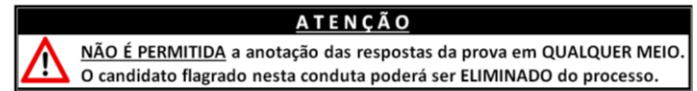
**“Manter atualizado o cadastramento das famílias e dos indivíduos no sistema de informação indicado pelo gestor municipal e utilizar, de forma sistemática, os dados para a análise da situação de saúde, considerando as características sociais, econômicas, culturais, demográficas e epidemiológicas do território, priorizando as situações a serem acompanhadas no planejamento local” são atribuições:**

- A) Exclusivas dos Enfermeiros ESF.
- B) Exclusivas dos Agentes Comunitários de Saúde.
- C) Exclusivas dos Auxiliares e Técnicos em Enfermagem.
- D) Comuns a todos os profissionais da Equipe da Atenção Básica.

**Questão 40**

**O Agente Comunitário de Saúde (ACS) deve considerar as condições que aumentam o risco de as pessoas adoecerem. São riscos que podem levar a doenças, EXCETO:**

- A) Gravidez na adolescência.
- B) Uso incorreto de venenos na lavoura.
- C) Lixo armazenado em locais inadequados.
- D) Falta de alimentação ou alimentação inadequada.



## INSTRUÇÕES

1. Somente é permitida a utilização de caneta esferográfica de tinta azul ou preta indelével, de corpo transparente, de preferência de ponta grossa. Todos os demais objetos devem ser colocados na embalagem não reutilizável fornecida pelo Fiscal de Aplicação, inclusive aparelho celular desligado e carteira com documentos e valores em dinheiro. Não é permitida a comunicação entre os candidatos, o empréstimo de material, nem a utilização de máquinas calculadoras e/ou similares, livros, anotações, impressos ou qualquer outro material de consulta, protetor auricular, lápis, borracha ou corretivo. Especificamente não será permitido ao candidato ingressar na sala de provas sem o devido recolhimento, com respectiva identificação, dos seguintes equipamentos: *bip*, telefone celular, *walkman*, agenda eletrônica, *notebook*, *palmtop*, *ipod*, *ipad*, *tablet*, *smartphone*, mp3, mp4, receptor, gravador, fone de ouvido, *pendrive*, máquina fotográfica, controle de alarme de carro, relógio de qualquer modelo, carteiras e etc.
2. O tempo de duração da prova objetiva de múltipla escolha é de 4 (quatro) horas para o turno da manhã e de 4 (quatro) horas para o turno tarde. Esse período abrange a assinatura e a transcrição das respostas para o Cartão de Respostas.
3. Com vistas à garantia da segurança e integridade do certame, os candidatos serão submetidos ao sistema de detecção de metais no ingresso e na saída de sanitários durante a realização da prova.
4. O Caderno de Provas consta de 50 (cinquenta) questões de múltipla escolha para os cargos de Nível Superior, 40 (quarenta) questões de múltipla escolha para os cargos de Nível Médio Técnico e Médio Completo e 30 (trinta) questões de múltipla escolha para os cargos de Nível Fundamental Completo. Ao receber o material de realização das provas, o candidato deverá conferir atentamente se o Caderno de Provas contém o número de questões previsto, se corresponde ao cargo a que está concorrendo, bem como se os dados constantes no Cartão de Respostas, que lhe foi fornecido estão corretos. Caso os dados estejam incorretos, ou o material esteja incompleto ou, ainda, tenha qualquer imperfeição, o candidato deverá informar tal ocorrência ao Fiscal de Aplicação.
5. As questões das provas objetivas são do tipo múltipla escolha, com 4 (quatro) alternativas (A a D) e uma única resposta correta. Ao terminar a prova, o candidato, obrigatoriamente, deverá devolver ao Fiscal de Aplicação o Cartão de Resposta (prova objetiva), devidamente assinados no local indicado.
6. Os Fiscais de Aplicação não estão autorizados a emitir opinião e prestar esclarecimentos sobre o conteúdo das provas. Cabe única e exclusivamente ao candidato interpretar e decidir.
7. Não é permitida a anotação de informações relativas às respostas (cópia de gabarito) no comprovante de inscrição ou em qualquer meio.
8. O candidato somente poderá retirar-se do local de realização das provas levando o Caderno de Provas no decurso dos últimos 30 (trinta) minutos anteriores ao horário previsto para o seu término. Após identificado e acomodado na sala, o candidato somente poderá ausentar-se 90 (noventa) minutos após o início das provas; contudo, não poderá levar consigo o Caderno de Provas.
9. Os 3 (três) últimos candidatos de cada sala só poderão sair juntos. Caso o candidato insista em sair do local de aplicação da prova, deverá assinar termo desistindo do Concurso Público e, caso se negue, deverá ser lavrado Termo de Ocorrência, testemunhado pelos 2 (dois) outros candidatos, pelo Fiscal de Aplicação e pelo Coordenador da Unidade.

## RESULTADOS E RECURSOS

- Os gabaritos oficiais preliminares das provas objetivas serão divulgados na *internet*, no endereço eletrônico [www.institutoconsulplan.org.br](http://www.institutoconsulplan.org.br), a partir das 16h da segunda-feira subsequente à realização das provas escritas objetivas de múltipla escolha.
- O candidato que desejar interpor recursos contra os gabaritos oficiais preliminares das provas objetivas disporá de 2 (dois) dias úteis, a partir do dia subsequente ao da divulgação (terça-feira), em requerimento próprio disponibilizado no *link* correlato ao Concurso Público no endereço eletrônico [www.institutoconsulplan.org.br](http://www.institutoconsulplan.org.br).
- A interposição de recursos poderá ser feita via *internet*, através do Sistema Eletrônico de Interposição de Recursos, com acesso pelo candidato com o fornecimento de dados referentes à sua inscrição, apenas no prazo recursal, ao Instituto Consulplan, conforme disposições contidas no endereço eletrônico [www.institutoconsulplan.org.br](http://www.institutoconsulplan.org.br), no *link* correspondente ao Concurso Público.