

# Prefeitura Municipal de Pitangueiras/SP

**CONCURSO PÚBLICO - EDITAL Nº 01/2019**

---



PERÍODO:  
**TARDE**

PROVA:  
**TIPO 01 - BRANCA**

DATA:  
**04/08/2019**

## **TÉCNICO EM ENFERMAGEM**

INSTRUÇÕES NO VERSO DA PROVA

ORGANIZADOR:



**CARGO: TÉCNICO EM ENFERMAGEM**

**CONHECIMENTOS GERAIS**

É difícil pensar na finitude humana, por trazer à tona a visão escatológica do fim do mundo da nossa tradição judaico-cristã. Ela representa sinais inevitáveis de que todos os seres vivos são finitos, todos vamos morrer e temos um final, mas o medo da morte dispara o nosso mecanismo de defesa contra o absurdo de não querer morrer. No fundo, ninguém acredita em sua própria morte, como disse Freud: “no inconsciente cada um de nós está convencido de sua própria imortalidade”. Apesar dessa negação, a morte nos dá sinais com frequência, porque está em nós o medo do abandono, da doença, da velhice, da violência e das incertezas da vida e seus conflitos.

Então, para superar a negação da morte, precisamos aceitar que ela é um fenômeno impossível de não acontecer, que não se importa se somos religiosos, ateus, pobres e ricos ou menos ainda se alguém será enterrado como indigente ou em um mausoléu construído para sepultar uma figura importante. Entretanto, podemos aprender a lidar com isso de maneira pacífica: buscando o conforto na fé e nas crenças que acreditam na continuação da vida depois da morte, ou encontrar na sabedoria e na espiritualidade não apenas respostas sobre a finitude, mas sobre o sentido da vida, com seus encantos e desencantos.

Hoje, em nossa civilização, estão presentes duas grandes forças antagônicas, segundo o psicanalista Erich Fromm: a orientação necrófila (amor à morte) e a orientação biófila (amor à vida). A primeira considera a morte de estranhos e de inimigos um fato **insólito**, exaltando as enfermidades, os desastres, os homicídios, etc., que causam mortes. A orientação biófila, porém, revela-se nos seres humanos que celebram que todos os organismos vivos \_\_\_\_\_ direito \_\_\_\_ vida. Eles lutam para preservar a vida e compreender a morte como processo da nossa biofilia. Além disso, as pessoas biófilas amam a vida e são atraídas pela sua energia benéfica e beleza em todas as dimensões, preferindo a pacificação à destruição.

Assim, passamos a ter a percepção de finitude humana, mas não pela razão fria e calculista que estabelece a condição niilista de vida e morte, presente em criaturas que prefaciam não existir tempo suficiente para concretizar todos seus desejos e ambições, vivendo a sensação **feral** e débil diante da vida. A finitude e seus sinais se impõem pela nossa realidade involuntária de haver nascido e ter que morrer. Contudo, nascemos livres para dar sentido à vida e entender os dilemas da existência humana. É como afirmou Leon Tolstói: “quando se pensa na morte, a vida tem menos encantos, mas é mais pacífica”.

Enfim, para nos desprender da tensão entre a vida e a morte, é necessária a capacidade de transcender, de se elevar acima dessa dicotomia, **já que** temos a potência para desenvolver a nossa consciência e sentimentos, que nutrem de significados a nossa existência nos planos material e espiritual.

*(Texto adaptado especialmente para esta prova. Disponível em:*

*<https://www.contioutra.com/quando-se-pensa-na-morte-a-vida-tem-menos-encantos-mas-e-mais-pacifica/>. Acesso em: 17/07/2019.)*

**Questão 01**

O texto ressalta diferentes modos de o ser humano lidar com a morte, sendo que:

- A) A forma de superá-la advém da aceitação de que ela é um fenômeno possível de não acontecer.
- B) A orientação necrófila leva as pessoas a amarem a vida, deixando-se atrair pela sua energia e beleza em todas as dimensões.
- C) Ela manifesta com frequência os seus sinais, identificáveis por intermédio das patologias, do irreversível envelhecimento e de outros fatores.
- D) O conforto na fé e nas crenças que acreditam na continuação da vida depois da morte correspondem a uma maneira beligerante de encará-la.

**Questão 02**

As linhas tracejadas do terceiro parágrafo do texto podem ser respectiva e corretamente preenchidas com:

- A) tem – a
- B) têm – à
- C) tem – à
- D) têm – a

**Questão 03**

Os fonemas da língua portuguesa, quanto à sua classificação, podem ser vogais, semivogais e consoantes. Levando-se em conta tal princípio e aplicando-o em palavras encontradas no texto, analise as afirmativas a seguir.

- I. A palavra “humana” apresenta três consoantes e três vogais.
- II. O termo “organismos” possui seis consoantes e quatro vogais.
- III. A expressão “própria” contém quatro consoantes e três vogais.

Estão corretas as afirmativas

- A) I, II e III.
- B) I e II, apenas.
- C) I e III, apenas.
- D) II e III, apenas.

**Questão 04**

O dígrafo ocorre quando um grupo de duas letras representa um só fonema. Analise as seguintes palavras extraídas do texto:

- I. “estranhos” (3º§)
- II. “livres” (4º§)
- III. “presente” (4º§)
- IV. “processo” (3º§)

Apresentam um único dígrafo as palavras mencionadas apenas em

- A) I e II.
- B) I e III.
- C) II e IV.
- D) I, III e IV.

**Questão 05**

Para que uma frase não perca o seu sentido original, é necessário que uma palavra seja trocada por outra que tenha significado similar. Assim, os vocábulos encontrados no texto “insólito” (3º§) e “feral” (4º§) podem ser respectiva e corretamente substituídos por:

- A) inosso / funéreo
- B) tedioso / fúnebre
- C) inabitual / lúgubre
- D) desinteressante / serviçal

**Questão 06**

Correlacione os itens a seguir, identificando corretamente a classificação das palavras retiradas do texto.

1. Advérbio de lugar.
2. Adjetivo derivado.
3. Adjetivo primitivo.
4. Pronome indefinido.

- ( ) Acima.
- ( ) Pacífica.
- ( ) Ninguém.
- ( ) Fria.

A sequência está correta em

- A) 1, 2, 4, 3.
- B) 1, 3, 4, 2.
- C) 4, 2, 1, 3.
- D) 4, 3, 1, 2.

**Questão 07**

Sobre alguns sinais de pontuação empregados no texto, marque **V** para as afirmativas verdadeiras e **F** para as falsas.

- ( ) Se o segundo parágrafo fosse concluído com reticências em vez de ponto final, o autor poderia estar indicando que a ideia ali expressa não se completa com o término gramatical da frase, devendo ser suprida com a imaginação do leitor.
- ( ) No excerto “É como afirmou *Leon Tolstói*: ‘quando se pensa na morte, a vida tem menos encantos, mas é mais pacífica.’” (5º§) os dois pontos são utilizados para anunciar a fala de um ser ficcional.
- ( ) Além de servir para marcar uma pausa longa, o ponto é o sinal que se emprega depois de qualquer palavra escrita abreviadamente, como “etc.” (3º§)

A sequência está correta em

- A) V, F, V.
- B) V, F, F.
- C) F, V, V.
- D) F, V, F.

**Questão 08**

No trecho “(...) nascemos livres para dar sentido à vida e entender os dilemas da existência humana.” (4º§), são observadas duas orações:

- A) Adjetivas reduzidas de gerúndio.
- B) Adjetivas reduzidas de participio.
- C) Advérbias finais reduzidas de infinitivo.
- D) Advérbias causais reduzidas de participio.

**Questão 09**

O termo “beneficiente” (3º§) exemplifica um caso do qual se ocupa a ortoépia. Trata-se de um segmento da língua portuguesa dedicado à boa pronúncia das palavras no ato da fala. Caso lesse “beneficente” no texto, o falante seria induzido a pronunciar corretamente a referida palavra, porém não é o que acontece nessa peculiar situação do texto. Com base no exposto, analise as afirmações relacionadas às seguintes palavras paroxítonas:

- I. É correto escrever e pronunciar “faixada” em vez de “fachada”.
- II. É errôneo escrever e pronunciar “dignatário” em vez de “dignitário”.
- III. É correto escrever e pronunciar “freada” em vez de “freiada”.

Conforme a norma culta da Língua Portuguesa, é válido o que se afirma em

- A) I, II e III.
- B) I e II, apenas.
- C) I e III, apenas.
- D) II e III, apenas.

**Questão 10**

No excerto “todos vamos morrer e temos um final, mas o medo da morte dispara o nosso mecanismo de defesa contra o absurdo de não querer morrer”, se o termo “todos” fosse substituído por “eu”, quantas palavras ao todo precisariam ter a grafia modificada para garantir a correta concordância verbo-nominal?

- A) Uma.
- B) Duas.
- C) Três.
- D) Quatro.

**Questão 11**

Considerando o processador, “é o sinal usado para sincronizar o transmissor e o receptor, de forma que eles possam se comunicar ‘no momento certo’. Refere-se a um sinal de sincronismo que serve para comandar transferências dentro do processador”. Trata-se de:

- A) *clock*
- B) *cache*
- C) *socket*
- D) instrução

**Questão 12**

O [dir] é um comando usado no MS-DOS para listar o conteúdo de diretórios/pastas. O seu uso puro e simples lista, de maneira geral, os conteúdos de um determinado diretório/pasta. Entretanto, há um parâmetro que faz com que a visualização seja feita na horizontal (ou formato de lista amplo). Trata-se do parâmetro:

- A) /p
- B) /s
- C) /w
- D) /x

**Questão 13**

Considerando o Windows 10, Configuração Local, Idioma Português-Brasil, “três temas coloridos (Windows, Windows 10 e Flores) e \_\_\_\_\_ temas com contraste vêm com o Windows 10”. Assinale a alternativa que completa corretamente a afirmativa anterior.

- A) dois
- B) três
- C) cinco
- D) quatro

**Questão 14**

“O Windows fornece três ‘barras de ferramentas’ que podem ser exibidas na barra de tarefas para servir de acesso facilitado a informações para as quais, de outra forma, é necessário abrir um aplicativo separado para usá-lo”. Tendo como base o Windows 10, Configuração Local, Idioma Português-Brasil, referem-se a tais “barras de ferramentas”, EXCETO:

- A) Links.
- B) Endereços.
- C) Notificação.
- D) Área de Trabalho.

**Questão 15**

Em relação à Barra de Tarefas no Windows 10, Configuração Local, Idioma Português-Brasil, analise as afirmativas a seguir.

- I. Ícones pequenos da área de notificação se mantêm na mesma posição.
- II. A caixa de pesquisa muda para um botão de pesquisa. O clique no botão de pesquisa expande o painel de pesquisa padrão.
- III. A largura muda de modo a acomodar a data e a hora, que estão na parte inferior da barra de tarefas vertical.

Está(ão) correta(s) apenas a(s) afirmativa(s)

- A) I.
- B) II.
- C) III.
- D) II e III.

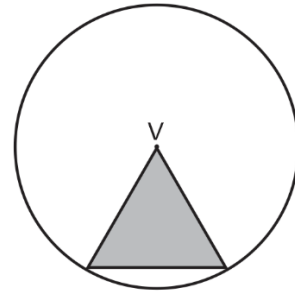
**Questão 16**

João estuda em uma escola em que há 50 meninas e 50 meninos. Chegada a época da festa junina, a direção dessa escola sorteará os pares que irão dançar quadrilha, a fim de facilitar a formação dos casais. Considerando que João será o primeiro a ter seu par sorteado e que ele pretende dançar com uma das seguintes meninas: Ana, Paula, Roberta, Antônio, Júlia ou Rita, qual será a probabilidade de que o desejo de João seja realizado?

- A) 10%
- B) 12%
- C) 15%
- D) 18%

**Questão 17**

A figura apresenta uma circunferência, cujo centro é V e um triângulo equilátero que possui um de seus vértices coincidindo com o ponto V.



Considerando que a área do triângulo acinzentado é de  $9\sqrt{3} \text{ cm}^2$ , qual é o valor da área total da circunferência?

- A)  $9\pi \text{ cm}^2$
- B)  $18\pi \text{ cm}^2$
- C)  $36\pi \text{ cm}^2$
- D)  $81\pi \text{ cm}^2$

**Questão 18**

Em uma fábrica de munições de calibre .40 trabalham 60 funcionários e são fabricadas 1.200 unidades a cada 48 minutos. Quantas unidades dessa munição podem ser produzidas em uma hora, caso sejam contratados mais 40 funcionários com mesma produtividade?

- A) 2.000 unidades
- B) 2.200 unidades
- C) 2.400 unidades
- D) 2.500 unidades

**Questão 19**

Lucas e Ramon estão praticando tiro ao alvo. Sabe-se que Lucas acerta 1 a cada 3 tiros e que Ramon acerta 2 a cada 3 tiros. Caso os dois efetuem um disparo ao mesmo tempo sobre um alvo, qual será a probabilidade de que pelo menos um acerte o alvo?

- A)  $2/9$
- B)  $4/9$
- C)  $5/9$
- D)  $7/9$

**Questão 20**

Sejam dois conjuntos A e B definidos por:  $A = \{-2, -1, 0, 1, 2, 3\}$  e  $B = \{y \mid y \text{ é natural}\}$  e uma função  $f : A \rightarrow B$  definida por:  $f(x) = 2x + 1$ . Qual das alternativas representa o produto dos elementos do conjunto imagem de f?

- A) 12
- B) 105
- C) 210
- D) 315

**Questão 21**

Considere dois números inteiros, cujo produto resulta em 98 e a soma seja igual a 21. Sendo  $x$  o valor da diferença entre esses números, quanto vale  $x^2$ ?

- A) 16
- B) 25
- C) 49
- D) 64

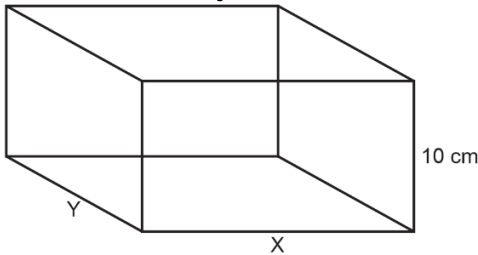
**Questão 22**

Um triângulo é formado de tal maneira que seus ângulos internos seguem uma progressão aritmética de razão 25. Desse modo, qual é o valor do maior ângulo interno desse triângulo?

- A) 35
- B) 50
- C) 85
- D) 110

**Questão 23**

Considere o paralelepípedo, cujo volume é  $30.000 \text{ cm}^3$ . Sabe-se que uma das arestas dessa caixa é 10 cm, valor que coincide com a diferença entre as outras duas arestas.



Qual é o valor da soma  $X + Y$ ?

- A) 110
- B) 120
- C) 130
- D) 140

**Questão 24**

Um técnico de informática, ao atender um cliente, cobrou uma taxa de R\$ 60,00 pela visita e mais R\$ 10,00 por hora de duração do serviço. Considerando que o valor total que o cliente pagou foi de R\$ 105,00, quantos minutos durou a prestação desse serviço?

- A) 240 minutos
- B) 270 minutos
- C) 320 minutos
- D) 450 minutos

**Questão 25**

Em uma granja foram coletados ovos brancos e ovos vermelhos, totalizando uma quantia de 620 ovos, sendo que a razão entre o número de ovos brancos e vermelhos é igual a  $19/12$ . Quantas dúzias de ovos vermelhos foram coletadas nessa granja?

- A) 12
- B) 16
- C) 18
- D) 20

CONHECIMENTOS ESPECÍFICOS

**Questão 26**

Bianca, servidora pública estável, tem o desejo de participar das próximas eleições municipais, candidatando-se para vereadora. Considerando a situação fática em que a servidora seja candidata, ela terá direito à licença:

- A) Não remunerada a partir do registro da candidatura e até o vigésimo dia seguinte ao dia do pleito.
- B) Sem remuneração, durante o período que mediar o registro da sua candidatura e até o trigésimo dia seguinte ao dia do pleito.
- C) Remunerada durante o período entre sua escolha em convenção partidária e a véspera do registro de sua candidatura perante a Justiça Eleitoral.
- D) Sem remuneração, durante o período que mediar entre a sua escolha em convenção partidária, como candidata a cargo eletivo, e a véspera do registro de sua candidatura perante a Justiça Eleitoral.

**Questão 27**

“De acordo com o Estatuto dos Servidores, sem qualquer prejuízo, poderá o servidor que contrair núpcias, ausentar-se do serviço pelo prazo de \_\_\_\_\_ dias consecutivos.” Assinale a alternativa que completa corretamente a afirmativa anterior.

- A) dois
- B) três
- C) seis
- D) oito

**Questão 28**

O Estatuto assegurou ao servidor o direito de requerer aos Poderes Públicos, em defesa de seu direito ou interesse legítimo. Tendo em vista as disposições acerca do direito de petição, assinale a alternativa correta.

- A) O requerimento tem caráter personalíssimo e não poderá ser efetuado por procurador.
- B) O prazo para despacho do requerimento será de quinze dias e do pedido de reconsideração de dez dias.
- C) O requerimento será dirigido à autoridade competente e sempre será encaminhado pessoalmente pelo requerente.
- D) Caberá pedido de reconsideração à autoridade que houver expedido o ato ou proferido a primeira decisão, não podendo ser renovado.

**Questão 29**

São deveres do servidor, EXCETO:

- A) Manter conduta compatível com a moralidade administrativa.
- B) Sugerir providências para melhoria ou aperfeiçoamento do serviço.
- C) Prestar as informações requeridas pelo público em geral, mesmo as protegidas por sigilo.
- D) Levar ao conhecimento da autoridade superior as irregularidades de que tiver ciência em razão do cargo.

**Questão 30**

O servidor público Felipe, ausentou-se do local de trabalho por dois dias, sem a devida autorização de seu chefe imediato, incorrendo em conduta expressamente proibida no Estatuto dos Servidores. À prática da conduta descrita, aplica-se a penalidade de:

- A) Cassação.
- B) Demissão.
- C) Advertência.
- D) Destituição do cargo.

**Questão 31**

É responsabilidade e dever dos profissionais de enfermagem realizar o registro das ações profissionais no prontuário do paciente, e em outros documentos próprios da enfermagem, seja por meio de suporte tradicional ou eletrônico. Sobre as anotações de enfermagem, assinale o INCORRETO.

- A) Devem conter abreviaturas previstas em literatura, apenas.
- B) Devem ser registradas somente após os cuidados prestados.
- C) Devem priorizar a descrição de características como tamanho (cm, mm etc), quantidade (ml, por exemplo), forma e coloração.
- D) Podem conter termos que deem conotação de valor julgados pelo profissional (como, por exemplo: pouco, muito, bem, mal etc).

**Questão 32**

Em relação aos sinais vitais, analise as afirmativas a seguir.

- I. São indicadores do estado de saúde do paciente.
- II. O uso de alguns medicamentos podem afetar um ou mais sinais vitais.
- III. Os sistemas circulatório e respiratório são os únicos que afetam diretamente os sinais vitais.
- IV. Fatores extrínsecos ao paciente não afetam os sinais vitais como, por exemplo, fatores ambientais.

Estão corretas apenas as afirmativas

- A) I e II.
- B) I e III.
- C) II e IV.
- D) I, III e IV.

**Questão 33**

Em relação ao controle hídrico assinale, a seguir, a via pela qual sempre ocorre a perda insensível de água no organismo humano.

- A) Suor.
- B) Urina.
- C) Fezes.
- D) Respiração.

**Questão 34**

A Lei nº 7.498/86 dispõe sobre a Regulamentação do Exercício de Enfermagem e dá outras providências. O artigo 2º estabelece que “a enfermagem e suas atividades auxiliares somente podem ser exercidas por pessoas legalmente habilitadas e inscritas no Conselho Regional de Enfermagem com jurisdição na área onde ocorre o exercício”. De acordo com o artigo citado, o profissional de enfermagem, regularmente inscrito no Conselho Regional de Enfermagem, pode atuar:

- A) No estado referente ao Conselho Regional em que está inscrito.
- B) Somente no município em que declara residir na sua inscrição.
- C) Em qualquer estado brasileiro, já que tem sua inscrição regular em um Conselho Regional de Enfermagem.
- D) Nas regiões de saúde em que o Conselho Regional em que está inscrito permitir, mesmo que a região tenha como abrangência dois estados brasileiros.

**Questão 35**

Quando, no exercício profissional, um membro da equipe de enfermagem age de maneira omissa nas atribuições que lhe são próprias e esperadas profissionalmente, de acordo com o Código de Ética Profissional de Enfermagem, estará praticando:

- A) Imperícia.
- B) Negligência.
- C) Imprudência.
- D) Incompetência.

**Questão 36**

Em relação à Lei Orgânica da Saúde, Lei nº 8.080/90, é INCORRETO afirmar que:

- A) A colaboração na proteção do meio ambiente faz parte do campo de atuação do SUS.
- B) As execuções das ações de saúde do trabalhador são de responsabilidade do Ministério do Trabalho.
- C) A internação domiciliar é estabelecida no âmbito do SUS, incluindo, entre outros, os procedimentos psicológicos e de assistência social.
- D) Os municípios podem constituir consórcios administrativos, para que as ações e os serviços de saúde que lhes correspondam possam ser desenvolvidos em conjunto.

**Questão 37**

De acordo com o Ministério da Saúde (2019), 34 pessoas morrem por hora por doenças cardiovasculares no país. É correto afirmar que as doenças cardiovasculares são um grupo de doenças que:

- A) Acometem apenas o coração.
- B) São a terceira causa de morte no mundo.
- C) Têm como importante fator de risco a hipertensão arterial.
- D) São pouco influenciáveis por meio da abordagem dos fatores comportamentais de risco, como o uso nocivo do álcool e a falta de atividade física.

**Questão 38**

A vacina contra o HPV é ofertada pelo Sistema Único de Saúde (SUS) e é extremamente eficaz na prevenção da infecção pelo vírus nas mucosas oral, genital e anal. Sobre tal vacina, assinale a alternativa correta.

- A) O SUS disponibiliza a vacina bivalente.
- B) Para meninos, a vacina é indicada na faixa etária entre 10 e 15 anos.
- C) Em relação à infecção da mucosa genital, a vacina atua na prevenção de câncer apenas no colo do útero, já que o tumor não acomete o pênis.
- D) Para as meninas, a vacina é indicada na faixa etária entre 9 e 14 anos por serem menos expostas aos vírus por meio de relações sexuais e pela grande produção de anticorpos.

**Questão 39**

As doenças diarreicas agudas correspondem a um grupo de doenças infecciosas gastrointestinais que podem ser causadas por diferentes micro-organismos infecciosos que geram a gastroenterite. Esses agentes infecciosos são:


- A) Vírus e bactérias, somente.
- B) Tipos de bactérias nocivas ao intestino, somente.
- C) Vírus, bactérias e parasitas, como protozoários, por exemplo.
- D) Tipos de bactérias nocivas ao intestino e alguns tipos de parasitas.

**Questão 40**

A vacina dTpa, que está prevista no Calendário de Vacinação das Gestantes, é a única capaz de proteger a mãe e o bebê contra três doenças graves: difteria, tétano e coqueluche. É correto afirmar que essa vacina é recomendada:

- A) Em todas as gestações a partir da 10ª semana.
- B) Em todas as gestações a partir da 20ª semana.
- C) Somente na primeira gestação a partir da 10ª semana.
- D) Somente na primeira gestação a partir da 20ª semana.

**ATENÇÃO**

 **NÃO É PERMITIDA** a anotação das respostas da prova em QUALQUER MEIO. O candidato flagrado nesta conduta poderá ser **ELIMINADO** do processo.

## INSTRUÇÕES

1. Somente é permitida a utilização de caneta esferográfica de tinta azul ou preta indelével, de corpo transparente, de preferência de ponta grossa. Todos os demais objetos devem ser colocados na embalagem não reutilizável fornecida pelo Fiscal de Aplicação, inclusive aparelho celular desligado e carteira com documentos e valores em dinheiro. Não é permitida a comunicação entre os candidatos, o empréstimo de material, nem a utilização de máquinas calculadoras e/ou similares, livros, anotações, impressos ou qualquer outro material de consulta, protetor auricular, lápis, borracha ou corretivo. Especificamente não será permitido ao candidato ingressar na sala de provas sem o devido recolhimento, com respectiva identificação, dos seguintes equipamentos: *bip*, telefone celular, *walkman*, agenda eletrônica, *notebook*, *palmtop*, *ipod*, *ipad*, *tablet*, *smartphone*, mp3, mp4, receptor, gravador, fone de ouvido, *pendrive*, máquina fotográfica, controle de alarme de carro, relógio de qualquer modelo, carteiras e etc.
2. O tempo de duração da prova objetiva de múltipla escolha é de 4 (quatro) horas para o turno da manhã e de 4 (quatro) horas para o turno tarde, exceto para Procurador Municipal e Topógrafo com acréscimo de 1 (uma) hora para a realização da Prova Prática. Esse período abrange a assinatura e a transcrição das respostas para o Cartão de Respostas e a Folha de Textos Definitivos, se for o caso.
3. Com vistas à garantia da segurança e integridade do certame, os candidatos serão submetidos ao sistema de detecção de metais no ingresso e na saída de sanitários durante a realização da prova.
4. O Caderno de Provas consta de 50 (cinquenta) questões de múltipla escolha para os cargos de Nível Superior, 40 (quarenta) questões de múltipla escolha para os cargos de Nível Médio Técnico e Médio Completo e 30 (trinta) questões de múltipla escolha para os cargos de Nível Fundamental Completo e Incompleto. Ao receber o material de realização das provas, o candidato deverá conferir atentamente se o Caderno de Provas contém o número de questões previsto, se corresponde ao cargo a que está concorrendo, bem como se os dados constantes no Cartão de Respostas e na Folha de Textos Definitivos, se for o caso, que lhe foi fornecido estão corretos. Caso os dados estejam incorretos, ou o material esteja incompleto ou, ainda, tenha qualquer imperfeição, o candidato deverá informar tal ocorrência ao Fiscal de Aplicação.
5. As questões das provas objetivas são do tipo múltipla escolha, com 4 (quatro) alternativas (A a D) e uma única resposta correta. Ao terminar a prova, o candidato, obrigatoriamente, deverá devolver ao Fiscal de Aplicação o Cartão de Resposta (prova objetiva) e o Caderno/Folha de Textos Definitivos (Prova Prática), apenas para os cargos de Procurador Municipal e Topógrafo, devidamente assinados no local indicado.
6. Os Fiscais de Aplicação não estão autorizados a emitir opinião e prestar esclarecimentos sobre o conteúdo das provas. Cabe única e exclusivamente ao candidato interpretar e decidir.
7. Não é permitida a anotação de informações relativas às respostas (cópia de gabarito) no comprovante de inscrição ou em qualquer meio.
8. O candidato somente poderá retirar-se do local de realização das provas levando o Caderno de Provas no decurso dos últimos 30 (trinta) minutos anteriores ao horário previsto para o seu término. Após identificado e acomodado na sala, o candidato somente poderá ausentar-se 90 (noventa) minutos após o início das provas; contudo, não poderá levar consigo o Caderno de Provas.
9. Os 3 (três) últimos candidatos de cada sala só poderão sair juntos. Caso o candidato insista em sair do local de aplicação da prova, deverá assinar termo desistindo do Concurso Público e, caso se negue, deverá ser lavrado Termo de Ocorrência, testemunhado pelos 2 (dois) outros candidatos, pelo Fiscal de Aplicação e pelo Coordenador da Unidade.

## RESULTADOS E RECURSOS

- Os gabaritos oficiais preliminares das provas objetivas serão divulgados na *internet*, no endereço eletrônico [www.institutoconsulplan.org.br](http://www.institutoconsulplan.org.br), a partir das 16h da segunda-feira subsequente à realização das provas escritas objetivas de múltipla escolha.
- O candidato que desejar interpor recursos contra os gabaritos oficiais preliminares das provas objetivas disporá de 2 (dois) dias úteis, a partir do dia subsequente ao da divulgação (terça-feira), em requerimento próprio disponibilizado no *link* correlato ao Concurso Público no endereço eletrônico [www.institutoconsulplan.org.br](http://www.institutoconsulplan.org.br).
- A interposição de recursos poderá ser feita via *internet*, através do Sistema Eletrônico de Interposição de Recursos, com acesso pelo candidato com o fornecimento de dados referentes à sua inscrição, apenas no prazo recursal, ao Instituto Consulplan, conforme disposições contidas no endereço eletrônico [www.institutoconsulplan.org.br](http://www.institutoconsulplan.org.br), no *link* correspondente ao Concurso Público.