

# CÂMARA MUNICIPAL DE ARCOS/MG

## CONCURSO PÚBLICO Nº 01/2019



## Auxiliar de Serviços

Manhã

Tipo 1 - BRANCA

Organizadora:



**INSTITUTO**  
CONSULPLAN

**CARGO: AUXILIAR DE SERVIÇOS**

**CONHECIMENTOS GERAIS**

**LÍNGUA PORTUGUESA**

**O cajueiro**

O cajueiro já devia ser velho quando nasci. Ele vive nas mais antigas recordações de minha infância, belo, imenso, no alto do morro, atrás de casa. Agora vem uma carta dizendo que ele caiu. Eu me lembro de outro cajueiro que era menor e morreu há muito mais tempo.

Eu me lembro dos pés de pinha, do cajá-manga, da pequena touceira de espadas-de-são-jorge e da alta saboneteira que era nossa alegria e a cobiça de toda a meninada do bairro porque fornecia centenas de bolas pretas para o jogo de gude. Lembro-me da tamareira, e de tantos arbustos e folhagens coloridas, lembro-me da parreira que cobria o caramanchão, e dos canteiros de flores humildes, beijos, violetas. Tudo sumira, mas o grande pé de fruta-pão ao lado da casa e o imenso cajueiro lá no alto eram como árvores sagradas protegendo a família. Cada menino que ia crescendo ia aprendendo o jeito de seu tronco, a cica de seu fruto, o lugar melhor para apoiar o pé e subir pelo cajueiro acima, ver de lá o telhado das casas do outro lado e os morros além, sentir o leve balanceio na brisa da tarde.

No último verão ainda o vi; estava como sempre carregado de frutos amarelos, trêmulo de sanhaços. Chovera; mas assim mesmo fiz questão de que Caribé subisse o morro para vê-lo de perto, como quem apresenta a um amigo de outras terras um parente muito querido.

A carta de minha irmã mais moça diz que ele caiu numa tarde de ventania, num fragor tremendo pela ribanceira abaixo, e caiu meio de lado, como se não quisesse quebrar o telhado de nossa velha casa. Diz que passou o dia abatida, pensando em nossa mãe, em nosso pai, em nossos irmãos que já morreram. Diz que seus filhos pequenos se assustaram; mas depois foram brincar nos galhos tombados.

Foi agora, em setembro. Estava carregado de flores.

*(Rubem Braga. Cem crônicas escolhidas. Rio de Janeiro. José Olímpio. 1956. Pág. 320-22. Com adaptações.)*

**Questão 01**

**Podemos afirmar que o texto apresenta como ideia principal:**

- A) Uma discussão inútil.
- B) Fatos e acontecimentos.
- C) Argumentações incertas.
- D) Uma sucessão de fatos imaginários.

**Questão 02**

**Considerando o 1º§ do texto, é possível afirmar que:**

- A) Há características de euforia e entusiasmo.
- B) A ideia central se trata da queda do cajueiro.
- C) A infância remota do autor não influencia o presente.
- D) A queda do cajueiro se deu por ele ser velho, belo e imenso.

**Questão 03**

No fragmento *“No último verão ainda o vi; estava como sempre carregado de frutos amarelos, trêmulo de sanhaços.”* (3º§), a expressão *“trêmulo”* significa:

- A) Notável.
- B) Repleto.
- C) Inclinado.
- D) Estremecido.

**Questão 04**

Em *“O cajueiro já devia ser velho quando nasci.”* (1º§), o ponto final foi empregado para:

- A) Exprimir surpresa.
- B) Finalizar frase declarativa.
- C) Fazer um questionamento.
- D) Marcar uma pequena pausa.

**Questão 05**

*“Estava carregado de flores.”* (5º§) O antônimo do termo destacado anteriormente é:

- A) Vazio.
- B) Munido.
- C) Encoberto.
- D) Regenerado.

**Questão 06**

Em *“Diz que passou o dia abatida, pensando em nossa mãe, em nosso pai, em nossos irmãos que já morreram.”* (4º§), a palavra assinalada pode ser substituída, sem alteração de sentido, por:

- A) Apática.
- B) Tranquila.
- C) Comovida.
- D) Despreocupada.

**Questão 07**

**A divisão silábica está INCORRETA em:**

- A) flo – res
- B) mo – rro
- C) te – lha – do
- D) co – lo – ri – das

**Questão 08**

**São palavras transcritas do texto que se encontram no masculino, EXCETO:**

- A) pé
- B) verão
- C) família
- D) cajueiro

**Questão 09**

**Há ERRO de grafia em:**

- A) As crianças foram brincar nos galhos tombados.
- B) Chuva e ventania causam transtornos diariamente.
- C) É possível encontrar frutas de vários tipos em locais públicos.
- D) O cajueiro, uma planta originária do Brasil, é disseminada no mundo tropical.

**Questão 10**

Em *“Tudo sumira, mas o grande pé de fruta-pão ao lado da casa e o imenso cajueiro lá no alto eram como árvores sagradas protegendo a família.”* (2º§) são apresentadas as seguintes características:

- A) Revolta, encanto e devoção.
- B) Abandono, solidão e ligação afetiva.
- C) Ruína, aborrecimento e regionalismo.
- D) Indiferença, saudosismo e preservação da natureza.

**RACIOCÍNIO LÓGICO MATEMÁTICO**

**Questão 11**

Um artista plástico irá construir uma estatueta 14 vezes menor do que o lendário cantor *Michael Jackson*, que media 1,75 m. Qual será o tamanho da estatueta?

- A) 11,5 cm
- B) 12,5 cm
- C) 13,5 cm
- D) 14,5 cm

**Questão 12**

Regina come 300 gramas de frango nos almoços de segunda-feira, quarta-feira e sexta-feira. Seguindo essa regra, a quantidade de frango que Regina consumirá em um mês de agosto que se iniciará em uma quarta-feira está compreendido entre:

- A) 2.000 e 3.500 gramas
- B) 3.501 e 4.000 gramas
- C) 4.001 e 4.500 gramas
- D) 4.501 e 5.000 gramas

**Questão 13**

A sequência apresentada a seguir possui um padrão lógico e o símbolo “@” foi colocado no lugar de um de seus números.

309, 300, 290, 279, 267, 254, @

Analisando a sequência, qual é o valor do símbolo “@”?

- A) 220
- B) 230
- C) 235
- D) 240

**Questão 14**

Um casal teve quatro filhos, cada um nascido em um ano diferente dos demais. O nome dos três primeiros filhos são, do mais velho para o mais novo: Jerônimo, Kléber e Lucas. Com base na relação lógica entre esses nomes, um possível nome para o quarto filho é:

- A) André.
- B) Miguel.
- C) Nicolas.
- D) Osvaldo.

**Questão 15**

Observe as figuras a seguir.



Figura I




Figura II




Figura III



Figura IV

Qual é a figura diferente?

- A) I
- B) II
- C) III
- D) IV

**Questão 16**

Jéssica vai ao salão de beleza duas vezes por mês para hidratar e escovar seus cabelos. Sabendo-se que a hidratação custa R\$ 56,00 e a escova custa R\$ 72,00, qual é o total que Jéssica gasta com salão de beleza em um ano?

- A) R\$ 1.280,00
- B) R\$ 1.408,00
- C) R\$ 1.536,00
- D) R\$ 1.664,00

**Questão 17**

Qual das alternativas a seguir pertence a um grupo DIFERENTE das demais?

- A) Vôlei.
- B) Futebol.
- C) Basquete.
- D) Atletismo.

**Questão 18**

Na operação apresentada a seguir, cada uma das letras, F e G, representa um algarismo; observe.

$$\begin{array}{r} FG \\ + 23 \\ \hline 99 \end{array}$$

Qual é o valor de F + G?

- A) 12
- B) 13
- C) 14
- D) 15

**Questão 19**

Em um determinado zoológico será criada uma jaula para uma cobra anaconda de 4,7 metros de comprimento. O responsável pelo dimensionamento dessa jaula calculou que o comprimento do local deverá ser 5 vezes o tamanho do animal, para que ele se sinta confortável no ambiente. Qual deverá ser o comprimento da jaula dessa anaconda?

- A) 12,5 metros
- B) 15,5 metros
- C) 18,5 metros
- D) 23,5 metros

**Questão 20**

Steven é um artista e irá expor suas obras de arte em uma galeria durante 7 dias no horário entre 7h20min da manhã e 19h40min.. Qual será o tempo total que as obras de Steven estarão expostas nessa galeria?

- A) 85 horas e 24 minutos
- B) 85 horas e 40 minutos
- C) 86 horas e 20 minutos
- D) 86 horas e 33 minutos

**CONHECIMENTOS GERAIS**

**Questão 21**

“Na primeira atualização de um relatório produzido a pedido do Banco Mundial, o Fórum Brasileiro de Segurança Pública (FBSP) destaca que os casos de feminicídio cresceram 22,2%, entre março e abril deste ano, em 12 estados do país, comparativamente ao ano passado. Intitulado Violência Doméstica durante a Pandemia de Covid-19, o documento foi divulgado em 01/06/2020 e tem como referência dados coletados nos órgãos de segurança dos estados brasileiros.”

(Fonte: Publicado em 01/06/2020 - 14:34 Por Letycia Bond - Repórter da Agência Brasil - São Paulo.)

Sobre feminicídio, analise as afirmativas a seguir.

- I. Quando o homicídio é em decorrência de violência doméstica ou ocorre acompanhado dela, sendo praticado pelo cônjuge, parceiro ou qualquer outro familiar da vítima.
- II. A discriminação de gênero, que faz com que as mulheres sejam tratadas, em nossa sociedade, como objetos e não como sujeitos.
- III. A violência contra a mulher está ligada a uma cultura misógina perpetrada pelo patriarcalismo social persistente ainda nos dias de hoje.

Estão corretas as assertivas


- A) I, II e III.
- B) I e II, apenas.
- C) I e III, apenas.
- D) II e III, apenas.

**Questão 22**

O Lobo Guará se chama *Chrysocyon brachyurus* que quer dizer “animal dourado de cauda curta”. É chamado “guará” porque em tupi-guarani, a língua dos indígenas, “guará” significa “vermelho”. Tem o corpo todo dourado; as patas e os pelos da nuca pretos; a cauda, o papo e um pouco do rosto brancos. É branco também o pavilhão das orelhas, que se movimentam como um radar, captando todos os sons e movimentos. Como forma de enaltecer a fauna nativa, o Lobo Guará hoje é representado na cédula de:

- A) Dois reais.
- B) Vinte reais.
- C) Cem reais.
- D) Duzentos reais.

**Questão 23**



(ENERGIA VITAL. A enfermeira encara o monstro corona no grafite vindo da Rússia: humor e ironia contra o baixo-astral Vadim Braidov/TASS/Getty Images.)

Em relação ao Coronavírus (COVID-19), está INCORRETO o que se afirma em:

- A) São sintomas comuns: febre, tosse seca e cansaço.
- B) A transmissão acontece de uma pessoa doente para outra, ou por contato próximo, sendo por um dos meios como as gotículas de saliva.
- C) A vacina Coronavac, desenvolvida pelo laboratório chinês SINOVAC, é a primeira vacina disponível para toda a população mundial para o combate da COVID-19.
- D) São sintomas fortes: mialgias, distúrbios gastrointestinais (diarreia/náuseas/vômitos), perda ou diminuição do olfato (anosmia,) ou perda ou diminuição do paladar (ageusia).

**Questão 24**

“A reforma administrativa é um dos projetos mais importantes em relação ao orçamento do país. O Presidente da Câmara solicitou o adiamento dos estudos que irão subsidiar a discussão da Reforma Administrativa para que seja inserida na Agenda Legislativa o quanto antes.” É o atual Presidente da Câmara:

- A) Dias Toffoli.
- B) Rodrigo Maia.
- C) Paulo Guedes.
- D) Davi Alcolumbre.

**Questão 25**

Com propostas totalmente antagônicas para a segurança pública, imigração e política externa, os candidatos à presidência dos Estados Unidos, Donald Trump e Joe Biden, travam uma batalha que promete polarizar, mais do que nunca, o país que se escora no sistema bipartidário. Desde o início da pandemia de Coronavírus, o tema “saúde” ganhou ainda mais destaque, enquanto as manifestações contra o racismo e a violência policial serviram como gatilho para profundas discussões sobre segurança pública e desigualdade no país. Qual presidente dos Estados Unidos teve Joe Biden como vice-presidente?

- A) Bill Clinton.
- B) Barack Obama.
- C) Ronald Reagan.
- D) George W. Bush.

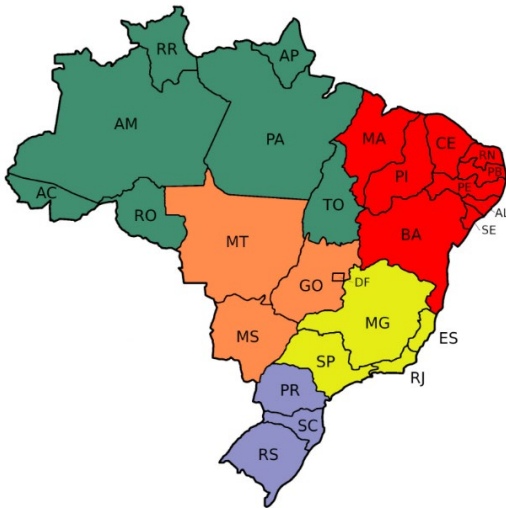
**Questão 26**

Flordelis é acusada de ser a mandante do assassinato do próprio marido, o pastor Anderson do Carmo, morto a tiros em junho de 2019. Ela nega as acusações. Sete filhos e uma neta da deputada também respondem pelo crime. Flordelis só não foi presa por ter imunidade parlamentar. No entanto, um processo por quebra de decoro está em andamento em Brasília, o que pode acarretar na perda de seu mandato. Flordelis possui imunidade parlamentar por ocupar o cargo de:

- A) Senadora.
- B) Deputada Federal.
- C) Deputada Estadual.
- D) Vereadora do município do Rio de Janeiro.

**Questão 27**

O Brasil, pela sua ampla área territorial, faz com que o país seja considerado “de dimensões continentais”, sendo quase do mesmo tamanho da Oceania (8.525.989 km<sup>2</sup>) e um pouco menor do que toda a Europa (10.180.000 km<sup>2</sup>).



(Disponível em: <https://br.pinterest.com/pin/810085051711346383/>)

Os estados do Mato Grosso, Mato Grosso do Sul, Goiás e o Distrito Federal pertencem à região:

- A) Norte.
- B) Sudeste.
- C) Nordeste.
- D) Centro-Oeste.

**Questão 28**

“A economia da região \_\_\_\_\_ é muito forte e diversificada. Ela pertence a maior região geoeconômica do país, em termos de economia. Tem como destaque as indústrias petrolíferas, siderurgia, metalurgia, automobilística e naval. Os principais produtos agrícolas cultivados são: cana-de-açúcar, café, algodão, milho, mandioca, arroz, feijão e frutas.” Assinale a alternativa que completa corretamente a afirmativa anterior.

- A) Norte
- B) Sudeste
- C) Nordeste
- D) Centro-Oeste

**Questão 29**

O Governo Federal concede aos brasileiros os benefícios como: Aposentadoria por Tempo de Contribuição, Auxílio-Doença, Salário Maternidade Urbano, Auxílio Reclusão Urbano, dentre outros. Os benefícios citados anteriormente são vinculados ao:

- A) Ministério da Cidadania.
- B) Instituto Nacional do Seguro Social.
- C) Ministério do Desenvolvimento Regional.
- D) Ministério da Justiça e Segurança Pública.

**Questão 30**

“Direitos humanos são direitos e liberdades fundamentais que pertencem a cada uma e cada um de nós, em todas as partes do mundo. Liberdade, vida e respeito são temas essenciais para entender o assunto.”

(Disponível em: Fonte: <https://anistia.org.br/campanhas/o-que-sao-direitos-humanos/>)

Quanto aos Direitos Humanos, analise as afirmativas a seguir.

- I. Ninguém será mantido em escravatura ou em servidão; a escravatura e o trato dos escravos, sob todas as formas, são proibidos.
- II. Toda a pessoa tem direito a recurso efetivo para as jurisdições nacionais competentes contra os atos que violem os direitos fundamentais reconhecidos pela Constituição ou pela lei.
- III. Ninguém será condenado por ações ou omissões que, no momento da sua prática, não constituíam ato delituoso à face do direito interno ou internacional.
- IV. Toda pessoa sujeita a perseguição tem o direito de procurar e de beneficiar de asilo apenas em seu país de origem.

Estão corretas apenas as afirmativas

- A) I e III.
- B) II e IV.
- C) I, II e III.
- D) I, II e IV.

**ATENÇÃO**

**NÃO É PERMITIDA** a anotação das respostas da prova em QUALQUER MEIO. O candidato flagrado nesta conduta poderá ser ELIMINADO do processo.





## INSTRUÇÕES

**É necessário uso de máscara durante toda a prova. O álcool em gel se encontra disponível para o uso candidatos.**

1. Somente será permitida a utilização de caneta esferográfica de tinta azul ou preta, feita de material transparente e de ponta grossa.
2. É proibida, durante a realização das provas, a comunicação entre os candidatos; a utilização de máquinas calculadoras e/ou similares, livros, anotações, impressos ou qualquer outro material de consulta, protetor auricular, lápis, borracha ou corretivo. Especificamente, não será permitido ao candidato ingressar na sala de provas sem o devido recolhimento, com respectiva identificação, dos seguintes equipamentos: *bip*, telefone celular, *walkman*, agenda eletrônica, *notebook*, *palmtop*, *ipod*, *ipad*, *tablet*, *smartphone*, mp3, mp4, receptor, gravador, máquina de calcular, máquina fotográfica, controle de alarme de carro, relógio de qualquer modelo, pulseiras magnéticas e similares etc., não acarretando em qualquer responsabilidade do Instituto Consulplan sobre tais equipamentos.
3. Com vistas à garantia da segurança e integridade do Concurso Público, no dia da realização das provas escritas, os candidatos serão submetidos ao sistema de detecção de metais na entrada e na saída dos sanitários.
4. O Caderno de Provas consta de 40 (quarenta) questões de múltipla escolha para os cargos de níveis Superior e Médio Completo e 30 (trinta) questões para o nível Fundamental Incompleto. A Prova Discursiva (Parecer Jurídico) será aplicada apenas para o cargo de Advogado da Mesa Diretora.
5. Ao receber o material de realização das provas, o candidato deverá conferir atentamente se o Caderno de Provas contém o número de questões previsto, se corresponde ao cargo a que está concorrendo, bem como se os dados constantes no Cartão de Respostas (Gabarito) e Folha de Textos Definitivos (Prova Discursiva somente para o cargo Advogado da Mesa Diretora) que lhe foram fornecidos estão corretos. Caso os dados estejam incorretos, ou o material esteja incompleto ou, ainda, detenha qualquer imperfeição, o candidato deverá informar tal ocorrência ao Fiscal de Aplicação.
6. As provas terão duração de 3 (três) horas para os cargos de nível Fundamental Incompleto, nível Médio e Superior (exceto Advogado da Mesa diretora); 4 (quatro) horas e 30 (trinta) minutos para o cargo de Advogado da Mesa Diretora. Este período abrange a assinatura e a transcrição das respostas para o Cartão de Respostas (Gabarito) e Folha de Textos Definitivos (Prova Discursiva somente para o cargo Advogado da Mesa Diretora).
7. As questões das provas objetivas são do tipo múltipla escolha, com 4 (quatro) alternativas (A a D) e uma única resposta correta. Ao terminar a prova, o candidato, obrigatoriamente, deverá devolver ao Fiscal de Aplicação o Cartão de Respostas (Gabarito) e a Folha de Textos Definitivos (Prova Discursiva somente para o cargo Advogado da Mesa Diretora), devidamente assinados em local específico.
8. Os Fiscais de Aplicação não estão autorizados a emitir opinião e prestar esclarecimentos sobre o conteúdo das provas. Cabe única e exclusivamente ao candidato interpretar e decidir.
9. Não é permitida a anotação de informações relativas às respostas (cópia de gabarito) no comprovante de inscrição ou em qualquer outro meio.
10. O candidato somente poderá retirar-se do local de realização das provas escritas levando o caderno de provas no decurso dos últimos 30 (trinta) minutos anteriores ao horário previsto para o seu término. O candidato, também, poderá retirar-se do local de provas somente a partir dos 90 (noventa) minutos após o início de sua realização, contudo não poderá levar consigo o caderno de provas.
11. Os 3 (três) últimos candidatos de cada sala só poderão sair juntos. Caso algum destes candidatos insista em sair do local de aplicação antes de autorizado pelo fiscal de aplicação, será lavrado Termo de Ocorrência, assinado pelo candidato e testemunhado pelos 2 (dois) outros candidatos, pelo Fiscal de Aplicação da sala e pelo Coordenador da Unidade de provas, para posterior análise pela Comissão de Acompanhamento do Concurso.

## RESULTADOS E RECURSOS

- Os gabaritos oficiais preliminares das provas objetivas serão divulgados na *internet*, no endereço eletrônico [www.institutoconsulplan.org.br](http://www.institutoconsulplan.org.br), a partir das 16h00min da segunda-feira subsequente à realização das provas escritas objetivas de múltipla escolha.
- O candidato que desejar interpor recursos contra os gabaritos oficiais preliminares das provas objetivas disporá de 3 (três) dias úteis, a partir do dia subsequente ao da divulgação (terça-feira), em requerimento próprio disponibilizado no *link* correlato ao Concurso Público no endereço eletrônico [www.institutoconsulplan.org.br](http://www.institutoconsulplan.org.br).
- A interposição de recursos poderá ser feita via *internet*, através do Sistema Eletrônico de Interposição de Recursos, com acesso pelo candidato ao fornecer os dados referentes à sua inscrição, apenas no prazo recursal, ao Instituto Consulplan, conforme disposições contidas no endereço eletrônico [www.institutoconsulplan.org.br](http://www.institutoconsulplan.org.br), no *link* correspondente ao Concurso Público.