

CONCURSO PÚBLICO EDITAL 001/2019

PREFEITURA MUNICIPAL DE TAUBATÉ- SP

CONTROLADOR CHEFE

Nome do(a) Candidato(a)

Número de Documento

--	--

Este caderno de questões está assim constituído:

DISCIPLINAS	Nº QUESTÕES
Língua Portuguesa e Interpretação de Textos	20
Matemática	16
Conhecimentos Específicos	23
Total de questões	59

INSTRUÇÕES AO CANDIDATO (A):

- Verifique se está sentado no local correto, condizente com a sua etiqueta (Nome do candidato e Prova).
- Confira devidamente o CADERNO DE QUESTÕES; se houver falha, solicite a troca do caderno de questões completo ao fiscal.
- Confira seus dados no CARTÃO DE RESPOSTAS: NOME, Nº de INSCRIÇÃO e PROVA. ASSINE no espaço indicado na frente do cartão.
- O CARTÃO DE RESPOSTAS deverá ser preenchido de caneta esferográfica transparente, azul ou preta, ponta grossa, sem rasuras e apenas uma ÚNICA alternativa poderá ser marcada em cada questão, preenchendo totalmente o espaço, e não apenas "x".
- Não amasse nem dobre o CARTÃO DE RESPOSTAS; evite usar borracha. É vedada a substituição do CARTÃO DE RESPOSTAS decorrente de erro cometido por candidato.
- Durante a prova, não é permitida a comunicação entre candidatos nem a utilização de máquinas calculadoras e/ou similares, livros, anotações, réguas de cálculo, impressos ou qualquer outro material de consulta.
- O tempo de duração da prova será de até 03 (três) horas. O candidato somente poderá retirar-se definitivamente do recinto de realização da prova após 1 (uma) hora, contada do seu efetivo início.
- O candidato poderá levar o caderno de questões depois de decorridos **02 (duas) horas** do início da prova.
- Ao final dos trabalhos, DEVOLVA ao Fiscal de Sala o CARTÃO DE RESPOSTAS devidamente preenchido e assinado.
- Os três últimos candidatos de cada sala de prova deverão permanecer no recinto, a fim de acompanhar os fiscais para o lacre dos envelopes, quando, então, poderão retirar-se do local, simultaneamente, depois de concluído.
- O CANDIDATO, AO TERMINAR A PROVA, DEVERÁ RETIRAR-SE IMEDIATAMENTE DO LOCAL DE APLICAÇÃO DE PROVA, NÃO PODENDO PERMANECER NAS DEPENDÊNCIAS DESTES, BEM COMO NÃO PODERÁ UTILIZAR OS SANITÁRIOS.
- O candidato será eliminado sumariamente caso o celular emita qualquer som.

Destaque aqui

PREFEITURA MUNICIPAL DE TAUBATÉ – SP – CONTROLADOR CHEFE

Marque aqui as suas respostas:

1	2	3	4	5	6	7	8	9	10	11	12	13	14	15
16	17	18	19	20	21	22	23	24	25	26	27	28	29	30
31	32	33	34	35	36	37	38	39	40	41	42	43	44	45
46	47	48	49	50	51	52	53	54	55	56	57	58	59	

RASCUNHO

RASCUNHO

Leia o texto abaixo e responda as questões de 1 a 8.

1 A proposta de reforma da Seguridade Social ora em pauta bate sistematicamente na tecla de que vem para pôr fim a velha e persistente dimensão das nossas desigualdades: iniquidades de renda na inatividade.

Já se sabe que algo que se repete a marteladas acaba por virar verdade, qualquer que seja seu conteúdo, ainda mais em tempos em que crenças ganham ares de integridade moral.

O fato é que, ao contrário do que reza a cartilha dos agora arautos da luta contra a desigualdade, é justamente entre aposentados e pensionistas que o índice de Gini — que mede a desigualdade, novamente em alta vertiginosa no Brasil nos anos recentes — é o menor. E, claro, isso não é por acaso, mas resultado da elevada efetividade de um regime de repartição como o nosso em redistribuir entre gerações.

Ou seja, retornamos a um nível de desigualdade que prevalecia em tempos de milagre econômico sob um regime autoritário, quando o crescimento se dava fortalecendo a concentração de renda. A prosperidade de então, quando o PIB atingia taxas de crescimento invejáveis, era apropriada por poucos em razão da compressão dos salários e da ausência de políticas sociais redistributivas. Esse cenário muda a partir da promulgação da nova Constituição e da redemocratização do país.

(Adaptado de oglobo.globo.com/opiniao, 09/03/2019)

1) Analisando-se o trecho destacado abaixo do texto e seu contexto, é CORRETO concluir que:

“A proposta de reforma da Seguridade Social ora em pauta bate sistematicamente na tecla de que vem para pôr fim a velha e persistente dimensão das nossas desigualdades: iniquidades de renda na inatividade.” (linhas 1 a 5)

- Há muito se discute a arbitrariedade da Seguridade Social no país.
- Uma das searas da desigualdade no país é a não determinação da renda de inatividade levando-se em conta o que é considerado justo.
- A proposta de reforma da Seguridade Social promete acabar com as desigualdades no país de forma sistemática.
- A equidade das rendas de inativos é utópica, sendo a Seguridade Social uma forma de dimensionar as desigualdades.

2) “Ou seja, retornamos a um nível de desigualdade que prevalecia em tempos de milagre econômico sob um regime autoritário (...)” (linhas 21 a 23). No trecho acima, há um verbo conjugado no pretérito imperfeito do indicativo, o qual é empregado para:

- Denotar uma declaração que acontece habitualmente.
- Indicar uma ação que ocorreu antes de outra ação já passada.
- Fixar e enquadrar a ação dentro de um espaço de tempo determinado.
- Transportar-nos mentalmente a uma época passada e descrever o que então era presente.

3) A forma verbal no trecho “... quando o PIB atingia taxas de crescimento invejáveis (...)” (linhas 26 e 27) encontra-se transformada para a voz passiva na seguinte alternativa:

- “eram atingidas”
- “iam sendo atingidas”
- Não é possível a transformação para a voz passiva.
- A locução já se encontra na voz passiva.

4) Sabe-se que, no texto, há um caso em que a crase deveria ter sido utilizada e não o foi, ocasionando erro gramatical. Para corrigi-lo, é necessário efetuar a seguinte alteração:

- “a velha” (linha 3) por “à velha”.
- “a marteladas” (linhas 6 e 7) por “à marteladas”.
- “a desigualdade” (linhas 12 e 13) por “à desigualdade”.
- “a um nível” (linha 21) por “à um nível”.

5) Analise a palavra sublinhada no seguinte trecho: “... de que vem para pôr fim a velha e persistente dimensão das nossas desigualdades (...)” (linhas 3 e 4). Sobre o acento existente, é CORRETO afirmar que:

- Não é mais utilizado segundo o Novo Acordo Ortográfico.
- Seu acréscimo altera o tempo verbal de presente para pretérito perfeito.
- Sua supressão altera a classe gramatical da palavra.
- O acento é utilizado na conjugação do verbo em todos os tempos verbais.

6) “Já se sabe que algo que se repete a marteladas acaba por virar verdade (...)” (linhas 6 e 7). Analisando sintaticamente o período acima, pode-se afirmar que o sujeito do verbo “sabe” é:

- Elíptico.
- Oracional.
- Composto.
- Inexistente.

7) Através do uso dos sinais de pontuação, o autor pode marcar na escrita uma enumeração ou explicação relacionada à ideia principal. Assinale a alternativa em que esse recurso foi utilizado no texto pelo autor:

- “... dimensão das nossas desigualdades: iniquidades de renda na inatividade (...)” (linhas 4 e 5).
- “E, claro, isso não é por acaso (...)” (linhas 17 e 18).
- “... por acaso, mas resultado da elevada efetividade (...)” (linhas 17 e 18).
- “Ou seja, retornamos a um nível de (...)” (linha 21).

8) “... ainda mais em tempos em que crenças ganham ares de integridade moral.” (linhas 8 a 10) Analisando-se a partícula “que” destacada no trecho acima, assinale a alternativa que preenche corretamente as lacunas da afirmação abaixo:

A partícula “que” em destaque introduz uma _____ e classifica-se morfologicamente como _____.

- a) Oração subordinada substantiva subjetiva; conjunção integrante.
- b) Oração subordinada adjetiva restritiva; pronome relativo.
- c) Oração subordinada substantiva objetiva direta; conjunção integrante.
- d) Oração subordinada adjetiva explicativa; pronome relativo.

Leia o texto abaixo e responda as questões de 9 a 14.

1 A corrupção que assolou o Brasil, especialmente o Estado do Rio, nos últimos anos provocou imenso prejuízo aos cofres públicos. Uma das consequências mais perversas deste assalto aos contribuintes é o sucateamento de serviços básicos à população. Sem exagero, pode-se dizer que a corrupção entre nós deixou de ser apenas um caso de polícia para transformar-se também em um atentado aos direitos humanos.

Uma das competências do Conselho Estadual de Defesa dos Direitos Humanos (CEDDH) previstas em lei é apurar as denúncias de violações ocorridas no Rio de Janeiro. Muita gente acredita que esta definição limita-se a casos de agressões por parte de bandidos ou autoridades policiais. Mas basta circularmos pelas cidades do nosso estado para percebermos que, atualmente, o cidadão fluminense tem seus direitos humanos violados desde o momento que sai pela manhã até a hora em que volta para casa. Exemplos não faltam.

Ao tentar pegar uma condução para o trabalho, ele percebe que não há linhas suficientes para atendê-lo. Quando o veículo finalmente chega, está superlotado, sem ar-condicionado e em péssimo estado. O trajeto diário do trabalhador nos ônibus do Rio é hoje um flagrante caso de desrespeito aos direitos humanos.

(Adaptado de [oglobo.globo.com/opiniaio, 08/03/2019](http://oglobo.globo.com/opiniaio,08/03/2019))

9) Considere as passagens:

- “A corrupção que assolou o Brasil, especialmente o Estado do Rio (...)” (linhas 1 e 2)

- “O trajeto diário do trabalhador nos ônibus do Rio é hoje um flagrante caso de desrespeito aos direitos humanos.” (linhas 28 a 31)

No contexto em que ocorrem, as expressões em destaque significam, CORRETA e respectivamente:

- a) Pôr por terra; refutável.
- b) Tratar com ludíbrio; registrado no momento que um fato ocorreu.
- c) Causar grande consternação; que é incontestável.
- d) Tornar-se afamado; testemunhado no momento da ocorrência.

10) “... tem seus direitos humanos violados desde o momento que sai pela manhã até a hora em que volta

para casa.” (linhas 20 a 22). Sobre a oração sublinhada acima, é CORRETO afirmar que:

- a) Classifica-se como oração subordinada adverbial temporal.
- b) Apresenta sentido explicativo, devendo ser isolada entre vírgulas para que haja correção gramatical.
- c) A partícula “que” deve ser precedida pela preposição “em” para que haja correção gramatical.
- d) Caso a oração fosse isolada entre travessões, o período manteria o sentido original.

11) No trecho “... ele percebe que não há linhas suficientes para atendê-lo (...)” (linhas 25 e 26), a expressão “linhas suficientes” classifica-se sintaticamente como:

- a) Complemento nominal.
- b) Objeto direto.
- c) Adjunto adnominal.
- d) Sujeito simples.

12) Levando-se em consideração os conceitos de frase, oração e período, assinale o período classificado como simples:

- a) “A corrupção que assolou o Brasil, especialmente o Estado do Rio, nos últimos anos provocou imenso prejuízo aos cofres públicos.” (linhas 1 a 4)
- b) “Uma das consequências mais perversas deste assalto aos contribuintes é o sucateamento de serviços básicos à população.” (linhas 4 a 7)
- c) “Uma das competências do Conselho Estadual de Defesa dos Direitos Humanos (CEDDH) previstas em lei é apurar as denúncias de violações ocorridas no Rio de Janeiro.” (linhas 11 a 14)
- d) “Muita gente acredita que esta definição limita-se a casos de agressões por parte de bandidos ou autoridades policiais.” (linhas 14 a 17)

13) No último parágrafo do texto, no trecho “... ele percebe que não há linhas suficientes para atendê-lo.” (linhas 25 e 26), o pronome destacado refere-se à seguinte informação:

- a) O cidadão fluminense.
- b) O veículo de condução para o trabalho.
- c) Os direitos humanos.
- d) O trajeto diário do trabalhador.

14) Assinale a alternativa em que a reescrita de passagem do texto está CORRETA quanto à norma-padrão e mantém o sentido original:

- a) “A corrupção que assolou o Brasil, especialmente o Estado do Rio, nos últimos anos provocou imenso prejuízo aos cofres públicos.” (linhas 1 a 4): A corrupção na qual assolou o Brasil - especialmente o Estado do Rio - nos últimos anos, provocou imenso prejuízo aos cofres públicos.
- b) “Sem exagero, pode-se dizer que a corrupção entre nós deixou de ser apenas um caso de polícia para transformar-se também em um atentado aos direitos humanos.” (linhas 7 a 10): Sem exagero, se pode dizer que a corrupção entre nós deixou de ser apenas um caso de polícia para se transformar também em um atentado aos direitos humanos.
- c) “Muita gente acredita que esta definição limita-se a casos de agressões por parte de bandidos ou autoridades policiais.” (linhas 14 a 17): Bastantes pessoas acredita que esta definição é limitada a casos de agressões por parte de bandidos ou autoridades policiais.

d) “Ao tentar pegar uma condução para o trabalho, ele percebe que não há linhas suficientes para atendê-lo.” (linhas 24 a 26): Ao tentar pegar uma condução para o trabalho, ele percebe que não existem linhas suficientes para o atender.

Leia a charge abaixo e responda as questões 15 e 16.



15) Pode-se afirmar corretamente que a charge acima é uma crítica ao (à):

- a) Dificuldade social de envelhecimento.
- b) Idade avançada para a aposentadoria.
- c) Situação econômica da população.
- d) Baixos rendimentos de aposentadoria.

16) Analisando a fala do personagem na charge, assinale a alternativa CORRETA:

- a) A palavra “onde” foi utilizada de forma incorreta, como em “onde devo me dirigir?”.
- b) A palavra “onde” foi utilizada de forma correta, como em “não sei onde passarei as férias”.
- c) A palavra “onde” foi utilizada de forma incorreta, como em “onde estão minhas chaves?”.
- d) A palavra “onde” foi utilizada de forma correta, como em “nada está onde deixei”.

Leia o texto abaixo e responda as questões de 17 a 20.

1 No Brasil, as desigualdades de gênero estão ainda nas raízes do sofrimento físico e mental das mulheres. Alguns cenários onde ocorrem as violências são 5 problemáticos, como na família e nos relacionamentos afetivos. O lugar onde deveria existir harmonia e segurança, para muitas é o local mais perigoso. O machismo e o patriarcado, arraigados na 10 sociedade, vêm transformando a casa em lugar de risco para elas.

As mortes violentas de mulheres não ocorrem como casos isolados ou episódicos, mas inseridas em um processo 15 contínuo de violência que limita o desenvolvimento livre e saudável de meninas e mulheres.

(Adaptado de oglobo.globo.com/opiniaio, 09/03/2019)

17) O uso da expressão pelo autor “ainda” na frase abaixo tem como objetivo principal:

“No Brasil, as desigualdades de gênero estão ainda nas raízes do sofrimento físico e mental das mulheres.” (linhas 1 a 3)

- a) Demonstrar a aceitação de indubitabilidade.
- b) Expressar ideia temporal à oração.
- c) Manter em aberto a interpretação da frase.
- d) Adiantar o assunto abordado no texto.

18) Analise a frase a seguir: “O machismo e o patriarcado, arraigados na sociedade, vêm transformando a casa em lugar de risco para elas.” (linhas 8 a 11). Acerca do trecho sublinhado, é CORRETO afirmar que:

- a) Caracteriza-se como uma oração reduzida de infinitivo que, ao ser desenvolvida, apresenta sujeito indeterminado.
- b) Representa o complemento de um verbo transitivo indireto por meio de uma oração substantiva objetiva indireta reduzida de infinitivo.
- c) É uma oração reduzida de participio com valor adjetivo que explica termo expresso na oração principal.
- d) Nenhuma das alternativas.

19) Analise o trecho abaixo. O autor utiliza a expressão “mas” para construção da coesão do texto. O valor semântico expresso por esse termo também é encontrado na seguinte frase:

“As mortes violentas de mulheres não ocorrem como casos isolados ou episódicos, mas inseridas em um processo contínuo de violência que limita o desenvolvimento livre e saudável de meninas e mulheres.” (linhas 12 a 17)

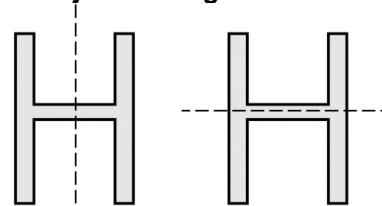
- a) As pessoas não esperavam o acidente, por conseguinte houve grande repercussão do fato.
- b) Sai sem guarda-chuva e choveu.
- c) Não espere que eu volte, porquanto estarei viajando.
- d) Contanto que você assine o contrato, iremos cumpri-lo.

20) “O machismo e o patriarcado, arraigados na sociedade, vêm transformando a casa em lugar de risco para elas.” (linhas 8 a 11). Na frase, o verbo “vêm” encontra-se acentuado, pois:

- a) Está no plural e concorda com o seu sujeito simples.
- b) Está no singular e não apresenta um sujeito determinado.
- c) Está no plural e concorda com o sujeito oculto.
- d) Está no plural e concorda com o seu sujeito composto.

MATEMÁTICA

21) A letra H é simétrica com respeito à duas diferentes linhas, como mostrado pelas linhas tracejadas na figura abaixo.



É CORRETO afirmar que outra letra que é simétrica com relação a, no mínimo, duas diferentes linhas é:

- a) X
- b) M
- c) Y
- d) L

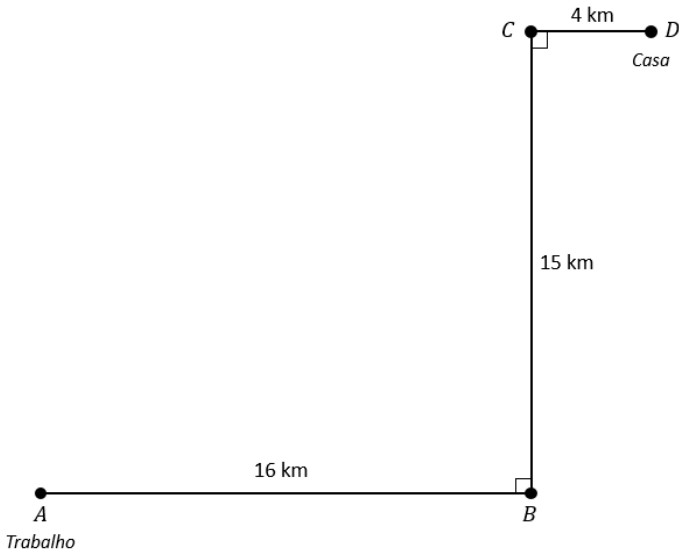
22) Considere a seguinte soma de números inteiros:

$$-20, -19, \dots + x = 90$$

Se a soma considera todos os números inteiros no intervalo de -20 a x , é CORRETO afirmar que o valor de x é:

- a) 94.
- b) 21.
- c) 24.
- d) 114.

23) A figura abaixo representa a rota que Daniel faz diariamente, ao fim do dia, de seu trabalho à sua casa. Ele percorre 16 km de A para B, 15 km de B para C e 4 km de C para D.



Se fosse possível para Daniel percorrer seu trajeto de A para B diretamente, qual a distância, em quilômetros, que ele encurtaria em seu percurso?

- a) 5.
- b) 10.
- c) 8.
- d) 11.

24) Considere quatro variáveis: x , y , k e n , variáveis pertencentes aos conjuntos dos números naturais, que satisfazem as seguintes relações:

$$x^{-\frac{4}{3}} = k^{-2}$$

$$y^{\frac{4}{3}} = n^2$$

É CORRETO afirmar que a expressão

$$(xy)^{-\frac{2}{3}}$$

em termos de n e k pode ser escrita como:

- a) $1/nk$
- b) n/k
- c) k/n
- d) nk

25) Considere um conjunto A que contém todos os números inteiros entre 1 e 100, incluindo os números extremos, ou ainda:

$$A = 1, 2, 3, \dots, 100$$

É CORRETO afirmar com relação ao conjunto A , que a quantidade de números que não são a potência quadrada de outro número dentro do conjunto é:

- a) 10.
- b) 89.

- c) 50.
- d) 90.

26) Se x é um número inteiro maior que 1 e se $y = x + \frac{1}{x}$, considere as seguintes proposições:

- I. $y \neq x$.
- II. y é um número inteiro.
- III. $xy > x^2$.

Das proposições acima, é CORRETO afirmar que:

- a) Apenas as proposições I e III são verdadeiras.
- b) Apenas as proposições I e II são verdadeiras.
- c) Apenas a proposição I é verdadeira;
- d) Todas as proposições são verdadeiras.

27) Nas oscilações de preço de mercado, Caio primeiramente aumentou o preço de um aparelho celular em 10% e então, em uma semana de promoção, diminuiu o preço em 25%.

É CORRETO afirmar que o preço final, em porcentagem, em relação ao preço inicial foi de:

- a) 80%
- b) 82,5%
- c) 87,5%
- d) 78%

28) Os comprimentos dos lados de um triângulo retângulo são números inteiros pares e consecutivos. O comprimento do menor lado do triângulo é x .

Dessa forma, é CORRETO afirmar que uma equação que pode ser utilizada para encontrar o valor de x é:

- a) $x^2 + (x + 2)^2 = (x + 4)^2$
- b) $x + (x + 2) = (x + 4)$
- c) $x^2 = (x + 2)(x + 4)$
- d) $x + 2 = x + (x + 1)$

29) Quando o número k é multiplicado por 4, o resultado é o mesmo que 4 adicionado a k . Dessa forma, é CORRETO afirmar que o valor de $3k$ é:

- a) $3/4$.
- b) 3.
- c) 4.
- d) $4/3$.

30) Considere duas tubulações, A e B respectivamente. A tubulação A tem um diâmetro de 200 cm e a tubulação B , de 600 cm. É CORRETO afirmar que a razão entre a área da seção transversal da tubulação de maior raio para a tubulação de menor raio é de:

- a) 2:6.
- b) 3:1.
- c) 9:1.
- d) 1:3.

31) Descrevendo m como minutos e s como segundos, é CORRETO afirmar que uma quantia de m minutos e s segundos, possui:

- a) $(60m + s)$ segundos.
- b) $(m + 60s)$ segundos.
- c) $60(m + s)$ segundos.
- d) $(\frac{m}{60} + s)$ segundos.

32) Se $m(2x + 3)(x - 1) = 0$ e $x > 1$, é CORRETO afirmar que o valor de m é:

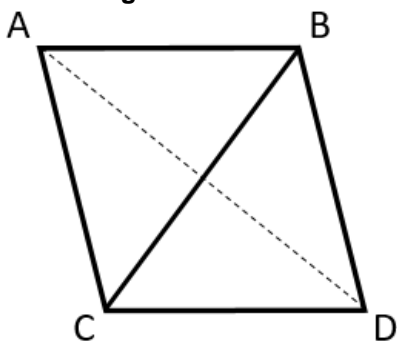
- a) 2.

- b) 0.
- c) $-3/2$.
- d) $2/3$.

33) O custo da manutenção de um veículo aumentará 10% a cada ano e João pagou R\$ 300 este ano (ano "zero") para consertar seu carro. Se o custo c para manutenção do carro de João para n anos é dado pela função $c(n) = 300x^n$, é CORRETO afirmar que o valor de x é de:

- a) 0,1.
- b) 1,3.
- c) 1,1.
- d) 0,3.

34) As cinco linhas contínuas na figura abaixo são todas congruentes.



É CORRETO afirmar que razão do comprimento do segmento \overline{AC} (linha tracejada) com relação ao comprimento do segmento \overline{BD} é:

- a) $\sqrt{3}$ para 1.
- b) $\sqrt{2}$ para 1.
- c) $\sqrt{3}$ para 2.
- d) $\sqrt{3}$ para $\sqrt{2}$.

35) Um corredor tinha ganho x corridas ganhas até certo ano, depois de um tempo ele triplicou o número de corridas ganhas e acabou se machucando. Voltou um tempo depois, e ganhou mais quatro corridas antes de se aposentar. Se esse corredor se aposentou com 19 corridas ganhas, qual o valor de x ?

- a) 5
- b) 12
- c) 7
- d) Nenhuma das alternativas

36) Considere dois números: a e b . Sabe-se que a é divisível por 3 e b é divisível por 7. Avalie as proposições abaixo, considere quais são divisíveis por 21 e, em seguida, assinale a alternativa CORRETA:

- I. xy .
- II. $3x + 7y$.
- III. $7x + 3y$.

- a) Está correta somente a proposições II.
- b) Está correta somente as proposições I.
- c) Estão corretas somente as proposições I e II.
- d) Estão corretas somente as proposições I e III.

CONHECIMENTOS ESPECIFICOS

37) O trabalho acadêmico denominado o papel do controle interno na administração pública, elaborado por Pedro Gabriel Kenne da Silva, apresenta alguns

itens que são considerados componentes do controle interno, a exceção do(a):

- a) Métodos e medidas.
- b) Proteção do patrimônio.
- c) Eficiência operacional.
- d) Políticas financeiras.

38) Assinale a alternativa CORRETA a respeito da atividade que compreende os exames, análises, avaliações, levantamentos e comprovações, metodologicamente estruturados para a avaliação da integridade, adequação, eficácia, eficiência e economicidade dos processos, dos sistemas de informações e de controles internos integrados ao ambiente, e de gerenciamento de riscos, com vistas a assistir à administração da entidade no cumprimento de seus objetivos.

- a) Auditoria interna.
- b) Auditoria independente.
- c) Fiscalização interna.
- d) Auditoria mista.

39) A fiscalização que se ocupa em verificar se a administração dos recursos financeiros está sendo realizada de acordo com as normas e princípios da administração pública, não só com relação a arrecadação, gerenciamento e aplicação dos recursos, como em relação a regularidade das renúncias de receitas e concessões de auxílios e subvenções refere-se à fiscalização:

- a) Contábil.
- b) Financeira.
- c) Orçamentária.
- d) Operacional.

40) Considerando um Município de 150.000 habitantes, o limite de repasse constitucionalmente permitido, relativo ao total da receita municipal (que compreende o total das receitas tributárias, somadas às transferências dispostas nos arts. 153, § 5º, 158 e 159 da Constituição) efetivamente realizada no exercício anterior, para a despesa total do Poder Legislativo Municipal, será de:

- a) 4% do total da receita municipal, incluídos na despesa os subsídios dos Vereadores e excluídos os gastos com inativos.
- b) 6% do total da receita municipal, excluídos da despesa os subsídios dos Vereadores e incluídos os gastos com inativos.
- c) 5% do total da receita municipal, incluídos na despesa os subsídios dos Vereadores e os gastos com inativos.
- d) 6% do total da receita municipal, incluídos na despesa os subsídios dos Vereadores e excluídos os gastos com inativos.

41) Considerando a situação hipotética em que seja efetuado repasse acima do constitucionalmente permitido, relativo ao total da receita municipal, para a despesa total do Poder Legislativo Municipal, tal fato implicará em:

- a) Crime de responsabilidade do Presidente da Câmara Municipal.
- b) Crime de improbidade administrativa do Prefeito Municipal.
- c) Crime de responsabilidade do Prefeito Municipal.
- d) Crime de responsabilidade da Câmara Municipal.

42) As despesas orçamentárias com dívida pública mobiliária e com a aquisição de software correspondem, respectivamente, ao grupo de despesa:

- a) Pessoal e encargos sociais; outras despesas correntes.
- b) Outras despesas correntes; juros e encargos da dívida.
- c) Amortização da dívida; investimentos.
- d) Juros e encargos da dívida; investimentos.

43) A receita proveniente da operação de crédito e a proveniente de depósito em caução, são, respectivamente, exemplos de:

- a) Receita corrente e receita de capital.
- b) Receita de capital e receita extraorçamentária.
- c) Receita de capital e receita corrente.
- d) Receita corrente e receita de serviços.

44) Constituem modalidade de dívida pública flutuante:

- a) Empréstimos compulsórios.
- b) Contribuições.
- c) Compromissos de exigibilidade superior a doze meses.
- d) Resíduos passivos.

45) Observe as informações a seguir referentes à aquisição de material de consumo por uma determinada entidade pública:

I- 06/05/2018: nota de empenho emitida da despesa referente à aquisição do material no valor de R\$ 5.000,00.

II- 23/05/2018: entrega do material pelo fornecedor.

III- 24/05/2018: o Gestor da Entidade confrontou o contrato administrativo assinado com o fornecedor, a referida nota de empenho e os comprovantes da entrega do material.

IV- 28/05/2018: pagamento da despesa pelo valor total empenhado.

V- 15/06/2018: utilização de todo o material adquirido.

Considerando o disposto no MCASP, no dia 24 de maio de 2018, ocorreu o estágio da despesa orçamentária denominado:

- a) Dotação.
- b) Lançamento.
- c) Empenho.
- d) Liquidação.

46) O Plano de Contas Aplicado ao Setor Público (PCASP) é a estrutura básica da escrituração contábil, organizada na forma de sistemas de informações. Sobre o tema, analise os itens a seguir:

I- As contas de controle evidenciam os fatos financeiros e não financeiros;

II- O plano de contas é dividido em oito grupos de contas, classificadas de acordo com os seguintes aspectos de informação: orçamentária, patrimonial e controle;

III- Caracterizam a natureza da informação orçamentária o registro da previsão adicional de receita originada de anulação de recursos.

Dos itens acima:

- a) Apenas o item III está correto.
- b) Apenas os itens I e III estão corretos.
- c) Apenas os itens II e III estão corretos.
- d) Todos os itens estão corretos.

47) Restos a pagar são as despesas empenhadas, mas não pagas no exercício. Quando estas despesas

empenhadas já tiverem ocorrido o fato gerador, mas que ao término do exercício ainda não tinham sido totalmente liquidadas, serão classificadas como:

- a) Não processados a liquidar.
- b) Não processados em liquidação.
- c) Não processados liquidados.
- d) Processados em liquidação.

48) Em uma determinada autarquia foram registrados os seguintes eventos, em R\$:

- Lançamento de imposto: 91.000

- Arrecadação de imposto: 78.000

- Compra de bens móveis à vista com recebimento imediato: 19.000

- Empenho, liquidação e pagamento de folha de pessoal: 17.000

- Empenho e liquidação de despesas com luz e telefone: 7.000

Considerando as informações acima, o resultado orçamentário vai indicar:

a) Superávit financeiro de R\$ 35 mil.

b) Resultado patrimonial positivo de R\$ 35 mil.

c) Resultado financeiro de R\$ 56 mil.

d) Superávit orçamentário de R\$ 35 mil.

49) Com relação ao balanço financeiro, é CORRETO afirmar que:

a) Evidencia as receitas e despesas orçamentárias, bem como os ingressos e dispêndios extraorçamentários, conjugados com os saldos de caixa do exercício anterior e os que se transferem para o início do exercício seguinte.

b) Evidencia as receitas e despesas patrimoniais, conjugados com os saldos de caixa do exercício anterior e os que se transferem para o início do exercício seguinte.

c) Evidencia apenas os recebimentos e os pagamentos de natureza extraorçamentária, conjugados com os saldos em espécie provenientes do exercício anterior, e os que se transferem para o exercício seguinte.

d) Evidencia as receitas e despesas financeiras, conjugados com os saldos de caixa do exercício anterior e os que se transferem para o fim do exercício seguinte.

50) Segundo as características do PCASP, os benefícios previdenciários e assistenciais pertencem à natureza de informação:

a) Patrimonial.

b) De controle.

c) Financeira.

d) Orçamentária.

51) Considerando o PCASP, o “Ativo Circulante” e o “Patrimônio Líquido” são, respectivamente, um:

a) Grupo da classe Ativo e um grupo da classe Passivo.

b) Grupo da classe Ativo e um subgrupo da classe Variações Patrimoniais.

c) Título da classe Ativo e um título da classe Passivo.

d) Subtítulo da classe Ativo e um subtítulo da classe Variações Patrimoniais.

52) Acerca da Demonstração das Variações Patrimoniais (DVP), analise:

I- A DVP complementa o Anexo de Metas Fiscais, integrante do Projeto de Lei de Diretrizes Orçamentárias (LDO);

II- O valor apurado no resultado patrimonial do período passa a compor o saldo patrimonial do Balanço Patrimonial do exercício;

III- Demonstrará as receitas e despesas orçamentárias e extra-orçamentárias.

Dos itens acima:

- a) Apenas o item II está correto.
- b) Apenas os itens I e II estão corretos.
- c) Apenas os itens II e III estão corretos.
- d) Todos os itens estão corretos.

53) Considerando o MCASP, a correta interpretação e classificação contábil deve levar em consideração o aspecto pretendido, que pode ser orçamentário, patrimonial e fiscal. É CORRETO afirmar que o Relatório de Gestão Fiscal (RGF) e o Relatório Resumido da Execução Orçamentária (RREO) representam os principais instrumentos para evidenciar o aspecto:

- a) Fiscal, para ambos.
- b) Fiscal e patrimonial, respectivamente.
- c) Patrimonial e fiscal, para ambos.
- d) Orçamentário e fiscal, para ambos.

54) Acerca dos poderes e deveres administrativos, é CORRETO afirmar que:

- a) O poder disciplinar não se confunde com o poder punitivo do Estado.
- b) Os atos normativos produzidos por órgãos públicos decorrem do poder regulamentar.
- c) O poder de polícia não tem relação com as normas de trânsito.
- d) O juízo de valor do agente público é admitido através do poder vinculado.

55) O aproveitamento de determinado ato administrativo nulo, substituindo-o para outra categoria, para que se aproveitem os efeitos já produzidos é denominado:

- a) Ratificação.
- b) Conversão.
- c) Caducidade.
- d) Contraposição.

56) Acerca da revogação e anulação dos atos administrativos, é CORRETO afirmar que:

- a) A revogação produz efeitos ex nunc.
- b) Os atos vinculados e discricionários são irrevogáveis.
- c) A revogação decorre da ilegalidade do ato.
- d) A anulação de ato administrativo dispensa a instauração de processo administrativo prévio.

57) A respeito das licitações e dos contratos administrativos, analise as afirmativas abaixo:

I- Entre as hipóteses de alteração unilateral pela Administração Pública estão as cláusulas econômico-financeiras dos contratos administrativos;

II- Nos casos de contratos que importem na entrega de bens pela Administração, dos quais o contratado ficará depositário, ao valor da garantia deverá ser acrescido o valor desses bens;

III- Caberá ao contratado optar por uma das modalidades de garantia prevista em lei, como por exemplo caução em dinheiro ou em títulos da dívida pública.

Dos itens acima:

- a) Apenas o item II está correto.
- b) Apenas os itens I e III estão corretos.
- c) Apenas os itens II e III estão corretos.
- d) Todos os itens estão corretos.

58) Assinale a alternativa em indica o ato da Administração que atribui ao vencedor da licitação o seu objeto:

- a) Adjudicação compulsória.
- b) Habilitação do licitante.
- c) Julgamento objetivo da licitação.
- d) Vinculação ao instrumento convocatório.

59) A construção, a ampliação, a reforma e o aprimoramento de estabelecimentos penais, desde que configurada situação de grave e iminente risco à segurança pública configura hipótese de:

- a) Inexigibilidade de licitação.
- b) Licitação dispensada.
- c) Dispensa de licitação.
- d) Licitação deserta.