



SETEC – SERVIÇOS TÉCNICOS GERAIS
AUTARQUIA DA PREFEITURA MUNICIPAL DE CAMPINAS

ESTADO DE SÃO PAULO

CONCURSO PÚBLICO
EDITAL Nº 01/2020

302 – ENGENHEIRO CIVIL

NOME DO CANDIDATO

NÚMERO DE INSCRIÇÃO

- VOCÊ RECEBEU SUA FOLHA DE RESPOSTAS E ESTE CADERNO CONTENDO **40** QUESTÕES OBJETIVAS.
- VERIFIQUE SE ESTE CADERNO CORRESPONDE AO CARGO QUE VOCÊ SE INSCREVEU, HAVENDO DIVERGÊNCIA, INFORME IMEDIATAMENTE AO FISCAL DA SALA. NÃO SERÃO ACEITAS RECLAMAÇÕES POSTERIORES.
- VERIFIQUE SE O CONTEÚDO DESTES CADERNO ENCONTRA-SE COMPLETO E LEGÍVEL, HAVENDO DIVERGÊNCIA, INFORME IMEDIATAMENTE AO FISCAL DA SALA. NÃO SERÃO ACEITAS RECLAMAÇÕES POSTERIORES.
- PREENCHA COM SEU NOME E NÚMERO DE INSCRIÇÃO OS ESPAÇOS RESERVADOS NA CAPA DESTES CADERNO.
- LEIA CUIDADOSAMENTE AS QUESTÕES E ESCOLHA A RESPOSTA QUE VOCÊ CONSIDERA CORRETA.
- RESPONDA A TODAS AS QUESTÕES.
- TRANSCREVA PARA A FOLHA DE RESPOSTAS COM CANETA DE TINTA AZUL OU PRETA.
- A DURAÇÃO DA PROVA É DE **3 HORAS**.
- A SAÍDA DO CANDIDATO DO PRÉDIO SERÁ PERMITIDA APÓS TRANSCORRIDO O TEMPO MÍNIMO ESTABELECIDO NO EDITAL DO CONCURSO PÚBLICO.
- AO SAIR, VOCÊ ENTREGARÁ AO FISCAL A FOLHA DE RESPOSTAS.

**É EXPRESSAMENTE PROIBIDO O USO DE CELULAR E OUTROS APARELHOS ELETRÔNICOS
NAS DEPENDÊNCIAS DO LOCAL DE PROVA**

AGUARDE A ORDEM DO FISCAL PARA ABRIR ESTE CADERNO DE QUESTÕES

LÍNGUA PORTUGUESA

Leia o texto abaixo para responder às questões de 1 a 7.

Gente chata essa que quer ser séria, profunda e visceral sempre. A vida já é um caos, e por que fazemos dela, ainda por cima, um tratado? Deixe a seriedade para as horas em que ela é inevitável: mortes, separações, dores e afins. No dia a dia, pelo amor de Deus, seja idiota! Ria dos próprios defeitos, e de quem acha defeitos em você. Ignore o que o boçal do seu chefe disse.

Pense assim: quem tem que carregar aquela cara feia, todos os dias, inseparavelmente é ele, pobre dele! Milhares de casamentos acabaram-se não pela falta de amor, dinheiro, sexo, sincronia, mas pela ausência de idiotice. Trate seu amor como seu melhor amigo, e ponto. Quem disse que é bom dividirmos a vida com alguém que tem conselhos para tudo, soluções sensatas, mas não consegue rir quando tropeça?

Alguém que sabe resolver uma crise familiar, mas não tem a menor ideia de como preencher as horas livres de um fim de semana? Quanto tempo faz que você não vai ao cinema? É bem comum gente que fica perdida quando acabam os problemas. E daí, o que elas farão se já não têm porque se desesperar? Desaprenderam a brincar. Eu não quero alguém assim comigo. Você quer? Espero que não. Tudo o que é mais difícil é mais gostoso, mas ... a realidade já é dura, piora se for densa. Dura, densa e bem ruim.

Acorde de manhã e decida entre duas coisas: ficar de mau humor e transmitir isso adiante ou sorrir ... Bom mesmo é ter problema na cabeça, sorriso na boca e paz no coração! Aliás, entregue os problemas nas mãos de Deus e que tal um cafezinho gostoso agora? A vida é uma peça de teatro que não permite ensaios, por isso, cante, chore, dance e viva intensamente antes que a cortina se feche.

(JABOR, Arnaldo. A idiotice é vital para a felicidade. Adaptado).

1. De acordo com o texto, a “pessoa idiota” é aquela que
- (A) cultivava certas amenidades que tornam a vida mais leve, buscando, à medida do possível, enfrentá-la com humor.
 - (B) procura superar as suas deficiências, movida pela esperança de que isto a tornará melhor.
 - (C) é conciliadora, capaz de pacificar todas as crises da forma mais sensata possível.
 - (D) procura compreender as coisas numa dimensão mais ampla, desdenhando das futilidades pouco edificantes.

2. De acordo com a redação do último parágrafo, a vida seria melhor se
- (A) praticássemos uma religião que nos levasse a desdenhar de nossos conflitos existenciais.
 - (B) diante da ideia de nossa finitude experimentássemos todas as possibilidades que ela nos oferece.
 - (C) fosse idêntica a uma peça teatral, pois assim nosso sofrimento não passaria de uma ficção.
 - (D) não houvesse dificuldades e não fôssemos obrigados a decidir como enfrentá-las.

3. “... alguém que tem conselho para tudo, soluções sensatas, **‘mas’** não consegue rir quando tropeça?”

O termo destacado desempenha a função de conjunção

- (A) explicativa.
- (B) causal.
- (C) concessiva.
- (D) adversativa.

4. Assinale a alternativa cuja frase apresenta uma palavra com sentido figurado.

- (A) A vida é uma peça de teatro que não permite ensaios.
- (B) E daí, o que elas farão se já não têm porque se desesperar?
- (C) Tudo que é mais difícil é mais gostoso.
- (D) É bem comum gente que fica perdida quando acabam os problemas.

5. “Deixe a **‘seriedade’** para as horas em que ela é **‘inevitável’**”.

“Cante, chore, dance e viva **‘intensamente’** antes que a cortina se feche”.

Assinale a alternativa cujas palavras substituam, respectivamente, os termos acima destacados, conservando o mesmo sentido.

- (A) Sobriedade / inadiável / exiguamente.
- (B) Indiferença / incontestável / profundamente.
- (C) Serenidade / escusável / copiosamente.
- (D) Sensatez / irremediável / demasiadamente.

6. As frases abaixo são transcrições livres do texto. De acordo com a norma-padrão da Língua Portuguesa e quanto à pontuação, assinale a alternativa correta.

- (A) As pessoas deixaram de brincar, pois, tornaram a vida muito séria.
- (B) O cotidiano de nossas vidas, já é áspero e duro demais.
- (C) Se os problemas acabarem, elas se sentirão perdidas.
- (D) Parece que, quanto mais séria for a vida tanto mais chata ela será.

7. Assinale a alternativa cujo uso pronominal entre parênteses substitui, de acordo com a norma-padrão da Língua Portuguesa, o termo destacado.

- (A) Quem disse que é bom **“dividirmos a vida”** com alguém que tem conselho para tudo. (dividirmo-la)
- (B) Aliás, **“entregue os problemas”** nas mãos de Deus. (lhes entregue)
- (C) Gente que fica perdida quando **“acabam os problemas”**. (acabam-lhes)
- (D) **“Deixe a seriedade”** para as horas em que ele é inevitável. (Deixe-na)

8. De acordo com a norma-padrão da Língua Portuguesa e quanto ao uso da crase, assinale a alternativa correta.

- (A) Peço à Vossa Senhoria que considere minha decisão.
- (B) O assunto à ser tratado exigia a maior urgência.
- (C) Por não saber o endereço, foi de uma rua à outra do bairro.
- (D) O paciente será submetido hoje à cirurgia no pâncreas.

9. “Os rapazes acompanhavam o pai”.

A construção verbal que corresponde à voz passiva da frase acima é

- (A) “estavam acompanhando”.
- (B) “acompanhava”.
- (C) “vinha acompanhado”.
- (D) “teria acompanhado”.

10. De acordo com a norma-padrão da Língua Portuguesa e quanto à regência, assinale a alternativa correta.

- (A) Poucos subalternos obedeciam o novo patrão.
- (B) Quando adolescente, ele preferia os esportes aos estudos.
- (C) Livro: o presente que todos gostam.
- (D) Agora que você viu o anúncio, assista o filme.

ATUALIDADES

11. No final de abril, o governo húngaro transferiu 11 universidades estatais para fundações ligadas a aliados do premiê. A manobra, que atinge 70% dos estudantes universitários do país, é vista como uma tentativa de

- (A) diminuir a crise econômica que atingiu as universidades durante a pandemia.
- (B) incentivar a carreira política aos mais jovens.
- (C) controlar o ensino, a pesquisa e o debate público.
- (D) enfraquecer o atual governo.

12. Aneel reajusta bandeira vermelha em 52% na conta de luz de julho.

(Folha de S. Paulo).

Sobre o assunto, analise as proposições abaixo.

- I. O sistema de bandeiras reflete a situação do sistema elétrico ainda muito dependente das hidrelétricas, que hoje se ressentem da pior seca dos últimos anos.
- II. O reajuste é menor do que proposta da área técnica; diferença será repassada na tarifa do ano que vem.
- III. O maior reajuste (52%) foi na bandeira vermelha nível 2.

É correto o que se afirma em

- (A) I e II, apenas.
- (B) I e III, apenas.
- (C) II e III, apenas.
- (D) I, II e III.

13. No fim de junho, centenas de pessoas morreram repentinamente no Oeste do Canadá, em meio a uma onda de calor sem precedentes na América do Norte.

(Folha de S. Paulo).

Sobre o assunto, é correto afirmar que

- (A) cidades abriram "centros de resfriamento" e suspenderam as campanhas de vacinação contra a Covid-19.
- (B) crianças e jovens são a maioria das vítimas.
- (C) outro país igualmente atingido foi o México.
- (D) apesar de alta, a temperatura não atingiu o recorde histórico de calor no Brasil, que é 45 °C.

14. No dia 2 de julho, um incêndio no Golfo do México foi provocado pelo vazamento em oleodutos submarinos da

- (A) Petrobras.
- (B) companhia petrolífera privada da China, sediada em Buenos Aires.
- (C) maior empresa petrolífera da Colômbia.
- (D) companhia estatal mexicana de petróleo.

15. Após acordo de indenização, navio que bloqueou Canal de Suez será liberado. Cargueiro estava estacionado em um lago do Egito enquanto o entrave judicial não era resolvido.

(Portal G1).

Sobre o assunto, assinale a alternativa **INCORRETA**.

- (A) O cargueiro encalhou e bloqueou o Canal de Suez por seis dias em março. O impacto foi sentido no mundo inteiro.
- (B) A embarcação não mais voltará a circular.
- (C) O bloqueio fez com que demais navios não conseguissem passar, o comércio internacional ficou comprometido, e até o preço do barril do petróleo sofreu mudanças.
- (D) A embarcação bloqueou uma importante via de comércio internacional e gerou prejuízos de milhões de dólares.

NOÇÕES DE INFORMÁTICA









16. São dispositivos físicos de armazenamento de dados:

- I. Pasta de Rede.
- II. DVD-RW.
- III. Pen-drive.
- IV. E-mail.
- V. Disco Rígido.

É correto o que se afirma, apenas, em

- (A) II e IV.
- (B) III e V.
- (C) I, II e IV.
- (D) II, III e IV.

Analise a tabela abaixo para responder à questão 17.

Nome	Data de modificação
 VAGAS 02-03-20(A).doc	03/03/2020 08:42
 VAGAS 02-03-20(B).pdf	03/03/2020 08:42
 VAGAS 05-02-20(A).doc	10/02/2020 10:36
 VAGAS 05-02-20(B).pdf	10/02/2020 10:36
 VAGAS 13-02-20(A).doc	14/02/2020 10:09
 VAGAS 13-02-20(B).pdf	14/02/2020 10:09
 VAGAS 18-02-20(A).doc	20/02/2020 09:41
 VAGAS 18-02-20(B).pdf	20/02/2020 09:41

17. Considerando que o usuário clicou com o botão esquerdo do mouse sobre o arquivo VAGAS 02-03-20(A).doc. e, mantendo a tecla CTRL do teclado padrão selecionada, clicou com o botão esquerdo do mouse sobre o arquivo VAGAS 18-02-20(A).doc., a quantidade de itens que serão selecionados, nessa operação, é

- (A) 7.
- (B) 4.
- (C) 2.
- (D) 1.

18. Assinale a alternativa que apresenta um mecanismo de controle que visa garantir a integridade de uma informação.

- (A) Backup.
- (B) Certificado digital.
- (C) Senha.
- (D) Phishing.

19. Sobre o navegador Internet Explorer 11, assinale a alternativa correta.

- (A) O recurso bloqueador de Pop-ups evita que o usuário acesse sites potencialmente suspeitos, com risco de ter seu computador invadido por ataques cibernéticos.
- (B) O usuário tem um número limitado de sites para adicionar à Barra de Favoritos do navegador, com o objetivo de acessá-los mais rapidamente.
- (C) O usuário consegue especificar por quantos dias o navegador deve salvar a lista de sites visitados no histórico, acessando o recurso em Opções da Internet, Guia Geral, botão configurações, em histórico de navegação, guia histórico.
- (D) A exclusão do histórico de navegação também exclui os downloads realizados no computador, feitos por meio do Internet Explorer.

Analise a planilha abaixo para responder à questão 20.

	A	B	C	D
1	NOME	SOBRENOME	IDADE	CARGO
2	Ana	Simões	23	Recepcionista
3	Júlia	Garcia	33	Assistente
4	Pedro	Machado	28	Auxiliar
5	Gabriela	Alvez	35	Assistente
6	Carlos	Bastos	45	Diretor
7	Mariana	Souza	44	Gerente
8				
9				
10	RESULTADO	Gabriela Alvez - Assistente		

20. A planilha elaborada no Microsoft Office Excel 2016 utiliza alguns recursos, além da função de texto CONCATENAR, que serve para unir duas ou mais cadeias (células) de texto em uma única cadeia. Desse modo, assinale a alternativa que apresenta a fórmula utilizada para obter o resultado na célula B10.

- (A) =CONCATENAR(A5; " ";B5; " - ";D5)
- (B) =CONCATENAR(A5:B5; " - ";D5)
- (C) =CONCATENAR(A5; "&";B5; " - ";D5)
- (D) =CONCATENAR(A5;B5, " - ",D5)

CONHECIMENTOS ESPECÍFICOS

21. Os resíduos de construção, demolição, reformas e reparos de pavimentação e de outras obras de infraestrutura, inclusive, solos provenientes de terraplanagem são classificados como resíduos

- (A) reutilizáveis ou recicláveis como agregados – Classe A.
- (B) recicláveis para outras destinações – Classe B.
- (C) para os quais não foram desenvolvidas tecnologias ou aplicações economicamente viáveis que permitam a sua reciclagem e recuperação – Classe C.
- (D) perigosos oriundos do processo de construção – Classe D.

22. Na elaboração e desenvolvimento de serviços técnicos especializados de projetos arquitetônicos e urbanísticos, o conjunto sistematizado de necessidades humanas, socioambientais e funcionais do contratante, objetivando a materialização do projeto, denomina-se

- (A) plano de massas.
- (B) programa geral de necessidades.
- (C) preservação.
- (D) padronização.

23. Nos projetos de estruturas de concreto, a durabilidade das estruturas é altamente dependente das características do concreto e da espessura e qualidade do concreto do cobrimento da armadura. Para garantir o cobrimento mínimo da armadura (C_{min}), o projeto e a execução devem considerar o cobrimento nominal (C_{nom}), que é o cobrimento mínimo acrescido da tolerância de execução (Δc). Assim, as dimensões das armaduras e os espaçadores devem respeitar os cobrimentos nominais estabelecidos em norma. Nas obras correntes, o valor da tolerância de execução (Δc) deve ser maior ou igual a

- (A) 2 mm.
- (B) 4 mm.
- (C) 10 mm.
- (D) 50 mm.

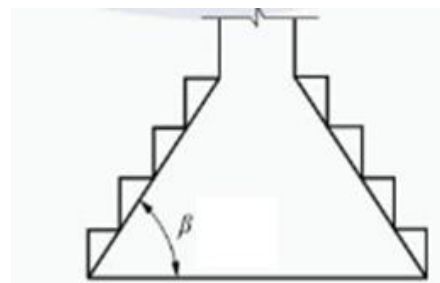
24. Nos projetos de estruturas de concreto, todas as barras das armaduras devem ser ancoradas de forma que as forças a que estejam submetidas sejam integralmente transmitidas ao concreto, seja por meio de aderência ou de dispositivos mecânicos ou por combinação de ambos. Com exceção das regiões situadas sobre apoios diretos, as ancoragens por aderência devem ser confinadas por armaduras transversais ou pelo próprio concreto, considerando-se este caso quando o cobrimento da barra ancorada for maior ou igual a _____ e a distância entre barras ancoradas for maior ou igual a _____.

Observação: onde ϕ corresponde ao diâmetro das barras da armadura.

Assinale a alternativa que preenche correta e respectivamente as lacunas.

- (A) $2 \phi / 3 \phi$
- (B) $3 \phi / 3 \phi$
- (C) $3 \phi / 6 \phi$
- (D) $4 \phi / 6 \phi$

Analise a figura abaixo para responder à questão 25.



25. Os blocos de fundação devem ser dimensionados de tal maneira que o ângulo β indicado na figura seja maior ou igual a

- (A) 30.
- (B) 45.
- (C) 52.
- (D) 60.

26. Enquanto não atingir endurecimento satisfatório, o concreto deve ser curado e protegido contra agentes prejudiciais. Elementos estruturais de superfície devem ser curados até que atinjam resistência característica à compressão (f_{ck}) igual ou maior que

- (A) 10 MPa.
- (B) 12 MPa.
- (C) 15 MPa
- (D) 20 MPa.

27. Analise o resultado de uma prova de carga sobre placa a seguir.

Pressão (MPa)	Recalque (mm)
0,12	5
0,20	10
0,30	15
0,45	20
0,56	25
0,62	30
0,75	40

Dados:

- Desprezar o efeito do tamanho da fundação;
- Admitir solo com predominância de ruptura local.

Onde: σ_{25} : tensão responsável por ocasionar um recalque de 25 mm no solo e σ_{10} : tensão responsável por ocasionar um recalque de 10 mm no solo.

A tensão admissível de uma fundação direta a partir do resultado da prova de carga sobre placa é, em MPa,

- (A) 0,75.
- (B) 0,56.
- (C) 0,28.
- (D) 0,20.

28. Sobre os requisitos para projeto, execução, operação e manutenção de sistemas prediais de água fria e água quente (SPAFAQ), a vazão a considerar no abastecimento do reservatório deve ser suficiente para a reposição total do volume destinado ao consumo diário de água em até _____ horas. No caso de residências unifamiliares, o tempo de reposição deve ser de até _____ horas.

Assinale a alternativa que preenche correta e respectivamente as lacunas.

- (A) 4 / 2
- (B) 6 / 3
- (C) 7 / 4
- (D) 8 / 4

29. Na elaboração de projeto hidráulico-sanitário de redes coletoras de esgoto sanitário, funcionando em lâmina livre, a tubulação que recebe esgoto, exclusivamente, na extremidade de montante, denomina-se

- (A) caixa de passagem.
- (B) sifão invertido.
- (C) coletor tronco.
- (D) emissário.

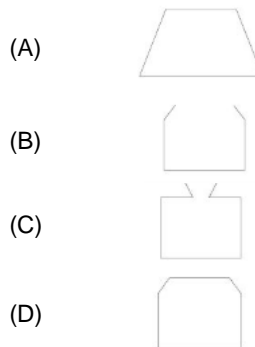
30. Nos projetos de redes de distribuição interna para gases combustíveis em instalações residenciais, a válvula projetada para reduzir rapidamente a pressão, a jusante dela, quando tal pressão excede o valor máximo estabelecido, denomina-se válvula de

- (A) alívio.
- (B) bloqueio automática.
- (C) bloqueio manual.
- (D) descompressão.

31. Nos projetos de proteção contra incêndio nas áreas de arquitetura, engenharia, construção e áreas correlatas, o dispositivo hidráulico manual, destinado a interromper o fluxo de água das instalações hidráulicas de combate a incêndio em edificações, denomina-se

- (A) hidrante de coluna.
- (B) válvula de retenção.
- (C) registro de recalque.
- (D) registro de paragem.

32. Nos projetos de proteção contra incêndio nas áreas de arquitetura, engenharia, construção e áreas correlatas, o símbolo utilizado e, especificado em norma técnica para o dispositivo de alarme de incêndio, é



33. Considerando os requisitos para iluminação de vias públicas, propiciando segurança aos tráfegos de pedestres e de veículos, entende-se por avanço a

- (A) descrição, em forma de diagrama, da distribuição espacial das intensidades luminosas de uma luminária.
- (B) distância transversal entre o meio-fio ou acostamento da rodovia e a projeção do centro de luz aparente da luminária.
- (C) distância vertical entre a superfície da rodovia e o centro aparente da fonte de luz ou da luminária.
- (D) linha de intensidade traçada no plano perpendicular ao eixo longitudinal da rodovia e que contém a luminária.

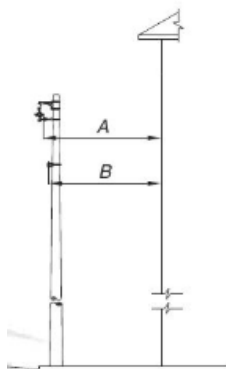
34. Para a execução de obras de esgoto sanitário e drenagem de águas pluviais utilizando tubos e aduelas de concreto, pode-se afirmar, sobre escoramento das escavações, que

- I. é obrigatório o escoramento de valas com profundidade superior a 1,25 m.
- II. as damas somente podem ser utilizadas em terrenos firmes e intercaladas de 3 m a 5 m e podem ter, no máximo, 1,00 m de comprimento.
- III. a ficha de escoramento deve ser de, pelo menos, 7/10 da largura da vala, com um mínimo de 0,50 m.

É correto o que se afirma em

- (A) I, apenas.
- (B) I e II, apenas.
- (C) II e III, apenas.
- (D) I, II e III.

Analisar a figura abaixo sobre os afastamentos horizontais mínimos apresentados em norma para condutores das redes primária e secundária de distribuição aérea de energia elétrica com cabos cobertos fixados em espaçadores para tensões até 36,2 kV e as paredes da edificação para responder à questão 35.



Afastamento horizontal entre os condutores e as paredes de edificações.

Dado: afastamentos mínimos relativos às partes energizadas e não ao ponto de fixação.

35. Para a rede de distribuição aérea de energia elétrica com tensão de 36,2 kV, os afastamentos horizontais mínimos (A) e (B), em milímetros, entre os condutores das redes primária e secundária, respectivamente, e as paredes da edificação são,

- (A) 2000 e 1300.
- (B) 1500 e 1000.
- (C) 1200 e 1000.
- (D) 1000 e 1000.

36. Sobre os procedimentos executivos das fundações rasas (direta ou superficial), analise as proposições abaixo.

- I. Para a escavação das cavas em solo, caso se utilizem equipamentos mecânicos, a profundidade de escavação com esses equipamentos deve ser paralisada a no mínimo 30 cm da cota de assentamento prevista, sendo a parcela final removida manualmente.
- II. Caso haja necessidade de aprofundar a cava da sapata, a diferença entre cota de assentamento prevista e cota "de obra" pode ser eliminada com preenchimento de concreto não estrutural até a cota prevista.
- III. O fundo da cava deve ser regularizado com lastro de concreto estrutural, em espessura máxima de 3,5 cm. A superfície final deve resultar plana e horizontal.

É correto o que se afirma em

- (A) I, apenas.
- (B) I e II, apenas.
- (C) II e III, apenas.
- (D) I, II e III.

37. Durante a realização de um desenho utilizando o programa AutoCAD®, foi necessário a construção de várias linhas com cantos arredondados. O comando que constrói POLYLINES com cantos arredondados, é denominado

- (A) SPLINE.
- (B) SKETCH.
- (C) CONSTRUCTION LINE.
- (D) RAY.

38. Considerando os requisitos para execução e controle de obras de alvenaria estrutural, sobre as especificações necessárias do graute, são considerados estruturais e aplicáveis à alvenaria grautes com resistência a partir de _____ MPa. A consistência de graute deve ser adequada para preencher todos os vazios sem que haja segregação. Caso seja utilizada cal, o teor não pode ser superior a _____% em volume em relação ao cimento. Os agregados devem ter dimensão inferior a _____ da menor dimensão dos vazados a serem preenchidos.

Assinale a alternativa que preenche correta e respectivamente as lacunas.

- (A) 5 / 8 / 1/4
- (B) 10 / 10 / 1/5
- (C) 15 / 10 / 1/4
- (D) 20 / 15 / 1/2

39. Sobre a avaliação de custos unitários de construção para incorporação imobiliária e outras disposições para condomínios edifícios, se para uma determinada área real coberta de 150 metros quadrados, estima-se que, em virtude de sensível melhora no padrão de acabamento, o custo unitário efetivo é cerca de 50% maior que o custo unitário básico adotado para as áreas cobertas-padrão do edifício considerado, a área equivalente (Se), em metros quadrados, corresponde a

- (A) 75.
- (B) 100.
- (C) 225.
- (D) 300.

40. Os núcleos urbanos informais existentes sem oposição há mais de _____ anos e cuja área total dividida pelo número de possuidores seja inferior a _____ metros quadrados, por possuidor, são suscetíveis de serem usucapidos coletivamente, desde que os possuidores não sejam proprietários de outro imóvel urbano ou rural.

Assinale a alternativa que preenche correta e respectivamente as lacunas.

- (A) cinco / duzentos e cinquenta
- (B) quatro / duzentos
- (C) três / trezentos e cinquenta
- (D) dois / cem