



**PREFEITURA MUNICIPAL DE SÃO JOÃO DA BOA VISTA**  
Estado de São Paulo

**AUXILIAR ADMINISTRATIVO**

CONCURSO PÚBLICO  
01/2018

**NÃO ABRA ESTE CADERNO DE QUESTÕES ANTES QUE LHE PEÇAM.  
AGUARDE AUTORIZAÇÃO PARA INICIAR A PROVA.**

- ♣ Desligue o celular e outros aparelhos.
- ♣ Este **Caderno de Questões** contém **30 (trinta) questões** da Prova do seu Cargo. Verifique se este caderno corresponde com a sua opção de inscrição.
- ♣ Procure responder as questões na ordem em que elas aparecem no **Caderno de Questões**. Responda a todas as questões.
- ♣ Os candidatos poderão levar consigo o caderno de questões restando 30 (trinta) minutos do término da prova.
- ♣ Você deve assinar a Folha de Respostas. Confira todos os seus dados e assine no campo indicado para assinatura.  
A não assinatura por parte do candidato na Folha de Respostas resultará na eliminação automática do mesmo.
- ♣ Para preenchimento da Folha de Respostas, utilize caneta esferográfica azul ou preta.
- ♣ Você deve assinalar na **Folha de Respostas** somente uma letra (alternativa) para cada questão.
- ♣ Preencha na Folha de Respostas, com caneta de tinta azul ou preta, a letra escolhida conforme o exemplo:  

--	--	--	--
- ♣ É vedado qualquer tipo de consulta e/ou comunicação durante a Prova.
- ♣ A prova terá duração de **2 horas**.  
O tempo mínimo de permanência na sala é de **1 hora**.
- ♣ Os três últimos candidatos sairão simultaneamente da sala. Havendo insistência por parte do candidato em sair da sala, este será considerado desistente do Concurso Público.
- ♣ Deixe sobre a carteira **apenas** RG, Caneta, Lápis e Borracha.
- ♣ Qualquer dúvida, fale exclusivamente com o fiscal de sala.

**BOA PROVA !**

## CONHECIMENTOS GERAIS

### CONHECIMENTO UNIVERSAL

?

01

"Alto Comissariado da ONU para Refugiados afirmou nesta sexta-feira, 6/4/18, que a cada dia 800 venezuelanos cruzam a fronteira em direção ao Brasil, num fluxo que não deve diminuir nos próximos meses. (...). A agência da ONU criticou a recente declaração do deputado e pré-candidato à presidência do país Jair Bolsonaro, que afirmou a intenção de criar campos de refugiados no norte do País para os venezuelanos caso fosse eleito. 'Criar campos de refugiados não é a melhor opção', disse William Spindler [porta-voz da Agência da ONU para Refugiados]. 'Na América do Sul, nunca tivemos campos de refugiados. Centenas de milhares de colombianos deixaram seu país em décadas e foram abrigados por comunidades. Essa é a tradição e esperamos que isso (criar campos de refugiados) não seja feito', completou o representante da ONU."

Fonte: *Jornal do Brasil* em 06/04/2018 Disponível em <<http://www.jb.com.br/internacional/noticias/2018/04/06/onu-diz-que-800-venezuelanos-cruzam-a-fronteira-para-o-brasil-por-dia/>>. Acesso em 09/04/2018.

Qual dos países não faz fronteira com o Brasil?

- (A) Guiana.
- (B) Equador.
- (C) Peru.
- (D) Suriname.

02

"Art. 37. A administração pública direta e indireta de qualquer dos Poderes da União, dos Estados, do Distrito Federal e dos Municípios obedecerá aos princípios de legalidade, impessoalidade, moralidade, publicidade e eficiência e, também, ao seguinte: I - os cargos, empregos e funções públicas são acessíveis aos brasileiros que preencham os requisitos estabelecidos em lei, assim como aos estrangeiros, na forma da lei; (...) XIX - somente por lei específica poderá ser criada autarquia e autorizada a instituição de empresa pública, de sociedade de economia mista e de fundação, cabendo à lei complementar, neste último caso, definir as áreas de sua atuação; (Redação dada pela Emenda Constitucional nº 19, de 1998) (...) XX - depende de autorização legislativa, em cada caso, a criação de subsidiárias das entidades mencionadas no inciso anterior, assim como a participação de qualquer delas em empresa privada."

Fonte: *Constituição da República Federativa do Brasil de 1988*.

Indique a alternativa que não apresenta uma autarquia:

- (A) Conselho Federal de Administração.
- (B) Petrobras.
- (C) Institutos Federais de Educação.
- (D) INSS.

03

" O desembargador Carlos Eduardo Moreira Alves tomou posse, nesta segunda-feira (16/4), como presidente do TRF da 1ª Região para o biênio 2018-2020, no lugar do desembargador Hilton Queiroz. Ele é filho do ministro Moreira Alves, ex-presidente e mais longo decano do STF. No discurso de

posse, o novo presidente do TRF-1 defendeu que a corte deveria ter mais magistrados. Disse ainda que o tribunal, que atente(sic) 14 estados, deveria ter mais servidores.

Fonte: *Consultor Jurídico* em 16/04/2018 Disponível em <<https://www.conjur.com.br/2018-abr-16/filho-ex-presidente-supremo-assume-presidencia-trf>>. Acesso em 20/04/2018.

O que significa a sigla TRF?

- (A) Tribunal Regional Forense.
- (B) Tribunal de Registro Federativo.
- (C) Tribunal de Recuperação Financeira.
- (D) Tribunal Regional Federal.

### LÍNGUA PORTUGUESA

?

04

Assinale a alternativa gramaticalmente correta:

- (A) Toda a estrutura social converge para a solução dos problemas administrativos. Não se tratam de ilusões ou de utopias. Tratam-se de posturas práticas e cotidianas.
- (B) Verdadeiramente, os cidadãos costumam a compreender as atitudes do administrador. Mas sempre existirá aqueles que a compreenderão.
- (C) Haverá de haver soluções para os problemas mais graves do município. Necessita-se, entretanto, de coragem para enfrentá-los.
- (D) Faziam, pelo menos, duas décadas que as enchentes não castigavam com tamanha força as áreas mais carentes do município. Bastavam, por outro lado, alguns gestos simples para que problemas maiores fossem evitados.

Texto para as questões de 05 a 07

**AS ATIVIDADES ADMINISTRATIVAS.** — Em seu sentido mais abrangente, a expressão Administração pública designa o conjunto das atividades diretamente destinadas à execução concreta das tarefas ou incumbências consideradas de interesse público ou comum, numa coletividade ou numa organização estatal.

Do ponto de vista da atividade, portanto, a noção de Administração pública corresponde a uma gama bastante ampla de ações que se reportam à coletividade estatal, compreendendo, de um lado, as atividades de Governo, relacionadas com os poderes de decisão e de comando, e as de auxílio imediato ao exercício do Governo mesmo e, de outra parte, os empreendimentos voltados para a consecução dos objetivos públicos, definidos por leis e por atos de Governo, seja através de normas jurídicas precisas, concernentes às atividades econômicas e sociais; seja por intermédio da intervenção no mundo real (trabalhos, serviços, etc.) ou de procedimentos técnico-materiais; ou, finalmente, por meio do controle da realização de tais finalidades (com exceção dos controles de caráter político e jurisdicional).

FONTE: *Dicionário de Política*: Norberto Bobbio, Nicola Matteucci e Gianfranco Pasquino: Ed. UNB

05

Em "(...)os empreendimentos voltados para a consecução dos objetivos públicos (...)", o termo em destaque poderia ser substituído, sem alteração

de sentido, e fazendo-se as adaptações necessárias, por:

- (A) Malogro.
- (B) Anulação.
- (C) Obtenção.
- (D) Superação.

**06**

O texto acima tem, por finalidade:

- (A) Conceituar o que é a administração pública.
- (B) Argumentar sobre o conceito de administração pública.
- (C) Exemplificar atos da administração pública.
- (D) Convencer o leitor sobre a importância da administração pública.

**07**

Segundo o texto, as ações da administração pública compreendem, dentre outras:

- (A) O poder de decisão e de anulação de atos do governo.
- (B) O poder de fiscalização dos atos legislativos.
- (C) O poder de decisão do governo e de ajuda ao exercício do próprio governo.
- (D) O poder de execução de empreendimentos, das normas jurídicas e das atividades econômicas do município.

**08**

Assinale a alternativa correta quanto à pontuação – todos os fragmentos foram retirados do verbete *Administração pública*, do Dicionário de política, de Norberto Bobbio, Nicola Matteucci e Gianfranco Pasquino, publicado pela UNB, edição de 1998, e alterados para os fins desta questão:

- (A) No momento em que a exigência da distribuição e coordenação do trabalho administrativo assumiu relevo e dimensões sempre crescentes no decorrer da experiência dos ordenamentos estatais modernos e contemporâneos, de tal modo que deu origem ao aparecimento e ao desenvolvimento de estruturas específicas, o termo Administração pública, do ângulo de seus destinatários, passou a indicar o complexo de estruturas que, conquanto se encontrem em posições de subordinação diferentes, em relação às estruturas políticas e de Governo, representam uma realidade organizativa distinta daquelas.
- (B) Para a maioria dos estudiosos, as estruturas administrativas representam mais do que tudo o traço característico dos Estados modernos e contemporâneos manifestando, quase fisicamente, sua presença no plano subjetivo, constitui característica normal dessas estruturas o fato de se lhe ter destinado um pessoal escolhido, por sua competência técnica, contratado profissionalmente e em caráter permanente (corpos burocráticos).
- (C) Entretanto faz-se mister esclarecer que a Administração pública não pode ser reduzida como às vezes ocorre, ao perfil de suas estruturas, de fato isso não permite explicar integralmente o fenômeno administrativo público, tal como ele se delinea, do ponto de vista histórico e comparado mormente se se tem em mente que nem sempre existiram

estruturas de tipo burocrático destinadas à execução de atividades administrativas e que, muitas vezes existe continuidade, ou identidade parcial entre as estruturas governativas e administrativas.

- (D) O exame do modo como se tem encarado, e procurado, resolver positivamente o problema administrativo, onde quer que se faça, com base nas três principais variáveis já lembradas que escondem, de certo modo, os elementos fundamentais do fenômeno administrativo público o elemento institucional, o organizativo e o funcional, permite individualizar diversos tipos de Administração pública tanto no decurso da evolução histórica como no confronto das diversas experiências nacionais.

Texto para as questões 09 e 10



FONTE: <http://linguistica2014.over-blog.com/2014/09/epistemologia-da-linguistica-epistemologia-do-grego-episteme-ciencia-logos-estudo-de-tambem-chamada-teoria-filosofia-do-conhecimento>

**09**

Na primeira fala de Calvin ("Antes eu odiava fazer os trabalhos da escola, mas agora gosto"), o termo em destaque estabelece ideia de:

- (A) Adição.
- (B) Conclusão.
- (C) Oposição.
- (D) Finalidade.

**10**

Para o personagem Calvin, a escrita:

- (A) É ferramenta para a comunicação clara e objetiva.
- (B) É capaz de transmitir ideias de maneira concisa e coerente.

- (C) É inútil, pois é incapaz de abordar a realidade tal qual esta é.
- (D) É usada com o objetivo de dificultar o acesso ao texto, a fim de dar conotações complexas a ideias simples.

**11**

**Assinale a alternativa correta quanto ao uso formal da linguagem:**

- (A) Vossa Senhoria, como autoridade deste departamento, deveria assumir as responsabilidades que te competem e que lhe dizem respeito.
- (B) Quanto aos documentos do almoxarifado, ainda não lhes solicitamos às autoridades determinadas pela coordenação desse nosso departamento.
- (C) Referente a diversas solicitações feitas, informo-lhes que todas as provas solicitadas concernentes à atuação deste departamento serão apresentadas em momento oportuno, conforme determinação da autoridade judicial.
- (D) Cabe-nos, entretanto, notificar-lhes de que o prazo estipulado para apresentação dos documentos nas diversas fases dos processos apresentados foram prorrogados por mais dez dias, a partir dessa data de hoje.

**MATEMÁTICA**

?

**12**

Um pássaro está sobre um poste de 0,5 m e voa até o solo em uma trajetória de 1300 cm. Se fosse construído um triângulo com as dimensões do poste, do voo do pássaro e da distância entre o poste e o local onde o pássaro pousou, tal triângulo teria área:

- (A) 15 m<sup>2</sup>
- (B) 30 m<sup>2</sup>
- (C) 45 m<sup>2</sup>
- (D) 60 m<sup>2</sup>

**13**

A pizzaria “Boa Boa” faz sucesso com sua pizza de 10 centímetros de diâmetro, que custa 10 reais. Pensando em aumentar os negócios fizeram uma pizza maior, com 20 centímetros de diâmetro. De acordo com a área das pizzas, ao pagar com uma cédula de R\$ 50,00 qual valor deve ser dado como troco? (use  $\pi = 3$ )

- (A) 40 reais
- (B) 25 reais
- (C) 30 reais
- (D) 10 reais

**14**

Um mapa do estado de São Paulo, foi feito em escala 1 : 900 000. A distância entre duas cidades no mapa é de 13,8 cm. Quantos quilômetros é a distância entre essas cidades?

- (A) 12420 km
- (B) 1242 km
- (C) 124,2 km
- (D) 12,42 km

**15**

Para calcular a média, o professor sugeriu aos alunos que cada atividade teria um valor diferenciado, de acordo com a tabela:

AVALIAÇÃO	PESO
Prova mensal	2
Prova bimestral	3
Trabalho	1

Helena conseguiu 8,5 na avaliação mensal, 7,0 na avaliação bimestral e 10,0 no trabalho. Qual será sua média?

- (A) 7,7
- (B) 8,0
- (C) 8,5
- (D) 8,7

ÁREA PARA RASCUNHO

ÁREA PARA RASCUNHO

**16**

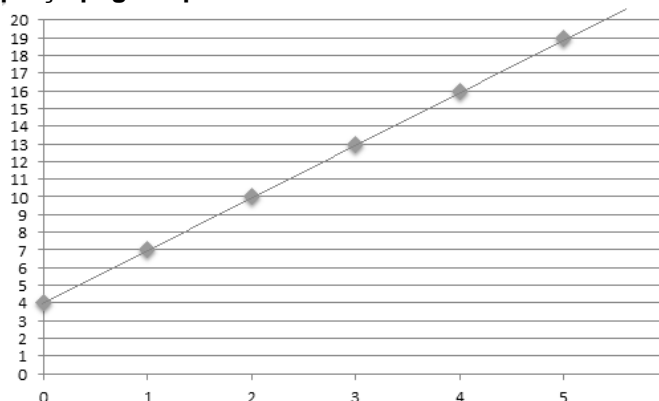
Os filhos de dona Maria trabalham em cidades distintas e vão visitá-la de acordo com a sua folga. João trabalha 14 dias seguidos e no 15º dia vai ao encontro da mãe, já Pedro trabalha 19 dias e visita a mãe no 20º dia. Se os dois visitaram dona Maria hoje, daqui quanto tempo irão se encontrar novamente na casa dela?

- (A) 15 dias  
(B) 20 dias  
(C) 35 dias  
(D) 60 dias

## ÁREA PARA RASCUNHO

**17**

O valor da corrida de táxi é diretamente proporcional aos quilômetros percorridos durante o trajeto, além disso é cobrado uma taxa chamada de bandeira. O gráfico abaixo representa a relação preço pago e quilômetros rodados:



Qual fórmula representa a função descrita no gráfico?

- (A)  $f(x) = 4x + 3$   
(B)  $f(x) = 4 + 3x$   
(C)  $f(x) = x + 3$   
(D)  $f(x) = x + 4$

**18**

Para um melhor controle de vendas, uma lanchonete anotou durante uma semana os sabores mais vendidos de lanches:

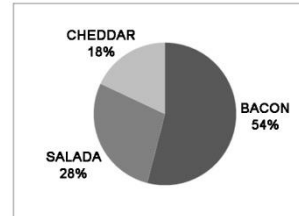
Bacon – 1080

Salada – 560

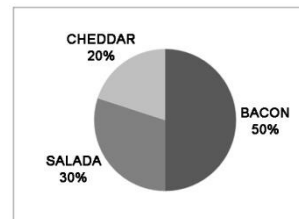
Cheddar – 360

Qual gráfico melhor representa as porcentagens das vendas desses lanches:

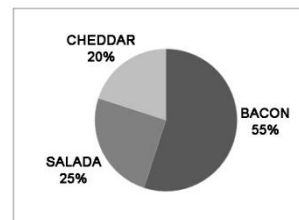
(A)



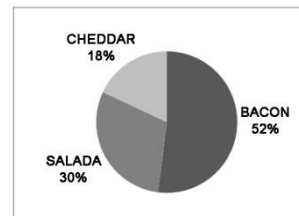
(B)



(C)



(D)



## CONHECIMENTOS ESPECÍFICOS

**19**

Em relação ao HTTP e ao HTTPS, analise:

- I - HyperText Transfer Protocol é o protocolo padrão para a web.
- II - O HTTP é inseguro, pois baseia-se apenas em texto, o que possibilita a invasores interceptarem, alterarem e roubarem as informações transferidas.
- III - Adiciona-se ao protocolo HTTP uma camada extra de segurança, o certificado SSL.

Dos itens acima:

- (A) Apenas um item está correto.  
(B) Apenas dois itens estão corretos.  
(C) Todos os itens estão corretos.  
(D) Nenhum item está correto.

**20**

No âmbito da informática, um arquivo pode ser definido como:

- (A) Um arquivo livre sem uma sequência de informações que segue uma regra estrutural e que não possui informações (dados).
- (B) Um arquivo agrupado com uma sequência de informações quaternárias que seguem uma regra estrutural e que possui informações (dados) irrelevantes gravados no disco rígido de um computador.
- (C) Um arquivo manual sem sequência de informações que seguem uma regra estrutural e que possui informações (dados) que estão gravados no disco rígido de um computador.
- (D) Um arquivo digital como uma sequência de informações binárias que seguem uma regra estrutural e que possui informações (dados) que estão gravados no disco rígido de um computador.

**21**

O ícone abaixo corresponde ao seguinte navegador:



- (A) Opera.
- (B) Safari.
- (C) Linux.
- (D) Mozilla.

**22**

É uma subdivisão lógica de um sistema de arquivos, que permite o agrupamento de arquivos que se relacionam de alguma forma. Trata-se do:

- (A) Protocolo.
- (B) Abrigo.
- (C) Inventário.
- (D) Diretório.

**23**

No Microsoft Word 2013, o ícone abaixo tem a seguinte função:



- (A) Aumenta o tamanho do texto gradativamente.
- (B) Aumenta o texto no dobro do seu tamanho.
- (C) Cria caracteres sobrescritos.
- (D) Cria caracteres subscritos.

**24**

Em relação as funções no Microsoft Word 2013, analise:

- I - Sempre que você iniciar o Word 2013, você poderá escolher um modelo da galeria, clicar em uma categoria para ver os modelos contidos nela ou procurar mais modelos online.
- II - Quando você abre um documento que foi criado em versões anteriores do

Word, você ver o modo de compatibilidade na barra de título da janela do documento.

- III - Para salvar seu documento à medida que você continua a trabalhar nele, clique em Salvar na Barra de Ferramentas de Acesso Rápido.

Dos itens acima:

- (A) Apenas um item está correto.
- (B) Apenas dois itens estão corretos.
- (C) Todos os itens estão corretos.
- (D) Nenhum item está correto.

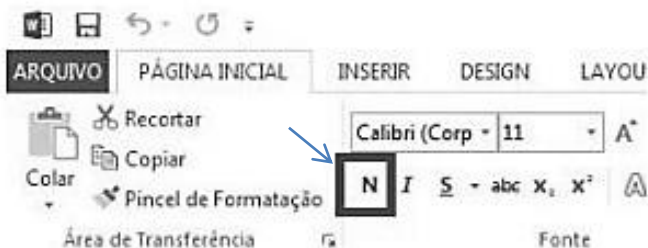
**25**

No Microsoft Word 2013, para que o texto fique alinhado de ambos os lados, devemos selecionar o corpo do texto, caso o mesmo não esteja selecionado, e clicar no seguinte botão:

- (A)
- (B)
- (C)
- (D)

**26**

No Microsoft Word 2013, o ícone em destaque na imagem abaixo corresponde a seguinte função:



- (A) Desenha uma linha sob o texto selecionado.
- (B) Faz o texto parecer como se tivesse sido marcado com um marca-texto.
- (C) Aplica negrito ao texto selecionado.
- (D) Torna nulo o texto selecionado.

**27**

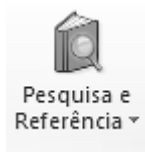
No Microsoft Word 2013, para se concentrar em sua leitura sem distrações e ocultar a maioria dos botões e ferramentas, abra seu documento no:

- (A) Modo avião.
- (B) Modo sem imagens.
- (C) Modo de leitura.
- (D) Modo anônimo.

ÁREA PARA RASCUNHO

**28**

No Excel (Microsoft Office 2013), a biblioteca de funções está localizada na guia Fórmulas. No ícone abaixo está incluído as seguintes funções, exceto:



- (A) DESLOC.
- (B) ÍNDICE.
- (C) CÓDIGO.
- (D) TRANSPOR.

**29**

Responda (V) verdadeiro ou (F) falso, em relação as fórmulas no Excel:

( ) =SE(A1>0)

*Usa a função SE para testar a célula A1 e determinar se ela contém um valor maior do que 0.*

( ) =MAIÚSCULA("olá")

*Converte o texto "olá" em "OLÁ", usando a função MAIÚSCULA.*

( ) =SOMA(A1:A10)

*Usa a função SOMA para retornar a multiplicação dos valores nas células A1 a A10.*

- (A) V-V-V.
- (B) V-F-V.
- (C) F-V-F.
- (D) V-V-F.

**30**

O ícone abaixo extraído do Excel (Microsoft Office 2013) corresponde à funcionalidade de:



- (A) AutoSoma.
- (B) Estilo.
- (C) SmartArt.
- (D) Números Gregos.

ÁREA PARA RASCUNHO

ÁREA PARA RASCUNHO

ÁREA PARA RASCUNHO