

CADERNO DE PROVA

CARGO: AUXILIAR DE ADMINISTRAÇÃO

MEDIDAS INDIVIDUAIS DE PREVENÇÃO CONTRA COVID 19 DURANTE A REALIZAÇÃO DA PROVA

- a) *Uso obrigatório da máscara de proteção facial que cubra a boca e o nariz, a máscara somente poderá ser retirada para alimentação ou ingestão de líquidos, desde que sem tocar na parte frontal, prosseguida da higienização das mãos com álcool líquido ou gel de uso individual do próprio candidato;*



- b) *Se tossir cubra o rosto*
- c) *O descarte da máscara de proteção, durante a aplicação da prova, deve ser feito pelo candidato de forma segura nas lixeiras;*
- d) *Não será permitido utilizar o banheiro do local de aplicação após o término da prova e a saída definitiva da sala;*
- e) *Ao final das provas, o candidato deverá se retirar imediatamente do local de provas, sob pena de eliminação do certame.*

ANTES DE INICIAR A PROVA LEIA ATENTAMENTE AS INSTRUÇÕES ABAIXO:

- ✓ Você recebeu um Caderno de Provas contendo 35 (trinta e cinco) questões objetivas com 04 (quatro) proposições cada, identificadas pelas letras A, B, C, e D, sendo apenas uma resposta **correta** de acordo com o enunciado;
- ✓ Um Cartão de Respostas personalizado para a Prova Objetiva;
- ✓ Você está autorizado(a) a usar caneta esferográfica de tinta preta, fabricada em material transparente;
- ✓ É responsabilidade do(a) candidato(a), certificar-se de que os dados informados nos materiais por ele(a) recebidos estão corretos;
- ✓ **Ao ser autorizado o início da prova, verifique no caderno de provas se a numeração das questões e a paginação estão corretas;**
- ✓ Você dispõe de 3 (três) horas para realizar a Prova Objetiva e somente poderá sair da sala depois de decorridos 1 (uma) hora do início da prova **sem levar consigo o caderno de provas, e com o caderno de provas**, faltando 30 (trinta) minutos para o encerramento;
- ✓ Ao terminar a prova escrita, o(a) candidato(a) deverá entregar a prova, o cartão-resposta e assinar a lista de presença, caso não tenha assinado na entrada;
- ✓ O(A) candidato(a) deverá assinalar no **CARTÃO-RESPOSTA** uma única alternativa que julgar correta e **sem rasuras**. O preenchimento do cartão deverá obedecer às instruções nele contidas, observe atentamente o número da questão antes de marcar, pois não haverá substituição do **CARTÃO-RESPOSTA**, que é personalizado e único;
- ✓ Não é permitida a consulta aos apontamentos, livros, dicionários e uso de aparelhos eletrônicos;
- ✓ **Será considerada nula a questão que tiver mais de uma alternativa assinalada, com rasuras ou que esteja em branco ou em desacordo com as instruções de preenchimento informadas no cartão resposta;**
- ✓ Durante a prova, o(a) candidato(a) **não** deverá levantar-se ou comunicar-se com outros(as) candidatos(as);
- ✓ Os(As) 3 (três) últimos(as) candidatos(as) de cada sala só poderão ser liberados(as) juntos(as);
- ✓ O gabarito das provas objetivas será divulgado no segundo dia útil subsequente a aplicação da prova e será fixado no local de realização das inscrições e nos sites www.itame.com.br, www.itaucu.go.gov.br e www.camaraitaucu.go.gov.br;
- ✓ Recursos contra itens do gabarito preliminar poderão ser interpostos na forma do regulamento;
- ✓ Qualquer informação sobre o concurso será fornecida pela Prefeitura, através da Comissão Especial de Concurso Público.

Leia o texto para responder as questões de 01 a 04.

Dom Quixote

Miguel de Cervantes

Há aproximadamente quatrocentos anos, na aldeia de La Mancha, na Espanha, vivia um fidalgo de poucas posses materiais, mas muitos livros, e que adorava experimentar os desafios da vida e cujo passatempo era ler contos e mais contos de cavalaria.

Era este nobre senhor alto, magro, de cinquenta e poucos anos, queixo pontiagudo, cabelo grisalho desgrenhado e certo ar de loucura no olhar. De sobrenome Quixada ou Quesada, embora não rico, era muito conhecido pelos lavradores e tinha fala de boa pessoa entre os moradores da comunidade em que vivia. [...]

01) O trecho acima possui uma sequência narrativa, no entanto, também se caracteriza como:

- (A) Argumentativo.
- (B) Expositivo.
- (C) Descritivo.
- (D) Injuntivo.

02) Considerando o trecho de *Dom Quixote* apresentado acima, marque a alternativa correta.

- (A) O trecho apresenta o personagem principal da história e descreve suas principais características físicas e intelectuais.
- (B) O trecho apresenta o personagem principal da história e narra suas aventuras.
- (C) O trecho narra e descreve os lugares por onde o personagem principal passou.
- (D) O trecho narra os hábitos dos cidadãos na aldeia de La Mancha, na Espanha.

03) Em “Era este **nobre** senhor alto, **magro**, de cinquenta e poucos anos, queixo **pontiagudo**, cabelo **grisalho**, **desgrenhado** e certo ar de loucura no olhar”, as palavras destacadas pertencem a qual classe de palavras?

- (A) Artigos.
- (B) Adjetivos.
- (C) Pronomes.
- (D) Substantivos.

04) No fragmento “Há **aproximadamente** quatrocentos anos, na aldeia de La Mancha, na Espanha, vivia um **fidalg**o de poucas posses materiais”, os termos destacados nas orações são, respectivamente:

- (A) Predicado e sujeito.
- (B) Aposto e predicado.

- (C) Vocativo e adjunto adnominal.
- (D) Adjunto adverbial e núcleo do sujeito.

05) Considerando as figuras de linguagem, marque a alternativa em que há uma metáfora.

- (A) A vida é um foguete, quase não se vê passando.
- (B) A vida é como um foguete, quase não se vê passando.
- (C) Quase morremos de susto quando vimos o prédio pegando fogo.
- (D) O prédio era tão seguro que o alarme de incêndio nem tocou durante o acidente.

06) De acordo com as regras de concordância verbal, marque a alternativa em que apresenta a forma correta.

- (A) Eu li no jornal que não haverão carnaval no próximo ano.
- (B) Eu li no jornal que não houve festas de carnaval no ano passado.
- (C) Eu li no jornal que não haverão festas de carnaval no próximo ano.
- (D) Eu li no jornal que não houveram nenhuma festa de carnaval no ano passado.

07) A **macaxeira** é um alimento conhecido também como **mandioca** ou **aipim** em diferentes estados brasileiros. Essa variação linguística se caracteriza como:

- (A) Variação cultural.
- (B) Variação regional.
- (C) Variação histórica.
- (D) Variação da situação de comunicação.

Leia o trecho abaixo e responda a questão 08.

Regina Anastácia

Conceição Evaristo

— O meu nome é Regina Anastácia.

Assim que ouvi essas primeiras palavras de Anastácia e contemplei o seu porte tão altivo, fui tomada por uma enorme emoção. [...]

08) Considerando a coesão textual, o elemento

- (A) “**assim**” faz referência ao porte altivo da personagem Regina Anastácia.
- (B) “**seu**” faz referência às palavras da personagem Regina Anastácia.
- (C) “**essas**” é usado para retomar a fala da personagem Regina Anastácia.
- (D) “**e**” é usado para criar sentido de oposição entre as orações.

09) No trecho “Ela ficou muito triste quando soube da morte do avô. — Não pude nem me despedir!”, a presença do travessão indica:

- (A) Uso do discurso direto.
- (B) Uso do discurso indireto.
- (C) Interrupção indevida na narração.
- (D) Pontuação que exprime um pensamento do autor.

10) De acordo com as características de formação das palavras, pode-se dizer que a palavra **desalmada** é formada por:

- (A) Derivação sufixal.
- (B) Derivação prefixal.
- (C) Derivação imprópria.
- (D) Derivação parassintética.

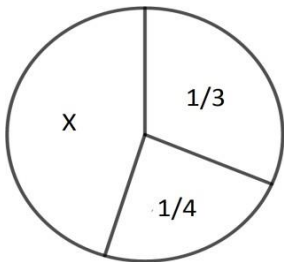
11) Márcia resolveu oito listas de exercícios e obteve a seguinte pontuação:

Lista1	Lista2	Lista3	Lista4	Lista5	Lista6	Lista7	Lista8
9,0	8,0	4,0	6,0	9,0	6,0	8,0	6,0

Com base nas informações do quadro, podemos afirmar que, em relação às notas, a média aritmética, a mediana e a moda são respectivamente:

- (A) 7,0; 7,0 e 6,0
- (B) 8,4; 8,0 e 8,0
- (C) 7,0; 9,0 e 6,0
- (D) 9,0; 8,0 e 9,0

12) O círculo a seguir está dividido em três setores, observe:



Nessa situação, a fração que corresponde ao setor marcado com um x é igual à:

- (A) 5/12
- (B) 7/12
- (C) 8/12
- (D) 11/12

13) Sabendo que o salário de Marcos equivale a 80% do salário de Wanessa e que a diferença entre os dois salários é de R\$ 500,00, então podemos concluir que o salário de Marcos é igual à:

- (A) R\$ 2.500,00
- (B) R\$ 2.300,00

- (C) R\$ 2.100,00
- (D) R\$ 2.000,00

14) Uma empresa possui atualmente um quadro de funcionários formado com efetivos e contratos temporários, totalizando 5.100 funcionários. Sabendo que a relação entre efetivos e contratos temporários é de 7 por 3, então a quantidade de funcionários efetivos e contratos temporários é, respectivamente, igual à:

- (A) 3.570 funcionários efetivos e 1.530 funcionários temporários;
- (B) 3.780 funcionários efetivos e 1.320 funcionários temporários;
- (C) 3.830 funcionários efetivos e 1.270 funcionários temporários;
- (D) 3.199 funcionários efetivos e 1.901 funcionários temporários.

15) Em uma sala de aula com 15 alunos, deseja-se formar grupos para execução de um trabalho. Sabendo que cada grupo deve conter 04 alunos, nessas condições o número de possibilidades diferentes para formação dos grupos é igual à:

- (A) 1.365 possibilidades
- (B) 1.500 possibilidades
- (C) 1.535 possibilidades
- (D) 1.659 possibilidades

16) Sobre as sequências numéricas a seguir:

1. (1, 6, 12, 18, 24,...);
2. (6, 3, $2\frac{3}{4}$, $\frac{3}{4}$, $\frac{3}{8}$,...);
3. (0, 7, 14, 16, 24, 30,...);

Qual dessas afirmações é verdadeira?

- (A) A sequência número 2, representa uma P.A e sua razão é 0,5.
- (B) A sequência número 3, representa uma P.G e sua razão é 0,5.
- (C) A sequência número 1, representa uma P.G e sua razão é 0,5.
- (D) A sequência número 2, representa uma P.G e sua razão é 0,5.

17) Em um conselho regional, o presidente é eleito a cada 4 anos, o secretário a cada 3 anos e o coordenador geral a cada 2 anos. Se em 2020 houve eleições para os três cargos, simultaneamente, das opções abaixo, em que ano isso ocorrerá novamente?

- (A) 2028
- (B) 2030
- (C) 2032
- (D) 2034

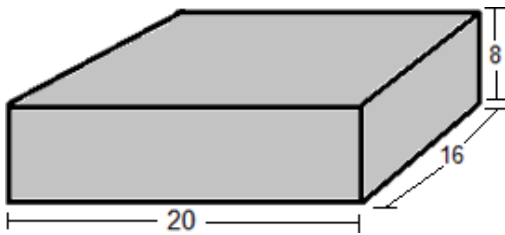
18) Para percorrer determinado percurso em seu caminhão, José dirigindo 6 horas por dia a uma velocidade média de 80 km/h gastou um total de 9 dias. Dirigindo a 90 km/h, 8 horas por dia, utilizando o mesmo veículo, José gastará, para percorrer o mesmo trajeto:

- (A) 2 dias
- (B) 4 dias
- (C) 6 dias
- (D) 8 dias

19) Mariana pegou R\$ 900,00 emprestado do seu amigo Davi, e combinaram que o valor seria pago considerando uma taxa de juros simples igual de 7% ao mês. Após 20 dias de empréstimo, Mariana conseguiu o dinheiro e quitou a sua dívida. Nesse contexto, o valor pago a Davi por Mariana foi de: (considere o mês comercial igual a 30 dias)

- (A) R\$ 927,00
- (B) R\$ 942,00
- (C) R\$ 952,70
- (D) R\$ 954,50

20) A figura a seguir tem a forma de paralelepípedo retangular e suas dimensões estão representadas em centímetros, observe:



O número mínimo de cubos de mesmo volume e de dimensões inteiras, que preenchem completamente o paralelepípedo da figura é igual à:

- (A) 25 cubos
- (B) 30 cubos
- (C) 40 cubos
- (D) 80 cubos

21) São Características das Organizações Formais:

- I – São Planejadas e Deliberadamente Estruturadas;
- II – Representadas por Organogramas;
- III – Oriunda das relações pessoais e sociais desenvolvidas naturalmente entre os membros de determinada organização;
- IV – Colaboração Espontânea, independente da autoridade formal;
- V – Regidos por Normas e Regulamentos definidos de forma racional (lógica).

É correto o que se afirma apenas na seguinte alternativa:

- (A) I, II e III.
- (B) II, III e IV.

- (C) I, II e V.
- (D) III, IV e V.

22) De acordo com as funções administrativas, enumere a segunda coluna de acordo com a primeira.

1 – Planejar	() Ordenar os recursos necessários à execução do trabalho.
2 – Dirigir	() Comunicar todas as informações e diretrizes necessárias e coordenar a execução do trabalho, influenciando de modo positivo o comportamento das pessoas.
3 – Controlar	() Acompanhar a evolução das atividades, verificando os resultados obtidos e os recursos usados, providenciando as correções necessárias para assegurar a realização dos objetivos.
4 – Organizar	() Definir precisamente os resultados desejados.

A sequência correta, de cima para baixo, está na opção:

- (A) 4,3,2,1.
- (B) 4,2,3,1.
- (C) 2,3,1,4.
- (D) 1,2,3,4.

23) Assinale a alternativa correta a respeito das características do Líder Autocrático:

- (A) Defende total liberdade à equipe e que esta decida, por si só, quais são os melhores caminhos e soluções para resolver os problemas da organização;
- (B) Conduz de forma democrática a sua gestão, ou seja, incluindo os seus liderados nas decisões e fazendo com que participem ativamente da construção de soluções e resultados;
- (C) É exercida de acordo com o nível de maturidade dos profissionais da empresa e também com base nas situações apresentadas na organização;
- (D) É o centro de todas as atenções e decisões e, como tal, centraliza o poder em si e não permite que os liderados participem em quase nada.

24) No que tange a Administração de Materiais, complete a frase abaixo e assinale a alternativa correspondente:

_____ é o processo de administração dos espaços necessários para manter os materiais estocados e envolve fatores como localização, dimensionamento, equipamentos de movimentação, equipamentos de armazenagem e sistemas de endereçamento.

- (A) Armazenagem
- (B) Suprimentos
- (C) Planejamento
- (D) Embalagem

25) Assinale a alternativa que compreenda os três principais atributos da classificação de materiais:

- (A) Originalidade, Abrangência e Flexibilidade.
- (B) Praticidade, Aplicabilidade e Periodicidade.
- (C) Originalidade, Aplicabilidade e Periodicidade.
- (D) Praticidade, Abrangência e Flexibilidade.

26) As três funções básicas da gestão de documentos são:

- (A) Produção, Interpretação e Utilização.
- (B) Produção, Utilização e Destinação.
- (C) Interpretação, Catalogação e Destinação.
- (D) Interpretação, Listagem e Utilização.

27) Segundo o artigo 30 da Lei Orgânica Municipal “sancionar, promulgar e fazer publicar as leis, expedir decretos e regulamentos para a sua fiel execução.”

Compete privativamente

- (A) Ao Prefeito
- (B) Ao Presidente da Câmara Municipal
- (C) Ao Secretário de Administração
- (D) Aos Vereadores

28) Prevê o artigo 29 da Lei Orgânica Municipal, que perderá o mandato, o prefeito que se ausentar do município sem licença da Câmara Municipal, pelo período superior a

- (A) 30 dias
- (B) 20 dias
- (C) 15 dias
- (D) 10 dias

29) De acordo com o Regime Jurídico dos Funcionários da Prefeitura de Itauçu, a licença para a gestante poderá ser concedida a partir do

- (A) sexto mês de gestação
- (B) sétimo mês de gestação
- (C) oitavo mês de gestação
- (D) nono mês de gestação

30) “É a retribuição mensal pelo desempenho de encargos de chefia, de assessoramento e outros que a lei determinar”. O presente conceito, estabelecido pelo artigo 96 do Regime Jurídico dos Funcionários da Prefeitura de Itauçu, refere-se a

- (A) Vencimentos
- (B) Gratificação de função
- (C) Diárias
- (D) Ajuda de custo

31) Em relação ao Zoom no Microsoft Word 2007 é correto afirmar:

- (A) Altera o tamanho da fonte selecionada
- (B) Amplia ou reduz a exibição da página ativa

(C) Ativa o aplicativo de comunicação online através de vídeo e voz

(D) Abre uma nova janela com a página em branco

32) Ao pressionar Ctrl + Page Down no Microsoft Word 2007 o que ocorre:

- (A) insere uma quebra de página abaixo
- (B) modifica a layout da página para paisagem
- (C) abre uma janela de formatação Bordas de Página
- (D) cursor passa para a próxima página

33) Registros revelam que os primeiros a passarem pela região onde se desenvolveu Itauçu teriam sido os bandeirantes. Entretanto, os primeiros moradores que chegaram na localidade vieram após a chegada do Coronel Ernesto Baptista.

Esses primeiros moradores eram, principalmente,

- (A) refugiados quilombolas.
- (B) imigrantes italianos e japoneses.
- (C) degredados de São Paulo e Rio de Janeiro.
- (D) tropeiros e migrantes da Bahia e Minas Gerais.

34) Analise os gráficos sobre a evolução de mortes por dia pelo Covid19, em Goiás e no Brasil

Gráfico 1 – Situação no Brasil

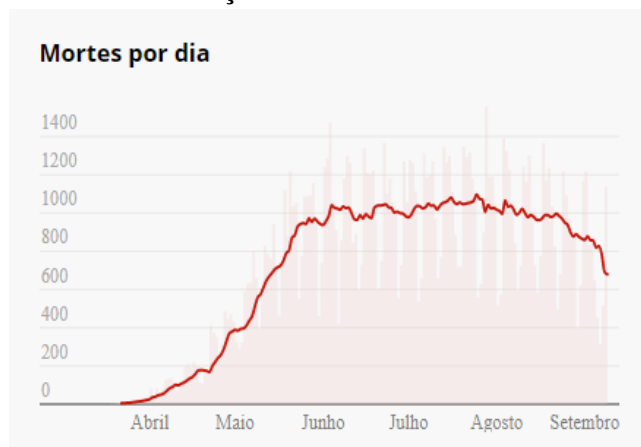


Gráfico 2 – Situação em Goiás



Ao comparar os gráficos podemos concluir que:

I. A política de isolamento decretada em Goiás pode ter contribuído com o baixo índice de mortalidade pela doença no Estado, em relação ao índice de mortalidade pelo Covid19 no país.

II. O período com maior número de mortes por dia pelo Covid19, em Goiás e no Brasil, ocorreu no mês de setembro.

III. A maior curva de crescimento de mortes pelo Covid19, em Goiás e no Brasil, foi no mês de maio.

Estão corretas:

- (A) Todas as afirmativas.
- (B) Apenas a afirmativa I.
- (C) Apenas a afirmativa II.
- (D) Apenas a afirmativa III.

35) O governador de Goiás Ronaldo Caiado assinou decreto, em 11 de setembro deste ano, que prevê a criação de uma nova unidade de conservação ambiental, o Parque Estadual Águas do Paraíso, na região da Chapada dos Veadeiros, em [Alto Paraíso de Goiás](#), no Entorno do Distrito Federal. Nesta ocasião, o governo estadual assinou um termo de parceria para que o parque seja administrado em conjunto com a Prefeitura de Alto Paraíso de Goiás.

Texto adaptado. Disponível em:

<https://g1.globo.com/go/goias/noticia/2020/09/11/caiado-assina-decreto-que-preve-criacao-de-novo-parque-de-conservacao-ambiental-na-chapada-dos-veadeiros.ghtml>.

Acesso em: 14 set.2020.

São objetivos desta parceria:

- I. preservar as áreas dessa região.
- II. desenvolver práticas de ecoturismo.
- III. promover a ocupação e urbanização da região.
- IV. recuperar áreas públicas e privadas desmatadas.
- V. investir em pesquisas científicas e ações voltadas à conscientização ambiental.

Estão corretas:

- (A) Todas as afirmativas.
- (B) Apenas as afirmativas I, II, IV e V.
- (C) Apenas as afirmativas I, II, III e IV.
- (D) Apenas as afirmativas III, IV e V.