


## CADERNO DE PROVA

### CARGO: GUARDA CIVIL MUNICIPAL

#### MEDIDAS INDIVIDUAIS DE PREVENÇÃO CONTRA COVID 19 DURANTE A REALIZAÇÃO DA PROVA

- a) *Uso obrigatório da máscara de proteção facial que cubra a boca e o nariz, a máscara somente poderá ser retirada para alimentação ou ingestão de líquidos, desde que sem tocar na parte frontal, prosseguida da higienização das mãos com álcool líquido ou gel de uso individual do próprio candidato;*



- b) *Se tossir cubra o rosto*  *lave imediatamente as mãos ou higienize as mãos com álcool líquido ou gel de uso individual;*
- c) *O descarte da máscara de proteção, durante a aplicação da prova, deve ser feito pelo candidato de forma segura nas lixeiras;*
- d) *Não será permitido utilizar o banheiro do local de aplicação após o término da prova e a saída definitiva da sala;*
- e) *Ao final das provas, o candidato deverá se retirar imediatamente do local de provas, sob pena de eliminação do certame.*

#### ANTES DE INICIAR A PROVA LEIA ATENTAMENTE AS INSTRUÇÕES ABAIXO:

- ✓ Você recebeu um Caderno de Provas contendo 35 (trinta e cinco) questões objetivas com 04 (quatro) proposições cada, identificadas pelas letras A, B, C, e D, sendo apenas uma resposta **correta** de acordo com o enunciado;
- ✓ Um Cartão de Respostas personalizado para a Prova Objetiva;
- ✓ Você está autorizado(a) a usar caneta esferográfica de tinta preta, fabricada em material transparente;
- ✓ É responsabilidade do(a) candidato(a), certificar-se de que os dados informados nos materiais por ele(a) recebidos estão corretos;
- ✓ **Ao ser autorizado o início da prova, verifique no caderno de provas se a numeração das questões e a paginação estão corretas;**
- ✓ Você dispõe de 3 (três) horas para realizar a Prova Objetiva e somente poderá sair da sala depois de decorridos 1 (uma) hora do início da prova **sem levar consigo o caderno de provas**, e **com o caderno de provas**, faltando 30 (trinta) minutos para o encerramento;
- ✓ Ao terminar a prova escrita, o(a) candidato(a) deverá entregar a prova, o cartão-resposta e assinar a lista de presença, caso não tenha assinado na entrada;
- ✓ O(A) candidato(a) deverá assinalar no **CARTÃO-RESPOSTA** uma única alternativa que julgar correta e **sem rasuras**. O preenchimento do cartão deverá obedecer às instruções nele contidas, observe atentamente o número da questão antes de marcar, pois não haverá substituição do **CARTÃO-RESPOSTA**, que é personalizado e único;
- ✓ Não é permitida a consulta aos apontamentos, livros, dicionários e uso de aparelhos eletrônicos;
- ✓ **Será considerada nula a questão que tiver mais de uma alternativa assinalada, com rasuras ou que esteja em branco ou em desacordo com as instruções de preenchimento informadas no cartão resposta;**
- ✓ Durante a prova, o(a) candidato(a) **não** deverá levantar-se ou comunicar-se com outros(as) candidatos(as);
- ✓ Os(As) 3 (três) últimos(as) candidatos(as) de cada sala só poderão ser liberados(as) juntos(as);
- ✓ O gabarito das provas objetivas será divulgado no segundo dia útil subsequente a aplicação da prova e será fixado no local de realização das inscrições e nos sites [www.itame.com.br](http://www.itame.com.br), [www.itaucu.go.gov.br](http://www.itaucu.go.gov.br) e [www.camaraitaucu.go.gov.br](http://www.camaraitaucu.go.gov.br);
- ✓ Recursos contra itens do gabarito preliminar poderão ser interpostos na forma do regulamento;
- ✓ Qualquer informação sobre o concurso será fornecida pela Prefeitura, através da Comissão Especial de Concurso Público.

Leia o texto a seguir para responder as questões de 01 a 06.

### **Senso crítico é arma para combater ‘fake news’**

Marina Dayrell, Matheus Riga e Pedro Ramos

A educação virtual é uma arma importante para detectar informações falsas no noticiário, segundo especialistas. Essa “alfabetização” deve contar com esforços de vários setores da sociedade, para evitar que as chamadas fake news tumultuem o debate público, como ocorreu na corrida eleitoral americana e na votação pela saída do Reino Unido da União Europeia.

“Tem de vir da grande imprensa, do professor, da família, de todos os lados”, diz a diretora da Agência Lupa, Cristina Tardáguila, que realiza checagem de informações do noticiário brasileiro. “Até porque não há nenhum sinal de que a produção de notícias falsas vai diminuir.” Para ela, o entendimento sobre como o noticiário é produzido deve ser uma prioridade no combate às fake news.

A dificuldade de identificar notícias falsas afeta até países com melhores índices de escolaridade. Uma pesquisa da Universidade de Stanford apontou, em julho deste ano, que estudantes americanos tiveram problema para checar a credibilidade das informações divulgadas na internet. Dentre 7.804 alunos dos ensinos fundamental, médio e superior, 40% não conseguiram detectar fake news.

A editora executiva da agência de checagem Aos Fatos, Tai Nalon, destaca a importância da criação de políticas públicas com foco na análise crítica da mídia. “Acho que dificilmente conseguiremos uma mudança cultural sem passar pela educação de massa da sociedade”, afirma.

Para o professor do Departamento de Informática da PUC-Rio, Daniel Schwabe, o público não conhece os meios pelos quais pode ser manipulado na internet. “Em relação às mídias tradicionais, as pessoas já aprenderam a identificar sinais de demagogia”, diz. “Nesse cenário de novos canais, há uma certa vulnerabilidade porque não se sabe mediar a absorção da informação que se recebe.” Segundo ele, é necessário criar uma cultura de questionamento.

01) Qual a finalidade do texto “Senso crítico é arma para combater ‘fake news’”?

- (A) Argumentar sobre a importância da alfabetização digital no combate às fake news, com base na opinião de especialistas.
- (B) Apresentar um passo a passo de combate às fake news, com base na opinião de especialistas.
- (C) Narrar situações em que as fake news prejudicaram as eleições de um país.

(D) Expor a diferença entre notícias falsas na televisão aberta e na internet.

02) As opiniões de vários especialistas são inseridas no texto por meio da utilização de aspas. No entanto, no primeiro parágrafo, ao mencionar a palavra **alfabetização**, o uso das aspas possui outra função, que é:

- (A) Fazer uma citação.
- (B) Introduzir a palavra com significado indefinido.
- (C) Destacar a palavra que está sendo empregada em contexto diferente do seu uso habitual.
- (D) Expressar certeza em relação ao sentido que a palavra possui neste contexto específico.

03) No trecho “Tem de vir da grande imprensa, do professor, da família, de todos os lados”, a citação faz referência

- (A) à dificuldade de identificar notícias falsas.
- (B) às mudanças culturais que devem ocorrer nos próximos anos.
- (C) aos sinais de demagogia identificados nas mídias tradicionais, como os canais de televisão aberta.
- (D) aos esforços que vários setores da sociedade devem fazer para evitar que as notícias falsas tumultuem o debate público.

04) Em “A educação virtual é uma **arma** importante para detectar informações falsas no noticiário”, a palavra destacada possui sentido:

- (A) Denotativo, pois está sendo usada em sentido literal.
- (B) Conotativo, pois está sendo usada em sentido figurado.
- (C) Denotativo, pois está sendo usada em sentido figurado.
- (D) Conotativo, pois está sendo usada em sentido literal.

05) No fragmento “há uma certa vulnerabilidade porque não se sabe mediar a absorção da informação que se recebe”, as orações são classificadas como:

- (A) Coordenadas sindéticas explicativas.
- (B) Coordenadas sindéticas alternativas.
- (C) Coordenadas sindéticas conclusivas.
- (D) Coordenadas sindéticas aditivas.

06) Considerando o uso da língua portuguesa no texto, pode-se dizer que:

- (A) Trata-se de uma linguagem coloquial.
- (B) Trata-se de uma linguagem regional.
- (C) Trata-se de uma linguagem vulgar.
- (D) Trata-se de uma linguagem culta.

07) De acordo com a acentuação gráfica, as palavras **dócil**, **público** e **crítica** são, respectivamente:

- (A) Proparoxítona, proparoxítona, proparoxítona.
- (B) Paroxítona, proparoxítona, proparoxítona.
- (C) Oxítona, proparoxítona, proparoxítona.
- (D) Oxítona, proparoxítona e paroxítona.

08) Marque a alternativa que preenche corretamente as lacunas.

Iniciaremos \_\_\_ aulas \_\_\_ 8 horas da manhã e daremos boas-vindas \_\_\_ todos.

- (A) as / a / a.
- (B) às / as / à.
- (C) as / às / a.
- (D) às / às / à.

09) Considerando a concordância nominal, analise as orações a seguir e marque a alternativa correta.

- 1ª Comprei uma caneta e uma borracha azuis.
- 2ª Comprei uma caneta e uma borracha azul.

- (A) A concordância de ambas as orações está correta, pois o adjetivo pode concordar com os dois substantivos ou apenas com o mais próximo.
- (B) A concordância da 1ª oração está incorreta, pois o adjetivo deve concordar apenas com o substantivo mais próximo.
- (C) A concordância da 2ª oração está incorreta, pois o adjetivo deve concordar com ambos os substantivos.
- (D) A concordância da 1ª oração está correta, pois o adjetivo está caracterizando mais de uma borracha.

10) Marque a alternativa em que todas as palavras estão escritas corretamente.

- (A) Esquisofrênico, convivência.
- (B) Cabeleireiro, esquizofrênico.
- (C) Convivência, beneficiante.
- (D) Supérfulo, bicabornato.

11) Um capital de R\$ 1.000,00 foi aplicado em regime de juro composto por um período de 2 meses, e após esse período, produziu um montante de R\$ 1.210,00. Considerando os dados apresentados, podemos afirmar que a taxa de juros da aplicação foi de:

- (A) 4% ao mês
- (B) 6% ao mês
- (C) 8% ao mês
- (D) 10% ao mês

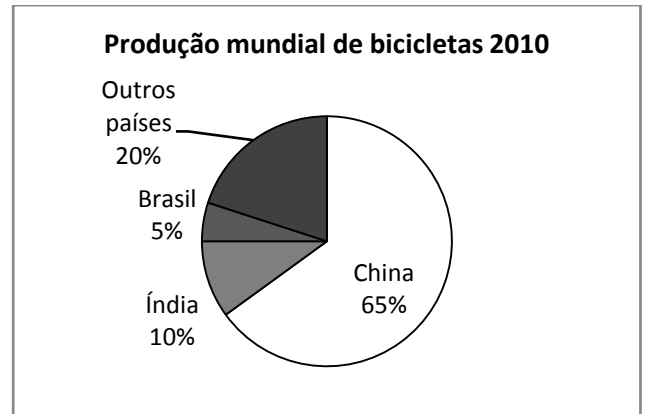
12) O resultado após simplificação da expressão:

$$\sqrt{2 + \sqrt[3]{10 - \sqrt[4]{16}}}$$

É igual à:

- (A) 2
- (B) 4
- (C) 6
- (D) 8

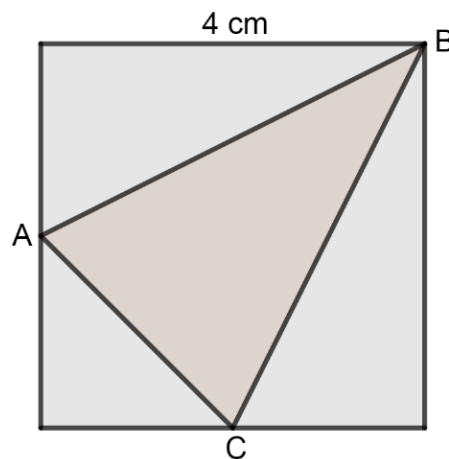
13) A figura, a seguir, apresenta os dados com informações a respeito da produção mundial de bicicletas, observe:



Com base no gráfico apresentado, e supondo que a produção mundial de bicicletas em 2010, foi de 5.700.000 unidades, então, podemos afirmar que:

- (A) A quantidade de Bicicletas Produzida pela China foi de 3.700.000 unidades.
- (B) A quantidade de Bicicletas Produzida pela Índia foi de 286.000 unidades.
- (C) A soma das produções de Brasil e Índia é menor 2.850.000 unidades que a produção da China.
- (D) A quantidade de Bicicletas Produzida por “Outros países” foi menor que a produção de Brasil e Índia juntos.

14) A figura a seguir, mostra um quadrado de lado 4 cm e um triângulo ABC onde os vértices A e C são pontos médios dos lados do quadrado. Observe:



Considerando as informações expostas, o valor da área do triângulo ABC é igual à:

- (A)  $16 \text{ cm}^2$
- (B)  $12 \text{ cm}^2$
- (C)  $8 \text{ cm}^2$
- (D)  $6 \text{ cm}^2$

15) Um trabalhador de 1,80 metros de altura, observa em um dia ensolarado a sombra de um prédio e a sua própria sombra. Visto que, o trabalhador não possuía fita métrica ou qualquer instrumento de medida usual, ele tomou um cordão, verificando que a sombra do prédio era 11,5 vezes maior que a sua. Com base no exposto, a altura do prédio será:

- (A) 16,7 m
- (B) 12,8 m
- (C) 20,7 m
- (D) 60,9 m

16) Um terreno retangular possui área igual a  $123,25 \text{ m}^2$ , sabendo que o seu comprimento é 6 metros maior que a sua largura, então podemos afirmar que seu comprimento e sua largura são respectivamente:

- (A) 26,1 m e 20,1 m
- (B) 25 m e 4,93 m
- (C) 14,5 m e 8,5 m
- (D) 25,5 m e 11,5 m

17) De um lote de 20 calças, das quais 4 são defeituosas, são escolhidas 3 peças, aleatoriamente. Nessas condições, a probabilidade de que as três peças escolhidas não sejam defeituosas é igual à:

- (A)  $21/43$
- (B)  $34/57$
- (C)  $28/57$
- (D)  $17/58$

18) Em uma escola com 1.690 alunos, 899 deles estudam Matemática, 410 estudam Ciências e 369 deles estudam os dois componentes curriculares ao mesmo tempo (Matemática e Ciências). Nessas condições, a quantidade de alunos que não estudam Matemática e nem estudam Ciências, é igual à:

- (A) 750 alunos
- (B) 789 alunos
- (C) 890 alunos
- (D) 990 alunos

19) Dados os algarismos 0, 1, 2, 3, 4, 5 e 7. A quantidade de números pares que podem ser formados com quatro algarismos, sem repeti-los é igual à:

- (A) 460 números
- (B) 320 números
- (C) 240 números
- (D) 160 números

20) Considerando os números de 2.000 a 10.000, a quantidade de números inteiros desse intervalo que não são divisíveis por 7 é igual à:

- (A) 6.558 números
- (B) 6.858 números
- (C) 7.656 números
- (D) 7.858 números

21) Marque o item que melhor representa a finalidade do Sistema de Segurança Pública.

- (A) Reorganizar as forças táticas no combate a criminalidade e ao crime organizado.
- (B) Instituir políticas nacionais de combate ao crime e a corrupção em âmbito federal.
- (C) Articular as ações das instituições federais, estaduais e municipais no campo da segurança e da Justiça Criminal.
- (D) Reestruturar as polícias, tornando-as todas em polícia judiciária.

22) Em relação aos cuidados com a arma de fogo, marque a alternativa correta.

- (A) Deve-se fazer a limpeza e lubrificação da arma de fogo somente se usar a mesma, ou seja, somente se houver disparo de projétil.
- (B) A limpeza externa da arma de fogo é feita com água e sabão e, após seca-la, higieniza-la com álcool gel 70%.
- (C) Caso seja efetuado tiros com sua arma, limpar o cano e as câmaras com escova própria, para retirar o chumbado e, em seguida, passar um pano embebido em óleo mineral, secando-os após.
- (D) Não usar combustível (gasolina ou querosene) para fazer a limpeza da arma, devido ao risco de explosão.

23) A equipe da Central de atendimento passou a seguinte informação: QTH: Rua Bravo Echo, esquina com Av. tango sexto terceiro. O que quer dizer essa mensagem?

- (A) QTH refere-se a natureza da ocorrência, que se localiza na Rua BC esquina com Av T-63.
- (B) QTH refere-se ao local da ocorrência, sendo na Rua BC esquina com Av T-63.
- (C) QTH refere-se ao rumo verdadeiro, que neste caso é na Rua BC, esquina com Av T- 63.
- (D) QTH refere-se a cancelar a ocorrência que seria na Rua BC esquina com Av T-63.

24) Em relação a capacitação da Guarda Civil Municipal, prevista na Lei 13.022/14, analise as afirmações seguintes e responda:

I. O exercício das atribuições dos cargos da guarda civil municipal requer capacitação específica, com matriz curricular compatível com suas atividades, podendo a mesma, ser adaptada para formação em segurança pública, elaborada pela Secretaria Nacional de Segurança Pública (Senasp) do Ministério da Justiça.

II. É autorizado ao Município a criação de órgão de formação, treinamento e aperfeiçoamento dos integrantes da guarda civil municipal, sendo que, os princípios norteadores devem ser criados pelo órgão responsável e, posteriormente, aprovado pela Secretaria Nacional de Segurança Pública (Senasp) do Ministério da Justiça;

III. O Estado poderá, mediante convênio com os Municípios interessados, manter órgão de formação e aperfeiçoamento centralizado, podendo tal órgão, ser o mesmo destinado à formação, treinamento ou aperfeiçoamento de forças militares.

- (A) todas as alternativas estão corretas
- (B) todas as alternativas estão incorretas
- (C) apenas uma alternativa está correta
- (D) apenas duas alternativas estão corretas

25) A Lei 13.022/14 considera que “o recolhimento à cela, isoladamente dos demais presos, quando sujeito à prisão antes de condenação definitiva.” é

- (A) um direito do guarda municipal;
- (B) uma prerrogativa assegurada ao guarda municipal;
- (C) um princípio da guarda municipal;
- (D) a Lei 13.022/14 não trata sobre a prisão de membros da guarda municipal.

26) O Órgão do Ministério da Justiça responsável pela política de Segurança Pública no país é

- (A) Polícia Federal
- (B) Secretaria Nacional de Segurança Pública
- (C) Polícia Federal e Polícia Civil
- (D) Polícia Federal, Polícia Civil, Polícia Militar e Corpo de Bombeiros.

27) De acordo com Estatuto do Servidor Público Municipal, readaptação é

- (A) a investidura do funcionário estável em cargo mais compatível com a capacidade física e ou intelectual respeitada a habilitação profissional necessária;
- (B) o reingresso no serviço público de funcionário aposentado por invalidez;
- (C) o reingresso no serviço público de funcionário de cargo em disponibilidade;
- (D) o reingresso no serviço público de funcionário demitido ou exonerado ilegalmente, com ressarcimento dos prejuízos decorrentes do afastamento.

28) Segundo o Estatuto do Servidor Público Municipal, a licença para tratamento de saúde será concedida

- (A) mediante atestado médico;
- (B) mediante inspeção médica;
- (C) mediante autorização do chefe ou responsável pelo órgão;
- (D) mediante solicitação do funcionário por escrito, com antecedência mínima de 30 dias.

29) De acordo com a Lei Orgânica Municipal, o planejamento a administração e o exercício do poder de polícia sobre o trânsito nas vias urbanas e nas estradas municipais é de competência da/o

- (A) Secretária de desenvolvimento urbano
- (B) Secretária de infraestrutura
- (C) Município de Itauçu
- (D) Estado de Goiás

30) O trânsito de veículos nas vias terrestres abertas à circulação, devem obedecer as normas do Código de Trânsito. A esse respeito, assinale a única afirmativa totalmente correta.

- (A) a circulação far-se-á sempre pelo lado direito da via, não se admitindo exceções;
- (B) o condutor deverá guardar distância de segurança, exclusivamente frontal, entre o seu e os demais veículos;
- (C) quando veículos, transitando por fluxos que se cruzem, se aproximarem de local não sinalizado, terá preferência de passagem, no caso de apenas um fluxo ser proveniente de rodovia, aquele que estiver circulando por ela.
- (D) os veículos precedidos de batedores somente terão prioridade de passagem, se estiverem com sirenes ligadas, conforme definido nas normas de circulação.

31) Em relação a ferramenta Pincel de Formatação no Microsoft Word 2007, é correto afirmar:

- (A) Copia a formatação e pode ser aplicado em outro texto
- (B) Executa um atalho do Paint para inserir a formatação Word Art
- (C) Insere um elemento de formatação SmartArt no texto
- (D) Abre uma janela de formatação em relação ao botão Referência Cruzada

32) Qual alternativa correta corresponde a ação de executar o Separador de Milhares em célula que contém os números 15061984 no formato brasileiro do Microsoft Excel 2007:

- (A) 15,061,984.00
- (B) 15.061.984,00
- (C) 15,061.984.00
- (D) 15.061,984,00

33) De acordo com o site do IBGE:

“O fundador da povoação foi o Cel. Ernesto Batista de Magalhães, cuja atuação intensificou-se a partir de 1912.

Em 31 de dezembro de 1936, pela divisão administrativa do Estado, o povoado foi elevado à distrito, passando a denominar-se 'Cruzeiro do Sul', devido à fácil localização, em seu céu azul límpido, da constelação do mesmo nome (...).

Pelo Decreto-Lei nº 8305, de 31 de dezembro de 1943, recebeu o novo topônimo de 'ITAUÇU' (...)

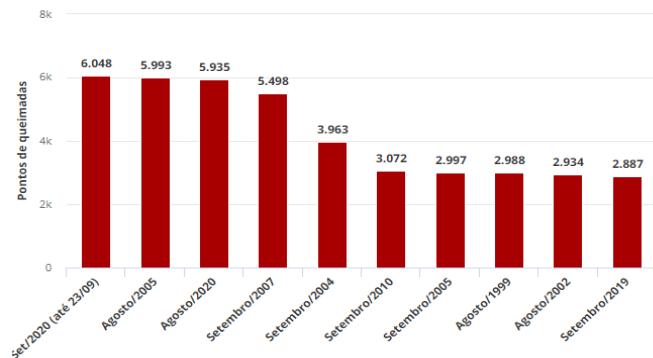
<https://cidades.ibge.gov.br/brasil/go/itaucu/historico>.

Em 11 de outubro de 1948, Itauçu elevou-se à categoria de município, desmembrando-se do município de

- (A) Araçuaçu
- (B) Itaberaí
- (C) Inhumas
- (D) Anápolis

34) Analise o gráfico abaixo:

Meses com mais focos de incêndio no Pantanal, 1998-2020



Fonte: Inpe

<https://g1.globo.com/natureza/noticia/2020/09/24/pantanal-tem-maior-numero-mensal-de-focos-de-incendios-na-historia.ghtml>.

Podemos afirmar que:

I. Os períodos com maior foco de incêndios no Pantanal, entre os anos de 1998 e 2020, ocorreram entre os meses de agosto e setembro, período de elevada umidade relativa do ar.

II. O mês de setembro de 2020 foi o período com maior número de focos de incêndios, superando o mês de agosto de 2020, que já tinha superado esta marca em relação aos anos anteriores.

III. Comparando o mês de setembro de 2020 e 2019, observa-se que até o dia 23 de setembro de 2020 os focos de incêndio ultrapassaram em mais de duas vezes em relação ao mesmo mês no ano de 2019.

Estão corretas:

- (A) Todas as afirmativas.
- (B) Apenas a afirmativa I.
- (C) Apenas a afirmativa II.
- (D) Apenas a afirmativa III.

35) O governo federal reconheceu que a pandemia do novo coronavírus acentuou a desigualdade educacional no País ao afirmar: *"Não é um problema do MEC, mas um problema do Brasil"*.

<https://noticias.r7.com/educacao/volta-as-aulas-e-acesso-a-web-nao-sao-temas-do-mec-diz-ministro-24092020>. (adaptado)

A afirmação *"Não é um problema do MEC, mas um problema do Brasil"* foi proferida pelo ministro da

- (A) Economia, Paulo Guedes.
- (B) Justiça, André Mendonça.
- (C) Educação, Milton Ribeiro.
- (D) Saúde, General Eduardo Pazuello.