

## CADERNO DE PROVA

### CARGO: NUTRICIONISTA

*Leia as instruções antes de iniciar a prova.*

#### 1. O candidato receberá:

**1.1** Um caderno de Provas contendo 40 (quarenta) questões objetivas de múltipla escolha, com 04 (quatro) alternativas para responder as opções A, B, C, e D, sendo que apenas uma 01 (uma) deverá ser assinalada como **correta**.

**1.2** Um cartão de respostas personalizado para a Prova Objetiva.

**1.3** É responsabilidade do candidato, certificar-se que os dados informados nos materiais recebidos estão corretos. *Após ser autorizado o início da prova, verifique no caderno de prova se a numeração das questões e a paginação estão corretas.*

#### 2. Regras gerais:

**2.1** O candidato está autorizado a usar caneta **esferográfica preta** fabricada em material transparente. O descumprimento desta regra será de responsabilidade exclusiva do candidato que poderá ser eliminado do certame, caso não seja possível a leitura ótica do cartão resposta.

**2.2** O candidato dispõe de 3 (Três) horas para realizar a Prova Objetiva, e não poderá entregar a prova e sair do prédio antes de decorrido o tempo mínimo de 1 (uma) hora do início. Após este prazo o candidato poderá entregar o material de prova e sair do prédio, sem o caderno de provas.

**2.3** O candidato poderá levar consigo o caderno de provas quando estiver faltando 30 (trinta) minutos para o término da prova.

**2.4** Durante a prova o candidato não deverá levantar-se ou comunicar-se com outros candidatos.

**2.5** Ao final das provas o candidato deverá entregar: o caderno de prova, o cartão-resposta, texto definitivo (prova de redação) e caso não tenha assinado a lista de presença deverá assiná-la.

**2.6** Os 3 (três) últimos candidatos de cada sala só poderão ser liberados juntos.

#### 3. Preenchimento do cartão- resposta:

**3.1** O candidato deverá assinalar no **CARTÃO-RESPOSTA** uma única alternativa que julgar correta e **sem rasuras**. O preenchimento do cartão deverá obedecer às instruções nele contidas. Observe atentamente o número da questão antes de marcar, pois não haverá substituição do **CARTÃO-RESPOSTA**.

**3.2** Não é permitida a consulta aos apontamentos, livros, dicionários e uso de aparelhos eletrônicos.

**3.3** Será considerada nula a questão que tiver mais de uma alternativa assinalada, com rasuras ou que esteja em branco ou em desacordo com as instruções de preenchimento informadas no cartão resposta.

#### 4. Informações finais:

**4.1** O gabarito das provas objetivas será divulgado no primeiro dia útil subsequente a aplicação da prova nos sites [www.itame.com.br](http://www.itame.com.br) e [www.edeia.go.gov.br](http://www.edeia.go.gov.br)

**4.2** Os Recursos contra itens do gabarito preliminar poderão ser interpostos na forma do Edital Regulamento.

**4.3** Qualquer informação sobre o concurso será fornecida pela Prefeitura Municipal, através da Comissão Especial do Concurso Público, ou pela Banca Examinadora.

REALIZAÇÃO:



Leia o texto para responder as questões 01, 02, 03, 04, 05, 06 e 07.

## TABACARIA

Fernando Pessoa

Não sou nada.

Nunca serei nada.

Não posso querer ser nada.

À parte isso, tenho em mim todos os sonhos do mundo.

Janelas do meu quarto,

Do meu quarto de um dos milhões do mundo que ninguém sabe quem é (E se soubessem quem é, o que saberiam?),

Dais para o mistério de uma rua cruzada constantemente por gente,

Para uma rua inacessível a todos os pensamentos,

Real, impossivelmente real, certa, desconhecidamente certa,

Com o mistério das coisas por baixo das pedras e dos seres,

Com a morte a pôr humidade nas paredes e cabelos brancos nos homens,

Com o Destino a conduzir a carroça de tudo pela estrada de nada.

Estou hoje vencido, como se soubesse a verdade.

Estou hoje lúcido, como se estivesse para morrer,

E não tivesse mais irmandade com as coisas

Senão uma despedida, tornando-se esta casa e este lado da rua

A fileira de carruagens de um comboio, e uma partida apitada

De dentro da minha cabeça,

E uma sacudidela dos meus nervos e um ranger de ossos na ida.

Estou hoje perplexo como quem pensou e achou e esqueceu.

Estou hoje dividido entre a lealdade que devo

À Tabacaria do outro lado da rua, como coisa real por fora,

E à sensação de que tudo é sonho, como coisa real por dentro.

Falhei em tudo.

Como não fiz propósito nenhum, talvez tudo fosse nada.

A aprendizagem que me deram,

Desci dela pela janela das traseiras da casa,

Fui até ao campo com grandes propósitos.

Mas lá encontrei só ervas e árvores,

E quando havia gente era igual à outra.

Saio da janela, sento-me numa cadeira. Em que hei-de pensar?

Que sei eu do que serei, eu que não sei o que sou?

Ser o que penso? Mas penso ser tanta coisa!

E há tantos que pensam ser a mesma coisa que não pode haver tantos!

Génio? Neste momento

Cem mil cérebros se concebem em sonho génios como eu,

E a história não marcará, quem sabe?, nem um,

Nem haverá senão estrume de tantas conquistas futuras.

Não, não creio em mim.

Em todos os manicómios há doidos malucos com tantas certezas!

Eu, que não tenho nenhuma certeza, sou mais certo ou menos certo?

Não, nem em mim...

Em quantas mansardas e não-mansardas do mundo não estão nesta hora génios-para-si-mesmo sonhando?

Quantas aspirações altas e nobres e lúcidas –

Sim, verdadeiramente altas e nobres e lúcidas –,

E quem sabe se realizáveis,

Nunca verão a luz do sol real nem acharão ouvidos de gente?

O mundo é para quem nasce para o conquistar

E não para quem sonha que pode conquistá-lo, ainda que tenha razão.

Tenho sonhado mais que o que Napoleão fez.

Tenho apertado ao peito hipotético mais humanidades do que Cristo,

Tenho feito filosofias em segredo que nenhum Kant escreveu.

Mas sou, e talvez serei sempre, o da mansarda,

Ainda que não more nela;

[...]

Mas um homem entrou na Tabacaria (para comprar tabaco?),

E a realidade plausível cai de repente em cima de mim.

[...]

O homem saiu da Tabacaria (metendo troco na algibeira das calças?).

Ah, conheço-o: é o Esteves sem metafísica.

(O dono da Tabacaria chegou à porta.)

Como por um instinto divino o Esteves voltou-se e viu-me.

Acenou-me adeus gritei-lhe Adeus ó Esteves!, e o universo

Reconstruiu-se-me sem ideal nem esperança, e o dono da Tabacaria sorriu.

(Poesias de Álvaro de Campos. Fernando Pessoa. Lisboa: Atica, 1944-252)

01) Qual é o tema principal do texto?

- (A) Os sonhos.
- (B) A Tabacaria.
- (C) Os sentimentos.
- (D) A aprendizagem.

02) Em conformidade com o texto, os milhões de quartos espalhados pelo mundo, metaforicamente, representam

- (A) as inúmeras carruagens enfileiradas num momento de partida.
- (B) as diversas pessoas que vivem distantes por todo o mundo.
- (C) os milhares de indivíduos que projetam suas ideias e sonham como gênios.
- (D) os quartos dos manicômios de indivíduos com problemas mentais.

03) Considerando o contexto, na quinta estrofe, o eu lírico predominantemente,

- (A) agradece as oportunidades que foram oferecidas a ele e que mudaram a sua vida.
- (B) descreve todos os seus pensamentos positivos mostrando que se tornou o que sonhava ser.
- (C) explica o seu fracasso de vida atribuindo ao fato de nunca ter estabelecido objetivos para si mesmo.
- (D) relata a sua marcante história de vida, lutas, sonhos, suas aspirações altas e conquistas realizadas.

04) De acordo com o contexto, para os versos: “O mundo é para quem nasce para o conquistar” / “E não para quem sonha que pode conquistá-lo, ainda que tenha razão”, a melhor interpretação é:

- (A) o eu poético subestima quem sonha como ele e aprecia quem faz. Para ele, é melhor ter bons propósitos e praticá-los;
- (B) o eu poético sobrestima os sonhadores e valoriza os corajosos. Para ele, é essencial ter inspiração e boas práticas;
- (C) o eu lírico reverencia quem sonha como ele e deprecia quem realiza. Para ele, é importante planejar as ações;
- (D) O eu lírico preza os sonhadores e supervaloriza os sonhos e as conquistas intrêmulas dos indivíduos que têm razão.

05) Considerando os aspectos de coesão e coerência, marque a alternativa em que as substituições, respectivamente, estejam em conformidade com os elementos destacados nos versos:

“Tenho feito filosofias em segredo **que** nenhum Kant escreveu.” / “**Mas** sou, e **talvez** serei sempre, o da mansarda,” / “**Ainda que** não more nela...”

- (A) as quais / Porém / quiçá / Mesmo que.
- (B) em que / Entretanto / sem dúvida / assim que.
- (C) nas quais / Mais / provavelmente / Posto que.
- (D) quais / Todavia / possivelmente / À medida que.

06) Nos versos: “Que sei eu do que serei, eu que não sei o que sou? “/ “Ser o que penso?” /Mas penso ser tanta coisa!”, o emprego insistente do ponto de interrogação e do ponto de exclamação criam um efeito de sentido. Nesse contexto, esses pontos foram usados para

- (A) enfatizar a dúvida e a subjetividade do eu lírico.
- (B) fazer indagações e reforçar a exclamação do eu lírico.
- (C) perguntar e exclamar ao mesmo tempo que o eu lírico expõe sua incerteza.
- (D) induzir o leitor a perceber que as interrogações de ordem direta levam ao sentimentalismo do eu lírico.

07) Em “Do meu quarto de um dos milhões do mundo que ninguém sabe quem é...” Por que a palavra **ninguém** é acentuada?

- (A) A palavra é acentuada por se tratar de uma proparoxítona.
- (B) A palavra é acentuada por ser uma oxítona terminada “em”.
- (C) A palavra é acentuada por ser uma dissílaba terminada em ditongo.
- (D) A palavra é acentuada por ser uma paroxítona e, portanto, todas recebem acento gráfico.

08) Qual é a Figura de Linguagem predominante nos versos de Carlos Queiroz Telles?

Que tarde!  
Além do calor e da prova.  
aquela minissaia  
sentada bem ao meu lado!  
Assim não há memória  
que resista...  
(A) Perífrase.  
(B) Gradação.  
(C) Hipérbole.  
(D) Metonímia.

09) Marque a alternativa em que a concordância verbal está correta, considerando o contexto das frases.

- (A) O professor com o aluno *montou* o brinquedo.
- (B) O governador e seus secretários *traçou* planos para o novo ano.
- (C) Tanto a mãe quanto o pai *ficara* surpresos com a notícia.
- (D) Novelas, filmes, boas conversas, *nada o tiraram* da concentração.

10) Em *Pra mim ir no supermercado*. O nível de linguagem, é considerada:

- (A) Gíria.
- (B) Culta.
- (C) Vulgar.
- (D) Regional.

11) Dos 250 alunos que concluíram o curso de línguas de uma escola, 142 concluiu o curso de inglês e 125 o de espanhol. Somente 12 deles não concluíram nenhuma dessas duas línguas. Sobre esses alunos, é correto o que se afirma em:

- (A) o número de alunos que concluíram as duas línguas é um número ímpar.
- (B) mais de 113 alunos concluíram só o curso de inglês.
- (C) menos de 96 alunos concluíram só o curso de espanhol.
- (D) o número de alunos que concluíram em pelo menos uma dessas duas línguas é maior que 210.

12) Dois advogados deverão analisar 45 processos, e resolveram dividir essa quantidade em partes inversamente proporcional ao respectivo tempo de trabalho de ambos na empresa. Se o primeiro que trabalha na empresa há 28 anos analisar 25 dos processos. Quantos anos de trabalho o segundo tem na empresa?

- (A) 32
- (B) 33
- (C) 34
- (D) 35

13) Uma escola de música oferece cinco cursos de instrumentos musicais. Sabe-se que cada professor dessa escola ministra aulas de exatamente dois instrumentos e que, para cada dois instrumentos, há um único professor que ministra aulas desses dois instrumentos. Então, o número de professores nessa escola é:

- (A) 7

- (B) 8
- (C) 9
- (D) 10

14) Ao longo de uma reunião ministerial, da qual participaram o presidente da República e alguns ministros, foram servidos 37 copos com água. Sabe-se que:

- ✓ todos os participantes da reunião sentaram-se em uma mesa circular;
- ✓ o primeiro a ser servido foi o presidente e, após ele, sucessivamente, todos os demais o foram, um a um, a partir da esquerda do presidente;
- ✓ a cada passagem da bandeja com os copos com água, todas as pessoas se serviram, cada qual de apenas um copo;
- ✓ coube o presidente ser servido do último copo da bandeja.

Considerando que as pessoas podem ter servido mais de um copo com água, o total de participantes dessa reunião ministerial poder ser:

- (A) 15
- (B) 18
- (C) 21
- (D) 24

15) Um carro de corrida leva 3 minutos para percorrer o trajeto da pista. Sendo assim, um carro que passou na velocidade média de 90% da velocidade do primeiro, percorra a mesma pista em:

- (A) 3 minutos e 20 segundos
- (B) 3 minutos e 25 segundos
- (C) 3 minutos e 30 segundos
- (D) 3 minutos e 35 segundos

16) Os guias alimentares tem suas recomendações baseadas no cenário da evolução alimentar e das condições de saúde da população. Sobre o cenário alimentar atual, só não é correto afirmar que:

- (A) padrões de alimentação estão mudando rapidamente na grande maioria dos países e, em particular, naqueles economicamente emergentes;
- (B) as principais mudanças alimentares envolvem a substituição de produtos industrializados prontos para consumo para alimentos minimamente processados de origem vegetal;
- (C) transformações alimentares são observadas com grande intensidade no Brasil, o que determinam desequilíbrio na oferta de nutrientes e a ingestão excessiva de calorias;
- (D) doenças crônicas relacionadas ao consumo excessivo de calorias e à oferta desequilibrada de

nutrientes na alimentação estão ainda mais frequentes. Inicialmente apresentados como doenças de pessoas com idade mais avançada, muitos desses problemas atingem agora adultos jovens e mesmo adolescentes e crianças.

17) O PPRA (Programa de Prevenção de Riscos Ambientais) tem por objetivo estabelecer medidas que visem a eliminação, redução ou controle desses riscos em prol da preservação da integridade física e mental do trabalhador. A normativa que determina a obrigatoriedade de elaboração e implementação do PPRA para todos os empregados e instituições que admitam trabalhadores como empregados é:

- (A) NR-7
- (B) NR-8
- (C) NR-9
- (D) NR-10

18) Na infância ocorre a introdução de alimentos e a formação do paladar e, por isso, constitui um período determinante na formação dos hábitos alimentares. Nessa fase, podem ser definidos os padrões alimentares que estarão presentes nas outras etapas do ciclo de vida. As preferências alimentares são originadas por combinação de fatores genéticos e ambientais. O estabelecimento de hábitos alimentares saudáveis deve ser estimulado precocemente na vida do indivíduo. Em relação à influência dos pais na alimentação dos filhos, é correto afirmar que:

- (A) crianças menores de cinco anos independem dos seus pais para o consumo dos alimentos, apesar do ambiente familiar exercer influência nas escolhas alimentares;
- (B) a família não exerce papel determinante durante o processo de aprendizagem da alimentação das crianças, pois hábitos alimentares estão mais relacionados a hábitos de vida vividos fora do âmbito familiar, como o círculo de amigos na escola, por exemplo;
- (C) a família possui um conjunto de valores, crenças, conhecimentos e hábitos alimentares que podem constituir um fator tanto de proteção quanto de risco para a saúde;
- (D) o padrão alimentar contemporâneo é constituído de alimentos industrializados e altamente processados, de alto valor calórico, rico em gordura e sódio, o que tem sido inserido no contexto domiciliar, contribuindo inevitavelmente para o quadro de obesidade infantil na família, mesmo se não forem disponibilizados pelos pais.

19) Em relação às diferentes estruturas que compõem um cardápio, pode-se dizer que um exemplo de guarnição, é:

- (A) arroz branco;
- (B) arroz branco com feijão de caldo;
- (C) purê de mandioca;
- (D) salada de maionese.

20) Nas atuais discussões sobre padrão alimentar, tem surgido cada vez mais certos transtornos que afetam muitas pessoas. Um transtorno que tem sido muito falado na atualidade é a “vigorexia”, que consiste em:

- (A) períodos de fadiga seguidos por comportamentos saudáveis para ganhar de peso rápido, abuso de café, uso de cocaína e/ou dietas inadequadas;
- (B) peso abaixo do normal, receio de ganhar peso, uma vontade intensa de ser magro e restrições alimentares;
- (C) obsessão por ingerir apenas alimentos considerados "bons" e saudáveis;
- (D) doença psicológica caracterizada por uma insatisfação constante com o corpo, que afeta principalmente os homens, levando-os à prática exaustiva de exercícios físicos.

21) Estudos de identificação de substâncias presentes no café e da relação de muitas delas com a saúde vêm crescendo nas últimas décadas. Alguns estudos verificaram a influência do modo de preparo da bebida sobre o perfil lipídico sérico. Assim, as substâncias presentes no café que podem estar relacionadas com dislipidemias são:

- (A) Cafestol e kahweol;
- (B) Cafestol e Taninos;
- (C) Kahweol e Taninos;
- (D) Cafestol, kahweol e Flavonoides.

22) A respeito do PNAE (Programa Nacional de Alimentação do Escolar) não é correto afirmar que:

- (A) o PNAE é o mais antigo programa do governo brasileiro na área de alimentação escolar e de Segurança Alimentar e Nutricional (SAN), sendo considerado um dos maiores e mais abrangentes do mundo no que se refere ao atendimento universal aos escolares e de garantia do direito humano à alimentação adequada e saudável;
- (B) esta política pública, gerenciada pelo Fundo Nacional de Desenvolvimento da Educação (FNDE), autarquia do Ministério da Educação (MEC), atende de forma complementar todos os alunos matriculados na educação básica das escolas públicas, federais, filantrópicas, comunitárias e confessionais do país,

segundo os princípios do Direito Humano à Alimentação Adequada (DHAA) e da SAN;

(C) o PNAE tem por objetivo contribuir para o crescimento e o desenvolvimento biopsicossocial a aprendizagem, o rendimento escolar e a formação de hábitos saudáveis dos alunos, por meio de ações de educação alimentar e nutricional e da oferta de refeições que cubram as suas necessidades nutricionais durante o período em que permanecem na escola;

(D) são objetivos complementares do PNAE: Envolver todos os entes federados (estados, Distrito Federal e municípios) na execução do Programa; Limitar o exercício do controle social para melhorar a organização das tomadas de decisões; Dinamizar a economia local, contribuindo para geração de emprego e renda; e respeitar os hábitos alimentares e vocação agrícola locais.

23) Ao lidar com manipuladores de alimentos, um bom líder dentro de uma unidade de alimentação e nutrição, pode ser caracterizado por focar em:

- (A) satisfazer as vontades da equipe;
- (B) satisfazer as necessidades da equipe;
- (C) satisfazer suas próprias necessidades;
- (D) satisfazer suas próprias vontades.

24) SIBO (*Small Intestinal Bacterial Overgrowth*) é uma disordem digestiva caracterizada por:

- (A) supercrescimento de bactérias no estômago;
- (B) supercrescimento de bactérias no intestino delgado;
- (C) supercrescimento de bactérias no intestino grosso;
- (D) supercrescimento de bactérias em qualquer porção pequena do intestino;

25) Um quadro de pessoas que pode estar mais susceptível a bactérias nocivas como *Helicobacter Pylori* é:

- (A) pessoas que produzem menos ácido clorídrico do que o normal;
- (B) pessoas que produzem mais ácido clorídrico do que o normal;
- (C) pessoas cujo consumo de antiácidos é evitado;
- (D) pessoas cuja qualidade de vida é boa e os níveis de estresse são controlados.

26) De acordo com o perfil epidemiológico, entre 2009 e 2018, a *Escherichia coli* foi considerada o agente etiológico mais envolvido em surtos de doenças de origem alimentar. A respeito dessa bactéria, só não é correto em:

(A) o gênero *Escherichia* pertence à família *Enterobacteriaceae* cuja espécie mais pesquisada mundialmente é a *E. coli*, devido à sua importância para a saúde pública e à sua recorrência em doenças entéricas;

(B) é uma bactéria gram-positiva, presente no trato intestinal de animais homeotérmicos, entre eles, o ser humano;

(C) apenas uma pequena parte das estirpes apresenta patogenicidade responsável por enfermidades;

(D) essa bactéria é considerada comensal, já que habita o intestino sem causar doenças.

27) A doença de Alzheimer (DA) é o tipo mais comum de demência, termo utilizado para a classificação de doenças e condições caracterizadas pela perda de memória e capacidade cognitiva que acaba por afetar a capacidade do doente de realizar tarefas diárias básicas. Manifesta-se inicialmente pela perda gradual da capacidade de lembrar novas informações, pois os primeiros neurônios a degenerar e morrer são normalmente os que estão localizados nas áreas do cérebro envolvidas na formação de novas memórias. Muito tem se estudado e pesquisas recentes tem mostrado indícios de que hábitos alimentares podem estar relacionados com essa doença, tendo sido chamada inclusive de:

- (A) Diabetes tipo 3;
- (B) Alzheimer do tipo alimentar;
- (C) Hipertensão do Alzheimer;
- (D) Demência alimentar.

28) Considerando os anos históricos da evolução das Políticas de Saúde no Brasil, assinale a alternativa correta

- (A) 1983 – Criação do SUDS – Sistema Único Descentralizado de Saúde.
- (B) 1986 – VIII Conferência Nacional de Saúde.
- (C) 1978 – Criação do CONASP – Conselho Nacional de Administração da Saúde Previdenciária.
- (D) 1988 – Edição das Leis Orgânicas de Saúde.

29) A municipalização plena da saúde é uma estratégia adotada no Brasil, que reconhece o município como principal responsável pela saúde de sua população. Assim, “municipalizar” é transferir para as prefeituras a responsabilidade e os recursos necessários para exercer plenamente as funções de coordenação, negociação, planejamento, acompanhamento, controle, avaliação e auditoria da saúde local, controlando os recursos financeiros, as ações e os serviços de saúde prestados em seu

território. Diante do pressuposto, um de seus princípios é a:

- (A) centralização
- (B) diminuição da participação administrativa
- (C) participação maciça das estatais
- (D) descentralização

30) Em relação ao financiamento da saúde, é correto afirmar que:

- (A) os percentuais de investimento financeiro dos municípios, estados e União no SUS são definidos atualmente pela Lei Complementar nº 243, de 13 de janeiro de 2016;
- (B) municípios e Distrito Federal devem aplicar anualmente, no mínimo, 12% da arrecadação dos impostos em ações e serviços públicos de saúde cabendo aos estados 10%;
- (C) a Constituição Federal de 1988 determina que as três esferas de governo – federal, estadual e municipal – financiem o Sistema Único de Saúde (SUS), gerando receita necessária para custear as despesas com ações e serviços públicos de saúde;
- (D) no caso da União, o montante aplicado deve corresponder ao valor empenhado no exercício financeiro de dois anos anteriores, acrescido do percentual relativo à variação do Produto Nacional Bruto (PNB) do ano antecedente ao da lei orçamentária anual.

31) Em relação ao Decreto 7508/201, assinale a alternativa correta.

- (A) Regulamenta a Lei no 8.080, para dispor sobre a organização do Sistema Único de Saúde - SUS, o planejamento da saúde, a assistência à saúde e a articulação Interfederativa.
- (B) Designa os membros da Comissão Organizadora da 6ª Conferência Nacional de Saúde Indígena
- (C) Dispõe sobre a movimentação de recursos federais transferidos a Estados, Distrito Federal e Municípios.
- (D) Dispõe sobre a organização, as atribuições e o processo eleitoral do Conselho Nacional de Saúde – CNS.

32) Considerando a Norma Operacional da Assistência à Saúde, é correto afirmar.

- (A) A presente norma resulta do incontinuo movimento de pactuação entre os dois níveis de gestão, visando o aprimoramento do Sistema Único de Saúde.
- (B) Estabelece o processo de regionalização como estratégia de hierarquização dos serviços de saúde e de busca de maior equidade.

(C) Ao definir alguns conceitos chaves, define Município-sede como representante da base territorial mínima a ser submetida à aprovação do Ministério da Saúde e Comissão Intergestores Tripartite para qualificação na assistência à saúde.

(D) A Atenção de Média Complexidade (MC) compreende um conjunto de ações e serviços ambulatoriais que visam atender todos os problemas de saúde da população.

33) Sobre as Vantagens Pecuniárias estabelecidas no Estatuto dos Servidores Públicos de Edeia, além dos vencimentos poderá ser pago ao servidor

- (I) incentivo funcional.
- (II) especial de localidade por atividades penosas, insalubres ou perigosas e o adicional noturno, na proporção de até 40% (quarenta por cento) sobre o vencimento.
- (III) progressão horizontal.
- (IV) adicional de tempo de serviço.
- (A) os itens I, II, III e IV estão corretos
- (B) apenas os itens II, III e IV estão corretos
- (C) apenas os itens I, II, e IV estão corretos
- (D) apenas os itens I, III e IV estão corretos

34) De acordo com o Estatuto dos Servidores Públicos de Edeia, o servidor gozará trinta dias consecutivos de férias por ano, concedidas de acordo com a escala organizada pela chefia imediata. Sobre o assunto, analise as afirmativas abaixo e assinale V se (verdadeiro) e F para (falso)

- ( ) É proibida a acumulação de férias, salvo por imperiosa necessidade do serviço e pelo máximo de dois períodos, atestada a necessidade pelo chefe imediato do servidor.
- ( ) Em caso de verdadeira necessidade do serviço ou em se tratando de interesse do servidor, o gozo das férias poderá ser fracionada, desde que o período não seja inferior a 10 (dez) dias consecutivos.
- ( ) A escala de férias não poderá ser alterada pela autoridade superior.
- ( ) O servidor poderá converter 1/3 (um terço) das férias em abono pecuniário, desde que o requeira com pelo menos 30 (trinta) dias de antecedência e que haja interesse do Chefe do respectivo Poder.
- ( ) Perderá o direito de férias o servidor que no período aquisitivo, houver gozado licença-prêmio por assiduidade.
- (A) VVFFV
- (B) VFVVF
- (C) FFVVV
- (D) FVFFV

35) Com base na Lei Orgânica Municipal de Edéia, analise as proposições a seguir

(I) os cargos, empregos e funções públicas são acessíveis somente a brasileiros, desde que estes, preencham os requisitos estabelecidos em lei.

(II) as funções de confiança, exercidas exclusivamente por servidores ocupantes de cargo efetivo, e os cargos em comissão, a serem preenchidos por servidores de carreira nos casos, condições e percentuais mínimos previstos em lei, destinam-se apenas às atribuições de direção, chefia e assessoramento.

(III) não é permitido ao servidor público civil participar de associação sindical.

(IV) é vedada a vinculação ou equiparação de quaisquer espécies remuneratórias para o efeito de remuneração de pessoal do serviço público.

- (A) todas as afirmativas estão corretas
- (B) apenas uma afirmativa está correta
- (C) apenas uma afirmativa está incorreta
- (D) apenas duas afirmativas estão corretas

36) Em relação a Figura 1, responda qual alternativa é correta na utilização deste recurso no Microsoft Excel 2010:

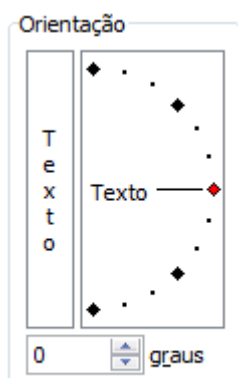
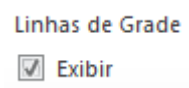


Figura 1

- (A) Permite verticalizar o texto na célula
- (B) Altera a função =orientar
- (C) Insere a porcentagem na célula
- (D) Reduz e aumenta o tamanho da fonte em graus

37) Em relação a caixa de seleção Exibir do Microsoft Excel 2010 no quadro de comandos Linhas de Grade



é correto afirmar:

- (A) Permite visualizar ou ocultar as linhas de grades que ficam entre as linhas e colunas
- (B) Exibe ou oculta à linha da célula selecionada
- (C) Permite inserir as bordas na célula para sair na impressora
- (D) Permite a retirada de erros na fórmula

38) Atualmente a Câmara norte-americana e a maioria do partido democrata aprovaram o impeachment do presidente Donald Trump. De acordo com as leis americanas, o processo tem que passar pelas duas casas: Câmara e Senado. Ao analisar esse contexto democrático, percebe-se que a democracia moderna toma como base:

- (A) democracia brasileira
- (B) democracia ateniense
- (C) democracia estadunidense
- (D) democracia romana

39) A palavra terrorismo têm vários significados ao longo da História. Laqueur, por exemplo, considera que, pelo terrorismo ser um fenômeno histórico, do qual existem inúmeras formas e definições, apenas pode-se dizer dele que é: "[...] o uso da violência por parte de um grupo para fins políticos, normalmente dirigido contra um governo, mas por vezes contra outro grupo étnico, classe, raça, religião ou movimento político. Qualquer tentativa de ser mais específico está voltada ao fracasso, pela simples razão de que não há um, mas muitos terrorismos diferentes" (LAQUEUR, 1999, p. 46). Sobre terrorismo, analise os itens abaixo e escolha a alternativa correta.

I- O Dicionário de Política, que foi organizado por Bobbio, Matteuci e Parquino, traz a abordagem de Bonanate, que discute o terrorismo político como "instrumento ao qual recorrem determinados grupos para derrubar um governo acusado de manter-se por meio de terror" (BONANATE, 1986, p. 242)

II- Embora o terrorismo apresenta-se sob a forma ampliada a uma escala global e promova-se o discurso de que todas as nações estejam sujeitas à "irracionalidade terrorista", determinados países continuam a ter mais probabilidades de sofrer atentados terroristas do que outros, a determinação advém da geopolítica global que se vai construindo.


III- Com a globalização, o terrorismo adquire o contorno da territorialidade, vinculando a identidade daquela região, esse terrorismo é conhecido com "terrorismo transnacional".

(NYE JR. 2005, p. 229)

- (A) Todas as alternativas estão incorretas
- (B) Apenas uma alternativa é verdadeira
- (C) Apenas duas alternativas são verdadeiras
- (D) Todas as alternativas estão corretas



40) Observe a charge:



A charge acima se relaciona a que tipo de floresta:

- (A) Floresta Equatorial
- (B) Floresta Boreal
- (C) Floresta Tropical
- (D) Floresta Temperada