
LÍNGUA PORTUGUESA

TEXTO PARA AS QUESTÕES DE 01 A 06.**Dez minutos de idade***Fernando Sabino*

A enfermeira surgida de uma porta me impôs silêncio com o dedo junto aos lábios e mandou-me entrar. Estava nascendo! Era um menino.

Nem bonito nem feio; tem boca, orelhas, sexo e nariz no seu devido lugar, cinco dedos em cada mão e em cada pé. Realizou a grande temeridade de nascer, e saiu-se bem da empreitada. Já enfrentou dez minutos de vida. Ainda traz consigo, nos olhinhos esgazeados, um resto de eternidade.

Portanto, alegremo-nos. A vida também não é bonita nem feia. Tem bocas que murmuram preces, orelhas sábias no escutar, sexos que se contentam, perfumes vários para o nariz, mãos que se apertam, dedos que acariciam, múltiplos caminhos para os pés. É verdade que algumas palavras, melhor fora nunca dizê-las, outras nunca escutá-las. Olhos há que procuram ver o que não podem, alguns narizes se metem onde não devem. Há muito prazer insatisfeito, muito desejo vão. Mãos que se fecham. Pés que se atropelam. Mas o simples ato de nascer já pressupõe tudo isso, o primeiro ar que se respira já contém as impurezas do mundo. O primeiro vagido é um desafio. A vida aceitou um novo corpo e o batismo vai traçar-lhe um destino. A luta se inicia: mais um que será salvo. Portanto, alegremo-nos.

Menino sem nome ainda, não te prometo nada. Não sei se terás infância: brinquedos, quintal, monte de areia, fruta verde, casca de árvore, passarinho, porão de fantasmas, formigas em fila, beira de rio, galinha no choco, caco de vidro, pé machucado. O mundo de hoje, tal como o estou vendo da janela do meu apartamento, desconfio que te reserva para a infância um miraculoso aparelho eletrocsmogônico de brincar. Ou apenas uma eterna garrafa de Coca-Cola e um delicioso Chicabon.

Aceita, menino, esses inofensivos divertimentos. Leva-os a sério, com toda aquela seriedade grave da infância, chupa o Chicabon, bebe a Coca-Cola, desmonta e torna a montar a miraculosa máquina de brincar de nosso século que a imaginação de teu pai jamais poderia sequer conceber. Impõe a essas coisas e a essa vida que te oferecerão como infância a sofreguidão da tua boca, a ousadia de teus olhos e a força de tuas mãos. Imprime a tudo que tocares a alegria que me deste por nasceres. Qualquer que seja tua infância, conquista-a, que te abençoo. Dela te nascerá uma convicção. Conquista-a também – e vá viver, em meu nome. Nada te posso dar senão um nome.

Nada te posso dar. No teu primeiro instante de vida minha estrela não se apagou. Partiu-se em duas e lá no alto uma delas te espera, será tua. Nada te posso dar senão um nome e esta estrela. Se acreditares em estrela, vai buscá-la.

SABINO, Fernando. Dez minutos de idade. In: *A mulher do vizinho*. Rio de Janeiro: Editora do Autor, 1962. p. 216-218.

Disponível em:

<https://cronicabrasileira.org.br/cronicas/13156/dez-minutos-de-idade>. Acesso em: 08 abr. 2022.

QUESTÃO 01

Nessa crônica, nota-se que a paternidade é encarada pelo autor com

- (A) impaciência.
- (B) indignação.
- (C) sofreguidão.
- (D) indiferença.
- (E) satisfação.

QUESTÃO 02

No terceiro parágrafo do texto, a vida é descrita pelo cronista como

- (A) um caminho de poucas oportunidades verdadeiramente proveitosas.
- (B) um desafio permeado por experiências positivas e negativas.
- (C) um momento feito especialmente para exprimir sentimentos impuros.
- (D) um misto de sensações táteis que confundem, até mesmo, os recém-nascidos.
- (E) uma experiência terrena que nem mesmo a fé e a religião conseguem salvar.

QUESTÃO 03

O tema dessa crônica pode ser resumido da seguinte forma:

- (A) Mensagem de um pai para o filho que acaba de vir ao mundo.
- (B) Conversa entre pai e filho recém-nascido sobre experiências futuristas.
- (C) Mensagem de um pai à enfermeira que cuidou de seu filho na maternidade.
- (D) Resposta de um filho à mensagem de boas-vindas dos pais.
- (E) Mensagem de um pai ao filho que viveu apenas dez minutos.

QUESTÃO 04

No trecho “A vida aceitou um novo corpo e o batismo vai traçar-lhe um destino.”, o pronome *lhe* foi empregado para representar

- (A) o sujeito do verbo *traçar*.
- (B) um adjunto adnominal de *um novo corpo*.
- (C) o objeto direto do verbo *traçar*.
- (D) o objeto indireto do verbo *traçar*.
- (E) um adjunto adverbial do verbo *vai*.

QUESTÃO 05

Por vezes, escritores literários fogem à norma gramatical padrão para a escrita em língua portuguesa devido, por exemplo, a questões de estilo ou a uma adequação de registro em relação ao interlocutor. No caso da colocação pronominal, o autor da crônica não seguiu as regras estabelecidas para a escrita em

- (A) “Portanto, alegremo-nos.”.
- (B) “É verdade que algumas palavras, melhor fora nunca dizê-las [...]”.
- (C) “Menino sem nome ainda, não te prometo nada.”.
- (D) “Qualquer que seja tua infância, conquista-a, que te abençoe.”.
- (E) “Nada te posso dar senão um nome.”.

QUESTÃO 06

No quinto parágrafo do texto, o cronista dá conselhos a seu filho. Nesse contexto, perceba-se que, linguisticamente, tais conselhos partem de

- (A) verbos conjugados no modo subjuntivo.
- (B) substantivos flexionados em gênero.
- (C) verbos conjugados no modo imperativo.
- (D) substantivos flexionados em número.
- (E) verbos conjugados no modo indicativo.

QUESTÃO 07

Leia o trecho a seguir, observando as lacunas deixadas.

“A pesquisa Orla limpa, orla viva - região costeira de Niterói: problemas e soluções, realizada pela Universidade Federal Fluminense (UFF), comprovou, após um ano de estudos, ___ existência de superbactérias nas praias de Niterói, região metropolitana do Rio de Janeiro. O objetivo da pesquisa é avaliar ___ qualidade da areia das praias de Icaraí, Itaipu, Piratininga e São Francisco, ___ partir da investigação da relação entre ___ ocorrência do poluente microplástico e de superbactérias, que possuem resistência para diferentes antibióticos e que podem causar infecções difíceis de tratamento. [...]”

GANDRA, Alana. Pesquisa da UFF comprova existência de superbactérias nas praias. *Jornal do Brasil*, 09 de abril de 2022. Disponível em: <https://www.jb.com.br/pais/meio-ambiente/2022/04/1036845-pesquisa-da-uff-comprova-existencia-de-superbacterias-nas-praias.html>. Acesso em: 09 abr. 2022.

Completam as lacunas, na ordem em que elas aparecem,

- (A) à / à / à / à.
- (B) a / a / à / à.
- (C) à / a / a / à.
- (D) a / à / à / a.
- (E) a / a / a / a.

QUESTÃO 08

Leia o excerto a seguir.

“Em português ela é a capital da Luisiana, berço do jazz e cidade que nunca dorme. Em inglês é a Big Easy, The Crescent City ou NOLA. São inúmeros os nomes que tentam definir ou abreviar o espírito de Nova Orleans, mas uma coisa é certa: ela é apaixonante. A cidade nos presenteia com uma atmosfera vibrante, assim como uma cena cultural e gastronômica que pulsa pelas ruas repletas de casarões históricos. [...]”

FILOMENO, Daniela. Os sons e os sabores de Nova Orleans, a terra do jazz nos Estados Unidos. *CNN Brasil*, 08 de abril de 2022. Viagem e Gastronomia. Disponível em: <https://viagemgastronomia.cnnbrasil.com.br/cnn-viagem-gastronomia/os-sons-e-os-sabores-de-nova-orleans-a-terra-do-jazz-nos-estados-unidos/>. Acesso em: 09 abr. 2022.

As vírgulas utilizadas nos dois primeiros períodos desse fragmento têm a função de

- (A) separar elementos em uma enumeração.
- (B) isolar expressões apositivas.
- (C) delimitar uma estrutura vocativa.
- (D) isolar adjuntos adverbiais extensos.
- (E) marcar elipses de itens lexicais.

QUESTÃO 09

Leia o trecho abaixo, observando a conjunção em destaque.

“Vivemos sob o impacto mundial das diferentes variantes do coronavírus que causa a covid-19. Embora contemos com tecnologia e conhecimento para que uma nova pandemia não nos pegue de surpresa, é preciso um investimento adicional: dirigir os esforços para a pesquisa da origem e da evolução desses vírus. Só assim aprimoraremos nosso entendimento sobre o comportamento e a diversidade das espécies para um combate mais eficaz e específico.”

BRANDÃO, Paulo Eduardo. A evolução não para. *Ciência Hoje*, 01 de abril de 2022. Disponível em: <https://cienciahoje.org.br/artigo/a-evolucao-nao-para/>. Acesso em: 09 abr. 2022.

A conjunção sublinhada nesse trecho pode ser substituída, sem acarretar alteração de sentido ao período em que ela ocorre, por

- (A) “Portanto”.
- (B) “Não obstante”.
- (C) “Porque”.
- (D) “À medida que”.
- (E) “Enquanto”.

QUESTÃO 10

Leia a tirinha a seguir.



LEITE, Will. *Anésia #610*. Disponível em: <http://www.willtirando.com.br/anesia-610/>. Acesso em: 08 abr. 2022.

O humor dessa tirinha reside na ambiguidade de um item lexical presente nas falas das personagens. Tal item pertence à classe

- (A) dos pronomes.
- (B) das conjunções.
- (C) dos substantivos.
- (D) dos verbos.
- (E) das preposições.

MATEMÁTICA
QUESTÃO 11

A professora Fernanda escreveu no quadro a seguinte operação com os números reais:

$$\frac{-7,5}{-0,25} =$$

Sobre o resultado dessa operação, podemos afirmar que:

- (A) é um número natural.
- (B) é um número inteiro negativo.
- (C) é um número racional e inteiro.
- (D) é um número real, mas não racional.
- (E) é um número irracional.

QUESTÃO 12

Em um tanque há duas torneiras. Quando somente a primeira é aberta, esse tanque fica totalmente cheia em 4 horas. Quando somente a segunda é aberta, esse tanque enche em 5 horas. Dessa forma, se as duas forem abertas juntas, em quanto tempo encherão completamente, esse mesmo tanque?

- (A) 1 hora e 12 minutos.
- (B) 1 hora e 48 minutos.
- (C) 2 horas.
- (D) 2 horas e 12 minutos.
- (E) 2 horas e 48 minutos.

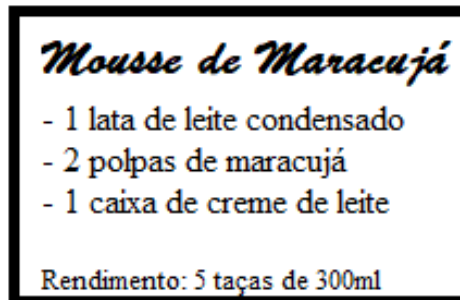
QUESTÃO 13

Na Black Friday, uma sorveteria oferece 10% de desconto. Cecília, comprou dois potes de sorvete que antes da promoção custavam R\$ 18,00 e R\$ 24,00. Dessa forma, o valor gasto por Cecília na compra desses dois potes durante a Black Friday foi de:

- (A) R\$ 35,00.
- (B) R\$ 37,80.
- (C) R\$ 39,60.
- (D) R\$ 40,20.
- (E) R\$ 42,00.

QUESTÃO 14

Aline deseja fazer a seguinte sobremesa para sua família:

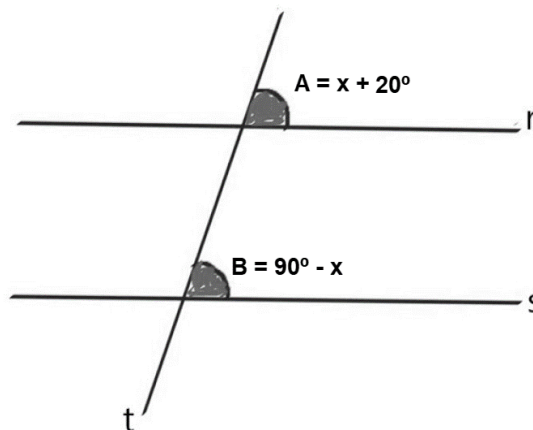


Dessa forma, para preparar 6 litros desse doce, quantas latas de leite condensado serão necessárias?

- (A) 2 latas.
- (B) 3 latas.
- (C) 4 latas.
- (D) 5 latas.
- (E) 6 latas.

QUESTÃO 15

A reta t é uma reta transversal que corta as retas paralelas r e s.

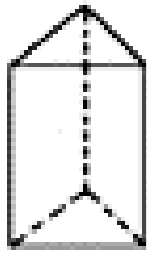


Considerando os valores apresentados na figura, é correto afirmar que os ângulos A e B medem:

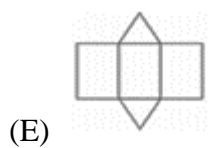
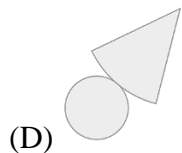
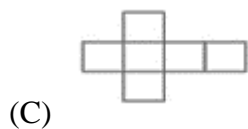
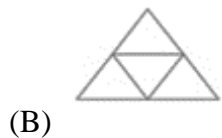
- (A) 20°.
- (B) 35°.
- (C) 55°.
- (D) 70°.
- (E) 110°.

QUESTÃO 16

A imagem abaixo representa um determinado sólido geométrico:

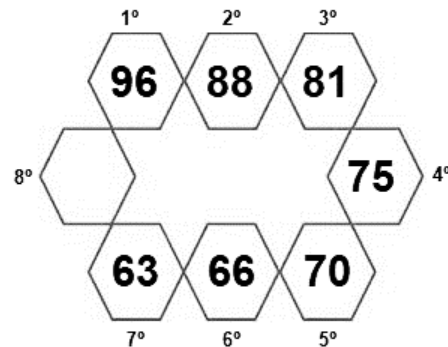


A planificação desse sólido é:



QUESTÃO 17

Observe a sequência numérica:



O 8º termo da sequência, que completa a figura é:

- (A) 55.
- (B) 59.
- (C) 61.
- (D) 68.
- (E) 71.

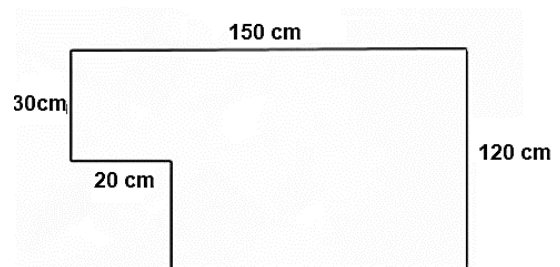
QUESTÃO 18

Um triângulo retângulo possui catetos medindo 18 cm e 24 cm. Desse modo, é correto afirmar que sua hipotenusa mede:

- (A) 27 cm.
- (B) 30 cm.
- (C) 42 cm.
- (D) 60 cm.
- (E) 90 cm.

QUESTÃO 19

Mateus deseja cercar uma área de seu quintal que possui as seguintes dimensões:



Dessa forma, quantos metros de cerca serão necessários?

- (A) 3,2 m.
- (B) 5,4 m.
- (C) 6,8 m.
- (D) 32 m.
- (E) 54 m.

QUESTÃO 20

A imagem a seguir representa a previsão do tempo do fim de semana para determinada cidade.



Dessa forma, é correto afirmar que as médias das temperaturas mínima e máxima para o sábado e para o domingo, respectivamente, é igual a:

- (A) 25° e 30°.
- (B) 30° e 27°.
- (C) 27° e 25°.
- (D) 23° e 27°.
- (E) 25° e 23°.

**ATUALIDADES
QUESTÃO 21**

As temperaturas mundiais estão subindo por causa da atividade humana. Se a situação não for controlada, os humanos e a natureza passarão por um aquecimento catastrófico, com o agravamento das secas, maior aumento do nível do mar e extinção em massa de espécies. (Fonte: g1.globo.com)

A situação descrita no trecho anterior remete principalmente:

- (A) ao desmatamento.
- (B) as mudanças climáticas.
- (C) a alteração no ritmo anual de chuvas.
- (D) a perda de reservas ecológicas mundiais.
- (E) a falta de políticas públicas de sustentabilidade.

QUESTÃO 22

A área de ciência e tecnologia foi uma das que mais sofreram queda no volume de investimentos no Brasil. Isso tem levado os nossos pesquisadores a deixar o país. (Fonte: g1.globo.com)

Esse fenômeno recebe o nome de:

- (A) exportação de profissionais qualificados.
- (B) fuga de sábios.
- (C) emigração de inteligentes.
- (D) fuga de cérebros.
- (E) exportação de mestres .

QUESTÃO 23

O combate ao abuso sexual de crianças e adolescentes é o tema de uma campanha de conscientização do Ministério da Mulher, da Família e dos Direitos Humanos (MMFDH). (Fonte: www.gov.br)

Essa campanha recebe o nome de:

- (A) Abril verde.
- (B) Maio Laranja.
- (C) Junho Vermelho.
- (D) Agosto Dourado.
- (E) Setembro amarelo.

QUESTÃO 24

Após meses de escalada militar e tensão na fronteira com a Ucrânia, a Rússia atacou o país do Leste Europeu no amanhecer do dia 24 de fevereiro, quando as forças russas começaram a bombardear diversas regiões do país. A escalada no conflito de anos entre a Rússia e a Ucrânia desencadeou a maior crise de segurança no continente desde a Guerra Fria, levantando o espectro de um confronto perigoso entre as potências ocidentais e Moscou. (Fonte: cnnbrasil.com.br)

Sobre as tensões entre Rússia e Ucrânia, é correto afirmar que:

- (A) A Rússia foi dominada pelo Império Ucraniano e teve sua independência ucraniana apenas em 1991.
- (B) A aproximação da Ucrânia com o Ocidente é vista com desconfiança pela Rússia, que teme a perda de uma importante área de influência.
- (C) A Ucrânia não recebeu apoio de nações ocidentais, como os Estados Unidos e o Reino Unido, para impedir uma possível invasão russa.
- (D) Durante o contexto soviético, a população russa teve a sua liberdade reprimida pela Ucrânia, por meio da imposição de práticas culturais e linguísticas.
- (E) Um dos motivos da atual guerra é a invasão ucraniana na península da Crimeia, parte do território russo, em 2014.

QUESTÃO 25

A Fifa sorteou na tarde desta sexta-feira (1º de abril) os grupos da Copa do Mundo. O Brasil está no Grupo G do Mundial e vai estreiar no dia 24 de novembro contra a Sérvia, às 16h (de Brasília). Suíça e Camarões completam a chave da Seleção, que fugiu de Holanda e Alemanha. Os tetracampeões mundiais enfrentarão a Espanha. (Fonte: ge.globo.com)

O país que irá sediar a Copa do Mundo em 2022 é:

- (A) Alemanha.
- (B) Bélgica.
- (C) Catar .
- (D) Dinamarca.
- (E) Emirados Árabes Unidos.

**NOÇÕES DE INFORMÁTICA
QUESTÃO 26**

Na guia “Exibição” do PowerPoint, existem 5 opções para que um documento seja exibido na tela do computador. Sobre o “Modo Classificação de Slides”, é correto afirmar que:

- (A) serve essencialmente para a ordenação dos slides para a apresentação, exibindo os slides em miniatura e permitindo inserir e excluir os slides, sem ter a opção de editá-los.
- (B) é usado para a edição do conteúdo dos slides, como se fosse a área de trabalho do PowerPoint, permitindo inserir, excluir e editar slides.
- (C) exhibe somente o conteúdo de texto dos slides no painel esquerdo da tela.
- (D) exhibe como ficará a apresentação se for impressa no papel juntamente com as anotações do orador, permitindo editar apenas as anotações, pois o slide é exibido como imagem.
- (E) exhibe um slide por vez em tela cheia, permitindo inserir anotações à tinta com o mouse.

QUESTÃO 27

Qual a função do comando “CTRL+ALT+DEL” no Windows 7?

- (A) Esse comando abre o gerenciador de tarefas, permitindo que programas travados sejam fechados.
- (B) Abrir o Windows Explorer.
- (C) Ele alterna as guias (abas) das janelas que tem abas, avançando, e em alguns programas, alterna os documentos abertos.
- (D) Copiar uma imagem da tela atual para a área de transferência.
- (E) Selecionar os menus do programa atual.

QUESTÃO 28

Qual a função utilizada no Excel que remove do texto todos os caracteres não imprimíveis?

- (A) CLEAN.
- (B) TRIM.
- (C) TEXT.
- (D) CHAR.
- (E) CONVERT.

QUESTÃO 29

No MS-Word, existem alguns atalhos que facilitam certas ações para o usuário. Nesse sentido, qual comando é utilizado para abrir a janela de impressão?

- (A) CTRL+P.
- (B) CTRL+S.
- (C) CTRL+W.
- (D) ALT+SHIFT+C.
- (E) CTRL+ALT+S.

QUESTÃO 30

O campo “Cco” do correio eletrônico é utilizado com o objetivo de:

- (A) ocultar a lista de destinatários.
- (B) deixar a mostra a lista de destinatários.
- (C) anexar imagens.
- (D) anexar documentos.
- (E) colocar o assunto tratado no e-mail.

CONHECIMENTOS ESPECÍFICOS**QUESTÃO 31**

Ao desenvolver atividades de orientação e prevenção com pacientes hipertensos, são orientações corretas dadas pelos Agentes Comunitários:

- (A) Consumo de diversos tipos de sais, para evitar a sobrecarga de sódio, auxiliam no controle da hipertensão.
- (B) Açúcar não tem relação com a pressão alta, então os doces são liberados, a não ser para os hipertensos diabéticos.
- (C) O consumo de água deve ser controlado, para evitar sobrecarga renal.
- (D) Dar preferência aos alimentos fritos e assados, ao invés de cozidos, que perdem suas propriedades nutricionais.
- (E) Praticar atividades físicas, pelo menos, 5 vezes por semana, por 30 minutos.

QUESTÃO 32

Com relação aos fatores de risco para o desenvolvimento de hipertensão arterial, qual das alternativas abaixo não se enquadra em condições e hábitos de vida?

- (A) Morte prematura e súbita de familiares próximos (de primeiro grau).
- (B) Tabagismo.
- (C) Uso de álcool ou drogas ilícitas.
- (D) Situação familiar, condições de trabalho.
- (E) Grau de escolaridade.

QUESTÃO 33

São condutas que devem fazer parte do trabalho de toda a equipe a fim de garantir o fortalecimento do vínculo, a garantia da efetividade do cuidado, a adesão aos protocolos e a autonomia do paciente diabético:

I - Oferecer cuidado a todos os pacientes, com sensibilidade para aspectos culturais e desejos pessoais, na visão de cuidado integral centrado na família.

II - Avaliar periodicamente o estado psicológico dos pacientes e sua sensação de bem-estar, levando em consideração a carga de portar uma doença crônica, respeitando as crenças e atitudes dos pacientes. Explicitar os objetivos e abordar as implicações de um tratamento longo e continuado.

III - Estimular que os pacientes se organizem em grupos de ajuda mútua, como, por exemplo, grupos de caminhada, trocas de receitas, técnicas de autocuidado, entre outros.

Está correto o que se afirma em:

- (A) I e II, apenas.
- (B) I e III, apenas.
- (C) II e III, apenas.
- (D) I, II e III.
- (E) III, apenas.

QUESTÃO 34

O desenvolvimento do diabetes tipo 1 pode ocorrer de forma rapidamente progressiva, principalmente, em:

- (A) crianças e adolescentes.
- (B) idosos.
- (C) gestantes.
- (D) portadores de Hiv.
- (E) homens adultos.

QUESTÃO 35

Sobre os pilares e componentes da Estratégia pelo Fim da Tuberculose (TB) do Ministério da Saúde, prevenção e cuidado integrado e centrado no paciente envolve as seguintes ações, exceto:

- (A) Compromisso político, alocação adequada de recursos para o cuidado e prevenção da tuberculose.
- (B) Tratamento preventivo para pessoas com alto risco de adoecimento e vacina contra a tuberculose.
- (C) Atividades colaborativas TB-HIV e manejo de outras comorbidades.
- (D) Tratamento de todos os casos de tuberculose, incluindo casos de tuberculose drogarresistente e apoio ao paciente.
- (E) Diagnóstico precoce, teste de sensibilidade antimicrobiano universal, investigação sistemática dos contatos e das populações mais vulneráveis.

QUESTÃO 36

Com relação à dengue, responda certo (C) ou errado (E) e assinale a alternativa que traz a sequência correta:

() O transmissor (vetor) da dengue é o mosquito *Aedes aegypti*, que precisa de água parada para se proliferar.

() O período do ano com maior transmissão são os meses mais chuvosos de cada região, mas é importante manter a higiene e evitar água parada todos os dias, porque os ovos do mosquito podem sobreviver por um ano até encontrar as melhores condições para se desenvolver.

() Dengue é uma doença febril grave causada por um adenovírus. Adenovírus são vírus transmitidos por picadas de insetos, especialmente os mosquitos.

- (A) C – E – C.
- (B) C – C – E.
- (C) C – E – E.
- (D) E – E – C.
- (E) E – C – E.

QUESTÃO 37

De acordo com o Ministério da Saúde, qual a base do trabalho do Agente Comunitário de Saúde?

- (A) A região de saúde.
- (B) Os centros de atenção psicossocial.
- (C) A família disfuncional.
- (D) O território.
- (E) A Unidade Básica de Saúde.

QUESTÃO 38

São atribuições específicas do Agente Comunitário de Saúde:

I - Trabalhar com adscrição de famílias em base geográfica definida, a microárea.

II - Cadastrar todas as pessoas de sua microárea e manter os cadastros atualizados.

III - Acompanhar, por meio de visita domiciliar, todas as famílias e indivíduos sob sua responsabilidade. As visitas deverão ser programadas em conjunto com a equipe, considerando os critérios de risco e vulnerabilidade de modo que famílias com maior necessidade sejam visitadas mais vezes, mantendo como referência a média de uma visita/família/mês.

Sobre os itens acima, está correto o que se afirma em:

- A) I, apenas.
- B) I e II, apenas.
- C) II e III, apenas.
- D) I e III, apenas.
- E) I, II e III.

QUESTÃO 39

Através desse princípio o SUS deve se organizar de forma que garanta a oferta necessária aos indivíduos e à coletividade, independentemente das condições econômicas, da idade, do local de moradia e outros, com ações e serviços de promoção à saúde, prevenção de doenças, tratamento e reabilitação. Não ocorre apenas em um único local, mas no sistema como um todo e só será alcançada como resultado do trabalho integrado e solidário dos gestores e trabalhadores da saúde, com seus múltiplos saberes e práticas, assim como da articulação entre os diversos serviços de saúde. Trata-se da:

- (A) Universalidade.
- (B) Descentralização.
- (C) Integralidade.
- (D) Hierarquização.
- (E) Participação Popular.

QUESTÃO 40

A _____ é uma das etapas do diagnóstico da comunidade, assim como a análise e interpretação dos dados coletados, identificação dos problemas, necessidades, recursos e grupos de risco. Com base nas informações coletadas e analisadas, o próximo passo é o planejamento e programação das ações prioritizadas.

Assinale a alternativa que preenche corretamente a lacuna do texto:

- (A) Adscrição das famílias.
- (B) Coleta de dados.
- (C) Consulta médica.
- (D) Visita domiciliar.
- (E) Intervenção comunitária.