
LÍNGUA PORTUGUESA

Dez minutos de idade*Fernando Sabino*

A enfermeira surgida de uma porta me impôs silêncio com o dedo junto aos lábios e mandou-me entrar. Estava nascendo! Era um menino.

Nem bonito nem feio; tem boca, orelhas, sexo e nariz no seu devido lugar, cinco dedos em cada mão e em cada pé. Realizou a grande temeridade de nascer, e saiu-se bem da empreitada. Já enfrentou dez minutos de vida. Ainda traz consigo, nos olhinhos esgazeados, um resto de eternidade.

Portanto, alegremo-nos. A vida também não é bonita nem feia. Tem bocas que murmuram preces, orelhas sábias no escutar, sexos que se contentam, perfumes vários para o nariz, mãos que se apertam, dedos que acariciam, múltiplos caminhos para os pés. É verdade que algumas palavras, melhor fora nunca dizê-las, outras nunca escutá-las. Olhos há que procuram ver o que não podem, alguns narizes se metem onde não devem. Há muito prazer insatisfeito, muito desejo vão. Mãos que se fecham. Pés que se atropelam. Mas o simples ato de nascer já pressupõe tudo isso, o primeiro ar que se respira já contém as impurezas do mundo. O primeiro vagido é um desafio. A vida aceitou um novo corpo e o batismo vai traçar-lhe um destino. A luta se inicia: mais um que será salvo. Portanto, alegremo-nos.

Menino sem nome ainda, não te prometo nada. Não sei se terás infância: brinquedos, quintal, monte de areia, fruta verde, casca de árvore, passarinho, porão de fantasmas, formigas em fila, beira de rio, galinha no choco, caco de vidro, pé machucado. O mundo de hoje, tal como o estou vendo da janela do meu apartamento, desconfio que te reserva para a infância um miraculoso aparelho eletrocosmogônico de brincar. Ou apenas uma eterna garrafa de Coca-Cola e um delicioso Chicabon.

Aceita, menino, esses inofensivos divertimentos. Leva-os a sério, com toda aquela seriedade grave da infância, chupa o Chicabon, bebe a Coca-Cola, desmonta e torna a montar a miraculosa máquina de brincar de nosso século que a imaginação de teu pai jamais poderia sequer conceber. Impõe a essas coisas e a essa vida que te oferecerão como infância a sofreguidão da tua boca, a ousadia de teus olhos e a força de tuas mãos. Imprime a tudo que tocares a alegria que me deste por nasceres. Qualquer que seja tua infância, conquista-a, que te abençoo. Dela te nascerá uma convicção. Conquista-a também – e vá viver, em meu nome. Nada te posso dar senão um nome.

Nada te posso dar. No teu primeiro instante de vida minha estrela não se apagou. Partiu-se em duas e lá no alto uma delas te espera, será tua. Nada te posso dar senão um nome e esta estrela. Se acreditares em estrela, vai buscá-la.

SABINO, Fernando. Dez minutos de idade. In: *A mulher do vizinho*. Rio de Janeiro: Editora do Autor, 1962. p. 216-218. Disponível em: <https://cronicabrasileira.org.br/cronicas/13156/dez-minutos-de-idade>. Acesso em: 08 abr. 2022.

QUESTÃO 01

Nessa crônica, nota-se que a paternidade é encarada pelo autor com

- (A) impaciência.
- (B) indignação.
- (C) sofreguidão.
- (D) indiferença.
- (E) satisfação.

QUESTÃO 02

No terceiro parágrafo do texto, a vida é descrita pelo cronista como

- (A) um caminho de poucas oportunidades verdadeiramente proveitosas.
- (B) um desafio permeado por experiências positivas e negativas.
- (C) um momento feito especialmente para exprimir sentimentos impuros.
- (D) um misto de sensações táteis que confundem, até mesmo, os recém-nascidos.
- (E) uma experiência terrena que nem mesmo a fé e a religião conseguem salvar.

QUESTÃO 03

O tema dessa crônica pode ser resumido da seguinte forma:

- (A) Mensagem de um pai para o filho que acaba de vir ao mundo.
- (B) Conversa entre pai e filho recém-nascido sobre experiências futuristas.
- (C) Mensagem de um pai à enfermeira que cuidou de seu filho na maternidade.
- (D) Resposta de um filho à mensagem de boas-vindas dos pais.
- (E) Mensagem de um pai ao filho que viveu apenas dez minutos.

QUESTÃO 04

No trecho “A vida aceitou um novo corpo e o batismo vai traçar-lhe um destino.”, o pronome *lhe* foi empregado para representar

- (A) o sujeito do verbo *traçar*.
- (B) um adjunto adnominal de *um novo corpo*.
- (C) o objeto direto do verbo *traçar*.
- (D) o objeto indireto do verbo *traçar*.
- (E) um adjunto adverbial do verbo *vai*.

QUESTÃO 05

Por vezes, escritores literários fogem à norma gramatical padrão para a escrita em língua portuguesa devido, por exemplo, a questões de estilo ou a uma adequação de registro em relação ao interlocutor. No caso da colocação pronominal, o autor da crônica não seguiu as regras estabelecidas para a escrita em

- (A) “Portanto, alegremo-nos.”.
- (B) “É verdade que algumas palavras, melhor fora nunca dizê-las [...]”.
- (C) “Menino sem nome ainda, não te prometo nada.”.
- (D) “Qualquer que seja tua infância, conquista-a, que te abençoe.”.
- (E) “Nada te posso dar senão um nome.”.

QUESTÃO 06

No quinto parágrafo do texto, o cronista dá conselhos a seu filho. Nesse contexto, perceba-se que, linguisticamente, tais conselhos partem de

- (A) verbos conjugados no modo subjuntivo.
- (B) substantivos flexionados em gênero.
- (C) verbos conjugados no modo imperativo.
- (D) substantivos flexionados em número.
- (E) verbos conjugados no modo indicativo.

QUESTÃO 07

Leia o trecho a seguir, observando as lacunas deixadas.

“A pesquisa Orla limpa, orla viva - região costeira de Niterói: problemas e soluções, realizada pela Universidade Federal Fluminense (UFF), comprovou, após um ano de estudos, ___ existência de superbactérias nas praias de Niterói, região metropolitana do Rio de Janeiro. O objetivo da pesquisa é avaliar ___ qualidade da areia das praias de Icaraí, Itaipu, Piratininga e São Francisco, ___ partir da investigação da relação entre ___ ocorrência do poluente microplástico e de superbactérias, que possuem resistência para diferentes antibióticos e que podem causar infecções difíceis de tratamento. [...]”

GANDRA, Alana. Pesquisa da UFF comprova existência de superbactérias nas praias. *Jornal do Brasil*, 09 de abril de 2022. Disponível em: <https://www.jb.com.br/pais/meio-ambiente/2022/04/1036845-pesquisa-da-uff-comprova-existencia-de-superbacterias-nas-praias.html>. Acesso em: 09 abr. 2022.

Completam as lacunas, na ordem em que elas aparecem,

- (A) à / à / à / à.
- (B) a / a / à / à.
- (C) à / a / a / à.
- (D) a / à / à / a.
- (E) a / a / a / a.

QUESTÃO 08

Leia o excerto a seguir.

“Em português ela é a capital da Luisiana, berço do jazz e cidade que nunca dorme. Em inglês é a Big Easy, The Crescent City ou NOLA. São inúmeros os nomes que tentam definir ou abreviar o espírito de Nova Orleans, mas uma coisa é certa: ela é apaixonante. A cidade nos presenteia com uma atmosfera vibrante, assim como uma cena cultural e gastronômica que pulsa pelas ruas repletas de casarões históricos. [...]”

FILOMENO, Daniela. Os sons e os sabores de Nova Orleans, a terra do jazz nos Estados Unidos. *CNN Brasil*, 08 de abril de 2022. Viagem e Gastronomia. Disponível em: <https://viagemgastronomia.cnnbrasil.com.br/cnn-viagem-gastronomia/os-sons-e-os-sabores-de-nova-orleans-a-terra-do-jazz-nos-estados-unidos/>. Acesso em: 09 abr. 2022.

As vírgulas utilizadas nos dois primeiros períodos desse fragmento têm a função de

- (A) separar elementos em uma enumeração.
- (B) isolar expressões apositivas.
- (C) delimitar uma estrutura vocativa.
- (D) isolar adjuntos adverbiais extensos.
- (E) marcar elipses de itens lexicais.

QUESTÃO 09

Leia o trecho abaixo, observando a conjunção em destaque.

“Vivemos sob o impacto mundial das diferentes variantes do coronavírus que causa a covid-19. Embora contemos com tecnologia e conhecimento para que uma nova pandemia não nos pegue de surpresa, é preciso um investimento adicional: dirigir os esforços para a pesquisa da origem e da evolução desses vírus. Só assim aprimoraremos nosso entendimento sobre o comportamento e a diversidade das espécies para um combate mais eficaz e específico.”

BRANDÃO, Paulo Eduardo. A evolução não para. *Ciência Hoje*, 01 de abril de 2022. Disponível em: <https://cienciahoje.org.br/artigo/a-evolucao-nao-para/>. Acesso em: 09 abr. 2022.

A conjunção sublinhada nesse trecho pode ser substituída, sem acarretar alteração de sentido ao período em que ela ocorre, por

- (A) “Portanto”.
- (B) “Não obstante”.
- (C) “Porque”.
- (D) “À medida que”.
- (E) “Enquanto”.

QUESTÃO 10

Leia a tirinha a seguir.



LEITE, Will. *Anésia #610*. Disponível em: <http://www.willtirando.com.br/anesia-610/>. Acesso em: 08 abr. 2022.

O humor dessa tirinha reside na ambiguidade de um item lexical presente nas falas das personagens. Tal item pertence à classe

- (A) dos pronomes.
- (B) das conjunções.
- (C) dos substantivos.
- (D) dos verbos.
- (E) das preposições.

MATEMÁTICA
QUESTÃO 11

A professora Fernanda escreveu no quadro a seguinte operação com os números reais:

$$\frac{-7,5}{-0,25} =$$

Sobre o resultado dessa operação, podemos afirmar que:

- (A) é um número natural.
- (B) é um número inteiro negativo.
- (C) é um número racional e inteiro.
- (D) é um número real, mas não racional.
- (E) é um número irracional.

QUESTÃO 12

Em um tanque há duas torneiras. Quando somente a primeira é aberta, esse tanque fica totalmente cheia em 4 horas. Quando somente a segunda é aberta, esse tanque enche em 5 horas. Dessa forma, se as duas forem abertas juntas, em quanto tempo encherão completamente, esse mesmo tanque?

- (A) 1 hora e 12 minutos.
- (B) 1 hora e 48 minutos.
- (C) 2 horas.
- (D) 2 horas e 12 minutos.
- (E) 2 horas e 48 minutos.

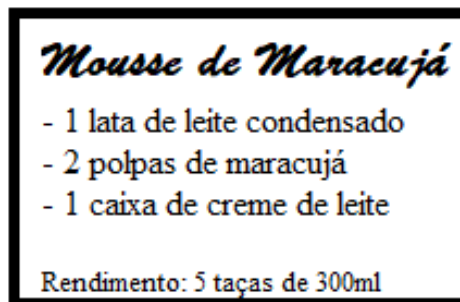
QUESTÃO 13

Na Black Friday, uma sorveteria oferece 10% de desconto. Cecília, comprou dois potes de sorvete que antes da promoção custavam R\$ 18,00 e R\$ 24,00. Dessa forma, o valor gasto por Cecília na compra desses dois potes durante a Black Friday foi de:

- (A) R\$ 35,00.
- (B) R\$ 37,80.
- (C) R\$ 39,60.
- (D) R\$ 40,20.
- (E) R\$ 42,00.

QUESTÃO 14

Aline deseja fazer a seguinte sobremesa para sua família:

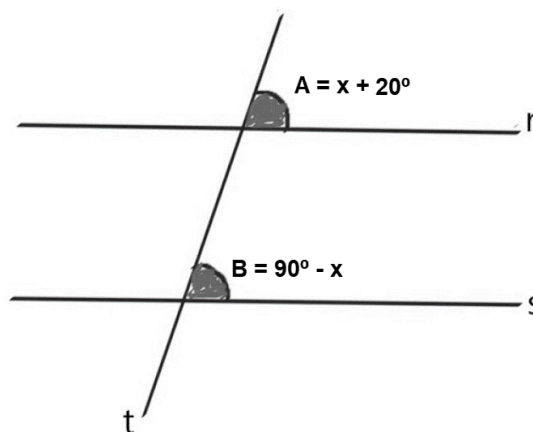


Dessa forma, para preparar 6 litros desse doce, quantas latas de leite condensado serão necessárias?

- (A) 2 latas.
- (B) 3 latas.
- (C) 4 latas.
- (D) 5 latas.
- (E) 6 latas.

QUESTÃO 15

A reta t é uma reta transversal que corta as retas paralelas r e s.

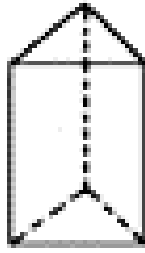


Considerando os valores apresentados na figura, é correto afirmar que os ângulos A e B medem:

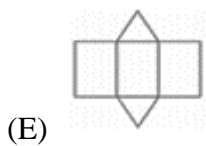
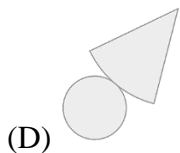
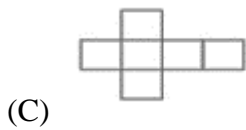
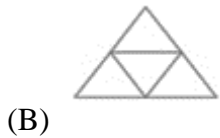
- (A) 20°.
- (B) 35°.
- (C) 55°.
- (D) 70°.
- (E) 110°.

QUESTÃO 16

A imagem abaixo representa um determinado sólido geométrico:

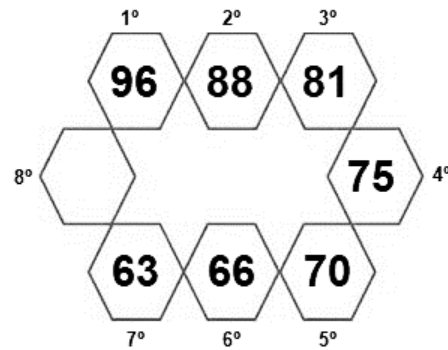


A planificação desse sólido é:



QUESTÃO 17

Observe a sequência numérica:



O 8º termo da sequência, que completa a figura é:

- (A) 55.
- (B) 59.
- (C) 61.
- (D) 68.
- (E) 71.

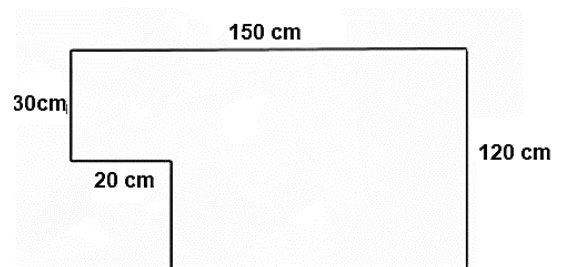
QUESTÃO 18

Um triângulo retângulo possui catetos medindo 18 cm e 24 cm. Desse modo, é correto afirmar que sua hipotenusa mede:

- (A) 27 cm.
- (B) 30 cm.
- (C) 42 cm.
- (D) 60 cm.
- (E) 90 cm.

QUESTÃO 19

Mateus deseja cercar uma área de seu quintal que possui as seguintes dimensões:



Dessa forma, quantos metros de cerca serão necessários?

- (A) 3,2 m.
- (B) 5,4 m.
- (C) 6,8 m.
- (D) 32 m.
- (E) 54 m.

QUESTÃO 20

A imagem a seguir representa a previsão do tempo do fim de semana para determinada cidade.



Dessa forma, é correto afirmar que as médias das temperaturas mínima e máxima para o sábado e para o domingo, respectivamente, é igual a:

- (A) 25° e 30°.
- (B) 30° e 27°.
- (C) 27° e 25°.
- (D) 23° e 27°.
- (E) 25° e 23°.

ATUALIDADES
QUESTÃO 21

As temperaturas mundiais estão subindo por causa da atividade humana. Se a situação não for controlada, os humanos e a natureza passarão por um aquecimento catastrófico, com o agravamento das secas, maior aumento do nível do mar e extinção em massa de espécies. (Fonte: g1.globo.com)

A situação descrita no trecho anterior remete principalmente:

- (A) ao desmatamento.
- (B) as mudanças climáticas.
- (C) a alteração no ritmo anual de chuvas.
- (D) a perda de reservas ecológicas mundiais.
- (E) a falta de políticas públicas de sustentabilidade.

QUESTÃO 22

A área de ciência e tecnologia foi uma das que mais sofreram queda no volume de investimentos no Brasil. Isso tem levado os nossos pesquisadores a deixar o país. (Fonte: g1.globo.com)

Esse fenômeno recebe o nome de:

- (A) exportação de profissionais qualificados.
- (B) fuga de sábios.
- (C) emigração de inteligentes.
- (D) fuga de cérebros.
- (E) exportação de mestres .

QUESTÃO 23

O combate ao abuso sexual de crianças e adolescentes é o tema de uma campanha de conscientização do Ministério da Mulher, da Família e dos Direitos Humanos (MMFDH). (Fonte: www.gov.br)

Essa campanha recebe o nome de:

- (A) Abril verde.
- (B) Maio Laranja.
- (C) Junho Vermelho.
- (D) Agosto Dourado.
- (E) Setembro amarelo.

QUESTÃO 24

Após meses de escalada militar e tensão na fronteira com a Ucrânia, a Rússia atacou o país do Leste Europeu no amanhecer do dia 24 de fevereiro, quando as forças russas começaram a bombardear diversas regiões do país. A escalada no conflito de anos entre a Rússia e a Ucrânia desencadeou a maior crise de segurança no continente desde a Guerra Fria, levantando o espectro de um confronto perigoso entre as potências ocidentais e Moscou. (Fonte: cnnbrasil.com.br)

Sobre as tensões entre Rússia e Ucrânia, é correto afirmar que:

- (A) A Rússia foi dominada pelo Império Ucraniano e teve sua independência ucraniana apenas em 1991.
- (B) A aproximação da Ucrânia com o Ocidente é vista com desconfiança pela Rússia, que teme a perda de uma importante área de influência.
- (C) A Ucrânia não recebeu apoio de nações ocidentais, como os Estados Unidos e o Reino Unido, para impedir uma possível invasão russa.
- (D) Durante o contexto soviético, a população russa teve a sua liberdade reprimida pela Ucrânia, por meio da imposição de práticas culturais e linguísticas.
- (E) Um dos motivos da atual guerra é a invasão ucraniana na península da Crimeia, parte do território russo, em 2014.

QUESTÃO 25

A Fifa sorteou na tarde desta sexta-feira (1º de abril) os grupos da Copa do Mundo. O Brasil está no Grupo G do Mundial e vai estreiar no dia 24 de novembro contra a Sérvia, às 16h (de Brasília). Suíça e Camarões completam a chave da Seleção, que fugiu de Holanda e Alemanha. Os tetracampeões mundiais enfrentarão a Espanha. (Fonte: ge.globo.com)

O país que irá sediar a Copa do Mundo em 2022 é:

- (A) Alemanha.
- (B) Bélgica.
- (C) Catar .
- (D) Dinamarca.
- (E) Emirados Árabes Unidos.

**NOÇÕES DE INFORMÁTICA
QUESTÃO 26**

Na guia “Exibição” do PowerPoint, existem 5 opções para que um documento seja exibido na tela do computador. Sobre o “Modo Classificação de Slides”, é correto afirmar que:

- (A) serve essencialmente para a ordenação dos slides para a apresentação, exibindo os slides em miniatura e permitindo inserir e excluir os slides, sem ter a opção de editá-los.
- (B) é usado para a edição do conteúdo dos slides, como se fosse a área de trabalho do PowerPoint, permitindo inserir, excluir e editar slides.
- (C) exibe somente o conteúdo de texto dos slides no painel esquerdo da tela.
- (D) exibe como ficará a apresentação se for impressa no papel juntamente com as anotações do orador, permitindo editar apenas as anotações, pois o slide é exibido como imagem.
- (E) exibe um slide por vez em tela cheia, permitindo inserir anotações à tinta com o mouse.

QUESTÃO 27

Qual a função do comando “CTRL+ALT+DEL” no Windows 7?

- (A) Esse comando abre o gerenciador de tarefas, permitindo que programas travados sejam fechados.
- (B) Abrir o Windows Explorer.
- (C) Ele alterna as guias (abas) das janelas que tem abas, avançando, e em alguns programas, alterna os documentos abertos.
- (D) Copiar uma imagem da tela atual para a área de transferência.
- (E) Selecionar os menus do programa atual.

QUESTÃO 28

Qual a função utilizada no Excel que remove do texto todos os caracteres não imprimíveis?

- (A) CLEAN.
- (B) TRIM.
- (C) TEXT.
- (D) CHAR.
- (E) CONVERT.

QUESTÃO 29

No MS-Word, existem alguns atalhos que facilitam certas ações para o usuário. Nesse sentido, qual comando é utilizado para abrir a janela de impressão?

- (A) CTRL+P.
- (B) CTRL+S.
- (C) CTRL+W.
- (D) ALT+SHIFT+C.
- (E) CTRL+ALT+S.

QUESTÃO 30

O campo “Cco” do correio eletrônico é utilizado com o objetivo de:

- (A) ocultar a lista de destinatários.
- (B) deixar a mostra a lista de destinatários.
- (C) anexar imagens.
- (D) anexar documentos.
- (E) colocar o assunto tratado no e-mail.

CONHECIMENTOS ESPECÍFICOS**QUESTÃO 31**

De acordo com a Lei nº 8142/90, os recursos do Fundo Nacional de Saúde (FNS) serão alocados como:

- (A) Despesas de custeio e de capital do Ministério da Saúde, seus órgãos e entidades, da administração pública e descentralizada.
- (B) Investimentos previstos em lei orçamentária, de iniciativa do Poder Legislativo, e aprovados pelo Conselho Nacional de Saúde.
- (C) Investimentos previstos no Plano Anual do Ministério da Saúde.
- (D) Cobertura das ações e serviços de saúde a serem implementados pelos Municípios, Estados e Distrito Federal.
- (E) Determinação do Conselho de Saúde, com composição paritária de acordo com o Decreto nº 99.438, de 7 de agosto de 1990.

QUESTÃO 32

Assinale a alternativa correspondente ao documento que estabelece critérios para o diagnóstico da doença ou do agravo à saúde; o tratamento preconizado, com os medicamentos e demais produtos apropriados, quando couber; as posologias recomendadas; os mecanismos de controle clínico; e o acompanhamento e a verificação dos resultados terapêuticos, a serem seguidos pelos gestores do SUS:

- (A) Diretriz clínica.
- (B) Programa terapêutico.
- (C) Protocolo clínico e diretriz terapêutica.
- (D) Normativa clínica e terapêutica.
- (E) Protocolo preconizado.

QUESTÃO 33

De acordo com o art. 20 da Lei nº 8080/90, Os serviços privados de assistência à saúde caracterizam-se:

- (A) Pelas normas técnicas e administrativas e aos princípios e diretrizes do Sistema Único de Saúde (SUS), mantido o equilíbrio econômico e financeiro do contrato.
- (B) Pela atuação, por iniciativa própria, de profissionais liberais, legalmente habilitados, e de pessoas jurídicas de direito privado na promoção, proteção e recuperação da saúde.
- (C) Pelos princípios éticos e as normas expedidas pelo órgão de direção do Sistema Único de Saúde (SUS) quanto às condições para seu funcionamento.
- (D) Mediante contrato ou convênio, observadas, a respeito, as normas de direito público.
- (E) Pelos proprietários, administradores e dirigentes de entidades ou serviços contratados.

QUESTÃO 34

Sobre a dengue, não é correto afirmar que:

- (A) A dengue é a arbovirose urbana de maior relevância nas Américas, e possui como agente etiológico o vírus dengue (DENV), que possui com cinco sorotipos.
- (B) Os vírus DENV, CHIKV e ZIKV são arbovírus (*Arthropod-borne virus*), ou seja, são vírus transmitidos por artrópodes.
- (C) Os vírus dengue e Zika são vírus de RNA do gênero Flavivirus, pertencente à família Flaviviridae, que inclui também o vírus da febre amarela.
- (D) Para o DENV, CHIK e ZIKV, existem registros de transmissão vertical em humanos (gestante-feto). Em relação à dengue, os relatos dessa via de transmissão são raros.
- (E) A suscetibilidade ao vírus da dengue (DENV) no indivíduo é universal; uma vez que haja infecção, a imunidade adquirida é permanente para um mesmo sorotipo (homóloga).

QUESTÃO 35

Em relação ao vírus dengue (DENV), o período de incubação intrínseco pode variar de _____ a _____ dias. Após esse período, inicia-se o período de viremia no homem, que geralmente se inicia um dia antes do aparecimento da febre e se estende até o quinto dia da doença.

Assinale a alternativa que preenche corretamente as lacunas do texto, respectivamente:

- (A) Dois/quatro.
- (B) Cinco/dez.
- (C) Três/nove.
- (D) Quatro/dez.
- (E) Dois/oito.

QUESTÃO 36

Assinale a alternativa correspondente à doença parasitária, de evolução crônica, cuja magnitude da prevalência, severidade das formas clínicas e a evolução a caracterizam como um importante problema de saúde pública no País. Conhecida também como xistose, barriga-d'água e doença dos caramujos:

- (A) Leishmaniose visceral.
- (B) Leishmaniose tegumentar americana.
- (C) Esquistossomose Mansoni.
- (D) Febre tifoide.
- (E) Malária.

QUESTÃO 37

Analise as afirmativas a seguir sobre a malária, coloque V para verdadeiro e F para falso. Posteriormente assinale a alternativa que apresenta a sequência correta:

(___) Indivíduos que apresentaram vários episódios de malária podem atingir um estado de imunidade parcial, com quadro oligossintomático, subclínico ou assintomático. Porém, uma imunidade esterilizante, que confere total proteção clínica, até hoje não foi observada.

(___) A crise aguda da malária (acesso malárico) caracteriza-se por episódios de calafrio, febre e sudorese. Tem duração variável de 6 a 12 horas e pode cursar com temperatura igual ou superior a 40o C. Contudo, nem sempre se observa o clássico padrão de febre a cada dois dias (terça), portanto não se deve aguardar esse padrão característico para pensar no diagnóstico de malária.

(___) O diagnóstico da malária é uma estratégia para o controle e a eliminação da doença, imprescindível para o tratamento dos pacientes de forma adequada. É recomendado que o diagnóstico da malária seja realizado em tempo oportuno (24 horas a partir do início dos sintomas), a fim de evitar formas graves, óbitos pela doença e contribuir para a interrupção da transmissão.

- (A) V – V – V. (D) V – V – F.
- (B) F – F – V. (E) F – F – F.
- (C) V – F – V.

QUESTÃO 38

É uma doença ocular inflamatória crônica, uma ceratoconjuntivite que, em decorrência de infecções repetidas, produz cicatrizes na conjuntiva palpebral, podendo levar à formação de entrópio (pálpebra com a margem virada para dentro do olho) e triquíase (cílios invertidos tocando o olho). As lesões resultantes desse atrito podem levar a alterações na córnea, causando cegueira:

- (A) Tracoma.
- (B) Opacificação corneana.
- (C) Conjuntivite folicular tóxica.
- (D) Herpes simples.
- (E) Molusco contagioso.

QUESTÃO 39

O exercício das atividades de Agente Comunitário de Saúde e de Agente de Combate às Endemias, nos termos da Lei, dar-se-á exclusivamente no âmbito do Sistema Único de Saúde - SUS, na execução das atividades de responsabilidade dos entes federados, mediante:

- (A) Vínculo indireto entre os referidos Agentes e órgão ou entidade da administração direta, autárquica ou fundacional.
- (B) Vínculo direto entre os referidos Agentes e órgão ou entidade da administração direta, autárquica ou fundacional.
- (C) Vínculo direto entre os referidos Agentes e órgão ou entidade da administração indireta, autárquica ou fundacional.
- (D) Vínculo direto entre os referidos Agentes e órgão ou entidade da administração pública, hierárquica ou fundacional.
- (E) Vínculo indireto entre os referidos Agentes e órgão ou entidade da administração pública, hierárquica ou descentralizada.

QUESTÃO 40

Ao ente federativo responsável pela execução dos programas relacionados às atividades do Agente de Combate às Endemias compete a definição do número de imóveis a serem fiscalizados pelo Agente, observados os parâmetros estabelecidos pelo Ministério da Saúde e os seguintes:

- I - condições adequadas de trabalho.
- II - geografia e demografia da região, com distinção de zonas urbanas e rurais.
- III - flexibilização do número de imóveis, de acordo com as condições de acessibilidade local.

Sobre os itens acima, está correto o que se afirma em:

- (A) I e II, apenas.
- (B) I, apenas.
- (C) II e III, apenas.
- (D) I e III, apenas.
- (E) I, II e III.