

LÍNGUA PORTUGUESA

O que você fez com o seu primeiro salário?

A resposta para essa pergunta carrega sinais das motivações que cada um de nós tem para trabalhar – ou pelo menos tinha no começo da carreira.

João Branco 11 de fevereiro de 2022 Atualizado há 2 meses

Com quantos anos você começou a trabalhar? Você se lembra como foi o seu primeiro dia? Eu guardo muito bem as memórias do meu: nesse dia, o jovem Joãozinho acordou mais cedo que o normal, colocou uma “roupa mais séria” e se preparou para ir descobrir o que era esse mundo dos adultos independentes. Quando cheguei na cozinha, minha mãe e meu saudoso pai estavam me esperando com um sorriso no rosto. Ele me disse: “Parabéns filho, você está começando para nunca mais parar”. Ouvir isso me deu uma mistura de sensações. Foi como comer melancia com sal. Um emaranhado de alegria e medo. Isso parecia ser um elogio, mas ao mesmo tempo um alerta. De certa forma, ele estava certo. O trabalho é mesmo essa mistura. Ao mesmo tempo em que ele nos traz a satisfação de conquistar o sustento, ele nos desgasta. É uma rotina espinhenta.

Mas, no meio dessa jornada, há um dia que sempre traz boas notícias: o dia do pagamento. Para alguns, ele acontece na data combinada. Para outros, depende do dia em que o cliente deposita. E ainda há os que têm que esperar mais do que deveriam. Mas o momento em que finalmente seu serviço foi remunerado provoca boas sensações. Não apenas a alegria de ver uma “chuva na sua horta”, mas também um sentimento de “hoje estou podendo”. Você se recorda quando isso aconteceu pela primeira vez? Como você se sentiu?

Lembro claramente da minha reação quando alguns reais foram depositados e estream a minha conta bancária. Fiz algo que sempre quis, mas nunca tinha conseguido: comprei um “engradado” de Yakult e tomei inteirinho, sozinho, de uma vez. Engraçado, não? Mas também fiz algo para agradecer a Deus pelo meu emprego. E você, o que fez com o seu primeiro salário? Já ouvi histórias

incríveis sobre isso. Entre coisas divertidas e emocionantes, percebi que essa resposta também carrega sinais das motivações que cada um de nós tem para trabalhar – ou pelo menos as que tínhamos no começo da carreira.

Com o passar dos anos, nossa relação com o “ganhar dinheiro” vai se aprofundando. Para algumas pessoas, o salário se transforma em uma dose de algo viciante que entra direto na veia todo mês e provoca um forte instinto de “quero mais”. No outro extremo estão as pessoas que só reparam nas finanças quando o extrato bancário está no vermelho. Há os que querem ficar milionários antes dos 30 anos e os que só se lembram de se preocupar com o patrimônio quando estão pensando em aposentadoria. E, entre eles, milhares de diferentes relações com os cifrões.

Saber interagir de maneira saudável com as suas receitas financeiras é um desafio. Talvez por isso esse seja um dos assuntos mais abordados nos canais do Youtube, nos livros mais vendidos do Brasil e até na Bíblia – que registra um grande conselho: “Quem ama o dinheiro jamais terá o suficiente; quem ama as riquezas jamais ficará satisfeito com os seus rendimentos”.

Dinheiro não é por si só uma coisa ruim e eu desejo que você consiga ganhar bastante. Mas desejo ainda mais que você tenha uma porção de dias mais felizes do que o dia do pagamento ao longo da sua jornada. Como diria Dorothy L. Sayers: “o trabalho não é o que se faz para viver, mas o que se vive para fazer”. Do primeiro ao último salário.

João Branco é CMO do McDonald's. [linkedin.com/in/falajoaobranco](https://www.linkedin.com/in/falajoaobranco) / [Instagram @falajoaobranco](https://www.instagram.com/falajoaobranco)

BRANCO, João. O que você fez com o seu primeiro salário? *Forbes Brasil*, 11 de fevereiro de 2022.

Colunas. Disponível em:

<https://forbes.com.br/colunas/2022/02/joao-branco-o-que-voce-fez-com-o-seu-primeiro-salario/>.

QUESTÃO 01

Nesse texto, o articulista

- (A) argumenta que o dia do pagamento deve ser o dia mais feliz na vida do trabalhador.
- (B) afirma que cada pessoa apresenta uma maneira própria de lidar com o dinheiro.
- (C) preconiza o consumo de alimentos industrializados ultraprocessados.
- (D) adverte os trabalhadores mais jovens sobre os perigos de se enriquecer rapidamente.
- (E) enfatiza o papel da família na vida do jovem que está em busca de emprego.

QUESTÃO 02

Para explicar o que a fala do pai causou em si, no trecho “Foi como comer melancia com sal. Um emaranhado de alegria e medo. Isso parecia ser um elogio, mas ao mesmo tempo um alerta.” (1º parágrafo), o autor se vale de

- (A) analogias e contrastes.
- (B) causas e conseqüências.
- (C) alusões e citações de autoridade.
- (D) causas e contrastes.
- (E) citações de autoridade e deduções.

QUESTÃO 03

Ao longo do texto, o articulista sinaliza que deseja estabelecer uma interlocução direta com o leitor. Das estratégias listadas a seguir, assinale aquela que exemplifica uma tentativa de contato direto do autor com o interlocutor.

- (A) Uso da primeira pessoa do singular.
- (B) Inserção de verbos de ação.
- (C) Utilização de frases interrogativas.
- (D) Menção a expressões figurativas.
- (E) Uso de substantivos próprios.

QUESTÃO 04

Leia o trecho a seguir, observando as lacunas deixadas.

“Glaucoma e diabetes são doenças silenciosas que, se não tratadas, podem levar ___ cegueira. Para combater esses males por meio da informação, foi criada ___ campanha Abril Marrom, um alerta ___ população brasileira sobre problemas que podem levar ___ perda irreversível da visão e que podem ser evitados. [...]”

PENANTE, Luciana. Glaucoma e diabetes podem levar à cegueira; saiba mais. *Tecmundo*, 08 de abril de 2022. Disponível em: <https://www.tecmundo.com.br/ciencia/236728-glaucoma-diabetes-levar-cegueira-saiba.htm>. Acesso em: 08 abr. 2022.

Completam as lacunas, na ordem em que elas aparecem,

- (A) à / a / à / à.
- (B) a / a / à / à.
- (C) à / a / a / à.
- (D) a / à / à / a.
- (E) à / a / a / a.

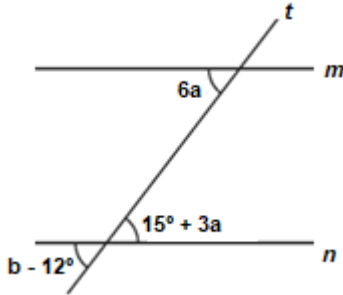
QUESTÃO 05

As palavras *couve-de-bruxelas* e *anuviar* são formadas, respectivamente, por

- (A) composição por aglutinação e composição por justaposição.
- (B) derivação parassintética e derivação sufixal.
- (C) derivação regressiva e derivação imprópria.
- (D) composição por justaposição e derivação parassintética.
- (E) composição por justaposição e derivação prefixal e sufixal.

MATEMÁTICA E RACIOCÍNIO LÓGICO
QUESTÃO 06

A figura abaixo representa os ângulos formados por duas retas m e n paralelas cortadas por uma reta transversal t .



Os valores de a e b são, respectivamente:

- (A) 5° e 42°
- (B) 30° e 42°
- (C) 15° e 12°
- (D) 42° e 30°
- (E) 18° e 5°

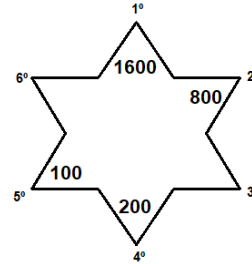
QUESTÃO 07

Uma determinada escola de dança recebeu 320 matrículas em 2020. Se essa quantidade aumenta 14% a cada ano, é possível afirmar que essa escola de dança recebeu quantas matrículas no ano de 2022?

- (A) 368 alunos.
- (B) 390 alunos.
- (C) 416 alunos.
- (D) 462 alunos.
- (E) 528 alunos.

QUESTÃO 08

Considere a sequência numérica presente na seguinte figura:



É correto afirmar que os valores numéricos que preencheram a 3° e a 6° posição, respectivamente, são:

- (A) 120 e 600
- (B) 400 e 50
- (C) 600 e 50
- (D) 120 e 400
- (E) 400 e 600

QUESTÃO 09

Bianca deseja comprar uma nova bolsa que custa R\$180,00 à vista. Após chegar ao shopping, ela decide dividir o pagamento realizando uma entrada de R\$ 150,00 mais uma parcela de R\$ 50,00 com 30 dias de prazo. Dessa forma, é possível afirmar que a taxa de juros mensal que foi aplicada nessa operação corresponde aproximadamente a:

- (A) 20%
- (B) 33%
- (C) 66%
- (D) 40%
- (E) 88%

QUESTÃO 10

Felipe e Carol e André trabalham na mesma empresa. Felipe tira um dia de folga a cada 12 dias de trabalho, Carol a cada 15 dias e André a cada 20 dias. Se no dia 31 de março os três colegas tiraram folga juntos, o próximo dia do mesmo ano que irão tirar folga juntos novamente será em:

- (A) 28 de maio.
- (B) 29 de maio.
- (C) 30 de maio.
- (D) 31 de maio.
- (E) 1 de junho.

CONHECIMENTOS GERAIS E ATUALIDADES
QUESTÃO 11

Inicialmente apresentados como uma alternativa ao cigarro comum, os cigarros eletrônicos chegaram à 4ª geração. Na análise de especialistas, ganharam "roupa nova", ficaram mais viciantes ao longo dos últimos anos e apelam cada vez mais para o público jovem, que desconhece os malefícios equivalentes ou até mesmo piores das substâncias que os compõem. (Fonte: g1.globo.com)

Sobre os cigarros eletrônicos, é possível afirmar:

- (A) Ao contrário dos cigarros comuns, os eletrônicos não possuem nicotina e, por isso, não são capazes de gerar dependência em seus usuários.
- (B) O funcionamento dos cigarros eletrônicos ocorre por meio da combustão das substâncias presentes em sua composição, que, conseqüentemente gera liberação de monóxido de carbono na atmosfera.
- (C) Atualmente, os modelos da 4ª geração são recarregáveis ou descartáveis, se assemelham a um pen-drive e passaram a ser mais coloridos e a apresentar formatos que apelam mais para o público jovem.
- (D) Nos Brasil, embora aprovados comercialmente, os cigarros eletrônicos não são classificados como uma ferramenta de auxílio para aqueles que querem parar de fumar.
- (E) A nicotina presente no cigarro eletrônico gera apenas dependência em seus usuários, ou seja, não é capaz de aumentar os batimentos cardíacos e gerar doenças.

QUESTÃO 12

De 28 de Fevereiro a 2 de março de 2022, representantes dos 193 Estados-membros das Nações Unidas, líderes empresariais, membros da sociedade civil e ambientalistas de todo o mundo irão reunir-se em Nairobi, no Quênia, para a quinta sessão da Assembleia das Nações Unidas para o Meio Ambiente (UNEA-5) – o principal órgão de decisão ambiental do mundo. O evento ocorre num momento crucial para o planeta em que é necessária uma ação urgente para evitar os piores efeitos da tripla crise planetária causada pela combinação das alterações climáticas, da perda de natureza e de biodiversidade e, ainda, da poluição e do desperdício. (Fonte: unric.org)

Sobre a quinta sessão da Assembleia das Nações Unidas para o Meio Ambiente, assinale apenas aquilo que for correto.

- (A) A UNEA é onde os países apresentam resoluções e decisões sobre questões apenas econômicas.
- (B) Um dos aspectos mais importantes desta assembleia serão as deliberações sobre a possível criação de um jornal internacional de revisão sobre as mudanças climáticas.
- (C) Estabelece a regulamentação do mercado global de créditos de carbono avaliando os aspectos físicos e científicos.
- (D) A UNEA foi criada em 2012 com o objetivo de elaborar um sistema eficaz de governação ambiental internacional.
- (E) Reforça as medidas de redução de emissões de gases estufa, a fim de conter o aquecimento global abaixo de 2°C.

QUESTÃO 13

Mais de 360 pessoas foram baleadas neste ano em Nova York, em 322 incidentes envolvendo armas, de acordo com dados divulgados pelo Departamento de Polícia de Nova York (NYPD) no domingo (10). O número de tiroteios na cidade aumentou em 8,4%, de 297 para 322, em comparação com o ano anterior, segundo as informações. O número de feridos nesses tiroteios aumentou de 332 para 363 de 2020 para 2021. Nesta terça-feira (12/04/22), cerca de 10 pessoas foram baleadas em uma estação de metrô em Nova York, após um ataque durante o horário de pico. (Fonte: cnnbrasil.com.br)

Sobre esse incidente, assinale a opção INCORRETA.

- (A) Dezenas de agentes armados e carros da polícia e do Corpo de Bombeiros foram ao local, e vários quarteirões ao redor da estação ficaram interditados para o trânsito e passagem de pedestres.
- (B) O caso em que um homem entrou e atirou contra dezenas de pessoas na estação de metrô ocorreu na região conhecida como Brooklyn, em Nova York.
- (C) A polícia de Nova York informou que o caso em que um homem entrou e atirou contra dezenas de pessoas na estação de metrô está sendo investigado como crime de terrorismo.
- (D) Incluindo o ataque desta terça-feira, ocorreram mais de 130 tiroteios em massa nos Estados Unidos no ano de 2022.
- (E) Dezesseis pessoas feridas, incluindo dez que tiveram ferimento a bala, receberam cuidados médicos, segundo a vice-comissária dos bombeiros de Nova York.

QUESTÃO 14

O dinheiro digital entrou no radar de bancos centrais de todo o mundo recentemente, inclusive do brasileiro. Também chamado de CBDC (Central Bank Digital Currency ou moeda digital do banco central, na tradução livre), o ativo tem o mesmo valor do dinheiro físico. (Fonte: www.cnnbrasil.com.br)

Sobre a moeda digital, analise as seguintes afirmativas:

- I- Os bancos centrais estão buscando digitalizar moeda de cada país para dar mais eficiência às economias locais.
- II- No caso do Brasil, a tecnologia está em fase de estudos pelo Banco Central.
- III- A implantação do real digital não traria mudanças radicais na rotina das pessoas, isso porque, os brasileiros já estão acostumados a fazer transações digitais.

Está(ão) correta(s):

- (A) I, apenas.
- (B) II, apenas.
- (C) II e III.
- (D) I e III.
- (E) I, II e III.

QUESTÃO 15

Próxima de completar um mês, a guerra entre Rússia e Ucrânia já matou milhares de pessoas — entre combatentes e civis — e destruiu centenas de construções nas cidades ucranianas. Até agora, ocorreram alguns episódios de cessar-fogo e encontros entre oficiais do governo para negociações. Mas o que de fato Vladimir Putin, presidente da Rússia, quer em troca de acabar com a guerra? (Fonte: www.bbc.com)

Assinale a alternativa que NÃO apresenta uma demanda do presidente russo para acabar com a guerra:

- (A) não aderência da Ucrânia à Otan
- (B) a união do território ucraniano ao russo.
- (C) o reconhecimento de territórios separatistas e a aceitação formal da Crimeia
- (D) o desarmamento da população
- (E) a proteção da língua russa no país


NOÇÕES DE INFORMÁTICA

QUESTÃO 16

Ao selecionar um texto no MS Word 2016 é possível realizar manipulações com atalhos do teclado. Marque o atalho de teclado que aplica formatação de sublinhado duplo:

- (A) Ctrl + Shift + D
- (B) Ctrl + Q.
- (C) Alt + Shift + D.
- (D) Ctrl + Alt + S.
- (E) Ctrl + Alt + V.

QUESTÃO 17

No MS – Word 2016, na página inicial, podemos encontrar o ícone . A sua função é de:

- (A) Dar realce ao texto.
- (B) Mudar a cor do texto.
- (C) Aplicar itálico ao texto.
- (D) Sublinhar o texto.
- (E) Limpar toda a formatação.

QUESTÃO 18


Analise a imagem abaixo.

	A	B	C	D	E
1	15	18	13	10	25
2					
3					

A fórmula correta para se obter o resultado da soma de todos os números presentes na tabela acima é:

- (A) +MULT(1E)
- (B) =SOMA(A1:E1)
- (C) +SOMA(A1)
- (D) =MULT(A1:E1)
- (E) =SOMA(E1)

QUESTÃO 19

No MS – Excel 2016, o ícone  significa:

- (A) Quebrar texto automaticamente.
- (B) AutoSoma.
- (C) Mesclar e centralizar.
- (D) Classificar e filtrar.
- (E) Formatar com tabela.

QUESTÃO 20

O endereço virtual de uma página ou website é conhecido como:

- (A) Hardware.
- (B) Software.
- (C) URL.
- (D) Browser.
- (E) Site.

CONHECIMENTOS ESPECÍFICOS

QUESTÃO 21

De acordo com a Portaria 3124/2012, cada NASF 3 deverá estar vinculado a no mínimo a:

- (A) uma e a no máximo duas Equipes Saúde da Família e/ou Equipes de Atenção Básica para populações específicas.
- (B) uma e a no máximo três Equipes Saúde da Família e/ou Equipes de Atenção Básica para populações específicas.
- (C) uma e a no máximo quatro Equipes Saúde da Família e/ou Equipes de Atenção Básica para populações específicas.
- (D) uma e a no máximo duas Equipes Saúde da Família e/ou Centros de Atenção Psicossocial – CAPS.
- (E) uma e a no máximo quatro Equipes Saúde da Família e/ou Centros de Atenção Psicossocial – CAPS.

QUESTÃO 22

De acordo com a Portaria 3124/2012, o NASF 3 é criado para, em conjunto com as modalidades NASF 1 e 2, possibilitar a _____ destas equipes para todos os Municípios do Brasil que possuem Equipes Saúde da Família e/ou Equipes de Atenção Básica para populações específicas.

Assinale a alternativa que preenche, corretamente, a lacuna do texto:

- (A) descentralizar.
- (B) universalizar.
- (C) regionalizar.
- (D) sistematizar.
- (E) hierarquizar.

QUESTÃO 23

“O terceiro princípio é um princípio de repouso e stress, primeiro o corpo repousa para se recuperar, logo as estruturas periféricas devem estar em stress para recuperarem a amplitude de movimentos, força e resistência.”

O excerto acima discorre sobre um dos princípios de qual modelo teórico da Terapia Ocupacional?

- (A) Modelo Psicodinâmico.
- (B) Modelo de Ocupação Humana.
- (C) Modelo de Desempenho Ocupacional.
- (D) Modelo de Reabilitação.
- (E) Modelo Biomecânico.

QUESTÃO 24

De acordo com o modelo teórico em Terapia Ocupacional - TO proposto por Schkade & Schultz (1992), _____ está influenciada pelos valores e papéis do indivíduo.

Assinale a alternativa que preenche, corretamente, a lacuna do texto:

- (A) a recuperação da independência.
- (B) o contexto ambiental.
- (C) as destrezas cognitivas.
- (D) a motivação para autonomia.
- (E) o raciocínio clínico.

QUESTÃO 25

De acordo com o modelo Cognitivo-Comportamental da TO, a técnica específica desse modelo que exige uma participação ativa do Terapeuta na fase da intervenção, servindo para arranjar novas estratégias de atuação, denomina-se:

- (A) Shaping.
- (B) Modelagem.
- (C) Prompting.
- (D) Reforço Positivo.
- (E) Brainstorming.

QUESTÃO 26

Segundo o modelo teórico em TO de Anna Jean Ayres (1920 - 1989):

A) Toda a ocupação humana procede de uma tendência espontânea, inata do sistema humano, a necessidade de explorar e dominar o ambiente.

B) A aprendizagem baseia-se nas experiências sensorio-motoras e depende da capacidade da criança em receber informações sensoriais provenientes da interação do corpo com o meio ambiente, processando e integrando essas informações no sistema nervoso central.

C) A incapacidade cognitiva representa uma restrição fisiológica ou biomecânica das capacidades de processamento de informação do cérebro, que produz limitações no comportamento de rotina.

(D) Seu modelo é usado em casos de diminuição da amplitude e dificuldades do movimento.

(E) O terapeuta trabalha com o objetivo de aumentar o desempenho de tarefas de forma satisfatória, principalmente aquelas em que o indivíduo precisa mais utilizar no seu dia-a-dia.

QUESTÃO 27

O questionário dirigido para pais e cuidadores, que busca identificar problemas de Modulação, Processamento Sensorial e respostas Emocionais e Sociais denomina-se:

(A) BOT2- Bruininks Osentsky.

(B) Perfil Sensorial de Winnie Dunn.

(C) Teste Berry-Buktenica VMI.

(D) SIPT - “Sensory Integration na Praxis Tests”.

(E) COPM - Medida Canadense de Desempenho Ocupacional.

QUESTÃO 28

As escalas _____ têm sido utilizadas para avaliar o impacto de condições biológicas, como prematuridade e baixo peso, comparando com grupos controle sem a condição, associando com variáveis ambientais, ou com características maternas como ansiedade e para avaliar procedimentos de intervenção junto a bebês muito prematuros.

(A) Bayley.

(B) Rass.

(C) Kinsey.

(D) Pantone.

(E) Nihss.

QUESTÃO 29

A inclusão da terapia ocupacional no elenco de ofertas assistenciais dos serviços tem se mostrado pertinente. A atuação do terapeuta ocupacional nas estratégias socioassistenciais inclui:

I - fortalecer as relações de interdependência, os vínculos familiares, as trocas sociais e os vínculos entre família e comunidade.

II - promover o reconhecimento, o respeito e o exercício de direitos e deveres individuais e coletivos.

III - favorecer o acesso às oportunidades de desenvolvimento pessoal dos sujeitos participantes e também do enriquecimento do repertório ocupacional e vivencial das famílias.

Está correto o que se afirma em:

(A) I, apenas.

(B) II, apenas.

(C) I e II, apenas.

(D) III, apenas.

(E) I, II e III.

QUESTÃO 30

Especialmente a partir da década de 1980, o acúmulo crítico possibilitou o desenvolvimento e a especialização em Terapia Ocupacional Social. As raízes dessa abordagem se encontram ligadas a estudos e práticas desenvolvidas em processos de desinstitucionalização e de incentivo à participação e protagonismo social, por meio dos quais se tornou possível evidenciar um conjunto de contribuições significativas da profissão para a composição de ambientes pautados por ações:

- (A) de universalização de direitos.
- (B) significativas integrantes do exercício dos direitos de todos os homens.
- (C) concomitantes à implantação dos cursos de formação profissional.
- (D) potencializadoras do empoderamento pessoal e social.
- (E) condicionantes e diversas, de faces e dimensões dos processos que restringem as ações da pessoa e/ou dos coletivos.

QUESTÃO 31

As mudanças na forma como os adolescentes processam a informação refletem o amadurecimento dos lobos frontais do cérebro e podem ajudar a explicar os avanços cognitivos que Piaget descreveu. Quais conexões neurais definham e quais se tornam fortalecidas é altamente correlacionado à experiência. Portanto, o progresso no processamento cognitivo varia muito entre os adolescentes (Kuhn, 2006). A capacidade da memória de trabalho, que aumenta rapidamente na terceira infância, continua a crescer durante a adolescência. A expansão da memória de trabalho permite a adolescentes mais velhos lidar com problemas complexos ou decisões que envolvam informações múltiplas. A informação armazenada na memória de longo prazo pode ser:

- (A) funcional, procedural ou conceitual.
- (B) declarativa, procedural ou funcional.
- (C) declarativa, procedural ou conceitual.
- (D) declarativa, funcional ou conceitual.
- (E) funcional, estrutural ou usual.

QUESTÃO 32

A capacidade de o indivíduo ser influenciado, afetivamente, por estímulos externos denomina-se:

- (A) disposição afetiva.
- (B) sintonização afetiva.
- (C) irradiação afetiva.
- (D) reatividade afetiva.
- (E) ocorrência afetiva.

QUESTÃO 33

De acordo com a lei orgânica de saúde 8080/90, entende-se por vigilância sanitária um conjunto de ações capaz de eliminar, diminuir ou prevenir riscos à saúde e de intervir nos problemas sanitários decorrentes do meio ambiente, da produção e circulação de bens e da prestação de serviços de interesse da saúde, abrangendo:

- I - o controle da prestação de serviços que se relacionam direta ou indiretamente com a saúde.
- II - o controle de bens de consumo que, direta ou indiretamente, se relacionem com a saúde, compreendidas todas as etapas e processos, da produção ao consumo.
- III - a formulação da política de medicamentos, equipamentos, imunobiológicos e outros insumos de interesse para a saúde e a participação na sua produção.
- IV - a vigilância nutricional e a orientação alimentar.

Está correto o que se afirma em:

- (A) I e II, apenas.
- (B) III e IV, apenas.
- (C) II e III, apenas.
- (D) I e IV, apenas.
- (E) I, II, III e IV.

QUESTÃO 34

Entende-se por saúde do trabalhador, para fins da lei orgânica de saúde 8080/90, um conjunto de atividades que se destina, através das ações de vigilância epidemiológica e vigilância sanitária, à promoção e proteção da saúde dos trabalhadores, assim como visa à recuperação e reabilitação da saúde dos trabalhadores submetidos aos riscos e agravos advindos das condições de trabalho. Qual das ações abaixo abrange, especificamente, a saúde do trabalhador no escopo da referida lei?

- (A) O incremento, em sua área de atuação, do desenvolvimento científico e tecnológico.
- (B) A avaliação do impacto que as tecnologias provocam à saúde.
- (C) A detecção ou prevenção de qualquer mudança nos fatores determinantes e condicionantes de saúde individual ou coletiva
- (D) A ordenação da formação de recursos humanos na área de saúde.
- (E) o controle e a fiscalização de serviços, produtos e substâncias de interesse para a saúde.

QUESTÃO 35

É princípio do Sistema Único de Saúde – SUS, conforme o artigo 7º da lei orgânica de saúde 8080/90, a _____, para o estabelecimento de prioridades, a alocação de recursos e a orientação programática.

Assinale a alternativa que preenche, corretamente, a lacuna do texto:

- (A) organização dos serviços públicos.
- (B) descentralização político-administrativa.
- (C) conjugação de recursos financeiros.
- (D) participação da comunidade.
- (E) utilização da epidemiologia.

QUESTÃO 36

De acordo com o artigo 13º da Lei orgânica de saúde 8080/90, a articulação das políticas e programas, a cargo das comissões intersetoriais, abrangerá, em especial, as seguintes atividades, exceto:

- (A) alimentação e nutrição.
- (B) saneamento e meio ambiente.
- (C) recursos humanos.
- (D) saúde suplementar.
- (E) saúde do trabalhador.

QUESTÃO 37

Analise os excertos abaixo extraídos da lei orgânica de saúde 8080/90, responda certo (C) ou errado (E) e assinale a alternativa que traz a sequência correta:

- () A responsabilidade financeira pelo fornecimento de medicamentos, produtos de interesse para a saúde ou procedimentos será pactuada na Comissão Intergestores Bipartite.
- () Os cargos e funções de chefia, direção e assessoramento, no âmbito do Sistema Único de Saúde (SUS), só poderão ser exercidas em regime de tempo integral.
- () Na distribuição dos recursos financeiros da Seguridade Social será observada a mesma proporção da despesa prevista de cada área, no Orçamento da Seguridade Social.

- (A) C – C – E.
- (B) C – E – C.
- (C) C – E – E.
- (D) E – C – E.
- (E) E – C – C.

QUESTÃO 38

“_____ são todo e qualquer item, equipamento ou parte dele, produto ou sistema fabricado em série ou sob medida utilizado para aumentar, manter ou melhorar as capacidades funcionais das pessoas com deficiência. _____ são definidos como aqueles que auxiliam diretamente uma pessoa com deficiência a selecionar, comprar ou usar os primeiramente definidos”.

(ADA - American with Disabilities ACT 1994.)

Assinale a alternativa que preenche, correta e respectivamente, as lacunas do texto:

- (A) Tecnologias / Serviços.
- (B) Recursos / Tecnologias.
- (C) Recursos / Serviços.
- (D) Serviços / Recursos.
- (E) Serviços / Tecnologias.

QUESTÃO 39

Leia:

“A Política Nacional de Humanização deve se fazer presente e estar inserida em todas as políticas e programas do SUS. A PNH busca transformar as relações de trabalho a partir da ampliação do grau de contato e da comunicação entre as pessoas e grupos, tirando-os do isolamento e das relações de poder hierarquizadas.”

A qual dos princípios da Política Nacional de Humanização – PNH o excerto refere-se?

- (A) Indissociabilidade entre atenção e gestão.
- (B) Clínica Ampliada.
- (C) Protagonismo dos sujeitos.
- (D) Acolhimento.
- (E) Transversalidade.

QUESTÃO 40

Analise a imagem e indique a categoria de Tecnologia Assistiva demonstrados nela:



Vestuário (abotoador, argola para zíper e cadarço mola)

- (A) Sistemas de controle de ambiente.
- (B) Projetos arquitetônicos para acessibilidade.
- (C) Auxílios para a vida diária e vida prática.
- (D) Comunicação Aumentativa e Alternativa.
- (E) Recursos de acessibilidade ao computador.