



# PREFEITURA MUNICIPAL DE ARAUCÁRIA

Concurso Público – Edital nº 017/2010

Prova Objetiva e Discursiva – 04/07/2010



## 013 – Técnico em Contabilidade

### INSTRUÇÕES

- Confira, abaixo, o seu número de inscrição, turma e nome. Assine no local indicado.
- Aguarde autorização para abrir o caderno de prova. Antes de iniciar a resolução das questões, confira a numeração de todas as páginas.
- A prova é composta de 40 questões objetivas e 1 questão discursiva.
- Nesta prova, as questões objetivas são de múltipla escolha, com 5 alternativas cada uma, sempre na sequência **a, b, c, d, e**, das quais somente uma deve ser assinalada.
- A questão discursiva deverá ser resolvida no caderno de provas e transcrita na folha de versão definitiva, que será distribuída pelo aplicador de prova no momento oportuno.
- A interpretação das questões é parte do processo de avaliação, não sendo permitidas perguntas aos aplicadores de prova.
- Ao receber o cartão-resposta e a folha de versão definitiva, examine-os e verifique se o nome impresso neles corresponde ao seu. Caso haja qualquer irregularidade, comunique-a imediatamente ao aplicador de prova.
- O cartão-resposta deverá ser preenchido com caneta esferográfica preta, tendo-se o cuidado de não ultrapassar o limite do espaço para cada marcação.
- A resposta da questão discursiva deve ser transcrita **NA ÍNTEGRA** para a folha de versão definitiva, com caneta preta.  
**Será considerada para correção apenas a resposta que conste na folha de versão definitiva.**
- Não serão permitidos empréstimos, consultas e comunicação entre os candidatos, tampouco o uso de livros, apontamentos e equipamentos eletrônicos ou não, inclusive relógio. O não-cumprimento dessas exigências implicará a eliminação do candidato.
- Os aparelhos celulares deverão ser desligados e colocados OBRIGATORIAMENTE no saco plástico. Caso essa exigência seja descumprida, o candidato será excluído do concurso.
- A duração da prova é de 4 horas. Esse tempo inclui a resolução das questões e a transcrição das respostas para o cartão resposta e para a folha de versão definitiva.
- Ao concluir a prova, permaneça em seu lugar e comunique ao aplicador de prova. Aguarde autorização para entregar o caderno de prova, o cartão-resposta, a folha de versão definitiva e a ficha de identificação.
- Se desejar, anote as respostas no quadro abaixo, recorte na linha indicada e leve-o consigo.

Língua Portuguesa

Conhecimentos Gerais e Atualidades

Avaliação Situacional

Conhecimento Específico

Discursiva

**DURAÇÃO DESTA PROVA: 4 horas**

NÚMERO DE INSCRIÇÃO

TURMA

NOME DO CANDIDATO

ASSINATURA DO CANDIDATO

X .....

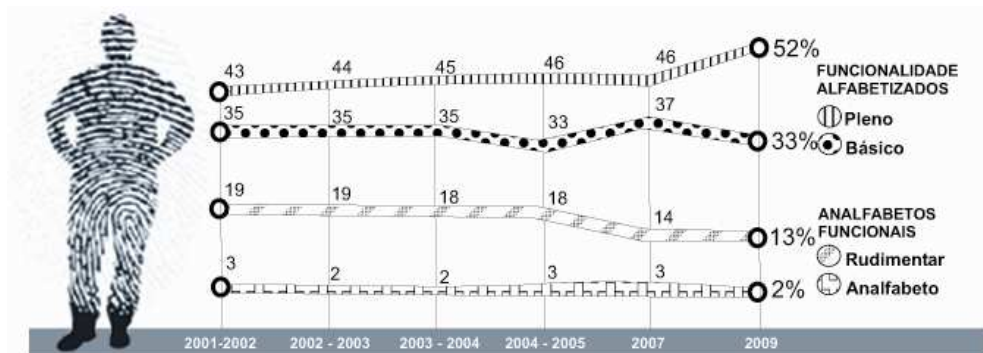
RESPOSTAS							
01 -	06 -	11 -	16 -	21 -	26 -	31 -	36 -
02 -	07 -	12 -	17 -	22 -	27 -	32 -	37 -
03 -	08 -	13 -	18 -	23 -	28 -	33 -	38 -
04 -	09 -	14 -	19 -	24 -	29 -	34 -	39 -
05 -	10 -	15 -	20 -	25 -	30 -	35 -	40 -



## LÍNGUA PORTUGUESA

O gráfico a seguir é referência para as questões 01 e 02.

Evolução do indicador População de 15 a 24 anos



Ilustrações: Mario Kanno

(Fonte: Instituto Paulo Montenegro/IBOPE)

01 - Segundo o gráfico, é **INCORRETO** afirmar:

- \*a) Apenas um terço da população brasileira entre 15 e 24 anos sai da escola com um nível de alfabetização considerado ideal.
- b) A escola brasileira é razoavelmente bem sucedida ao preparar os jovens para a leitura e a escrita.
- c) Menos da metade da população brasileira atinge o nível funcional de alfabetização, ou seja, domina os rudimentos básicos de leitura e escrita.
- d) Em 2009, a população brasileira apresentou um índice de 15% de analfabetos ou quase-analfabetos.
- e) 2009 não foi o melhor ano da década para a escola brasileira, em termos de melhoria nos resultados de alfabetização da faixa etária jovem.

02 - Atualmente, ainda é possível estabelecer equivalência semântica entre o prefixo da palavra “*analfabeto*” e o prefixo da palavra:

- a) analogia.
- b) androgenia.
- \*c) desumano.
- d) incorporar.
- e) depositar.

O texto a seguir é referência para as questões 03 e 04.

### Biólogos ressuscitam a teoria de Lamarck

Jean Baptiste Pierre Antoine de Monet, Chevalier de Lamarck, nasceu em 1744 no seio de uma família de militares. Após um ferimento, deixou a vida marcial e passou a estudar biologia e medicina. Seu primeiro livro, "Flore Française", foi publicado no ano de 1778. O volume lhe rendeu a indicação como professor responsável no Museu Nacional de História Natural, experiência que proporcionou ao botânico algum conhecimento no campo da zoologia. Com isso, Lamarck desenvolveu a biologia e, em 1809, foi o primeiro a formular uma teoria da evolução. Nela, a evolução se baseava em dois princípios: a lei do uso e desuso e a lei da herança. As modificações estruturais e adaptações se iniciavam com a usabilidade de um órgão ou membro e, conseqüentemente, essas características eram passadas de pai para filho.

Com as teorias de Darwin e o tratado "A Origem das Espécies", as ideias de Lamarck e o "lamarckismo" caíram na obscuridade da história das ciências. Mas hoje, 29, é o lançamento de "Evolução em Quatro Dimensões", livro no qual duas cientistas, Eva Jablonka e Marion J. Lamb, resolveram rever as teorias do injustiçado naturalista francês. Segundo as autoras, o darwinismo precisa de uma reforma que passa pela incorporação do lamarckismo na teoria evolutiva. E afirmam que as novas descobertas da biologia molecular mostram que a evolução vai além da seleção de variações casuais nos genes.

(Folhaonline, acesso em 21 mar. 2010.)

03 - A principal intenção do texto é:

- a) restabelecer a teoria de Lamarck.
- b) comparar as duas principais teorias de evolução das espécies: Lamarck e Darwin.
- \*c) anunciar a publicação do livro "Evolução em Quatro Dimensões".
- d) advogar a importância da biologia molecular.
- e) criticar as atitudes de Darwin em relação a Lamarck.

04 - Com base nesse texto, numere a coluna da direita de acordo com sua correspondência com a coluna da esquerda.

- |                                   |  |
|-----------------------------------|--|
| 1. Lamarck.                       | ( ) A evolução se dá por seleção de variações genéticas casuais.       |
| 2. Darwin.                        | ( ) As hipóteses do uso e desuso e da herança são refutadas, devido à  |
| 3. Eva Jablonka e Marion J. Lamb. | formulação de explicações mais consistentes.                           |
|                                   | ( ) A evolução é mais do que seleção de variações aleatórias de genes. |
|                                   | ( ) A adaptação leva os seres vivos a alterar ou desenvolver órgãos.   |
|                                   | ( ) As teorias da evolução devem ser reavaliadas.                      |

Assinale a alternativa que apresenta a sequência correta da coluna da direita, de cima para baixo.

- a) 1 – 2 – 3 – 2 – 1.  
 b) 3 – 3 – 3 – 1 – 2.  
 c) 2 – 2 – 1 – 3 – 2.  
 d) 1 – 3 – 1 – 2 – 3.  
 \*e) 2 – 2 – 3 – 1 – 3.

05 - Abaixo estão algumas mudanças contempladas na reforma ortográfica aprovada em 2008. Na sequência, aparecem palavras do texto. Em que caso(s) a palavra teve a sua ortografia alterada devido à regra que aparece à sua esquerda?

1. Não se usa mais o acento dos ditongos abertos ei e oi das palavras paroxítonas – “ideia”.
2. Não se usa mais o trema, sinal colocado sobre a letra ü para indicar que ela deve ser pronunciada – “consequentemente”.
3. Nas palavras paroxítonas, não se usa mais o acento no i e no u tônicos quando vierem depois de um ditongo – “leitura”.
4. Não se usa hífen quando o prefixo termina em vogal e o segundo elemento começa por consoante diferente de r ou s – “desuso”.

Assinale a alternativa correta.

- a) Somente a afirmativa 1 é verdadeira.  
 \*b) Somente as afirmativas 1 e 2 são verdadeiras.  
 c) Somente as afirmativas 2, 3 e 4 são verdadeiras.  
 d) Somente as afirmativas 2 e 3 são verdadeiras.  
 e) Somente as afirmativas 3 e 4 são verdadeiras.

O texto a seguir é referência para as questões 06 e 07.

#### Torcedoras dizem entender mais de futebol e brigar menos

A paixão pelo futebol não é algo exclusivo para homens, muito menos no Brasil, onde o esporte é uma febre nacional.

Ana Carla Portela, que faz locuções de partidas para vídeos veiculados online, diz entender mais de futebol que muitos homens. Para ela, a ideia preconceituosa de que mulher que gosta de futebol é “Maria chuteira” está menos presente na sociedade.

A palmeirense Manuela Biz e a corintiana Luciana Hruby dividem apartamento há mais de sete meses e se orgulham, não só do conhecimento que têm sobre o esporte, como também de nunca ter brigado por causa dos times.

(Folhaonline, acesso em 21 mar. 2010.)

06 - Assinale a alternativa que melhor resume esse texto.

- a) Embora se constate que as mulheres briguem menos no campo de futebol, a alegação de que entendem do esporte mais do que os homens é colocada em dúvida pelo repórter nas entrelinhas do texto. A atividade de Ana Carla Portela é usada para exemplificar o fato.
- b) Ana Carla Portela, Manuela Biz e Luciana Hruby são colocadas como exceção à regra de que mulher que gosta de futebol é “Maria chuteira”. Embora essa crença esteja menos presente na sociedade de hoje, ainda é uma realidade.
- c) O fato de Manuela Biz e Luciana Hruby nunca terem brigado por causa de seus times é apresentado como indício a favor da tese de que as mulheres entendem mais de futebol do que os homens.
- \*d) A reportagem procura desfazer a ideia de que o interesse pelo futebol seja uma prerrogativa dos homens e afirma que colocar apelidos depreciando o papel de mulheres interessadas por esse esporte é puro preconceito.
- e) O texto procura retratar o futebol como paixão nacional. Exemplifica isso citando a harmonia que se estabelece entre duas torcedoras de times diferentes, como Manuela Biz e Luciana Hruby.

07 - Observe o uso do há no último parágrafo do texto e considere as seguintes ocorrências.

1. Há muito eles não ouviam falar do seu time.
2. O Joel assinará o contrato com o time daqui há 3 meses.
3. Há quem diga que não consegue entender o resultado daqueles jogos.
4. Há dez quilômetros daqui encontraremos um restaurante.

Em que ocorrência(s) acima a palavra grifada foi usada corretamente?

- a) Somente em 2.  
 b) Somente em 1 e 2.  
 c) Somente em 2 e 4.  
 d) Somente em 3 e 4.  
 \*e) Somente em 1 e 3.

O texto a seguir é referência para as questões 08 a 10.

### Prometeus, a revolução da mídia

Para estimular a reflexão acerca das modificações socioculturais provocadas pela Internet, vale dar uma olhada no vídeo *Prometeus, a revolução da mídia* (5'13"). Trata-se de um pequeno filme que, mesclando ficção científica com dados reais, levanta hipóteses surreais, porém plausíveis, acerca da fusão entre o real e o virtual. O vídeo também traz à tona outras questões já efetivamente existentes sobre a Internet. Um exemplo é o surgimento do "prossumidor" – produtor e consumidor de informações – como agente modificador das relações de comunicação de massa. [...]

(*Filosofia, Ciência e Vida*, ano IV, nº 44.)

08 - O texto apresenta duas vezes a informação sobre:

- \*a) a duração do vídeo.
- b) as modificações socioculturais provocadas pela Internet.
- c) as relações de comunicação de massa.
- d) o personagem do vídeo, Prometeus.
- e) o produtor do vídeo.

09 - A partir da afirmação de que o vídeo "levanta hipóteses surreais, porém plausíveis", é correto inferir:

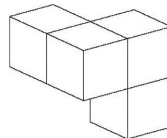
- a) O "prossumidor" é puro exagero dos críticos que falam do mundo virtual.
- b) O vídeo retrata a vida dos internautas tal e qual.
- \*c) O filme apresenta situações que não ocorrem realmente, mas poderiam ocorrer.
- d) O filme apresenta uma visão desprovida de crítica sobre as modificações socioculturais em geral.
- e) "O prossumidor" revela o caráter passivo das pessoas que se utilizam muito da Internet.

10 - "Trata-se de um pequeno filme que, mesclando ficção científica com dados reais, levanta hipóteses surreais, porém plausíveis, acerca da fusão entre o real e o virtual." Sem prejuízo do significado e da estrutura sintática da sentença, a palavra "porém" poderia ser substituída por:

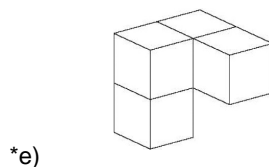
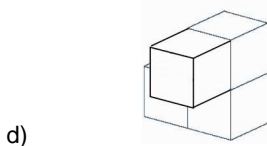
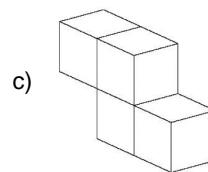
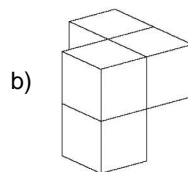
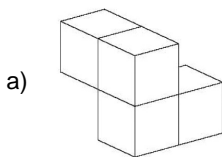
- a) quando.
- \*b) todavia.
- c) pois.
- d) nem.
- e) portanto.

### CONHECIMENTOS GERAIS E ATUALIDADES

11 - O objeto a seguir será girado para uma posição diferente:



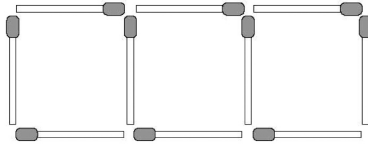
Qual das figuras abaixo pode ser o objeto original, após o seu giro?



12 - Os números na sequência 2, 5, 8, ... aumentam de três em três. Os números na sequência 3, 8, 13, ... aumentam de cinco em cinco. O número 8 aparece nas duas sequências. Continuando com os termos dessas sequências, o próximo número que aparecerá em ambas será:

- a) 13.
- b) 17.
- c) 18.
- \*d) 23.
- e) 26.

13 - Na figura a seguir, 10 palitos de fósforo foram usados para se construir 3 quadrados em uma linha.



Utilizando 31 palitos de fósforo, será possível construir em uma linha:

- a) 13 quadrados.
  - b) 12 quadrados.
  - c) 11 quadrados.
  - \*d) 10 quadrados.
  - e) 9 quadrados.
- 14 - Em outubro deste ano, o Brasil realizará eleições gerais. A partir das normas que regem o processo eleitoral brasileiro, identifique as afirmativas a seguir como verdadeiras (V) ou falsas (F).

- ( ) No primeiro turno das eleições para Presidente da República e Governador dos Estados, será considerado eleito o candidato que alcançar a maioria dos votos, sendo computados para esse cálculo os votos brancos e nulos.
- ( ) Na eleição de 2010 haverá a renovação de dois terços das vagas do Senado e de todas as vagas das Assembleias Legislativas.
- ( ) Os candidatos que concorrem a qualquer cargo nas eleições de 2010 estão proibidos de mudar de partido ou de domicílio eleitoral um ano antes das eleições.
- ( ) Nas eleições de 2010, a ocorrência de segundo turno está restrita aos municípios com população superior a 100 mil habitantes.
- ( ) Não há limite para reeleições sucessivas de senadores, deputados federais e estaduais.

Assinale a alternativa que apresenta a sequência correta, de cima para baixo.

- a) F – F – V – V – F.
  - b) V – V – F – V – V.
  - \*c) F – V – V – F – V.
  - d) V – F – F – F – V.
  - e) V – V – V – F – F.
- 15 - No inverno de 2009, a população brasileira passou a enfrentar uma nova doença, a gripe H1N1. O Paraná foi um dos estados mais afetados, com um índice de mortalidade acima da média nacional. Em 2010, mesmo antes do período mais crítico de contaminação, o estado já registrava um número de mortes que o colocou em segundo lugar entre os estados brasileiros (8 mortes até 3 de abril, número superado apenas pelo Pará, segundo a Gazeta do Povo de 10/04/2010). A população foi orientada a tomar uma série de cuidados para evitar a contaminação. Indique a alternativa que apresenta um desses cuidados.

- \*a) Evitar tocar nos olhos, boca e nariz, principalmente após usar transportes públicos ou pegar no corrimão de escadas ou maçaneta de portas.
- b) Higienizar as mãos preferencialmente com álcool gel 70°, que é mais eficiente do que água e sabão.
- c) Manter as portas e janelas bem fechadas, para evitar que o vírus causador da doença penetre no ambiente.
- d) As pessoas que tiverem algum sintoma de gripe devem, inicialmente, tomar analgésicos e antitérmicos e, se os sintomas persistirem, procurar assistência médica.
- e) Evitar o uso de lenços, pois eles podem contaminar outras pessoas.

16 - O projeto Ficha Limpa, aprovado em maio de 2010, é resultado de uma iniciativa popular: recebeu 1,6 milhão de assinaturas e foi apresentado ao Congresso em setembro do ano passado. Com relação a esse projeto, identifique as afirmativas a seguir como verdadeiras (V) ou falsas (F).

- ( ) O projeto impede o registro de candidaturas de políticos com condenação por crimes graves após decisão colegiada da Justiça (mais de um juiz).
- ( ) Segundo o projeto, o candidato que for denunciado por algum crime durante o mandato e renunciar para evitar a cassação terá os direitos políticos preservados.
- ( ) A lei da Ficha Limpa entrará em vigor em 2012, para as eleições municipais.
- ( ) O projeto Ficha Limpa representa um avanço para a redução do número de políticos desonestos que ocupam cargos eletivos.

Assinale a alternativa que apresenta a sequência correta, de cima para baixo.

- a) V – V – F – V.
- b) F – F – V – V.
- c) V – F – F – F.
- d) F – V – V – F.
- \*e) V – F – F – V.

**17 - A campanha de vacinação contra a gripe H1N1, realizada pela primeira vez em 2010, não foi disponibilizada para a totalidade da população. O critério adotado para definir os grupos populacionais que foram incluídos na campanha foi:**

- a) priorizar as faixas etárias com maior participação no mercado de trabalho, para evitar queda na produtividade da economia.
- b) vacinar preferencialmente as pessoas que têm um contato mais intenso com o público e estão mais expostas à contaminação.
- c) priorizar os grupos que têm maior número de pessoas vivendo em condições precárias de higiene e com alimentação insuficiente.
- \*d) priorizar os grupos que se mostraram mais vulneráveis à contaminação em 2009 e que mais tiveram complicações letais.
- e) dar prioridade à população dos estados que tiveram maior incidência da doença na epidemia de 2009.

**18 - Nos termos da Constituição Federal de 1988, a estabilidade do servidor público será alcançada:**

- a) após dois anos de efetivo exercício, para concursados ou não, desde que devidamente aprovados em estágio probatório.
- \*b) após três anos de efetivo exercício, para os servidores nomeados por concurso público para cargo de provimento efetivo, desde que devidamente avaliados em estágio probatório.
- c) após três anos de efetivo exercício, para os servidores nomeados por concurso público para cargo de provimento em comissão, desde que devidamente avaliados em estágio probatório.
- d) após dois anos de efetivo exercício, para os servidores nomeados por concurso para cargo, emprego ou função pública, desde que devidamente avaliados em estágio probatório.
- e) através da Emenda Constitucional nº 19/98 foi suprimida a estabilidade do servidor público.

**19 - Grande debate surge sempre que autoridade pública, em exercício de sua função, é flagrada recebendo presente de um particular. Imagine-se, por exemplo, que um determinado representante do Poder Executivo municipal receba, de morador daquele município, certa quantidade de produtos agrícolas, produzidos na propriedade do munícipe, em sinal de respeito e afeição pelo Poder representado pela autoridade. Sobre esse assunto, é correto afirmar:**

- a) Desde que o munícipe tenha interesse pessoal, profissional ou empresarial em decisão que possa ser tomada pela autoridade presenteada, pode-se presumir que o presente não foi dado em função do cargo.
- b) O fato de o munícipe manter relação comercial com o órgão representado pela autoridade não é suficiente para fazer presumir um comportamento não ético daquele que recebe.
- c) Não há impedimento para que a autoridade receba o presente, uma vez que é comum na sociedade brasileira a demonstração de admiração pelos investidos em funções públicas, especialmente por meio de homenagens e dádivas.
- \*d) A autoridade deve recusar os produtos oferecidos, independentemente do valor que possuam.
- e) Desde que o munícipe não tenha interesse pessoal, profissional ou empresarial em decisão que possa ser tomada pela autoridade presenteada, mas seja representante legal de empresa que o tenha, não se pode presumir que o presente não foi dado em função do cargo.

**20 - Segundo o capítulo constitucional dos Direitos e Deveres Individuais e Coletivos, assinale a alternativa correta.**

- a) É livre a expressão da atividade intelectual, dependendo da prévia licença do Poder Público para o seu exercício.
- b) A liberdade de exercício de qualquer ofício no Brasil é plena, não cabendo ao Poder Público impor qualquer espécie de condição, mesmo por intermédio de lei.
- c) Não existe nenhuma vedação constitucional específica ao exercício pleno da liberdade de associação para fins lícitos.
- d) Ninguém poder ser compelido a associar-se ou permanecer associado, exceto nos casos dos respectivos sindicatos.
- \*e) As associações, desde que expressamente autorizadas, têm legitimidade para representar seus filiados judicial ou extrajudicialmente.

## AVALIAÇÃO SITUACIONAL

**21 - Marcela foi aprovada em concurso público para um cargo de técnico em contabilidade em regime de 20 horas semanais na Prefeitura Municipal de Araucária. No momento da nomeação, ela declarou ser professora em uma instituição federal de ensino profissionalizante, em Curitiba, em regime de 20 horas semanais. Segundo a Lei 1.703/06, é correto afirmar que:**

- a) Marcela deverá optar por uma remuneração, pois é permitida a acumulação de cargos públicos mas não de remuneração.
- \*b) Marcela somente poderá acumular o cargo de professor e o cargo técnico se houver compatibilidade de horário.
- c) A nomeação de Marcela deverá ser anulada, pois a Lei 1.703/06, em seu artigo 136, proíbe explicitamente a acumulação remunerada de cargos públicos.
- d) Marcela deverá se desincompatibilizar, pedindo exoneração do cargo de professora, no prazo de 30 dias, sob pena de nulidade do ato de nomeação.
- e) Marcela será impedida de tomar posse, pois nomeações na esfera federal têm hierarquia superior àquelas da esfera municipal, e deverá ser convocado o próximo colocado na lista de aprovados no concurso.

22 - Um técnico em contabilidade da Prefeitura de Araucária está analisando a tabela a seguir, que apresenta dados sobre o número de alunos matriculados na Rede Municipal de Ensino do Município de Araucária.

**TABELA.1 – Número de alunos matriculados na Rede Municipal de Ensino.**

Nº DE ALUNOS	2000	2001	2002	2003	2004	2005	2006	2007
Ensino Fundamental	15.333	15.300	15.763	15.980	16.715	16.625	16.510	17.629
Educação Infantil	2.409	3.074	3.274	3.405	3.808	3.806	3.739	1.939
Educação Especial	405	449	468	492	595	645	636	1.080
<b>TOTAL</b>	<b>18.147</b>	<b>18.823</b>	<b>19.505</b>	<b>19.877</b>	<b>21.118</b>	<b>21.076</b>	<b>20.885</b>	<b>20.648</b>

Fonte: INEP-Instituto Nacional de Estudos e Pesquisas Educacionais Anísio Teixeira. Os dados do ano de 2007 foram obtidos na SMED.

**Após analisar o histórico dos repasses de recursos para a educação no município de Araucária, o técnico em contabilidade concluiu que:**

- O número de alunos matriculados indica crescimento na arrecadação tributária do município ao longo dos anos de 2000 a 2004.
- \*b) O total de alunos matriculados a partir de 2004 sinaliza redução nos repasses relativos ao FUNDEF/FUNDEB.
- c) O crescimento do número de alunos na educação especial é suficiente para justificar maior repasse de recursos do FUNDEF/FUNDEB para o município, a partir de 2007.
- d) Os números da tabela permitem identificar as fontes de recursos do FUNDEF/FUNDEB nos anos de 2000 a 2007.
- e) A distribuição dos recursos para a educação não está vinculada aos números apresentados na tabela.

23 - Ao longo de determinado ano, o técnico contábil da Prefeitura de Pinheirópolis encontrou dificuldades para realizar corretamente os relatórios referentes ao Fundo de Participação dos Municípios. Em consequência disso, algumas despesas com educação poderiam estar contabilizadas como despesas com saúde. Baseando-se na legislação, esse servidor público, para sanar esse problema em exercícios futuros, deve:

- alterar o plano de contas do município.
- solicitar a elaboração de novo plano de contas do município a um escritório de contabilidade.
- \*c) registrar as dificuldades e encaminhar formalmente ao contador do município ou a seu chefe imediato.
- d) formalizar uma reclamação junto ao Tribunal de Contas do município.
- e) solicitar a elaboração de novo plano de contas do município a uma empresa de consultoria em contabilidade pública.

24 - Paulo foi aprovado em um concurso público para uma vaga de provimento efetivo em uma secretaria da Prefeitura Municipal de Araucária, se apresentando para o exercício cinco dias úteis após a posse. Nesse caso, deve a Administração Municipal:

- Atestar o efetivo início do exercício do servidor.
- \*b) Exonerar o servidor.
- c) Cancelar o ato de nomeação do servidor e convocar o próximo colocado na lista de classificação.
- d) Descontar a remuneração dos quatro dias úteis de ausência injustificada.
- e) Reduzir em quatro dias o período de férias do servidor.

25 - Um técnico em contabilidade do município de Araucária, devidamente concursado para a função, completou, ao longo dos três primeiros anos de exercício de sua função, o curso superior na área de enfermagem. Ao procurar seus direitos na legislação pertinente, o funcionário constatou que:

- \*a) não terá direito a progressão funcional por habilitação/titulação, tendo em vista que o curso superior em que se formou não é compatível com a função efetivamente exercida.
  - b) tem direito a progressão funcional por tempo de serviço, após registrar seu diploma na prefeitura.
  - c) tem direito a progressão funcional por habilitação/titulação de dois níveis, após requerer a progressão.
  - d) tem direito a progressão funcional automática por habilitação/titulação de dois níveis.
  - e) tem direito a progressão o funcional por qualificação.
- (\*) – Questão com resposta alterada de C para A.**

26 - O técnico em contabilidade de um município está conferindo o Relatório de Execução Orçamentária do exercício fiscal anterior. Assinale a alternativa que apresenta as fontes de informação que ele deve utilizar.

- Os balanços consolidados da União, Estados, Distrito Federal e Municípios.
- \*b) A Lei Complementar nº 101, intitulada Lei de Responsabilidade Fiscal, e as portarias anuais aprovando os Manuais de Elaboração.
- c) A Lei Complementar nº 101, intitulada Lei de Responsabilidade Fiscal, e os relatórios de aplicação dos recursos públicos de municípios do mesmo porte.
- d) A Lei Complementar nº 101, intitulada Lei de Responsabilidade Fiscal, e os balanços da União, Estados, Distrito Federal e Municípios.
- e) O relatório resumido do Anexo de Riscos e Gestão Fiscais.



27 - Dentre os tributos de arrecadação municipal está o ISSQN (Imposto sobre Serviços de Qualquer Natureza). A prefeitura do município de Pinheirópolis está estudando a redução – de 5% para 2% – da alíquota de ISSQN para serviços de planejamento, confecção, manutenção e atualização de páginas eletrônicas, como forma de atrair mais empresas desse setor para o município.

Considere que atualmente o município tem 23 empresas do setor, com faturamento médio de R\$ 8.000,00. Caso a redução seja aprovada, estima-se a abertura de mais 20 empresas no referido município, com o mesmo faturamento médio. Assinale a alternativa que apresenta o resultado na arrecadação tributária dessa alteração.

- a) R\$ 3.220,00.
- \*b) (R\$ 2.320,00).
- c) R\$ 2.320,00.
- d) (R\$ 23.200,00).
- e) (R\$ 3.220,00).

28 - Com base nos princípios da contabilidade pública, assinale a alternativa que apresenta a contabilização correta do fato contábil a seguir descrito.

**Fato contábil:** Assinado o contrato de fornecimento de veículos, no valor de R\$ 130.000,00, após regular processo licitatório, executam-se os seguintes lançamentos contábeis:

- \*a) Crédito Disponível Capital a Despesa Empenhada Capital R\$ 130.000,00.
- b) Crédito Disponível Capital a Despesa Liquidada Capital R\$ 130.000,00.
- c) Débito Disponível Capital a Despesa Empenhada Capital R\$ 130.000,00.
- d) Crédito Disponível Veículos a Despesa Empenhada Capital R\$ 130.000,00.
- e) Débito Disponível Veículos a Despesa Liquidada Capital R\$ 130.000,00.

29 - O artigo 139 da Lei 1.703/06 reza que o servidor não poderá exercer cumulativamente mais de uma função gratificada.

Considere que foi solicitado a você fazer levantamento dos possíveis funcionários da prefeitura que podem estar recebendo gratificações de forma irregular. As fontes de informação disponíveis são: a) Folha de Pagamento do Município, com nomes, CPF, valor do salário básico, valores dos recolhimentos tributários exigidos por lei e valor creditado para cada funcionário, a título de salário, em sua conta bancária; b) planilha eletrônica acessória, com a relação dos nomes dos funcionários que recebem gratificação e outras vantagens pecuniárias decorrentes de cargos em comissão e cargos de confiança, com o valor creditado em conta corrente a título de gratificação.

Partindo do princípio de que essas informações são fidedignas, assinale a alternativa que apresenta os procedimentos necessários para a conferência e elaboração de relatório com o levantamento solicitado.

- a) Elaborar planilha eletrônica, a partir dos sobrenomes dos funcionários constantes nas duas relações (folha e planilha acessória), de forma a encontrar os sobrenomes repetidos e elaborar a lista de duplicidades.
- b) Elaborar planilha eletrônica, reunir os CPFs da folha de pagamento com os CPFs da planilha acessória e fazer o cruzamento da informação. Destacar os CPFs coincidentes. Elaborar o relatório.
- \*c) Elaborar planilha eletrônica, identificar os números de CPFs dos nomes relacionados na planilha acessória, reunir os CPFs da folha de pagamento com os CPFs da planilha acessória e fazer o cruzamento da informação. Destacar os CPFs coincidentes de forma a identificar se existem CPFs recebendo mais de uma gratificação. Elaborar o relatório.
- d) Elaborar planilha eletrônica, identificar os números de CPFs dos nomes relacionados na planilha acessória, cotejar os CPFs da folha de pagamento com os CPFs da planilha acessória e fazer o cruzamento da informação.
- e) Elaborar tabela de texto, identificar os números de CPFs dos nomes relacionados na planilha acessória, reunir os CPFs da folha de pagamento com os CPFs da planilha acessória e fazer o cruzamento da informação a partir de inspeção visual. Destacar os CPFs que aparecem mais de duas vezes e buscar o decreto de nomeação de cargo em confiança e/ou indicação para cargo com gratificação. Elaborar relatório com os pagamentos cuja origem não está identificada.

30 - Certa empresa apresentou o seguinte fluxo de liquidação de receitas e despesas:

RECEITAS		DESPESAS	
Dezembro/09, recebidas em Janeiro/10	R\$ 5.000,00	Dezembro/09, pagas em Dezembro/09	R\$ 10.000,00
Janeiro/10, recebidas em Dezembro/09	R\$ 13.000,00	Janeiro/10, pagas em Dezembro/09	R\$ 12.000,00
Dezembro/09, recebidas em Dezembro/09	R\$ 12.000,00	Dezembro/09, pagas em Janeiro/10	R\$ 8.000,00

Com base nessas informações, pode-se dizer que, em 2009, a empresa obteve, pelo Regime de Caixa e pelo Regime de Competência, respectivamente, os seguintes resultados:

- \*a) Lucro de R\$ 3.000,00 e Prejuízo de R\$ 1.000,00.
- b) Prejuízo de R\$ 1.000,00 e Lucro de R\$ 3.000,00.
- c) Lucro de R\$ 1.000,00 e Lucro de R\$ 3.000,00.
- d) Prejuízo de R\$ 1.000,00 e Prejuízo de R\$ 1.000,00.
- e) Lucro de R\$ 3.000,00 e Prejuízo de R\$ 3.000,00.

## CONHECIMENTO ESPECÍFICO

31 - A Contabilidade Geral estuda o patrimônio das entidades, tendo como objetivo o controle desse patrimônio. Sobre esse assunto, identifique as afirmativas a seguir como verdadeiras (V) ou falsas (F).

- Patrimônio é o conjunto de riquezas de propriedade de alguém ou de uma entidade jurídica.
- O conjunto de direitos que uma pessoa ou entidade possui em relação a terceiros também faz parte do conceito de riquezas.
- As riquezas mais representativas de um patrimônio são os direitos.
- O conjunto de obrigações de uma pessoa ou entidade refere-se às suas contas a pagar.

Assinale a alternativa que apresenta a sequência correta, de cima para baixo.

- a) V - F - V - F.
- \*b) V - V - F - F.
- c) F - V - F - V.
- d) F - F - V - V.
- e) V - F - V - V.

32 - Considere:

**B = Bens.**  
**D = Direitos.**  
**O = Obrigações.**  
**PL = Patrimônio Líquido.**

Assinale a alternativa que mostra a equação fundamental da contabilidade.

- a)  $B + O = PL$
- b)  $B + D + PL = O$
- \*c)  $B + D - O = PL$
- d)  $B + D + O = PL$
- e)  $B + D = O - PL$

33 - A Lei 11.638/2007 alterou as demonstrações financeiras obrigatórias. Considerando essa lei, relacione os relatórios mencionados na coluna da esquerda com seus objetivos, relacionados na coluna da direita.

- |   |   |
|---|---|
| 1. Balanço Patrimonial.                             | <input type="checkbox"/> Expressa os resultados econômicos de um período específico.  |
| 2. Demonstração dos Lucros ou Prejuízos Acumulados. | <input type="checkbox"/> Mostra os destinos dados aos lucros da empresa.  |
| 3. Demonstração dos Resultados do Exercício.        | <input type="checkbox"/> Reflete o fluxo de recursos para dentro e para fora da empresa.  |
| 4. Demonstração do Fluxo de Caixa.                  | <input type="checkbox"/> É uma demonstração financeira estática e sintética que apresenta bens, direitos, obrigações e o capital pertencente aos proprietários da empresa, em determinada data. |

Assinale a alternativa que apresenta a numeração correta da coluna da direita, de cima para baixo.

- a) 1 - 4 - 3 - 2.
- b) 3 - 4 - 2 - 1.
- c) 1 - 2 - 4 - 3.
- \*d) 3 - 2 - 4 - 1.
- e) 1 - 3 - 2 - 4.

34 - Numere a coluna da direita, associando os fatos contábeis apresentados na coluna da esquerda com a correta contabilização.

- |  |   |
|--|---|
| 1. Aquisição de mercadoria para a venda, à vista.                                      | <input type="checkbox"/> Debita bancos e credita mercadorias. |
| 2. Venda de mercadorias do estoque, à vista.   | <input type="checkbox"/> Debita mercadorias e credita caixa.  |
| 3. Saque de dinheiro do banco para reforçar o caixa da empresa.                        | <input type="checkbox"/> Debita caixa e credita mercadorias.  |
| 4. Depósito no banco de valores decorrentes de vendas à vista, realizadas em dinheiro. | <input type="checkbox"/> Debita bancos e credita caixa.       |

Assinale a alternativa que apresenta a numeração correta na coluna da direita, de cima para baixo.

- \*a) 4 - 1 - 2 - 3.
- b) 3 - 1 - 2 - 4.
- c) 1 - 2 - 4 - 3.
- d) 3 - 2 - 4 - 1.
- e) 4 - 1 - 3 - 2.

**35 - A administração financeira dos entes públicos envolve a gestão permanente dos recursos arrecadados dos contribuintes e sua aplicação nas prioridades estabelecidas anualmente na Lei Orçamentária. Numere a coluna da direita, relacionando as despesas orçamentárias da coluna da esquerda com as respectivas classificações.**

- |                         |                          |                                |
|-------------------------|--------------------------|--------------------------------|
| 1. Despesas Correntes.  | <input type="checkbox"/> | De Investimentos.              |
| 2. Despesas de Capital. | <input type="checkbox"/> | De Pessoal.                    |
|                         | <input type="checkbox"/> | De Amortização da Dívida.      |
|                         | <input type="checkbox"/> | De Juros e Encargos da Dívida. |
|                         | <input type="checkbox"/> | De Inversões Financeiras.      |

**Assinale a alternativa que apresenta a sequência correta da coluna da direita, de cima para baixo.**

- a) 2 – 1 – 1 – 1 – 2.  
 \*b) 2 – 1 – 2 – 1 – 2.  
 c) 2 – 2 – 2 – 1 – 1.  
 d) 1 – 2 – 1 – 2 – 2.  
 e) 1 – 1 – 2 – 2 – 1.

**36 - Em relação aos livros contábeis, assinale a alternativa correta.**

- a) O livro diário é utilizado para registrar os eventos contábeis do dia em uma única conta.  
 b) O livro razão é utilizado para registrar os eventos econômicos do dia.  
 c) O livro diário pode substituir o livro razão.  
 \*d) O livro razão apresenta os registros dos eventos econômicos em cada uma das contas contábeis.  
 e) O livro razão apresenta os registros dos eventos econômicos em uma única conta.

**37 - O campo de atuação da administração pública, conforme delineado pela organização da execução dos serviços, compreende os órgãos da administração direta ou centralizada e os da administração indireta ou descentralizada. Entre as entidades que compõem a chamada administração indireta ou descentralizada, estão as autarquias e as entidades paraestatais. Com relação às entidades paraestatais, identifique as afirmativas a seguir como verdadeiras (V) ou falsas (F).**

- O patrimônio dessas entidades pode ser constituído somente por recursos de particulares.  
 Possuem autonomia administrativa e financeira.  
 Não possuem privilégios tributários, exceto os especialmente concedidos por Lei.  
 Os atos dos empregados, para fins criminais, equiparam-se aos de funcionários públicos.

**Assinale a alternativa que apresenta a sequência correta, de cima para baixo.**

- \*a) F – V – V – V.  
 b) F – V – F – V.  
 c) F – V – V – F.  
 d) V – F – F – V.  
 e) V – F – V – F.

**38 - A Lei do Orçamento deve conter todas as receitas que se espera arrecadar no exercício a que ela se referir. Numere a coluna da direita, relacionando as receitas descritas na coluna da esquerda com as respectivas classificações.**

- |                         |                          |                                |
|-------------------------|--------------------------|--------------------------------|
| 1. Receitas Correntes.  | <input type="checkbox"/> | Tributária.                    |
| 2. Receitas de Capital. | <input type="checkbox"/> | De Alienação de Bens.          |
|                         | <input type="checkbox"/> | De Amortização de Empréstimos. |
|                         | <input type="checkbox"/> | Patrimonial.                   |
|                         | <input type="checkbox"/> | De Contribuições.              |

**Assinale a alternativa que apresenta a sequência correta da coluna da direita, de cima para baixo.**

- \*a) 1 – 2 – 2 – 1 – 1.  
 b) 1 – 1 – 2 – 1 – 2.  
 c) 1 – 2 – 1 – 2 – 1.  
 d) 2 – 1 – 1 – 1 – 2.  
 e) 2 – 1 – 2 – 2 – 1.

**39 - Os atos da gestão pública, com potencial de modificar o patrimônio da entidade, devem ser registrados nas contas:**

- a) públicas.  
 b) de resultado.  
 \*c) de compensação.  
 d) patrimoniais.  
 e) administrativas.

40 - Considere a situação hipotética do Balanço Patrimonial da empresa Lucros SA em 31.12.2008, apresentado a seguir.

**BALANÇO PATRIMONIAL INICIAL**

ATIVO		207.000,00	PASSIVO + PL		207.000,00
		57.000,00			30.000,00
Caixa	2.000,00		Fornecedores	30.000,00	
Banco A	25.000,00				
Estoques	30.000,00				
		150.000,00			177.000,00
Imóvel	150.000,00		Capital Social	177.000,00	

Caso essa empresa adquira um veículo no valor de R\$ 27.000,00, financiando integralmente o valor, assinale a alternativa que apresenta corretamente o novo Balanço Patrimonial.

a)

ATIVO		234.000,00	PASSIVO + PL		234.000,00
		57.000,00			30.000,00
Caixa	2.000,00		Fornecedores	30.000,00	
Banco A	25.000,00				
Estoques	30.000,00				
		177.000,00			204.000,00
Imóvel	150.000,00		Capital Social	204.000,00	
Veículo	27.000,00				

\*b)

ATIVO		234.000,00	PASSIVO + PL		234.000,00
		57.000,00			57.000,00
Caixa	2.000,00		Fornecedores	30.000,00	
Banco A	25.000,00		Financiamento	27.000,00	
Estoques	30.000,00				
		177.000,00			177.000,00
Imóvel	150.000,00		Capital Social	177.000,00	
Veículo	27.000,00				

c)

ATIVO		207.000,00	PASSIVO + PL		207.000,00
		57.000,00			57.000,00
Caixa	2.000,00		Fornecedores	30.000,00	
Banco A	25.000,00		Veículo a pagar	27.000,00	
Estoques	30.000,00				
		150.000,00			150.000,00
Imóvel	150.000,00		Capital Social	150.000,00	

d)

ATIVO		209.000,00	PASSIVO + PL		209.000,00
		32.000,00			32.000,00
Caixa	2.000,00		Fornecedores	30.000,00	
Banco A	-		Financiamento	2.000,00	
Estoques	30.000,00				
Veículo	27.000,00				
		177.000,00			177.000,00
Imóvel	150.000,00		Capital Social	177.000,00	

e)

ATIVO		234.000,00	PASSIVO + PL		207.000,00
		57.000,00			30.000,00
Caixa	2.000,00		Fornecedores	30.000,00	
Banco A	25.000,00				
Estoques	30.000,00				
		177.000,00			177.000,00
Imóvel	150.000,00		Capital Social	177.000,00	
Veículo	27.000,00				

**QUESTÃO DISCURSIVA 01****Trânsito mata uma pessoa a cada 20 horas em Curitiba**

O trânsito mata uma pessoa a cada 20 horas, em média, em Curitiba. Só em 2008 foram 424 mortes em decorrência da violência nas ruas da capital paranaense, cidade com a 9ª maior taxa de mortalidade do país, segundo o último ranking nacional. Os dados, levantados pela Secretaria Municipal de Saúde a partir dos registros de óbitos, surpreendem, já que mostram um número quatro vezes superior ao número de mortes conhecido e divulgado pelo Batalhão de Polícia de Trânsito (BPTran) até então. Em 2008, segundo o BPTran, foram 98 óbitos. A diferença ocorre porque o órgão limita-se a contabilizar as mortes no local do acidente, excluindo, portanto, as que ocorrem em hospitais.

Para o especialista em programas de segurança no trânsito J. Pedro Corrêa, os números revelam uma realidade preocupante. Ele diz que países desenvolvidos registram uma taxa de mortalidade de cinco pessoas a cada grupo de cem mil. No Brasil, a taxa média é de 19. Curitiba ultrapassa a média nacional, com uma taxa de 22,4 mortes no trânsito a cada cem mil habitantes.

Os números assustam e mostram que o trânsito é um problema de saúde pública. Todos os anos, o Brasil registra cerca de 35 mil mortes. Para cada morte, estima-se que outras dez pessoas fiquem feridas. Em Curitiba, esse número é ainda maior. Em 2008, os acidentes deixaram 9.325 pessoas feridas, uma média de 1 morte a cada 22 feridos, aproximadamente. É como se uma pessoa ficasse ferida a cada hora em algum canto da cidade, vítima de um acidente de trânsito.

Uma pesquisa feita pelo Hospital de Clínicas da Faculdade de Medicina da Universidade de São Paulo mostra que o custo médio da internação hospitalar de uma vítima de acidente de trânsito é de quase R\$ 48 mil. Quando a vítima necessita de internação em unidade de terapia intensiva (UTI), o que acontece em 18% dos casos, os gastos podem chegar a R\$ 226 mil.

Tantas mortes e vítimas não têm contribuído para que o comportamento no trânsito mude. A forma como a sociedade enxerga o trânsito pode explicar isso, segundo a professora Lara Thielen, coordenadora do Núcleo de Psicologia do Trânsito da Universidade Federal do Paraná. "Nós, como sociedade, consentimos com essa mutilação. Nós aceitamos as mortes no trânsito como acidentes, quando não são. Nós ouvimos todos os dias que essas mortes são evitáveis, mas não acreditamos que é o nosso comportamento que gera isso", explica.

Se o comportamento descrito pela psicóloga é comum ao ser humano, por que os números de mortalidade no trânsito são altos em Curitiba? A presidente da Associação Brasileira de Medicina do Tráfego no Paraná (Abramet-PR), Ana Maria Kerr Saraiva Szymanski, arrisca uma explicação. "O sistema viário da cidade não acompanhou o crescimento da frota", afirma. "Nós temos um sistema viário semelhante ao de Goiânia e ao de Brasília, com vias rápidas e, por isso, as nossas taxas são parecidas com as dessas cidades. Já São Paulo, por exemplo, tem um indicador baixo porque a quantidade de carro é tão grande que a velocidade no trânsito é muito baixa", explica Vera. (...)

(Gazeta do Povo – 28 set. 2009.)

**A partir da leitura do texto, escreva uma carta endereçada à coluna do leitor do jornal *Gazeta do Povo*, manifestando sua opinião sobre o problema do índice de mortes no trânsito na cidade de Curitiba. Seu texto deve:**

- fazer referência aos dados apresentados no texto;
- propor e justificar três ações que possam contribuir para a redução das mortes no trânsito;
- ter entre 12 e 15 linhas.

**NÃO assine a carta.**

---

---

---

---

---

---

---

---

---

---

---

---

---

---

---

---

---

---

---

---

---

---

---

---

Limite mínimo