

INSTRUÇÕES GERAIS

- Você recebeu do fiscal:
 - Um **caderno de questões** contendo 55 (cinquenta e cinco) questões de múltipla escolha da Prova Objetiva;
 - Um **cartão de respostas** personalizado para a Prova Objetiva;
- **É responsabilidade do candidato certificar-se de que o código e o nome do cargo informado nesta capa de prova corresponde ao código e ao nome do cargo informado em seu cartão de respostas**, e que o número impresso nesta capa de prova corresponde ao número impresso no **cartão de respostas**.
- Ao ser autorizado o início da prova, verifique, no **caderno de questões** se a numeração das questões e a paginação estão corretas.
- Você dispõe de 4:30h (quatro horas e trinta minuto) para fazer a Prova Objetiva. Faça-as com tranquilidade, mas **controle o seu tempo**. Este **tempo** inclui a marcação do **cartão de respostas**.
- Após o início da prova, será efetuada a coleta da impressão digital de cada candidato (Edital 01/2005 – Item 9.9 alínea a).
- **Não** será permitido ao candidato copiar seus assinalamentos feitos no **cartão de respostas** (Edital 01/2005 – Item 9.9 alínea e).
- Somente após decorrida uma hora do início da prova, o candidato poderá entregar seu **cartão de respostas** e retirar-se da sala de prova (Edital 01/2005 – Item 9.9 alínea c).
- Somente será permitido levar seu **caderno de questões** ao final da prova, desde que o candidato permaneça em sua sala até este momento (Edital 01/2005 – Item 9.9 alínea d).
- Após o término de sua prova, entregue obrigatoriamente ao fiscal o **cartão de respostas** devidamente **assinado**.
- Os 3 (três) últimos candidatos de cada sala só poderão ser liberados juntos.
- Se você precisar de algum esclarecimento, solicite a presença do **responsável pelo local**.

INSTRUÇÕES - PROVA OBJETIVA

- Verifique se os seus dados estão corretos no **cartão de respostas**. Solicite ao fiscal para efetuar as correções na Ata de Aplicação de Prova.
- Leia atentamente cada questão e assinale no **cartão de respostas** a alternativa que mais adequadamente a responde.
- O **cartão de respostas NÃO** pode ser dobrado, amassado, rasurado, manchado ou conter qualquer registro fora dos locais destinados às respostas.
- A maneira correta de assinalar a alternativa no **cartão de respostas** é cobrindo, fortemente, com caneta esferográfica azul ou preta, o espaço a ela correspondente, conforme o exemplo a seguir:



Cronograma Previsto

Atividade	Data	Local
Divulgação dos gabaritos das Provas Objetivas	01/11/2005	www.nce.ufrj.br/concursos
Interposição de recursos contra os gabaritos das Provas Objetivas	03 e 04/11/2005	por meio de e-mail para concursomcidades@nce.ufrj.br ou via fax, 21 2598-3145/2598-3152
Divulgação do resultado final das Provas Objetivas	14/11	www.nce.ufrj.br/concursos
Divulgação/Publicação do resultado final do Nível Médio no D.O.U.	14/11	www.nce.ufrj.br/concursos

* Demais atividades consultar Manual do Candidato ou pelo endereço eletrônico www.nce.ufrj.br/concursos

LÍNGUA PORTUGUESA

ERA MUITA COISA CONTRA O PEQUENO FERNANDO

Roberto Pompeu de Toledo

O menino Fernando, de 4 anos, vinha brincando e pulando, esperto como sempre, pelo canteiro central de uma movimentada avenida de São Paulo, ao cair da tarde do domingo 18, quando, num passo em falso, caiu num buraco. Ou melhor, não propriamente num buraco, mas num bueiro. Ou, melhor ainda, nem bem num bueiro, mas numa espécie de poço. A mãe, que vinha com ele, viu o menino desaparecer debaixo do chão. Fernando foi tragado para o reino sombrio das galerias subterrâneas de água da cidade. Na quinta-feira passada, os bombeiros ainda escarafunchavam aquelas funduras. Não havia esperança de resgatar o menino vivo. Talvez nem morto.

O escorregão que precipitou Fernando para dentro do poço foi apenas o último elo de uma cadeia de infortúnios que o levou ao encontro do fim ingrato. Recuperar, elo por elo, a cadeia que o vitimou é juntar as peças que compõem uma história típica do país em que vivemos. O primeiro elo é a condição de menino pobre. Fernando morava, com os pais, no Jardim Damasceno, na região desesperadamente pobre da Brasilândia. É uma brincadeira de mau gosto dos loteadores de lugares desse tipo darem o nome de “jardim”. Não há jardins neles. Também não há praças. O acidente ocorreu em outra região, longe de casa. Foi na Avenida Inajar de Souza, bairro da Freguesia do Ó, onde ele participou de uma festinha de criança. A freguesia do Ó é melhor, muito melhor, do que o Jardim Damasceno. Mas é pior, muito pior, do que a Vila Nova Conceição ou Higienópolis, bairros ricos, onde o equipamento urbano é menos deteriorado.

O segundo elo é ter cabido a Fernando viver numa cidade historicamente especializada em rasgar avenidas onde antes corriam, a céu aberto, rios ou córregos. Instalam-se as avenidas em cima e os córregos ficam aprisionados, embaixo da terra. É o caso da Avenida Inajar de Souza. Trata-se de situação que, entre outros efeitos indesejáveis, facilita as enchentes, ao sufocar os escoadouros naturais debaixo de um leito de asfalto. A Inajar de Souza assenta-se sobre um córrego importante, o Cabuçu, afluente do Rio Tietê. Aquilo que de início chamamos de bueiro, e depois corrigimos para poço, na verdade não é uma coisa nem outra. O nome técnico é “posto de visita”. É um buraco pelo qual se esgueiram os operários e os engenheiros quando necessitam inspecionar as galerias de água, lá embaixo. Isso quer dizer que o menino Fernando teve o azar de cair num buraco grande, capaz de engolir com folga seu pequeno corpo, e ainda por cima acabou por mergulhar num fluxo de água volumoso, onde dificilmente escaparia ao afogamento.

O próximo elo na cadeia de infortúnios é o menino ter nascido num país de ladrões. (...) Ele caiu no buraco porque estava destampado. E estava destampado porque roubaram a tampa. (...) O roubo de tampas decorre do feliz casamento da miséria com o crime organizado. A miséria fornece a mão-de-obra de que se aproveitam as redes de receptadores e o comércio de ferro-velho. (...)

O último elo é a debilidade do poder público no Brasil. A polícia devia coibir os roubos, mas... Já se sabe.

Havia fatores demais conspirando contra a sorte do pequeno Fernando, naquele momento fatídico em que ele pousou o pé no vazio e desapareceu debaixo da avenida. O secretário municipal Walter Feldman fez uma visita de solidariedade à família. Encontrou a mãe chocada, mas em todo caso capaz de manter um diálogo. O pai não. Permaneceu deitado o tempo todo, com uma toalha cobrindo o rosto.

1 - O título do texto fala de “muita coisa” contra o pequeno Fernando; entre essa “muita coisa” só NÃO está:

- (A) a pobreza de seu local de residência;
- (B) o desmazelo do poder público;
- (C) a localização inadequada das avenidas;
- (D) a pouca iluminação das galerias subterrâneas;
- (E) o excesso de roubo de equipamentos urbanos.

2 - “caiu num buraco. Ou melhor, não propriamente num buraco, mas num bueiro. Ou, melhor ainda, nem bem num bueiro, mas numa espécie de poço”; esse segmento do texto mostra, na mudança dos nomes (buraco / bueiro / poço) a tentativa do autor de:

- (A) indicar a degradação do local onde caiu o menino;
- (B) demonstrar o desprezo das autoridades pela segurança;
- (C) procurar caracterizar de forma precisa o local do acidente;
- (D) mostrar amplo domínio do vocabulário de língua portuguesa;
- (E) enfatizar a pobreza do local da ocorrência.

3 - *Bueiro* é palavra escrita com U; o vocábulo abaixo que está erradamente escrito porque também deveria ser escrito com U não com O é:

- (A) poleiro;
- (B) mágoa;
- (C) molambo;
- (D) coador;
- (E) légoa.

4 - “A mãe, que vinha com ele, viu o menino desaparecer debaixo do chão”; a forma inadequada de reescrever essa mesma frase, por alterar o sentido original, é:

- (A) Vinha com o menino a mãe, que o viu desaparecer debaixo do chão;
- (B) Debaixo do chão, a mãe, que vinha com o menino, o viu desaparecer;
- (C) A mãe, que acompanhava o menino, o viu sumir debaixo do chão;
- (D) Vinha junto do menino a sua mãe, que o viu desaparecer debaixo do chão;
- (E) A mãe, que viu o menino desaparecer debaixo do chão, vinha com ele.

5 - *Poço* é uma palavra que faz o plural com mudança de timbre da vogal, ou seja, passa de O fechado (poço) para O aberto (póços), da mesma forma que, EXCETO:

- (A) bolso;
- (B) fogo;
- (C) coro;
- (D) porto;
- (E) morto.

6 - “os bombeiros ainda **escarafunchavam** aquelas funduras”; o verbo destacado traz idéia de:

- (A) procurar com insistência;
- (B) cavar delicadamente;
- (C) pesquisar em detalhe;
- (D) buscar de forma desorganizada;
- (E) revelar algo escondido.

7 - "Não havia esperança de resgatar o menino vivo. Talvez nem morto"; a segunda frase desse segmento do texto, escrita de forma completa, teria como forma adequada:

- (A) Talvez não houvesse esperança de resgatar o menino morto;
- (B) Talvez só morto houvesse esperança de resgatar o menino;
- (C) Nem morto não havia esperança de resgatar o menino;
- (D) Não havia esperança de resgatar o menino nem morto, talvez;
- (E) Talvez não houvesse esperança de resgatar o menino vivo ou morto.

8 - Ao dizer "fim ingrato" em lugar de "morte", o autor do texto utilizou-se de um tipo de linguagem figurada denominada:

- (A) metonímia;
- (B) pleonasma;
- (C) eufemismo;
- (D) hipérbole;
- (E) elipse.

9 - O item abaixo em que NÃO ocorre nenhuma variação de grau é:

- (A) "Mas é pior, muito pior, do que a Vila Nova Conceição";
- (B) "na região, desesperadamente pobre, da Brasilândia";
- (C) "onde o equipamento urbano é menos deteriorado";
- (D) "A Inajar de Souza encontra-se sob um córrego importante";
- (E) "A freguesia do Ô é melhor".

10 - Ao dizer que em Vila Nova Conceição ou Higienópolis, "o equipamento urbano é menos deteriorado", o autor quer dizer que:

- (A) nesses bairros ricos não há roubo de equipamento;
- (B) nos bairros nobres o equipamento é ótimo;
- (C) nesses locais o equipamento urbano é de melhor qualidade;
- (D) o equipamento, nos bairros ricos, não está tão ruim quanto nos demais;
- (E) os bairros ricos possuem equipamento mais moderno.

11 - "uma história típica do país em que vivemos"; nessa frase, a utilização da preposição *em* é devida à exigência do verbo *viver*; a frase abaixo em que a regência está equivocada é:

- (A) O menino caiu num buraco que não havia proteção;
- (B) Este é um risco a que a população pobre está sujeita;
- (C) Este é um crime contra que a população pobre não reage;
- (D) O acidente é de um tipo que não se pode aceitar;
- (E) Esse é um modelo de construção de que se pode discordar.

12 - "É uma brincadeira de mau gosto dos loteadores de lugares desse tipo lhes darem o nome de "jardim". Não há jardins neles"; entre os dois períodos desse fragmento do texto, o conectivo que poderia ser adequadamente empregado é:

- (A) mas;
- (B) embora;
- (C) logo;
- (D) se;
- (E) pois.

13 - No final do texto, o segmento "O pai não" significa, no contexto em que está inserido, que:

- (A) o pai não estava chocado;
- (B) o secretário não encontrou o pai;
- (C) o pai não manteve um diálogo;
- (D) o pai estava mais chocado que a mãe;
- (E) o pai não permaneceu deitado.

14 - "Havia fatores demais conspirando contra a sorte do menino"; a forma inadequada de reescritura dessa frase é:

- (A) Contra a sorte do menino havia fatores demais conspirando;
- (B) Existia, contra a sorte do menino, fatores demais conspirando;
- (C) Conspirando contra a sorte do menino havia fatores demais;
- (D) Havia, conspirando contra a sorte do menino, fatores demais;
- (E) Conspirando contra a sorte do menino existiam fatores demais.

15 - O texto pode ser definido, de forma mais adequada a seu conteúdo e à sua forma, como:

- (A) um protesto contra injustiças;
- (B) um lamento pela situação brasileira;
- (C) uma crítica às autoridades policiais;
- (D) uma defesa da população pobre;
- (E) um apelo aos políticos conscientes.

NOÇÕES DE INFORMÁTICA








16 - Cada menu da barra padrão de menus de uma tela Windows está associado a uma lista de submenus (ou comandos). A tabela abaixo lista em sua primeira coluna alguns menus comuns às telas dos editores *Microsoft Word* e *OpenOffice Writer*.

MENU	SUBMENU (OU COMANDO)
1. Arquivo	() Estilo
2. Editar	() Régua
3. Exibir	() Autocorreção
4. Formatar	() Marcadores e Numeração
5. Ferramentas	() Imprimir
	() Barras de Ferramentas
	() Localizar
	() Abrir
	() Mala Direta
	() Colar

A seqüência de números, de cima para baixo, que associa corretamente os submenus da segunda coluna ao menus da primeira coluna é:

- (A) 4, 3, 2, 3, 1, 3, 5, 1, 5, 2
- (B) 3, 3, 2, 2, 5, 5, 4, 1, 5, 2
- (C) 1, 5, 5, 4, 5, 5, 2, 3, 3, 4
- (D) 4, 3, 5, 4, 1, 3, 2, 1, 5, 2
- (E) 1, 5, 5, 3, 3, 1, 2, 3, 3, 5

17 - Considere o quadro a seguir.

1. 	<input type="checkbox"/> Desfazer
2. 	<input type="checkbox"/> Alinhar à esquerda
3. 	<input type="checkbox"/> Caixa de texto
4. 	<input type="checkbox"/> Ortografia e gramática
5. 	<input type="checkbox"/> Visualizar impressão
6. 	
7. 	

A seqüência de números que associa corretamente a função de cada menu aos ícones do Microsoft Word é:

- (A) 3, 4, 2, 7, 5
- (B) 6, 3, 5, 1, 2
- (C) 3, 4, 5, 1, 2
- (D) 6, 3, 5, 7, 2
- (E) 3, 4, 2, 1, 5

18 - As teclas de atalho da primeira coluna do quadro a seguir possuem significados comuns para os editores Microsoft Word e OpenOffice Writer em suas versões em português.

Tecla de atalho	Significado
1. Ctrl + C	<input type="checkbox"/> Desfazer
2. Ctrl + V	<input type="checkbox"/> Recortar
3. Ctrl + X	<input type="checkbox"/> Copiar
4. Ctrl + Z	<input type="checkbox"/> Colar

A seqüência de números, de cima para baixo, que associa corretamente a segunda coluna com a primeira é:

- (A) 4, 3, 2, 1
- (B) 2, 4, 1, 3
- (C) 3, 4, 2, 1
- (D) 4, 3, 1, 2
- (E) 3, 4, 1, 2

19 - Cada menu da barra padrão de menus de uma tela Windows está associado a uma lista de submenus (ou comandos). A tabela abaixo lista em sua primeira coluna alguns menus comuns às telas das planilhas eletrônicas *Microsoft Excel* e *OpenOffice Calc*. Associe-os aos submenus (ou comandos) correspondentes da segunda coluna.

MENU	SUBMENU (OU COMANDO)
1. Arquivo	<input type="checkbox"/> Coluna
2. Editar	<input type="checkbox"/> Tela Inteira
3. Exibir	<input type="checkbox"/> Filtrar
4. Formatar	<input type="checkbox"/> Barras de Ferramentas
5. Dados	<input type="checkbox"/> Excluir
	<input type="checkbox"/> Imprimir
	<input type="checkbox"/> Classificar
	<input type="checkbox"/> Fechar
	<input type="checkbox"/> Células
	<input type="checkbox"/> Preencher

As associações corretas correspondem à seqüência:

- (A) 3, 3, 4, 3, 4, 1, 5, 1, 2, 4
- (B) 4, 3, 4, 3, 2, 1, 5, 1, 2, 4
- (C) 5, 2, 1, 4, 4, 3, 1, 4, 5, 2
- (D) 4, 3, 5, 3, 2, 3, 1, 1, 4, 4
- (E) 4, 3, 5, 3, 2, 1, 5, 1, 4, 2

20 - A planilha abaixo

	A	B	C	D
1	12	18	30	
2	28	42	70	
3	40	60	100	
4	0.4	0.6		
5				
6				

foi obtida pela seguinte seqüência de operações:

- I. preenchimento das células A1, A2, B1, B2 com os valores mostrados.
- II. preenchimento da célula C1 com a fórmula **(A1 + B1)**.
- III. cópia da célula C1 para a célula C2.
- IV. preenchimento da célula A3 com a fórmula **(A1 + A2)**.
- V. cópia da célula A3 para as células B3 e C3
- VI. preenchimento da célula A4 com a fórmula **f**.
- VII. cópia da célula A4 para a célula B4.

A fórmula **f**, referida no sexto passo da seqüência, é:

- (A) (A3/C3);
- (B) (\$A\$3/\$C\$3);
- (C) (A3/\$C3);
- (D) (A3/\$C\$3);
- (E) (A3/C\$3);

21 - Na planilha abaixo

	A	B	C	D	E	F	G	H
1	10	6	=SE(SOMA(A1:B2) < 20;(A1*A2+B1*B2);(B1*A2+A1*B2))					
2	2	4						
3								

o valor da célula C1 é:

- (A) 16
- (B) 76
- (C) 44
- (D) 66
- (E) 72

22 - As siglas FAT, FAT32 e NTFS referem-se a:

- (A) sistemas de arquivos;
- (B) protocolos de rede;
- (C) tipos de barramentos externos;
- (D) tipos de tecnologias usadas em cartões de memória de máquinas fotográficas digitais;
- (E) tipos de interfaces usadas, primariamente, para discos rígidos e CD-ROMs.

23 - O "modo de segurança" do Windows 98/Me/2000/XP refere-se a:

- (A) instalação e utilização do *firewall* embutido;
- (B) a forma mais segura para navegar na Internet, minimizando as possibilidades de contrair um vírus ou instalar um programa *spyware*;
- (C) o modo correto para se instalar programas: é criado um registro com os arquivos modificados durante a instalação de modo a permitir a desinstalação segura;
- (D) a atribuição de senhas aos usuários de modo a não permitir o acesso não autorizado;
- (E) uma alternativa de boot que permite carregar o Windows com um conjunto mínimo do sistema de modo a localizar a causa de um problema.

24 - Em uma rede Microsoft, um dispositivo de armazenamento em uma máquina chamada *mangueira* foi compartilhado com o nome de compartilhamento C\$. A maneira correta de endereçar este recurso pela rede é:

- (A) //C\$
- (B) \\mangueira\C\$
- (C) http://mangueira\C\$
- (D) http://www.mangueira.com.br/C\$
- (E) ftp://ftp.mangueira.com.br/C\$

25 - No sistema de arquivos do Linux, os arquivos de configuração do sistema são armazenados no diretório:

- (A) /etc
- (B) /bin
- (E) /mnt
- (C) /boot
- (D) /home

26 - Um servidor DNS é:

- (A) um nome registrado que pertence a uma empresa ou organização. São usados para identificar máquinas específicas na rede;
- (B) uma cópia local de todos os domínios existentes na Internet;
- (C) uma rede de computadores fisicamente conectados sem o uso de linhas telefônicas (*Directly Networked System*);
- (D) um programa que transforma o nome de um computador ou de um domínio na Internet no correspondente endereço IP;
- (E) uma máquina capaz de atender requisições HTTP.

27 - Ao ser executado o comando "IPCONFIG" em um computador com Windows 2000 conectado à Internet:

- (A) o comando termina qualquer conexão TCP/IP ativa e libera os endereços IP correntemente alocados;
- (B) este comando restabelece as conexões TCP/IP em todos os adaptadores de rede;
- (C) o nome do computador é liberado para uso por outro computador do domínio;
- (D) abre-se uma caixa de diálogo para configuração das propriedades do protocolo TCP/IP;
- (E) é mostrado o endereço IP, a máscara da sub-rede e o gateway padrão para todos os adaptadores.

28 - Considere dois servidores de correio "servidor_A" e "servidor_B". Se forem instalados os protocolos POP e SMTP em "servidor_A" e "servidor_B" respectivamente, os usuários devem configurar seus clientes para:

- (A) mandar e receber emails do "servidor_A"
- (B) mandar e receber emails do "servidor_A" ou do "servidor_B" indiferentemente
- (C) mandar e receber emails do "servidor_B"
- (D) mandar emails para o "servidor_A" e receber emails do "servidor_B"
- (E) mandar emails para o "servidor_B" e receber emails do "servidor_A"

29 - Com relação a WWW, um cookie é:

- (A) um arquivo enviado entre servidor e cliente web;
- (B) um spam;
- (C) um tipo de vírus de computador transmitido por sites mal intencionados;
- (D) uma espécie de site;
- (E) uma mensagem de correio eletrônico.

30 - Uma grande desvantagem nos processadores Intel do tipo Celeron está:

- (A) em não possuir cache nível 2;
- (B) em possuir erros de projeto na unidade de ponto flutuante;
- (C) na incompatibilidade com as placas comerciais;
- (D) na quantidade de calor dissipado pelo processador;
- (E) no tipo de soquete/slot utilizado.

CONHECIMENTOS ESPECÍFICOS

31 - Faleceu dia 3 de outubro uma de nossas grandes cantoras.

Carioca, nasceu na Mangueira, o que desde cedo selou sua ligação com a escola de samba. Ainda criança, se apresentou em programas de auditório e de calouros no rádio. Em 1939, gravou seu primeiro disco solo e conseguiu, com a ajuda de Carmem Miranda, ser contratada pelo Cassino da Urca. Contratada mais tarde pela Rádio Nacional, lá ficou por 27 anos, tornando-se uma das mais conhecidas estrelas do rádio. Participou também de vários filmes. Ganhou muitos títulos e prêmios nos anos 50 e disputou com Marlene, por várias vezes, o posto de Rainha do Rádio. Entre seus sucessos estão "Baião de Dois" (Luiz Gonzaga/ Humberto Teixeira), "Se Queres Saber" (Peterpan), "Escandalosa" (Djalma Esteves/ Moacir Silva), "Chiquita Bacana" (João de Barro/ A. Ribeiro), "Primavera no Rio" (João de Barro) e "Paraíba" (L. Gonzaga/ H. Teixeira). Seu nome:

- (A) Emilinha Borba;
- (B) Dolores Duran;
- (C) Elis Regina;
- (D) Maísa;
- (E) Elizeth Cardoso.

32 - O cenário político nacional tem sido abalado, nos últimos meses, por uma sucessão de denúncias e escândalos. Um dos casos mais polêmicos resultou na renúncia ao mandato de deputado do então Presidente da Câmara dos Deputados. Seu nome é:

- (A) Tarso Genro;
- (B) Renan Calheiros;
- (C) Aldo Rebelo;
- (D) José Dirceu;
- (E) Severino Cavalcanti.

33 - Brasília é uma cidade que nasceu a partir de um plano urbanístico e de projetos arquitetônicos concebidos, primordialmente, pelos seguintes dois grandes "craques" da arquitetura moderna brasileira:

- (A) Afonso Reidy e Jorge Moreira;
- (B) Sérgio Bernardes e Lúcio Costa;
- (C) Oscar Niemeyer e Lúcio Costa;
- (D) Burle Marx e Afonso Reidy;
- (E) Oscar Niemeyer e Sérgio Bernardes.

34 - A revolução tecnológica que marcou o quarto final do século XX, impulsionada pelo desenvolvimento e popularização de computadores institucionais e pessoais e pela internet, aproximou todo o mundo. Algo que ocorra numa pequena ilha do Pacífico torna-se notícia instantaneamente em todos os jornais, mesmo num pequeno município do interior do Brasil. Essa revolução possibilitou uma série de mudanças nas relações econômicas, políticas e sociais entre países, corporações, pessoas, num fenômeno conhecido como:

- (A) internacionalização;
- (B) tecnocracia mundial;
- (C) globalização;
- (D) exteriorização;
- (E) interiorização global.

35 - O planeta tem sido vítima de fenômenos naturais e climáticos muito intensos – como *tsunamis*, furacões, tornados, alguns dos quais têm sido atribuídos a desequilíbrios causados pela ação do homem sobre o meio ambiente. Entre as ações humanas que são consideradas causas ou agravantes para a ocorrência desses fenômenos estão:

- I – Desmatamento de grandes áreas florestais.
- II – Grandes queimadas.
- III – Emissões de CO₂ e outros gases na atmosfera em níveis muito acima da capacidade de absorção pela atmosfera, provocando o aquecimento global.
- IV – Emissões de CFC's e aerossóis em geral, aumentando o "buraco" na camada de ozônio.

Estão corretas as afirmativas:

- (A) I e III, apenas;
- (B) II e IV, apenas;
- (C) I, II e III, apenas;
- (D) II, III e IV, apenas;
- (E) I, II, III e IV.

36 - Dia 9 de outubro realizou-se, em Belém do Pará, mais uma edição daquela que é a maior procissão brasileira. A "Festa da Rainha da Amazônia" reuniu cerca de dois milhões de fiéis, numa verdadeira demonstração de fé e de esperança do povo. A festa famosa é:

- (A) a Folia de Reis;
- (B) o Círio de Nazaré;
- (C) a Festa do Padre Cícero;
- (D) a Procissão do Fogaréu;
- (E) a Cavallhada.

37 - Algumas criações fantásticas nasceram do rico folclore nacional. São personagens das lendas brasileiras, EXCETO:

- (A) saci-pererê;
- (B) boitatá;
- (C) curupira;
- (D) gigante do castelo;
- (E) mula sem cabeça.

38 - País mais populoso do mundo, sua economia, antes de orientação socialista, hoje mostra vitalidade capitalista impressionante. Esse país, que é hoje um dos que mais crescem economicamente, é:

- (A) a China;
- (B) o Japão;
- (C) os Estados Unidos da América;
- (D) o Canadá;
- (E) a Alemanha.

39 - Ultimamente, nosso país tem sofrido os efeitos de fenômenos da natureza muito intensos e inesperados. Entre os que mais têm espantado a todos, nesse mês de outubro, pela intensidade, está:

- (A) a seca no Nordeste;
- (B) as enchentes no Sul do país;
- (C) os ciclones no Pantanal;
- (D) a seca na Amazônia;
- (E) os ciclones no Nordeste.

40 - Em relação à política econômica do governo Lula observe as afirmativas a seguir:

- I - A política econômica é vista por muitos como uma continuação da política posta em prática no Governo de Fernando Henrique Cardoso.
- II - O país passa por uma fase de bons sinais na economia: inflação sob controle, câmbio favorável (dólar "barato"), bons saldos da balança comercial (exportações menos importações), com volumes crescentes, entre outros.
- III - a taxa de juros praticada no país está num nível bem baixo, o que estimula os financiamentos capazes de promover o crescimento econômico.
- IV - a estimativa para o crescimento econômico brasileiro no ano de 2005 é de 9% a 10%.

Estão corretas as afirmativas:

- (A) I e II, apenas;
- (B) II e III, apenas;
- (C) I, III e IV, apenas;
- (D) II, III e IV, apenas;
- (E) I, II, III e IV.

41 - Os municípios são os principais responsáveis, entre outros, pelos seguintes serviços à sociedade:

- I – coleta de lixo.
- II – educação fundamental.
- III – segurança pública (inclusive PM, PF e polícia civil).
- IV – manutenção das vias públicas, das praças, dos demais logradouros públicos.

Estão corretas:

- (A) I e II, apenas;
- (B) III e IV, apenas;
- (C) I, II e IV, apenas;
- (D) II, III e IV, apenas;
- (E) I, II, III e IV.

42 - Foram presidentes de nosso país:

- (A) Itamar Franco, Ulisses Guimarães e Leonel Brizola;
- (B) João Goulart, Juscelino Kubitschek e Getúlio Vargas;
- (C) Fernando Henrique Cardoso, Mário Covas e José Sarney;
- (D) Getúlio Vargas, Jânio Quadros e Franco Montoro;
- (E) Leonel Brizola, Tancredo Neves e Mário Covas.

43 - Real, dólar e libra são exemplos de moedas nacionais. A União Européia, por seu turno, adotou a seguinte moeda comum para seus países membros:

- (A) peso;
- (B) rublo;
- (C) euro;
- (D) lira;
- (E) unio.

44 - Sem educação, não é possível ter um país desenvolvido. No Brasil, hoje, há mais de 34.000.000 de alunos matriculados no ensino fundamental. Em relação a deveres e direitos relativos à educação observe as afirmativas a seguir:

- I - Todo cidadão brasileiro tem direito à educação.
- II - O Estado tem o dever de prover educação a todos os seus cidadãos.
- III - Nenhum pai deve permitir que um filho deixe de freqüentar regularmente a escola.
- IV - Os pais têm o direito de exigir que a escola de seus filhos ofereça educação de bom nível.

Estão corretos os seguintes princípios:

- (A) I e III, apenas;
- (B) I, II e III, apenas;
- (C) I, III e IV, apenas;
- (D) II, III e IV, apenas;
- (E) I, II, III e IV.

45 - Descendente de guerreiros de Angola, foi o principal líder do quilombo dos Palmares. Lutou contra o governo até ser morto, em 1695. Herói da luta dos negros contra a escravidão, o dia de sua morte, 20 de novembro, é hoje o Dia Nacional da Consciência Negra. Seu nome:

- (A) Orfeu;
- (B) Zumbi;
- (C) Ganga Zumba;
- (D) Chico Rei;
- (E) Caramuru.

46 - “Anjo das pernas tortas”, ele encantou o mundo com sua arte inigualável. “Alegria do povo”, incendiou o país nas grandes conquistas de 1958 e 1962. Em preto e branco ou em amarelo, pintou o 7 com estilo. Estamos falando de:

- (A) Carlitos;
- (B) Oscarito;
- (C) Mané Garrincha;
- (D) Néelson Gonçalves;
- (E) Francisco Alves.

47 -

“Seu garçom faça o favor de me trazer depressa
Uma boa média que não seja requentada
Um pão bem quente com manteiga à beça
Um guardanapo e um copo d’água bem gelada
Feche a porta da direita com muito cuidado
Que eu não estou disposto a ficar exposto ao sol
Vá perguntar ao seu freguês do lado
Qual foi o resultado do futebol

Se você ficar limpando a mesa
Não me levanto nem pago a despesa
Vá pedir ao seu patrão
Uma caneta, um tinteiro,
Um envelope e um cartão,
Não se esqueça de me dar palitos
E um cigarro pra espantar mosquitos
Vá dizer ao charuteiro
Que me empreste umas revistas,
Um isqueiro e um cinzeiro

Seu garçom faça o favor de me trazer depressa...
...”

Conversa de Botequim, composta em parceria com Vadico, é uma das mais conhecidas músicas do “poeta da Vila Isabel”, esse grande compositor carioca do século XX:

- (A) Ataulfo Alves;
- (B) Cartola;
- (C) Mário Reis;
- (D) Noel Rosa;
- (E) Chico Buarque de Holanda.

48 - Um bom canal de suprimentos é essencial para a administração de materiais. Um bom canal de suprimentos começa por uma correta ordem de compra. Uma ordem de compra, a ser enviada ao fornecedor, deve conter:

- I – quantidade a ser embarcada.
- II – destino de entrega.
- III – data requerida para entrega.

Estão corretos:

- (A) I, apenas;
- (B) I e II, apenas;
- (C) I e III, apenas;
- (D) II e III, apenas;
- (E) I, II e III.

49 - São atividades centrais do processo de compras da administração de materiais, EXCETO:

- (A) obter informações de preços;
- (B) colocar as ordens de compras;
- (C) monitorar os pedidos;
- (D) verificar notas fiscais;
- (E) controlar a qualidade da produção.

50 - Se um ativo financeiro está aplicado a uma taxa de juros (composta, claro) de 7 % ao mês, então R\$2.000,00 aplicados num certo dia valem, dois meses depois, a seguinte quantia, em reais:

- (A) 2.147,70;
- (B) 2.208,80;
- (C) 2.242,30;
- (D) 2.289,80;
- (E) 2.320,90.

51 - O esforço pela disciplina, por parte do servidor público, fica caracterizado pelos seguintes fatores:

- I - cortesia
- II - boa vontade
- III - cuidado
- IV - tempo dedicado ao serviço público

Estão corretos os fatores:

- (A) I e II, apenas;
- (B) III e IV, apenas;
- (C) I, II e III, apenas;
- (D) II, III e IV, apenas;
- (E) I, II, III e IV.

52 - São deveres do Servidor Público, EXCETO:

- (A) desempenhar, a tempo, as atribuições do cargo;
- (B) não retardar uma prestação de contas;
- (C) ter respeito à hierarquia, porém temer representar contra qualquer comprometimento indevido da estrutura em que se funda o Poder Estatal;

- (D) tratar cuidadosamente os usuários dos serviços, aperfeiçoando o processo de comunicação e contato com o público;
- (E) comunicar imediatamente a seus superiores qualquer fato contrário ao interesse público, exigindo as providências cabíveis.

53 - O Servidor Público pode:

- (A) facilitar a fiscalização de todos atos ou serviços por quem de direito;
- (B) usar do cargo para obter favorecimento pessoal;
- (C) ser, em função de seu espírito de solidariedade, conivente com erro ou infração à ética profissional;
- (D) usar de artifícios para dificultar o exercício regular de direito por qualquer pessoa, causando-lhe dano moral ou material;
- (E) deturpar o teor de documento que deva encaminhar para providências.

54 - Ao entrar em exercício, o servidor nomeado para cargo de provimento efetivo fica sujeito a estágio probatório por período de vinte e quatro meses, durante o qual a sua aptidão e capacidade são objeto de avaliação para o desempenho do cargo, observados os seguintes fatores:

- I - assiduidade;
- II - disciplina;
- III - capacidade de iniciativa;
- IV - produtividade;
- V - responsabilidade;
- VI - especialidade;
- VII - aptidão.

Estão corretos os fatores:

- (A) I, II, III e IV, apenas;
- (B) I, IV, V e VII, apenas;
- (C) I, II, III, IV e V, apenas;
- (D) II, III, IV, V e VI, apenas;
- (E) I, II, IV, V, VI e VII.

55 - Às pessoas portadoras de deficiência é assegurado o direito de se inscrever em concurso público para provimento de cargo cujas atribuições sejam compatíveis com a deficiência de que são portadoras; para tais pessoas serão reservadas até a seguinte porcentagem das vagas oferecidas no concurso:

- (A) 20%;
- (B) 15%;
- (C) 10%;
- (D) 5%;
- (E) 1%.